

شكراً لتحميلك هذا الملف من موقع المناهج البحرينية



أنشطة المواد الاجتماعية

[موقع المناهج](#) ⇨ [المناهج البحرينية](#) ⇨ [الصف الرابع](#) ⇨ [المواد الاجتماعية](#) ⇨ [الفصل الثاني](#) ⇨ [الملف](#)

تاريخ نشر الملف على موقع المناهج: 2024-02-25 21:05:13

التواصل الاجتماعي بحسب الصف الرابع



روابط مواد الصف الرابع على تلغرام

[الرياضيات](#)

[اللغة الانجليزية](#)

[اللغة العربية](#)

[التربية الاسلامية](#)

المزيد من الملفات بحسب الصف الرابع والمادة الاجتماعية في الفصل الثاني

ملخص المواد الاجتماعية	1
ملخص دروس الاجتماعية	2
ملخص دروس الاجتماعيات للفصل الثاني	3
ملزمة مراجعة للصف الرابع في المواد الاجتماعية والمواطنة	4
كتاب الطالب في المواد الاجتماعية	5

اسم الطالب: الصف: ٤ /

إعداد الأستاذ: سعيد العنيسي

عنوان الدرس: موقع مملكة البحرين.

كفاية الدرس: يستنتج أهمية موقع البحرين الجغرافي.

نشاط

١

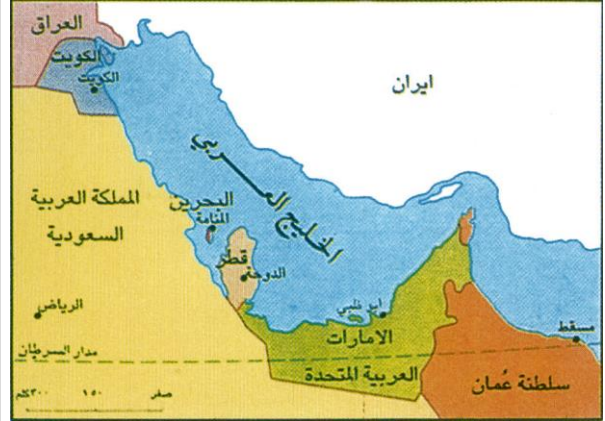
٣

السؤال الأول: على الخريطة التي أمامي:

ارسم دائرة حول مملكة البحرين.

ضع خطاً أسفل المملكة العربية السعودية.

ارسم مربعاً حول دولة قطر.



٤

السؤال الثاني: مستعينا بالخريطة (مستند ١) صفحة ٥٢ من الكتاب المدرسي أجب عن الأسئلة التالية:

١- كم أسمى الخليج الذي تقع في وسطه البحرين.

.....

٢- كم أسمى الدولة التي تقع إلى الشرق من مملكة البحرين.

.....

٣- كم أسمى الدولة التي تقع إلى الغرب من مملكة البحرين.

.....

السؤال الثاني: مستعينا بالخريطة (مستند ٢) صفحة ٥٢ من الكتاب المدرسي أجب عن السؤال التالي:

٤- كم في أي جزء من الوطن العربي تقع مملكة البحرين؟

.....

٣

السؤال الثالث: مستعينا بالخريطة (مستند ٣) صفحة ٥٢ من الكتاب المدرسي أجب عن الأسئلة التالية:

١- كم ما اسم الخط الذي يقسم الأرض إلى نصفين (نصف شمالي ونصف جنوبي)؟

.....

٢- كم في أي نصف من الكرة الأرضية تقع مملكة البحرين؟

.....

٣- كم في أي قارة تقع مملكة البحرين؟

.....

السؤال الرابع: أجب عن الأسئلة التالية:

● أكمل العبارات بما يناسبها مستعينا بالكلمات بين الأقواس:
(وصل / الخليج العربي / التجارة)

● تقع مملكة البحرين في وسط

● موقع البحرين مهم للمواصلات و

● بفضل الموقع أصبحت مملكة البحرين حلقة بين البلدان.

● فسر بالشرح أهمية موقع مملكة البحرين؟

.....

.....

.....

.....

.....

اسم الطالب: الصف: ٤ /

إعداد الأستاذ: سعيد العنيسي

عنوان الدرس: سطح مملكة البحرين.

نشاط

٢

كفاية الدرس: يوضح مظاهر أشكال سطح البحرين ومميزاتها.

٥

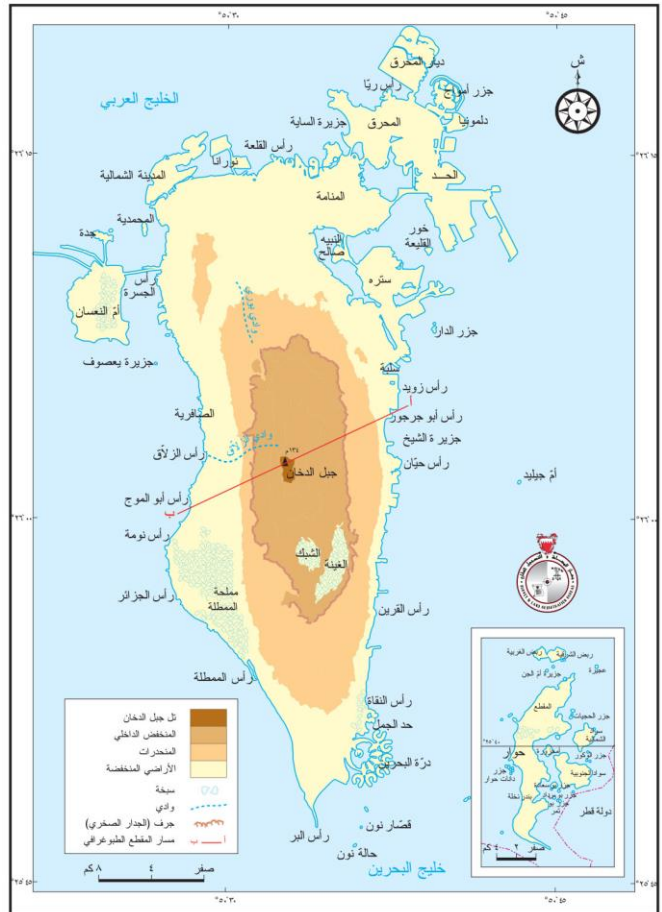
السؤال الأول: أكمل العبارات بما يناسبها مستعينا بالكلمات بين الأقواس:
(البحرين / ٣٦ / أرخبيل / ٧٦٥ / المياه)

١. تتألف مملكة البحرين من أكثر من جزيرة .
٢. الجزيرة قطعة من اليابسة تحيط بها من كل جانب .
٣. جزر البحرين متقاربة، والجزر المتقاربة تسمى
٤. أكبر جزيرة من جزر البحرين هي جزيرة
٥. تبلغ مساحة أرخبيل البحرين حوالي كيلومترا مربعا .

٣

السؤال الثاني: مستعينا بالخريطة
(مستند ١) صفحة ٥٤ من الكتاب المدرسي
أسمي جزر البحرين الرئيسية.

- (١) (٢)
(٣) (٤)
(٥) (٦)
(٧)



٤

السؤال الثالث: ضع علامة أمام العبارة
الصحيحة، وعلامة أمام العبارة الخاطئة:

- تتميز جزر البحرين بارتفاع سطحها كثيرا.
 أقصى ارتفاع لسطح مملكة البحرين ١٣٤
متر عند تل جبل الدخان.
 شواطئ مملكة البحرين كثيرة التعاريج.
 شواطئ البحرين عميقة جدا.

٣

السؤال الرابع: على الخريطة أعلاه:
ارسم مستطيلا حول رأس أبو جرجور و رأس البر.
ارسم دائرة حول خور القليعة.

عنوان الدرس: مناخ مملكة البحرين.

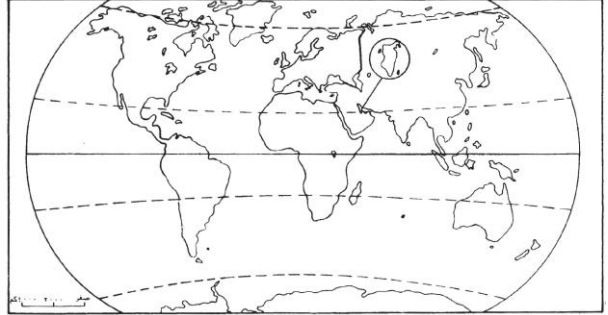
نشاط
٣

كفاية الدرس: يتعرف مناخ البحرين في فصلي الصيف والشتاء.

٢

السؤال الأول: على الخريطة التي أمامي:

- ارسم دائرة حول مملكة البحرين.
- أكتب في المكان المناسب مدار السرطان.



٣

السؤال الثاني: اختر الاجابة الصحيحة بوضع علامة أمام العبارة الصحيحة:

تقع مملكة البحرين بالقرب من مدار:

- مدار الجدي
- مدار السرطان
- خط الاستواء

تقع مملكة البحرين ضمن المنطقة:

- الحارة الصحراوية
- القطبية الباردة
- المعتدلة

يوجد في البحرين فصلين قصيرين هما:

- الربيع والخريف
- الصيف والشتاء
- الصيف والربيع

٢

السؤال الثالث: بم يتميز مناخ البحرين في فصلي الصيف والشتاء؟

فصل الصيف:



فصل الشتاء:

السؤال الرابع: أمامك مجموعة من طيور البحرين صنفها في الجدول إلى طيور مقيمة وطيور عابرة:



طيور عابرة	طيور مقيمة
.....
.....
.....

السؤال الخامس: أمامك مجموعة من الحيوانات البرية التي تعيش في البحرين، أكتب أسماءها.



.....

السؤال السادس: أجب عن الأسئلة التالية:

لماذا يقل النبات الطبيعي في البحرين؟

لماذا تقل الحيوانات البرية في البحرين؟

اسم الطالب: الصف: ٤ /

إعداد الأستاذ: سعيد العنيسي

نشاط

٤

عنوان الدرس: الموارد المائية مملكة البحرين.

كفاية الدرس: يبين مصادر المياه في البحرين وكيفية المحافظة عليها.

٣

السؤال الأول: ضع علامة أمام العبارة الصحيحة، وعلامة أمام العبارة الخاطئة: اعتمد سكان البحرين في الماضي البعيد على تحلية مياه البحر. اعتمد سكان البحرين في الماضي البعيد على مياه العيون والكواكب والآبار. من أشهر العيون الطبيعية عين عذاري وعين قصاري.

٣

السؤال الثاني: صل بخط بين المفهوم وما يناسبه من مصطلح:

الآبار

مكان في اليابسة تتدفق منه مياه باطن الأرض تدفقاً طبيعياً

العيون

مكان تحت مياه البحر تتبع منه المياه العذبة بشكل طبيعي

الكواكب

حفرة عميقة يحفرها الناس للحصول على المياه الموجودة في باطن الأرض

١

السؤال الثالث: لماذا حفر أهل مملكة البحرين الآبار؟

٤

السؤال الرابع: أكمل العبارات بما يناسبها مستعينا بالكلمات بين الأقواس:

(الاستهلاك / الآبار / مياه البحر / محدودة)

لا تزال المياه المستخرجة من توفر قسماً من حاجة سكان البحرين، ولكن كمية المياه

الجوفية ، وهي في تناقص مستمر بسبب تزايد ، وبسبب تسرب ..

..... إليها في بعض المناطق.

٢

السؤال الخامس: ماذا أنشأت مملكة البحرين لتأمين مصادر جديدة للمياه؟

.....

.....

٤

السؤال السادس: حدد رأيك في التصرفات أدناه؟ واقتراح حلا لكل تصرف.



تصرف خاطئ

تصرف صحيح

الحل:

.....

.....

.....



تصرف خاطئ

تصرف صحيح

الحل:

.....

.....

.....

١

السؤال السابع: ما دور المواطن في المحافظة على الثروة المائية؟

.....

.....

اسم الطالب: الصف: ٤ /

إعداد الأستاذ: سعيد العنيسي

نشاط

٥

عنوان الدرس: الثروة البحرية في مملكة البحرين.


كفاية الدرس: يستنتج مصادر الثروة البحرية في البحرين وجهود الدولة في تنميتها.

٦


السؤال الأول: يحتوي بحرنا في مملكة البحرين على حوالي ٥٠٠ نوع من الأسماك،

أكتب أسماء الأسماك أسفل الصور أدناه مستعينا بالكلمات بين الأقواس.

(ميد / صافي / هامور / كنعدي / شعري / سبيطي)



.....



.....



.....



.....



.....



.....

١

السؤال الثاني: أكتب اسم المصطلح المناسب :

الأموال التي يجنيها الشعب من الأعمال التي يمارسها مثل الزراعة والصناعة التجارة.

٤

السؤال الثالث:

أولاً: أكمل الجمل التالية بما يناسبها مستعينا بالكلمات بين الأقواس:

(البحرين / اللؤلؤ / جودته)

إلى جانب الأسماك بحرنا غني أيضا بمحار وقد كان لؤلؤ مملكة البحرين ولا يزال،

مشهورا بـ في مختلف أنحاء العالم.

وكانت أهم مركز لصيده، والمنامة أهم مركز لتسويقه.

ثانياً: بم يتميز لؤلؤ البحرين؟

٢

السؤال الرابع: ضع علامة أمام العبارة الصحيحة، وعلامة أمام العبارة الخاطئة:

ضعفت مهنة صيد الأسماك والغوص على اللؤلؤ بسبب توجه الناس لأعمال أخرى أكثر ربحاً.

ضعفت مهنة الغوص على اللؤلؤ بسبب منافسة اللؤلؤ الصناعي السعودي.

٢

السؤال الخامس: ما الأسباب التي أضعفت مهنتي صيد الأسماك والغوص على اللؤلؤ؟

(١)

.....

(٢)

.....

٣

السؤال السادس: ماذا فعلت مملكة البحرين لرعاية مهنتي الصيد والغوص؟

(١)

.....

(٢)

.....

(٣)

.....

١

السؤال السابع: أكتب اسم المصطلح المناسب:

طريقة بحرينية لصيد الأسماك تتم من خلال عمل حواجز بواسطة جريد النخيل وتثبيتها في قاع البحر قليل العمق

عنوان الدرس: النفط والغاز الطبيعي في مملكة البحرين.
كفاية الدرس: يبين أثر اكتشاف النفط والغاز الطبيعي على حياة سكان البحرين.

نشاط
٦

٣

السؤال الأول: صحح الجمل الخاطئة أدناه بوضع خط تحت الكلمة الخاطئة وتصحيحها أسفل الجملة:

أكتشف النفط في مملكة البحرين سنة ١٩٤٢ م.

الكويت أول دولة خليجية أكتشف فيها النفط.

أكتشف أول بئر للنفط في مملكة البحرين في منطقة أم النعسان.

١

السؤال الثاني: أين أكتشف أول بئر للنفط في مملكة البحرين؟ ومتى تم ذلك؟

١

السؤال الثالث: أكتب اسم المصطلح المناسب:

البحث عن النفط في جوف الأرض أو تحت مياه البحر.

٣

السؤال الرابع: اختر الاجابة الصحيحة بوضع علامة أمام العبارة الصحيحة:

● تسمى الأموال الناتجة من بيع النفط بـ:

عائدات الصناعة عائدات النفط أموال الصناعة

● المعمل الذي تتم فيه تنقية النفط الخام، وتحويله إلى ديزل وكيروسين و أسفلت وزيت الوقود هو:

مصنع ألبا للألمنيوم مصفاة تكرير النفط مصنع الحديد والصلب

● يصدر النفط المكرر في البحرين إلى أسواق العالم من ميناء:

سترة المحرق حوار

● يتم تشغيل محطات الكهرباء ومصنع ألبا للألمنيوم بواسطة:

الغاز الطبيعي الفحم الحجري الماء

١

السؤال الخامس: ما دور عائدات النفط (أموال النفط) في نهضة البحرين؟

١

السؤال السادس: ما أهمية مصفاة سترة لتكرير النفط الخام؟

١

السؤال السابع: كيف يتم استعمال الغاز الطبيعي في البحرين؟

عنوان الدرس: الصناعة في مملكة البحرين.

نشاط
٧

كفاية الدرس: يحدد أنواع الصناعات وجهود الدولة في تطوير هذا المجال.

٤

السؤال الأول: اختر الاجابة الصحيحة بوضع علامة أمام العبارة الصحيحة:

- من الصناعات الغذائية في مملكة البحرين:
 - تعليب التمور وطحن الحبوب
 - الأصباغ والورق
 - مواد البناء والأثاث
- من الصناعات الكيماوية في مملكة البحرين:
 - الأصباغ والبلاستيك والورق
 - منتجات الألبان والحلويات
 - مواد البناء والأثاث
- تشتهر قرية عالي بصناعة:
 - النسيج
 - الفخار
 - مراكب الصيد
- تشتهر قرية بني جمرة بصناعة:
 - النسيج
 - الفخار
 - مراكب الصيد

٣

السؤال الثاني: أكمل الجدول التالي.

المناطق التي تشتهر بها	الحرف القديمة في البحرين
عالي	
بني جمرة	
المحرق والمنامة	

٩

السؤال الثالث: صنف الصناعات الحديثة في البحرين في الجدول أدناه إلى صناعات غذائية وصناعات كيماوية وصناعات مواد بناء وأثاث وتجهيزات مكتبية:

(تعليب التمور / الطابوق / الأدوات البلاستيكية / الحلويات / غرف النوم / الأصباغ / الورق / منتجات الألبان / الاسمنت)

صناعات غذائية	صناعات كيماوية	صناعات مواد بناء وأثاث وتجهيزات مكتبية
.....
.....
.....

١

السؤال الرابع: أكتب اسم المصطلح المناسب :

مكان يجمع عدد كبيراً من المصانع المختلفة، كمنطقة ميناء سلمان الصناعية.

٣

السؤال الخامس: سم المناطق الصناعية في مملكة البحرين.

(١)

(٢)

(٣)

١

السؤال السادس: لماذا وضعت حكومة مملكة البحرين خطة لتطوير الصناعة؟

.....

.....

.....

٤

السؤال السابع: عرف المصانع الكبرى. واذكر أسماء بعض مصانع مملكة البحرين الكبرى.

المصانع الكبرى:

المصانع الكبرى في مملكة البحرين:

(١)

(٢)

(٣)

اسم الطالب:	الصف: ٤ /
إعداد الأستاذ: سعيد العنيسي	

مملكة البحرين
وزارة التربية والتعليم
مدرسة اليرموك الابتدائية للبنين
قسم المواد الاجتماعية

عنوان الدرس: السياحة في مملكة البحرين.

كفاية الدرس: يحدد المعالم السياحية في البحرين.

نشاط

٨

٢

السؤال الأول: صحح الكلمات الخاطئة التي تحتها خط في الجمل أدناه:

تعدد الجزر وتنوع الشواطئ من المعالم السياحية الأثرية في مملكة البحرين.

.....

قلعة عراد ومدافن عالي ومسجد الخميس من المعالم السياحية الطبيعية في مملكة البحرين.

.....

٦

السؤال الثاني: صنف المعالم السياحية بين الأقواس في الجدول أدناه:

(قلعة عراد وقلعة الرفاع / تعدد الجزر / مسجد الخميس / تنوع الشواطئ / مدافن عالي وسار / بيت الشيخ عيسى بن علي)

معالم سياحية أثرية	معالم سياحية طبيعية
.....
.....
.....
.....

٣

السؤال الثالث: أكمل الجمل التالية بما يناسبها مستعينا بالكلمات بين الأقواس:

(متحف البحرين الوطني / الاتصالات / الفنادق)

لتنشيط حركة السياحة في مملكة البحرين تم الاهتمام بإنشاء مرافق سياحية عديدة كـ

والمطاعم والمتاحف كـ

وكما وأقامت مملكة البحرين شبكة جيدة من المواصلات و لربط البحرين بدول العالم.

٥

السؤال الرابع: ما الأعمال التي قامت بها مملكة البحرين لتنشيط السياحة؟

(١)

(٢)

(٣)

(٤)

(٥)

١

السؤال الخامس: لماذا تشهد مملكة البحرين حركة سياحية نشطة؟

١

السؤال السادس: ماذا تقترح على حكومة البحرين لتطوير السياحة فيها؟

اسم الطالب: الصف: ٤ /

إعداد الأستاذ: سعيد العنيسي

عنوان الدرس: سكان مملكة البحرين.

نشاط

٩

كفاية الدرس: يفسر نمو السكان في البحرين وتوزيعهم.

٣

السؤال الأول: صحح الكلمات الخاطئة التي تحتها خط في الجمل أدناه:

يتجمع معظم سكان مملكة البحرين منذ القدم في المناطق الجنوبية. يتجمع ثلاثة أرباع سكان مملكة البحرين في القرى. تحتل محافظة المحرق المرتبة الأولى من حيث الكثافة السكانية. عوالى والزلاق المدينتان الأكثر كثافة سكانية في مملكة البحرين.

٤

السؤال الثاني:

● مستعينا بالخريطة رتب أسماء المحافظات من حيث الأكثر كثافة سكانية حتى الأقل؟

(١) الأكثر كثافة:

(٢)

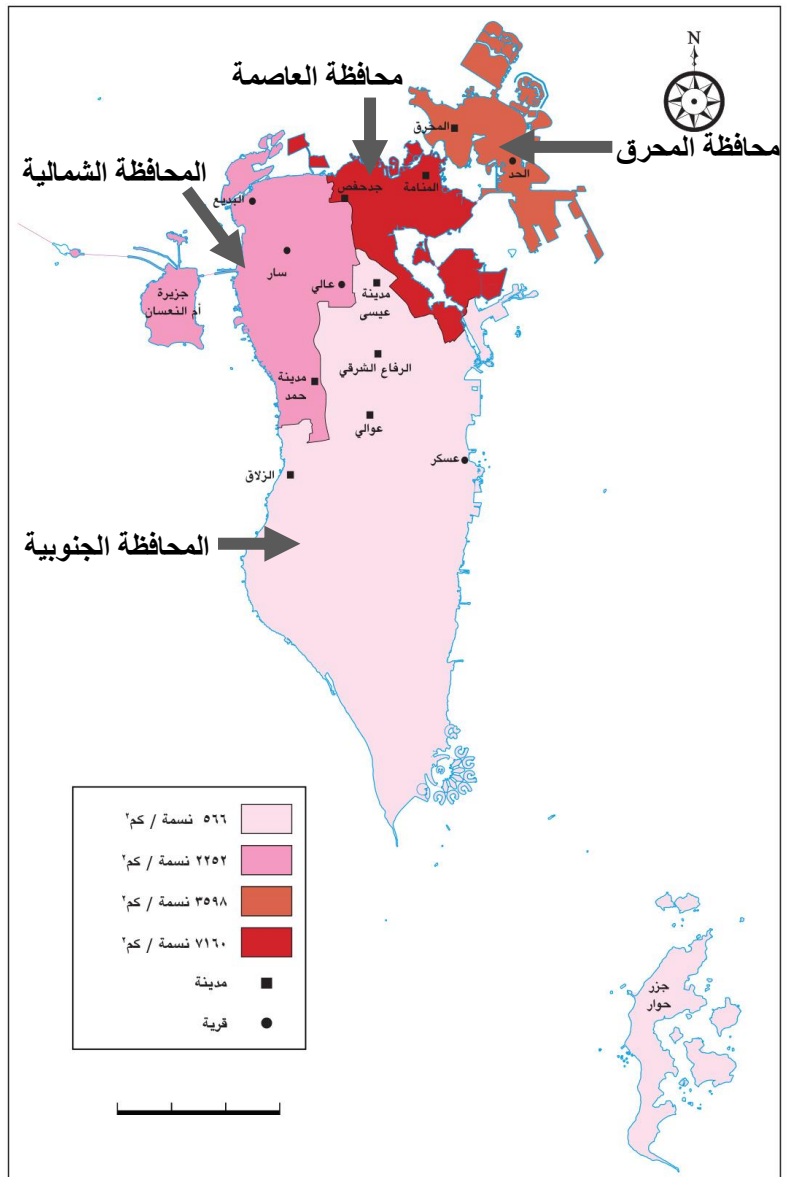
(٣)

(٤) الأقل كثافة:

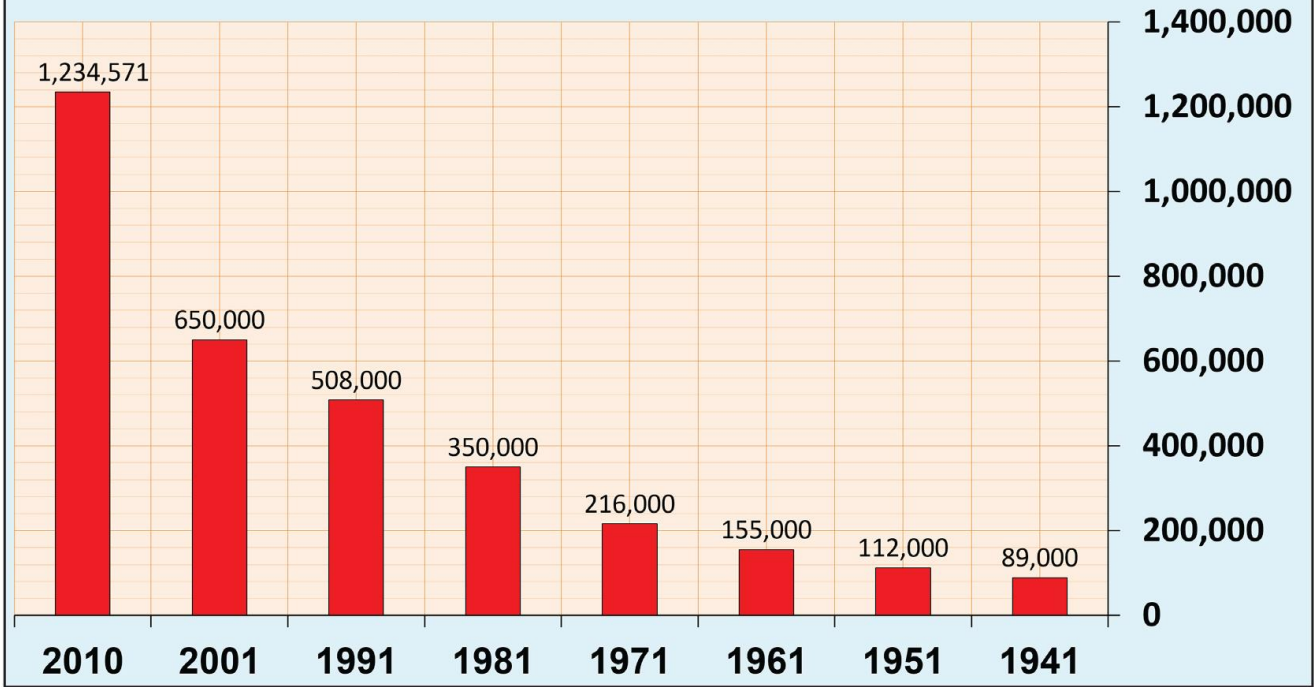
١

السؤال الثالث:

لماذا يتجمع معظم سكان مملكة البحرين في المناطق الشمالية؟



تطور عدد سكان مملكة البحرين
بالفترة (1941-2010م) (بالآلاف)



٣- تطور عدد سكان مملكة البحرين بين سنتي ١٩٤١ و ٢٠١٠م.

٣

السؤال الرابع: كم بلغ عدد السكان في مملكة البحرين في السنوات التالية:

سنة ١٩٤١م:

سنة ١٩٨١م:

سنة ٢٠١٠م:

١

السؤال الخامس: ماذا حدث لأعداد السكان في مملكة البحرين منذ سنة ١٩٤١م حتى سنة ٢٠١٠م؟

١

السؤال السادس: ما أسباب الزيادة السكانية التي شهدتها مملكة البحرين؟