

تم تحميل هذا الملف من موقع المناهج البحرينية

الملف ملخص التطبيق شامل لنهاية الفصل الدراسي الثاني في مادة الاجتماعيات.

[موقع المناهج](#) ⇐ ⇐ [الصف الرابع](#) ⇐ [المواد الاجتماعية](#) ⇐ [الفصل الثاني](#)

روابط مواقع التواصل الاجتماعي بحسب الصف الرابع



روابط مواد الصف الرابع على تلغرام

[الرياضيات](#)

[اللغة الانجليزية](#)

[اللغة العربية](#)

[التربية الاسلامية](#)

المزيد من الملفات بحسب الصف الرابع والمادة الاجتماعية في الفصل الثاني

|                                    |   |
|------------------------------------|---|
| <a href="#">نموذج أسئلة امتحان</a> | 1 |
| <a href="#">أسئلة امتحان</a>       | 2 |
| <a href="#">نموذج إجابة امتحان</a> | 3 |
| <a href="#">نموذج إجابة امتحان</a> | 4 |
| <a href="#">أوراق عمل</a>          | 5 |



مملكة البحرين  
وزارة التربية والتعليم  
مدرسة الخوارزمي الابتدائية للنين



# ملخص للصف الرابع للتطبيق الشامل لنهاية الفصل الدراسي الثاني في مادة الاجتماعيات 2022 / 2021م

الملخص لا يغني عن الكتاب



يعتمد مديرة المدرسة: أ. رجاء محمد الحمادي

كائن

منسقة المادة: أ. عائشة علي الحاكور

إعداد: أ. وزيرة حسين الهيصي

## موقع مملكة البحرين

❖ **موقع مملكة البحرين:**

**س1** اين تقع مملكة البحرين بالنسبة إلى الخليج العربي؟

في وسط الخليج العربي الذي يشكل الواجهه الشرقية لشبه الجزيرة العربية.

**س2** ما الدوله التي تقع غرب مملكة البحرين؟

المملكة العربية السعودية.



**س3** ما الدوله التي تقع شرق مملكة البحرين

دولة قطر.

**س4** في أي جزء من الوطن العربي تقع مملكة البحرين؟

في الجزء الشرقي.

**س5** في أي نصف من الكرة الأرضية تقع مملكة البحرين؟ وفي أي قارة؟

في النصف الشمالي من الكرة الأرضية، في الجنوب الغربي لقارة آسيا.

❖ **أهمية موقع مملكة البحرين**

**س1** ما اهمية موقع مملكة البحرين؟

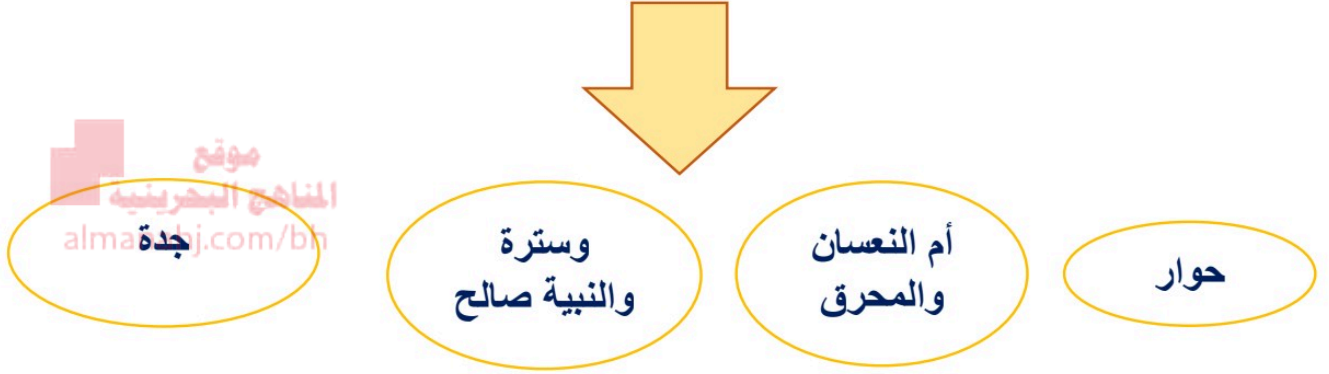
- مركزا مهما للمواصلات والتجارة.
- حلقة وصل بين البلدان الآسوية المطلة على المحيط الهندي، وبلدان حوض البحر المتوسط وقارة أوروبا.

## سطح مملكة البحرين

### مم تألف مملكة البحرين؟

تتألف مملكة البحرين من أكثر من 36 جزيرة

### أسماء الجزر الرئيسية لمملكة البحرين



- تبلغ مساحة مملكة البحرين حوالي 765,3 كيلو مترا مربع.
- تتميز مملكة البحرين بانبساط سطحها، وقلة ارتفاعه عن سطح البحر.
- يبلغ أقصى ارتفاع لسطح مملكة البحرين (134 مترا) عند جبل دخان.

### • من أبرز الرؤوس في مملكة البحرين:

- 1- رأس أبي جرجور
- 2- رأس حيان
- 3- رأس البر.

### • من أبرز الأخوار في مملكة البحرين:

- 1- خور القليعة
- 2- خور الكاب.

### • من أبرز الخلجان في مملكة البحرين:

خليج عراد.



أرخبيل

هل البحرين عبارة عن جزيرة او أرخبيل؟

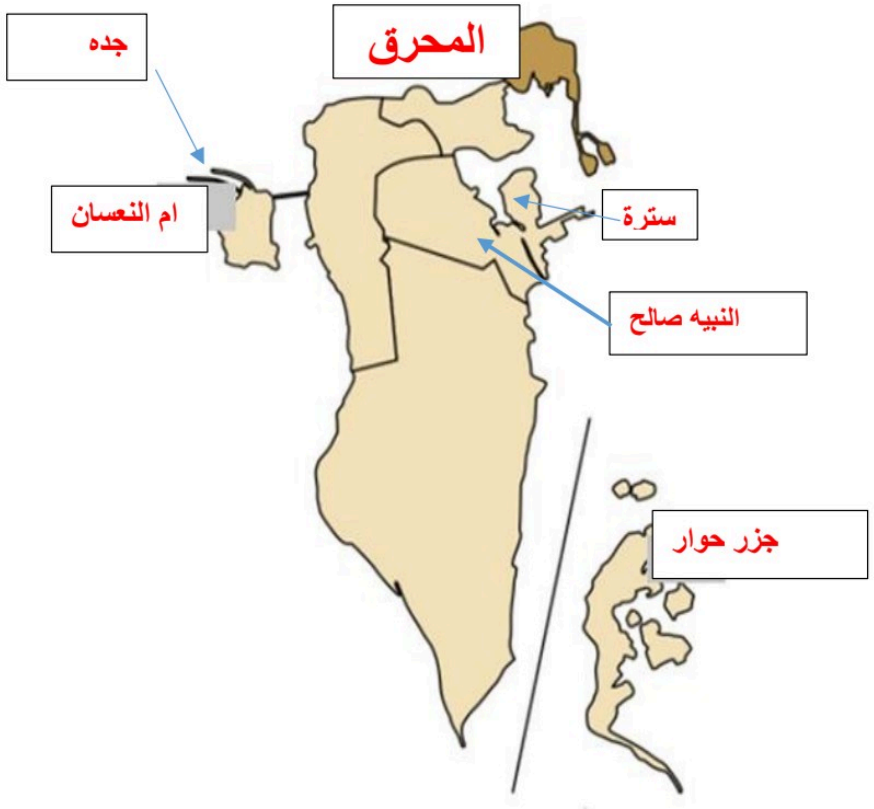
أكثر من ٣٦ جزيرة

كم عدد جزر مملكة البحرين؟

البحرين

أكبرها جزيرة

ما هي الجزر الرئيسية في مملكة البحرين؟



## مناخ مملكة البحرين

### س1 بم يتميز مناخ مملكة البحرين؟ ولماذا؟

يتميز بانه مناخ حار صحراوي، ويتميز بقلة الأمطار.

لأن مملكة البحرين تقع بالقرب من مدار السرطان، ضمن المنطقة الحارة الصحراوية، وهذه المنطقة تتلقى كمية كبيرة من حرارة الشمس.



### س2 كيف يكون فصل الصيف في مملكتنا؟ بم يتميز فصل الشتاء.

- فصل الصيف شديد الحرارة والجفاف لاتسقط فيه الأمطار.
- فصل الشتاء تنخفض خلاله درجات الحرارة قليلاً، وتسقط كميات قليلة من الأمطار.

### س3 لماذا يقل النبات الطبيعي في مملكة البحرين؟ وما أنواعه؟

بسبب قلة مياه الأمطار.

#### أنواع النبات:

- العوسج والمرخ.
- الإرطي والغاف.

### س3 اذكر بعض الحيوانات البرية التي تعيش في مملكة البحرين.

- الغزال والأرنب.
- النمس والضب.

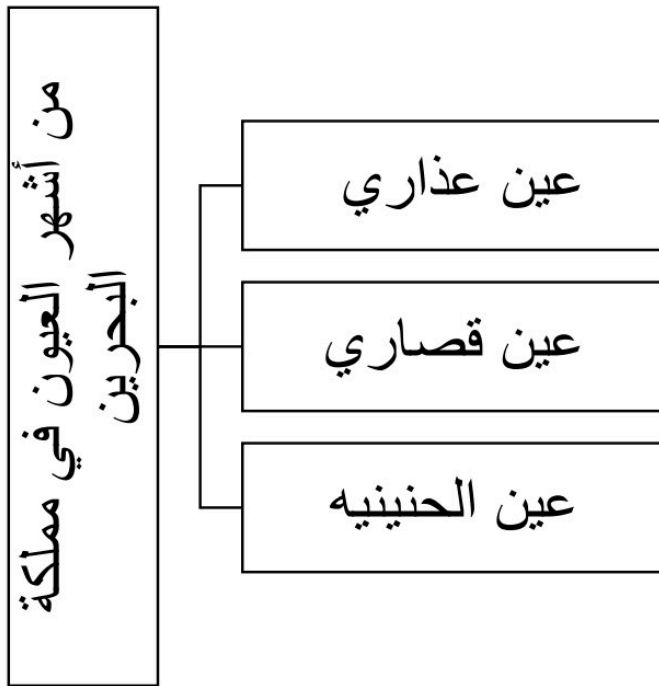
## أنواع الطيور في مملكة البحرين

| الطيور المهاجرة | الطيور المقيمة |
|-----------------|----------------|
| الغراب          | الدوري         |
| السنونو         | العقاب         |
| النورس          | البوم          |
|                 | البليل         |

## الموارد المائية في مملكة البحرين

### ❖ موارد المياه في الماضي

- ظل سكان مملكة البحرين حتى الأمس القريب يستعملون مياه العيون والينابيع للشرب ولري المزروعات.
- كانت العيون البرية منتشرة في أنحاء مملكة البحرين لكن مياهها جفت مع الزمن.
- كان سكان مملكة البحرين يستخرجون الماء العذب من الينابيع البحرية المسماة: بالكواكب.
- لجؤوا إلى حفر الآبار لاستخراج مايسد حاجتهم من المياه



### ❖ موارد المياه في الحاضر

- لاتزال المياه المستخرجة من الآبار توفر قسما من حاجة سكان مملكة البحرين.
- كمية المياه الجوفيه محدوده وفي تناقص مستمر وذلك بسبب
  - 1- تزايد الاستهلاك
  - 2- تسرب مياه البحر إليها في بعض المناطق.
- وبسبب تناقص المياه الجوفيه عمدت المملكة إلى تأمين مصادر جديدة للمياه، فأنشأت محطات لتخليه مياه البحر، ومحطة لمعالجة الصرف الصحي.

### الثروة البحرية في مملكة البحرين

#### س1 ما مصادر الثروة البحرية في مملكة البحرين؟

- الأسماك (تعتبر الأسماك من الأغذية الرئيسية في مملكة البحرين).
- اللؤلؤ.

#### س2 بماذا يتميز لؤلؤ مملكة البحرين؟

يتميز بجودته في مختلف أنحاء العالم.



كانت مملكة البحرين أهم مركز لصيد اللؤلؤ، والمنامة أهم مركز لتسويقه.

س2 ما الأسباب التي أضعفت مهنتي صيد الأسماك والغوص على اللؤلؤ؟

- بسبب النهضة الاقتصادية التي شهدتها مملكة البحرين تحول قسم كبير من العاملين في الصيد والغوص إلى أعمال أخرى أكثر ربحاً فضعفت مهنة صيد الأسماك.
- تلاشت تقريبا مهنة الغوص لاستخراج اللؤلؤ بسبب منافسة زراعة اللؤلؤ الصناعي في اليابان.

موقع  
المناهج البحرينية  
almanahj.com/bh

س3 ماذا فعلت مملكة البحرين لرعاية مهنتي الصيد والغوص؟

- طورت ميناء المحرق لصيد الأسماك.
- شجعت الصيادين على استعمال مراكب الصيد الحديثة والشباك.
- تعمل المملكة على إحياء مهنة الغوص عن طريق تشجيع الغواصين ومساعدتهم.

### **النفط والغاز الطبيعي في مملكة البحرين**

س1 أين اكتشف أول بئر للنفط في مملكة البحرين؟ ومتى تم ذلك؟

في منطقة جبل دخان، في الأول من يوليو عام 1932م

س2 مادور عائدات النفط في نهضة مملكة البحرين؟

شكلت عائدات النفط عاملاً أساسياً من عوامل النهضة الحديثة في مجالات الصناعة والزراعة

### س3 ما أهمية مصفاة سترة لتكرير النفط الخام؟

تعمل هذه المصفاة على تكرير نطف مملكة البحرين الخام، كما تكرر جزء من النفط السعودي.

### س4 ما اسم الميناء الذي يصدر منه النفط المكرر إلى أسواق العالم؟

ميناء سترة.

**موقع**  
**المناهج البحرينية**  
**almanahj.com**

### س5 هل يوجد غاز طبيعي في مملكة البحرين؟ كيف نستعمله؟

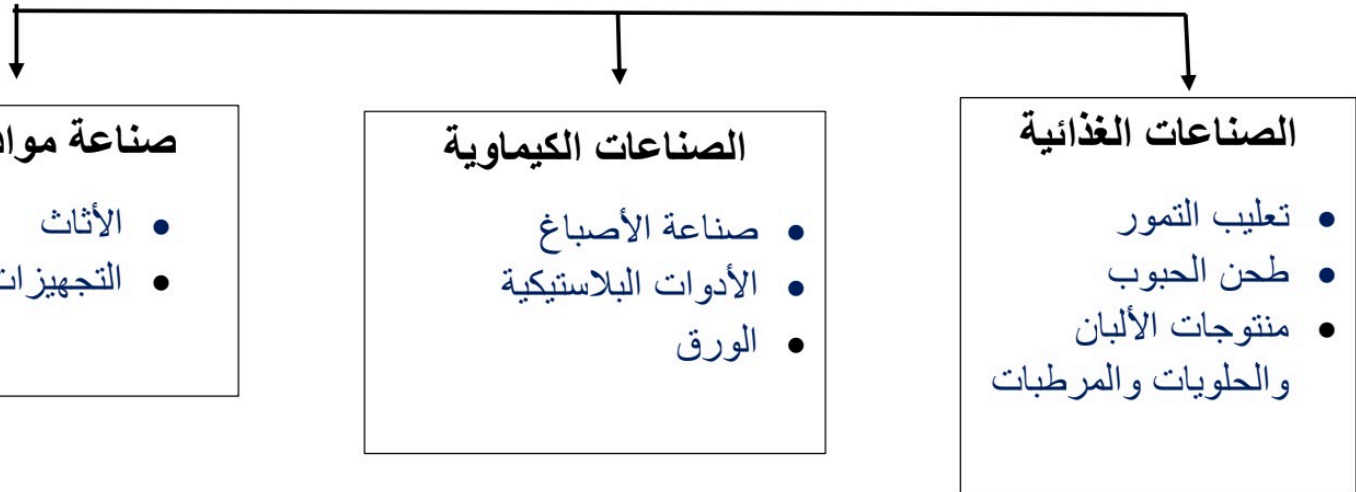
نعم يوجد، يستعمل في تشغيل محطات توليد الكهرباء، ومصنع الألمنيوم.

### س2 مادور عائدات النفط في نهضة مملكة البحرين؟

شكلت عائدات النفط عاملاً أساسياً من عوامل النهضة الحديثة في مجالات الصناعة والزراعة

## الصناعة في مملكة البحرين

### انواع الصناعات في مملكة البحرين



### س1 ما الحرف القديمة في مملكة البحرين؟ وما المناطق التي تشتهر بها؟

- صناعة مراكب الصيد في المنامة والمحرق.
- صناعة النسيج في قرية بني جمرة.
- صناعة الفخار في عالي.

## س2 عدد أبرز المناطق الصناعية في مملكة البحرين؟

- المنطقة الصناعية حول ميناء سلمان في المنامة
- المنطقة الصناعية في جزيرة سترة.
- المنطقة الصناعية في جنوب مدينة الحد.

## س2 لماذا عمدت مملكة البحرين إلى وضع خطة لتطوير الصناعة فيها؟

- من أجل زيادة الإنتاج الصناعي في مملكة البحرين.
- توفير المزيد من فرص العمل للمواطنين.

## س3 اذكر أسماء بعض مصانع مملكة البحرين؟

- مصنع تكرير النفط ومصنع تسييل الغاز.
- مصنع ألباء للألمنيوم.
- مصنع البتروكيماويات والحوض الجاف لبناء السفن وإصلاحها.

## **التجارة في مملكة البحرين**

### س1 ماذا تسمى البضائع التي تشتريها مملكة البحرين من الخارج؟

الواردات.

### س2 ماذا تسمى البضائع التي تبيعها مملكة البحرين إلى الدول الأخرى؟

صادرات

### س3 لماذا أصبحت مملكة البحرين مركزًا ماليًا مهمًا؟

بسبب وجود عدد كبير من المصارف التي تقدم خدماتها للمواطنين في مملكة البحرين ولمنطقة الخليج العربي بأكملها.

## صادرات وواردات مملكة البحرين

| الواردات                     | الصادرات     |
|------------------------------|--------------|
| الآلات المختلفة              | النفط المكرر |
| الأدوات الكهربائية والسيارات | الألمنيوم    |
| الأدوية                      | التمور       |
| الألبسة والمواد الغذائية     |              |

### المواصلات والاتصالات في مملكة البحرين

س1 ماذا يستعمل سكان مملكة البحرين للذهاب إلى أعمالهم؟

السيارات والباصات.

س2 لماذا أقيمت شبكة الطرق والجسور في مملكة البحرين؟

من أجل تسهيل مرور السيارات والشاحنات.

س3 ما الذي يربط مملكة البحرين بالمملكة العربية السعودية؟

جسر الملك فهد.

❖ أقيمت الجسور لتصل بين جزر البحرين مثل:

1- جسر الشيخ حمد وجسر الشيخ عيسى وجسر الشيخ خليفة بين  
المحرق والمنامة.

2- جسر سترة الذي يربط جزيرة سترة بالعاصمة.

### س3 كيف تتم المواصلات البحرية؟ سم ثلاثة من موانئ مملكة البحرين.

المواصلات البحرية تتم عبر موانئ مملكة البحرين، بواسطة السفن.

- موانئ سلمان.
- موانئ خليفة بن سلمان.
- موانئ سترة.

### ❖ ترتبط مملكة البحرين بالعالم عبر شبكة اتصالات متطورة، تقوم على خدمات

موقع  
المنهج البحرينية  
almanahj.com/bh

البريد، والهاتف، والفاكس، والإنترنت.

### ❖ في مملكة البحرين وسائل مختلفة للإعلام كالإذاعة والتلفاز والصحافة.

## السياحة في مملكة البحرين

### س1 لماذا تشهد مملكة البحرين حركة سياحية نشطة؟

بسبب اهتمام مملكة البحرين بالمرافق السياحية.

### س2 اذكر بعض المعالم السياحية الطبيعية والأثرية الموجودة في مملكة البحرين.

- قلعة عراد وقلعة الرفاع.
- مدافن عالي وسار.
- مسجد الخميس.
- وبيت الشيخ عيسى بن علي آل خليفة.

### س3 سم بعض المرافق السياحية المتوافرة في مملكة البحرين .

- الفنادق الفخمة والمطاعم المتنوعة.
- أُقيمت المسابح على الشواطئ.
- المتاحف مثل متحف مملكة البحرين الوطني، ومتحف قلعة البحرين.
- المتنزهات الحديثة مثل متنزة عذاري و متنزة خليفة وبلاج الجزائر ودوحة عراد.

### سكان مملكة البحرين

#### س1 أين يتجمع سكان مملكة البحرين؟ ولماذا؟

في المناطق الشمالية من المملكة، لأن هذه المناطق غنية بالمياه العذبة، ولأن تربتها صالحة للزراعة.

#### س2 أين يقيم معظم سكان مملكة البحرين؟

في المدن.

- ❖ تحتل محافظة العاصمة المرتبة الأولى من حيث الكثافة السكانية.
- ❖ تعد مدينتا المنامة و المحرق من المناطق ذات الكثافة السكانية المرتفعة.
- ❖ ساعد اكتشاف النفط على ازدهار مملكة البحرين، فتطور العمران وتوسعت المدن والقرى.

❖ لسد الحاجات الناتجة عن تزايد السكان، أنشأت المملكة مدينتا عيسى ومدينة حمد اللتين أصبحتا عامرتين بالسكان.

❖ كان عدد سكان مملكة البحرين سنة 1941م حوالي 89 ألف نسمة، وبلغ هذا العدد سنة 2001م حوالي 650 ألف نسمة واصبح عام 2010م تقريبا 1,234 مليون نسمة وهذا معناه أن النمو السكاني قد حقق زيادة كبيرة خلال الست والسنتين سنة الأخيرة.