

تم تحميل هذا الملف من موقع المناهج البحرينية



\* للحصول على أوراق عمل لجميع الصفوف وجميع المواد اضغط هنا

<https://almanahj.com/bh>

\* للحصول على أوراق عمل لجميع مواد الصف الرابع اضغط هنا

<https://almanahj.com/bh/4>

\* للحصول على جميع أوراق الصف الرابع في مادة رياضيات وجميع الفصول, اضغط هنا

<https://almanahj.com/bh/4math>

\* للحصول على أوراق عمل لجميع مواد الصف الرابع في مادة رياضيات الخاصة بـ الفصل الثاني اضغط هنا

<https://almanahj.com/bh/4math2>

\* لتحميل كتب جميع المواد في جميع الفصول للـ الصف الرابع اضغط هنا


<https://almanahj.com/bh/grade4>

\* لتحميل جميع ملفات المدرس فاضل عباس اضغط هنا

---

للتحدث إلى بوت على تلغرام: اضغط هنا

[https://t.me/omcourse\\_bot](https://t.me/omcourse_bot)



## مراجعة ١ للتقويم الذهني في مادة الرياضيات للصف الرابع الابتدائي نهاية الفصل الدراسي الثاني من العام الدراسي ٢٠١٣/٢٠١٤م

١) يُقرأ السؤال على الطالب مرتين فقط. ٢) يكتب الطالب الإجابة النهائية فقط خلال ١٥ ثانية. ٣) يُعطى الطالب درجة واحدة في حال الإجابة الصحيحة و صفر إذا كانت خاطئة. ٤) لا يُعطى الطالب درجة عند كتابة خربشات حتى إذا كانت الإجابة صحيحة.	ملاحظات هامة
--	--------------

الرقم	السؤال	الإجابة
١	حوّط العدد الأصغر من بين الأعداد التي أمامك	١٠٠٦
٢	اكتب مكمل العدد ٧٤ إلى ١٠٠	٢٦
٣	أوجد ناتج: ٥٧ + ٢٣	٨٠
٤	اطرح ٢٢ من ٧٧	٥٥
٥	مع أحمد دينارين و ٣٠٠ فلس و أعطاه أبوه ٨٠٠ فلس، فكم أصبح معه؟	٣ دنانير و ١٠٠ فلس
٦	في الدفتر الواحد ١٠٠ ورقة، فكم ورقة في سبعة دفاتر؟	٧٠٠ ورقة
٧	أوجد ضعف العدد ٧٦	١٥٢
٨	حوّط مضاعفات العدد ٣	٣٠ ، ٦
٩	أوجد ناتج قسمة ٦٦ على ٦	١١
١٠	كم سنتمتراً في ٢ متر؟	٢٠٠ سم

# ورقة إجابة الطالب - للمراجعة ١

	١	١٦٠٠٠	١٠٦٠	١٦٠٠	١٠٠٦	١
--	---	-------	------	------	------	---

	١					٢
--	---	--	--	--	--	---

	١					٣
--	---	--	--	--	--	---

	١					٤
--	---	--	--	--	--	---

	١					٥
--	---	--	--	--	--	---


	١					٦
--	---	--	--	--	--	---

	١					٧
--	---	--	--	--	--	---

	١	١٤	٣٠	١١	٦	٨
--	---	----	----	----	---	---

	١					٩
--	---	--	--	--	--	---

	١					١٠
--	---	--	--	--	--	----



## مراجعة ٢) للتقويم الذهني في مادة الرياضيات للصف الرابع الابتدائي نهاية الفصل الدراسي الثاني من العام الدراسي ٢٠١٣/٢٠١٤م

١) يُقرأ السؤال على الطالب مرتين فقط. ٢) يكتب الطالب الإجابة النهائية فقط خلال ١٥ ثانية. ٣) يُعطى الطالب درجة واحدة في حال الإجابة الصحيحة و صفر إذا كانت خاطئة. ٤) لا يُعطى الطالب درجة عند كتابة خربشات حتى إذا كانت الإجابة صحيحة.	ملاحظات هامة
--	--------------

الرقم	السؤال	الإجابة
١	حوّط العدد الأصغر من بين الأعداد التي أمامك.	٣٤٦٥
٢	اكتب مكمل العدد ٣٨ إلى ١٠٠.	٦٢
٣	أوجد ناتج: ٩٩ + ٥٥.	١٥٤
٤	ما الفرق بين ٨٤ و ٢٣؟	٦١
٥	مع جاسم ٩٠٠ فلس و أعطاه أخوه ٦٠٠ فلس، فكم أصبح معه؟	دينار و ٥٠٠ فلس
٦	كم زاوية في خمسة مثلثات؟	١٥ زاوية
٧	أوجد ضعف العدد ٤٨	٩٦
٨	حوّط مضاعفات العدد ٤	٤٠ ، ١٢
٩	كم ٥ في العدد ٣٥؟	٧
١٠	كم جرام في ٣ كيلوجرام؟	٣٠٠٠ جم

# ورقة إجابة الطالب - للمراجعة ٢

	١	٥٣٦٤	٣٤٦٥	٦٤٣٥	٥٤٣٦	١
	١					٢
	١					٣
	١					٤
	١					٥
	١					٦
	١					٧
	١	١٤	٤٠	١٢	١٠	٨
	١					٩
	١					١٠



## مراجعة ٣ للتقويم الذهني في مادة الرياضيات للصف الرابع الابتدائي نهاية الفصل الدراسي الثاني من العام الدراسي ٢٠١٣/٢٠١٤م


١) يُقرأ السؤال على الطالب مرتين فقط. ٢) يكتب الطالب الإجابة النهائية فقط خلال ١٥ ثانية. ٣) يُعطى الطالب درجة واحدة في حال الإجابة الصحيحة و صفر إذا كانت خاطئة. ٤) لا يُعطى الطالب درجة عند كتابة خربشات حتى إذا كانت الإجابة صحيحة.	ملاحظات هامة
--	--------------

الرقم	السؤال	الإجابة
١	حوّط العدد الأكبر من بين الأعداد التي أمامك.	٩٣٠٠
٢	اكتب مكمل العدد ١٥٠ إلى ١٠٠٠.	٨٥٠
٣	أوجد ناتج: $٦٥٠ + ٢٥٠$ .	٩٠٠
٤	بكم ينقص العدد ١٠٠ عن ٢٣٠؟	١٣٠
٥	مع لؤي ٣ دنانير، فإذا اشترى بمبلغ دينار و ٢٠٠ فلس، فكم أصبح معه؟	دينار و ٨٠٠ فلس
٦	حوّط ناتج ٣٤ في ١٠٠.	٣٤٠٠
٧	أوجد نصف العدد ١٨٠.	٩٠
٨	حوّط مضاعفات العدد ١٠.	١٠٠ ، ٢٠
٩	اكتب عملية قسمة ناتجها ٨.	$١٠ \div ٨٠$
١٠	أوجد ناتج: $٥ \times ٧ \times ٢$ .	٧٠

# ورقة إجابة الطالب - للمراجعة ٣

	١	٩٣٠	٩٣٠٠	٩٠٣٠	٩٠٠٣	١
	١					٢
	١					٣
	١					٤
	١					٥
	١	٤٣٠٠	٣٤٠٠	٣٤٠	٤٣٠	٦
	١					٧
	١	١٠٠	٤٦	٢٠	٨	٨
	١					٩
	١					١٠





## مراجعة ٤ للتقويم الذهني في مادة الرياضيات للصف الرابع الابتدائي نهاية الفصل الدراسي الثاني من العام الدراسي ٢٠١٣/٢٠١٤م

١) يُقرأ السؤال على الطالب مرتين فقط. ٢) يكتب الطالب الإجابة النهائية فقط خلال ١٥ ثانية. ٣) يُعطى الطالب درجة واحدة في حال الإجابة الصحيحة و صفر إذا كانت خاطئة. ٤) لا يُعطى الطالب درجة عند كتابة خربشات حتى إذا كانت الإجابة صحيحة.	ملاحظات هامة
--	--------------

الرقم	السؤال	الإجابة
١	حوّط العدد الأكبر من بين الأعداد التي أمامك.	٧٣٤١
٢	اكتب مكمل العدد ٤٥٠ إلى ١٠٠٠.	٥٥٠
٣	أوجد ناتج: ٩٥٠ + ٣٥٠.	١٣٠٠
٤	بكم يزيد العدد ٢٠٠ عن ٩٣؟	١٠٧
٥	مع سلمان ٤ دنانير، فإذا اشترى بمبلغ دينارين و نصف، فكم أصبح معه؟	دينار و نصف
٦	ما حاصل ضرب مئة و ستة في عشرة.	١٠٦٠
٧	أوجد نصف العدد ١٤٠.	٧٠
٨	اكتب المضاعفات الخمسة الأولى للعدد ٥	٢٥، ٢٠، ١٥، ١٠، ٥
٩	كم ٤ في العدد ٢٤؟	٦
١٠	أوجد ناتج: ٥ × ٩ × ٢.	٩٠

# ورقة إجابة الطالب - للمراجعة ④

	١	٧٣٤١	٧١٤٣	٣١٧٤	٤٧٣١	١
	١					٢
	١					٣
	١					٤
	١					٥
	١					٦
	١					٧
	١					٨
	١					٩
	١					١٠