

تم تحميل هذا الملف من موقع المناهج البحرينية



* للحصول على أوراق عمل لجميع الصفوف وجميع المواد اضغط هنا

<https://almanahj.com/bh>

* للحصول على أوراق عمل لجميع مواد الصف الرابع اضغط هنا

<https://almanahj.com/bh/4>

* للحصول على جميع أوراق الصف الرابع في مادة اجتماعيات ولجميع الفصول, اضغط هنا

<https://almanahj.com/bh/4social>

* للحصول على أوراق عمل لجميع مواد الصف الرابع في مادة اجتماعيات الخاصة بـ الفصل الأول اضغط هنا

<https://almanahj.com/bh/4social1>

* لتحميل كتب جميع المواد في جميع الفصول للـ الصف الرابع اضغط هنا

<https://almanahj.com/bh/grade4>

* لتحميل جميع ملفات المدرس كامل حسن معيوف اضغط هنا

[almanahjbhbot/me.t//:https](https://t.me/almanahjbhbot)

للتحدث إلى بوت على تلغرام: اضغط هنا

الرابع

مملكة البحرين
وزارة التربية والتعليم
مدرسة السهلة الابتدائية الإعدادية للبنين
قسم المواد الاجتماعية

مذكرة مراجعة في المواد الاجتماعية

لنهاية الفصل الدراسي الأول ٢٠١٧ - ٢٠١٨ م

الصف الرابع الابتدائي

إعداد الأستاذ
كامل حسن معيوف
معلم المواد الاجتماعية

الاسم :
الصف :

ملاحظة : الكتاب المدرسي هو المرجع الأساسي للدراسة

مذكرة مراجعة في المواد الاجتماعية للصف الرابع الابتدائي لنهاية الفصل الدراسي الأول ٢٠١٧ - ٢٠١٨ م

السؤال الأول

أ) أكمل الجمل التالية : -

- ١- تحكم البحرين اليوم عائلة
- ٢- المحطة الثالثة التي استقر فيها آل خليفة وآل الصباح هي
- ٣- يرجع نسب آل خليفة وآل الصباح إلى قبيلة
- ٤- كان نصر بن مذكور يحكم البحرين عندما كان آل خليفة تحكم
- ٥- تقع البحرين في
- ٦- تحكم الكويت اليوم عائلة
- ٧- المحطة الثانية التي استقر فيها آل خليفة وآل الصباح هي
- ٨- كانت الفرس تسيطر على البحرين عندما كان آل خليفة تحكم
- ٩- الشيخ فتح البحرين .
- ١٠- عندما توفي الشيخ محمد آل خليفة تولى ابنه الشيخ مكانه .

ب) أجب عن الأسئلة التالية : -

١) ما سبب اختيار الشيخ محمد آل خليفة أمير الزبارة ؟

.....
.....
.....

٢) ما سبب ازدهار الحركة التجارية في البحرين في عهد الشيخ أحمد الفاتح ؟


.....
.....
.....

٣) لماذا هاجم نصر بن مذكور الزبارة ؟ (سبب واحد)

.....
.....
.....

٤) ماذا تمثل الأقسام الخمسة المسننة لعلم البحرين ؟ ثم ارسمه

.....
.....
.....



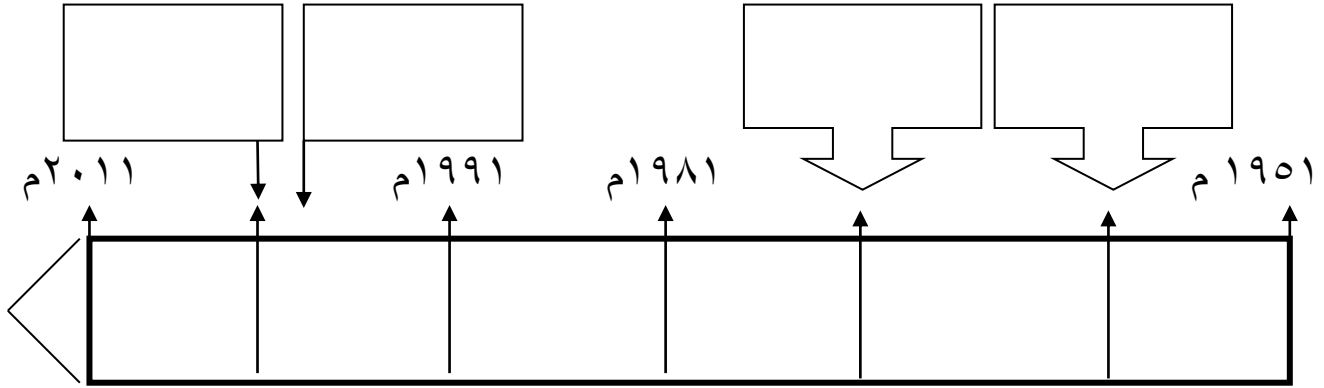
السؤال الثاني

أ) من خلال دراستك لتاريخ البحرين أكمل الجدول التالي :-

الانجازات التي تحققت في عهد عاهل البحرين الملك حمد بن عيسى آل خليفة	الانجازات التي تحققت في عهد المغفور له الشيخ عيسى بن سلمان آل خليفة

ب) رتب الأحداث التالية على الخط الزمني :-

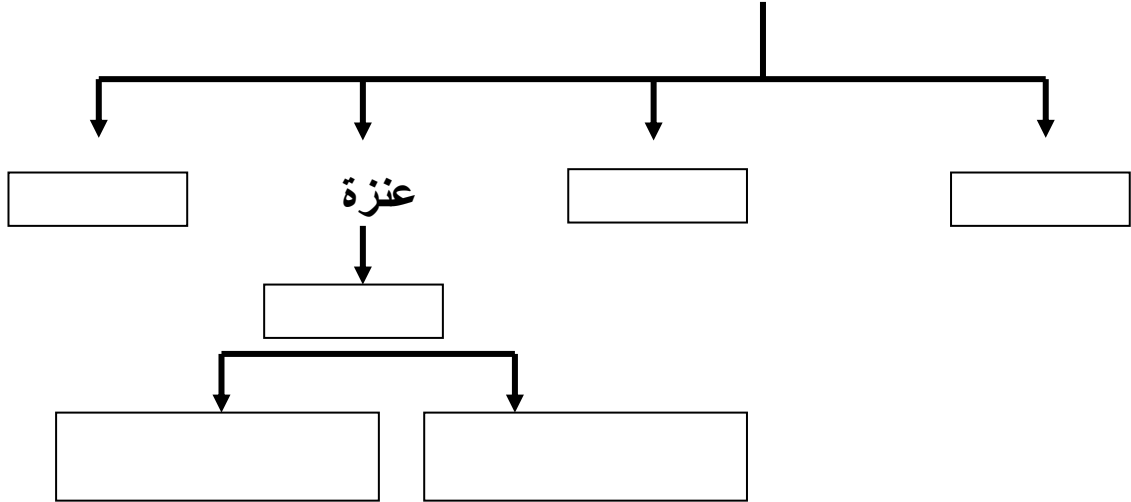
افتتاح مطار البحرين	تولي الشيخ عيسى بن سلمان الحكم في البحرين	تولي الملك حمد بن عيسى مقاليد الحكم في	تحويل دولة البحرين إلى مملكة دستورية
١٩٧٢ م	١٩٦١ م	١٩٩٩ م	٢٠٠٢ م



السؤال الثالث

أ) من خلال دراستك لتاريخ البحرين أكمل الشكل التالي :-

شجرة نسب قبائل العتوب :-



ب) من خلال دراستك لدول مجلس التعاون , أكمل الجدول التالي : -

مقر المجلس	سنة التأسيس	العوامل المشتركة	دول مجلس التعاون

- ج) على خريطة شبه الجزيرة العربية وضح : -
- * وضح أماكن المدن : الزبارة , الكويت , البحرين , الهدار .
 - * اكتب أسماء المسطحات المائية (البحر الأحمر , الخليج العربي) .
 - * لون المسطحات المائية بالأزرق .
 - * اليايسة باللون الأصفر .
 - * وضح سير هجرة العتوب .

