

تم تحميل هذا الملف من موقع المناهج البحرينية



مراجعة الاختبار الأول

موقع المناهج ← المناهج البحرينية ← الصف الرابع ← علوم ← الفصل الأول ← اختبارات ← الملف

تاريخ إضافة الملف على موقع المناهج: 2024-10-24 11:04:39

ملفات اكتب للمعلم اكتب للطالب | اختبارات الكترونية | اختبارات | حلول | عروض بوربوينت | أوراق عمل
منهج انجليزي | ملخصات وتقارير | مذكرات وبنوك | الامتحان النهائي للمدرس

المزيد من مادة
علوم:

التواصل الاجتماعي بحسب الصف الرابع



صفحة المناهج
البحرينية على
فيسبوك

الرياضيات

اللغة الانجليزية

اللغة العربية

التربية الاسلامية

المواد على تلغرام

المزيد من الملفات بحسب الصف الرابع والمادة علوم في الفصل الأول

مراجعة المنتصف

1

مراجعة نهائي الفصل الأول

2

ملخص المملكة الحيوانية

3

ملخص الخلايا

4

ملف العلوم الخاص بمراجعة الامتحان

5



مراجعة الاختبار الاول في مادة العلوم للصف الرابع الابتدائي الفصل الدراسي الاول للعام ٢٠٢٣-٢٠٢٤م

استخدم المراجعة لاختبار نفسك بعد الانتهاء من دراستك

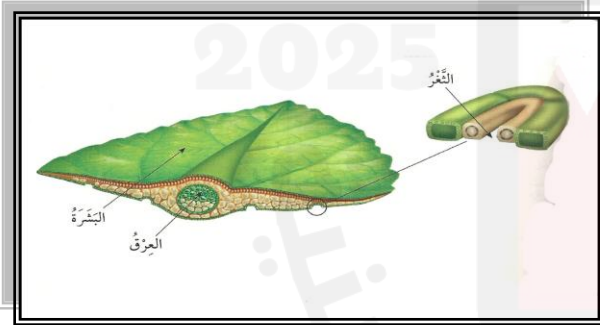
السؤال الأول :

(أ) : ضع علامة (✓) أمام العبارات العلمية الصحيحة وعلامة (x) أمام العبارات غير الصحيحة فيما يلي :

١. () الوحدة البنائية للكائنات الحية هي الخلية .
٢. () الخلية الحيوانية تحتوي على البلاستيدات الخضراء .
٣. () القلب عبارة عن عضو وظيفته ضخ الدم إلى أجزاء الجسم.
٤. () يمكن مشاهدة الخلايا للكائنات الحية بواسطة العدسة المكبرة .
٥. () الفطريات كائنات لا تستطيع صنع غذائها بنفسها .
٦. () البوغ خلية في النباتات اللابذرية تنمو لإنتاج نبات جديد .
٧. () النباتات البذرية هي النباتات التي تنتج بذورا .
٨. () ينتمي حيوان البراميسيوم الى مملكة الطلائعيات .
٩. () تصنف النباتات ضمن المخلوقات وحيدة الخلية .
١٠. () أكبر المجموعات اللاقارية هي الرخويات .

السؤال الثاني :

(أ) انظر الى الرسم الذي أمامك ثم أجب عن الأسئلة التالية :



- ١- يسمى هذا الجزء من النبات (ساق - ورقة)
- ٢- وظيفة هذا الجزء من النبات القيام بعملية (البناء الضوئي - امتصاص الماء
- ٣- (الثغور - البشرة) ثقب على سطح الورقة تفتح وتغلق وتسمح بدخول وخروج بخار الماء والهواء .
- ٤- من خلال عملية (النتج - البناء الضوئي) يتم التخلص من الماء الزائد عن حاجة النبات .

السؤال الثالث : (أ)

أنظر الى الرسم الذي أمامك ثم أكمل الفراغات مستعينا بالكلمات العلمية التالية :
(طاقة - الأكسجين - النيتروجين - ثاني أكسيد الكربون - الماء)



اجب عن الأسئلة التالية بإجابات علمية مناسبة :

١- ما اسم هذه العملية المهمة للنبات ؟

.....
.....

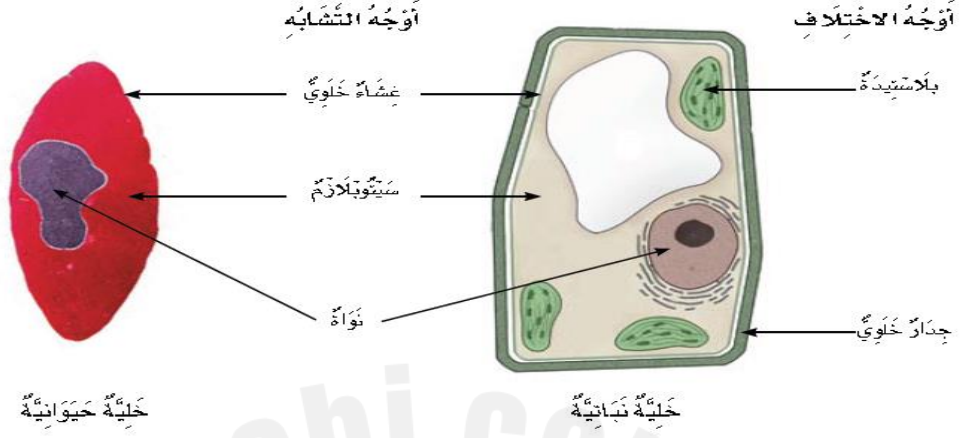
٢- أكتب وظيفتان أساسيتان للجذر في النبات ؟

١-
٢-

(ب) مستعينا بالجدول الذي أمامك قارن بين كلا من مملكة البكتيريا ومملكة النباتات من حيث :

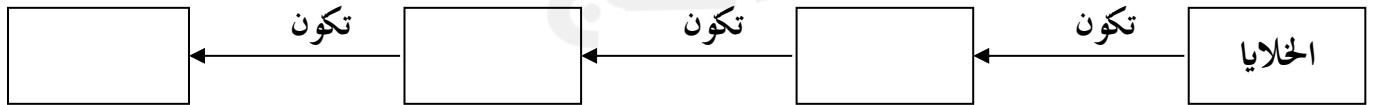
النباتات	البكتيريا	المملكة
		عدد الخلايا (واحدة / متعددة الخلايا)
		طريقة الحصول على الغذاء (تصنع الغذاء بنفسها - لا تصنع الغذاء بنفسها)
		الحركة من مكان لآخر (تتحرك من مكانها / لا تتحرك من مكانها)

(د) : اكتب في الجدول اسفل الرسم أوجه التشابه والاختلاف بين الخليتين النباتية والحيوانية فيما يلي :



الخلية الحيوانية	الخلية النباتية	المقارنة
		الجدار الخلوي
		النواة
		البلاستيدات الخضراء
		السيتوبلازم
		الغشاء الخلوي

و : أضع المصطلحات التالية في مكانها المناسب في المخطط الذي يليها :
(أعضاء . أجهزة . أنسجة)



مع تمنياتي لكم بالنجاح والتوفيق
أ. عادل الشكور