

شكراً لتحميلك هذا الملف من موقع المناهج البحرينية



نشاط تدريبي إثرائي

موقع المناهج ← المناهج البحرينية ← الصف الرابع ← رياضيات ← الفصل الثاني ← الملف

تاريخ نشر الملف على موقع المناهج: 20-04-2024 17:12:53

التواصل الاجتماعي بحسب الصف الرابع



اضغط هنا للحصول على جميع روابط "الصف الرابع"

روابط مواد الصف الرابع على تلغرام

[الرياضيات](#)

[اللغة الانجليزية](#)

[اللغة العربية](#)

[التربية الاسلامية](#)

المزيد من الملفات بحسب الصف الرابع والمادة رياضيات في الفصل الثاني

كتاب التمارين	1
ملخص دروس الرياضيات	2
نشاط لمراجعة الفصل الثالث (تنظيم البيانات وعرضها وتفسيرها)	3
القسمة على عدد واحد	4
بطاقة مراجعة لامتحان نهاية الفصل الثاني	5


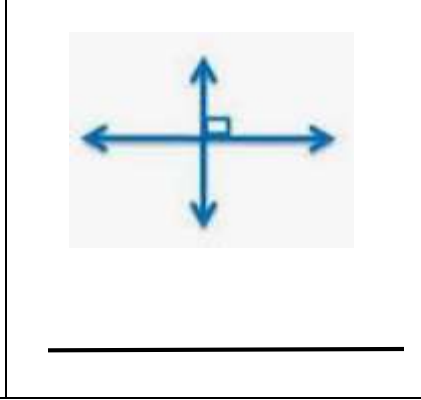

نشاط إثرائي لمادة الرياضيات للصف الرابع الابتدائي للعام الدراسي ٢٠٢٣ / ٢٠٢٤

التاريخ:

الصف:

اسم الطالبة:

السؤال الأول : صفي كلاً من الأشكال الآتية :



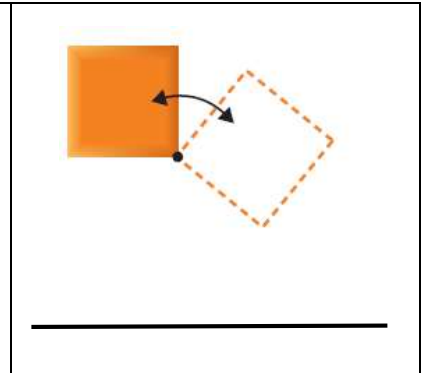
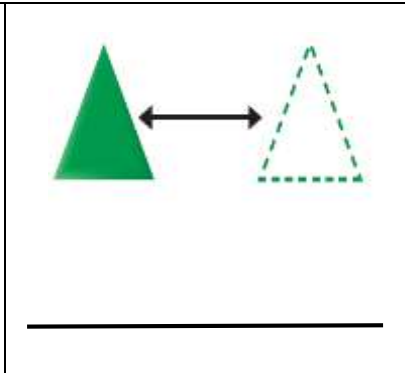
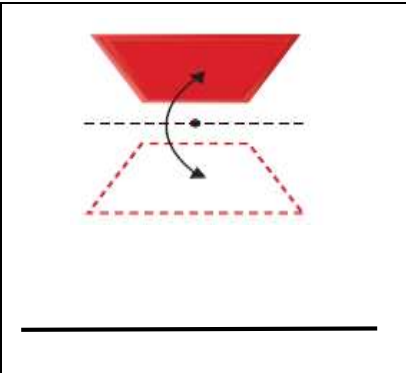
السؤال الثاني : اكتب المصطلح المناسب للتعريفات الآتية :

- () ليس له بداية ولا نهاية .



- () له نقطة بداية وليس له نهاية .

- () لها نقطة بداية ونقطة نهاية .

السؤال الثالث : حددي نوع التحويل الهندسي فيما يأتي :



السؤال الرابع : أوجد محيط المربعات الآتية :

<p>٧ سم</p>  <p>٧ سم</p> <hr/>	<p>٥ سم</p>  <p>٥ سم</p> <hr/>
---	--

السؤال الخامس : أوجد مساحة المستطيل الآتي :

٨ سم



٣ سم

المساحة :

السؤال السادس : ما الزمن الذي استغرقه سعيد في حل الواجب إذا بدأ الساعة ١٥ : ٦ وانتهى الساعة ٠٠ : ٧ ؟