

تم تحميل هذا الملف من موقع المناهج البحرينية



\*للحصول على أوراق عمل لجميع الصفوف وجميع المواد اضغط هنا

<https://almanahj.com/bh>

\* للحصول على أوراق عمل لجميع مواد الصف الرابع اضغط هنا

<https://almanahj.com/bh/4>

\* للحصول على جميع أوراق الصف الرابع في مادة رياضيات ولجميع الفصول, اضغط هنا

<https://almanahj.com/bh/4math>

\* للحصول على أوراق عمل لجميع مواد الصف الرابع في مادة رياضيات الخاصة بـ الفصل الأول اضغط هنا

<https://almanahj.com/bh/4math1>


\* لتحميل كتب جميع المواد في جميع الفصول للـ الصف الرابع اضغط هنا

<https://almanahj.com/bh/grade4>

[almanahjbhbot/me.t//:https](https://t.me/almanahjbhbot)

للتحدث إلى بوت على تلغرام: اضغط هنا

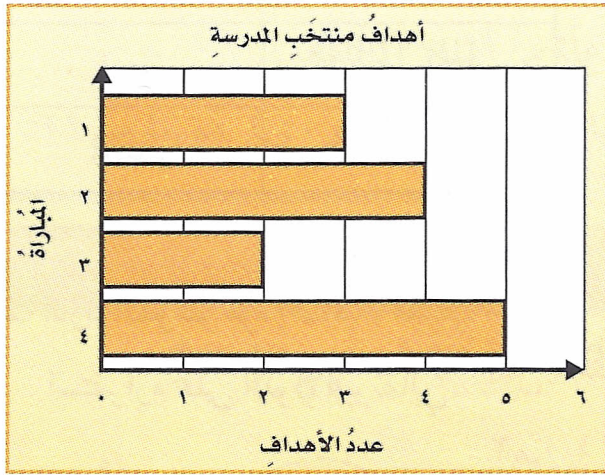
إذا اخترنا واحدة من الفاكهة الآتية دون النظر إليها،  
فَصِفْ بالكلمات والأعداد احتمال كلٍّ من الناتجين  
الآتيين:



٥ برتقال. أقل احتمالاً

٦ تفاح أو خوخ. أكثر احتمالاً

٧ اختيار من متعدد: يُظهر التمثيل الآتي عدد  
الأهداف التي سجّلها مُتَخَبُ المدرسة لكرة  
القدم في أربع مبارياتٍ مختلفة:



بحسب هذا التمثيل، كم يزيد عدد الأهداف في  
المباراة الرَّابِعة على عددها في المباراة الأولى؟

٢ (هـ) ✓

٤ (و)

٣ (ز)

٥ (ح)

٨ صِف التمثيل البياني

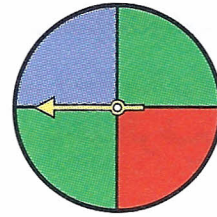
في المسألة ٧ بعبارتين. انظر الهامش.

في المسألتين ١ و ٢، ضع إشارة (✓) أمام العبارة  
الصَّحيحة وإشارة (✗) أمام العبارة غير الصَّحيحة:

١ ✓ يعرّض التَّمثِيلُ بالأعمدة المُزدوجة  
مجموعتين مترابطين من البيانات، ويستعمل  
أعمدةً مختلفة اللون والطول.

٢ ✓ يُمكن استعمال الرِّسْمِ الشَّجَرِيِّ لإظهار  
النَّواتج المُمكنة لموقفٍ احتماليّ.

٣ اختيار من متعدد: إذا قُمْنَا بتدوير المؤشِّر  
الآتي واستقرَّ في جزئين مختلفين، فأَيُّ  
النَّواتج الآتية مُستحيل الحدوث؟



(أ) أحمر، أزرق

(ب) أخضر، أخضر

(ج) ✓ أحمر، أحمر

(د) أخضر، أحمر

أنشئ جدولاً لحل المسألة الآتية:

٤ يوفّر سلطان ٣٥ ريالاً شهرياً، فكم ريالاً يوفّر

في السَّنة الواحدة؟ ٤٢٠ ريالاً