

تم تحميل هذا الملف من موقع المناهج البحرينية



* للحصول على أوراق عمل لجميع الصفوف وجميع المواد اضغط هنا

<https://almanahj.com/bh>

* للحصول على أوراق عمل لجميع مواد الصف الرابع اضغط هنا

<https://almanahj.com/bh/4>

* للحصول على جميع أوراق الصف الرابع في مادة رياضيات ولجميع الفصول, اضغط هنا

<https://almanahj.com/bh/4math>

* للحصول على أوراق عمل لجميع مواد الصف الرابع في مادة رياضيات الخاصة بـ الفصل الثاني اضغط هنا

<https://almanahj.com/bh/4math2>

* لتحميل كتب جميع المواد في جميع الفصول للـ الصف الرابع اضغط هنا

<https://almanahj.com/bh/grade4>

للتحدث إلى بوت على تلغرام: اضغط هنا

https://t.me/omcourse_bot

مملكة البحرين
وزارة التربية والتعليم
إدارة الامتحانات / قسم الامتحانات

امتحان نهاية الفصل الثاني للتعليم الابتدائي للعام الدراسي 2016/2015 م
الصف الرابع الابتدائي

الزمن: ساعة ونصف

المادة: الرياضيات (التحريري)

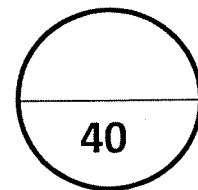
السؤال	الدرجة بالأرقام	الدرجة بالحروف	توقيع المصحح	توقيع المراجع
1				
2				
3				
4				
5				
6				
7				
8				
9				
10				
11				
12				
13				
14				
15				
16				
17				
18				
19				
20				

الدرجة الكلية المعطاة بالحروف والأرقام

جمعه:

راجع الجمع:

توقيع المراجع:



بطاقة بيانات

الرقم السري

مملكة البحرين
وزارة التربية والتعليم
إدارة الامتحانات / قسم الامتحانات

امتحان نهاية الفصل الثاني للتعليم الابتدائي للعام الدراسي 2016/2015 م

المدرسة:

اسم الطالب:

المادة: الرياضيات (التحريري) (الصف الرابع الابتدائي) التاريخ:

مملكة البحرين
وزارة التربية والتعليم
إدارة الامتحانات / قسم الامتحانات
امتحان نهاية الفصل الثاني للتعليم الابتدائي للصف الرابع الابتدائي
للعام الدراسي ٢٠١٥/٢٠١٦م

الزمن: ساعة ونصف

المادة: الرياضيات/التحريري

٣	١
---	---

حوط الإجابة الصحيحة في كل مما يأتي :

• التقدير المناسب لطول حجرة هو :

٥ ملمترات ٥ سنتمترا ٥ أمتار ٥ كيلومتر

• التقدير المناسب لسعة علبة حليب هو :


١ مل ١ ل ١٠٠ ل ١٠٠٠ ل

• التقدير المناسب لكتلة طالب في صف الرابع هو :

٢٥ جم ٢٥٠ جم ٣٤ جم ٣٤ كجم

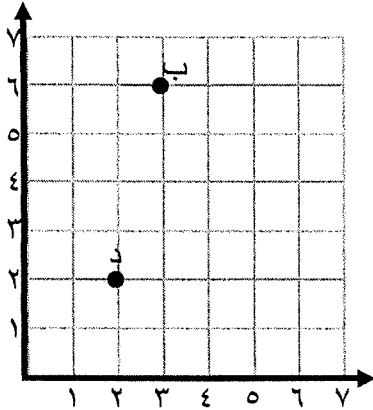
٢	٢
---	---

أوجد حجم كل مجسم مما يأتي :



٣

٢



حدد الزوج المرتب الذي يمثل كل نقطة مما يأتي

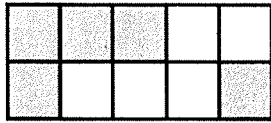
ب . _____

د . _____

٤

٣

أكمل كل مما يأتي :



• الكسر الاعتيادي الذي يعبر عن الجزء المظلل في الشكل

المجاور هو _____ .

• الكسر العشري الذي يعبر عن الجزء المظلل في الشكل

المجاور هو _____ .

• الكسر $3\frac{2}{5}$ على صورة كسر غير فعلي هو _____ .

٥

١

حوظ الإجابة الصحيحة :

ناتج $3200 \div 8$ يساوي :

٤٠٠٠٠


٤٠٠٠

٤٠٠

٤٠

٦

٢



من الشكل المجاور أوجد كل مما يأتي :

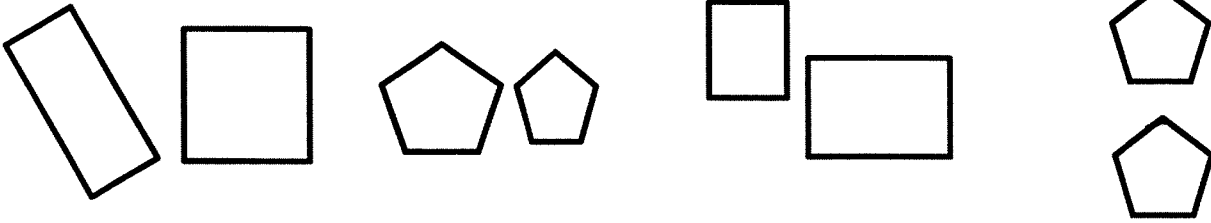
- محيط الشكل المظلل يساوي _____ .
- مساحة الشكل المظلل يساوي _____ .

٧

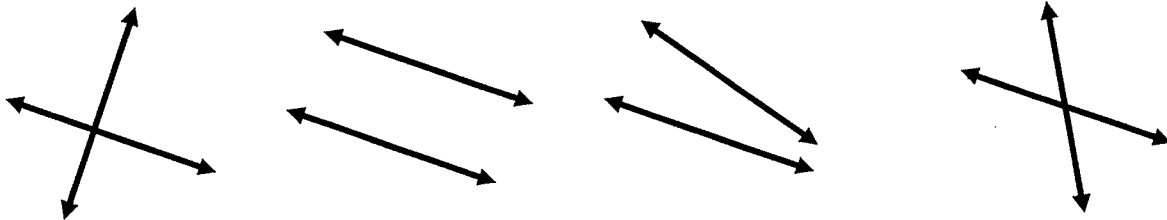
٢

حوط الإجابة الصحيحة في كل مما يأتي :

- الشكلان المتطابقان هما :



- المستقيمان المتوازيان هما :



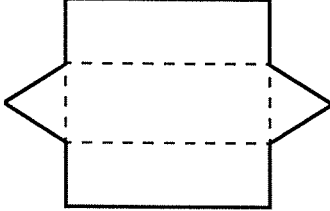
٨

٢

من المخطط المرسوم أمامك أجب عن ما يلي :



• الشكل الثلاثي الأبعاد الذي يمثله المخطط هو =



• عدد الأحرف =



• عدد الأوجه =

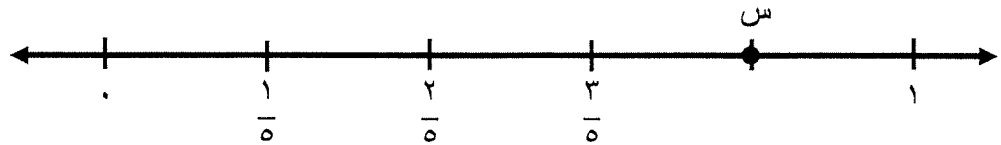


• عدد الرؤوس =

٩

١

ما الكسر الذي تمثله النقطة س على خط الأعداد الآتي:


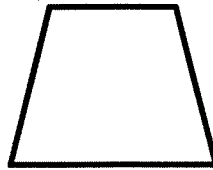
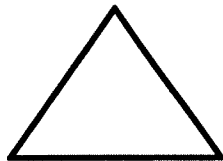



١٠

١

حوط الإجابة الصحيحة:

• الشكل الذي يمثل شبه منحرف هو:



١١

٣

صل بين الشكل في العمود (أ) وما يناسبه من العمود (ب)

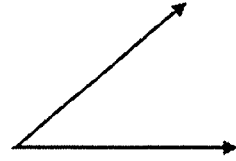
(ب)

(أ)

• زاوية حادة



• شعاع



• قطعة مستقيمة



• زاوية قائمة

١٢

١

حوط الإجابة الصحيحة :

الكسر المكافئ للكسر $\frac{3}{4}$ هو :

$$\frac{9}{8}$$

$$\frac{6}{8}$$

$$\frac{2}{4}$$

$$\frac{1}{4}$$

١٣

يستغرق خالد ساعة و ٤٥ دقيقة للوصول إلى المملكة العربية السعودية إذا غادر الساعة ١:٠٠ بعد الظهر ، ففي أي ساعة سيصل إلى المملكة العربية السعودية ؟



١٤

أوجد ناتج كل مما يأتي :



$$= ١١,٣ + ٣,٤٥$$



$$= ٩,٨ - ٢٥,٣$$

١٥

ضع إحدى الإشارات ($=$ ، $<$ ، $>$) في لتحصل على جملة رياضية صحيحة في كل مما يأتي:

٣,٦٨

٣٦,٨

١,٨

١,٢٣

١٦

١

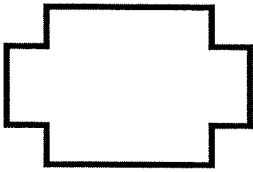
قدر ناتج : $٧ \div ٤٢٣$



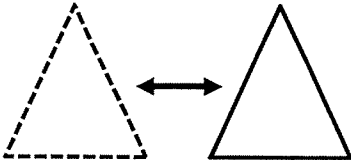
١٧

٢

أكمل كل مما يأتي :



• عدد محاور التماثل للشكل المجاور يساوي _____



• التحويل الهندسي الذي يمثله الشكل المجاور هو _____

١٨

٢

أكلت مريم $\frac{1}{3}$ التفاح الموجود في السلة و أكلت فاطمة $\frac{2}{9}$ التفاح . أيهما أكلت أكثر ؟ (فسر اجابتك)



٢

١٩

أوجد ناتج: $426 \div 4$ موضحا خطوات الحل .



٣

٢٠

لدى ريم ٢٠ دينار اشترت بمبلغ ١٥,٦ دينار . فما المبلغ التقريبي الذي تبقي لديها ؟



(انتهت الأسئلة)

التقويم الشفوي (الذهني) في مادة الرياضيات للصف الرابع الابتدائي
الفصل الدراسي الثاني من العام ٢٠١٥ - ٢٠١٦ م
(ورقة الأسئلة)

الدرجة	السؤال	رقم السؤال
الوقت المستغرق للإجابة ٥ ثواني		
١	أوجد ناتج: ٨×٧ .	١
١	أوجد ناتج: ١٠×٢٢٠ .	٢
١	أوجد ناتج: $١٣٠٠ \div ١٠٠$.	٣
الوقت المستغرق للإجابة ١٠ ثواني		
١	حوط العددين اللذين مجموعهما يساوي ١٩:	٤
١	حوط العددين العشريين اللذين مجموعهما يساوي ١٠:	٥
١	أوجد ضعف العدد ٣٦ .	٦
الوقت المستغرق للإجابة ١٥ ثانية		
١	أوجد ناتج: $٩٩ - ٤٢٣$.	٧
١	أوجد ناتج: $٢ \times ٥ \times ٩$.	٨
١	أوجد ناتج: $٤ \div ٦٤$.	٩
١	حوط جميع مضاعفات العدد ٦ :	١٠