

تم تحميل هذا الملف من موقع المناهج العُمانية



* للحصول على أوراق عمل لجميع الصفوف وجميع المواد اضغط هنا

<https://almanahj.com/bh>

* للحصول على أوراق عمل لجميع مواد الصف الرابع اضغط هنا

<https://almanahj.com/bh/4>

* للحصول على جميع أوراق الصف الرابع في مادة اجتماعيات ولجميع الفصول, اضغط هنا

<https://almanahj.com/bh/4social>

* للحصول على أوراق عمل لجميع مواد الصف الرابع في مادة اجتماعيات الخاصة بـ الفصل الثاني اضغط هنا

<https://almanahj.com/bh/4social2>

* لتحميل كتب جميع المواد في جميع الفصول للـ الصف الرابع اضغط هنا

<https://almanahj.com/bh/grade4>

* لتحميل جميع ملفات المدرس علي الزاكي وحسين الشيخ اضغط هنا

للتحدث إلى بوت على تلغرام: اضغط هنا

https://t.me/omcourse_bot

مملكة البحرين
وزارة التربية والتعليم
المعهد الديني الجعفري
قسم المواد الاجتماعية

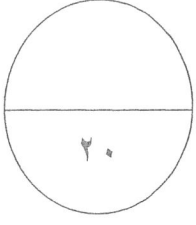
الإجابة النموذجية

امتحان نهاية الفصل الدراسي الثاني في المواد الاجتماعية للصف الرابع
الابتدائي

العام الدراسي ٢٠١٤-٢٠١٥ م

مدير المعهد:
أ. يوسف جمعة

إعداد مدرس المادة: أ. علي الزاكي
إشراف المدرس الأول: أ. حسين الشيخ



السؤال الأول: ضع دائرة حول رمز الإجابة الصحيحة في كل مما يلي:

١- يتم تصدير النفط المكرر من البحرين إلى دول العالم عن طريق ميناء:

- أ- خليفة بن سلمان
ب- سلمان
ج- سترة

٢- من أهم المحاصيل الزراعية التي تنتجها البحرين:

- أ- الكيوي
ب- الكرز
ج- الطماطم

٣- من أبرز أسباب تلاشي مهنة الغوص لاستخراج اللؤلؤ في البحرين هو المنافسة من اللؤلؤ الصناعي:

- أ- الياباني
ب- الهندي
ج- الكويتي

٤- تعد مصفاة تكرير النفط البحرينية من أكبر المصافي في منطقة الخليج وهي موجودة في:

- أ- جزيرة سترة
ب- جزيرة أم النعسان
ج- جزيرة المحرق

٥- مجموع الأموال التي يجنيها شعب بلد ما من الأعمال التي يمارسها أبناؤه في الزراعة والصناعة والتجارة تسمى:

- أ- الزكاة
ب- الدخل الوطني
ج- المصاريف

٦- المنتجات والبضائع التي تباع إلى الخارج تسمى:

- أ- واردات
ب- صادرات
ج- ترانزيت

٧- تم اكتشاف النفط في البحرين في عام:

- أ- ١٩٣٢م
ب- ١٩٦٢م
ج- ١٩٨٢م

٨- المنتجات والبضائع التي تُستَورَى من الخارج تسمى:

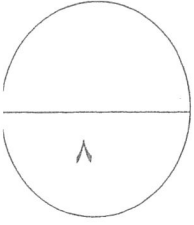
- أ- واردات
ب- ترانزيت
ج- صادرات

٩- الجسر الذي يربط البحرين بالسعودية يسمى جسر:

- أ- المنامة
ب- الملك حمد
ج- الملك فهد

١٠- تعتبر صناعة الفخار من الحرف القديمة في البحرين والتي لا تزال قائمة إلى اليوم وتشتهر بها قرية:

- أ- السنابس
ب- الدراز
ج- عالي



السؤال الثاني: أكمل الجمل بما يناسبها مستعينا بالكلمات التالية:

الشمالية / البيوت المحمية / المجاري / التجارية / الشمس
/ حديثة / جبل الدخان / الفنادق / الكواكب / الآبار

١- الكواكب هي الينابيع البحرية التي كان الناس في البحرين يستخرجون منها الماء العذب.

٢- أنشأت حكومة البحرين محطة لتكرير مياه المجاري لاستخدامها في ري المزروعات.

٣- الفنادق من المرافق التي تساعد على تنشيط السياحة

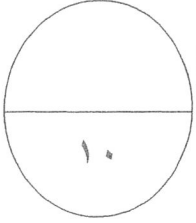
٤- توجد في البحرين مزارع حديثة لتربية الأبقار والأغنام والماعز والدجاج.

٥- شجعت مملكة البحرين على استعمال الوسائل الحديثة في الزراعة كـالبيوت المحمية

٦- تم اكتشاف أول بئر في البحرين في منطقة جبل الدخان.

٧- نشأت المصارف في البحرين لتسهيل العمليات التجارية.

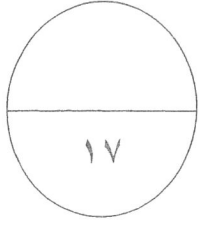
٨- يتجمع معظم سكان البحرين، منذ القدم، في المناطق الشمالية.



السؤال الثالث: ضع علامة (√) أمام الإجابة الصحيحة وعبارة (×) أمام العبارة

الخاطئة في كل مما يلي من عبارات:

- ١- (√) المنطقة الصناعية هي مكان يجمع عددا كبيرا من المصانع كمنطقة ميناء سلمان.
- ٢- (×) يعتبر الأرز من أهم المحاصيل الزراعية في البحرين.
- ٣- (×) يتم تشغيل مصنع ألبا للألمنيوم باستخدام ورق الأشجار.
- ٤- (√) كان لؤلؤ البحرين ، وما يزال، مشهورا بجودته العالية.
- ٥- (×) تتصف البحرين بكثرة الأمطار وبوجود عدد كبير من الأنهار والبحيرات.
- ٦- (√) ساعد اكتشاف النفط على ازدهار البحرين.
- ٧- (√) تستخدم حكومة البحرين عائدات النفط في عملية التطوير و التنمية.
- ٨- (×) نشطت مهنة الغوص على اللؤلؤ بعد اكتشاف النفط.
- ٩- (×) تتم المواصلات البحرية بواسطة الطائرات.
- ١٠- (√) وضعت حكومة البحرين خطة لتطوير الصناعة من أجل زيادة الإنتاج الصناعي.



السؤال الرابع: أجب عن الأسئلة التالية:

١- اذكر ثلاثاً من المعالم السياحية الأثرية الموجودة في البحرين؟

يكتفى بثلاث نقاط (٣ درجات)

أ- قلعة عراد ب- قلعة الرفاع ج- مدافن (مقابر) عالي وسار

د- مسجد الخميس و- بيت الشيخ عيسى بن علي آل خليفة ه- معابد باربار ي- قلعة البحرين

٢- عدد أهم الصناعات الحديثة في مملكة البحرين.

يكتفى بثلاث نقاط (٣ درجات)

أ- الصناعة الغذائية (كتعليب بالتمور- طحن الحبوب- منتوجات الالبان- الحلويات والمرطبات)

ب- الصناعة الكيماوية (كصناعة الأصباغ - الأدوات البلاستيكية - الورق)

ج- صناعة مواد البناء د- الأثاث والتجهيزات المكتبية.

٣- ما دورك كمواطن في المحافظة على الثروة المائية؟

(٣ درجات)

عدم الهدر في أثناء استعمال المياه (تقبل أي إجابة منطقية)

٤- عدد ثلاثاً من وسائل الاتصالات.

(٣ درجات)

أ- الهاتف ب- البريد ج- التلكس د- الفاكس ه- الإنترنت و- الأقمار الصناعية ي- الإذاعة (الراديو)

ك- التلفاز م- الجرائد (الصحافة) والمجلات

٥- لماذا أصبحت البحرين مركزاً مالياً مهماً؟

(٣ درجات)

لأنه يوجد فيها عدد كبير من المصارف التي تقدم خدماتها للمواطن في البحرين ولمنطقة الخليج العربي بكاملها.

٦- اذكر أبرز الجهود التي بذلتها حكومة البحرين لرعاية مهنة صيد الأسماك.

يكتفى بنقطتين (درجتان)

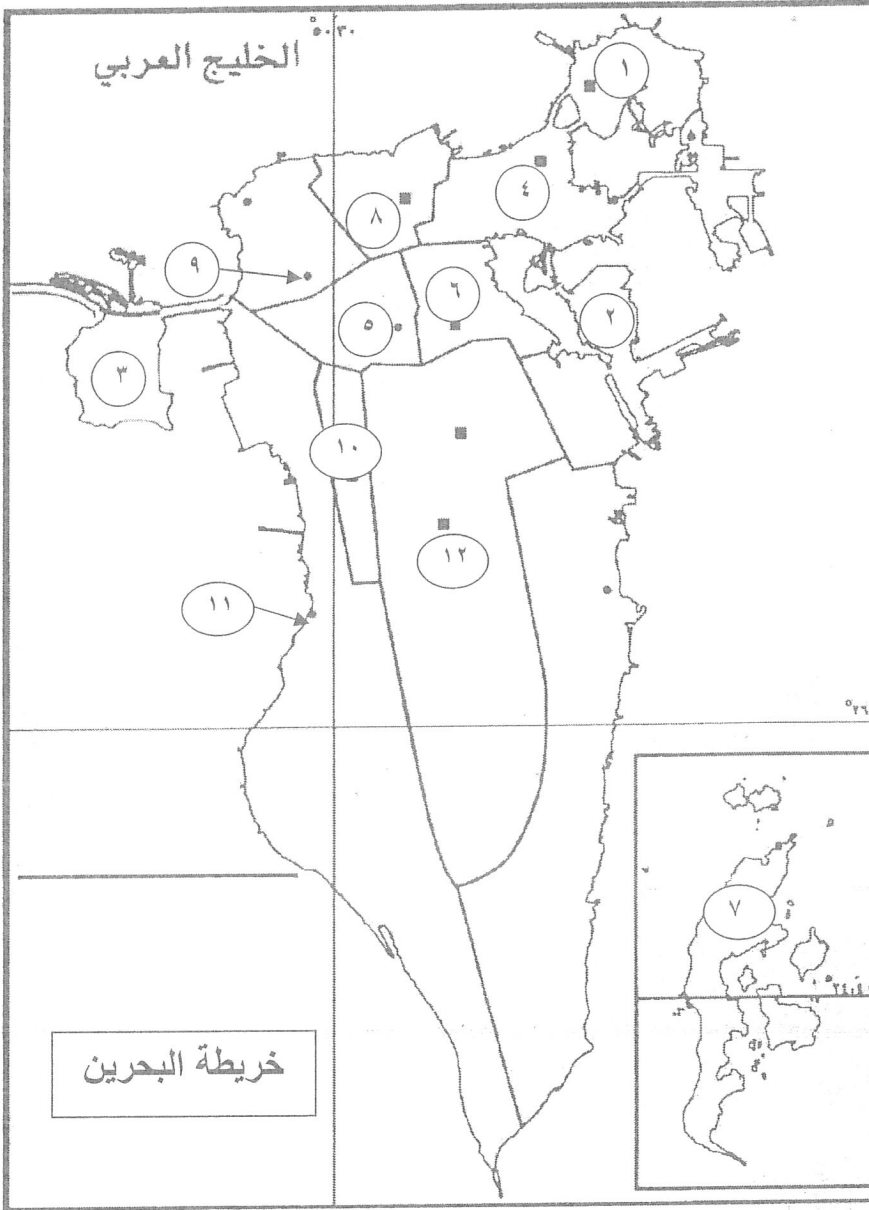
أطورت ميناء المحرق لصيد الأسماك

ب- شجعت الصيادين على استخدام مراكب الصيد الحديثة والشباك والصيد بالخطور الثابتة

ج- إعطاء القروض للصيادين.

السؤال الخامس: مستعينا بالأرقام التي على الخريطة ، أجب عن الأسئلة التي تليها:

٢٠



اكتب أمام كل رقم من الأرقام التالية اسم المنطقة التي يمثلها:

- (١) المحرق (٢) سترة (٣) جزيرة أم النعسان (٤) المنامة
(٥) عالي (٦) مدينة عيسى (٧) جزر حوار (٨) جدحفص
(٩) سار (١٠) مدينة حمد (١١) الزبلاق (١٢) عوالي

انتهت الأسئلة - مع تمنياتنا لكم بالتوفيق والنجاح