

تم تحميل هذا الملف من موقع المناهج البحرينية



\* للحصول على أوراق عمل لجميع الصفوف وجميع المواد اضغط هنا

<https://almanahj.com/bh>

\* للحصول على أوراق عمل لجميع مواد الصف الرابع اضغط هنا

<https://almanahj.com/bh/4>

\* للحصول على جميع أوراق الصف الرابع في مادة رياضيات ولجميع الفصول, اضغط هنا

<https://almanahj.com/bh/4math>

\* للحصول على أوراق عمل لجميع مواد الصف الرابع في مادة رياضيات الخاصة بـ الفصل الثاني اضغط هنا

<https://almanahj.com/bh/4math2>

\* لتحميل كتب جميع المواد في جميع الفصول للـ الصف الرابع اضغط هنا

<https://almanahj.com/bh/grade4>

[almanahjbhbot/me.t//:https](https://t.me/almanahjbhbot)

للتحدث إلى بوت على تلغرام: اضغط هنا



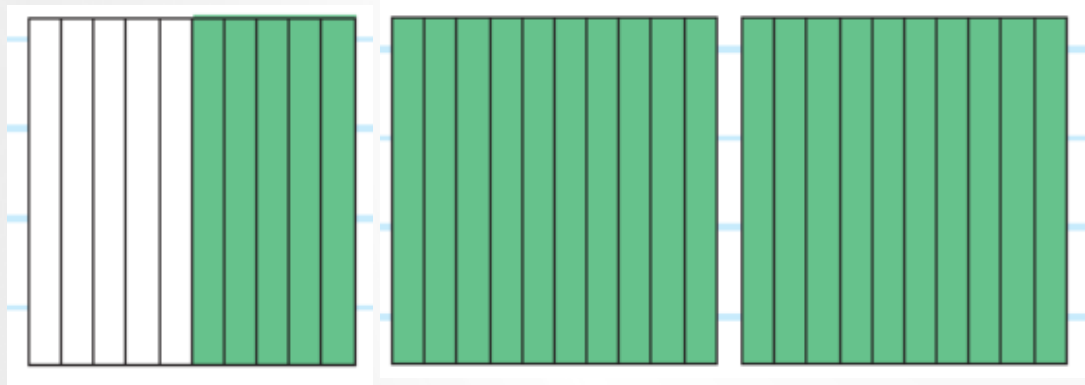
# رياضيات الصف الرابع – الجزء الثاني

(12 – 2): الأعداد الكسرية والكسور العشرية

# لتحويل العدد الكسري إلى كسر عشري

يمكن استعمال نموذج أو جدول منازل

الطريقة الأولى: استعمال نموذج



العدد الكسري  $2\frac{5}{10}$

يقرأ: اثنين وخمسة أعشار.

ويكتب: ٢,٥

مثال  $2\frac{5}{10}$

# لتحويل العدد الكسري إلى كسر عشري

يمكن استعمال نموذج أو جدول منازل

الطريقة الثانية: جدول المنازل

المئات	العشرات	الأحاد	الأعشار
			5

مثال  $2\frac{5}{10}$

العدد الكسري  $2\frac{5}{10}$   
يقرأ: اثنين وخمسة أعشار.  
ويكتب: 2,5

# تدريب (1)

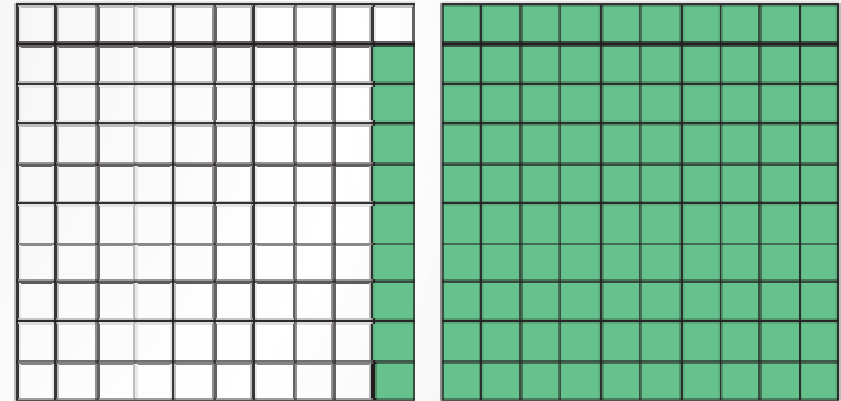
طول أحد الزواحف  $1\frac{9}{100}$  سم  
أكتب هذا العدد على صورة كسر عشري

الطريقة الثانية: جدول المنازل

المئات	العشرات	الأحاد	الأعشار	الأجزاء من مئة
		١	٠	٩

ويكتب: ١,٠٩

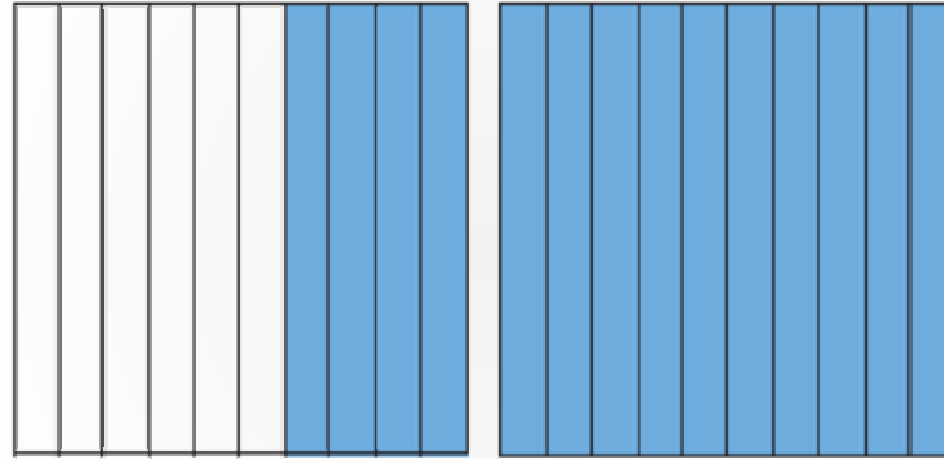
الطريقة الأولى: استعمال نموذج



ويكتب: ١,٠٩  
يقرأ: واحداً وتسعة من مئة

## تدريب (2)

عبر عن النموذج أدناه على صورة عدد كسري وكسر عشري

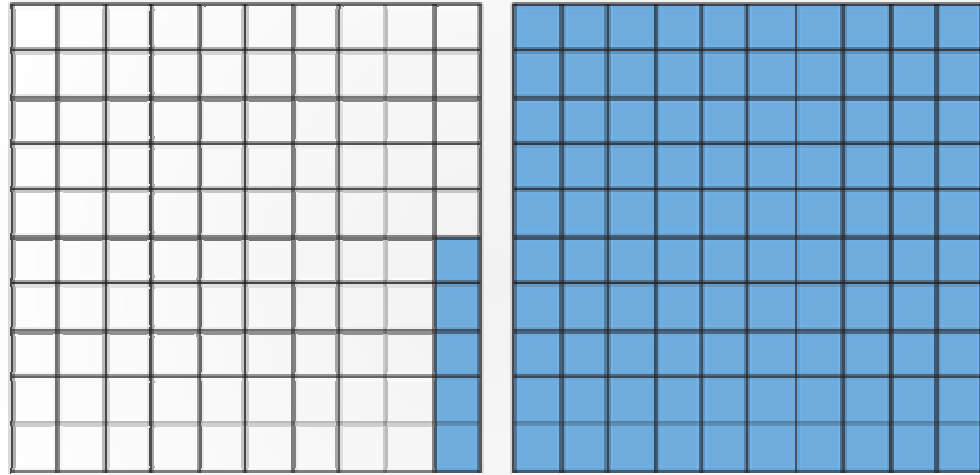


الكسر العشري هو 1.4

العدد الكسري هو  $1 \frac{4}{10}$

## تدريب (3)

عبر عن النموذج أدناه على صورة عدد كسري وكسر عشري



الكسر العشري هو **1.05**

العدد الكسري هو  **$1\frac{5}{100}$**

## تدريب (4)

طول كتاب 28.7 سم، اكتب طول الكتاب على صورة عدد كسري

العدد الكسري هو  $28 \frac{7}{10}$