

تم تحميل هذا الملف من موقع المناهج البحرينية



*للحصول على أوراق عمل لجميع الصفوف وجميع المواد اضغط هنا

<https://almanahj.com/bh>

* للحصول على أوراق عمل لجميع مواد الصف الرابع اضغط هنا

<https://almanahj.com/bh/4>

* للحصول على جميع أوراق الصف الرابع في مادة لغة عربية ولجميع الفصول, اضغط هنا

<https://almanahj.com/bh/4>

* للحصول على أوراق عمل لجميع مواد الصف الرابع في مادة لغة عربية الخاصة بـ اضغط هنا <https://almanahj.com/bh/4>

* لتحميل كتب جميع المواد في جميع الفصول للـ الصف الرابع اضغط هنا

<https://almanahj.com/bh/grade4>

[almanahjbhbot/me.t//:https](https://t.me/almanahjbhbot)

للتحدث إلى بوت على تلغرام: اضغط هنا

4

مملكة البحرين
وزارة التربية والتعليم



مدرسة كرزكان الابتدائية للبنين


مذكرة المراجعة الشاملة للسف الرابع الابتدائي

الفصل الثاني


2017/2016

الاسم

الصف



اللغة العربية



* اقرأ الفقرة التالية وأجب عن الأسئلة التي تليها:

الرحمة صفة جميلة تدل على رقة القلب، وشدة العطف، ولها جزاء عظيم عند الله وثواب كبير، و بها يسعد المجتمع وتقوى الروابط، وينتشر الأمن والسلام. والرحمة من صفات الله تعالى فهو " الرحمن الرحيم " وقد قال تعالى : " ورحمتي وسعت كل شيء " والنبي الكريم قدوة لنا في الرحمة ، ولذلك قال عنه الله تعالى: " بالمؤمنين رءوف رحيم " فيجب أن تسود الرحمة ، في مجتمعنا بين أفراد الأسرة والأقارب والجيران وبين الناس جميعا .

١- ضع عنوانا مناسباً للفقرة السابقة .

٢- أكمل ما يأتي :

- أ- الرحمة صفة جميلة تدل على..... القلب وبها يسعد
- ب- الرحمة من صفات الله تعالى فهو و.....

٣- بم تنصح زميلا لك رأيتك يعذب حيوانا ؟

٤- ضع علامة (✓) أمام العبارة الصحيحة وعلامة (x) أمام العبارة غير الصحيحة فيما يأتي :

- أ- الرحمة صفة من صفات الله . ()
- ب- تؤدي الرحمة إلى تفكك المجتمع . ()
- ج- الرحمة عامة للإنسان والحيوان والنبات والبيئة. ()

٥- ضع خطا تحت الإجابة الصحيحة مما بين القوسين فيما يأتي:

- أ. ضد الرحمة . (الحب – القسوة – العدل – الكرم)
- ب. مرادف "تسود " (تضعف – تنتشر – تنتهي – تبدأ)
- ت. مفرد " الروابط " (الرابط – الربط – الترابط – الرابطة)

٦- وظف كلمة (السلام) في جملة تامة من إنشائك .

٧- صل بين الجملة من المجموعة (أ) والكلمة الصحيحة لها من المجموعة (ب)

(أ)	(ب)
(١) النبي	ينتشر في المجتمع المتراحم
(٢) الأمن	تطهر أموال المسلمين
(٣) الرحمة	"بالمؤمنين رءوف رحيم" لها جزاء عظيم عند الله

3

* اقرأ الفقرة التالية وأجب عن الأسئلة التي تليها:

(النجاح كلمة عذبة الحروف ، مقربة إلى النفوس ، تحمل حلما يتمنى الناس جميعا أن يحققوه ، يصل إليه من يضع أمامه هدفا عظيما يعمل جاهدا من أجل الوصول إليه ، فالنجاح ليس مالا يجمع ولا شهرة ولا جاها ، إنما هو خير للبشرية يقدمه الناجح فيخلد اسمه مع الخالدين ويرتقي بأمتة ووطنه)

١. ضع عنوانا للفقرة السابقة

٢. أكمل الفراغ :

- كلمة عذبة الحروف .
- النجاح ليس يجمع ، ولا إنما هو للبشرية .

٣. وضح رأيك بالشخص الناجح

.....

٤. ضع خطأ تحت الإجابة الصحيحة :

- * ضد كلمة النجاح (الضعف - القوة - الفشل - الكسل)
- * مفرد كلمة الخالدين (الخلود - الخلداء - الخالدات - الخالد)
- * جمع كلمة هدف (أهداف - هدوف - هدفان - أهداف)

٥. ضع علامة (✓) أو (x) أمام الجمل التالية:

- * النجاح مهم في الحياة ()
- * الناجح لا يرتقي بأمتة ()
- * الناجح لا يضع هدف يسعى لتحقيقه ()
- * النجاح أهم من المال ()

ثانياً : الإملاء:

١. صوب الخطأ في كل كلمة مما يأتي وأكتبها في الفراغ صحيحة :-

هاؤلاء - ألتك - اللذي - الإهي

..... - -

4

٢. صوب الخطأ في كل كلمة مما يأتي وأكتبها في الفراغ صحيحة :-

الطوا - المدرست - سما - عنائ

..... - -

٣. اختر الكلمة الصواب إملائياً مما بين القوسين :

أ. نظم الشاعر ----- (قصيدتاً - قصيدةً - قصيدة)

ب. حقق المجتهد ووصل إلى ----- (العلى - العلا - العلى)

ت. ----- المؤمن بكتاب الله . (اهتدا - اهتدى -)

(اهتدي)

ث. ----- المسلمون الروم وانتصروا عليهم. (غزا - غزى - غزي)

٤. أكمل كل كلمة مما يلي بتاء مفتوحة أو تاء مربوطة :-


الطيبا.....، الزهر.....، المعلم.....، البي.....

ثالثاً: التعبير الكتابي:

١ - أعدت المدرسة مكاناً خاصاً للصلاة وطلب منك معلم التربية الإسلامية كتابة عبارات تنصح بها المصلين كي توضع أمام هذا المصلى....

5

- ١-
- ٢-
- ٣-
- ٤-
- ٥-



٢ - في إحدى الإجازات خرجت الأسرة للتنزه في إحدى الحدائق... مستعينا بالبيانات التالية، اكتب مفكرة محددة الزمن لهذه الرحلة:

- خروج الأسرة للحديقة.
- تهيئة المكان وإعداد برنامج الرحلة.
- ممارسة بعض الألعاب والهوايات.
- تعاون الجميع في المحافظة على نظافة المكان.
- المغادرة.

الحدث	الزمن	الرقم
		١
		٢
		٣
		٤
		٥

س: دار حوار بين أب وابنه، أكمل هذا الحوار:

الابن: أين سنقضي عطلة نهاية هذا الأسبوع يا أبي؟

الأب: سنذهب إلى البحر، مارأيك؟

الابن: أنها فكرة فالبحر

الأب: نعم يا بني، وسنصطحب معنا

الابن: ماذا سنأخذ معنا في الرحلة؟

الأب:

الابن: سنقضي وقتنا ممتعا إن شاء الله

رابعاً: النصوص الشعرية:

ثانياً: النصوص الشعرية: من قصيدة " الزهرة والمطر "

6

١ - الزهرة: ظمئت فمن يرويني وينقذني ويحييني

٢ - لعل الله يبعث لي سحاباً منه يسقيني

٣ - المطر: أتيت إليك في عجل فهاها واشربي مني

٤ - إليك الماء موفوراً بلا ثمن ولا من

٥ - الزهرة: تمهل أيها المطر فقد بللت

٦ - أترويني بمائك أيها الساقى؟

٧ - المطر: العيش هائلة وهذا أعجب

٨ - نعمة تأتي بلا ولا تعب

١. أكمل الأبيات الناقصة في القصيدة .

٢ - اختر معنى كلمة موفوراً (قليلاً - كثيراً - متوسطاً).

٣ - اذكر مرادف كلمة (ظمئت)

و ضد كلمة ترويني

٤ - ماذا تمنى الزهرة عندما ظمئت؟

٥ - ماذا عرض المطر عليها عندما أتاها؟

٦ - لماذا غضبت الزهرة؟

٧ - مم تعجب المطر؟

٨ - ما الحكمة التي نستفيدها من هذا النص؟

٩ - ما الأبيات التي أعجبتك في النص؟ ولماذا؟

١٠ - وضح الصور الجمالية في النص.

خامساً: القواعد النحوية:

7

١- ثن الجملة التالية وغير ما يلزم .
هذه هي البنت التي ترحم الحيوان .

- المثني :
٢- اطلب من صديقك أن (يرحم الضعفاء) مستخدماً فعل الأمر.

٣. ضع مكان النقط مشاراً إليه مناسب فيما يأتي :-

١- هذا.....متفوق .

٢- هؤلاءبرعوا في علم الفلك.

٣- هاتان.....رحيمتان.

٤- هذه.....مفيدة.

٤. صل كل ضمير من المجموعة (أ) ما يناسبه من المجموعة (ب):

(أ)	(ب)
هم	يعطف على والديه
هما	يحترم حقوق الجار
هن	رجال يرحمون المساكين
	يساعدان كبار السن

٤- املأ كل فراغ بالمطلوب ما بين القوسين :

*الزهرة..... (خبر)

*..... المؤمنون الحيوان . (فعل)

* يا اجتهد في دروسك. (منادى)

*..... لها ثواب كبير عند الله . (مبتدأ)

* تعطف الأم على ابنها . (صفة)

* أخذت جولة في الواسع. (موصوف)

٥- املأ كل فراغ مما يلي بالاسم الموصول المناسب مما يأتي :

(الذي - التي - اللتان - اللاتي)

أ- الفتاتان تحافظان على النظافة محبوبتان .

ب- المزارع يعتني بالشجرة مجتهد .

ج - الأمهات يعلمن أولادهن مخلصات .

٦- ضع اسم إشارة مناسباً في كل فراغ مما يأتي :

أ- أغنام سمينة. ب- بائعون ماهرون. ج-.....
شجرتان عاليتان .

٧. صل كل اسم موصول في المجموعة (أ) بما يناسبه في المجموعة (ب) فيما يأتي:-

(أ)	(ب)
التي	يذاكران دروسهما ينجحان
الذي	يدافعون عن وطنهم أحرار
اللتان	يؤدى الصلاة يدخل الجنة
اللتان	تداوى المرضى رحيمة
الذين	فازتا في المسابقة تستحقان الجائزة

٧- اجعل الجملة التالية جملة فعلية وغير ما يلزم :
" الله يكافئ الراحمين بالجنة "

٨- ضع سؤال مناسباً للجملة التالية :
- الجنة هي جزاء الراحمين .

٩. املأ الفراغات بما هو مطلوب من بين القوسين: (الذين - كم - أنت - نحن - هم)
أ. نتصدق طاعة لله . ب. عمرك ؟
ج. فتاة شيطنة . د. صاموا رمضان المسلمون.

١٠- حول الجملتين التاليتين إلى جملتين منفيتين:

• يفوز محمد بالجائزة،

• يذاكر الطالب دروسه.

١١. ضع أداة الاستفهام المناسبة مكان النقط فيما يأتي :-

١- واجبك نحو وطنك ؟ ٢- ستسافر اليوم ؟

٣- تذهب إلى المدرسة ؟ ٤- تقتدي بالنبي (ص) .

٥- حالك اليوم ؟ ٦- يرافقك في رحلتك ؟

١٢- ضع خطأً تحت الظرف وبين نوعه :-


أ. بدأ السير صباحاً .

ب. وقف السائق يمين الطريق .

ت. يقف المعلم أمام التلاميذ .

ث- عدنا من البر عصراً -

الرياضيات



الاسم :

الصف :

مذكرة لمراجعة التقويم التجميعي لنهاية الفصل الدراسي الثاني

للعام الدراسي ٢٠١٤ / ٢٠١٥ م

الرقم	الكفاية
١	أن يميز بين وحدات القياس المترية
٢	وأن يجري بعض العمليات الأساسية على الأعداد الطبيعية والعشرية
٣	أن يميز بين التحويلات الهندسية
٤	أن يميز بين أنواع الزوايا
٥	أن يميز بين أنواع المثلثات من حيث الزوايا وأطوال اضلاعها
٦	أن يحدد نوع العلاقة بين المستقيمات
٧	أن يميز بين الأشكال ثنائية الأبعاد والأشكال ثلاثية الأبعاد، أن يحدد ويرسم النقاط في المستوى الاحداثي
٨	أن يحدد نقاطا على المستوى الاحداثي
٩	أن يقارن بين الكسور والأعداد العشرية و يرتب الكسور والأعداد العشرية
١٠	أن يكتب بصورة كسر عشري
١١	أن يكتب الكسور العشرية بالصورة الاعتيادية
١٢	أن يوجد كسرا مافقاً ، و يحول الاعداد الكسرية لكسر غير فعلي و العكس
١٣	أن يحل مسائل حياتية ،

تعليمات هامة :

- ٤ . احرص على أن تكون إجابتك واضحة ومرتبطة .
- ٥ . تأكد من الإجابة عن جميع أسئلة التقويم .
- ٦ . هذه المذكرة لا تغني عن المراجعة في الكتاب .

- ١ ، احرص على قراءة السؤال جيداً قبل البدء بالإجابة عليه
- ٢ ، ورقة المراجعة تتكون من (٧) صفحات
- ٣ ، الإجابة على نفس ورقة الأسئلة

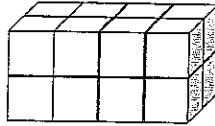
المعلم الأول أه أحمد رضي

إعداد : أه محمد جعفر الدرازي

السؤال الأول : ضع علامة (✓) أمام العبارة الصحيحة و علامة (×) أمام العبارة الخاطئة فيما يلي، مع تصحيح العبارة الخاطئة :

(١) () من وحدات الحجم الجرام و الكيلو جرام .

(٢) () يبدأ عمل ناصر الساعة ٠٠ : ٧ صباحا و بعد ٣٠ دقيقة سيصبح الزمن في الساعة ٣٠ : ٩ صباحا .



(٣) () حجم الشكل المجاور يساوي ١٢ وحدة مكعبة

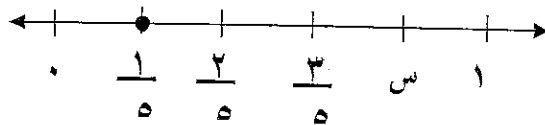
(٤) () سعة زجاجة المشروبات الغازية الصغيرة تقدر بالمليتر و سعة قينة دهن الطبخ بالتر .

(٥) () تقريب ٨,٣٣ يساوي تقريبا ٨ مقربا لا قرب عدد طبيعي .

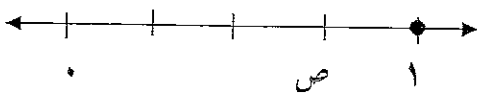
(٦) () طول القطعة المستقيمة المجاورة لا قرب سنتمتر هو ٤ سم
ملاحظة: (استخدم المسطرة في القياس)

(٧) () طول الدفتر يقدر بوحدة المتر .

(٨) () الكسر الذي تمثله النقطة س على خط الأعداد هو $\frac{4}{5}$



(٩) () العدد الكسري الذي تمثله النقطة ص على خط الأعداد هو $\frac{2}{4}$



السؤال الثاني: أوجد ناتج ما يلي:

(٩ درجة)

$$\begin{array}{r} 4 \overline{) 684} \\ \underline{4} \\ 28 \\ \underline{28} \\ 4 \\ \underline{4} \\ 0 \end{array}$$

التحقق بالضرب
أو التقدير

$$= 2 \div 800$$

12

قدر ثم أوجد الناتج

$$\begin{array}{r} 8.4 \\ + 3.27 \\ \hline \end{array}$$

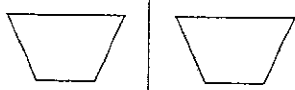
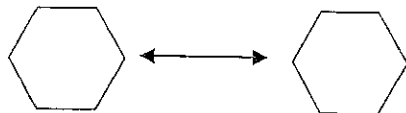
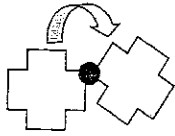
التقدير

$$9.88$$

$$5.35 -$$


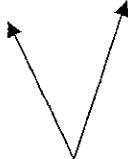
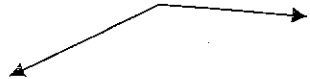
(٣ درجات)

السؤال الثالث: ضع دائرة حول نوع التحويل إذا كان دوران أو انعكاس أو انسحاب

		
دوران ، انعكاس ، انسحاب	دوران ، انعكاس ، انسحاب	دوران ، انعكاس ، انسحاب

(٣ درجات)

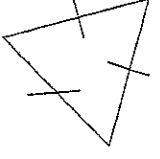
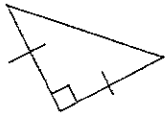


السؤال الرابع: ضع دائرة حول نوع الزاوية إذا كان زاوية حادة أو زاوية منفرجة أو زاوية قائمة

		
حادة ، منفرجة ، قائمة	حادة ، منفرجة ، قائمة	حادة ، منفرجة ، قائمة

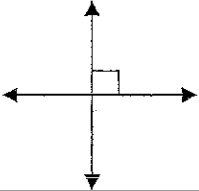
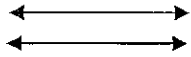
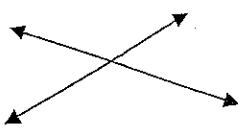
السؤال الخامس: ضع دائرة حول نوع المثلث بالنسبة لأطوال أضلاعه و زواياه

50

13

	
متطابق الأضلاع ، متطابق الضلعين ، مختلف الأضلاع	متطابق الأضلاع ، متطابق الضلعين ، مختلف الأضلاع
قائم الزاوية ، منفرج الزاوية ، حاد الزوايا	قائم الزاوية ، منفرج الزاوية ، حاد الزوايا
	
متطابق الأضلاع ، متطابق الضلعين ، مختلف الأضلاع	متطابق الأضلاع ، متطابق الضلعين ، مختلف الأضلاع
قائم الزاوية ، منفرج الزاوية ، حاد الزوايا	قائم الزاوية ، منفرج الزاوية ، حاد الزوايا

السؤال السادس: حدد نوع العلاقة بين المستقيمات إذا كانت تعامد أو توازي أو تقاطع

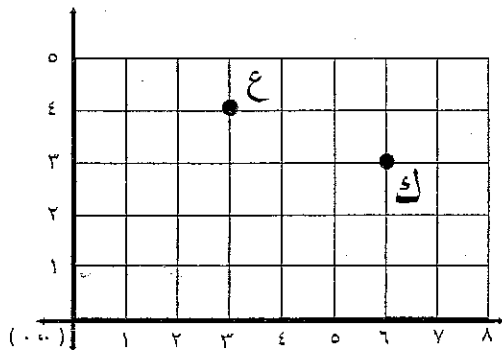
		
.....

السؤال السابع :

أ) حدد الزوج المرتب الذي يمثل موقع النقاط التالية :




ع (..... ،)

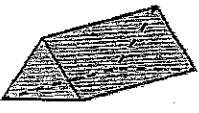
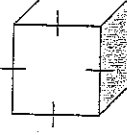

ك (..... ،)

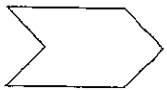

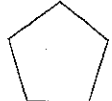




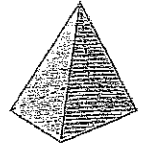
ب) ارسم على الشكل المجاور نقطة ت عند الاحداثي (٣ ، ٢)

السؤال الثامن: ضع دائرة حول اسم الشكل الهندسي في الاشكال التالية :

		
شعاع ، مستقيم ، قطعة مستقيمة	شعاع ، مستقيم ، قطعة مستقيمة	شعاع ، مستقيم ، قطعة مستقيمة

		
هرم ثلاثي ، هرم رباعي ، منشور ثلاثي	منشور رباعي ، مكعب ، مربع	منشور رباعي ، مكعب ، مربع

		
ثماني ، سداسي ،	دائرة ، كرة ، مكعب	ثماني ، سداسي ،

		
ثماني ، سداسي ،	مثلث ، مخروط ، اسطوانة	هرم ثلاثي ، هرم رباعي ، منشور ثلاثي

السؤال التاسع: أ) ضع الرمز < أو > أو = داخل لتحصل على عبارة صحيحة مما يلي

$$\sqrt{\frac{3}{4}} \quad \square \quad \sqrt{\frac{2}{6}}$$

$$0 \quad \frac{3}{7} \quad \square \quad \frac{1}{2}$$

$$\frac{3}{6} \quad \square \quad \frac{5}{6}$$

$$0,3 \quad \square \quad 0,13$$

$$74,1 \quad \square \quad 74,07$$

$$3,50 \quad \square \quad 3,5$$

15

ب) رتب ما يلي من الأصغر إلى الأكبر :

$$0,16 \quad , \quad 0,45 \quad , \quad 0,25 \quad , \quad 0,54$$

$$\frac{4}{9} \quad , \quad \frac{1}{9} \quad , \quad \frac{5}{9}$$

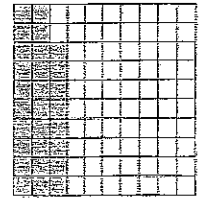
السؤال العاشر: أ- اكتب ما يلي بصورة كسر عشري :

$$\square = \frac{43}{100}$$

$$\square = \frac{2}{10}$$

$$\square = 8 \frac{72}{100}$$

$$\square = 7 \frac{3}{10}$$



السؤال الحادي عشر: - اكتب ما يلي بصورة كسر عشري

$$\frac{\square}{\square} = 7,26$$

$$\frac{\square}{\square} = 2,7$$

$$\frac{\square}{\square} = 0,3$$

السؤال الثاني عشر: أجب عما يلي :

$$\frac{\square}{\square} = \frac{2}{3} \text{ الكسر المكافئ للكسر } \frac{2}{3}$$

46

ب) اكتب العدد الكسري $\frac{1}{2}$ في صورة كسر غير فعلي .

$$\boxed{\frac{\quad}{\quad}} = 3 \frac{1}{2}$$

ت) اكتب الكسر الغير فعلي $\frac{17}{5}$ في صورة عدد كسري

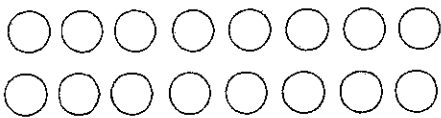
$$\boxed{\frac{\quad}{\quad}} = \frac{17}{5}$$

السؤال الثالث عشر : حل المسائل التالية :

١) سأل والد ابنه فقال : كان عندي ٢٠ دينار ، اشتريت فواكه بنصف المبلغ ، و اشتريت لحمًا بمبلغ ٥ دينار ، فكم دينارًا تبقى عندي ؟

الحل :

٢) لدى وائل ١٦ دينار ، أعطى نصف هذا المبلغ لاخته مريم و الباقي أودعه بالبنك؟



فكم دينار أودعه بالبنك؟

الحل :

السؤال الرابع عشر:

17

* قرب لأقرب عدد صحيح :

..... ٦,٥٦

* قرب لأقرب عُشر :

..... ٣,٢٧

* قدر ناتج الجمع والطرح

١٦,٢١

٤,٨

٥,٨٣ -

٥,٣ +

السؤال الخامس عشر

١٩,٦٥

٢,٧

١٣,٤٢ -

٤,١ +

= ٢,١ - ٨,٣٥

انتهت الاسئلة مع تمنياتنا لكم بالتوفيق و النجاح

التقويم الشفوي (الذهني) في مادة الرياضيات للصف الرابع الابتدائي
الفصل الدراسي الثاني من العام ٢٠١٥ - ٢٠١٦ م
(ورقة الطالب)

18

الدرجة	السؤال	رقم السؤال
الوقت المستغرق للإجابة ٥ ثواني		
		١
		٢
		٣
الوقت المستغرق للإجابة ١٠ ثواني		
	١٣ ١١ ٧ ٨	٤
	٨,٣ ٦,٣ ٣,٧ ٢,٧	٥
		٦
الوقت المستغرق للإجابة ١٥ ثانية		
		٧
		٨
		٩
	٥٦ ٥٤ ١٦ ٤٢	١٠

مملكة البحرين
وزارة التربية والتعليم
إدارة الامتحانات / قسم الامتحانات

امتحان نهاية الفصل الثاني للتعليم الابتدائي للصف الرابع الابتدائي

للعام الدراسي ٢٠١٥/٢٠١٦م

19

الزمن: ساعة ونصف

المادة: الرياضيات/التحريري



حوط الإجابة الصحيحة في كل مما يأتي :

• التقدير المناسب لطول حجرة هو :


٥ مليمترات ٥ سنتمرا ٥ أمتار ٥ كيلومتر

• التقدير المناسب لسعة علبة حليب هو :


١ مل ١ ل ١٠٠ ل ١٠٠٠ ل

• التقدير المناسب لكتلة طالب في صف الرابع هو :

٢٥ جم ٢٥٠ جم ٣٤ جم ٣٤ كجم



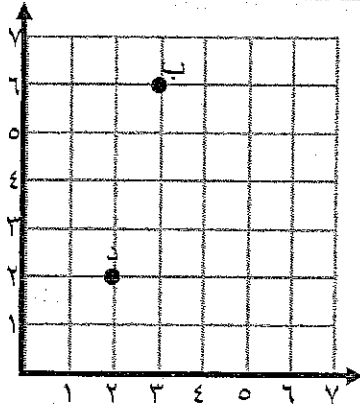
أوجد حجم كل مجسم مما يأتي :



٣

٢

20



حدد الزوج المرتب الذي يمثل كل نقطة مما يأتي

ب • _____

د • _____

٤

٣

أكمل كل مما يأتي :



الكسر الاعتيادي الذي يعبر عن الجزء المظلل في الشكل

المجاور هو _____

الكسر العشري الذي يعبر عن الجزء المظلل في الشكل

المجاور هو _____

الكسر $\frac{2}{3}$ على صورة كسر غير فعلي هو _____

٥

١

حوظ الإجابة الصحيحة :

ناتج $3200 \div 8$ يساوي :

٤٠٠٠٠

٤٠٠٠


٤٠٠

٤٠




من الشكل المجاور أوجد كل مما يأتي :

21

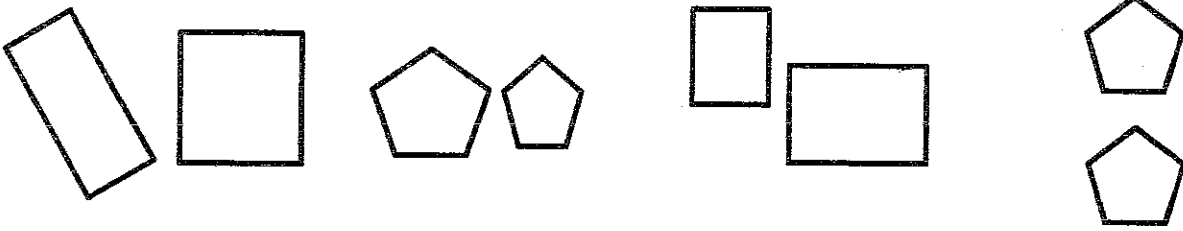


- محيط الشكل المظلل يساوي _____
- مساحة الشكل المظلل يساوي _____

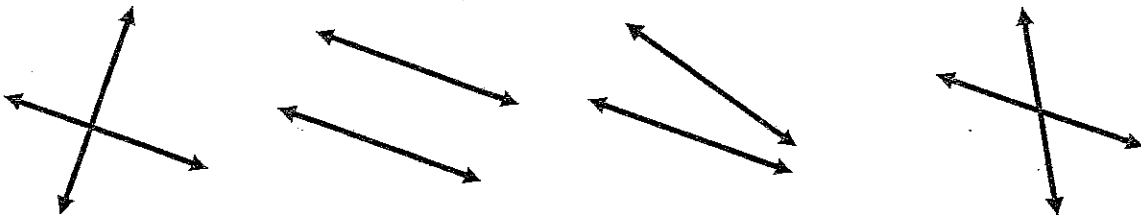


حوط الإجابة الصحيحة في كل مما يأتي :

- الشكلان المتطابقان هما :



- المستقيمان المتوازيان هما :



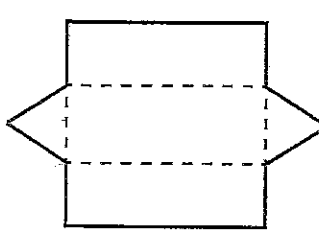
2

8

22

من المخطط المرسوم أمامك أجب عن ما يلي :

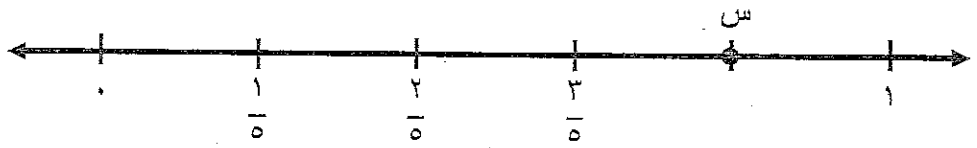
• الشكل الثلاثي الأبعاد الذي يمثله المخطط هو = _____
 • عدد الأحرف = _____
 • عدد الأوجه = _____
 • عدد الرؤوس = _____



1

9

ما الكسر الذي تمثله النقطة س على خط الأعداد الآتي:

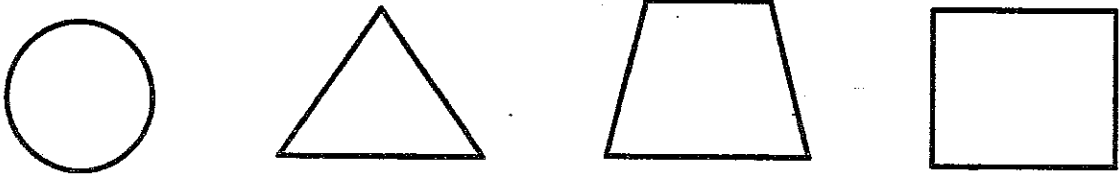


1

10

حوظ الإجابة الصحيحة:

• الشكل الذي يمثل شبه منحرف هو:



23

صل بين الشكل في العمود (أ) وما يناسبه من العمود (ب)

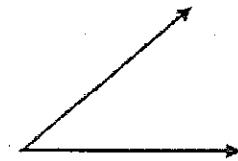
(ب)

(أ)


• زاوية حادة



• شعاع



• قطعة مستقيمة



• زاوية قائمة

حوط الإجابة الصحيحة :

الكسر المكافئ للكسر $\frac{3}{4}$ هو :

$\frac{9}{8}$

$\frac{6}{8}$

$\frac{2}{4}$

$\frac{1}{4}$

٢

١٣

24

يستغرق خالد ساعة و ٤٥ دقيقة للوصول إلى المملكة العربية السعودية إذا غادر الساعة ١:٠٠ بعد الظهر ، ففي أي ساعة سيصل إلى المملكة العربية السعودية ؟

٣

١٤

أوجد ناتج كل مما يأتي :

 _____ = ١١,٣ + ٣,٤٥ •

 _____ = ٩,٨ - ٢٥,٣ •

٢

١٥

ضع إحدى الإشارات (> ، < ، =) في لتحصل على جملة رياضية صحيحة في كل مما يأتي:

٣,٦٨

٣٦,٨

١,٨

١,٢٣

١

١٦


25

قدر ناتج : $7 \div 423$

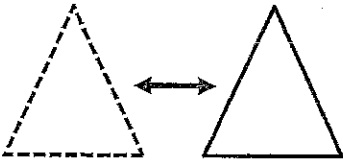
٢

١٧

أكمل كل مما يأتي :



• عدد محاور التماثل للشكل المجاور يساوي _____



• التحويل الهندسي الذي يمثله الشكل المجاور هو _____

٢

١٨

أكلت مريم $\frac{1}{3}$ التفاح الموجود في السلة و أكلت فاطمة $\frac{2}{9}$ التفاح . أيهما أكلت أكثر ؟ (فسر اجابتك)

٢	١٩
---	----

26

أوجد ناتج: $426 \div 4$ موضعا خطوات الحل .


٣	٢٠
---	----

لدى ريم ٢٠ دينار اشترت بمبلغ ١٥,٦ دينار . فما المبلغ التقريبي الذي تبقى لديها ؟

(انتهت الأسئلة)

27

العلوم



الإسم العلمي	العبارة	الإسم العلمي
المركب	عملية يمكن من خلالها فصل المواد عن بعضها البعض وفقا لأحجامها.	
الحمض	مادة تتكون من اتحاد عنصرين أو أكثر معا، ويفقد كل منهم خواصه الأصلية.	
الترشيح	مادة تحول لون ورق تباع الشمس من الأزرق إلى الأحمر.	
المحلول	مادة تحول لون ورق تباع الشمس من الأحمر إلى الأزرق.	
الذرة	مخلوط مكون من مادتين أو أكثر تمتزجان معا امتزاجا تاما.	
القاعدة	الجزء الذي يتكون من نوع واحد فقط من المادة.	
المركب	أصغر جزء من العنصر.	
العنصر	معدن له بريق، قابل للتشكيل بالطرق أو السحب.	
القوة	مادة تتكون من اتحاد عنصرين أو أكثر اتحادا كيميائيا.	
الفلز	المسافة التي يقطعها الجسم في وحدة الزمن.	
الشغل	مؤثر يعمل على تحريك الأجسام الساكنة أو تغيير اتجاه حركتها أو إيقاف الأجسام المتحركة.	
الطاقة	قوة الجذب أو السحب بين الأجسام دون ملامسة.	
السرعة	الطاقة التي تبذلها القوى في تحريك الأجسام مسافة محددة.	
الجاذبية	المقدرة على بذل شغل لتحريك جسم أو تغيير مادة.	
الاحتكاك	الطاقة المخترنة في جسم معين نتيجة لوجوده في وضع معين.	
طاقة الوضع	زيادة أو نقصان في مقدار سرعة الجسم أو تغيير اتجاهه بالنسبة للزمن.	
القوى المتوازنة	القوة التي تقاوم الحركة بين سطحين بسبب التماسهما.	
التسارع	مجموعة قوى تؤثر في جسم واحد، ويلغي بعضها تأثير بعض.	
الحمل الحراري	الطاقة التي يمتلكها الجسم نتيجة حركته.	
طاقة الحركة	طريقة لانتقال الحرارة خلال الأجسام الصلبة.	
الإشعاع الحراري	طريقة لانتقال الحرارة خلال السوائل والغازات.	
التوصيل الحراري	طريقة لانتقال الحرارة خلال الفراغ.	
الأجسام المعتمة	انحراف الضوء عن مساره عندما ينتقل بين وسطين شفافين مختلفين.	
الطيف الضوئي المرئي	ارتداد الضوء عن السطوح المصقولة.	
انكسار الضوء	جزء من موجات الضوء المتباينة التي يمكن مشاهدتها بعد تحليلها	
انعكاس الضوء	الأجسام التي لا تسمح للضوء بالمرور من خلالها.	
الأجسام شبه الشفافة	الأجسام التي تسمح للضوء بالمرور من خلالها	
الأجسام الشفافة	الأجسام التي تسمح لبعض الضوء بالمرور من خلالها	

السؤال الثاني: ضع دائرة حول رمز الإجابة الصحيحة لكل عبارة مما يلي:

1- أي الأمثلة التالية تعتبر مثالا على التكثف؟

ب- تحول الماء داخل الثلاجة إلى ثلج

أ- نزول الماء من فوهة الحنفية

د- تحول ماء البحر إلى بخار ماء

ج- وجود الماء على ورقة نبات في ليلة باردة

2- أسقط أحد التلاميذ الكرة من فوق مبنى المدرسة. أي قوة جعلت الكرة تسقط نحو الأرض؟

أ- المغناطيسية

ب- الاحتكاك

ج- الجاذبية

د- الكهربائية

4- أي شكل من أشكال الطاقة يستخدمه شخص لتحريك صندوق خشبي على سطح الأرض؟
أ- حركية ب- مغناطيسية ج- صوتية د- كهربية

5- أي العبارات التالية صحيح في وصف خواص مادة معينة؟

أ- الهواء خليط من عدة غازات ب- الثلج خليط من عدة غازات
ج- الهواء مادة سائلة د- الثلج مادة سائلة

6- تتزحلق سيارة على شارع ويخرج دخاناً من إطاراتها. ما هو مصدر الحرارة الذي أنتج هذا الدخان؟

أ- الصوت ب- الضوء ج- الاحتكاك د- الضوء


7- يفرك حسام يديه ببعضها في أحد أيام الشتاء البارد فتدفأ يداه. ما مصدر هذه الحرارة؟

أ- الجاذبية ب- الضوء ج- الاحتكاك د- المغناطيس

8- يمكن تكوين المخروط عن طريق مزج مادتين أو أكثر. أي المخاليط التالية يمكن فصل مكوناته بالترشيح؟

أ- الماء والسكر ب- الماء والملح ج- الماء والرمل د- برادة الحديد

9- أنظر إلى الشكل أدناه سوف ترى الملعقة مكسورة.



ما السبب في ذلك؟

أ- لأن الضوء يتم امتصاصه ب- لأن الضوء ينكسر ج- لأن الضوء ينعكس د- لأن الضوء يتشتت

10- ماذا يحدث لمعظم الضوء عندما يسقط على جسم أسود؟

أ- ينعكس ب- يتم امتصاصه ج- ينكسر د- يتشتت

11- يركب أحمد دراجة هوائية ويدوس على الفرامل. أي مما يلي يساعد الدراجة على التوقف؟

أ- الجاذبية ب- الاحتكاك ج- الحرارة د- كمية الحركة

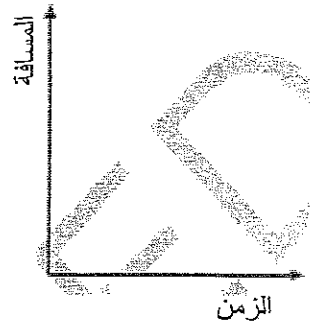
12- تسير سيارته بسرعة 45 كم/ساعة إلى مدينة تبعد مسافة 90 كم. فإذا كان (الوقت = المسافة ÷ السرعة)، فما الوقت الذي

تستغرقه السيارة للوصول للمدينة؟

أ- 0.5 ساعة ب- 1 ساعة ج- 1.5 ساعة د- 2 ساعة

30

13- الرسم التالي يستخدم لوصف خاصية في الجسم.



فما الذي يصفه الرسم السابق؟

- أ- الاحتكاك ب- الحجم ج- الوزن د- السرعة


14- تتزلق السيارة على الشارع الرطب أكثر من الشارع الجاف. يحدث ذلك لأنه يوجد بين إطار السيارة والشارع الجاف أكثر:

- أ- جاذبية ب- احتكاك ج- مغناطيسية د- حرارة


15- أي مما يلي يعتبر تغير كيميائي؟

- أ- تمزيق ورق الجرائد ب- تكسير زجاج المرآة ج- قطع الخشب د- قلي حبيبات الذرة

16-



سائل



صلب

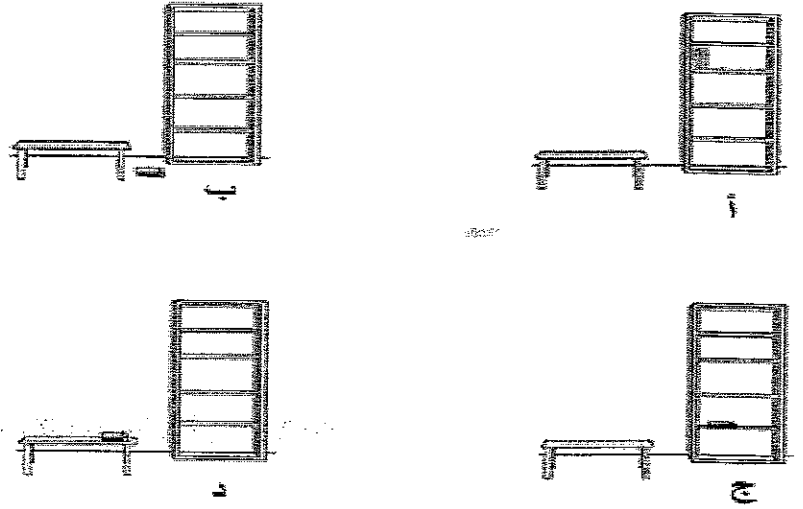


ما العملية التي توضحها الصورة السابقة؟

- أ- التبخير ب- الانصهار ج- التجمد د- التكثف

31

17- أي الصور التالية تبين الكتاب في طاقة وضع أكبر؟



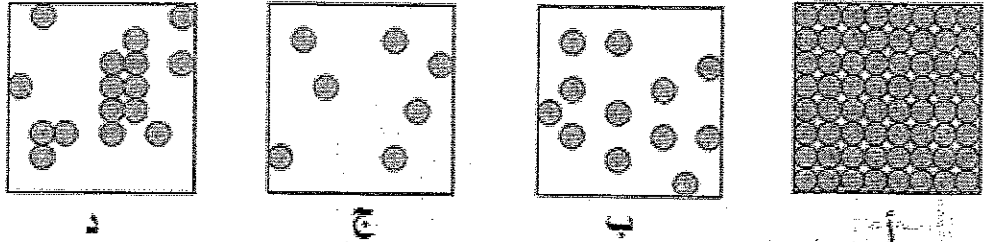
18- أي مما يلي يعتبر تغير كيميائي؟
 أ- ذوبان قوالب السكر في الماء
 ج- انصهار الأيسكريم

ب- صنع قوالب تليج من الماء
 د- صنع الكعك في الفرن

19- أي مما يلي يعتبر مثالا على التغير الكيميائي؟
 أ- خروج الهواء من البالون
 ب- كسر الزجاج

ج- غليان الماء في الإبريق
 د- احتراق قطعة من الخبز

20- أي الأشكال التالية يوضح ترتيب جسيمات المادة الصلبة؟



21- تم اختبار خواص أربع مواد سجلت بياناتها في الجدول أدناه. الخواص التي تم اختبارها هي (الطفو فوق سطح الماء، الاحتراق عند الإشعال، الانصهار عند التسخين). استخدم البيانات في الجدول للإجابة عن السؤال.

المادة	الطفو فوق سطح الماء	الاحتراق عند الإشعال	الانصهار عند التسخين
س	نعم	نعم	لا
ص	لا	لا	لا
ع	نعم	نعم	لا
د	لا	لا	نعم

أي المواد حصل لها تغير فيزيائي؟

د-د

ج-ع

ب-ص

أ-س

22- يتحد الهيدروجين والأكسجين كيميائياً لتكوين الماء. أي الكلمات التالية تصف الماء؟

- أ- ذرة ب- جزيء ج- مركب د- عنصر

23- أي العبارات التالية تفسر سبب اعتبار الهواء مادة؟

- أ- أن الهواء غير مرئي ب- نحتاج الهواء للتنفس
ج- يشغل فراغ وله كتلة د- يأخذ شكل الإناء الذي يوضع فيه

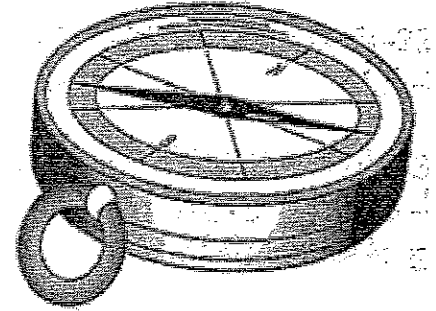
23- قاس جمال بعد المدرسة عن البيت والوقت الذي يستغرقه في الوصول للمدرسة. ماذا يستطيع أن يحسب من تلك

- المعطيات؟
أ- كتلته ب- قوته ج- اتجاهه د- سرعه

24- يلعب أحمد لعبة النط فوق الحبل، حيث يقفز لأعلى ولكن سرعان ما يعود إلى الأرض. ما القوة التي تجعله يعود إلى

- الأرض؟
أ- الاحتكاك ب- الجاذبية ج- الضغط د- المغناطيس

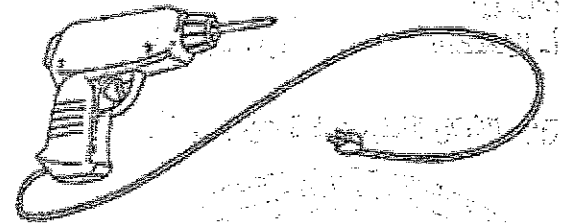
25- الشكل التالي عبارة عن بوصلة.



ما الطاقة التي تعمل على تحريك إبرة البوصلة؟

- أ- صوتية ب- حرارية ج- ضوئية د- مغناطيسية

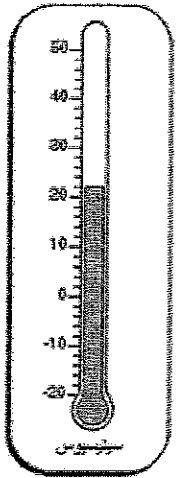
26- الشكل التالي يبين متقاب كهربائي.



إلى أي نوع من الطاقة تتحول الطاقة الكهربائية في المتقاب عندما يعمل؟


- أ- كيميائية ب- حركية ج- صوتية د- ضوئية

27- الصورة التالية توضح ثرمومتر موضوع داخل غرفة.

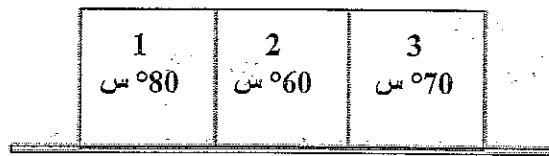


ماهي درجة حرارة الغرفة التي يبينها الثرمومتر؟
 أ- 19° س ب- 20° س ج- 21° س د- 22° س

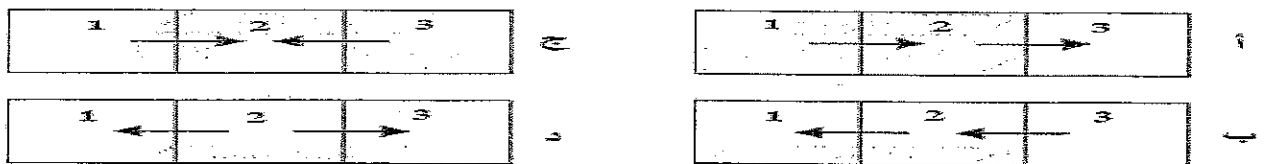
28- الصور في الأسفل تبين معدنين على شكل مكعب متلاصقين، ولكل منهما درجة حرارة. أي من الصور التالية تبين الاتجاه الصحيح لانتقال الحرارة بين المعدنين؟



29- في الشكل التالي تم تسخين ثلاث مكعبات معدنية إلى درجة الحرارة الموضحة في الشكل. وضعت المكعبات الثلاثة متلامسة على سطح غير موصل للحرارة.

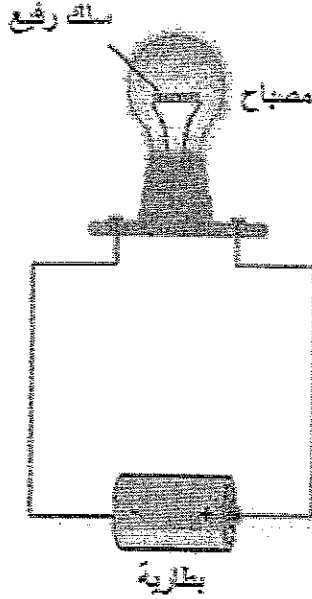


أي الأشكال الثلاثة تبين اتجاه انتقال الحرارة بين المعادن الثلاثة؟



30- في الشكل التالي تمر الطاقة الكهربائية في السلك الرفيع للمصباح فيضيء، حيث تتحول الطاقة الكهربائية إلى طاقة صوتية.

34



ما نوع الطاقة الأخرى التي تنتج في السلك الرفيع داخل المصباح الكهربائي؟

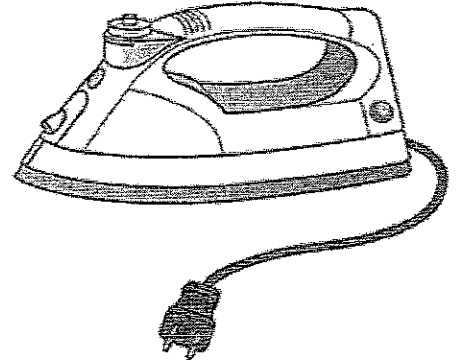
د- مغناطيسي

ج- حركية

ب- حرارية

أ- صوتية

31- إلى أي نوع من أنواع الطاقة تتحول الطاقة الكهربائية في المكواة؟



د- مغناطيسية

ج- صوتية

ب- حرارية

أ- صوتية

32- ماذا تسمى عملية انتقال الحرارة في السوائل والغازات؟

د- الإشعاع

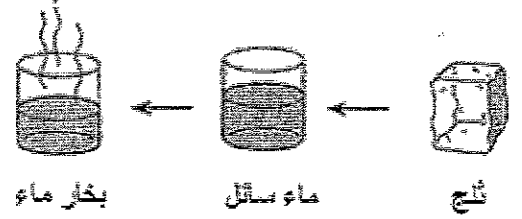
ج- التمدد

ب- التوصيل

أ- الحمل

السؤال الثالث: تأمل الشكل التالي الذي يبين التحول في حالات الماء، ثم أجب عن الأسئلة التي تليه:

35



أ- أي نوع من أنواع الطاقة ينبغي تزويد الثلج بها ليتحول إلى ماء سائل؟

.....

السؤال السابع: في الجدول التالي صنف التغيرات التي تحصل للمواد التي بين القوسين إلى تغيرات فيزيائية وتغيرات كيميائية:
 [احتراق السكر- ذوبان الملح في الماء- صدأ الحديد- اشتعال فتيل الشمعة- هضم الطعام- انصهار الثلج- احتراق الخشب- انصهار الشمع- طهي الطعام- احتراق الورق- غليان الماء- احتراق البنزين- تقطيع الخشب- قص الورق- طحن مكعب السكر]

تغيرات كيميائية	تغيرات فيزيائية




السؤال الثامن: صنف المواد التالية في الجدول إلى عناصر، ومركبات، ومحاليل ومخاليط:
 [ثاني أكسيد الكربون- ملح ذائب في الماء- الفضة- الهواء النقي- التربة الزراعية- الماء النقي- الذهب- الأكسجين- عصير البرتقال- سكر ذائب في الماء- السلطة- الحليب ورقاقات الذرة]

عناصر	مركبات	محاليل	مخاليط

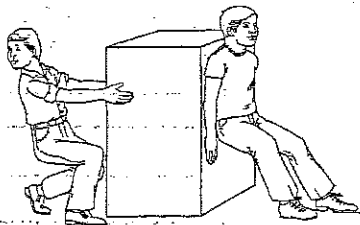
الطاقة تنتج الحركة وقد تغيرها ولها أشكال مختلفة، ما نوع الطاقة في الصور التالية؟

36

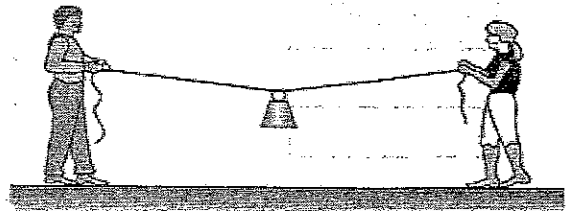
مغناطيسية - صوتية - كيميائية - ضوئية - ميكانيكية - حرارية



حدد نوع القوى في كلا مما يلي القوى المتوازنة، القوى غير المتوازنة



.....



.....









.....




.....

أكتب تحويلات الطاقة للأجهزة التالية :

37

تحويلات الطاقة الكهربائية	الجهاز
	 خلاط كهربائي
	 المدفأة
	 التلفزيون
	 المروحة
	 المكواة
	 المصباح الكهربائي

الاجتماعيات



أسئلة تقويمية شاملة في مادة الاجتماعيات للصف الرابع الابتدائي
في النصف الثاني من الفصل الدراسي الثاني للعام الدراسي ٢٠١٥ / ٢٠١٦ م

السؤال الأول: ضع علامة (✓) أمام العبارات الصحيحة وعلامة (x) أمام العبارات الخاطئة فيما يلي:

١. () الدخل الوطني هو مجموع الأموال التي نحصل عليها مقبل ممارستنا للزراعة والصناعة والتجارة.
٢. () السياحة في البحرين غير نشيطة.
٣. () الواردات هي البضائع التي نبيعها إلى الخارج.
٤. () تتم المواصلات الجوية بواسطة الموانئ.
٥. () يقيم معظم سكان البحرين في المدن.
٦. () عدد الوفيات أقل من عدد الولادات في البحرين حالياً.
٧. () كان التعليم في البحرين بسيطاً والمدارس قليلة.
٨. () من السمات البشرية المشتركة بين دول مجلس التعاون الخليجي الدين الإسلامي.
٩. () كان الحجاج يقوم مقام الطبيب في معالجة بعض الأمراض.
١٠. () يتم تشغيل مصنع ألبا للألمنيوم في البحرين باستخدام الغاز الطبيعي.
١١. () تعتبر دول الخليج العربية دولاً فقيرة بالنفط والغاز.
١٢. () الوزارة المسؤولة عن التعليم في البحرين هي وزارة الصحة.
١٣. () كان التعليم في الماضي يتعلمون القرآن الكريم بواسطة المطوع.

السؤال الثاني: ضع دائرة حول رمز الإجابة الصحيحة فيما يلي:

- ١- من الصناعات الكيماوية في البحرين صناعة:
 - أ- الأدوات البلاستيكية
 - ب- التمور
 - ج- طحن الحبوب
- ٢- من المناطق الصناعية الموجودة بالبحرين:
 - أ- المالكية
 - ب- سترة
 - ج- بني جمرة
- ٣- من أبرز الموانئ التي تشتهر بها البحرين ميناء:
 - أ- اللاذقية
 - ب- الاسكندرية
 - ج- سلمان
- ٤- من المواد المستخدمة في بناء البيوت قديماً في البحرين:
 - أ- السعف
 - ب- الطابوق
 - ج- الأسمنت
- ٥- من المواد المستخدمة في بناء البيوت حديثاً في البحرين:
 - أ- الحجارة
 - ب- الطابوق
 - ج- الأخشاب
- ٦- كان سكان البحرين يرسلون أبنائهم ليتعلموا القرآن الكريم في:
 - أ- المدارس
 - ب- الجامعات
 - ج- الكتاب
- ٧- أول مدرسة نظامية انشأت في البحرين هي:
 - أ- الهداية الخليفة
 - ب- خديجة الكبرى
 - ج- كرزكان الابتدائية
- ٨- تشتهر قرية بني جمرة بصناعة:
 - أ- الفخار
 - ب- النسيج
 - ج- المراكب
- ٩- أقيمت في البحرين مصانع كبرى لصناعة:
 - أ- الحديد
 - ب- الألمونيوم
 - ج- النحاس
- ١٠- الحركة القائمة على الصادرات والواردات والترانزيت:
 - أ- الزراعة
 - ب- الصناعة
 - ج- التجارة
- ١١- تصل البضائع براً إلى البحرين عن طريق:
 - أ- السعودية
 - ب- الكويت
 - ج- قطر
- ١٢- البضائع التي نشتريها من الخارج هي:
 - أ- الصادرات
 - ب- الواردات
 - ج- الترانزيت
- ١٣- حقق النمو السكاني في البحرين خلال الستين سنة الأخيرة:
 - أ- زيادة قليلة
 - ب- زيادة متوسطة
 - ج- زيادة مرتفعة

41

السؤال الثالث: أكمل العبارات التالية باستعمال الكلمات التي من بين القوسين فيما يلي:

(شبكة الاتصالات- شبكة المواصلات- الترانزيت- مصنع كبير- منطقة صناعية- ستر- ميناء سلمان- قلعة عراد- مسجد الخميس- الفخار- اكتشاف النفط- الفنادق الفخمة- المطاعم المتنوعة)

١. مكان يجمع عدداً كبيراً من المصانع المختلفة هو
٢. مبنى ضخم يضم الآلات متطورة لإنتاج السلع هو
٣. توجد أهم منطقتين صناعيتين في البحرين في و
٤. جميع البضائع التي نستوردها من الخارج ثم نصدرها هي
٥. تشتهر قرية عالي بصناعة
٦. مجموع النقل البري والبحري والجوي هي
٧. مجموع الوسائل التي تتيح التواصل بين الناس هي
٨. من المعالم الأثرية في البحرين و
٩. الذي ساعد على توسع المدن وتطور العمران في البحرين هو
١٠. من المرافق التي تساعد على تنشيط السياحة و

السؤال الرابع:

أولاً: اذكر أربعة من البضائع التجارية التي تصدر إلى الخارج وأخرى من الواردات التي نشتريها من خارج البحرين في الجدول التالي:

واردات	صادرات

ثانياً: أمامك مجموعة من العبارات التي تصف المدن والعمران قديماً وحديثاً في البحرين. صنف كل عبارة من هذه العبارات من خلال الجدول الوارد أدناه.

42

البيوت مبنية من السعف والأخشاب- مدن صغيرة وشوارع ضيقة- الشوارع حديثة ومتنوعة - البيوت من الطابوق والأسمنت- الأبنية مرتفعة ومتعددة الطوابق- الشوارع ضيقة والأسواق بسيطة.

المساكن والمدين قديماً في البحرين	المساكن والمدين حديثاً في البحرين

ثالثاً: صل العمود (أ) بما يناسبه من العمود (ب) بالأرقام فيما يلي:

(ب)

- بريد.	
- طائرة.	
- هاتف.	
- سيارة.	
- فاكس.	
- سفينة.	
- شاحنة.	
- إنترنت.	

(أ)

(١) وسائل مواصلات.

(٢) وسائل اتصالات.

رابعاً: اربط بخط بين المجموعات وما تمثله:

43

وسائل اتصال
مصانع كبرى
معالم تاريخية
شبكة موصلات
وسائل موصلات
مرافق سياحية

١- الحوض الجاف- ألبا- مجمع البتروكيمياويات
هاتف- بريد- إذاعة- صحيفة- تلفزيون
طرق- موانئ- جسور- مطارات
قلعة عراد- مدافن عالي- مسجد الخميس
متحف البحرين- مركز التراث- الفنادق الفخمة
السيارة- الشاحنة- السفينة- الطائرة

ثالثاً: علل لما يلي:

أ- كون البحرين مركزاً مالياً مهماً.

.....

ب- إقامة الجسور في البحرين.

.....

ج- تجمع سكان البحرين في المناطق الشمالية من المملكة.

..... ١-

..... ٢-

هـ- الزيادة السكانية التي تشهدها البحرين.

- ١

- ٢

- ٣

و- إنشاء مدينتي عيسى وحمد.

ز- تناقص كمية المياه الجوفية في البحرين بشكل مستمر.

- ١

- ٢

أجب عن الأسئلة التالية:

١- علام تقوم التجارة ؟

٢- ما الذي يربط مملكة البحرين بالمملكة العربية السعودية برأ ؟

٣- ما الأعمال التي قامت بها المملكة لتوفير التعليم لجميع أبناء البحرين ؟

- ١

- ٢

- ٣

٤- ما الجهود التي بذلتها المملكة لتطوير الخدمات الصحية ؟

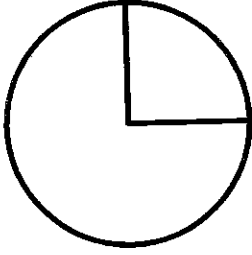
- ١

- ٢

- ٣

السؤال الخامس: على الخريطة الصماء أدناه : اكتب في المكان المناسب أسماء ما يلي:
 أولاً: أولاً: على الرسم البياني التالي، وزع نسبة سكان المدن والقرى، حيث لون
 نسبة سكان المدن باللون الأخضر، ونسبة سكان القرى باللون الأحمر. (٤ درجات)

45

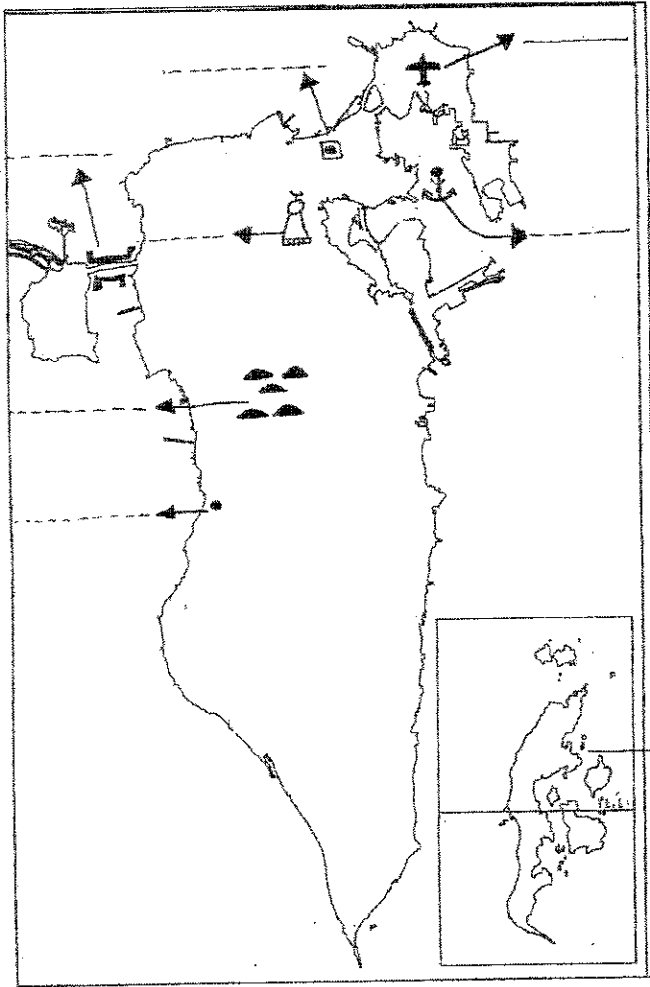


سكان المدن

سكان القرى

نسبة سكان المدن والقرى في
 مملكة البحرين


ثانياً: على خريطة مملكة البحرين المرفقة حدد ما يلي:-



- ١- جزر حوار
- ٢- ميناء سلمان.
- ٣- مدافن عالي.
- ٤- مطار البحرين.
- ٥- مسجد الخميس.
- ٦- قرية الزلاق.
- ٧- العاصمة (المنامة).
- ٨- جسر الملك فهد.


مذكرة الاجتماعيات

اللغة الإنجليزية



Dream it. Believe it. Achieve it!

47



ENGLISH

Revision Activities

For grade 4 - Semester 2 - Final Exam

Done by Mr. Alaa Nagah

**Family
and
Friends**



Part one

Listening




Q1: Listen and circle the correct picture (A, B or C).


Number (0) is done for you. (2 marks each)

10


0- what is Ali's father going to buy?



A




B



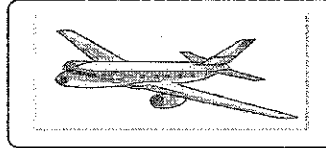
C

48

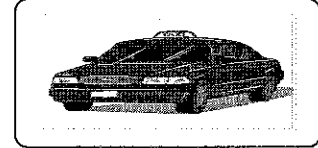
1- How is Heba going to travel?



A




B




C


2- Where is Ahmed going to pack his holiday things?



A




B




C

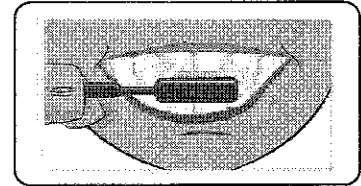
3- What does Fatten do every day?



A




B

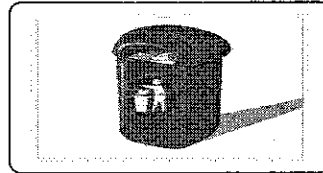


C


4-What mustn't Mohammed pick?



A




B




C


5-what kind of animals does Osama like?



A



B



C

Q2: Listen and match the names with the correct pictures:

Write the correct letters (A-F) in the correct box.

Number (0) is done for you

10

49

0- Father





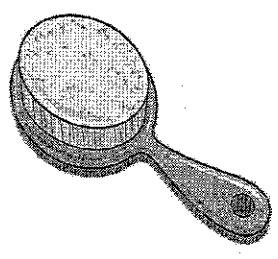

1- Alaa

2- Maryam

3- Ahmed

4- Mother

5- Heba

	
<input type="text" value="A"/>	<input type="text" value="B"/>
	
<input type="text" value="C"/>	<input type="text" value="D"/>
	
<input type="text" value="E"/>	<input type="text" value="F"/>

Q3: Listen and complete the table below:

Number (0) is done for you.


(3marks each).

15

50

Hussain lives in	(0) <u>Bahrain</u>
Hussain is	(1)years old.
Hussain is going to visit the zoo on	(2)
Hussain is going to visit the zoo by	(3)
Hussain likes	(4) Monkeys and
Hussain is going to take photos by his	(5)

(Listening A)



Q1: Listen and circle the correct picture (A, B or C).

Number (0) is done for you.

- 51
- 0- Hi! I'm **Ali**. My father is going to buy a new **motorbike**.
 - 1- Hi! I'm **Heba**. I'm going to travel on my holiday by **plane**.
 - 2- Hi! I'm **Ahmad**. I'm going to pack my holiday things in a **big suitcase**.
 - 3- Hi! I'm **Fatten**. I **brush my teeth** every morning.
 - 4- Hi! I'm **Mohamed**. I'm going to visit the park. I mustn't pick **flowers**.
 - 5- Hi! I'm **Osama**. I like **monkeys** so much because they are funny.
-

(Listening B)

Q2: Listen and match names with the correct pictures.

Write the correct letter (A-F) in the correct box.

Number (0) is done for you.

Father: Good morning Alaa.

Alaa: Good morning Father.

Father: Happy birthday, Alaa.

Alaa: Thank you father.

Father: **I'll pack our suitcase.**

Alaa: Why?

Father: We're going to Water Park for you.

Alaa: **Wow. It's amazing. It's better to go by taxi.**

Maryam: **I'll pack my hairbrush.**

Ahmad: **I'll pack my towel.**

Mother: **All of you, you mustn't run, jump and push there.**

Heba: **We must put litter in the bin.**

Father: All of you, have fun.

(Listening C)

Q3- Listen and complete the table below.

Number (0) is done for you:

Hi! My name is Hussain. I'm from Bahrain. I'm ten years old. I'm in grade 4. I'm going to visit the zoo on Sunday. I'm going to go to the zoo by car. I like watching lions, monkeys and camels. I'm going to take nice photos by my camera.

Part two

Reading




1- Read and choose the correct answer a, b or c:-

- 52- The monkey playing with a ball.
a) are b) is c) am
- 2- Penguins walking at the beach.
a) am b) are c) is
- 3- Loins sleeping under the tree.
a) is b) are c) am
- 4- You put litter in the bin.
a) must b) mustn't c) would
- 5- the monkeys climbing the tree?
a) Am b) Is c) Are
- 6- the tiger walking in the jungle?
a) Are b) Am c) Is
- 7- Is the flying in the sky?
a) penguin b) flamingo c) zebra
- 8- Are the eating bananas?
a) lizards b) crocodiles c) monkeys
- 9- Crocodiles lives in the
a) desert b) arctic c) jungle
- 10- Tom at six o'clock.
a) get up b) gets up c) got up
- 11- Jen and Jo the bus to school.
a) catches b) catch c) caught
- 12- Fred walk to school every day.
a) doesn't b) don't c) didn't
- 13- Esra breakfast with her family.
a) have b) has c) had
- 14- What time you have breakfast?
a) do b) did c) does
- 15- My mum and dad catch the bus to work every day.
a) doesn't b) didn't c) don't
- 16- Fatima brush her teeth?
a) Do b) Did c) Does
- 17- You be quiet in the library.
a) mustn't b) should c) must
- 18- You must litter in the bin.
a) cut b) put c) take
- 19- You mustn't in the class.
a) talk b) fly c) answer
- 20- You wash your hands.
a) mustn't b) would c) must
- 21- You listen to your teacher.
a) must b) mustn't c) should
- 22- There a park ten years ago.
a) is b) were c) was
- 23- There some planes a hundred years ago.
a) was b) were c) are
- 24- There any motorbikes two hundred years ago.
a) wasn't b) are c) weren't
- 25- There lots of trains last year.
a) were b) was c) are
- 26- There a ship fifty years ago.
a) weren't b) isn't c) wasn't.
- 27- Flamingos are in the sky.
a) flying b) eating c) walking
- 28- You mustn't the flowers.
a) throw b) pick c) put
- 29- There some buses fifty Years ago.
a) was b) are c) were


2-Read and circle the correct answer A, B or C:-

53 a) Hi, I'm Eyad. Now I'm in a⁰ Park with my family. There¹ two trees and lots of flowers. You mustn't climb the² and you mustn't pick the flowers. A woman.....³ standing near the fountain. A boy is walking on the grass and a girl is walking on the path. You⁴ walk on the path not on the grass. A man is⁵ the path. He must put all litter in the bin. The park is very clean.



0	A- nice	B- bad	C- sorry
1	A- is	B- are	C- am
2	A- plants	B- flowers	C- trees
3	A- is	B- am	C- are
4	A- mustn't	B- must	C- would
5	A- playing	B- liking	C- cleaning

b) Hello, my name's Reem. I like watching animals so I must go to the.....⁰ on Fridays with my friends. I always enjoy eating ice cream at the zoo. You¹ throw litter in the zoo. My favourite animal is the monkey. Monkeys live in the² but I can watch them at the zoo. Monkeys³ fun and do funny things. They are climbing the trees and eating⁴. My friend Ahmed doesn't like monkeys and crocodiles because they are⁵ animals. He likes watching flamingos because they are beautiful.



0	A- park	B- zoo	C- school
1	A- must	B- should	C- mustn't
2	A- jungle	B- see	C- city
3	A- am	B- are	C- is
4	A- bananas	B- meat	C- ice cream
5	A- sorry	B- dangerous	C- clean

3-Read the following passage carefully and answer.

a) Hi, this is **Molly**. She lives in England.

54 She's in grade four. She has got one brother and two sisters. She always has a nice day. Every day she gets up at six o'clock in the morning. **First**, she has a shower in the bath room and brushes her teeth well. **Then**, she gets dressed in a beautiful school uniform and brush her hair at 6:15. **Next**, she has breakfast with her family at 6:30. **Finally**, she walks to school with her friends at 6:45. She arrives at school at 7:00 exactly. Molly's favourite day is Thursday because she goes swimming and plays tennis.



1- Underline the correct answer.

- a- Molly lives in (Egypt -Bahrain- England).
- b- Molly lives with her (family - friends- classmates).
- c- Molly is a (student - teacher- doctor)
- d- Molly has got (three- five - six) people in her family.
- f- Molly (don't- doesn't- didn't) get up late.


2- Put tick (✓) or cross (X).

- a- Molly is in grade five. ()
- b- Molly always has a nice day. ()
- c- Molly gets up at seven o'clock. ()
- d- Molly has got two sisters. ()
- f- Molly walks to school. ()

3- Answer the following question.

- a- Does Molly have breakfast with her family?
.....
- b- Does Molly have a shower at seven o'clock?
.....
- c- What time does Molly walk to school?
.....
- d- What is Molly's favourite day?
.....
- f- What does Molly do on Thursday?
.....

b) Welcome to my city! My name's *Ali*. I live in London. I like my city very much. It's a very old city. London has a great history. *Fifty years ago*, there weren't any shopping malls. There were some shops and small markets and there was only one café and a hotel. There weren't any buses, planes or helicopters, but there were lots of cars and motorbikes. *Now*, there are lots of cafés and hotels. There are shopping malls. There are lots of planes and helicopters at the airport. But there aren't any trams. There is a transport museum in my city. It has buses, taxis, trams and even a plane! At the top of the museum, there is a helicopter. You can sit inside it! You can see a tram in the garden of the museum. The city museum is in the middle of city. It's between the library and the cinema.



1- Circle the correct answer.

- a- Ali lives in (Cairo - Manama- London).
- b- London is a very (new - old- small) city.
- c- There (wasn't- isn't- weren't) any shopping malls in London fifty years ago.
- d- There (was-were-is) one café in London fifty years ago.
- f- There is a (museum- tram- horse) in London now.

2- Write (T) true or (F) false.

- a- Ali lives in England. ()
- b- London is a new city ()
- c- London has a transport museum. ()
- d- There were cars in London. ()
- f- There weren't any planes in London. ()

3- Answer the following question.

- a- Was there a car in London ?
.....
- b- Were there any planes in London fifty years ago?
.....
- c- Are there any motorbikes in London now?
.....
- d- Where is the city museum?
.....
- f- What can you see in the transport museum?
.....


Part three

Writing

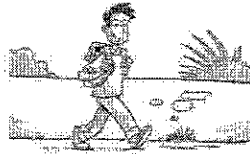


1-Look at the picture and write the word:-

56



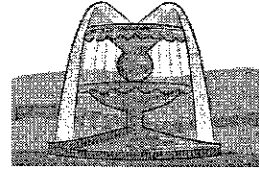
.....




.....



.....




.....



.....



.....



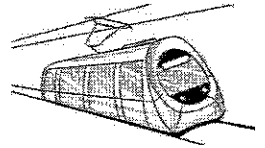
.....




.....




.....



.....



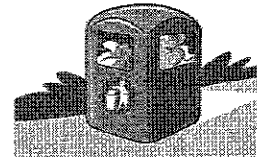
.....




.....



.....




.....




.....




.....




.....




.....




.....



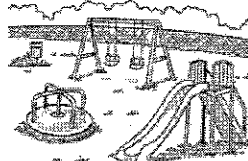
.....



.....




.....




.....



.....




.....




.....




.....



.....



.....




.....

2-Write sentences about the pictures using the given words:-

57


1



Penguin - eating

.....


2



Monkeys - climbing

.....


3



get up - early - six

.....

4



She - school

.....

5



must - quiet

.....


6



mustn't - pick

.....


7



were - cars

.....


8



was - tram

.....


9



Crocodile - swim

.....

10




He - breakfast

.....

3- Write a short paragraph about:-

1) Your day.



58 ➤ You can use these phrases.


get up -First - have a shower- Then - get dressed- Next - have breakfast- Finally - walk to school.

I.....
.....
.....
.....
.....
.....

2) Your favourite animal.

➤ In your writing include the following.


- What your favourite animal is.
- Where your favourite animal lives.
- What your favourite animal looks like.
- Where you can see your favourite animal.



My favourite animal is.....
.....
.....
.....
.....
.....

59

التربية الإسلامية



أولاً: سورة "الأعلى":

الكلمة	معناها	الكلمة	معناها
سبح	نزهه وقدهس	فسوى	فأبدع وأتقن
المرعى	مكان حشائش الدواب	عشاء أحوى	جاف وخالٍ من الأعشاب
الجهر	الكلام المسموع	وما يخفى	الأسرار في القلوب
تيسرك	نهديك	لليسرى	إلى طريق الخير
فذكر	انصح وارشد الناس	يخشى	يخاف الله
يتجنبها	يبتعد عنها	الاشقى	الذي يخالف قول الرسول
أفلح	فاز وريح	تركى	تطهر من الذنب
تؤثرون	تحبون	الأخرة	يوم القيامة
خير	أفضل	أبقى	دائمة بلا نهاية

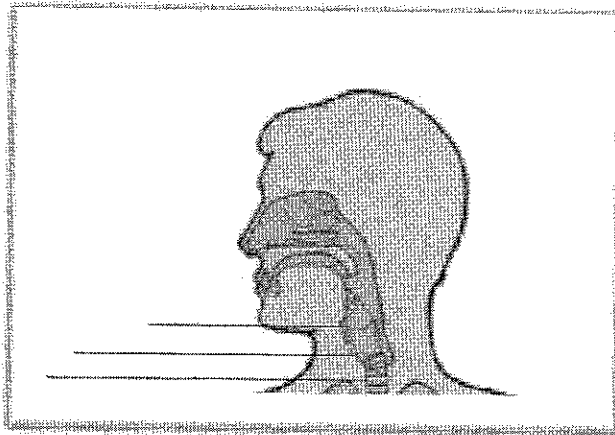
60

• من الأعمال التي تدخلني الجنة:

١.
 ٢.
 ٣.
 ٤.
- اذكر مظهرين من مظاهر قدرة الله في الآيات السابقة:
١.
 ٢.

الكتاب السماوي	النبي المرسل به	الكتاب السماوي	النبي المرسل به
التوراة		الإنجيل	
الزبور		القرآن الكريم	
الصحف			

ثانياً: التجويد: (الحروف الحلقية)



الأمثلة	الحرف الحلقى	الأمثلة	الحرف الحلقى
الله الصمد		فصل لربك وانحر	
من خوف		طيراً أبابيل	
عليهم نار مؤصدة		المغضوب عليهم	

ثالثاً: الحديث الشريف: (فضل الزراعة)

- عن أنس بن مالك (رضي الله عنه) أن رسول الله (ص) قال:

61

.....

.....

.....

- راوي الحديث هو:

من فوائد الزراعة:

..... ١.

..... ٢.

..... ٣.

نتعلم من الحديث الشريف:

..... ١.

..... ٢.

..... ٣.

بم تتصح صديقك الذي يتعمد كسر أغصان أشجار المدرسة؟

.....

.....

رابعاً: العقيدة: (صفات الرسل)

- من صفات الرسل:

..... ١.

..... ٢.

..... ٣.

..... ٤.

..... ٥.

• الرسول هو:

() مخلوق من الجن. () رجل من البشر. () ملك من الملائكة.

• أتعلم من هذا الدرس أن:

- الرسل هم بشر مثلنا، فلا هم من الملائكة، ولا هم من الجن.

- الرسل يتميزون عن بقية البشر بالفطنة والذكاء.

- الرسل يأكلون ويشربون ويمرضون ويموتون كباقي البشر.

- الرسل بينوا للناس جميع الأحكام من الحلال والحرام.

62

خامساً: الأخلاق: (المحافظة على الممتلكات العامة)

أمثلة على الممتلكات العامة	أمثلة على الممتلكات الخاصة

• أضع الكلمات الآتية في المكان المناسب من الجمل التالية:

(الزراعة - نحمي - نسرف - نهملها - الماء - الكهرباء)

أ: ثروة يجب المحافظة عليها، وألا فيها.

ب: ثروة يجب المحافظة عليها، وأن أنفسنا منها.

ج: ثروة يجب المحافظة عليها، وألا

١. كيف تتصرف في المواقف التالية:

• رأيت زميلك يحاول كسر مصباح الشارع العام.

.....

• شاهدت طالباً يتعمد إتلاف حنفيات حمامات المدرسة.

.....

سادسا: العبادات: (الصوم)

• شرع الله الصوم لما له من فوائد كثيرة منها:

-
-
-
-

63

• (✓) أو (X)

- أ- الأكل عمدا في نهار شهر رمضان يبطل الصوم. ()
- ب- شرب الدواء عمدا من الفم في نهار شهر رمضان لا يبطل الصوم. ()
- ج- يصوم المسلمون في شهر رمضان ثلاثين يوما دائما. ()
- د- من نام متعمداً في نهار شهر رمضان فصومه صحيح. ()
- هـ- يجب الصوم على المسلم العاقل البالغ. ()
- و- الصوم هو الإمساك عن الطعام فقط. ()
- ز- يصوم المسلمون عاما في شهر رمضان و عاما في شهر شعبان. ()
- ح- يمتد وقت الصيام من أذان الفجر حتى لحظة مغيب الشمس. ()

سابعا: السيرة والشخصيات: (وفاء الرسول (ص) لأصحابه) و(السيدة زينب).

• أكمل الفراغات بما هو مناسب من الكلمات التالية:

(قباء - الإمام علي - أبو بكر الصديق - الخندق - زيد بن الدثنة)

- أ- هو أخو لنبي (ص) في الدنيا والآخرة كما الرسول (ص).
- ب- شارك الرسول (ص) أصحابه في حفر حول المدينة المنورة.
- ت- أسر المشركون الصحابي فأظهر شجاعة نادرة أمامهم.
- ث- بنى الرسول الأعظم (ص) مسجد بعد هجرته إلى المدينة.

• ضع علامة (✓) أو علامة (x) بين القوسين فيما يلي:

- أ. () كان الرسول (ص) يقول عن علي (ع): "علي قريبي في الدنيا والآخرة".
ب. () شارك الرسول (ص) أصحابه في حفر الخندق حول المدينة المنورة.
ج. () تزوجت السيدة زينب (ع) عبدالله بن عمر.
د. () وُلدت السيدة زينب (ع) بعد وفاة الرسول (ص).
هـ. () الإمام علي (ع) هو الذي سمى السيدة زينب (ع).

64

والله الموفق لكل خير