

تم تحميل هذا الملف من موقع المناهج البحرينية



الملف الاختبار التشخيصي القبلي للفصل الدراسي الأول للصف الرابع الإبتدائي في مادة التربية للمواطنة

[موقع المناهج](#) ⇐ ⇐ [الصف الرابع](#) ⇐ [المواد الاجتماعية](#) ⇐ [الفصل الأول](#)

روابط مواقع التواصل الاجتماعي بحسب الصف الرابع



روابط مواد الصف الرابع على تلغرام

[الرياضيات](#)

[اللغة الانجليزية](#)

[اللغة العربية](#)

[التربية الاسلامية](#)

المزيد من الملفات بحسب الصف الرابع والمادة المواد الاجتماعية في الفصل الأول

<a href="#">ملخص شامل</a>	1
<a href="#">ملخص أسئلة وأجوبة لدرس أحب وطني وأحافظ عليه</a>	2
<a href="#">ملخص أسئلة وأجوبة لدرس خدمات تقدمها حكومة بلادي</a>	3
<a href="#">مذكرة مراجعة مع الإجابة</a>	4
<a href="#">مذكرة مراجعة</a>	5

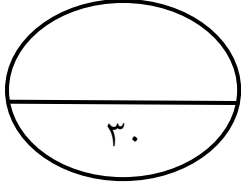


الاختبار التشخيصي القبلي للفصل الدراسي الأول للصف الرابع في مادة التربية  
المواطنة للعام الدراسي ٢٠٢١م / ٢٠٢٢م

درجة الطالب	الدرجة المطلوبة	رقم السؤال	مادة المواطنة
	٣٠	الأول	<b>الكفاية :</b> ١- يتعرف على تاريخ وحضارة البلاد. ٢- يبين المواقع الاثرية في مملكة البحرين. ٣- يشيد بحضارة مملكة البحرين قديماً ٤- يوضح التسلسل الزمني للمراحل التاريخية بمملكة البحرين ٥- يعترف بالتراث الشعبي لمملكة البحرين.
	٣٠	الثاني	
	١٢	الثالث	
	٨	الرابع	
	٢٠	الخامس	
	100	المجموع	

**ملاحظات مهمة :**

١. الدخول إلى الاختبار التشخيصي القبلي باستخدام ايميل الطالب نفسه فقط.
٢. اكتب رقمك الشخصي بشكل صحيح.
٣. إذا لم تجد صفك اختر (الصف غير موجود) ثم اكتب صفك.
٤. أجب عن جميع الأسئلة وتأكد من صحة إجابتك قبل الضغط على زر الإرسال.
٥. يمكنك الحل مرة واحدة فقط.
٦. زمن الاختبار ساعة ونصف.



**السؤال الأول : اختر الإجابة الصحيحة : كل نقطة ثلاث علامات**

١- من المميزات التي جعلت مملكة البحرين مكاناً مأهولاً بالسكان هي :  
أ.توفر لؤلؤ فريد وتجارة ومنتجات زراعية متنوعة.

ب.وجود مياه غير عذبة.

ج.عدم توفر مرافئ آمنة.

٢- في أي منطقة تم الحصول على الأدوات الحجرية في البحرين:  
أ.المحرق.

ب.جنوب الوسمية وحول جبل الدخان.

ج.الرفاع الغربي.

٣-بماذا تميزت حضارة دلمون:

أ.وجود المعابد المقدسة.

ب.عدم توفر الاسواق.

ج.عدم التطور في جوانب الحياة المختلفة.

٤- تايلوس اسم اطلق على جزيرة:

أ.المحرق.

ب.المنامة.

ج.حوار.

٥-سبب تسمية البحرين باسم أوال:

أ.نسبة إلى قبيلة وائل.

ب.نسبة إلى اسم صنم كان يُعبد من قبل قبيلة وائل.

ج.نسبة إلى اسم شخص من قبيلة وائل.

٦- متى تم إطلاق اسم البحرين :

أ. في العهد الإسلامي.

ب. في العصر الجاهلي.

ج. في عهد آل خليفة.

٧- مبان عسكرية أقيمت في الماضي لأغراض دفاعية:

أ. المساجد.

ب. المعابد.

ج. القلاع.

٨- من المدافن الأثرية الإسلامية :

أ. قلعة عراد.

ب. مسجد الخميس.

ج. مدافن سار.

٩- أبنية دينية بناها أهل البحرين القدماء:

أ. القلاع.

ب. المعابد.

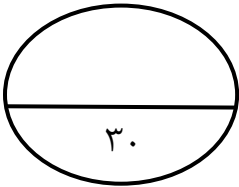
ج. المدافن.

١٠- المواقع الأثرية هي :

أ. مكان يتضمن آثارًا قديمة تركها السلف.

ب. مكان يتضمن آثارًا قديمة تركها الأصدقاء .

ج. مكان يتضمن آثارًا قديمة تركها الأقارب.



السؤال الثاني : اختر ما إذا كانت العبارة صحيحة أم خاطئة : كل نقطة ثلاث علامات

١- تقع قلعة الشيخ سلمان بن أحمد في الرفاع.

أ. العبارة صحيحة

ب. العبارة خاطئة

٢- لم تقم مملكة البحرين بأية جهود في صيانة المواقع الأثرية وترميمها.

أ. العبارة صحيحة

ب. العبارة خاطئة

٣- تقدمت الصناعة والتجارة في حضارة دلمون.

أ. العبارة صحيحة

ب. العبارة خاطئة

٤- لمملكة البحرين موقع مهم يتوسط البلدان.

أ. العبارة صحيحة

ب. العبارة خاطئة

٥- امتد التأثير اليوناني في عهد اسكندر الأكبر إلى البحرين .

أ. العبارة صحيحة

ب. العبارة خاطئة

٦- قبيلة وائل سكنت البحرين في العصر الجاهلي.

أ. العبارة صحيحة

ب. العبارة خاطئة

٧- اعتنق أهل البحرين الإسلام طوعاً حين بعث لهم الرسول صلى الله عليه وسلم العلاء الحضرمي.

أ. العبارة صحيحة

ب. العبارة خاطئة

٨- تميز العصر الجاهلي باستعمال الأدوات الحجرية.

أ. العبارة صحيحة

ب. العبارة خاطئة

٩- سُمي الشيخ أحمد بن محمد آل خليفة بالفاتح لأنه فتح البحرين.

أ. العبارة صحيحة

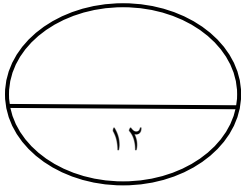
ب. العبارة خاطئة

موقع  
المنهاج التعليمية  
almanahj.com/bh

١٠- نهضت البحرين في جميع المجالات وتميزت بالتقدم والاستقرار والازدهار في عهد آل خليفة.

أ. العبارة صحيحة

ب. العبارة خاطئة



السؤال الثالث : ما رأيك في التصرفات الآتية اختر ما إذا كان التصرفات صحيحة

أم خاطئة: كل نقطة ثلاث علامات



تصرف خاطئ



تصرف صحيح



تصرف خاطئ



تصرف صحيح





تصرف خاطئ

تصرف صحيح



تصرف خاطئ

تصرف صحيح

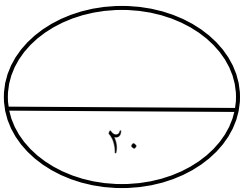


السؤال الرابع : رتب المراحل التاريخية التي مرت بها البحرين بحسب التسلسل الزمني.

كل نقطة ثلاث علامات

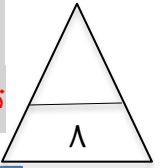
الإجابة:

- ١-العصر الحجري.
  - ٢-دلمون.
  - ٣-تايلوس وأرادوس.
  - ٤-أوال.
  - ٥-البحرين في العهد الإسلامي.
  - ٦-البحرين في عهد آل خليفة.
- ١-البحرين في عهد آل خليفة.
  - ٢-حضارة دلمون.
  - ٣-تايلوس وأرادوس.
  - ٤-البحرين في العهد الإسلامي.
  - ٥-أوال.
  - ٦-العصر الحجري.



السؤال الخامس : أولاً.

تأمل الصور التالية، ثم اختر اسم كل لعبة شعبية تناسب الصورة. لكل نقطة علامتان



يقف  
المنهج البحرينية  
almanahj.com/bh

أ. لعبة الجدير.

ب. لعبة الدورفة.

ج. لعبة البروي.



أ. لعبة المدود.

ب. لعبة الخشيشة.

ج. لعبة الدوامة.



أ. لعبة الصبّة.

ب. لعبة التيلة.

ج. لعبة القبقاب.



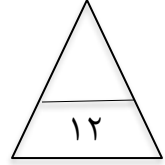
أ. لعبة السكينة.

ب. لعبة البلبول.

ج. لعبة اللقفة.

السؤال الخامس : ثانيًا.

تأمل الخريطة التالية ثم أجب على الأسئلة التي تليها. كل نقطة ثلاث علامات



موقع  
المناهج البحرينية  
almanahj.com/bh

استخرج من الخريطة ما يلي ثم دونها حسب المطلوب :

- ١- القلاع: يُكتفى بنقطتين.  
أ. قلعة الشيخ سلمان. ب. قلعة عراد. ج. قلعة البحرين د. قلعة بوماهر.
- ٢- المعابد: يُكتفى بنقطتين.  
أ. معابد باربار. ب. معبد سار. ج. معبد الدراز.