

تم تحميل هذا الملف من موقع المناهج البحرينية



*للحصول على أوراق عمل لجميع الصفوف وجميع المواد اضغط هنا

<https://almanahj.com/bh>

* للحصول على أوراق عمل لجميع مواد الصف الرابع اضغط هنا

<https://almanahj.com/bh/4>

* للحصول على جميع أوراق الصف الرابع في مادة رياضيات ولجميع الفصول, اضغط هنا

<https://almanahj.com/bh/4math>

* للحصول على أوراق عمل لجميع مواد الصف الرابع في مادة رياضيات الخاصة بـ الفصل الثاني اضغط هنا

<https://almanahj.com/bh/4math2>

* لتحميل كتب جميع المواد في جميع الفصول للـ الصف الرابع اضغط هنا

<https://almanahj.com/bh/grade4>

للتحدث إلى بوت على تلغرام: اضغط هنا

https://t.me/omcourse_bot

KINGDOM OF BAHRAIN

MINISTRY OF EDUCATION

SITRA PRIMARY BOYS SCHOOL



مَمْلَكَةُ الْبَحْرَيْنِ
وَزَارَةُ التَّرْبِيَةِ وَالتَّعْلِيمِ
مَدْرَسَةُ سِيْثْرَةَ الْإِبْتِدَائِيَّةُ لِلْبَنِيْنَ

الصف الرابع الابتدائي



٨-١٠

الزّمن

يحلّ الطالب مسائل حول الزمن.

الهدف



بدأت حليلة تطريز قطعة صغيرة من القماش الساعة
٦:١٥ مساءً وانتهت من ذلك الساعة ٨:٠٥ مساءً.
ما الزمن الذي استغرقته في التطريز؟

النشاط	وقت البدء	وقت الانتهاء	الزمن المستغرق
تطريز قطعة قماش	٦:١٥ مساءً	٨:٠٥ مساءً	ساعة وخمسون دقيقة

الزمن المستغرق في التطريز هو طول الفترة الزمنية
(ساعة وخمسون دقيقة).





وقت الانتهاء



وقت البدء

بدأ محمد تدريباته في النادي الرياضي الساعة ٣:٠٥ بعد الظهر
وانتهاها الساعة ٤:٣٥ مساءً. ما الزمن الذي استغرقه في التدريب؟

النشاط	وقت البدء	وقت الانتهاء	الزمن المستغرق
التدريب في النادي	٣:٠٥	٤:٣٥	ساعة وثلاثون دقيقة

الزمن المستغرق هو مقدار الزمن بين بداية النشاط ونهايته،
وهو نفسه طول الفترة الزمنية.

أمثلة من واقع الحياة
على الزمن المستغرق

النشاط	وقت البدء	وقت الانتهاء	الزمن المستغرق
قراءة قصة دينية	٧:١٥ مساءً	٨:٣٠ مساءً	ساعة وربع الساعة
المشي بعد طلوع الفجر	٥:٣٥ صباحاً	٦:١٥ صباحاً	أربعون دقيقة
كتابة واجب منزلي	٤:٢٥ مساءً	٥:١٠ مساءً	خمس وأربعون دقيقة

خلاصة

الزّمن


يقاس الزّمن
بالسّاعات
والدّقائِق.

السّاعة الواحدة
تساوي ٦٠
دقيقة.

الزّمن بين حادثين
هو الفرق بين وقت
الحادث الثاني ووقت
الحادث الأوّل.

الزّمن المستغرق
للنّشاط هو مقدار
الزّمن بين بداية
النّشاط ونهايته.

طول الفترة
الزّمنية



وقت
الانتهاء



وقت
البداية

الزّمن المستغرق بين وقت الانتهاء ووقت البدء الموضحين أعلاه هو:

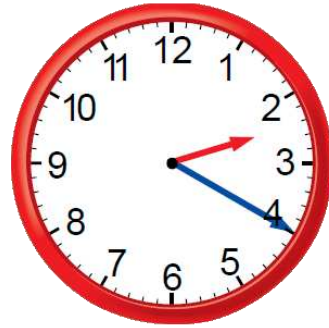
3 ساعات

ساعة وخمس^{٢٥} وخمسون دقيقة

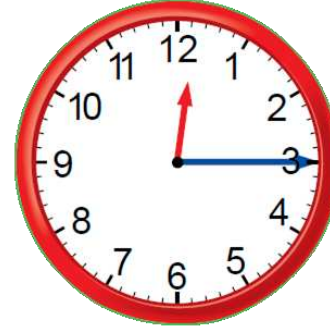
ساعتان وخمس^{٢٥} وخمسون دقيقة

3 ساعات وخمس^{٢٥} دقائق

وقت
الانتهاء



وقت
البدء



طول الفترة الزمنية بين وقت البدء ووقت الانتهاء الموضحين أعلاه هو:

ساعة وخمس دقائق

ساعة وخمس وخمسون دقيقة

ساعتان

ساعتان وخمس دقائق

أكمل الجدول التالي:

النشاط	وقت البدء	وقت الانتهاء	الزّمن المستغرق
قراءة قصيدة من الشعر	١١:١٥ صباحاً	١١:١٨ صباحاً	
ركوب درّاجة هوائية	٣:٥٥ عصراً		نصف ساعة
صيد السمك		٦:٢٥ مساءً	ساعة ونصف



بدأت هند مساعدة والدتها في أعمال البيت
في الوقت الذي تشير إليه الساعة المجاورة،
وانتهت من ذلك الساعة ٥:٥٥ مساءً

ما الزمن المستغرق لهذا النشاط؟

ساعة وخمسة وأربعون دقيقة

خمس وأربعون دقيقة

ساعة ونصف

ساعة وخمسة وثلاثون دقيقة



يعمل سالم في محلّ بقالة من الساعة السابعة صباحاً حتّى الساعة الثانية بعد الظّهر، ثمّ يأخذ استراحة ساعة واحدة، ثمّ يعود للعمل من الساعة الثالثة بعد الظّهر حتّى الساعة السابعة مساءً. يتقاضى ١٥ ديناراً عن كلّ ساعة عمل.

• كم ديناراً يأخذ في اليوم الواحد؟

