

تم تحميل هذا الملف من موقع المناهج البحرينية



\*للحصول على أوراق عمل لجميع الصفوف وجميع المواد اضغط هنا

<https://almanahj.com/bh>

\* للحصول على أوراق عمل لجميع مواد الصف الرابع اضغط هنا

<https://almanahj.com/bh/4>

\* للحصول على جميع أوراق الصف الرابع في مادة رياضيات ولجميع الفصول, اضغط هنا

<https://almanahj.com/bh/4math>

\* للحصول على أوراق عمل لجميع مواد الصف الرابع في مادة رياضيات الخاصة بـ الفصل الأول اضغط هنا

<https://almanahj.com/bh/4math1>

\* لتحميل كتب جميع المواد في جميع الفصول للـ الصف الرابع اضغط هنا

<https://almanahj.com/bh/grade4>

[almanahjbhbot/me.t//:https](https://t.me/almanahjbhbot)

للتحدث إلى بوت على تلغرام: اضغط هنا

مملكة البحرين  
وزارة التربية والتعليم  
إدارة الامتحانات / قسم الامتحانات

الرقم السري

امتحان نهاية الفصل الاول للمرحلة الابتدائية للعام الدراسي 2016/2017م  
الصف الرابع الابتدائي

الزمن: ساعة و نصف

المادة: الرياضيات (التحريري)

| السؤال | الدرجة بالأرقام | الدرجة بالحروف | توقيع المصحح | توقيع المراجع |
|--------|-----------------|----------------|--------------|---------------|
| 1      |                 |                |              |               |
| 2      |                 |                |              |               |
| 3      |                 |                |              |               |
| 4      |                 |                |              |               |
| 5      |                 |                |              |               |
| 6      |                 |                |              |               |
| 7      |                 |                |              |               |
| 8      |                 |                |              |               |
| 9      |                 |                |              |               |
| 10     |                 |                |              |               |
| 11     |                 |                |              |               |
| 12     |                 |                |              |               |
| 13     |                 |                |              |               |
| 14     |                 |                |              |               |
| 15     |                 |                |              |               |
| 16     |                 |                |              |               |
| 17     |                 |                |              |               |
| 18     |                 |                |              |               |
| 19     |                 |                |              |               |

جمعه: .....

الدرجة الكلية المعطاة بالحروف والأرقام

راجع الجمع: .....

توقيع المراجع: .....

40



بطاقة بيانات

الرقم السري

مملكة البحرين  
وزارة التربية والتعليم  
إدارة الامتحانات / قسم الامتحانات

امتحان نهاية الفصل الاول للمرحلة الابتدائية للعام الدراسي 2016/2017م

المدرسة: .....

اسم الطالب: .....

المادة: الرياضيات / التحريري (الرابع الإبتدائي) التاريخ: .....

مملكة البحرين  
وزارة التربية والتعليم  
إدارة الامتحانات / قسم الامتحانات  
امتحان نهاية الفصل الأول للتعليم الابتدائي الصف الرابع الابتدائي  
للعام الدراسي ٢٠١٦/٢٠١٧م

المادة: الرياضيات/التحريري

|  |   |  |   |
|--|---|--|---|
|  | ٢ |  | ١ |
|--|---|--|---|

اكتب العدد ٦٢١٥٣١٢ بالصيغة اللفظية والصورة التحليلية.



الصيغة اللفظية



الصورة التحليلية

|  |   |  |   |
|--|---|--|---|
|  | ١ |  | ٢ |
|--|---|--|---|

حوظ الإجابة الصحيحة :  
القيمة المنزلية للرقم ٨ في العدد ٢٨٣٢٣٥١ هي :

٨٠٠٠٠٠

٨٣٢٣٥١

٨٠٠

٨

|  |   |  |   |
|--|---|--|---|
|  | ٢ |  | ٣ |
|--|---|--|---|

أوجد ناتج كل مما يأتي:

|   |   |
|---|---|
| $\begin{array}{r} ١٩٥٧ \\ ١٤٤٨ - \\ \hline \end{array}$ | $\begin{array}{r} ٣٣٢٥ \\ ٤٦٨٢ + \\ \hline \end{array}$ |
|---|---|

٢

٤

اشترى احمد منزل على أن يدفع قيمته على أقساط شهرية ، قيمة كل قسط ٤٠٠ دينار .  
فما مقدار ما يدفعه في ٦ أشهر ؟



٢

٥

أكتب رقمًا مناسبًا في  لتحصل على جملة عددية صحيحة في كل مما يأتي:

$$٦ \square ٣٩٥٣ < ٦٢٢٩٤١$$

$$٨ \square ٥١٤٦٢ = ٨٧٥ \square ٤٦٢$$

٢

٦

قدر ناتج الضرب

$$= ٤ \times ٤٣$$



\_\_\_\_\_

$$= ٣ \times ٦٦٤$$



\_\_\_\_\_

٢

٧

لدى خالد ٣٥٧ ديناراً صرف منها ١٢٣ ديناراً. فكم ديناراً تقريباً تبقى لديه؟



٣

٨

الجدول الآتي يبين المدة الزمنية بالدقائق التي تستغرقها بعض المعلمات للوصول للمدرسة :

| المدة الزمنية بالدقائق التي تستغرقها بعض المعلمات للوصول للمدرسة |       |
|--|-------|
| المعلمة  | الزمن |
| فاطمة  | ٤٥    |
| مريم   | ١٠    |
| نورة   | ١٥    |
| سميرة  | ٨     |
| عبير   | ١٠    |

من الجدول أعلاه أكمل كل مما يأتي :



• المنوال = \_\_\_\_\_



• القيمة المتطرفة = \_\_\_\_\_




• الوسيط = \_\_\_\_\_

٩

١

أكمل الجملة العددية وأذكر الخاصية التي استعملتها:

 \_\_\_\_\_ الخاصية ،  $(٨ + ٢) + \square = ٨ + (٢ + ٦)$

١٠

٢

رتب الأعداد الآتية من الأصغر إلى الأكبر:



٦٥٢٣٤ ، ١٨٥٢٣٤ ، ٦٨٥٢٣٤ ، ٦٦٨٢٣٤  
 \_\_\_\_\_ ، \_\_\_\_\_ ، \_\_\_\_\_ ، \_\_\_\_\_  
 الأصغر الأ أكبر

١١

٢

أكتب تعبيراً عددياً و جملة عددية يمثل الرسم الآتي :




- تعبير عددي \_\_\_\_\_ 
- جملة عددية \_\_\_\_\_ 

١٢

٢

أوجد قيمة كل تعبير جبري مما يأتي إذا علمت أن  $س = ٣$  ،  $ص = ٢$  .

  $س + ٩$  \_\_\_\_\_

  $١ - (ص + ٢)$  \_\_\_\_\_

١٣

٢

أكتب العملية التي تجعل الجمل العددية الآتية صحيحة :


$٢٣ = ٦ \square ١٧$


$١٥ = ٥ \square ٢٠$


١٤

٣

إذا تم سحب كرة من كيس به ٤ كرات حمراء ، ٣ كرات بيضاء و كرة صفراء . استعمل الاعداد لوصف احتمال كل من النواتج الآتية :

 \_\_\_\_\_ • حمراء

 \_\_\_\_\_ • صفراء

 \_\_\_\_\_ • غير بيضاء

١

١٥

حوظ الإجابة الصحيحة :  
تقريب العدد ٦٣٥٨ إلى أقرب مئة يساوي:

٧٣٠٠

٦٤٠٠

٦٣٠٠

٦٠٠٠

٢

١٦

أوجد ناتج :  $2 \times 315$

٣

١٧

أكمل الجدول الآتي:

| القاعدة: $4 \times \Delta$ |                   |
|----------------------------|-------------------|
| المخرجات $\square$         | المدخلات $\Delta$ |
|                            | ٣                 |
|                            | ٤                 |
|                            | ٥                 |



٣

١٨

أوجد ناتج:  $28 \times 543$



٣

١٩

مثل البيانات الآتية بالنقاط :

| الرياضة المفضلة لدى مجموعة من الطلاب |             |
|--------------------------------------|-------------|
| عدد الطلبة                           | الرياضة     |
| ٦                                    | كرة القدم   |
| ٤                                    | كرة الطائرة |
| ٢                                    | كرة اليد    |
| ٣                                    | السباحة     |



(انتهت الأسئلة)