

تم تحميل هذا الملف من موقع المناهج البحرينية



مراجعة الاختبار الأول في العلوم

موقع المناهج ← المناهج البحرينية ← الصف الرابع ← علوم ← الفصل الثاني ← اختبارات ← الملف

تاريخ إضافة الملف على موقع المناهج: 19:40:07 2025-02-28

ملفات اكتب للمعلم اكتب للطالب | اختبارات الكترونية | اختبارات | حلول | عروض بوربوينت | أوراق عمل
منهج انجليزي | ملخصات وتقارير | مذكرات وبنوك | الامتحان النهائي للمدرس

المزيد من مادة
علوم:

التواصل الاجتماعي بحسب الصف الرابع



صفحة المناهج
البحرينية على
فيسبوك

الرياضيات

اللغة الانجليزية

اللغة العربية

التربية الاسلامية

المواد على تلغرام

المزيد من الملفات بحسب الصف الرابع والمادة علوم في الفصل الثاني

كتاب الطالب كتاب العلوم

1

مراجعة الاختبار الثاني في مادة العلوم

2

شرح درس التغيرات في الأنظمة البيئية

3

شرح النظام البيئي والمناطق الحيوية

4

مراجعة في مادة العلوم للامتحان الأول

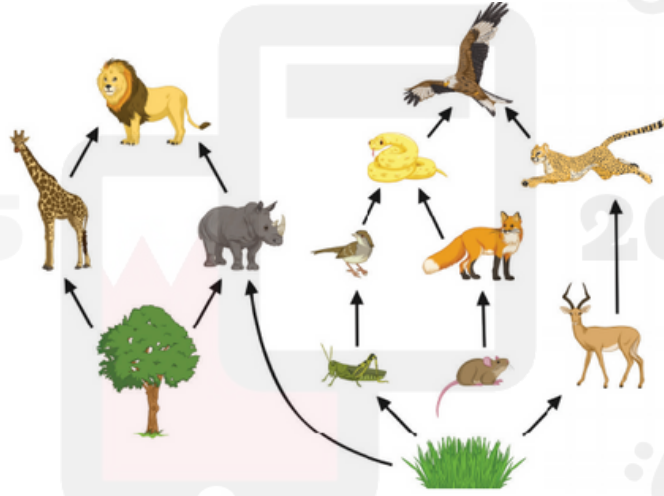
5

الصف الرابع - علوم
مراجعة الاختبار الأول للفصل الدراسي الثاني

السؤال الأول : ضع المصطلح المناسب في المكان المناسب:

النظام البيئي	المكونات غير الحية	الصحراء	المكونات الحية	جذع الشجرة
1- تسمى الكائنات الحية والمكونات غير الحية في بيئة ما ب				
2- المخلوقات التي تشكل الجزء الحي من النظام البيئي تسمى				
3- من الأمثلة على الأنظمة البيئية الكبيرة				
4- الأشياء غير الحية في النظام البيئي				
5- من الأمثلة على الأنظمة البيئية الصغيرة				

السؤال الثاني : توضح الصورة التالية شبكة غذائية : اذكر خمس سلاسل غذائية منها:



السلسلة الأولى :




السلسلة الثانية :




السلسلة الثالثة :



السلسلة الرابعة :

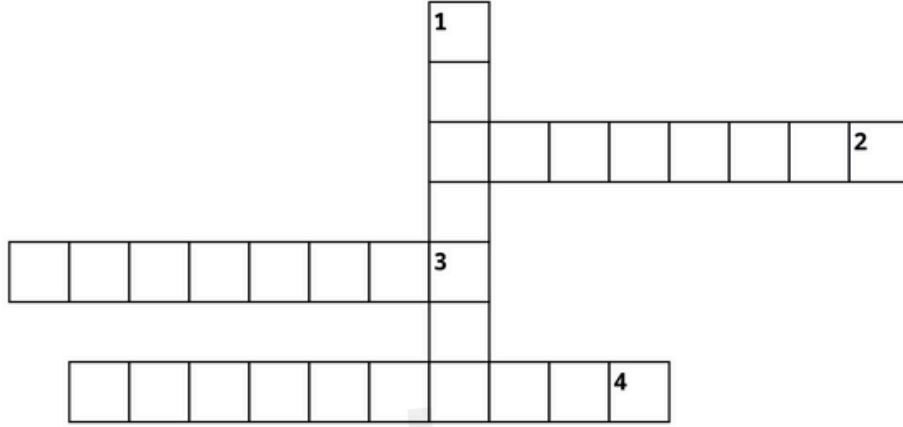


السلسلة الخامسة :



الصف الرابع - علوم
مراجعة الاختبار الأول للفصل الدراسي الثاني

السؤال الثالث :
أكمل الكلمات المتقاطعة



Across

2. مخلوقات حية تصنع غذائها بنفسها مستخدمة الطاقة من الشمس
3. تقوم بتحليل بقايا المخلوقات الحية الأخرى إلى مواد بسيطة
4. مخلوقات حية لا تصنع غذائها بنفسها وتتغذى على الكائنات الحية الأخرى

Down

1. صراع بين المخلوقات الحية على الطعام و الماء و الحاجات الأخرى

السؤال الرابع ما هو :

المجتمع الحيوي :

.....

.....

الجماعة الحيوية :

.....

.....