

تم تحميل هذا الملف من موقع المناهج البحرينية



الملف مذكرة مادة الاجتماعيات

موقع المناهج ← ← الصف الرابع ← المواد الاجتماعية ← الفصل الثاني ← الملف

روابط مواقع التواصل الاجتماعي بحسب الصف الرابع



روابط مواد الصف الرابع على تلغرام

[الرياضيات](#)

[اللغة الانجليزية](#)



[اللغة العربية](#)

[التربية الاسلامية](#)

المزيد من الملفات بحسب الصف الرابع والمادة المواد الاجتماعية في الفصل الثاني


ملخص الدروس والأنشطة	1
أنشطة عامّة لدروس الاجتماعيات	2
شرح الوحدة الرابعة الفصل الثامن/ درس النظام الشمسي	3
ملخص التطبيق الشامل لنهاية الفصل الدراسي الثاني في مادة الاجتماعيات.	4
ورقة مساندة لامتحان نهاية الفصل الثاني	5

مذكرة مادة الاجتماعيات للصف الرابع الابتدائي لفصل الدراسي الثاني لعام ٢٠٢٢-٢٠٢٣م



الاسم:

الصف:



يعتمد مديرة المدرسة: أ. هنادي مبارك

المديرة المساعدة: أ. هدى كداري

اعداد: أ. محاسن العمرو



الفهرس

10-السياحة في مملكة البحرين
11-سكان البحرين
12-التربية للمواطنة (مصادر الدخل الاسرة و تعاملاتها اليومية)
13-التربية للمواطنة (مجلس التعاون لدول الخليج العربية :السمات المشتركة)
14-التربية للمواطنة (مجلس التعاون لدول الخليج العربية : الأهداف و الانجازات)

1-موقع مملكة البحرين
2-سطح مملكة البحرين
3-مناخ مملكة البحرين
4-الموارد المائية في مملكة البحرين
5-الثروة البحرية في مملكة البحرين
6-النفط و الغاز الطبيعي في مملكة البحرين
7-التربية للمواطنة (جماعة الأصدقاء)
8-التربية للمواطنة (القيادة السياسية)
9-الصناعة في مملكة البحرين

الحمد لله رب العالمين والصلاة والسلام على سيدنا محمد وعلى آله وصحبه وسلم أجمعين
أما بعد :

فهذه مذكرة في مبحث مادة الاجتماعيات ، لما في هذه المادة من أهمية في حياتنا اليومية
ودورها في زرع حب الوطن و معرفة تاريخه .

وقد وضعت هذه المذكرة خصيصاً لطلاب الصف الرابع في مدرسة الحد الابتدائية للبنين
وهدفها التسهيل على طلابنا بكيفية دراستهم .

حيث تقدم تلخيصاً لكل درس مع أسئلة وأنشطة تعزيزية .

وننبه أن المذكرة لا تغني عن الكتاب المدرسي

أتمنى لكم فصلاً دراسياً موفقاً إن شاء الله تعالى

توزيع درجات مادة الاجتماعيات + التربية للمواطنة

اعمال السنة					اختبار ٢	اختبار ١
ملاحظة وانشطة وكراسة ومهام وسلوك	التطبيق الرابع	التطبيق ٣	التطبيق ٢	التطبيق ١	20 درجة	20 درجة
بقية الدرجات	5 درجات	5 درجات	5 درجات	5 درجات		

توقيع ولي الأمر :

نشرة التواصل : اجتماعات +
التربية المواطنة

عزيزي ولي الأمر / عزيزي التلميذ :

نهنتكم بالعام الدراسي الجديد (2022م – 2023 م) و نتواصل معكم عبر هذه النشرة راجية منكم التعاون المثمر و التواصل الدائم من أجل الارتقاء بعملية التعليم و التعلم .

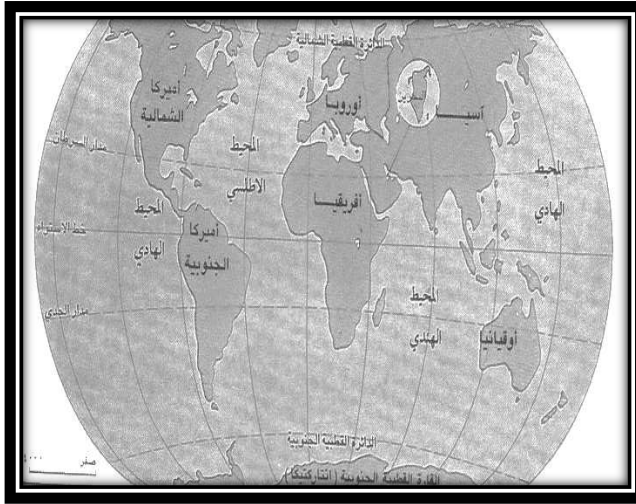
- ١- عزيزي ولي الأمر احرص دائما على متابعة و حل الأنشطة المدرسية مع التلميذ فهي مرجع مهم يدعم دراسته للكتاب و يعزز فهمه للمادة .
- ٢- توزع المدرسة نشرات تواصل لبيان الواجبات و الأنشطة و الاختبارات فاحرص على متابعتها مع التلميذ لمواكبة مستجدات المواد .
- ٣- سوف يتم استلام المذكرة من قبل المعلمة مرة في كل اسبوع أو اسبوعين ، و سوف يتم الإعلان عن هذا في النشرة الاسبوعية لذا على الطالب الالتزام في تسليمه .
- ٤- سوف يعطى الطالب عدة اختبارات بمشيئة الله تعالى طوال الفصل الدراسي ، بحيث يشمل كل اختبار درسين من دروس الكتاب .
- ٥- سوف يتم استلام مشروع او مبادرة الطالب في المادة في نهاية شهر مايو 2023م

((وفقك المولى))

شهر مايو	شهر ابريل	شهر مارس	شهر فبراير	السلوك
				١- أجلس بهدوء في الصف
				٢- أحترم زملائي في الصف
				٣- استمع إلى توجيهات معلمتي
				٤- أمتنع عن الكلام الجانبي أثناء الشرح
				٥- أشارك بفعالية في الصف
				٦- أتعاون مع أقراني في العمل التعاوني
				٧- ألتزم بأداء واجباتي في الكتاب و الدفتر في الوقت المحدد.
				٨- أنجز الأنشطة الصفية بإتقان و في الوقت المحدد
				٩- أحضر مستلزماتي لمادة الاجتماعيات لكل الحصة

ملخص الدرس (١) موقع مملكة البحرين

- تحتل مملكة البحرين موقعا جغرافيا مهما في وسط الخليج العربي
- الدول التي تحدها من الغرب و الشرق :
- (أ) من جهة الغرب من مملكة البحرين تقع مملكة العربية السعودية .
- (ب) من جهة الشرق من مملكة البحرين تقع دولة قطر .
- تقع مملكة البحرين في الجزء الشرقي من الوطن العربي .
- تقع مملكة البحرين في النصف الشمالي من الكرة الأرضية ، و بالتحديد في الجنوب الغربي لقارة آسيا .
- موقع مملكة البحرين في الخليج العربي اعطها أهمية خاصة :
- ١-مركزا مهما للمواصلات و التجارة
- ٢-حلقة وصل بين البلدان الآسيوية المطلة على المحيط الهندي و بلدان حوض البحر المتوسط و قارة أوروبا .



خريطة العالم



خريطة منطقة الخليج العربي

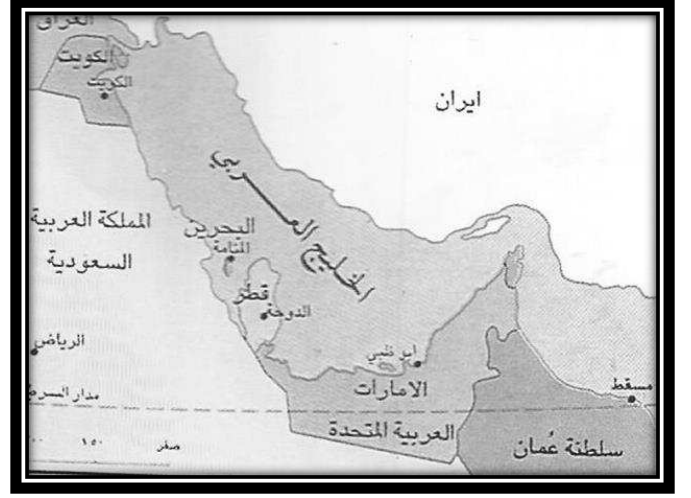
نشاط الدرس (١) موقع مملكة البحرين

س ١ : اجيب على الاسئلة التالية مستعينا بالخريطة التي أمامك .

أين تقع البحرين بالنسبة للخليج العربي ؟

ما الدول التي تحدها من الغرب و الشرق ؟

ما أهمية موقع مملكة البحرين ؟ .



س ٢ : لون الإجابة الصحيحة .


١- تقع البحرين في النصف من الكرة الأرضية .

الجنوبي

الشمالي

حل النشاط وسوف اتابعه في المرة القادمة	أحسنتم أكمل الحل	بارك الله فيكم صوب الأخطاء	حلك منظم ورائع و متميز

بقدرتي أتميز



لون نجمتك

الدرس (١) موقع مملكة البحرين

النجمة الخضراء : في أي جهة تقع مملكة البحرين من قارة آسيا ؟

.....

النجمة الصفراء: في أي جزء من الوطن العربي تقع مملكة البحرين ؟

.....

النجمة الحمراء: أكمل الفراغ التالي :

تقع مملكة البحرين في الخليج العربي .

ملخص الدرس (٢) سطح مملكة البحرين

- يتميز سطح مملكة البحرين متنوع الأشكال .
- تتألف مملكة البحرين من أكثر ٣٦ جزيرة ، و الجزيرة قطعة من اليابسة تحيط بها المياه من جميع الجهات .
- جزر مملكة البحرين متقاربة ، تكون أرخبيلًا ، كأرخبيل البحرين .
- أهم جزر مملكة البحرين :
 ١. جزيرة البحرين التي سمي بلدنا بأسمها و هي أكبر هذه الجزر .
 ٢. جزر حوار .
 ٣. جزيرة المحرق .
 ٤. جزيرة السترة .
 ٥. جزيرة النبيه صالح .
 ٦. جزيرة وجدة .
- يتميز سطح مملكة البحرين بانبساط سطحها و قلة ارتفاعه عن سطح البحر ، و يبلغ أقصى ارتفاع لسطح مملكة البحرين عند تل جبل الدخان .
- شواطئ جزر مملكة البحرين كثيرة التعاريج :
 - أهم الرؤوس : ١- رأس أبي جرجور ٢- رأس حيان ٣- رأس البر
 - أهم الخلجان : ١- خليج عراد .
 - أهم الأخوار : ١- خور القليعة ٢- خور الكاب



نشاط الدرس (٢) سطح مملكة البحرين

السؤال الأول : ضع علامة () أمام العبارة الصحيحة و () أمام العبارة الغير صحيحة .

- ١- () تتألف مملكة البحرين من أكثر من ٣٦ جزيرة .
- ٢- () اكبر جزيرة في مملكة البحرين هي جزيرة محرق .
- ٣- () جزر البحرين متقاربة لذلك تشكل ارجبيلا .
- ٤- () تبلغ أرض البحرين في أقصى ارتفاع لها عند جبل دخان .

السؤال الثاني : أذكر ثلاث اسماء من الجزر الرئيسية التي تتألف منها البحرين ؟

١- ٢- ٣-



السؤال الثالث : حدد على الخريطة ما يلي مستعينة


بخريطة الكتاب ص ٦٠

- ١- جزيرة محرق .
 - ٢- سترة .
 - ٣- أم النعسان .
 - ٤- جزر حوار .
- لون بلون البني أعلى نقطة في البحرين .

حل النشاط وسوف اتابعه في المرة القادمة	أحسنتم أكمل الحل	بارك الله فيكم صوب الأخطاء	حللك منظم ورائع و متميز

بقدرتي أتميز

الدرس (٢) سطح مملكة البحرين



لون نجمتك

النجمة الخضراء : فسر ما يلي : مملكة البحرين أرخبيل .

.....

النجمة الصفراء : أكمل الفراغ التالي :

شواطئ جزر مملكة البحرين كثيرة


النجمة الحمراء : عدد ثلاثة من جزر مملكة البحرين :

.....،.....،.....

ملخص الدرس (٣) مناخ مملكة البحرين

- **تتميز مناخ مملكة البحرين بارتفاع درجات الحرارة و قلة الأمطار بسبب:**
- مملكة البحرين تقع بالقرب من مدار السرطان ضمن المنطقة الحارة الصحراوية و هذه المنطقة تتلقى كمية كبيرة من حرارة الشمس و تتميز بقلة الأمطار.
- **مملكة البحرين تشهد فصلين أساسيين في السنة ، تتفاوت فيها درجات الحرارة :**

- (أ) فصل الصيف :شديد الحرارة و الجفاف ، لا تسقط فيه الامطار .
 - (ب) فصل الشتاء: تنخفض خلاله درجات الحرارة قليلا ، و تسقط كميات قليلة من الامطار.
- أما الربيع و الخريف فهما فصلان قصيران في مملكة البحرين



- يقل النبات الطبيعي في مملكة البحرين بسبب قلة الأمطار .
- يتميز النبات في مملكة البحرين بقدرته على تحمل الجفاف .
- **أنواع الأعشاب و الشجيرات في مملكة البحرين :**

١- العوسج ٢- المرخ ٣- الغاف

- تقل الحيوانات البرية في مملكة البحرين لقلة الماء و النبات .
- **أهم الحيوانات البرية التي تعيش في البحرين :**

١- الغزال ٢- الأرنب ٣- الضب

- **أهم أنواع الطيور التي نجدها في مملكة البحرين :**

(أ) طيور مقيمة كالدوري و العقاب و البوم و الببل

(ب) طيور عابرة مهاجرة كالغراب و السنونو و النورس



نشاط الدرس (٣) مناخ مملكة البحرين


س ١: لماذا يتميز مناخ مملكة البحرين بارتفاع الحرارة و قلة الأمطار ؟

س ٢: كيف يكون فصل الصيف و الشتاء في مملكة البحرين ؟

س ٣: لماذا يقل النبات الطبيعي في مملكة البحرين ؟


س ٤: اذكر أهم الحيوانات البرية التي تعيش في مملكة البحرين .

س ٥: ما أنواع الطيور التي نجدها في مملكة البحرين ؟



حل النشاط وسوف اتابعه في المرة القادمة	أحسنتم أكمل الحل	بارك الله فيكم صوب الأخطاء	حلك منظم ورائع و متميز

بقدرتي أتميز



لون نجمتك

الدرس مناخ مملكة البحرين

النجمة الخضراء: ما جهود مملكة البحرين في رعاية الحيوانات البرية ؟

النجمة الصفراء: كيف تتكيف النباتات مع مناخ البحرين ؟

النجمة الحمراء : أكمل الفراغ التالي :
يتميز فصل الصيف في مملكة البحرين درجة الحرارة

ملخص الدرس (٤) الموارد المائية في مملكة البحرين

- مملكة البحرين قليلة الأمطار ، و لا توجد فيها أنهار أو بحيرات ، و مع ذلك فهي عامرة بالسكان منذ أقدم العصور .
- اعتمد سكان مملكة البحرين في الماضي لتأمين حاجاتهم من المياه على العيون و الينابيع الطبيعية التي تتفجر مياهها عذبة في البر و البحر و يستعملونها للشرب و لري المزروعات .
- أشهر العيون في مملكة البحرين (١-عين قصاري ٢-عين عذاري ٣-عين الحنينية)
- مصادر المياه في الماضي :
- ١-العيون ٢-الكواكب (يستخرجون الماء العذب من الينابيع البحرية) ٣-حفر الآبار
- كمية المياه الجوفية المستخرجة من الآبار محدودة بسبب:
(أ) تزايد الاستهلاك (ب) تسرب مياه البحر إليها في بعض المناطق .
- عمدت مملكة البحرين إلى تأمين مصادر جديدة للمياه :
- (أ) انشأت محطات لتحلية مياه البحر (ب) محطة لمعالجة مياه الصرف الصحي لاستعمالها في ري المزروعات
- دور المواطن في المحافظة على الثروة المائية :
- ١-أستعمال الكأس في أثناء تنظيف الأسنان .
- ٢-أستعمال الرشاش للاستحمام .




نشاط الدرس (٤) الموارد المائية في مملكة البحرين

س١: علام اعتمد سكان مملكة البحرين في الماضي ، لتأمين حاجاتهم من المياه ؟

س٢:ماذا أنشأت المملكة لتأمين مصادر جديدة للمياه ؟


س٣: ما دور المواطن في المحافظة على الثروة المائية ؟

س٤: لماذا عمدت المملكة البحرين لتأمين مصادر جديدة للمياه ؟



حل النشاط وسوف اتابعه في المرة القادمة	أحسننت أكمل الحل	بارك الله فيك صوب الأخطاء	حلك منظم ورائع و متميز

بقدرتي أتميز



لون نجمتك

الدرس الموارد المائية في مملكة البحرين

النجمة الخضراء : ما الفرق بين الكواكب و العيون ؟

.....

النجمة الصفراء : ما اهمية المحافظة على الموارد المائية في مملكة البحرين؟

.....

النجمة الحمراء : عدد أشهر العيون الموجودة في مملكة البحرين .

.....





ملخص (٦) الثروة البحرية في مملكة البحرين

اشتهرت مملكة البحرين منذ القدم بموارد البحر التي شكلت مصدرا أساسيا للدخل الوطني إلى حين اكتشاف النفط .

- ❖ من أهم مصادر الثروة البحرية في البحرين (الأسماك ، اللؤلؤ) .
- ❖ يحتوي بحر مملكة البحرين على حوالي ٥٠٠ نوع من الأسماك .
- ❖ يتميز لؤلؤ البحرين بجودة العالية ، و تعتبر البحرين أهم مركز لصيده و المنامة أهم مركز لتسويقه
- ❖ من الأسباب التي أدت إلى ضعف مهنتي الصيد الأسماك و الغوص هو تحول قسم كبير من العاملين إلى اعمال أكثر ربحا ، و منافسة زراعة اللؤلؤ الصناعي في اليابان .
- ❖ من الأعمال التي قامت بها مملكة البحرين في رعاية مهنتي صيد الأسماك و الغوص

١- تطوير ميناء المحرق لصيد الأسماك .

٢- شجعت الصيادين على استخدام مراكب الصيد الحديثة و الشباك و الحظور .

٣- تشجيع الغواصين و مساعدتهم .



نشاط الدرس (٦) الثروة البحرية في مملكة البحرين

السؤال الأول : ضع الكلمات التالية في مكانها المناسب :

المنامة – العالية – ٥٠٠ – اللؤلؤ

- ١- يحتوي بحر مملكة البحرين على حوالي نوع من الأسماك .
- ٢- من المصادر الثروة البحرية في البحرين الأسماك و
- ٣- يتميز لؤلؤ البحرين بجودته
- ٤- من أهم مراكز تسويق اللؤلؤ في البحرين


السؤال الثاني : علل ما يلي : (اذكر السبب)

ضعفت مهنتي الصيد و الغوص في مملكة البحرين .

.....
السؤال الثالث : ماذا فعلت المملكة البحرين لرعاية مهنتي الصيد و الغوص ؟
.....

حل النشاط وسوف اتابعه في المرة القادمة	أحسنتم أكمل الحل	بارك الله فيكم صوب الأخطاء	حللك منظم ورائع و متميز

بقدرتي أتميز



الدرس الثروة البحرية في مملكة البحرين

النجمة الخضراء : ما المقصود بالثروة البحرية ؟

.....

النجمة الصفراء : ما أهمية الثروة البحرية في مملكة البحرين ؟

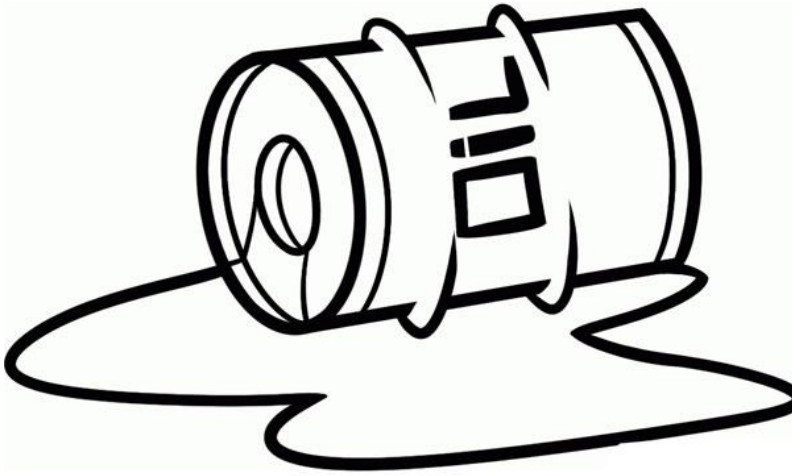
.....

النجمة الحمراء : أذكر ثلاثة أنواع من الاسماك موجودة في مملكة البحرين.

.....

ملخص الدرس (٧) النفط و الغاز الطبيعي في مملكة البحرين

- ❖ اكتشف أول بئر للنفط في البحرين في منطقة جبل الدخان ، سنة ١٩٣٢ م .
- ❖ تمتلك البحرين ثروة كبيرة من الغاز الطبيعي .
- ❖ يتم استخدام الغاز الطبيعي الذي تنتجه البحرين في تشغيل محطات توليد الكهرباء و مصنع ألبا للألمنيوم .
- ❖ تلعب عائدات النفط دورا مهما في نهضة البحرين في مجالات الصناعة و الزراعة و التجارة و العمران و الصحة و التعليم .
- ❖ أنشئت في سترة مصفاة لتكرير النفط الخام ، و هي أكبر مصافي في دول الخليج العربية .
- ❖ تعمل هذه المصفاة على تكرير نفط البحرين الخام ، كما تكرر جزءا من النفط السعودي الخام الذي يصل إليها عن طريق الانابيب ، و يتم تصدير النفط المكرر من ميناء سترة إلى أسواق النفط في العالم .



نشاط الدرس (٧) النفط و الغاز الطبيعي في مملكة البحرين

س ١ : ضع الكلمات التالية في مكانها المناسب

جبل الدخان - محطات توليد الكهرباء - ١٩٣٢ - مصنع البتة للألومنيوم - سترة

١- اكتشف النفط في البحرين سنة

٢- اكتشفت أول بئر في منطقة

٣- انشئت في مصفاة لتكرير النفط الخام ، و هي من أكبر المصافي في دول الخليج العربي .


٤- يستخدم الغاز الطبيعي الذي تنتجه البحرين في تشغيل و

س ٢ : ما دور عائدات النفط في نهضة البحرين ؟

.....
.....


س ٣ : عبر عن هذه الصورة بجملة واحدة .

.....



حل النشاط وسوف اتابعه في المرة القادمة	أحسنتم أكمل الحل	بارك الله فيكم صوب الأخطاء	حللك منظم ورائع و متميز

بقدرتي أتميز



لون نجمتك

الدرس النفط و الغاز الطبيعي في مملكة البحرين

النجمة الخضراء: ما الفرق بين النفط و الغاز الطبيعي ؟

.....

النجمة الصفراء: ما أهمية النفط و الغاز الطبيعي في مملكة البحرين ؟

.....

النجمة الحمراء: ضع علامة (صح) أمام العبارة الصحيحة :

() ساهمت عائدات النفط في نهضة مملكة البحرين

() يستخدم الغاز الطبيعي في تشغيل السيارات .

نشاط التربية للمواطنة (جماعة الأصدقاء)

السؤال الأول : ضع دائرة حول الحرف الدال على الإجابة الصحيحة على العبارة التالية :

١- أكسب صداقات جديدة ومميزة إذا:

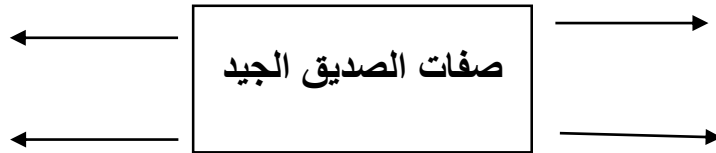
أ- شاركت في نشاطات المدرسة ب- تركت أصدقائي وقت الشدة

ج- انعزلت عن الآخرين د- شاركت أصدقائي في الفرح فقط

السؤال الثاني : ضع علامة () أمام العبارة الصحيحة و علامة () أمام العبارة الخاطئة .


١. () من خصائص الصداقة تباعد العمر بين الصديقين.
٢. () الصداقة رابطة تجمع بين البشر تبعث فيهم الانانية و الانعزال
٣. () رفقاء السوء هم الذين يتميزون بالحيوية و الجدية في المدرسة
٤. () انصح صديقي بشدة و عنف إذا قام بتصرفات طائشة مخلة بالأداب
٥. () الصداقة الحقة هي الصداقة التي تشجعني على البغضاء و الكراهية

السؤال الثالث : للصداقة الجيدة صفات عدة ، من خلال هذه أكمل الشكل الاتي :



حلك منظم ورائع و متميز	بارك الله فيك صوب الأخطاء	أحسننت أكمل الحل	حل النشاط وسوف اتابعه في المرة القادمة

بقدرتي أتميز



لون نجمتك

نشاط التربية للمواطنة (جماعة الأصدقاء)

النجمة الخضراء : من هم رفاقك السوء ؟ و كيف تتجنبهم ؟

.....

النجمة الصفراء : عدد بعض الصفات التي تجعل من اختيارك لصديقك
اختيارا موقفا .

.....

النجمة الحمراء : عدد آداب الصداقة التي يجب مراعاتها .

.....

نشاط التربية للمواطنة (القيادة السياسية)


س ١ : يرعى جلالة الملك حمد بن عيسى آل خليفة حفظه الله ورعاه مصالح المواطنين ، و يسهر على راحتهم و أمنهم و استقرارهم ، فما واجبك تجاه جلالته ؟

س ٢ : اشطب الأحرف المتشابهة لتحصل على تاريخ تولي صاحب الجلالة الملك حمد بن عيسى آل خليفة حكم مملكة البحرين .

س ٣ : بثت القناة الفضائية البحرينية خطابا لجلالة الملك حمد بن عيسى آل خليفة في العيد الوطني :
أ-متى تحتفل مملكة البحرين بالعيد الوطني :
ب-لماذا يلقي جلالة الملك حمد بن عيسى آل خليفة خطابا في هذا اليوم ؟

حل النشاط وسوف اتابعه في المرة القادمة	أحسنتم أكمل الحل	بارك الله فيكم صوب الأخطاء	حلك منظم ورائع و متميز

بقدرتي أتميز



لو نجمتك

التربية للمواطنة (القيادة السياسية)

النجمة الخضراء : ما صفات القائد الجيد ؟

.....

النجمة الصفراء : ما الذي يترتب على حبك لوطنك البحرين ؟

.....

النجمة الحمراء : سم اثنين من الرموز الوطنية .

.....

ملخص الدرس (٨) الصناعة في مملكة البحرين

- شهدت مملكة البحرين نمواً صناعياً كبيراً بسبب اكتشاف النفط .
- **أهم الصناعات مملكة البحرين :**
 - ١- الصناعة الغذائية (تعليب التمور / طحن الحبوب / منتوجات الالبان / الحلويات / المرطبات)
 - ٢- الصناعة الكيماوية (صناعة الاصباغ / الأدوات البلاستيكية // الورق)
 - ٣- صناعة المواد البناء (الأثاث / التجهيزات المكتبية)
 - ٤- الحرف القديمة (صناعة مراكب الصيد في المحرق و المنامة /صناعة النسيج في قرية بني جمرة /صناعة الفخار في عالي)
- **أبرز المناطق الصناعية في مملكة البحرين :**
 - ١- المنطقة الصناعية حول ميناء سلمان في المنامة
 - ٢- المنطقة الصناعية في جزيرة سترة
 - ٣- المنطقة الصناعية في جنوب مدينة الحد .
- وضعت مملكة البحرين خطة لتطوير الصناعة من أجل زيادة الانتاج الصناعي في مملكة البحرين و توفير المزيد من فرص العمل للمواطنين .
- **أهم مصانع مملكة البحرين :**
 - ١-مصنع تكرير النفط .
 - ٢-مصنع تسييل الغاز .
 - ٣-مصنع ألبا للألومنيوم.
 - ٤-مصنع البتروكيماوات.
 - ٥-الحوض الجاف لبناء السفن و إصلاحها ،

نشاط الدرس (٨) الصناعة في مملكة البحرين

س١: أذكر بعض الصناعات الحديثة في مملكة البحرين .

س٢: اكمل الجدول التالي :


أهم المناطق التي اشتهرت بها	الحرف القديمة
	صناعة الفخار
	صناعة النسيج
	صناعة مراكب الصيد

س٣: عدد أبرز المناطق الصناعية في مملكة البحرين :

س٣: لماذا عمدت مملكة البحرين إلى وضع خطة لتطوير الصناعة فيها :

حل النشاط وسوف اتابعه في المرة القادمة	أحسنتم أكمل الحل	بارك الله فيكم صوب الأخطاء	حللك منظم ورائع و متميز

بقدرتي أتميز



لون نجمتك

الصناعة في مملكة البحرين

النجمة الخضراء: فسر ما يلي : تبني المصانع بعيدا عن التجمعات السكنية

.....

النجمة الصفراء : ماذا يحدث للمصانع إذا لا يوجد فيها نطف و غاز طبيعي .

.....

النجمة الحمراء: عدد بعض مصانع مملكة البحرين .

.....











ملخص الدرس (١١) السياحة في مملكة البحرين

- تشهد مملكة البحرين حركة سياحية نشطة بسبب المعالم و المرافق سياحية المتنوعة و المهيئة .
- **تنقسم المعالم السياحية في مملكة البحرين إلى قسمين :**
 - (أ) معالم سياحية طبيعية (تعدد جزرها /تنوع شواطئها)
 - (ب)معالم سياحية أثرية (قلعة عراد / قلعة الرفاع /مدافن عالي / مسجد خميس)
- **اهم المرافق السياحية المتوافرة في مملكة البحرين**
 - ١-الفنادق الضخمة ٢-المطاعم المتنوعة ٣-المساح
- **أهم الاعمال التي قامت بها مملكة البحرين لتنشيط السياحة :**
 - ١-انشئت المتاحف (متحف مملكة البحرين / متحف قلعة عراد)
 - ٢-أنشأت مركز الجسرة للحرفيين .
 - ٣-نظمت مملكة البحرين المهرجانات السياحية .
 - ٤-أنشأت المنتزهات الحديثة (كمنتزه عذاري و منتزه خليفة و بلاج الجزائر و دوحة عراد)
 - ٥-أقامت شبكة جيدة من المواصلات و الاتصالات تربط بلادنا بأحاء العالم المختلفة .
- **دور جسر الملك فهد في تنشيط السياحة في مملكة البحرين :**
 - سهل وصول السياح إلى مملكة البحرين من البلدان العربية و الاجنبية .
 - تأتي العديد من الوفود السياحية عبر مطار البحرين الدولي .

نشاط الدرس (١١) السياحة في مملكة البحرين

اكمل الجدول التالي :

المعالم السياحية الأثرية	المعالم السياحية الطبيعية

• عدد المرافق العامة التي تساعد على تنشيط السياحة .

١- ٢- ٣-

• عدد بعض الأعمال التي قامت بها المملكة لتنشيط السياحة في البحرين .

١-


٢-

• علل (اذكر السبب)

((يساعد جسر الملك فهد الذي يمتد بين مملكة البحرين و المملكة العربية السعودية

حل النشاط وسوف اتابعه في المرة القادمة	أحسنت أكمل الحل	بارك الله فيك صوب الأخطاء	حلك منظم ورائع و متميز
--	-----------------	---------------------------	------------------------

بقدرتي أتميز



لون نجمتك

السياحة في مملكة البحرين

النجمة الخضراء : كيف تجذب السياح إلى بلادك ؟

.....

النجمة الصفراء: ما دورك في المحافظة على المعالم السياحية في بلادك ؟

.....

النجمة الحمراء : عدد ثلاثة من المناطق السياحية في مملكة البحرين

.....

ملخص الدرس (١٢) سكان مملكة البحرين

- يتجمع معظم سكان مملكة البحرين منذ القدم في المناطق الشمالية و الشمالية الغربية بسبب توافر التربة الصالحة للزراعة و المياه العذبة .
- أما المناطق الجنوبية من مملكة البحرين خالية تقريبا من السكان بسبب افتقارها للتربة الصالحة للزراعة و المياه العذبة .
- يقيم حوالي سكان مملكة البحرين في المدن ، و يتوزع الربع الباقي على القرى .
- تحتل محافظة العاصمة المرتبة الأولى من حيث الكثافة السكانية .
- تعد مدينتنا المنامة و المحرق من المناطق ذات الكثافة السكانية المرتفعة .
- يقيم معظم سكان البحرين في المحرق و المنامة .
- ساعد اكتشاف النفط على ازدهار مملكة البحرين فتطور العمران و توسعت المدن و القرى و اتصل بعضها ببعض مثل المنامة و جدحفص .
- أسباب الزيادة السكانية التي شهدتها البحرين:
- تطور في مجال الطب و العناية الصحية فأدى إلى قلة عدد الوفيات الناتجة عن الأمراض والأوبئة و قد قابل ذلك ارتفاع في عدد المواليد .

نشاط الدرس (١٢) سكان مملكة البحرين

س١: لون الإجابة الصحيحة :

١- تتجمع معظم سكان البحرين في المناطق

الجنوبية من المملكة

الشمالية من المملكة

٣- ساعد اكتشاف على توسع المدن و تطور العمران .

النفط

الذهب

س٢ : علل ما يلي (أذكر السبب)

١- يتجمع سكان البحرين في المناطق الشمالية و الشمالية الغربية من المملكة .

.....

٢- يقل سكان البحرين في المناطق الجنوبية من المملكة.

.....


٣- شهدت البحرين زيادة سكانية في السنوات الماضية .

.....

حل النشاط وسوف اتابعه في المرة القادمة	أحسنتم أكمل الحل	بارك الله فيكم صوب الأخطاء	حلك منظم ورائع و متميز

درس (١٢) سكان مملكة البحرين

بقدرتي أتميز



لون نجمتك

النجمة الخضراء : ماذا يحدث برأيك إذا ارتفعت الكثافة السكانية في بلادك ؟

.....

النجمة الخضراء : اذكر عوامل التي تؤدي إلى جذب السكان إلى منطقة ما ؟

.....

النجمة الصفراء : عدد ثلاث مدن في مملكة البحرين

.....















.....

:

.....

.

.....

نشاط الدرس التربوية للمواطنة (مصادر الدخل الأسرة و تعاملاتها اليومية)

س ١ : وضح فائدة كل عمل بالنسبة إلى :

(أ)الأسرة :

(ب)الوطن :

س ٢ : من أنا ؟

١-أعالج المرضى

٢-أحافظ على الأمن بين الناس

٣-أحرق الأرض و ازرعها

٤-أصلح الأجهزة الكهربائية و المعدات عندما تتعطل

س ٣ : عدد بعض الخدمات التي توفرها الاسرة لإفرادها :


.....

.....

حل النشاط وسوف اتابعه في المرة القادمة	أحسنتم أكمل الحل	بارك الله فيك صوب الأخطاء	حللك منظم ورائع و متميز

بقدرتي أتميز

الدرس(مصادر الدخل الأسرة و تعاملاتها اليومية)



لون نجمتك

النجمة الخضراء : ماذا تعرف عن مشروع الأسر المنتجة ؟

.....

النجمة الصفراء : تخيل لو لم يعمل أحد في المجتمع ؟

.....

النجمة الحمراء : عدد بعض الأعمال التي يمارسها الافراد في حياتهم .

.....

نشاط الدرس التربية للمواطنة (مجلس التعاون لدول الخليج العربية: السمات المشتركة)

س ١ : سم الدول المكونة لمجلس التعاون لدول الخليج العربي .

.....
.....

س ٢ : ضع الكلمات الآتية في المكان المناسب من الجمل الآتية :

توثيق – الرياض – التنمية الشاملة

- ساهم مجلس التعاون لدول الخليج العربي فيروابط الأخوة بين الشعوب
- يهدف مجلس التعاون لدول الخليج العربي إلى تحقيق في جميع المجالات
- تعتبر مقرا دائما لمجلس التعاون لدول الخليج العربي .

س ٣ : علل ما يلي :

(قيام مجلس التعاون لدول الخليج العربي)


.....

٢١٠٢١ ٢ ٢١ ١ ٢ ٢

حل النشاط وسوف اتابعه في المرة القادمة	السجلات المشتركة والبيانات	بارك الله فيك	السلامة العامة المشتركة	الحل

بقدرتي أتميز

الدرس (مجلس التعاون لدول الخليج العربية : السمات المشتركة)



لون نجمتك

النجمة الخضراء : اقترح بعض الخطوات لتعزيز علاقة الدول الخليج العربية مع بعضها البعض ؟

.....

النجمة الصفراء: ما العلاقة التي تربطك بأخوتك في دول مجلس التعاون لدول الخليج ؟

.....

النجمة الحمراء : أين يوجد المقر الرئيس لدول مجلي التعاون لدول الخليج؟

.....

نشاط الدرس التربوية للمواطنة (مجلس التعاون لدول الخليج العربية (الأهداف و الانجازات)

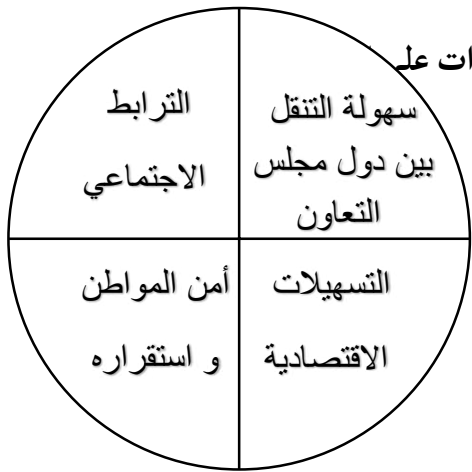
س١ : عدد بعض أهداف مجلس التعاون لدول الخليج العربية .

.....

س٢ : أهم إنجازات دول مجلس التعاون لدول الخليج العربية .

.....

س٣ : استخراج من المخطط الذي أمامك اهم الاثار الايجابية التي خلفتها الانجازات على



.....

س٤ : صنف اهم انجازات دول المجلس التعاون العربية


في الجدول التالي :

دعم القضية الفلسطينية -درع الجزيرة -حصول المواطن الخليجي

على نفس المعاملة في المستشفيات و المدارس الوطنية -حرية انتقال

السلع الوطنية بين جميع الدول الخلدجة .

النشاط وسوف اتابعه في المرة القادمة	حل	أحسنتم أكمل الحل	بارك الله فيك صوب الأخطار	حللك منظم جلائع و متميز
				العسكري
				السياسي
				الرياضي
				الاقتصادي
				الثقافي و الصحي



بقدرتي أتميز

لون نجمتك

درس مجلس التعاون لدول الخليج العربي (الأهداف و الانجازات)

النجمة الخضراء: اقترح عدد أفكار الجديدة التي قد يسهم إنجازها في دعم
مسيرة مجلس التعاون .

النجمة الصفراء: بين الهدف من التعاون بين دول مجلس التعاون لدول الخليج
العربية:

النجمة الحمراء: أكمل الفراغ التالي :
من المجالات التعاون بين دول الخليج العربية



رؤيتنا: بالعلم والقيم نرتقي وللوطن نفتدي

رسالتنا: الحد نسعى لتقديم خدمات تعليمية متطورة من خلال تهيئة بيئة تربوية آمنة محفزة للإبداع لتنشئة جيل واعٍ مخلص يرفع راية وطنه، يمتلك مهارات القرن الواحد والعشرين، قادر على مواجهة تحديات عصره في ظل شراكة مجتمعية فاعلة.

استماره متابعه كراسه الانشطه

التاريخ	كتبت التاريخ والعنوان	خطي واضح ومرتب	صوبت أخطائي السابقة	الدرجة	توقيع ولي الأمر