

تم تحميل هذا الملف من موقع المناهج البحرينية



الملف مذكرة الاجتماعيات

[موقع المناهج](#) < < < [الصف الرابع](#) < < [اجتماعيات](#) < < [الفصل الأول](#)

almanahj.com/bh

روابط مواقع التواصل الاجتماعي بحسب الصف الرابع



روابط مواد الصف الرابع على تلغرام

[الرياضيات](#)

[اللغة الانجليزية](#)

[اللغة العربية](#)

[التربية الاسلامية](#)

المزيد من الملفات بحسب الصف الرابع والمادة اجتماعيات في الفصل الأول

[مذكرة موقع البحرين وأهميته](#)

1

# مذكرة نهائية الفصل الأول

## اجماعات ثمانى اعداد

اخترى الإجابة الصحيحة من بين العبارات الآتية:-

- 1- الدولة التي تحتل المرتبة الأولى عالمياً في مخزونها النفطي:  
أ- الجزائر      ب- العراق      ج- ليبيا      د- السعودية
- 2- يحتل الوطن العربي في إنتاج الغاز الطبيعي المرتبة:  
أ- الأولى      ب- الثانية      ج- الثالثة      د- الرابعة
- 3- تتركز معظم المراعي الطبيعية في الوطن العربي في:  
أ- المغرب      ب- العراق      ج- السودان      د- مصر
- 4- يعود تسارع النمو السكاني المدني في الوطن العربي الى:  
أ- انخفاض نسبة الولادات      ب- ارتفاع نسبة الزيادة الطبيعية لسكان المدن  
ج- ارتفاع نسبة الشباب      د- ارتفاع نسبة الوفيات
- 5- المحصول الزراعي الذي يحتل المرتبة الأولى في الإنتاج الزراعي العربي:  
أ- الخضار      ب- الحبوب      ج- قصب السكر      د- الفواكة
- 6- يتبادل الوطن العربي تصديراً واستيراداً أكبر كمية من السلع مع:  
أ- الولايات المتحدة الأمريكية      ب- اليابان  
ج- المجموعة الأوروبية      د- جنوب شرق آسيا
- 7- المعدن الذي يستعمل في صناعة البطاريات هو:  
أ- الفوسفات      ب- الزئبق      ج- الحديد      د- الرصاص
- 8- تضاعف الطلب على الخدمات الأساسية في الوطن العربي نتيجة من نتائج مشكلة  
أ- السكن      ب- المواصلات      ج- العمل      د- حساب الأراضي الزراعية
- 9- تأسست جامعة الدول العربية سنة 1945 م وتم اختيار المقر الدائم لها مدينة:  
أ- دمشق      ب- الرياض      ج- القاهرة      د- بغداد
- 10- أكثر دول الوطن العربي إنتاجاً للقطن في الوطن العربي:  
أ- الجزائر      ب- مصر      ج- السودان      د- ليبيا
- 11- مشكلة سبب هجرة الفائض من الكفاءات العربية الى الخارج:  
أ- السكن      ب- البطالة      ج- المواصلات      د- التوسع على حساب الأراضي الزراعية
- 12- تتميز عواصم دول الوطن العربي مركز الصدارة من حيث عدد السكان باستثناء دولة  
في الوطن العربي:  
أ- المغرب      ب- الجزائر      ج- تونس      د- موريتانيا
- 13- يعود الفائض الكبير الذي يشهد الميزان التجاري الإجمالي للوطن العربي الى  
أ- أرباح الموازين التجارية في الدول النفطية      ب- أرباح الموازين التجارية في جميع الدول العربية  
ج- ارتفاع نسبة واردات الوطن العربي      د- أرباح الموازين التجارية في الدول الغير نفطية
- 14- تنخفض الكثافة السكانية في الوطن العربي في المناطق:  
أ- الساحلية      ب- الصحراوية      ج- الجبلية      د- الأحواض النهرية



- 15- تنتشر صناعة تكرير النفط في جميع الدول العربية ما عدا:  
أ- اليمن      ب- موريتانيا      ج- جيبوتي      د- سوريا
- 16- أكبر مدن الوطن العربي من حيث عدد السكان هي مدينة:  
أ- بغداد      ب- القاهرة      ج- حلب      د- مسقط
- 17- الدولة التي تنتج نصف الإنتاج العربي من النسيج هي:  
أ- الصومال      ب- سوريا      ج- جيبوتي      د- مصر
- 18- تبلغ نسبة الفتيان في الوطن العربي:  
أ- 45%      ب- 63%      ج- 37%      د- 30%
- 19- أكثر الدول العربية كثافة من حيث السكان:  
أ- الصومال      ب- الكويت      ج- البحرين      د- جيبوتي
- 20- أكثر الحبوب إنتاجا في الوطن العربي:  
أ- الذرة      ب- القمح      ج- الشعير      د- الأرز

موقع  
المناهج البحرينية  
almanahj.com/bh  
د- الأرز

### صوبي ماتحتة خط:-

1- أدت فتوة المجتمع العربي وتزايد الفئات غير المنتجة الى انخفاض نسبة الإعالة الاقتصادية ارتفاع  
ارتفاع نسبة الإعالة الاقتصادية

2- يحتل الوطن العربي المرتبة الثالثة في إنتاج النفط على مستوى العالم  
الأولى

3- يحتل إنتاج الغاز الطبيعي في العالم المرتبة الأولى  
الثالثة


4- المعدن الذي تستخدم صفائح لعزل الصوت والإشعاعات النووية هو الحديد  
الرصاص

5- أكثر دولة عربية في إنتاج النفط المكرر هي قطر  
السعودية

6- بلغ عدد المدن المليونية في الوطن العربي حوالي 11 مدينة  
17 مدينة

7- يتركز إنتاج الفوسفات العربي بصورة رئيسية في الجزائر  
المغرب

8- يعتمد الوطن العربي في استهلاك الطاقة على مصدرين رئيسيين هما الفحم الحجري والمسا قط  
المائية  
النفط والغاز الطبيعي



9- أكثر دول الوطن العربي تنتج الطاقة الكهرومائية في الوطن العربي العراق

مصر

10- الدولة العربية التي احتلت المرتبة الأولى بين الدول العربية في صناعة البتر وكيمياويات

هي الكويت

السعودية

على لما يلي:-

1- يعتبر مجتمع الوطن العربي مجتمعا فتيًا.

بسبب ارتفاع نسبة الولادات (الفتيان) الذين لا تتجاوز أعمارهم عن 15 سنة حوالي 45%

1- ارتفاع نسبة الزيادة السكانية الطبيعية في الوطن العربي.

بسبب ارتفاع نسبة الولادات وانخفاض نسبة الوفيات

2- ارتفاع نسبة الإعالة الاقتصادية في أكثر من دول الوطن العربي.

أ- ارتفاع نسبة الفتيان في المجتمع العربي

ب- تدني نسبة مشاركة المرأة في النشاط الاقتصادي

ج- ازدياد نسبة الطلبة في الجامعات

3- تسارع النمو السكاني المديني في الوطن العربي.

أ- ارتفاع نسبة الزيادة الطبيعية لدي سكان المدن

ب- إعداد النازحين من الريف الي المدن

ج- توافد الأيدي العاملة الأجنبية

4- هيمنة العاصمة والمدينة الرئيسية الثانية على باقي مدن الوطن العربي.

أ- استقطابها أعداد متزايدة من النازحين الريفيين

ب- القادمين من المدن أو من دول أخرى

ج- تركيز المؤسسات الحكومية والاقتصادية والصحية والتربوية

5- انخفاض نسبة أسهام النفط والغاز الطبيعي في مجموع الصادرات العربية الإجمالية.

أ- تدني إنتاج النفط

ب- تدني اسعارة في الأسواق العالمية

ج- ازدياد حصة السلع المصنعة الخفيفة والكيمياوية والمواد الغذائية في صادرات الوطن العربي

6- تدني الإنتاج السمكي في دول الوطن العربي.

أ- ندرة أساطيل الصيد الحديثة

ب- تلوث مياه الشواطئ في معظم الدول العربية

ج- دخول أساطيل أجنبية لممارسة الصيد البحري


د- ضالة استثمارات القطاع العام في المجال الزراعي

و- ارتفاع كلفة الأسمدة والمبيدات والآلات الزراعية

7- انخفاض كلفة إنتاج السلع الصناعية في الوطن العربي.

أ- انخفاض اجور الايدي العاملة .

ب- توافر اعداد كبيرة من الايدي العاملة الشابة .



8- تدني مردودية المواشي من الحليب واللحوم في الوطن العربي.  
أ- اتباع الطرق التقليدية

ب- الاعتماد الشبة الكلي على المراعي الطبيعية

9- انخفاض معدل وفيات الرضع في دول الوطن العربي.

أ- زيادة عدد المستشفيات والمراكز الصحية

ب- زيادة عدد الأطباء والممرضات

ج- انتشار حملات التوعية الصحية للأهالي

د- التطعيمات

10- قلة استخدام الطاقة الكهربائية في الوطن العربي.

بسبب قلة المساقط المائية والسدود

11- قلة أسهم الدول العربية الغير نفطية في تصريف الإنتاج الصناعي.

بسبب ضعف القدرة الشرائية لمواطني هذه البلدان

12- الفائض الكبير الذي شهده الميزان التجاري لإجمالي الوطن العربي عام 1993م.

بسبب زيادة الربح في موازين الدول النفطية

13- عدم كفاية إنتاج الصناعات التحويلية للاستهلاك المحلي في الوطن العربي.

بسبب ضعف الإنتاج وقلته

14- انخفاض نسبة المواد الغذائية من الواردات العربية.

نتيجة اهتمام الدول العربية بتنمية إنتاجها الزراعي الذي بلغ مستويات جيدة

أجيب عن الأسئلة التالية:-

في ضوء داستك لموضوع خامات المعادن في الوطن العربي وضح ما يلي:-

الدول المنتجة (الأولى)	مخالات الاستخدام	المعادن
المملكة المغربية	صناعة الأسمدة الكيماوية، المبيدات الحشرية	الفوسفات
موريتانيا	صناعة آلات المصانع وآلات الزراعة، وسائل النقل	الحديد
الجزائر	صناعة المرايا وموازن الحرارة والضغط المجالات الكهربائية، الصيدلة، الكيماوية	الزئبق
دول المغرب العربي	صناعة البطاريات، القساطل، الزجاج، الكريستال، الطلاء، الصناعات الكيماوية صفاتة / عزل الصوت والاشعاعات النووية	الرصاص

في ضوء دراستك للصناعة في الوطن العربي أكمل الجدول:-

المشاكل	المعلومات	أنواع الصناعات
1- معظم الصناعات التحويلية لا تسد احتياجات الوطن العربي 2- يفتقر القطاع الصناعي الي الصناعات الرأسمالية المتطورة 3- ترتبط الصناعة في الكثير من لوازمها بالخارج 4- التنسيق في المجال الصناعي بين الدول العربية ضعيف almanahj.com/bh	1- توافر النفط والغاز الطبيعي امن المواد الأولية لعدد من الصناعات 2- توافر المواد الأولية الزراعية في الوطن العربي 3- توافر أعداد كبيرة من الأيدي العاملة الشابة لكن لا تزال محدودة الخبرة والتخصص 4- كثرة عدد سكان الوطن العربي تؤمن الأسواق الداخلية لتصريف الإنتاج	الاستخراجية: 1- النفط والغاز 2- خامات المعادن
		التحويلية: 1- تكرير النفط 2- البتر وكيمائيات 3- الأسمدة الكيماوية 4- الاسمنت 5- الحديد والصلب 6- النسيجية


في ضوء دراستك لمصادر الطاقة أكمل الجدول الذي أمامك:-

البرز الدول المنتجة	مناطق الشار مصادر الطاقة	مصادر الطاقة
السعودية	قارة اسيا ( شمال شرق سوريا حتى جنوب عمان) قارة أفريقيا (من مصر الي الجزائر)	النفط
الجزائر وقطر	قارة اسيا ( شمال شرق سوريا حتى جنوب عمان) قارة أفريقيا (من مصر الي الجزائر)	الغاز الطبيعي
المغرب ، مصر والجزائر	-	الفحم الحجري
مصر، سوريا، العراق، المغرب، السودان، لبنان، الجزائر وتونس	على ضفاف الأنهار	الطاقة الكهرومائية

من خلال دراستك لموضوع التجارة في الوطن العربي صنف الجدول التالي:  
ما ابرز صادرات وواردات الوطن العربي:-

الواردات	الصادرات
1- السلع الرأسمالية ومعدات النقل 2- المواد الغذائية 3- المنتجات الكيماوية 4- المواد الخام	1- النفط والغاز الطبيعي 2- المنتجات الغذائية 3- المواد الكيماوية 4- الصناعات الخفيفة





ما ابرز المشاكل التي تتعرض لها المزروعات البعلية والمراعي الطبيعية:-

المراعي الطبيعية	المزروعات البعلية
1- تقلص غطاءها بفعل الرعي الجائر مما يكشف تربتها ويعرضها لانجراف 2- عوامل التعرية	1- عدم انتظام الأمطار من سنة بعد سنة 2- تعرض البلاد لموجات من الجفاف 3- السيول التي تسبب انجراف التربة 4- تقلص المساحة بسبب التوسع العمراني

من خلال دراستك لموضوع مشاكل النمو المدني في الوطن العربي صنف في الجدول الآتي الأسباب والنتائج:-

النتائج	الأسباب	مشاكل النمو المدني
1- نشؤ الأحياء الفقيرة 2- تضاعف الطلب على الخدمات الأساسية من مياه وكهرباء	عجز النازحين الي المدن من تأمين مسكن صحي ملائم	السكن
أزمات سير خانقة	زيادة وسائل النقل المختلفة	المواصلات والسير
هجرة الفائض من الكفاءات العربية الي الخارج بحثا عن عمل	عدم توافر الوظائف	البطالة
1- اختلقت مساحات شاسعة من غوطة دمشق والجزائر ومراكش التي تعتبر من أخصب الأراضي 2- تقلص مساحتها	توسع المدن وزيادة أبنيتها ومراكزها التجارية على حساب الأراضي الزراعية	التوسع العمراني على حساب الأراضي الزراعية

بيني الجهود والنتائج التي قامت بها دول الوطن العربي في مجال التعليم والصحة:-

النتائج	مجال التعليم
1- ارتفاع نسبة الإناث المتعلمات 2- ارتفاع عدد طلبية التعليم العالي 3- انخفاض نسبة الأمية	1- الاهتمام بتعليم الإناث 2- إنشاء الجامعات الجديدة 3- تطوير التعليم المهني والتقني 4- إنشاء مراكز محو الأمية
النتائج	مجال الصحة

انخفاض نسبة وفيات الرضع

- 1- زيادة عدد المستشفيات والمراكز الصحية
- 2- زيادة عدد الأطباء والممرضات
- 3- حملات التوعية الصحية للأهالي
- 4- التطعيمات

- 1- ما التدابير التي اتخذتها حكومات دول الوطن العربي : /التخفيف من الضغط السكاني .
- 1- بناء مدن جديدة مثل مدينة حمد وعيسى في البحرين، الدمام والظهران في السعودية، الرقة في سوريا، جدة في المغرب، تبسة في الجزائر
- 2- توجيه التدفق نحو مدن اخرى .

ب / الحد من النزوح الريفي . 1- تنمية الارياف عن طريق توسيع المشاريع واستصلاح الاراضي الزراعية . 2- تنشيط الصناعات الريفية والاهتمام بالخدمات التعليمية . 3- مد الريف بالماء والكهرباء . 3- عددي أهداف جامعة الدول العربية؟

موقع  
المناهج البحرينية  
almanahj.com/bh

- 1- السعي الي مزيد من التضامن بين الدول الأعضاء العربية
- 2- صيانة الاستقلال للدول الأعضاء
- 3- مساعدة الدول العربية الغير مستقلة الي نيل استقلالها
- 4- المحافظة على الأمن والسلام العربيين
- 5- تحقيق التعاون العربي في جميع المجالات

4- عددي شروط العضوية لجامعة الدول العربية؟

- 1- أن تكون عربية
- 2- أن تكون مستقلة
- 3- أن تتقدم بطلب الي الأمين العام للجامعة
- 4- أن توافق الدول الأعضاء على هذا الطلب

5- اذكر الحلول التي يمكن اعتمادها لحل مشاكل الصناعة العربية؟

- 1- زيادة المشاريع الصناعية المشتركة
- 2- تنشيط مراكز البحوث والمعاهد الصناعية
- 3- دعم التعليم الصناعي
- 4- تسهيل انتقال رؤوس الأموال بين الدول العربية

6- ما الدور التي قام به القطاع العام في التنمية الصناعية في الوطن العربي؟

- 1- ركز على الصناعة الأستخراجية
- 2- أقام الصناعات التحويلية الكبيرة
- 3- انشأ المجمععات الصناعية الكبرى
- 4- أقام مراكز التدريب المهني

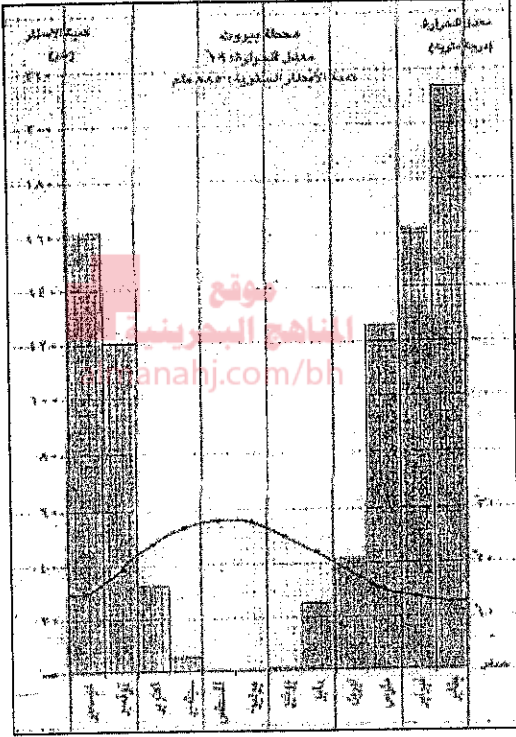
7- ما الوسائل التي اعتمدها دول الوطن العربي لتوسيع رقعة أراضيها المروية؟

- 1- قيام المشاريع مثل (بناء السدود، حفر الآبار، شق القنوات)
- 2- اعتمادها أساليب الري الحديثة مثل (التنقيط والرش)





من خلال الرسم البياني المناخي لمحطة بيروت، أجب على الأسئلة التالية:-



1- ما الشهر الاعلي حرارة؟  
يوليو وأغسطس

1- ما الشهر الادني حرارة؟  
ديسمبر ويناير

2- ما الشهر الاكثر مطرا؟  
يناير

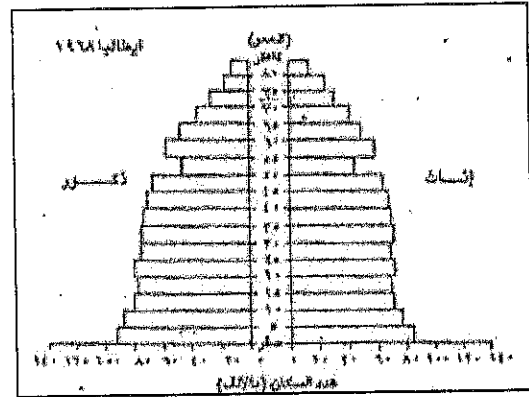
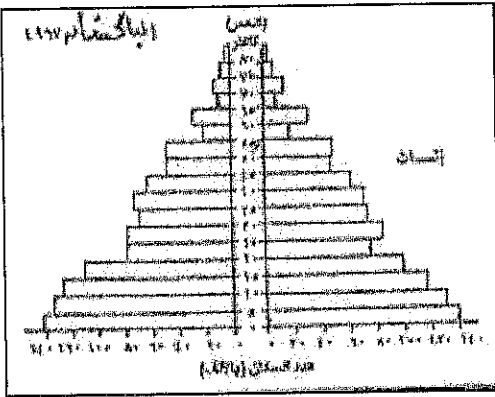
3- ما الشهر الأقل مطرا؟  
يوليو وأغسطس

4- كم بلغت كمية الأمطار التي سقطت في شهر ديسمبر؟  
885 ملم

5- ما الإقليم المناخي التي تقع فيه محطة بيروت؟  
المناخ المتوسطي

6- في أي فصل تتساقط أعلى كمية من الأمطار؟  
شتاء


من خلال هرمي أعمار (باكستان وايطاليا) اجب عن الأسئلة التالية:-



1- ما شكلي هرمي الأعمار باكستان (مثلث) وايطاليا (كمثري)

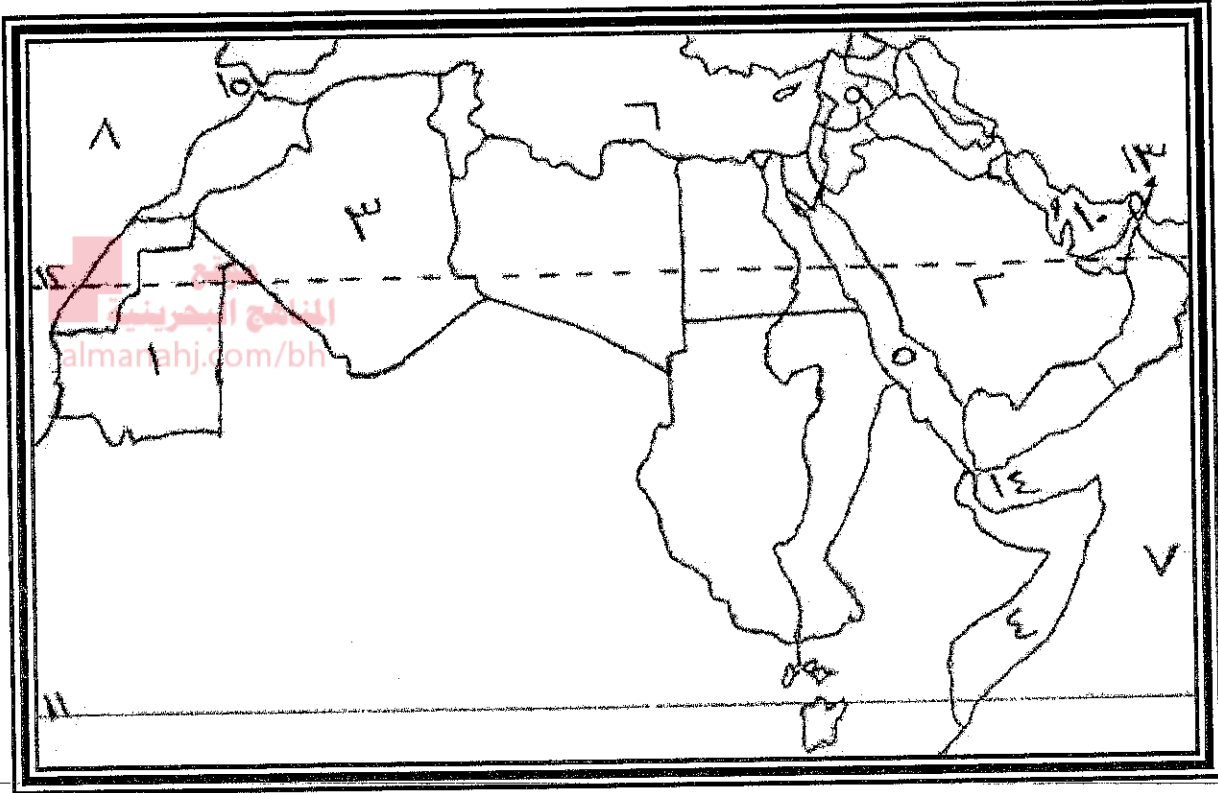
2- ما سبب اتساع قاعدة هرم أعمار باكستان؟ زيادة عدد الولادات

3- لماذا اتخذ هرم أعمار ايطاليا هذا الشكل؟ قلة عدد الولادات



- 4- لون فئة الفتيان (إناث وذكور) على هرم أعمار باكستان باللون (الأزرق)  
 5- لون فئة الفتيان (إناث وذكور) على هرم أعمار إيطاليا باللون (الأحمر)

على خريطة الوطن العربي الصماء التي أمامك، مجموعة الأرقام تمثل عدد من الظواهر الجغرافية  
 اكتب ما تمثله هذه الأرقام على الخريطة حسب البيانات التي تليها:-



- الدول: 1- موريتانيا 2- المملكة العربية السعودية 3- الجزائر 4- الصومال  
 البحار: 5- البحر الأحمر 6- البحر المتوسط 7- ليبيا 8- جيبوتي  
 المحيطات: 9- المحيط الهندي 10- المحيط الأطلسي  
 الأنهار: 11- الفرات  
 الخلجان: 12- الخليج العربي  
 خطوط العرض: 13- خط الاستواء 14- مدار السرطان  
 المضائق: 15- هرمز 16- باب المندب  
 17- جبل طارق

مع تمنياتنا للجميع بالنجاح والتوفيق

