

تم تحميل هذا الملف من موقع المناهج العُمانية



\* للحصول على أوراق عمل لجميع الصفوف وجميع المواد اضغط هنا

<https://almanahj.com/bh>

\* للحصول على أوراق عمل لجميع مواد الصف الرابع اضغط هنا

<https://almanahj.com/bh/4>

\* للحصول على جميع أوراق الصف الرابع في مادة رياضيات ولجميع الفصول, اضغط هنا

<https://almanahj.com/bh/4math>

\* للحصول على أوراق عمل لجميع مواد الصف الرابع في مادة رياضيات الخاصة بـ الفصل الثاني اضغط هنا

<https://almanahj.com/bh/4math2>

\* لتحميل كتب جميع المواد في جميع الفصول للـ الصف الرابع اضغط هنا

<https://almanahj.com/bh/grade4>

للتحدث إلى بوت على تلغرام: اضغط هنا

---

[https://t.me/omcourse\\_bot](https://t.me/omcourse_bot)

امتحان نهاية الفصل الثاني للتعليم الابتدائي للعام الدراسي 2015/2014م  
الصف الرابع الابتدائي

الزمن: ساعة ونصف

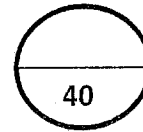
المادة: الرياضيات (التحريري)

السؤال	الدرجة بالأرقام	الدرجة بالحروف	توقيع المصحح	توقيع المراجع
1				
2				
3				
4				
5				
6				
7				
8				
9				
10				
11				
12				
13				
14				
15				
16				
17				
18				
19				
20				

الدرجة الكلية المعطاة بالحروف والأرقام جمعه: .....

راجع الجمع: .....

توقيع المراجع: .....



الرقم السري	مملكة البحرين وزارة التربية والتعليم إدارة الامتحانات / قسم الامتحانات	بطاقة بيانات
امتحان نهاية الفصل الثاني للتعليم الابتدائي للعام الدراسي 2015/2014م		
المدرسة: _____		
اسم الطالب: _____		
المادة: الرياضيات (التحريري) (الصف الرابع الابتدائي) التاريخ: _____		

مملكة البحرين

وزارة التربية والتعليم

إدارة الامتحانات / قسم الامتحانات

امتحان نهاية الفصل الدراسي الثاني للتعليم الابتدائي للعام الدراسي ٢٠١٤ / ٢٠١٥ م

الصف الرابع الابتدائي

المادة : الرياضيات / تحريري

الزمن : ساعة ونصف

أجب عن جميع الأسئلة الآتية :

٢		١
---	--	---

أكمل كل مما يأتي :

أ) ناتج  $٢٦ \div ٢ =$  .....

ب) إذا كان  $١٢ \div ٤ = ٣$  ، فإن  $١٢٠٠ \div ٤ =$  .....

١		٢
---	--	---

حوظ الإجابة الصحيحة :

تقدير ناتج  $٦٤٢ \div ٨$  هو :

٨٠٠                      ٨٠                      ٨                      ٦

٢		٣
---	--	---

أوجد ناتج :  $٣٢٧ \div ٣$  موضحاً خطوات الحل .

٤

٢

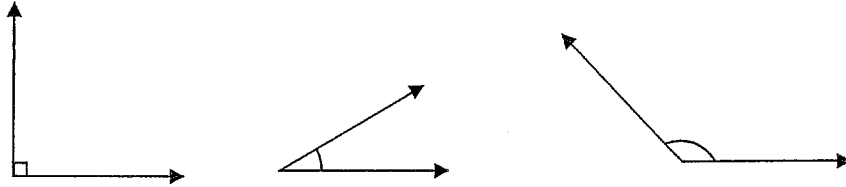
وزعت جمعية خيرية ٦٧٨ دينارًا بالتساوي على ٦ أسر فقيرة ، فكم دينارًا تأخذ كل أسرة ؟  
وضح خطوات الحل .

٥

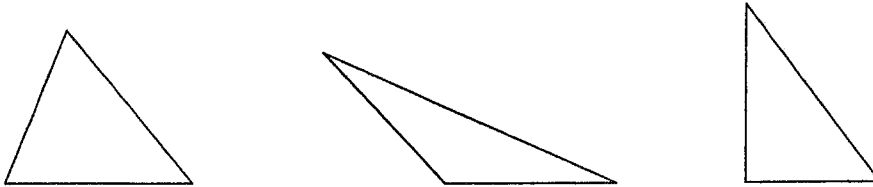
٢

حوظ الإجابة الصحيحة في كل مما يأتي :

أ ) الزاوية القائمة من بين الزوايا الآتية هي :



ب ) المثلث المنفرج الزاوية من بين المثلثات الآتية هو :




٢

٦

أكمل كل مما يأتي :

أ ) اكتب الشكل الثلاثي الأبعاد الذي يمثله المخطط المرسوم أمامك .



.....

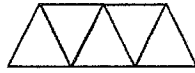
ب ) اكتب اسم الشكل الرباعي الذي له أربعة زوايا قائمة ، وأضلاعه الأربعة متطابقة.

.....

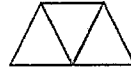
١

٧

في النمط الآتي :



الشكل الثالث



الشكل الثاني



الشكل الأول

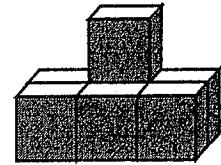
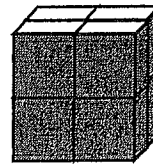
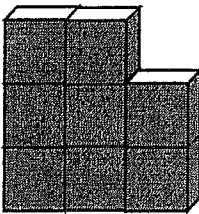
أوجد عدد المثلثات التي يتكون منها الشكل الخامس .

.....

١

٨

حوظ الجسم المختلف حجمه عن بقية المجسمات الثلاثة الأخرى فيما يأتي :



٩

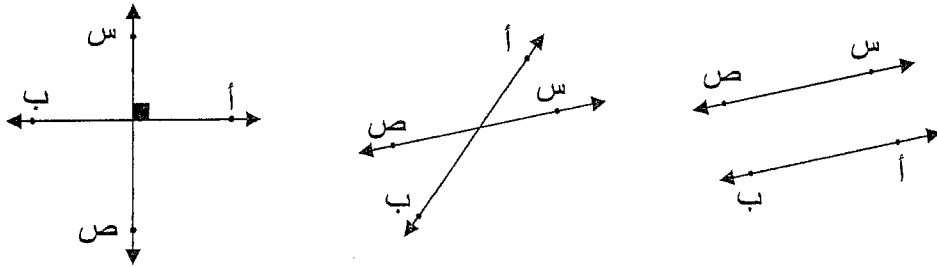
٢

حوط الإجابة الصحيحة في كل مما يأتي :

أ ( الشكل الذي يمثل الشعاع من بين الأشكال الآتية هو :

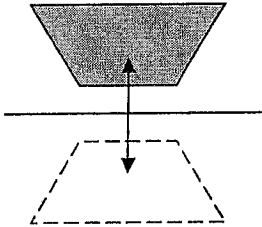


ب ( الشكل الذي يمثل المستقيمان المتعامدان فيما يأتي هو :



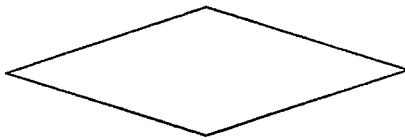
١٠

٢

أكمل كل مما يأتي :

أ ( اكتب اسم التحويل الهندسي الذي يمثله الشكل المجاور :

.....

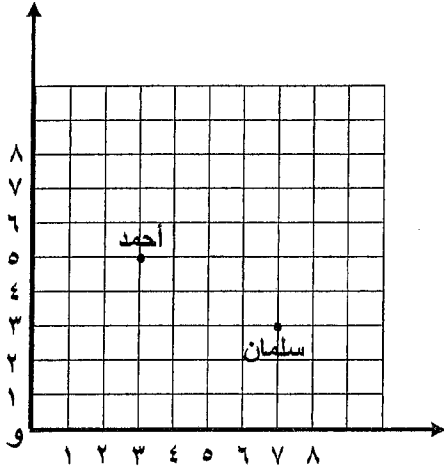


ب ( في الشكل المجاور :

عدد محاور التماثل للشكل يساوي .....

١١

٢



أ) أكمل كل مما يأتي :

موقع أحمد ( ..... ، ..... )

موقع سلمان ( ..... ، ..... )

ب) صف كيف يصل سلمان إلى أحمد .

.....

١٢

٣

حوظ الإجابة الصحيحة في كل مما يأتي :



أ) التقدير المناسب لسعة الكوب الذي في الصورة التي أمامك هو :

٢٠٠ لتر

٢٠٠ مل

٢٠ لتر

٢٠ مل



ب) التقدير المناسب لكتلة الخروف هو :

٣٥٠ كيلو جرام

٣٥٠ جرام

٣٥ كيلو جرام

٣٥ جرام

ج) طارق طالب في الصف الرابع الابتدائي ، فإن التقدير المناسب لطول طارق هو :

١٢٥ كيلو متر

١٢٥ متر

١٢٥ سنتيمتر

١٢٥ ملمتر



١٣

٢

حديقة على شكل مستطيل طولها ١٠ متر ، وعرضها ٧ متر . أوجد مساحتها .



١٤

١

ذهب أحمد إلى الحديقة الساعة ٤:١٥ مساءً ، وبقي فيها حتى الساعة ٦:٣٠ مساءً . أوجد طول الفترة الزمنية التي قضاها أحمد في الحديقة .




١٥

٣

حوط الإجابة الصحيحة في كل مما يأتي :

أ) الكسر الاعتيادي الذي يعبر عن الجزء المظلل في الشكل المجاور هو :



$$\frac{8}{3}$$

$$\frac{5}{8}$$

$$\frac{1}{2}$$

$$\frac{3}{8}$$

ب) الكسر المكافئ للكسر  $\frac{4}{6}$  من بين الكسور الآتية هو :

$$\frac{8}{10}$$

$$\frac{1}{3}$$

$$\frac{2}{3}$$

$$\frac{1}{2}$$

ج) أصغر كسر من بين الكسور الآتية هو :

$$\frac{1}{8}$$

$$\frac{4}{8}$$

$$\frac{5}{8}$$

$$\frac{3}{8}$$

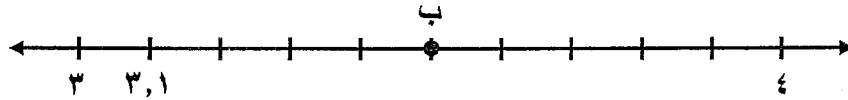
١٦

٢

أ) اكتب  $1 \frac{3}{8}$  على صورة كسر غير فعلي .

.....

ب) اكتب الكسر العشري الذي تمثله النقطة ب المرسومة على خط الأعداد في الشكل أدناه.



.....

١٧

٢

يوجد في محل بيع الطيور ١٨ عصفورًا ثلثها لونه أحمر ، والباقي لونه أصفر ، كم عدد العصافير التي لونها أصفر ؟



١٨

٣


أوجد ناتج كل مما يأتي :

أ) ..... = ٣,٥٢ + ١٧,٢٢

ب) ..... = ٠,٨ - ٠,١

١٩

٣



أكمل كل مما يأتي :

أ) في الشكل المجاور :

الكسر العشري الذي يعبر عن الجزء المظلل هو : .....

ب) تقريب  $٤,٥٧$  إلى أقرب عشر هو : .....ج) الكسر العشري المكافئ للكسر الاعتيادي  $\frac{٣}{٥}$  هو : .....

٢٠

٢

اشترى جاسم حذاء رياضي بمبلغ  $٨,٧٥$  دينارًا وكرة بمبلغ  $٤,٥$  دينارًا .

فكم دينارًا يدفع جاسم للبائع ثمنًا للحذاء والكرة معًا ؟



(( انتهت الأسئلة ))

امتحان نهاية الفصل الثاني للمرحلة الابتدائية للعام الدراسي 2014/2015م  
الصف الرابع الابتدائي

الزمن: نصف ساعة

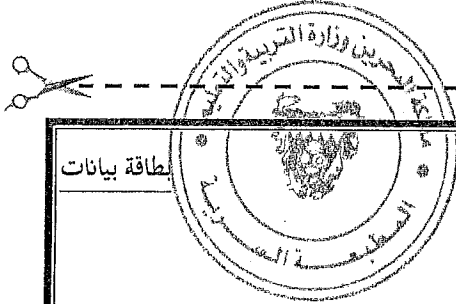
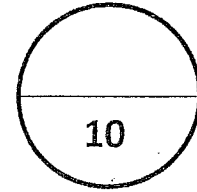
المادة: الرياضيات / الشفوي (الذهني)

السؤال	الدرجة بالأرقام	الدرجة بالحروف	توقيع المصحح	توقيع المراجع
الأول				
الثاني				
الثالث				
الرابع				
الخامس				
السادس				
السابع				
الثامن				
التاسع				
العاشر				

الدرجة الكلية المعطاة بالحروف والأرقام ..... جمعه:

..... راجع الجمع:

..... توقيع المراجع:



بطاقة بيانات

مملكة البحرين  
وزارة التربية والتعليم  
إدارة الامتحانات / قسم الامتحانات

الرقم السري

امتحان نهاية الفصل الثاني للمرحلة الابتدائية للعام الدراسي 2014/2015م

المدرسة: \_\_\_\_\_

اسم الطالب: \_\_\_\_\_

المادة: الرياضيات (الذهني) (الصف الرابع الابتدائي) التاريخ: \_\_\_\_\_

مملكة البحرين

وزارة التربية والتعليم

إدارة الامتحانات / قسم الامتحانات

امتحان نهاية الفصل الدراسي الثاني للتعليم الابتدائي للعام الدراسي ٢٠١٤ / ٢٠١٥ م

الصف الرابع الابتدائي

الزمن : نصف ساعة

المادة : الرياضيات / الشفوي (الذهني)

( ورقة الإجابة للطالب )

أجب عن جميع الأسئلة التي تستمع إليها :

الدرجة	السؤال	رقم السؤال
		١
		٢
		٣
		٤
		٥
		٦
		٧
		٨
		٩
		١٠

(( انتهت الأسئلة ))

نص الاستماع

مملكة البحرين

وزارة التربية والتعليم

إدارة الامتحانات / قسم الامتحانات

امتحان نهاية الفصل الدراسي الثاني للتعليم الابتدائي للعام الدراسي ٢٠١٤ / ٢٠١٥ م

الصف الرابع الابتدائي

المادة : الرياضيات / الشفوي (الذهني)

الزمن : نصف ساعة

( ورقة الأسئلة )

أجب عن جميع الأسئلة التي تستمع إليها :

الدرجة	السؤال	رقم السؤال
الوقت المستغرق للإجابة ٥ ثواني		
١	أوجد ضعف العدد ٣٧ .	١
١	أوجد ناتج $١٢٠٠ \div ١٠$	٢
١	أوجد ناتج $٧ \times ٩$ .	٣
الوقت المستغرق للإجابة ١٠ ثواني		
١	أوجد العدد الذي يضاف إلى ٣٥ يكون الناتج ١٠٠	٤
١	أوجد ناتج : $٢ \times ٣ \times ٨$	٥
١	أوجد ناتج : $٢٥ + ٩٥$	٦
الوقت المستغرق للإجابة ١٥ ثلثية		
١	أوجد ناتج ٤٦-١٩ .	٧
١	اكتب العدد التالي في النمط الآتي : ٢,٥ ، ٢,٦ ، ٢,٧ ، .....	٨
١	أوجد الكسر العشري الذي إذا أضيف إلى ٠,٣ كان الناتج ١	٩
١	أوجد ناتج : $٨ \div ٩٦$ .	١٠

(( انتهت الأسئلة ))