

تم تحميل هذا الملف من موقع المناهج البحرينية



الملف ملخص الدروس والأنشطة

موقع المناهج ← ← الصف الرابع ← المواد الاجتماعية ← الفصل الثاني ← الملف

روابط مواقع التواصل الاجتماعي بحسب الصف الرابع



روابط مواد الصف الرابع على تلغرام

[الرياضيات](#)

[اللغة الانجليزية](#)

[اللغة العربية](#)

[التربية الاسلامية](#)

المزيد من الملفات بحسب الصف الرابع والمادة المواد الاجتماعية في الفصل الثاني

أنشطة عامة لدروس الاجتماعية	1
شرح الوحدة الرابعة الفصل الثامن/ درس النظام الشمسي	2
ملخص التطبيق شامل لنهاية الفصل الدراسي الثاني في مادة الاجتماعية.	3
ورقة مساندة لامتحان نهاية الفصل الثاني	4
مراجعة عامة لمنتصف الفصل الثاني	5

درس 18: موقع الوطن العربي ومميزاته ص 60

يتكون الوطن
العربي من
22 دولة

تتوزع دول
الوطن
العربي على
5 أقاليم

أين يقع الوطن العربي؟

- يقع في النصف الشمالي للكرة الأرضية.
- يمر مدار السرطان في وسطه.
- يمر خط الاستواء في جنوبه.

أذكرى أسماء البحار والمحيطات والمضايق التي يطل عليها الوطن العربي.

المضايق	البحار	المحيطات
مضيق جبل طارق قناة السويس مضيق باب المندب مضيق هرمز	البحر المتوسط البحر الأحمر بحر العرب الخليج العربي	المحيط الاطلسي المحيط الهندي

عددي أقاليم الوطن العربي والدول التي تشتمل عليها.

المغرب - ليبيا
الجزائر - تونس
موريتانيا

اقليم المغرب العربي

العراق - سوريا
لبنان - الأردن
فلسطين

اقليم المشرق العربي

الكويت - البحرين قطر -
السعودية عمان - الامارات
اليمن

اقليم شبه الجزيرة العربية

مصر
السودان

اقليم وادي النيل

جيبوتي - الصومال
جزر القمر

اقليم القرن الأفريقي

يتبع .. درس 18: موقع الوطن العربي ومميزاته ص 60

ما المزايا الحضارية والتاريخية والدينية للوطن العربي؟

- 1- قامت على أراضيها أبرز الحضارات البشرية
مثل: دلمون، الفرعونية، ما بين النهرين،
الفينيقيين.
- 2- مهد الديانات السماوية الثلاث: اليهودية،
النصرانية، الاسلام.
- 3- غنى أرضه بالثروات مثل النفط.

عللي: أهمية الوطن العربي في التجارة والمواصلات.

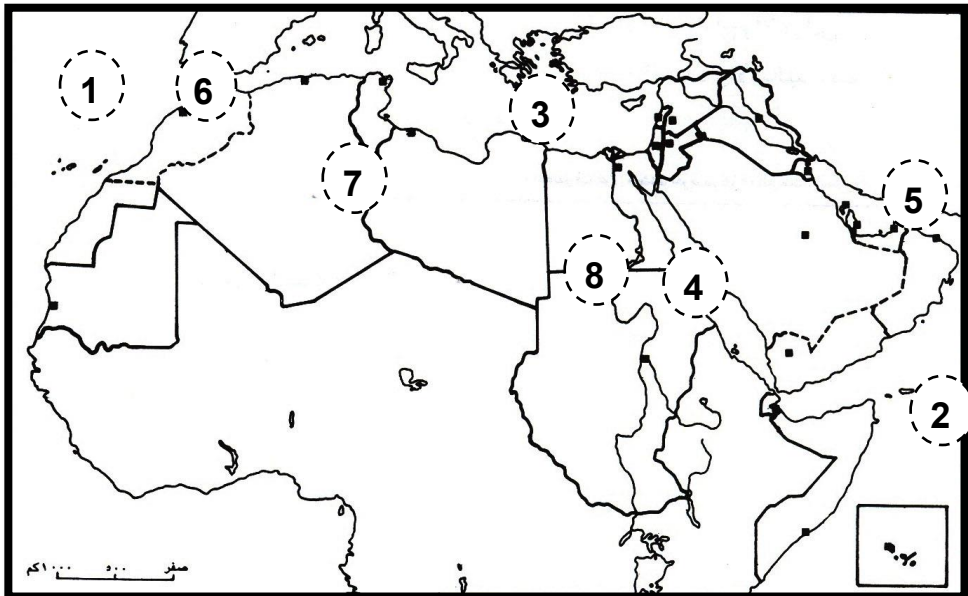
- 1- موقع وسط بين قارات آسيا و أوروبا وأفريقيا
(حلقة وصل بين شرق العالم وغربه).
- 2- تمر به طرق التجارة البحرية والبرية والجوية.

على الخريطة الوطن العربي الصماء :-

- 1- لوني إقليم المشرق العربي بالأخضر و إقليم وادي النيل بالأصفر

2 . أكتبي ما تعنيه الأرقام التالية :

- المحيطات : 1- المحيط
- البحار : 3- البحر
- المضائق : 5- المضيق
- الأقاليم : 7- الإقليم
- 2- المحيط
- 4- البحر
- 6- المضيق
- 8- الإقليم



درس 19: أشكال السطح الطبيعي في الوطن العربي ص 66
الأقاليم الطبيعية (الجبال والهضاب)

الجبال

الجبال المطلة على المحيط الأطلسي والبحر المتوسط	الجبال المطلة على المحيط الأطلسي والبحر المتوسط	المجال
مرتفعات البحر الأحمر - جبال اليمن وعسير والحجاز - جبال عُمان.	جبال أطلس جبال فلسطين ولبنان وسوريا	أسماء الجبال
قلة الأمطار - لا توجد أنهار - عند سقوط الامطار يسيل الماء في الأودية.	اعتدال الجو - وفرة المياه من الينابيع والأنهار - سكن الانسان فيها وعمل في الرعي وزراعة المدرجات.	الخصائص

الهضاب

هضاب بادية الشام	هضاب الصحراء الكبرى وشبه الجزيرة العربية
توجد في الأردن وفلسطين وسوريا والعراق. أهم المميزات: سطحها صخري - بها مساحات واسعة من الأراضي الخصبة - توجد بها كميات كبيرة من الأمطار مكنت السكان من الزراعة وتربية المواشي.	علي: تتشابه هضاب شبه الجزيرة العربية والصحراء الكبرى في طبيعتها الصحراوية. الاجابة: بسبب ندرة الأمطار. أهم المميزات: تغطي بالرمل أو الحصى والكثبان الرملية التي تنقلها الرياح - غير مناسبة للسكن ما عدا البدو الذين يستخرجون المياه من الآبار والأفلاج.

درس 20: أشكال السطح الطبيعي في الوطن العربي ص 68
الأقاليم الطبيعية (السهول والشواطئ)

1. السهول

ما الفرق بين السهول الساحلية والسهول الفيضية؟

نوع السهول	السهول الساحلية	السهول الفيضية
مكان وجودها	عند السواحل والشواطئ	حول مجاري الأنهار
كيف تكونت	تكونت من أتربة ورمال جرفتها المياه والرياح من الهضاب.	تكونت من رواسب ألقتهها مياه الفيضانات على جانبي النهر.
مميزاتها	لها نوعان: 1- صالحة للزراعة في المشرق العربي وتونس والمغرب والجزائر. 2- رملية غير صالحة للزراعة بسبب قلة المياه في شبه الجزيرة العربية و موريتانيا و ليبيا .	تربة شديدة الخصوبة - يكثر وجودها عند سهول الواقعة حول نهر النيل ودجلة والفرات.

أغلب السهول تضم المدن التي يتركز فيها السكان

الإجابة:
قليلة التعاريف

1. الشواطئ

ما هي مميزات الشواطئ في الوطن العربي؟

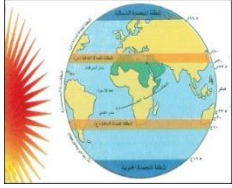
عللي: أهمية شواطئ الوطن العربي
الإجابة

- 1- تقوم عليها الموانئ التجارية والبتروولية الضخمة .
- 2- وجود فنادق ومساح واستراحات.

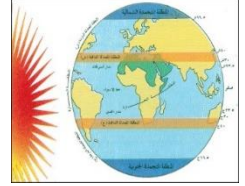
أهم الخلجان - الرؤوس - أشباه
الجزر - جزر
في الوطن العربي

الخلجان	الرؤوس	أشبه الجزر	الجزر
سرت العقبة السويس	مسندم الطيب عسير	شبه الجزيرة العربية سيناء .	أرخبيل البحرين طنب الكبرى و طنب الصغرى ابي موسى - سوقطرة - جزر القمر

درس 21: مناخ الوطن العربي ص 74



يوجد في الوطن العربي 3 مناخات



المناخ
المداري الرطب



المناخ
الصحراوي



المناخ
المتوسطي

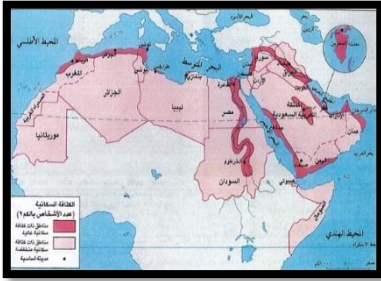
علي:
يعتبر الوطن العربي من أشد مناطق العالم حرارة وأكثرها جفافاً.

ج: لأن غالبية أراضيه تقع في المنطقة الحارة.

المناخ	المتوسطي	الصحراوي	المداري الرطب
الموقع	المنطقة الساحلية المحاذية للبحر المتوسط والجبال المطلة عليها. مثل: المغرب وليبان.	المناطق الواقعة جنوب المناخ المتوسطي- مثل: دول الخليج العربي.	المناطق الواقعة جنوبي المنطقة الصحراوية - مثل: جنوب السودان.
المميزات	الشتاء: حرارة معتدلة وأمطار غزيرة تتحول لثلوج عند أعالي الجبال. الصيف: ترتفع الحرارة وتندعم الأمطار.	ارتفاع درجات الحرارة معظم أيام السنة - الأمطار قليلة وغير منتظمة.	حرارة مرتفعة معظم أيام السنة - في الصيف تسقط كميات كبيرة من الأمطار.



درس 24: سكان الوطن العربي ص 84



تختلف الكثافة السكانية في الوطن العربي من منطقة لأخرى.

عرفي الكثافة السكانية العامة؟

هو متوسط عدد السكان لكل كيلو متر مربع.

اذكري المناطق ذات الكثافة السكانية المرتفعة في الوطن العربي؟

تعتبر البحرين ذات كثافة سكانية مرتفعة.

العواصم والمدن

عند الأنهار

المناطق الساحلية

أذكر العوامل التي تساعد على نمو السكان؟

بسبب توافر فرص العمل

بسبب توافر المياه والتربة الخصبة (الزراعة)

بسبب التجارة والمرافئ والصيد.

ج: 1- ارتفاع عدد الولادات.
2- انخفاض عدد الوفيات.
3- ارتفاع عدد المهاجرين الأجانب

أذكرى المناطق ذات الكثافة السكانية المنخفضة في الوطن العربي؟

المناطق القطبية

المناطق الصحراوية

بسبب البرودة الشديدة

بسبب الجفاف وقلة الأمطار وارتفاع الحرارة.

علي: انخفاض عدد الوفيات في الوطن العربي.

ج: 1- تحسن مستوى المعيشة.
2- تطور الخدمات الصحية.



درس 25: شبه الجزيرة العربية ص 86

المجال	إقليم شبه الجزيرة العربية
الموقع	يقع هذا الاقليم في قارة آسيا - في شرق الوطن العربي - يشرف على مضيقين هما: مضيق هرمز- مضيق باب المندب.
الدول التي يشملها	السعودية - البحرين - قطر- عمان - الكويت - الامارات - اليمن. وهي تشكل 13% - من مساحة الوطن العربي .
المناخ	حار وجاف وقليل الأمطار . سؤال على: <u>كثرة الصحاري وقلة النباتات في هذا الاقليم.</u> الجواب : بسبب قلة المياه والامطار / الجفاف / الاقليم بمدار السرطان .
الثروات الطبيعية	1- وجود ثروة سمكية .2- وجود أراضي زراعية. 3- وجود النفط والغاز في شرق إقليم، أهم الحقول: حقل الغوار في السعودية وحقل الشمال في قطر. سؤال على: <u>أهمية النفط والغاز لسكان شبه الجزيرة العربية.</u> الجواب : لأن الأموال العائدة من بيعه تساهم في العمران والتعليم والزراعة والصحة وتحسين مستوى المعيشة.



درس 26: شبه الجزيرة العربية ص 88
النشاطات الاقتصادية و توزيع السكان



إقليم شبه الجزيرة العربية

المجال

تواجه الزراعة عدة مشاكل هي :

1- قلة المياه. 2- ضيق المساحة الصالحة للزراعة.

الحل : 1- استخدام عائدات النفط لاستغلال المياه الجوفية. 2- إقامة السدود.

3- الري بوسائل حديثة. 4- استخدام الاسمدة الكيماوية. 5 - إقامة المزارع الحديثة.

الزراعة

تقوم الصناعة على النفط والغاز الطبيعي بشكل أساسي في هذا الإقليم.

سؤال اذكر أهم الصناعات في شبه الجزيرة العربية.

الجواب : البتروكيماويات - الاسمنت و مواد البناء - الحديد - الالمنيوم - المواد الغذائية - الأدوات الكهربائية - بناء السفن.

الصناعة

سؤال علني: نشطت التجارة بين دول مجلس التعاون ودول العالم.

الجواب : بسبب : 1- الموقع. 2- تحسن مستوى المعيشة. 3- توافر أموال النفط .

التجارة

سؤال علني: يتجمع السكان في المدن والعواصم.

الجواب : سبب: للعمل في التجارة والخدمات والنفط والصناعة والصيد.

سؤال علني: تراجعت حياة البداوة في شبه الجزيرة العربية.

الجواب : بسبب: 1- هجرة السكان للمدن. 2 - تنمية الأرياف والبوادي.

السكان



درس 28: المشرق العربي ص 92

إقليم المشرق العربي

المجال

أهم الصناعات: صناعة النسيج (القطن و الصوف)

الصناعة
الصناعات الغذائية: (صناعة السكر و الزيوت النباتية و المعلبات و الفاكهة المجففة و الخضار) و
صناعة الأسمدة - صناعة البتروكيماوية و تركيب الآليات و الأدوات الكهربائية .
قليلة الحديد و النحاس و كثيرة البوتاس و الفوسفات لصناعة الأسمدة الكيماوية .

سؤال علني: نشطت التجارة في بلدان المشرق العربي.

التجارة
الجواب : بسبب 1- موقعها بين الخليج العربي و البحر المتوسط. 2- وجود الموانئ المهمة مثل ميناء البصرة في العراق و اللاذقية في سوريا و العقبة في الأردن و بيروت في لبنان .

سؤال علني: ازدهار السياحة في إقليم المشرق العربي.

السياحة
الجواب : 1- إعتدال المناخ. 2- تنوع الآثار. 3- تطور الخدمات السياحية و الفندقية.

يتركز السكان في المشرق العربي في:
1- السهول. 2- حول الأنهار. 3- المدن و العواصم.

سؤال علني: توسع العمران في المدن و القرى بالمشرق العربي.

السكان
الجواب : بسبب الهجرة المستمرة لها من الأرياف و النتيجة أصبحت الأرياف فارغة من السكان و الزراعة.

درس 29 : وادي النيل ص 96



إقليم وادي النيل

المجال

الموقع

- يقع هذا الإقليم في قارة أفريقيا في الوطن العربي .
- يطل على 2 من المسطحات المائية هي: البحر المتوسط ، البحر الأحمر.

الدول التي يشملها

- مصر + السودان. سمي هذا الإقليم بهذا الاسم لأن نهر النيل يعبر أراضيها
- (مصر و السودان). وهي تشكل 25% من مساحة الوطن العربي.

المناخ

- بها مناخين هما: أ. المناخ المداري الجاف في مصر والسودان.
- ب. المناخ المداري الرطب في السودان.

الثروة الزراعية

- تتركز الزراعة عند نهر النيل لوفرة المياه لري المزروعات.
- أهم وسائل الري المستخدمة في هذا الإقليم:
- 1- الشادوف. 2- حفر القنوات. 3- بناء السدود مثل السد العالي.
- أهم المحاصيل الزراعية: القمح ، الذرة ، الأرز، قصب السكر والفول السوداني و الخضار.

الغابات

- تأخذ مساحة كبيرة من السودان وتنتج الأخشاب والصمغ العربي الذي يمثل إنتاجه 80% من إنتاج العالم.

الحيوانات

- توجد مراعي واسعة تربي فيه : الأغنام – الأبقار.
- إلى جانب وجود الأسماك التي تصطاد من : نهر النيل- بحيرة ناصر- البحر الأحمر والبحر المتوسط.

درس 30: وادي النيل ص 98



إقليم وادي النيل

المجال

تعتمد على :
أ. المواد الأولية مثل النفط والمعادن الموجودة داخل باطن الأرض.
ب. مصادر الطاقة التي تعتمد على النفط وتوليد الكهرباء من مياه نهر النيل. خصوصا (السد العالي) .
أهم الصناعات : النسيج - تعليب الخضروات - صناعة الحديد والصلب. - صناعة السكر.
ج- تتركز المصانع عند مرافئ التصدير.

الصناعة



سؤال : علني: إزدهار التجارة في مصر. الجواب بسبب :::
1- الموقع حيث تطل على البحر الأحمر والبحر المتوسط وقناة السويس .
2- وجود مواصلات نهريّة وهو نهر النيل لنقل البضائع والركاب.
3- وجود الموانئ مثل ميناء الإسكندرية و بورسعيد و بورسودان .

التجارة

سؤال : علني: إزدهار السياحة في مصر. الجواب وجود الآثار مثل الاهرامات ، المعابد ، المساجد والمتاحف.

السياحة

سؤال : علني : يتركز السكان في وادي النيل حول جانبي نهر النيل.
الجواب 1- توافر المياه. 2- خصوبة التربة للزراعة. 3- يعمل السكان في الصناعة والتجارة والزراعة وصيد الأسماك.
سؤال : علني : زيادة عدد السكان في مصر والسودان في المدن.
الجواب : بسبب الهجرة من الأرياف للمدن.

السكان

مقومات الصناعة في وادي النيل

الأيدي العاملة

الناس
العمال

مصادر الطاقة

النفط
توليد
الكهرباء

المواد الأولية

الحيوانات
المعادن
النباتات
النفط
والغاز
الطبيعي

درس 33: المغرب العربي ص 102
النشاطات الاقتصادية و توزيع السكان



إقليم المغرب العربي

المجال

تعتمد على:
أ. المواد الأولية مثل : صناعة الزيت – الصابون - تعليب الخضروات والاسماك - صناعة الأسمدة الكيماوية – صناعة الجلود - الحديد والصلب.
ب. مصادر الطاقة التي تعتمد على النفط , الغاز الطبيعي.
ج. صناعات حرفية : صناعة المنسوجات المطرزة – الحلي - الأواني الفضية و النحاسية .

الصناعة

سؤال : علي : نشطت التجارة البحرية في المغرب العربي.

الجواب : 1- الموقع حيث تطل على البحر المتوسط والمحيط الأطلسي.
2- وجود الموانئ مثل ميناء الدار البيضاء و نواكشوط و تونس و طرابلس .

التجارة

سؤال : علي : يتوافر السياح لبلدان المغرب العربي.

الجواب : بسبب : 1-وجود الآثار الاسلامية . 2-المناخ المعتدل.

السياحة

- يعيش معظم السكان في المناطق الساحلية .
- يعمل السكان في الصناعة والتجارة والزراعة وصيد الأسماك.
سؤال : علي : يعيش أغلب السكان في المغرب العربي في المدن.
الجواب : بسبب الهجرة من الأرياف للمدن- التوسع العمراني.

السكان



مهارة: تحديد المواقع على خريطة صماء.



أكتب أسماء الدول والمسطحات المائية في المكان المناسب.
(إقليم شبه الجزيرة العربية)

الدول : البحرين - السعودية - قطر - الامارات- الكويت - عمان - اليمن.

المسطحات المائية : البحر الأحمر- بحر العرب

المضائق : مضيق هرمز- مضيق باب المندب.

