

شكراً لتحميلك هذا الملف من موقع المناهج البحرينية



حل نشاط تدريبي إثرائي

[موقع المناهج](#) ← [المناهج البحرينية](#) ← [الصف الرابع](#) ← [رياضيات](#) ← [الفصل الأول](#) ← [الملف](#)

تاريخ نشر الملف على موقع المناهج: 20-04-2024 17:29:24

التواصل الاجتماعي بحسب الصف الرابع



[اضغط هنا للحصول على جميع روابط "الصف الرابع"](#)

روابط مواد الصف الرابع على تلغرام

[الرياضيات](#)

[اللغة الانجليزية](#)

[اللغة العربية](#)

[التربية الاسلامية](#)

المزيد من الملفات بحسب الصف الرابع والمادة رياضيات في الفصل الأول

بطاقة مراجعة الاختبار الثالث	1
مراجعة الاختبار الثالث في الرياضيات	2
مراجعة الاختبار الثالث في الرياضيات	3
حل مراجعة الاختبار الثالث في الرياضيات	4
حل مراجعة الاختبار الثالث في الرياضيات	5

نشاط إثرائي لمادة الرياضيات للصف الرابع الابتدائي للعام الدراسي ٢٠٢٣ / ٢٠٢٤

التاريخ:

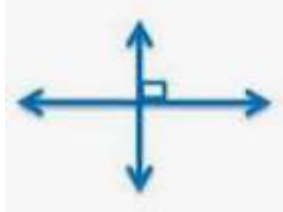
الصف:

اسم الطالبة:


السؤال الأول : صفي كلاً من الأشكال الآتية :



متوازيان



متعامدان



متقاطعان

السؤال الثاني : اكتب المصطلح المناسب للتعريفات الآتية :

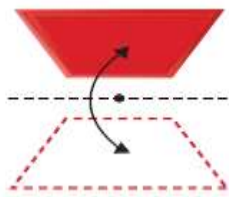
- (مستقيم) ليس له بداية ولا نهاية .

- (شعاع) له نقطة بداية وليس له نهاية .

- (قطعة) لها نقطة بداية ونقطة نهاية .

المستقيم

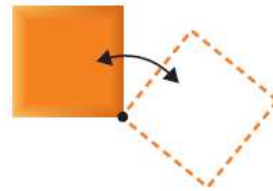
السؤال الثالث : حدد نوع التحويل الهندسي فيما يأتي :



انعكاسي





انحجاب



دوران

السؤال الرابع : أوجد محيط المربعات الآتية :

<p>٧ سم</p>  <p>٧ سم</p> <p>$4 \times 7 = 28$</p> <p>$28 \text{ سم} =$</p>	<p>٥ سم</p>  <p>٥ سم</p> <p>$4 \times 5 = 20$</p> <p>$20 \text{ سم} =$</p>
---	--

السؤال الخامس : أوجد مساحة المستطيل الآتي :

٨ سم



٣ سم

$3 \times 8 = 24$

3×8

المساحة :

$24 \text{ سم}^2 =$

السؤال السادس : ما الزمن الذي استغرقه سعيد في حل الواجب إذا بدأ الساعة ١٥ : ٦ وانتهى الساعة ٠٠ : ٧ ؟

٦ ٩

$15:06 - 07:00 = 08:06$

٨٠ : ٦ : ٩