

تم تحميل هذا الملف من موقع المناهج البحرينية



الملف مذكرة مراجعة الاختبار الثالث لمادة الرياضيات

[موقع المناهج](#) ← [الصف الرابع](#) ← [رياضيات](#) ← [الفصل الثاني](#) ← [الملف](#)

روابط مواقع التواصل الاجتماعي بحسب الصف الرابع



روابط مواد الصف الرابع على تلغرام

[الرياضيات](#)

[اللغة الانجليزية](#)

[اللغة العربية](#)

[التربية الاسلامية](#)

المزيد من الملفات بحسب الصف الرابع والمادة رياضيات في الفصل الثاني

<a href="#">مراجعة الاختبار الثالث</a>	1
<a href="#">مراجعة الاختبار الثالث لمادة الرياضيات</a>	2
<a href="#">ملخص مادة الرياضيات للفصل الثاني</a>	3
<a href="#">مذكرة مراجعة في مادة الرياضيات الفصل الثاني نموذج الإجابة</a>	4
<a href="#">القسمة على عدد واحد</a>	5

## مراجعة للاختبار الثالث لمادة الرياضيات للصف الرابع الابتدائي

### الفصل الدراسي الثاني - العام الدراسي ٢٠٢٢ - ٢٠٢٣ م

#### السؤال الأول: أجبني عن الأسئلة التالية:

١- العدد الذي تمثله كل نقطة فيما يلي على خط الأعداد هو:

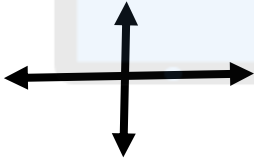


النقطة ج = .....

النقطة ب = .....

النقطة أ = .....

٢- نوع كل مستقيمان فيما يلي هو ((مستقيمان متوازيان / مستقيمان متقاطعان / مستقيمان متعامدان)):

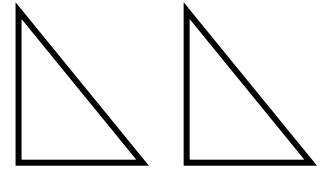
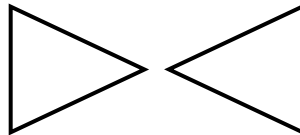
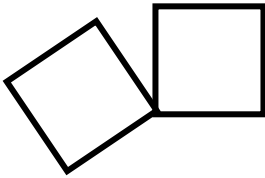


.....  
.....

.....  
.....

.....  
.....

٣- حددي نوع التحويل الهندسي في كل مما يلي ((انسحاب ، دوران ، انعكاس)):

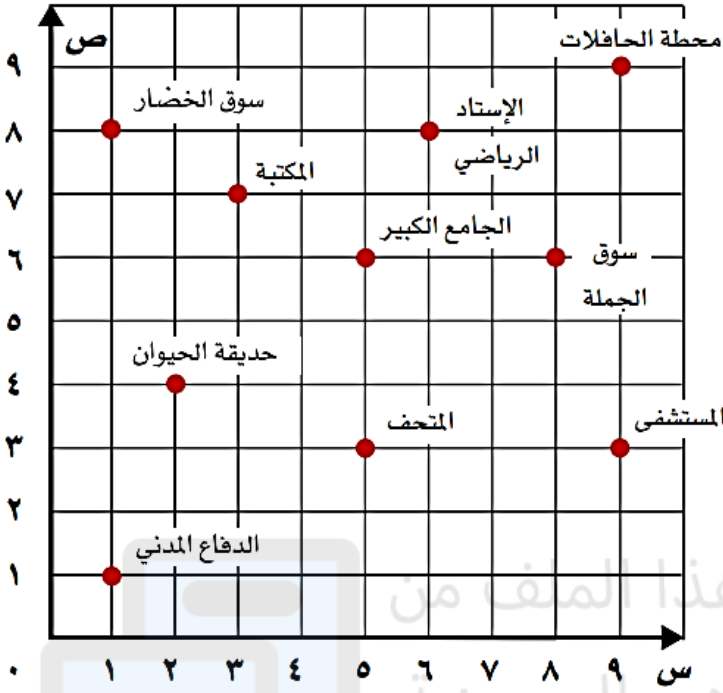


.....

.....

.....

٤- حددي كل مما يلي من خلال المستوى الإحداثي الذي أمامك:



أ. موقع المستشفى هو:

( ..... ، ..... )

ب. موقع الدفاع المدني هو:

( ..... ، ..... )

ج. موقع المكتبة هو:

( ..... ، ..... )

هـ - الزوج المرتب ( ٦ ، ٨ ) يمثل موقع:

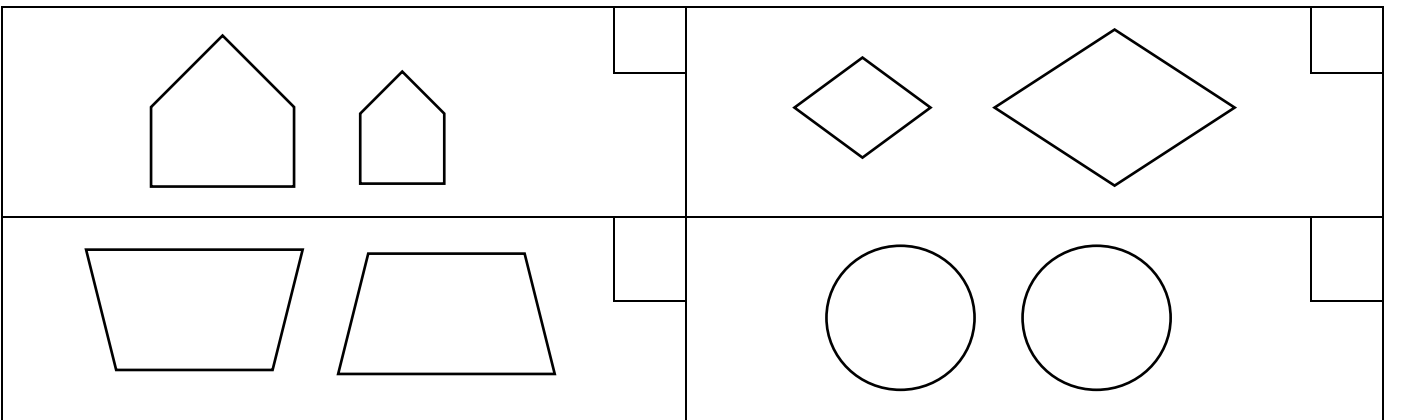
.....

د. الزوج المرتب ( ٤ ، ٢ ) يمثل موقع:

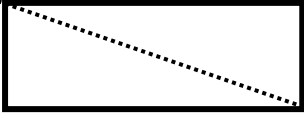
.....

السؤال الثاني: أجبني عن الأسئلة التالية:

١- ضعي علامة (✓) بجانب الشكلين المتطابقين:



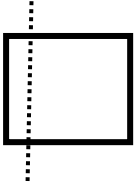
٢- رسمت مريم محور التماثل الذي أمامك للمستطيل.



(أ) هل محور مريم صحيح؟ \_\_\_\_\_

(ب) ما عدد محاور التماثل للمستطيل؟ \_\_\_\_\_

٣- رسم أحمد محور التماثل الذي أمامك للمربع.




(أ) هل محور سعاد صحيح؟ \_\_\_\_\_

(ب) ما عدد محاور التماثل للمربع؟ \_\_\_\_\_

٣- قدرني القياس المناسب لكل مما يلي :

٣ ملم	٣ سم	٣ كم	طول الجسر
٤ سم	٤ ل	٤ مل	سعة حوض السمك
١ جم	١ كجم	١ سم	كتلة مشبك ورق
٢٠ سم مكعب	١٥ سم مكعب	٢٤ سم مكعب	حجم المكعب الذي أمامك 

١- أوجدني مساحة كل من المسطيل والمربع الذي أمامك:



٣ سم



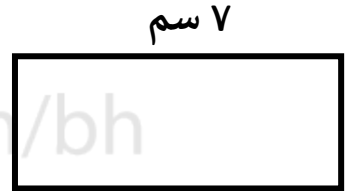
٤ سم

تم تحميل هذا الملف من

٢- أوجدني محيط كل من المستطيل والمربع الذي أمامك:



٥ سم



٣ سم

٣- أوجدني الوقت المستغرق لنشاط ما إذا كان وقت البدء ووقت الانتهاء كما هو موضح:

وقت الانتهاء ٤:٣٠

وقت البدء ٢:٠٠

الوقت المستغرق هو: \_\_\_\_\_