

تم تحميل هذا الملف من موقع المناهج البحرينية



* للحصول على أوراق عمل لجميع الصفوف وجميع المواد اضغط هنا

<https://almanahj.com/bh>

* للحصول على أوراق عمل لجميع مواد الصف الرابع اضغط هنا

<https://almanahj.com/bh/4>

* للحصول على جميع أوراق الصف الرابع في مادة علوم ولجميع الفصول, اضغط هنا

<https://almanahj.com/bh/4science>

* للحصول على أوراق عمل لجميع مواد الصف الرابع في مادة علوم الخاصة بـ الفصل الأول اضغط هنا

<https://almanahj.com/bh/4science1>

* لتحميل كتب جميع المواد في جميع الفصول للـ الصف الرابع اضغط هنا

<https://almanahj.com/bh/grade4>

[almanahjbhbot/me.t//:https](https://t.me/almanahjbhbot)

للتحدث إلى بوت على تلغرام: اضغط هنا

مراجعة المنتصف الفصل الدراسي الأول للمادة العلوم الصف الرابع

السؤال الأول :

(أ) : ضع علامة (✓) أمام العبارات العلمية الصحيحة وعلامة (x) أمام العبارات الغير الصحيحة فيما يلي :

١. () الوحدة البنائية للكائنات الحية هي الخلية .
٢. () الخلية الحيوانية تحتوي على البلاستيدات الخضراء .
٣. () القلب عبارة عن عضو وظيفته ضخ الدم إلى أجزاء الجسم .
٤. () يمكن مشاهدة الخلايا للكائنات الحية بواسطة العدسة المكبره .
٥. () الفطريات كائنات لا تستطيع صنع غذائها بنفسها .
٦. () البوغ خلية في النباتات اللابذرية تنمو لإنتاج نبات جديد .
٧. () النباتات البذرية هي النباتات التي تنتج بذورا .
٨. () ينتمي حيوان البراميسيوم الى مملكة الطلائعيات .
٩. () تصنف النباتات ضمن المخلوقات وحيدة الخلية .
١٠. () اكبر المجموعات اللافقارية هي الرخويات .

(ب) صل بين العمود (أ) وما يناسبها من العمود (ب) فيما يلي :
الجهاز الهضمي * يقوم بالتخلص من الفضلات الضارة

الجهاز الدوري * يقوم بهضم الطعام وتحويله الى مواد سهلة الأمتصاص

الجهاز التنفسي * يتحكم في جميع أجهزة جسم الإنسان


الجهاز العضلي * يساعدنا على الحركة

* يدعم الجسم ويحمي الأعضاء الداخلية فيه

* ينقل الدم والأكسجين الى جميع خلايا الجسم

السؤال الثاني :

(أ) انظر الى الرسم الذي أمامك ثم أجب عن الأسئلة التالية :



١- يسمى هذا الجزء من النبات (ساق - ورقة)

٢- وظيفة هذا الجزء من النبات القيام بعملية

(البناء الضوئي - امتصاص الماء)

٣- (الثغور - البشرة) ثقب على سطح الورقة تفتح وتغلق وتسمح

بدخول وخروج بخار الماء والهواء .

٤- من خلال عملية (النتح - البناء الضوئي) يتم التخلص من

الماء الزائد عن حاجة النبات .

ب علل لما يأتي:

١- جميع الخلايا النباتية تشبه الصناديق

.....

٢- تنمو الابواغ داخل اغلفة (محافظ) قوية

.....

٣- للنباتات اهمية كبيرة في حياتنا اليومية

.....

٤- جلد البرمائيات رطب

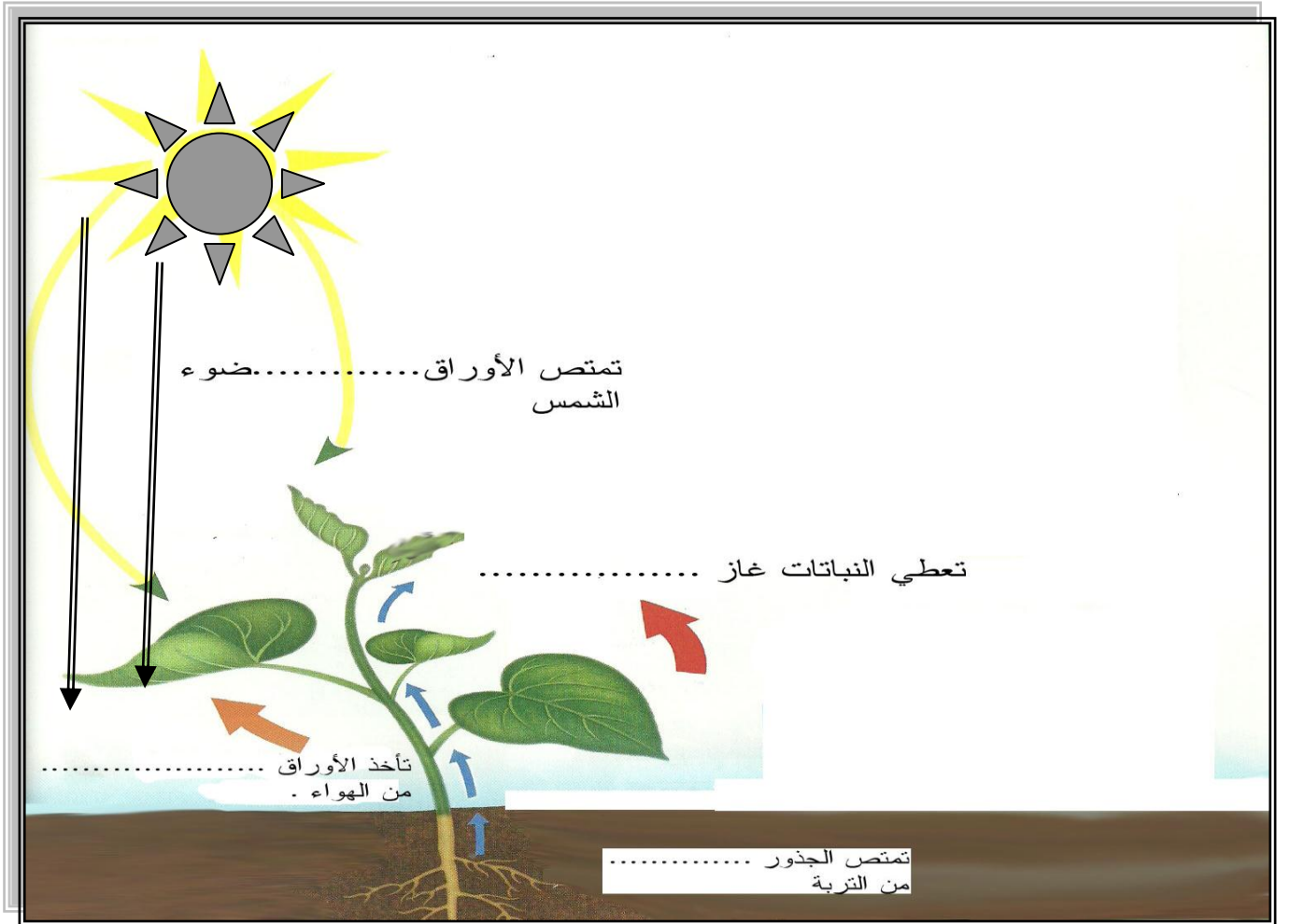
.....

٥- جلد الزواحف مغطي بالحرار شيف

٦- تقوم ورقة النبات بعملية النتج

السؤال الثالث : (أ)

أنظر الى الرسم الذي أمامك ثم أكمل الفراغات مستعينا بالكلمات العلمية التالية :
(طاقة - الأكسجين - النيتروجين - ثاني أكسيد الكربون - الماء)



أجب عن الأسئلة التالية بأجابات علمية مناسبة :

١- ما اسم هذه العملية المهمة للنبات ؟

٢- أكتب وظيفتان أساسيتان للجذر في النبات ؟

١-

٢-

السؤال الرابع :

(أ) صنف الحيوانات التالية إلى أنواعها الفقارية واللافقارية وإلى شعبتها الصحيحة :-
نمر - حمامة - الهامور - ضفدع - نجم البحر - نمل - دودة الأرض - الحلزون - قنديل البحر - ثعبان

الحيوانات اللافقارية					الحيوانات الفقارية				
الديدان	مفصليات	رخويات	شوكيات الجلد	اللاسعات	أسماك	برمائيات	زواحف	طيور	ثدييات

(ب) مستعينا بالجدول الذي أمامك قارن بين كلا من مملكة البكتيريا ومملكة النباتات من حيث :

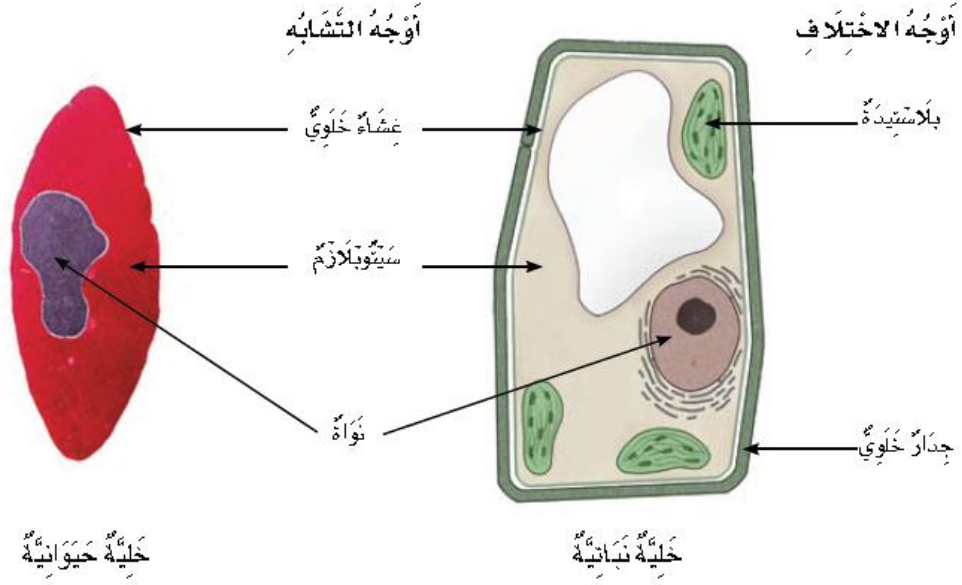
١- عدد الخلايا

٢- طريقة الحصول على الغذاء

٣- الحركة من مكان لآخر

النباتات	البكتيريا	المملكة
		عدد الخلايا (واحدة / متعددة الخلايا)
		طريقة الحصول على الغذاء (تصنع الغذاء بنفسها - لا تصنع الغذاء بنفسها)
		الحركة من مكان لآخر (تتحرك من مكانها / لا تتحرك من مكانها)

السؤال الخامس : اكتب في الجدول اسفل الرسم أوجه التشابه والاختلاف بين الخليتين النباتية والحيوانية فيما يلي :



		أوجه الاختلاف
خلية حيوانية	خلية نباتية	

أنتهت الاسئلة