

تم تحميل هذا الملف من موقع المناهج البحرينية



الملف مراجعة الاختبار الثالث

[موقع المناهج](#) ← [الصف الرابع](#) ← [رياضيات](#) ← [الفصل الثاني](#) ← [الملف](#)

روابط مواقع التواصل الاجتماعي بحسب الصف الرابع



روابط مواد الصف الرابع على تلغرام

[الرياضيات](#)

[اللغة الانجليزية](#)

[اللغة العربية](#)

[التربية الاسلامية](#)

المزيد من الملفات بحسب الصف الرابع والمادة رياضيات في الفصل الثاني

مراجعة الاختبار الثالث لمادة الرياضيات	1
ملخص مادة الرياضيات للفصل الثاني	2
مذكرة مراجعة في مادة الرياضيات الفصل الثاني نموذج الإجابة	3
القسمة على عدد واحد	4
بطاقة مراجعة لامتحان نهاية الفصل الثاني	5

مراجعة للاختبار الثالث لمادة الرياضيات للصف الرابع الابتدائي

الفصل الدراسي الثاني - العام الدراسي ٢٠٢٢ - ٢٠٢٣ م

السؤال الأول: أجبني عن الأسئلة التالية:

١- العدد الذي تمثله كل نقطة فيما يلي على خط الأعداد هو:

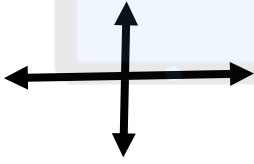


النقطة ج =

النقطة ب =

النقطة أ =

٢- نوع كل مستقيمان فيما يلي هو ((مستقيمان متوازيان / مستقيمان متقاطعان / مستقيمان متعامدان)):

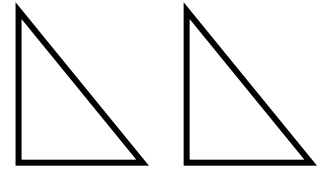
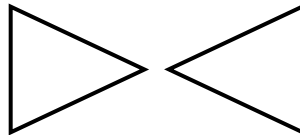
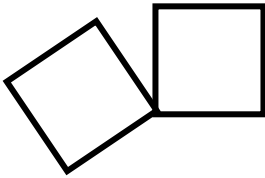


.....
.....

.....
.....

.....
.....

٣- حددي نوع التحويل الهندسي في كل مما يلي ((انسحاب ، دوران ، انعكاس)):

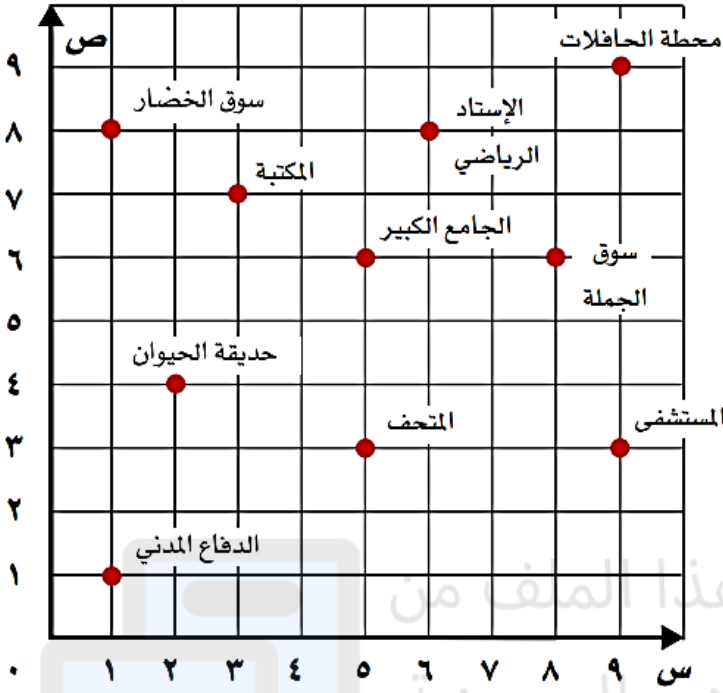


.....

.....

.....

٤- حددي كل مما يلي من خلال المستوى الإحداثي الذي أمامك:



أ. موقع المستشفى هو:

(..... ،)

ب. موقع الدفاع المدني هو:

(..... ،)

ج. موقع المكتبة هو:

(..... ،)

هـ - الزوج المرتب (٦ ، ٨) يمثل موقع:

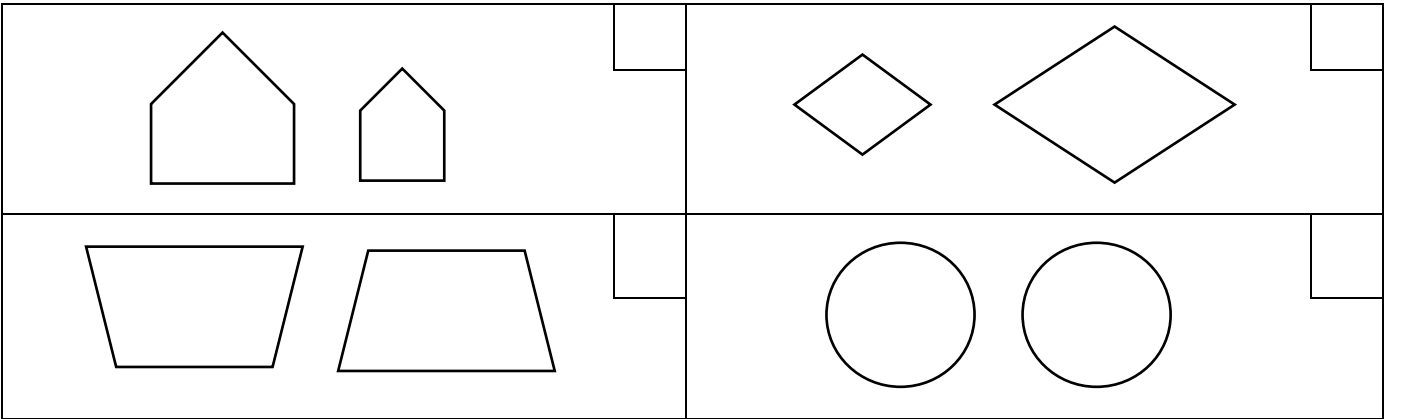
.....

د. الزوج المرتب (٤ ، ٢) يمثل موقع:

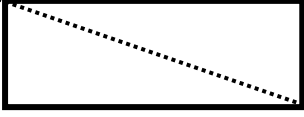
.....

السؤال الثاني: أجبني عن الأسئلة التالية:

١- ضعي علامة (✓) بجانب الشكلين المتطابقين:



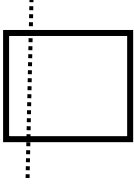
٢- رسمت مريم محور التماثل الذي أمامك للمستطيل.



(أ) هل محور مريم صحيح؟ _____

(ب) ما عدد محاور التماثل للمستطيل؟ _____

٣- رسم أحمد محور التماثل الذي أمامك للمربع.




(أ) هل محور سعاد صحيح؟ _____

(ب) ما عدد محاور التماثل للمربع؟ _____

٣- قدرني القياس المناسب لكل مما يلي :

٣ ملم	٣ سم	٣ كم	طول الجسر
٤ سم	٤ ل	٤ مل	سعة حوض السمك
١ جم	١ كجم	١ سم	كتلة مشبك ورق
٢٠ سم مكعب	١٥ سم مكعب	٢٤ سم مكعب	حجم المكعب الذي أمامك 

١- أوجدني مساحة كل من المسطيل والمربع الذي أمامك:



٣ سم



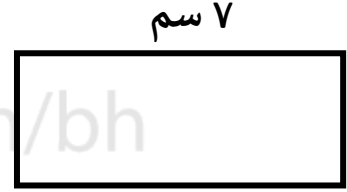
٤ سم

تم تحميل هذا الملف من

٢- أوجدني محيط كل من المستطيل والمربع الذي أمامك:



٥ سم



٣ سم

٣- أوجدني الوقت المستغرق لنشاط ما إذا كان وقت البدء ووقت الانتهاء كما هو موضح:

وقت الانتهاء ٤:٣٠

وقت البدء ٢:٠٠

الوقت المستغرق هو: _____