

شكراً لتحميلك هذا الملف من موقع المناهج البحرينية



المنهج المساند لمادة الاجتماعيات

[موقع المناهج](#) ⇨ [المناهج البحرينية](#) ⇨ [الصف الخامس](#) ⇨ [المواد الاجتماعية](#) ⇨ [الفصل الثاني](#) ⇨ [الملف](#)

تاريخ نشر الملف على موقع المناهج: 2024-03-26 14:32:03

التواصل الاجتماعي بحسب الصف الخامس



روابط مواد الصف الخامس على تلغرام

[الرياضيات](#)

[اللغة الانجليزية](#)

[اللغة العربية](#)

[التربية الاسلامية](#)

المزيد من الملفات بحسب الصف الخامس والمادة المواد الاجتماعية في الفصل الثاني

[مذكرة المواد الاجتماعية و التربية للمواطنة](#)

1

[مذكرة الاجتماعيات والتربية للمواطنة](#)

2

[مذكرة المواد الاجتماعية والتربية للمواطنة](#)

3

[ملزمة مراجعة للصف الخامس الابتدائي في المواد الاجتماعية والمواطنة](#)

4

[ملخص دروس الاجتماعيات للفصل الثاني](#)

5

المنهج المساند لمادة الاجتماعيات
للفصل الخامس الابتدائي للفصل الثاني
من العام الدراسي 2023 – 2024م



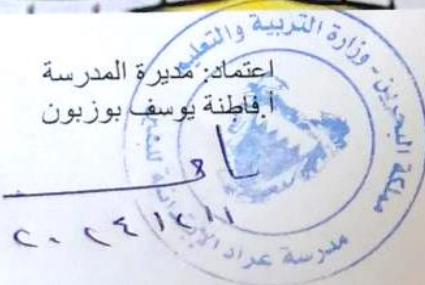
الاسم:

الصف: الخامس ف.....

اعتماد: مديرة المدرسة
أ. فاطمة يوسف بوزبون

المديرة المساعدة
أ. نرمين الخاجة

إعداد: معلمة الاجتماعيات
أ. إيمان علي عبد العزيز





الاسم:

الصف: الخامس ف.....

العمر:

الهوايات:

المادة: الاجتماعيات

الإتفاقية

- * أنا على ثقة تامة بمقدرتي على تطوير نفسي والحصول على أعلى الدرجات
- * سوف ألتزم بحل واجباتي وأن أدرس دروسي مباشرة بعد كل درس
- * أنا صاحب سلوك مهذب وقابل للتطور دائماً
- * أحب التعاون مع معلمتي وزملائي لأرتقي بمستواي ومساعدة زملائي
- * سأكون صادق مع نفسي ومع معلمتي وأخبرها بمشكلكتي في المادة
- * سأحافظ على نظافتي الشخصية ونظافة صفي
- * أعرف جيداً أن المنهج المساند لا تغني عن المذاكرة من الكتاب
- * سأقوم بقراءة الدرس قبل شرحه
- * ملاحظة هامة: يجب وضع مبادرات لهذا الفصل

أقر أنا التلميذ من الصف الخامس ف بأني سألتزم بهذه الاتفاقية

توقيع التلميذ

.....

أحترم معلمتي
وأنتبه لشرح
الدرس

أرفع يدي وأستأذن من
المعلمة عندما أريد
الكلام أو الحركة

الإمتناع عن الأكل
داخل الصف

أستأذن من زميلي
قبل استخدامي لأي
شيء من أغراضه

التزم الهدوء

أهتم بنظافتي
ونظافة كتبي ونظافة
صفي

أقوم بقراءة دروسي
قبل شرحها

إشراقه تمير



تميزي في أداء واجباتي



تميزي في مشاركتي أثناء
شرح الدرس

كن جديراً بالاحترام



تميزي في سلوكي

المقرر الدراسي للمواد الاجتماعية



المحتوى العلمي المطلوب في مقررات المواد الاجتماعية للفصل الثاني من العام الدراسي 2023-2024م

المسار: _____

المادة / اسم المقرر ورمزه: **المواد الاجتماعية للتعليم الأساسي**

الصف الخامس الابتدائي

اسم الكتاب: **المواد الاجتماعية**

الرقم	عنوان الدرس	رقم الدرس	الصفحة (من - إلى)	رقم الاسبوع	الملاحظات
1	موقع الوطن العربي ومميزاته.	18	61-60	1	
	مهارة نسخ خريطة وتعبئتها	-	63-62		
2	أشكال السطح الطبيعي في الوطن العربي (1) الأقاليم الطبيعية - الجبال - الهضاب.	19	67-66	4+3	
	مهارة قراءة صورة	-	76		
3	أشكال السطح الطبيعي في الوطن العربي (2) السهول والشواطئ.	20	69-68	5	
4	مهارة قراءة الرسم البياني المناخي	-	73-72	7+6	
	مناخ الوطن العربي.	21	75-74		
5	سكان الوطن العربي.	24	85-84	8	
6	شبه الجزيرة العربية (الموقع والثروات الطبيعية).	25	87-86	10+9	
7	شبه الجزيرة العربية (النشاطات الاقتصادية وتوزيع السكان).	26	89-88	11	
8	المشرق العربي (النشاطات الاقتصادية وتوزيع السكان).	28	93-92	12	
9	وادي النيل (النشاطات الاقتصادية وتوزيع السكان).	30	99-98	13	
10	المغرب العربي الكبير (النشاطات الاقتصادية وتوزيع السكان).	32	103-102	14	



الدرس الأول: موقع الوطن العربي ومميزاته

موقع الوطن العربي

- ❖ يقع الوطن العربي في النصف الشمالي من الكرة الأرضية.
- ❖ يمر مدار السرطان في وسط الوطن العربي، ويمر خط الاستواء في طرفه الجنوبي.
- ❖ يقع قسم من الوطن العربي في جنوب غرب قارة آسيا والقسم الأكبر في شمال قارة أفريقيا
- ❖ ينقسم الوطن العربي إلى خمسة أقاليم، ويضم 22 دولة.
- ❖ يطل الوطن العربي على محيطين (الأطلسي والهندي).
- ❖ يطل الوطن العربي على (البحر المتوسط، البحر الأحمر، وبحر العرب، والخليج العربي)

اسم (الممر المائي) مضيق أو قناة	موقعه
مضيق جبل طارق	يصل بين البحر المتوسط والمحيط الأطلسي (يفصل بين قارة أفريقيا وقارة أوروبا)
مضيق باب المندب	يصل بين البحر الأحمر وخليج عدن (يفصل بين قارة آسيا وقارة أفريقيا)
مضيق هرمز	يصل بين الخليج العربي وخليج عمان (يفصل بين عمان وإيران)
قناة السويس	يصل بين البحر المتوسط والبحر الأحمر (يفصل بين القاهرة وشبه جزيرة سيناء)

أقاليم الوطن العربي

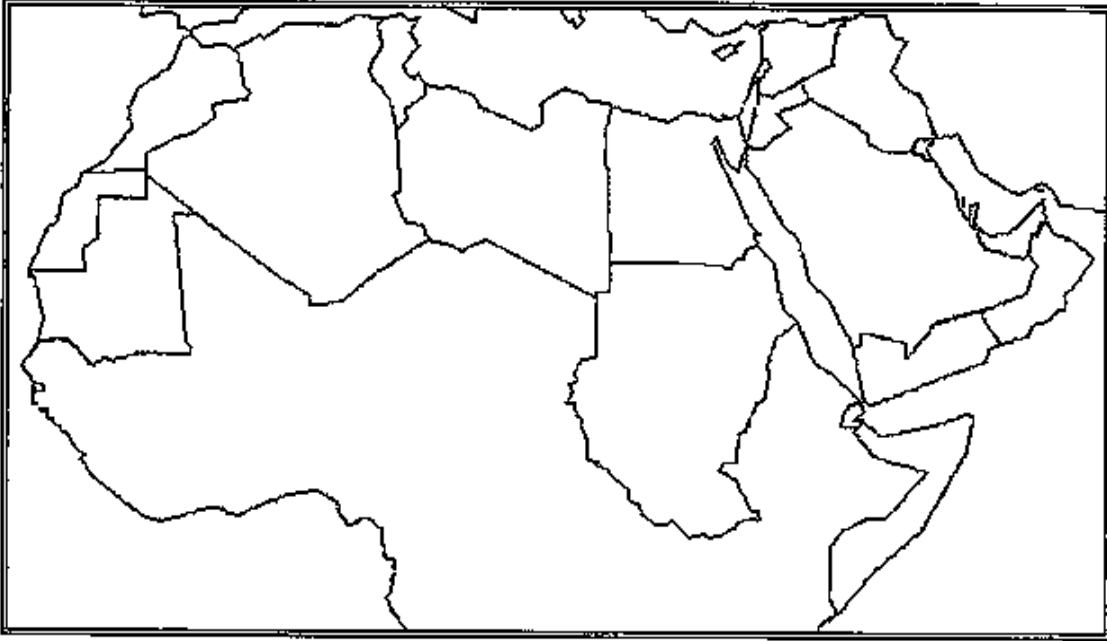
اسم الإقليم	اسم الدول التي تنضم إليه
إقليم شبه الجزيرة العربية	السعودية، الكويت، البحرين، قطر، الإمارات، عمان، اليمن
إقليم المشرق العربي	العراق، سوريا، لبنان، الأردن، فلسطين
إقليم المغرب العربي	ليبيا، الجزائر، المغرب، تونس، موريتانيا
إقليم وادي النيل	مصر، والسودان (جنوب السودان)
إقليم القرن الإفريقي	الصومال، جيبوتي، (جزر القمر)

مميزات الوطن العربي

1. تجارية: حلقة وصل بين شرق وغرب العالم (تمر به معظم طرق التجارة البحرية والبرية والجوية)
2. اقتصادية: غني بالثروات الطبيعية وخصوصا النفط
3. حضارية: قامت على أرضه أبرز الحضارات البشرية (دلمون، الفرعونية، الفينيقية، وحضارة بلاد ما بين النهرين)
4. دينية: مهد الديانات السماوية (الإسلامية، المسيحية، اليهودية)

نشاط الدرس (1) موقع الوطن العربي ومميزاته

10



6

س1: اكتب على الخريطة الصماء أعلاه وفي المكان المناسب ما يلي "مستعين بخريطة الكتاب ص 60"

(أ) اقاليم الوطن العربي: إقليم شبه الجزيرة العربية - إقليم المغرب العربي - المشرق العربي - إقليم وادي النيل - إقليم القرن الأفريقي

(ب) المسطحات المائية: المحيط الأطلسي - المحيط الهندي - البحر الأحمر - الخليج العربي

(ج) لون كل إقليم بلون مختلف عن الآخر (ألوان خشب)

4

س2: ما المزايا الحضارية والاقتصادية والدينية والتجارية للوطن العربي؟

* المزايا الحضارية:

* المزايا التجارية:

حلك منظم ورائع ومتميز بارك الله فيك	حفظك الله انتبه للأخطاء	أحسننت أكمل الحل	حل النشاط وسوف اتابعه في المرة القادمة

بقدرتي أتميز

درس: موقع الوطن العربي ومميزاته



لون نجمتك

النجمة الخضراء: ما اهمية الوطن العربي الاقتصادية؟

.....


النجمة الصفراء: ما اهمية الوطن العربي الدينية؟

.....

النجمة الحمراء: أكمل الفراغ التالي:
يتوزع الوطن العربي علىاقاليم.

حلك منظم ورائع ومتميز بارك الله فيك	حفظك الله انتبه للأخطاء	أحسننت أكمل الحل	حل النشاط وسوف اتابعه في المرة القادمة

مبادرتي لهذا الدرس (اكتب معلومة أو الصق صورة تتعلق بهذا الدرس) غير موجودة في الكتاب المدرسي



الدرس الثاني: أشكال السطح الطبيعي في الوطن العربي

الأقاليم الطبيعية – الجبال والهضاب

أولاً: الجبال

السلاسل الجبلية	الجبال المطلة على المحيط الأطلسي والبحر المتوسط	الجبال المطلة على البحر الأحمر والمحيط الهندي
أمثلة	1. جبال التل والأطلس في المغرب 2. جبال فلسطين ولبنان وسوريا	1. مرتفعات البحر الأحمر 2. جبال اليمن وعسير والحجاز 3. جبال عمان
المميزات	1. اعتدال جوها 2. وفرة ينابيعها وأنهارها 3. حول الإنسان سفوحها إلى مدرجات صالحة للزراعة ومارس الرعي	1. قلة أمطارها 2. غياب أنهارها 3. تسيل المياه في أوديتها عند سقوط المطر فقط "أودية جافة"

ثانياً: الهضاب

وتمثل الجزء الأكبر من مساحة الوطن العربي

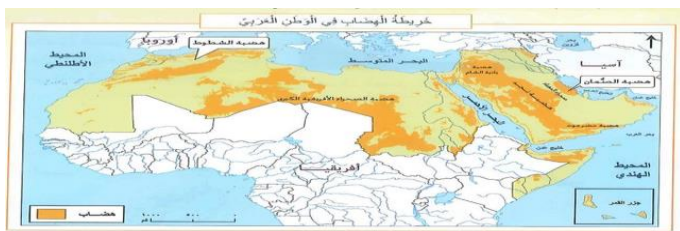
أوجه المقارنة	هضاب الصحراء الكبرى وهضاب شبه الجزيرة العربية	هضبة بادية الشام
طبيعتها	1. صحراوية بسبب ندرة أمطارها	أجزاء واسعة من الأردن وفلسطين وسوريا
السطح	2. سطحها واسع مغطى بالرمال أو الحصى والكتبان الرملية	1. تتلقى كميات من الأمطار.
السكان	3. واحات منتشرة يسكن بقربها قبائل البدو	2. سطحها صخري تتخللها مساحات شاسعة من الأراضي الخصبة 3. يمارس سكانها الزراعة وتربية المواشي



مدرجات



جبل



هضاب الوطن العربي



هضبة

10
2

نشاط الدرس (2) أشكال السطح الطبيعي في الوطن العربي
- الأقاليم الطبيعية (الجبال - الهضاب)

س1: سم جبال الوطن العربي.

.....

.....

4

س2: قارن بين أنواع الجبال التالية حسب معطيات الجدول الآتي؟

أوجه المقارنة	الجبال المطلة على المحيط الأطلسي والبحر المتوسط	جبال المطلة على البحر الأحمر والمحيط الهندي
جوها وانهارها		
سطحها		

2

س3: ما مميزات هضاب بادية الشام من حيث السطح والسكان؟

.....

.....

.....

2

س4: ما مميزات هضاب الصحراء الكبرى وهضاب شبه الجزيرة العربية من حيث السطح والسكان؟

.....

.....

.....

حلك منظم ورائع ومتميز بارك الله فيك	حفظك الله انتبه للأخطاء	أحسننت أكمل الحل	حل النشاط وسوف اتابعه في المرة القادمة

بقدرتي أتميز



درس: أشكال السطح الطبيعي في الوطن العربي
1- الأقاليم الطبيعية (الجبال - الهضاب)

لون نجمتك ☆

النجمة الخضراء: كيف استفاد السكان من جبال أطلس ولبنان وسوريا؟

.....

النجمة الصفراء: علل يمارس سكان بادية الشام الزراعة وتربية المواشي؟

.....

النجمة الحمراء: أكمل الفراغ التالي:
تشكل القسم الأكبر من مساحة الوطن العربي.

حلك منظم ورائع ومتميز بارك الله فيك	حفظك الله انتبه للأخطاء	أحسنتم أكمل الحل	حل النشاط وسوف اتابعه في المرة القادمة

الدرس الثالث أشكال السطح الطبيعي في الوطن العربي الأقاليم الطبيعية (السهول - الشواطئ)

سهول الوطن العربي:

تغطي السهول مساحة صغيرة من الوطن العربي

السهول الفيضية	السهول الساحلية	أوجه المقارنة
تمتد حول مجاري الأنهار	تمتد قرب شواطئ البحار	الموقع
تتكون من رواسب ألقته مياه الفيضانات حول مجاري الأنهار	تتكون من أتربة ورمال جرفتها المياه والرياح من الهضاب والمرتفعات الجبلية	المكونات
سهول نهر النيل وسهول نهري دجلة والفرات، (سهول شديدة الخصوبة تنتشر فيها الزراعة على نطاق واسع)	في دول المشرق العربي وتونس والجزائر والمغرب (التربة خصبة صالحة للزراعة). وفي معظم أجزاء شبه الجزيرة العربية وموريتانيا وليبيا (التربة رملية غير صالحة للزراعة لندرة المياه فيها)	خصوبة التربة

شواطئ الوطن العربي:

شواطئ الوطن العربي قليلة التعاريج

جزر	أشباه جزر	الرؤوس	الخلجان
1. أرخبيل البحرين وجزيرتا الطنب الكبرى والطنب الصغرى وجزيرة أبي موسى في الخليج العربي	1. شبه الجزيرة العربية	1. رأس عسير (الصومال)	1. خليج سرت (ليبيا)
2. جزر القمر في المحيط الهندي	2. شبه جزيرة سيناء	2. رأس مسندم (عمان)	2. خليج السويس (مصر)
3. جزيرة سوقطرة في بحر العرب	3. شبه جزيرة قطر	3. رأس الطيب (تونس)	3. خليج العقبة (الأردن)

أهمية شواطئ الوطن العربي:

1. تقوم عليها الموانئ التجارية والبتروولية الضخمة
2. تقوم عليها المنشآت السياحية (فنادق ومنتزهات ومساح واستراحات وغيرها)

10

نشاط الدرس (3) أشكال السطح الطبيعي في الوطن العربي
الأقاليم الطبيعية (السهول - الشواطئ)

4

س1: أكمل الجدول التالي : بمقارنة السهول الساحلية والسهول الواقعة حول مجاري الأنهار

السهول الواقعة حول مجري الأنهار	السهول الساحلية	أوجه المقارنة
		مم تتكون؟
		أهم الدول التي تنتشر فيها

4

س2: عدد بعض من مظاهر شواطئ الوطن العربي:

- ❖ من خلجان الوطن العربي: و
- ❖ من رؤوس الوطن العربي: و
- ❖ من أشباه جزر الوطن العربي: و
- ❖ من جزر الوطن العربي: و

2

س3: ما أهمية شواطئ الوطن العربي؟

.....
.....

حلك منظم ورائع ومتميز ببارك الله فيك	حفظك الله انتبه للأخطاء	أحسنتم أكمل الحل	حل النشاط وسوف اتابعه في المرة القادمة

بقدرتي أتميز



لون نجمتك

الدرس أشكال السطح الطبيعي في الوطن العربي
الأقاليم الطبيعية (السهول - الشواطئ)

النجمة الخضراء: فسر ما يلي:
عدم صلاحية معظم السهول الساحلية في موريتانيا وليبيا للزراعة؟

.....

النجمة الصفراء: ما فائدة السهول الفيضية للزراعة؟

.....

النجمة الحمراء: ضع علامة (✓) أو (X) أمام العبارة التالية:
() تقع في سهول الوطن العربي معظم المدن التي تضم غالبية السكان

حلك منظم ورائع ومتميز بارك الله فيك	حفظك الله انتبه للأخطاء	أحسنتم أكمل الحل	حل النشاط وسوف اتابعه في المرة القادمة

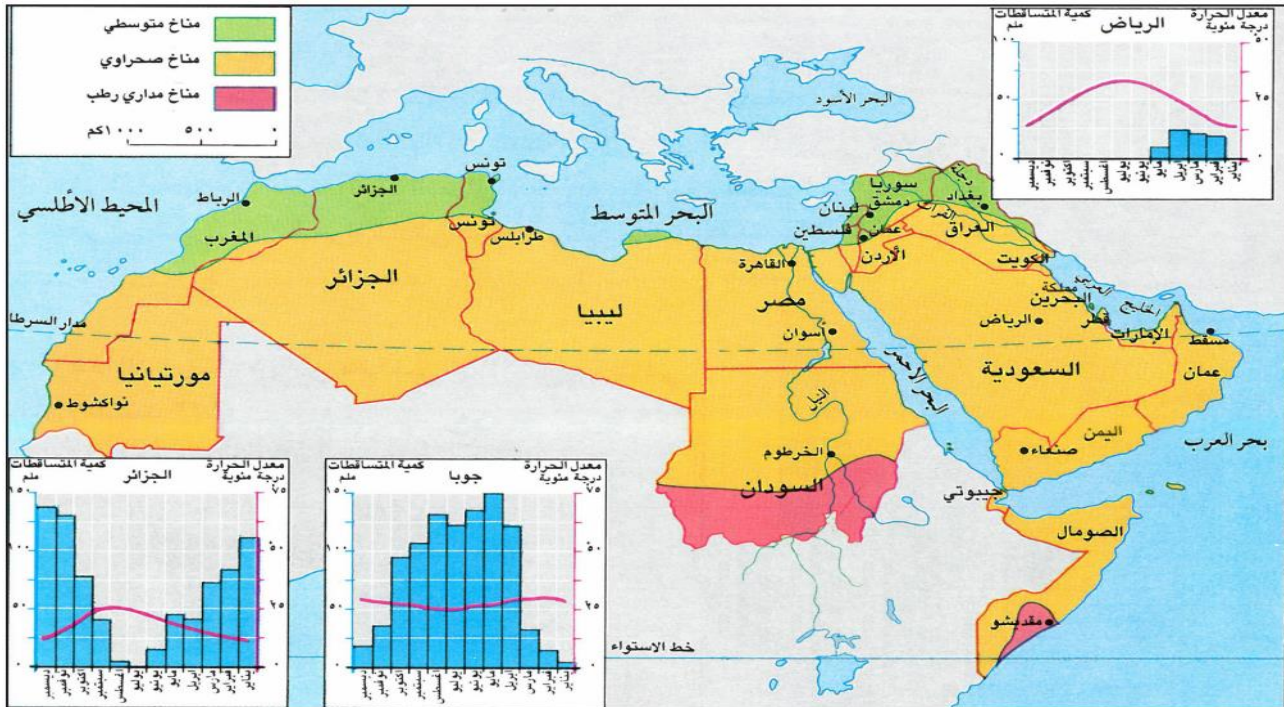
الدرس الرابع: مناخ الوطن العربي

مناخ الوطن العربي:

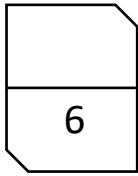
الوطن العربي من أشد مناطق العالم حرارة وجفافاً لأن غالبية أراضيها تقع في المنطقة المناخية الحارة، عدا مناطق قليلة تطل على البحر المتوسط.

أنواع المناخات في الوطن العربي:

نوع المناخ	المناخ المتوسطي	المناخ الصحراوي	المناخ المداري الرطب
الموقع	في المنطقة الساحلية المحاذية للبحر المتوسط والسفوح الجبلية المشرفة عليها	يشمل معظم مناطق الوطن العربي الواقعة جنوب المناخ المتوسطي	يقع في المناطق الواقعة جنوب المناخ الصحراوي
المميزات	في الشتاء جوها معتدل وأمطار غزيرة، ثلوج في أعالي الجبال. في الصيف حرارة مرتفعة وجفاف وانعدام الأمطار	ارتفاع درجات الحرارة معظم أيام السنة، وجفاف، وأمطار قليلة وغير منتظمة	ارتفاع درجات الحرارة معظم أيام السنة، كميات كبيرة من الأمطار خلال فصل الصيف
الدول	مثل المغرب وتونس وسوريا ولبنان	مثل دول الخليج العربية	مثل جنوب السودان وجزء من الصومال



١- خريطة الوطن العربي المناخية



نشاط الدرس (4) مناخ الوطن العربي

س1: في أي منطقة حرارية تقع معظم أراضي الوطن العربي؟

.....

س2: في أي منطقة من الوطن العربي يسود المناخ المتوسطي؟

.....

س3: لماذا يسود المناخ الصحراوي مساحات واسعة في الوطن العربي؟

.....


س4: أين تقع منطقة المناخ المداري الرطب في الوطن العربي؟

.....

س5: ما مميزات مناخ المداري الرطب في الوطن العربي؟

كمية الأمطار:

درجة الحرارة.....



حلك منظم ورائع ومتميز ببارك الله فيك	حفظك الله انتبه للأخطاء	أحسننت أكمل الحل	حل النشاط وسوف اتابعه في المرة القادمة

بقدرتي أتميز



درس: مناخ الوطن العربي

لون نجمتك

النجمة الخضراء: فسر ما يلي:

يعتبر الوطن العربي من أشد مناطق العالم حرارة وأكثر جفافاً

.....

النجمة الصفراء: اذكر دولة عربية تعيش في منطقة المناخ الصحراوي.

.....

النجمة الحمراء: أكمل الفراغ التالي:

(أ) من أنواع مناخات الوطن العربي المناخ

حلك منظم ورائع ومتميز ببارك الله فيك	حفظك الله انتبه للأخطاء	أحسنّت أكمل الحل	حل النشاط وسوف اتابعه في المرة القادمة

الدرس الخامس: سكان الوطن العربي

التوزيع الجغرافي للسكان في الوطن العربي:

- * بلغ عدد سكان الوطن العربي سنة 2010م 360 مليون نسمة.
- * يتوزع سكان الوطن العربي على مساحة تبلغ حوالي 14 مليون كلم مربع.
- * يعيش على كل كيلو متر مربع من المساحة 25 شخص.
- * تختلف الكثافة السكانية من منطقة الى أخرى :

نوع الكثافة السكانية	المناطق	سبب تركيز الكثافة السكانية
كثافة مرتفعة	1- المناطق الساحلية 2- المناطق التي تجري فيها الأنهار 3- في العواصم والمدن	1- توافر المياه 2- التربة الخصبة 3- المرافق التجارية 4- توفر فرص العمل
كثافة منخفضة	1- المناطق الصحراوية	1- قلة الماء

أمثلة لبعض الدول ذات الكثافة السكانية المرتفعة :

1-مملكة البحرين 2-دلتا النيل (مصر)

(تصل الكثافة السكانية في دلتا النيل والبحرين إلى أكثر من 500 شخص في الكلم مربع).


- * تصل الكثافة السكانية في المناطق الصحراوية شخصين للكلم مربع.
- * يتجمع غالبية سكان الوطن العربي في العواصم والمدن لتوافر فرص العمل فيها.
- * عدد سكان الوطن العربي في تزايد مستمر

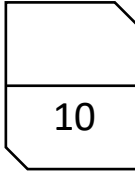
العوامل المؤثر في نمو سكان الوطن العربي:

(1) ارتفاع عدد الولادات في العائلة الواحدة.

(2) انخفاض عدد الوفيات لتحسن الخدمات الصحية في الدول العربية وتحسن مستوى المعيشة.

(3) ارتفاع عدد المهاجرين الأجانب الوافدين للعمل في الدول العربية الغنية بالنفط والغاز الطبيعي مثل دول الخليج العربية.





نشاط الدرس (5) (سكان في الوطن العربي)

يختلف توزيع السكان في الوطن العربي من منطقة إلى أخرى، من خلال هذه العبارة اجب على

الأسئلة التالية :

س1: ما الكثافة السكانية:

س2: أين تتركز الكثافة السكانية المرتفعة في الوطن العربي؟

.....

.....

س3: ما أسباب ارتفاع الكثافة السكانية عند السواحل والأحواض النهرية؟

س4: لماذا يقل عدد السكان في المناطق الصحراوية؟

.....

س5: لماذا يتجمع قسم كبير من سكان الوطن العربي في العواصم والمدن؟

.....

س6: لماذا يشهد الوطن العربي ازدياد كبيراً في نمو أعداد السكان؟

.....

.....

.....

حلك منظم ورائع ومتميز بارك الله فيك	حفظك الله انتبه للأخطاء	أحسننت أكمل الحل	حل النشاط وسوف اتابعه في المرة القادمة

بقدرتي أتميز



لون نجمتك

درس: سكان الوطن العربي

النجمة الخضراء: ماذا يحدث لو تركزت الكثافة السكانية في مكان واحد؟

.....

النجمة الصفراء: أكمل الفراغ التالي:
في المناطق الصحراوية تكون الكثافة السكانية

النجمة الحمراء: ضع علامة (✓) أو (X) أمام العبارات التالية:
() تختلف توزيع السكان في الوطن العربي بين منطقة و اخرى .
() يتركز السكان في المناطق الصحراوية .

حلك منظم ورائع ومتميز بارك الله فيك	حفظك الله انتبه للأخطاء	أحسننت أكمل الحل	حل النشاط وسوف اتابعه في المرة القادمة

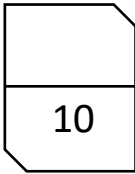
الدرس السادس: إقليم شبه الجزيرة العربية (1)

الموقع و الثروات الطبيعية

الموقع	اسماء دوله	البحار المطلة عليه	المضايق المطلة عليه	مناخه	نسبة مساحته بالنسبة للوطن العربي	أهم ثرواته الطبيعية
يقع في قارة آسيا	1- الكويت 2- البحرين 3- قطر 4- الإمارات 5- عمان 6- اليمن 7- السعودية	1- البحر الأحمر 2- بحر العرب 3- الخليج العربي 4- خليج عمان	1- مضيق هرمز عند عُمان 2- مضيق باب المندب عند اليمن	حار وجاف لذلك تكثر فيها الصحاري أما الأراضي الزراعية فتنتشر عند السواحل والصفوح الجبلية	13%	1- الثروة النفطية 2- الثروة السمكية

- * تخزن أراضي شبه الجزيرة العربية كميات كبيرة جدا من النفط و الغاز الطبيعي .
- * توجد حقول النفط في البر و البحر وتتجمع معظم الثروة النفطية في القسم الشرقي من اقليم شبه الجزيرة العربية.
- * أهم حقول النفط (حقل الغوار في السعودية) وأهم حقول الغاز الطبيعي (حقل الشمال في قطر).
- * يُنقل النفط و الغاز الطبيعي من الآبار إلى مصافي التكرير أو موانئ التصدير بواسطة أنابيب ثم ينقل إلى الأسواق العالمية بواسطة سفن ضخمة تُسمى ناقلات النفط.
- * يعتبر النفط أهم الثروات الطبيعية في شبه الجزيرة العربية حيث يشكل ركيزة أساسية في اقتصاد دول مجلس التعاون، وبفضل الأموال العائدة من بيعه استطاعت هذه الدول أن تحقق نهضة شاملة في العمران و التعليم و الزراعة و الصناعة و الصحة و المواصلات فازدهرت المدن و القرى وتحسن مستوى معيشة السكان





نشاط الدرس (6) اقليم شبه الجزيرة العربية
(الموقع والثروات الطبيعية)

س1: حدد موقع شبه الجزيرة العربية؟

.....

س2: سم الدول التي تضمها شبه الجزيرة العربية؟

.....

.....

س3: لماذا تنتشر الصحاري في شبه الجزيرة العربية؟

.....

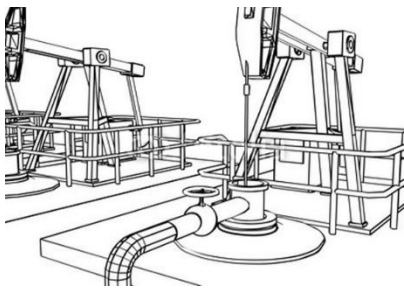
س4: في أي جهة توجد حقول النفط في شبه الجزيرة العربية؟

.....

س5: بين أهمية النفط في حياة سكان شبه الجزيرة العربية؟

.....

.....



حلك منظم ورائع ومتميز ببارك الله فيك	حفظك الله انتبه للأخطاء	أحسنتم أكمل الحل	حل النشاط وسوف اتابعه في المرة القادمة

بقدرتي أتميز



درس: اقليم شبه الجزيرة العربية (1)
الموقع والثروات الطبيعية

لون نجمتك

النجمة الخضراء: ما أهمية النفط في حياة سكان شبه الجزيرة العربية؟

.....

النجمة الصفراء ما الوسيلة التي ينقل بها النفط من شبه الجزيرة العربية إلى
الأسواق العالمية؟

.....

النجمة الحمراء: ضع علامة (✓) امام العبارة الصحيحة:

() تقع شبه الجزيرة العربية في القسم الآسيوي من الوطن العربي

() اهم الثروات الطبيعية في اقليم شبه الجزيرة العربية الثروة الزراعية

حلك منظم ورائع ومتميز بارك الله فيك	حفظك الله انتبه للأخطاء	أحسننت أكمل الحل	حل النشاط وسوف اتابعه في المرة القادمة

الدرس السابع: اقليم شبه الجزيرة العربية (2)

(النشاطات الاقتصادية ، و توزع السكان)

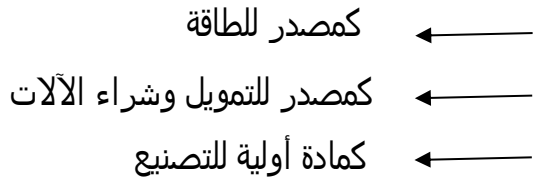
أهم النشاطات الاقتصادية:

❖ الزراعة:

المزارع الحديثة	أهم المحاصيل	حلول مشاكل الزراعة	مشاكل الزراعة
تربية الأبقار والدواجن	1. النخيل 2. الخضار 3. البن	1- استغلال المياه الجوفية 2- اقيمت السدود لتجميع مياه السيول 3- استخدام الاسمدة الكيماوية.	1- ضيق مساحة الأراضي الصالحة للزراعة 2- قلة المياه.

❖ الصناعة:

تعتمد الصناعة على النفط والغاز الطبيعي:



أهم الصناعات

1. البتروكيماويات
2. الأسمنت ومواد البناء
3. الحديد والالومنيوم
4. الأدوات الكهربائية
5. الصناعات الغذائية
6. بناء السفن

❖ التجارة:

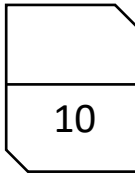
أسباب ازدهار التجارة:

1. الموقع.
2. تحسن مستوى معيشة السكان.
3. توافر أموال النفط.

توزيع السكان:

- * يتركز السكان في شبه الجزيرة العربية في المدن والعواصم بينما تقل في القرى والأراضي الصحراوية.
- * من أبرز أعمال سكان المدن والعواصم (التجارة والصناعة والخدمات والصيد البحري).
- * لا يزال القسم الأكبر من سكان اليمن وعمان يعملون في الزراعة والرعي.
- * من اسباب تراجع حياة البداوة في شبه الجزيرة العربية تنمية الأرياف والبوادي.

نشاط درس (7): اقليم شبه الجزيرة العربية
النشاطات الاقتصادية وتوزع السكان



س1: أكمل الجدول التالي:

أهم المشكلات التي تواجه الزراعة في شبه الجزيرة العربية	أهم الحلول المعتمدة لحل المشكلات التي تواجه الزراعة في شبه الجزيرة العربية

س2: عدد اهم محاصيل اقليم شبه الجزيرة العربية؟

1- 2- 3-

س3: عدد أهم الصناعات في شبه الجزيرة العربية؟

1- 2- 3- 4-

س4: ما أسباب ازدهار التجارة في دول شبه الجزيرة العربية؟

1- 2- 3-

حلك منظم ورائع ومتميز ببارك الله فيك	حفظك الله انتبه للأخطاء	أحسننت أكمل الحل	حل النشاط وسوف اتابعه في المرة القادمة

بقدرتي أتميز



لون نجمتك

درس: اقليم شبه الجزيرة العربية
النشاطات الاقتصادية وتوزيع السكان


النجمة الخضراء: فسر ما يلي:
يتجمع معظم سكان دول شبه الجزيرة العربية في العواصم والمدن الكبرى
.....

النجمة الصفراء: أكمل الفراغ التالي:
بفضل موقع اقليم شبه الجزيرة العربية نشطت
.....

النجمة الحمراء: عدد الوسائل المستخدمة في ري المزروعات؟
.....

حلك منظم ورائع ومتميز ببارك الله فيك	حفظك الله انتبه للأخطاء	أحسننت أكمل الحل	حل النشاط وسوف اتابعه في المرة القادمة

مبادرتي لهذا الدرس (اكتب معلومة أو الصق صورة تتعلق بهذا الدرس) غير موجودة في الكتاب المدرسي



الدرس الثامن: اقليم المشرق العربي (2)

(النشاطات الاقتصادية و توزيع السكان)

* يشتهر اقليم المشرق العربي بصناعات عديدة منها :

الصناعة	المادة الأولية
النسيج	القطن والصوف
السكر	قصب السكر
زيت الزيتون	الزيتون
الأسمدة الكيماوية	الفوسفات والبوتاس
البتر وكيماوية	النفط

* يمتلك المشرق العربي كميات قليلة من الحديد والنحاس.

* تنشط التجارة في بلدان المشرق العربي بسبب موقعها بين الخليج العربي و البحر المتوسط.

* تنشط السياحة في بلدان المشرق العربي بسبب اعتدال مناخها و تنوع الآثار و مناظرها الطبيعية

الخلاصة .

* يتركز معظم سكان المشرق العربي في المدن و العواصم بسبب توافر فرص عمل و توفر

الخدمات .

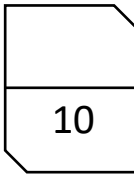
● اهم الاعمال التي تمارس في القرى في اقليم المشرق العربي:



تربية المواشي



الزراعة



نشاط الدرس (8) اقليم المشرق العربي
(النشاطات الاقتصادية وتوزع السكاني)

س1: عدد بعض صناعات المشرق العربي؟

1-.....2-.....3-.....

س2: لماذا تنشط التجارة في بلدان المشرق العربي؟

.....

س3: ما أسباب ازدهار السياحة في اقليم المشرق العربي؟

.....

.....

س4: أين يتركز معظم سكان المشرق العربي؟

.....

س5: ما هي المواد الأولية لصناعات التالية:

1-زيت الزيتون:

2-صناعة النسيج:

3-صناعة البتروكيماوية:

حلك منظم ورائع ومتميز بارك الله فيك	حفظك الله انتبه للأخطاء	أحسننت أكمل الحل	حل النشاط وسوف اتابعه في المرة القادمة

بقدرتي أتميز

درس: اقليم المشرق العربي
(النشاطات الاقتصادية وتوزع السكان)



لون نجمتك

النجمة الخضراء: لماذا تنشط التجارة في اقليم المشرق العربي؟

.....

النجمة الصفراء: ما أسباب ازدهار السياحة في اقليم المشرق العربي؟

.....

النجمة الحمراء: عدد بعض اهم الصناعات الغذائية في اقليم المشرق العربي؟


.....

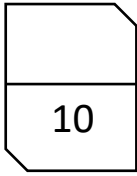
حلك منظم ورائع ومتميز بارك الله فيك	حفظك الله انتبه للأخطاء	أحسننت أكمل الحل	حل النشاط وسوف اتابعه في المرة القادمة

الدرس التاسع إقليم وادي النيل (2)

(النشاطات الاقتصادية و توزيع السكان)

- ثلاث أمور تحتاجها الصناعة :1-المواد الأولية 2- مصادر الطاقة 3- الأيدي العاملة
- من المواد الأولية المتوافرة للصناعة في وادي النيل: 1- مواد أولية زراعية، 2- مواد أولية حيوانية 3- مواد أولية معدنية.
- من مصادر الطاقة المتوافرة للصناعة في وادي النيل: النفط والغاز الطبيعي.
- من الصناعات التي تشتهر بها مصر والسودان: 1- صناعة النسيج 2-صناعة الحديد والصلب 3- صناعة السكر في السودان.
- يستخدم نهر النيل لنقل البضائع والركاب.
- تطل مصر على البحر المتوسط والبحر الأحمر وتعتبر أراضيها قناة السويس التي تعتبر من أهم طرق المواصلات البحرية في العالم لذلك ازدهرت تجارتها.
- تعتبر مصر من أبرز البلدان السياحية في العالم بسبب وجود معالم أثرية مهمة في أراضيها كالأهرامات والمساجد والمتاحف.
- يعيش معظم سكان وادي النيل في المناطق الواقعة على جانبي نهر النيل.
- يعيش البدو في الواحات ويعملون في تربية الماشية وزراعة النخيل.
- أعمال سكان إقليم وادي النيل :
 1. يعمل سكان أرياف هذه المناطق في الزراعة وتربية الماشية.
 2. يعمل سكان المدن في الصناعة والتجارة والخدمات.
 3. يعمل قسم من سكان السواحل في الملاحة وصيد الأسماك.
- تعاني مصر والسودان مشكلة في تزايد عدد السكان في المدن بسبب هجرة أهل القرى والارياف





نشاط الدرس (9) اقليم وادي النيل
(النشاطات الاقتصادية، وتوزع السكان)

س1: عدد مقومات الصناعة في إقليم وادي النيل؟

1-.....-2.....-3.....

س2: اذكر مصادر الطاقة المتوافرة للصناعة في وادي النيل؟

1-.....-2.....

س3: سم بعض الصناعات التي تشتهر بها كل من مصر والسودان؟

1-.....-2.....-3.....

س5 : علل ما يلي (اذكر السبب)

تنشط السياحة في مصر.

.....
.....

ازدهار التجارة في مصر.

.....
.....

تعاني مصر مشكلة تزايد عدد سكان المدن.

.....

حلك منظم ورائع ومتميز بارك الله فيك	حفظك الله انتبه للأخطاء	أحسننت أكمل الحل	حل النشاط وسوف اتابعه في المرة القادمة

بقدرتي أتميز

الدرس اقليم وادي النيل
(النشاطات الاقتصادية، وتوزع السكان)



لون نجمتك

النجمة الخضراء: ما اهمية التجارة في اقليم وادي النيل؟

.....

النجمة الصفراء: ما اهم اعمال سكان اقليم وادي النيل؟

.....

النجمة الحمراء: أكمل الفراغ التالي:
تعاني مصر من مشكلة في تزايد عدد سكان

حلك منظم ورائع ومتميز بارك الله فيك	حفظك الله انتبه للأخطاء	أحسنتم أكمل الحل	حل النشاط وسوف اتابعه في المرة القادمة


الدرس العاشر: إقليم المغرب العربي الكبير (2) (النشاطات الاقتصادية و توزيع السكان)

الصناعة:

تتوفر في بلدان المغرب العربي المواد الأولية اللازمة للصناعة: (زراعية وحيوانية و معدنية)
من أهم الصناعات الموجودة في إقليم المغرب العربي الكبير .



4-صناعة الجلود



3- تعليب الخضروات والأسماك



2- صناعة الصابون



1-صناعة الزيت



5- تمتلك دول المغرب العربي كميات كبيرة من الفوسفات وتستخدم في صناعة الأسمدة الزراعية

6- صناعة الحديد والصلب

- * يوجد النفط والغاز الطبيعي في ليبيا والجزائر بكثرة. (تنتج الجزائر نصف ما ينتجه الوطن العربي من الغاز الطبيعي)
- * النفط والغاز الطبيعي مهمان في الصناعة لأنهما يعتبران مصدران للطاقة لتشغيل المصانع.
- * تشتهر بلدان المغرب العربي بصناعات حرفية سياحية (1- صناعة المنسوجات المطرزة 2- الحلي 3- الأواني الفضية والنحاسية المزينة بالنقوش)

من أسباب نشاط التجارة البحرية في إقليم المغرب العربي:

- * تطل على البحر المتوسط والمحيط الأطلسي مما أدى إلى ازدهار مرفئها (مرفئ الدار البيضاء – نواكشوط - وهران - الجزائر – تونس - طرابلس.
- * قربها من الدول الأوروبية.

من أسباب ازدهار السياحة في إقليم المغرب العربي:

- * قربها لأوروبا مما أدى إلى توافد السياح الأوروبيون إليها للاستمتاع بمناخها وأثارها الإسلامية العريقة.

توزيع السكان وأنماط معيشتهم:

- * يعيش معظم السكان في المغرب العربي في السهول الساحلية القريبة من البحر المتوسط والمحيط الأطلسي، ويعيش غالبيتهم في المدن التي تشهد توسعاً عمرانياً بسبب هجرة سكان الأرياف إليها.
- * يعمل سكان المدن في الصناعة والتجارة والخدمات والصيد البحري، بينما يعمل سكان الأرياف في الزراعة ويعمل سكان المناطق الداخلية في الزراعة وتربية الماشية والمناجم وحقول النفط والغاز الطبيعي.

10

نشاط الدرس (10): اقليم المغرب العربي
النشاطات الاقتصادية وتوزع السكان

5

عدد بعض الصناعات الموجودة في اقليم المغرب العربي الكبير.

1--2-3

عدد اهم مصادر الطاقة في المغرب العربي :

.....

عدد بعض الصناعات الحرفية في اقليم المغرب العربي :

1--2-3

5

اكمل الفراغ التالي :

- ازدهرت التجارة في المغرب العربي بسبب
- تقييم غالبية السكان في المدن التي تشهد توسعا عمرانيا هائلا بسبب

عدد أهم أعمال سكان المدن :

1--2-3

حلك منظم ورائع ومتميز بارك الله فيك	حفظك الله انتبه للأخطاء	أحسننت أكمل الحل	حل النشاط وسوف اتابعه في المرة القادمة

بقدرتي أتميز



الدرس (إقليم المغرب العربي)
النشاطات الاقتصادية وتوزيع السكان

لون نجمتك

النجمة الخضراء: ما هي أهم المواد الأولية الداخلة في الصناعة في إقليم المغرب العربي؟

.....


النجمة الصفراء: ما أهمية مصادر الطاقة في الصناعة؟

.....

النجمة الحمراء: أكمل الفراغ التالي:
تنتج الجزائر بمفردها من نصف ما ينتجه الوطن العربي.

حلك منظم ورائع ومتميز ببارك الله فيك	حفظك الله انتبه للأخطاء	أحسننت أكمل الحل	حل النشاط وسوف اتابعه في المرة القادمة

مبادرتي لهذا الدرس (اكتب معلومة أو الصق صورة تتعلق بهذا الدرس) غير موجودة في الكتاب المدرسي



أسئلة لمراجعة لاختبارات الفصل الثاني

السؤال الأول:

ضع خطأ تحت الإجابة الصحيحة فيما يلي:

1. يمتد الوطن العربي عبر قارتي هما
أ - آسيا وأفريقيا ب - أفريقيا وأوروبا ج - أوروبا وآسيا
2. يطلق اسم إقليم وادي النيل على
أ - مصر وليبيا ب - مصر والسودان ج - الجزائر والمغرب
3. يشهد جنوب السودان مطرا كثيرا لأنه يقع في منطقة المناخ
أ - الصحراوي ب - المداري الرطب ج - المداري الجاف
4. الحرارة المرتفعة معظم أيام السنة وتساقط كميات كبيرة من الأمطار صيفا من مميزات المناخ
أ - المتوسطي ب - الصحراوي ج - المداري الرطب
5. من السهول الفيضية في الوطن العربي سهول
أ - شبه الجزيرة العربية ب - نهر النيل ج - موريتانيا وليبيا
6. شبه جزيرة سيناء تقع في
أ - فلسطين ب - الأردن ج - مصر
7. تقع سلسلة جبال أطلس في دول إقليم
أ - المغرب العربي ب - شبه الجزيرة العربية ج - المشرق العربي
8. من أبرز مميزات الجبال المطلة على المحيط الأطلسي والبحر المتوسط
أ - وفرة أنهارها ب - اعتدال جوها ج - كل ما ذكر صحيح
9. تمتد في أجزاء واسعة من الأردن وفلسطين وسوريا هضبة
أ - الصحراء الكبرى ب - بادية الشام ج - شبه الجزيرة العربية
10. تقع مملكة البحرين ضمن منطقة المناخ
أ - الصحراوي ب - المتوسطي ج - المداري الرطب
11. يقع رأس مسندم في
أ - دولة قطر ب - مملكة البحرين ج - سلطنة عُمان
12. يقع الوطن العربي بالنسبة للكرة الأرضية في النصف
أ - الجنوبي ب - الشرقي ج - الشمالي
13. يمر في الطرف الجنوبي من الوطن العربي
أ - مدار السرطان ب - خط الاستواء ج - مدار الجدي

14. من دول القرن الأفريقي

أ - مصر السودان
ب - الصومال وجيبوتي
ج - تونس والجزائر

15. يمر في وسط الوطن العربي

أ - خط الاستواء
ب - مدار السرطان
ج - مدار الجدي

16. يصل مضيق هرمز بين

أ - خليج عمان والخليج العربي
ب - البحر الأحمر والبحر المتوسط
ج - البحر الأحمر والمحيط الهندي

17. يمتد القسم الأكبر من الوطن العربي في شمال قارة

أ - أفريقيا
ب - آسيا
ج - أوروبا

18. مضيق جبل طارق يفصل بين قارتي

أ - أوروبا وآسيا
ب - أفريقيا وأوروبا
ج - آسيا وأفريقيا

19. جميع ما يلي من دول شبه الجزيرة العربية ما عدا

أ - البحرين وقطر
ب - عمان والإمارات
ج - الأردن والعراق

20. الدولة التي انضمت حديثاً إلى جامعة الدول العربية هي

أ - موريتانيا
ب - جيبوتي
ج - جزر القمر

21. يشرف الوطن العربي على محيطين هما

أ - الهندي والأطلسي
ب - الهادي والأطلسي
ج - الهادي والهندي

السؤال الثاني:

أ. أين توجد الممرات المائية التالية:

البحار	أسم الممر المائي
بين خليج عمان والخليج العربي	مضيق هرمز
بين البحر الأحمر وبحر العرب	مضيق باب المندب
بين البحر المتوسط والمحيط الأطلسي	مضيق جبل طارق
بين البحر الأحمر والبحر المتوسط	قناة السويس

ب. أين توجد الرؤوس التالية

الدول	الرؤوس
عُمان	رأس مسندم
تونس	رأس الطيب
الصومال	رأس عسير

الخلجان	الدول
خليج سرت	ليبيا
خليج العقبة	الأردن
خليج السويس	مصر

ح. أين تقع الجزر التالية

الجزر	الموقع
جزر القمر	المحيط الهندي
جزيرة الطنب الكبرى وجزيرة الطنب الصغرى	الخليج العربي
جزيرة أبي موسى	الخليج العربي
أرخبيل البحرين	الخليج العربي
جزيرة سوقطرة	بحر العرب

السؤال الثالث

أ - قارن بين هضاب الصحراء الكبرى وهضبة شبه الجزيرة العربية وبين هضبة بادية الشام

هضبة بادية الشام	هضاب الصحراء الكبرى وهضبة شبه الجزيرة العربية
<ol style="list-style-type: none"> 1. تتلقى كميات من الأمطار 2. سطحها صخري تتخللها مساحات شاسعة من الأراضي الخصبة 3. يمارس سكانها الزراعة وتربية المواشي 	<ol style="list-style-type: none"> 1. طبيعتها صحراوية بسبب ندرة أمطارها 2. سطحها واسع مغطى بالرمال أو الحصى والكثبان الرملية 3. واحات منتشرة يسكن بقربها قبائل البدو

ب - قارن بين الجبال المطلة على المحيط الأطلسي والبحر المتوسط والجبال المطلة على البحر الأحمر والمحيط الهندي

الجبال المطلة على المحيط الأطلسي والبحر المتوسط	الجبال المطلة على البحر الأحمر والمحيط الهندي
<ol style="list-style-type: none"> 1. اعتدال جوها 2. وفرة ينابيعها وأنهارها 3. مارس الإنسان فيها الرعي وحول سفوحها إلى مدرجات صالحة للزراعة 	<ol style="list-style-type: none"> 1. قلة أمطارها 2. وغياب أنهارها 3. تسيل المياه في أوديتها عند سقوط المطر فقط

ج. قارن بين أنواع المناخات الثلاثة السائدة في الوطن العربي

المناخ	المناخ المتوسطي	المناخ الصحراوي	المناخ المداري الرطب
الموقع	في المنطقة الساحلية المحاذية للبحر المتوسط والسفوح الجبلية المشرفة عليها	يشمل معظم مناطق الوطن العربي الواقعة جنوب المناخ المتوسطي	يقع في المناطق الواقعة جنوب المناخ الصحراوي
المميزات	في الشتاء الحرارة معتدلة وأمطار غزيرة، ثلوج في أعالي الجبال. في الصيف حرارة مرتفعة وجفاف وانعدام الأمطار	ارتفاع درجات الحرارة معظم أيام السنة، وجفاف، وأمطار قليلة وغير منتظمة	ارتفاع درجات الحرارة معظم أيام السنة، كميات كبيرة من الأمطار في الصيف

السؤال الرابع:

علل ما يلي

1. يعد الوطن العربي من أشد منطقتي العالم حرارة وأكثرها جفافاً ج لأنه يقع في المنطقة المناخية الحارة

2. تجمع قسم كبير من سكان الوطن العربي في العواصم والمدن ج بسبب توافر فرص العمل

3. زيادة عدد السكان في الوطن العربي

- ارتفاع عدد الولادات في العائلة الواحدة
- انخفاض عدد الوفيات بعد التحسن في الخدمات الصحية
- ارتفاع عدد المهاجرين الأجانب القادمين من أجل العمل خصوصاً في دول الخليج

4. ارتفاع الكثافة السكانية بالقرب من السواحل والأحواض النهرية

- التربة الخصبة
- وفرة المياه
- المرافق التجارية

السؤال الخامس:

ضع علامة (✓) أمام العبارة الصحيحة وعلامة (X) أمام العبارة الخاطئة فيما يلي:

1. (X) يمتد الوطن العربي عبر قارتي هما آسيا وأوروبا.
2. (X) يقع القرن الأفريقي في قارة آسيا.
3. (✓) تقع جزر القمر في المحيط الهندي.
4. (X) يقع الوطن العربي في النصف الجنوبي من الكرة الأرضية.
5. (✓) يعتبر الوطن العربي من أشد مناطق العالم حرارة وأكثرها جفافاً.
6. (✓) يمتد القسم الأكبر من الوطن العربي في شمال القارة الأفريقية.
7. (✓) توزع دول الوطن العربي على خمسة أقاليم.
8. (✓) مضيق جبل طارق يفصل بين قارة أوروبا عن أفريقيا.
9. (✓) مدار السرطان هو دائرة العرض الذي يمر في وسط الوطن العربي.
10. (✓) تحتل الهضاب القسم الأكبر من مساحة الوطن العربي.

السؤال السادس:

أكمل العبارات الناقصة فيما يلي

1. تتشابه هضاب الصحراء الكبرى وهضاب شبه الجزيرة العربية بطبيعتها الصحراوية بسبب ندرة الأمطار المتساقطة عليها.
2. تشمل بادية الشام أجزاء واسعة من الأردن وفلسطين وسوريا.
3. تمتد السهول الساحلية في الوطن العربي قرب شواطئ البحار.
4. شواطئ الوطن العربي قليلة التعاريح.
5. تتميز درجات الحرارة في المناخ الصحراوي بالارتفاع.
6. تكون الكثافة السكانية منخفضة في المناطق الصحراوية.

السؤال السابع:

أمامك خريطة صماء للوطن العربي عيّن عليها ما يلي:

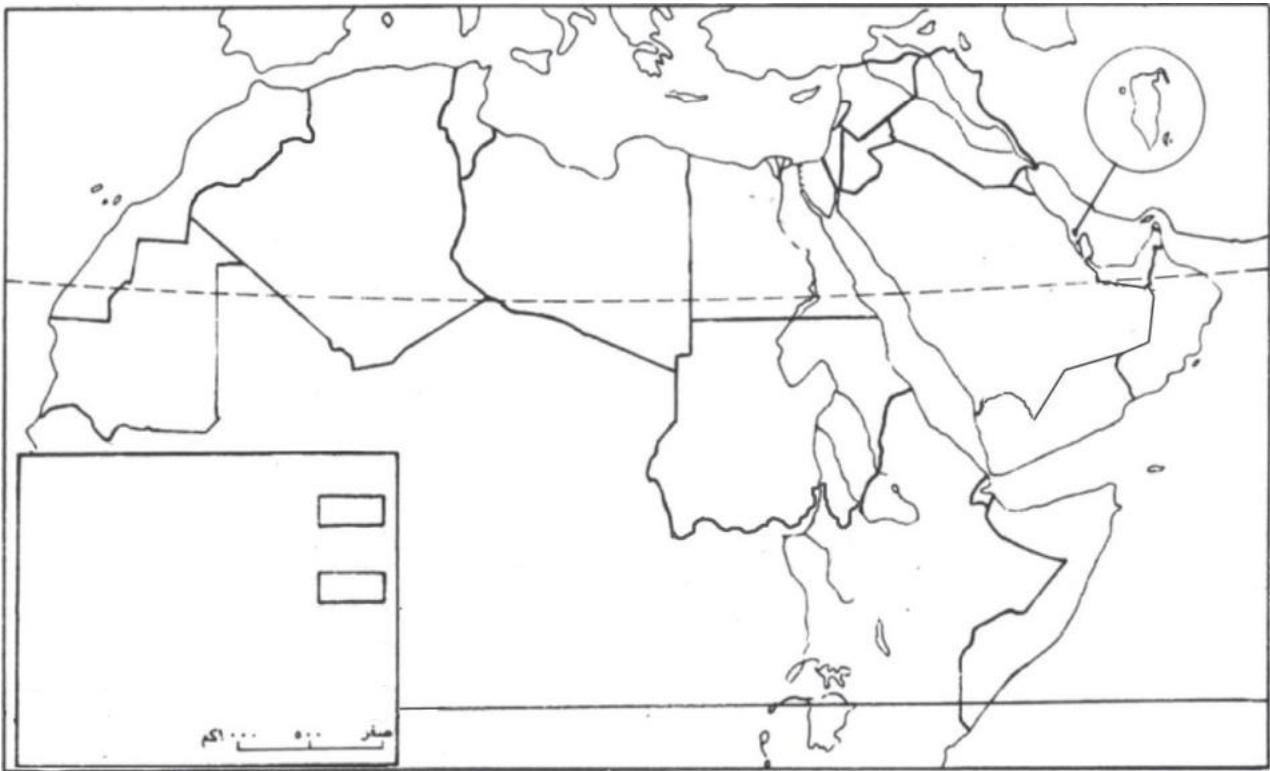
أ. حدد الاتجاهات الأربعة الأصلية بأسهم.

ب. لون القسم الأفريقي من الوطن العربي باللون الأصفر، والقسم الآسيوي باللون الأخضر مع ملأ

مستطيلات المفتاح بنفس الألوان وكتابة ما يرمز إليه كل لون

ج. اكتب في الأماكن المناسبة أسماء البحار والمحيطات التالية: البحر المتوسط – البحر الأحمر –

بحر العرب - الخليج العربي - المحيط الهندي - المحيط الأطلسي

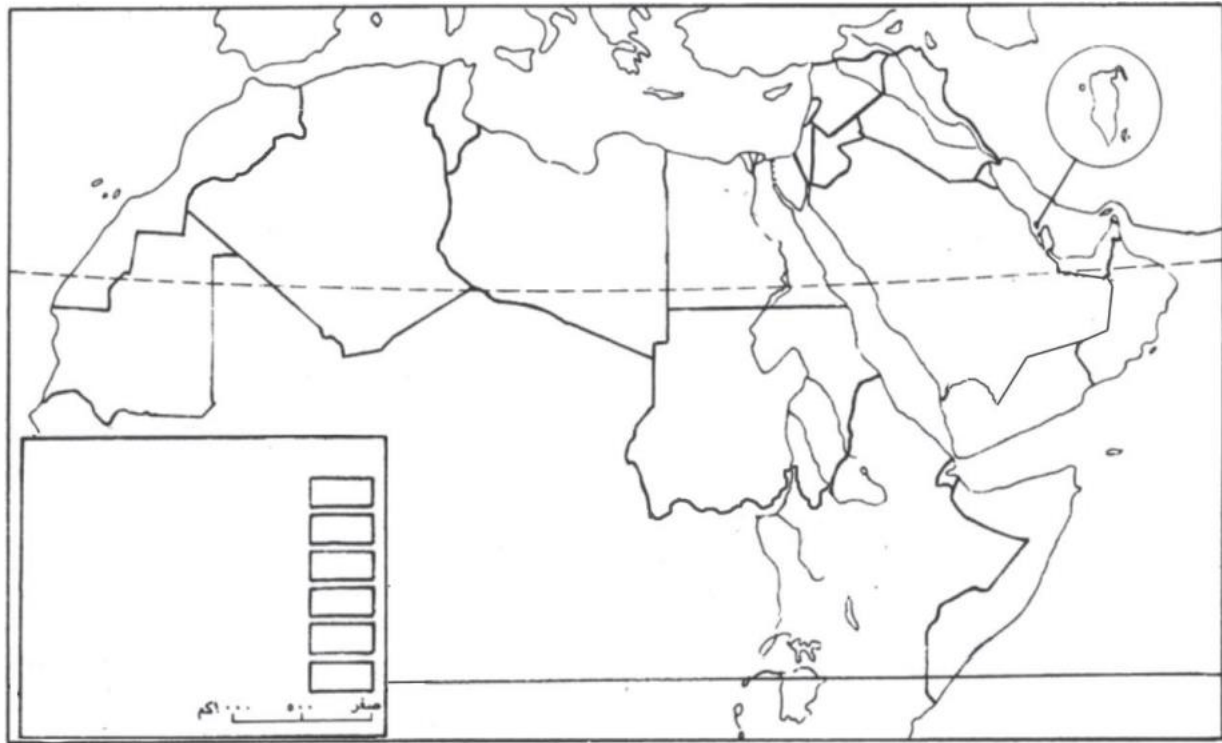


خريطة الوطن العربي

السؤال الثامن:

أمامك خريطة صماء للوطن العربي عيّن عليها ما يلي:

- أ. حدد اتجاه الشمال بسهم
- ب. اكتب في المكان المناسب أسماء الأقاليم التالية شبه الجزيرة العربية – المشرق العربي – المغرب العربي – وادي النيل – القرن الأفريقي
- ج. لون كل إقليم من أقاليم الوطن العربي بلون تختاره
- د. اكتب في الأماكن المناسبة الأسماء التالية: مدار السرطان – خط الاستواء – خليج سرت – خليج العقبة – خليج السويس – رأس مسندم – رأس الطيب – رأس عسير – جزر البحرين



خريطة الوطن العربي

أسئلة مراجعة لاختبارات الفصل الدراسي الثاني

السؤال الأول:

ضع إشارة (✓) على يمين العبارات الصحيحة وإشارة (X) على يمين العبارات الخاطئة فيما يأتي:

1. (X) تقع شبه الجزيرة العربية في القسم الأفريقي من الوطن العربي.
2. (✓) تعادل مساحة شبه الجزيرة العربية حوالي 13% من مساحة الوطن العربي.
3. (X) تنتشر حقول النفط في القسم الغربي من شبه الجزيرة العربية.
4. (X) يقع القرن الأفريقي في شرق قارة آسيا.
5. (✓) يقع ميناء تونس في بلاد تونس.
6. (X) تقع جزر القمر في المحيط الأطلسي.
7. (✓) تستغل غابات السودان في إنتاج الصمغ والأخشاب.
8. (X) تقع قناة السويس في السودان.
9. (X) يسود المناخ المداري الجاف جنوب السودان.
10. (X) يعمل سكان بادية الشام في الصناعة والتجارة.
11. (✓) يضم إقليم المشرق العربي كل من العراق وسوريا ولبنان والأردن وفلسطين.
12. (X) من صناعات المشرق العربي السيارات والآلات الثقيلة.
13. (✓) تعاني كل من السودان ومصر من تزايد عدد السكان.
14. (✓) يتوافد السياح الأوروبيين إلى إقليم المغرب العربي.

السؤال الثاني:

أكمل الفراغات الآتية بما يناسبها من كلمات:

1. يُقسم الوطن العربي إلى خمسة أقاليم.
2. يقع إقليم شبه الجزيرة العربية في القسم الآسيوي من الوطن العربي.
3. يتميز إقليم شبه الجزيرة العربية بمناخه الحار والجاف.
4. تتركز حقول النفط في الجزء الشرقي من شبه الجزيرة العربية.
5. أكبر حقول النفط في شبه الجزيرة العربية حقل الغوار في السعودية بينما يعد حقل الشمال في قطر أكبر حقل للغاز الطبيعي.
6. تواجه الزراعة في شبه الجزيرة العربية مشاكل عديدة أهمها مشكلة قلة المياه ومشكلة ضيق الأراضي الصالحة للزراعة.
7. تراجعت حياة البداوة في شبه الجزيرة العربية بسبب هجرة السكان نحو المدن و تنمية الأرياف والبيوادي.
8. تنتشر الصحاري في شبه الجزيرة العربية بسبب مناخها الحار والجاف.
9. يقع إقليم المشرق العربي في القسم الآسيوي . من الوطن العربي.
10. تشتهر بلدان المشرق العربي بصناعة النسيج و الصناعات الغذائية.
11. يستخدم الفوسفات والبوتاس في صناعة الأسمدة الكيماوية.
12. نشطت التجارة في المشرق العربي قامت فيها موانئ مهمة كميناء البصرة في العراق وميناء بيروت في لبنان وميناء اللاذقية في سوريا وميناء العقبة في الأردن.
13. ازدهرت السياحة في المشرق العربي بسبب اعتدال مناخه و تنوع الآثار و تطور الخدمات السياحية والفندقية.
14. تعادل مساحة إقليم وادي النيل 25% من مساحة الوطن العربي.
15. من أهم الموانئ في إقليم وادي النيل الإسكندرية وبور سعيد في مصر وميناء بور سودان في السودان.
16. تزدهر السياحة في مصر بسبب وجود معالم أثرية مهمة.

17. تنتج بلاد الجزائر تصف ما ينتجه الوطن العربي من الغاز الطبيعي.
18. يشرف إقليم القرن الأفريقي على البحر المتوسط والمحيط الهندي .

السؤال الثالث:

أجب عن الأسئلة الآتية:

1. ما أهمية النفط في حياة سكان شبه الجزيرة العربية؟
ج1: يُشكل ركيزة أساسية في اقتصاد دول مجلس التعاون، وحقق نهضة شاملة في العمران والتعليم والزراعة والصناعة والصحة والمواصلات.

2. لماذا تراجعت حياة البداوة في شبه الجزيرة العربية؟
ج2: نتيجة لهجرة السكان نحو المدن، وتنمية الأرياف والبادي.

3. ما المشاكل التي تواجهها الزراعة في شبه الجزيرة العربية؟ وكيف تغلبت عليها؟
المشاكل:

1. قلة المياه
2. ضيق مساحة الأراضي الصالحة للزراعة

الحلول:

- * استخدام عائدات النفط في التوسع في استغلال المياه الجوفية،
- * أقيمت السدود لتجميع مياه السيول واستخدامها في ري المزروعات بوسائل حديثة
- * استخدمت الأسمدة الكيماوية لزيادة خصوبة التربة

4. ما وسائل الري في إقليم وادي النيل

- * الشادوف
- * حفروا القنوات
- * بناء السدود

5. ما هي أهم الصناعات الحرفية في إقليم المغرب العربي

- * صناعة المنسوجات المطرزة
- * صناعة الحلي
- * صناعة الأواني الفضية والنحاسية المزينة بالنقوش

السؤال الرابع:

علل لما يأتي:

1. إقامة السدود في الوطن العربي.
لتجميع مياه السيول واستخدامها في ري المزروعات بوسائل حديثة ولفنفاذي حدوث الكوارث.

2. انتشار الصحاري في شبه الجزيرة العربية.
بسبب مناخها الحار والجاف

3. نشاط التجارة في المشرق العربي.

- * بفضل موقعها بين الخليج العربي والبحر المتوسط
- * أقامت عند شواطئها موانئ مهمة كميناء البصرة في العراق وميناء العقبة في الأردن وميناء اللاذقية في سوريا وميناء بيروت في لبنان

4. ازدهار السياحة في المشرق العربي.

- * لاعتدال مناخها
- * تنوع الآثار
- * تطور الخدمات السياحية والفندقية

5. ازدهار السياحة في وادي النيل.

لوجود معالم أثرية مهمة في أراضيها كالأهرامات والمعابد القديمة والمساجد والمتاحف

السؤال الخامس:

أمامك خريطة صماء لشبه الجزيرة العربية، أجب على المطلوب:

أ. حدد الجهات الأصلية:

ب. اكتب أسماء البحار والمضائق الآتية:

* البحر الأحمر

* الخليج العربي

* بحر العرب

ج. أكتب أسماء الدول الآتية

* السعودية

* البحرين

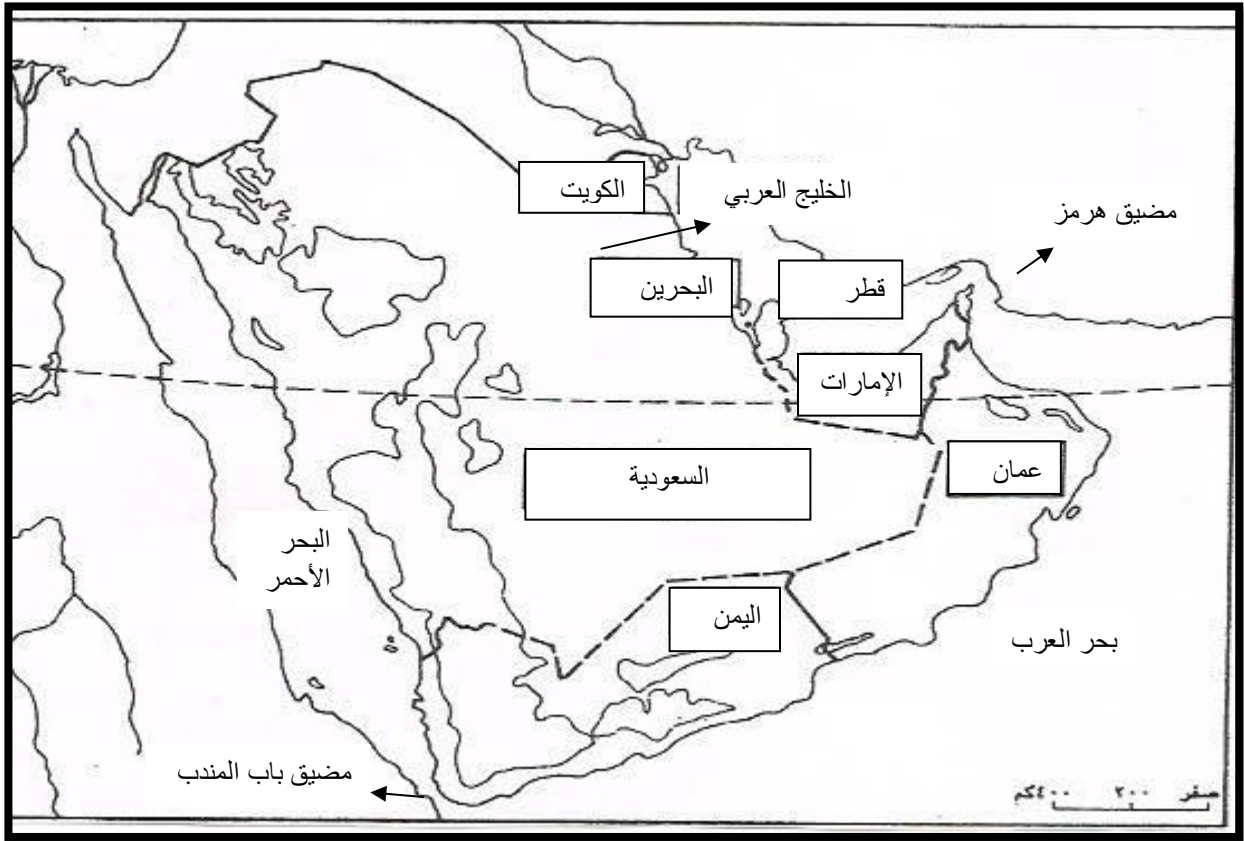
* الكويت

* الإمارات

* قطر

* عمان

* اليمن



التواصل



التواصل مع ولي الأمر لمشروع مادة الاجتماعيات لتلاميذ الصف الخامس للفصل الثاني من العام الدراسي 2023-2024م

عزيزي ولي أمر التلميذ المقيد في الصف الخامس المحترم.

نفيدكم علماً إن من متطلبات درجات الفصل الثاني يتضمن إعداد مهمتين والمهمة الأولى (كتابة تقرير من ثلاث صفحات بالإضافة إلى صفحة الغلاف)، أو مطوية أو إعداد وسيلة حائطية 3A مغلقة بالتغليف الحراري أو وسيلة من فلين بحجم 3A، أو إعداد درس من الدروس المقررة باليوربوينت أو تصميم معلم سياحي ببرامج الماين كرفت وسوف تحتسب له عشر درجات.

وهذه بعض الموضوعات المقترحة للمهمة:

1. خريطة شبه الجزيرة العربية مغلقة بالتغليف الحراري.
2. مطوية لأهم حقول النفط والغاز الطبيعي في شبه الجزيرة العربية.
3. مجسم لأهم المحاصيل الزراعية في الإقليم. (المراعي)
4. مجسم للمزارع الحديثة وأنواع الحيوانات التي تربي في الإقليم.
5. وسيلة من فلين تضم عينات من أهم الصناعات في الإقليم.
6. وسيلة توضح التجارة (صادرات وواردات) و (الموانئ).
7. اليوم صور للآثار والمعالم السياحية في دول المشرق العربي ومصر
8. وسيلة توضح التطور العمراني في شبه الجزيرة العربية..

ملاحظات هامة

- * ممكن اختيار أي موضوع آخر ضمن الدروس المقررة للصف الخامس في الفصل الدراسي الثاني.
- * من الممكن أخذ المعلومات من كتاب أو من الانترنت (أي مصدر عدا الكتاب المدرسي).
- * يقبل تقديم تقرير من ثلاث صفحات مع صور.
- * يمكن أن يكون المشروع عمل فردي أو جماعي حسب اتفاق تلاميذ الصف (على أن لا يزيد عدد التلاميذ في المشروع الواحد عن أربعة).
- * آخر موعد لتسليم المشروع 2024 / 4 / 1م.

هذا ونرجو تعاونكم المثمر ليبدو العمل على أكمل وجه ولكم منا جزيل الشكر.

صفحة التواصل

ملاحظات ولي الأمر:

.....
.....
.....

رد المعلمة:

.....
.....

ملاحظات ولي الأمر:

.....
.....
.....

رد المعلمة:

.....
.....

ملاحظات ولي الأمر:

.....
.....
.....

رد المعلمة:

.....
.....