

## شكراً لتحميلك هذا الملف من موقع المناهج البحرينية



## مذكرة المواد الاجتماعية والتربية للمواطنة

موقع المناهج ⇨ المناهج البحرينية ⇨ الصف الخامس ⇨ المواد الاجتماعية ⇨ الفصل الأول ⇨ الملف

تاريخ نشر الملف على موقع المناهج: 13:31:59 2024-02-19

## التواصل الاجتماعي بحسب الصف الخامس



## روابط مواد الصف الخامس على تلغرام

[الرياضيات](#)

[اللغة الانجليزية](#)

[اللغة العربية](#)

[التربية الاسلامية](#)

## المزيد من الملفات بحسب الصف الخامس والمادة الاجتماعية في الفصل الأول

<a href="#">مراجعة المواد الاجتماعية الاختبار الثالث</a>	1
<a href="#">المراجعة النهائية الجزء الثالث في الاجتماعيات والتربية للمواطنة</a>	2
<a href="#">المنهج المساندة لمادة الاجتماعيات للصف الخامس الابتدائي</a>	3
<a href="#">شرح الدرس الأول العرب قبل الإسلام</a>	4
<a href="#">بطاقة مراجعة الاختبار الأول في مادة الاجتماعيات والتربية للمواطنة</a>	5



# مذكرة المواد الاجتماعية والتربية للمواطنة

## الصف الخامس الإبتدائي

الفصل الدراسي الثاني  
2024 - 2023





صورتني

أسمي : .....

صفي : .....

هواياتي : .....


في المستقبل أود أن

أصبح :



## جدول متابعة كراسة الطالب

التاريخ	الملاحظات	توقيع ولي الأمر



انجازاتي في مادتي التربية للمواطنة والمواد الاجتماعية

المواد الاجتماعية

المهمة	الأختبار الثالث 20	الأختبار الثاني 20	الأختبار الأول 20	
				الدرجة

التربية للمواطنة

المهمة	الأختبار الثالث 20	الأختبار الثاني 20	الأختبار الأول 20	
				الدرجة



## ماذا سنتعلم في هذا الفصل ؟

أولاً : المواد الاجتماعية

الدروس المطلوبة للمواد الاجتماعية :

رقم الصفحة	عنوان الدرس	رقم الدرس
61-60 63-62	موقع الوطن العربي ومميزاته . مهارة نسخ خريطة وتعبئتها .	الدرس الأول
67-66	أشكال السطح الطبيعي في الوطن العربي 1	الدرس الثاني
69-68	أشكال السطح الطبيعي في الوطن العربي 2	الدرس الثالث
73-72 75-74	مهارة قراءة الرسم البياني المناخي مناخ الوطن العربي	الدرس الرابع
85-84	سكان الوطن العربي	الدرس الخامس
87-86	شبه الجزيرة العربية ( الموقع والثروات الطبيعية )	الدرس السادس
89-88	شبه الجزيرة العربية ( النشاطات الاقتصادية وتوزيع السكان )	الدرس السابع
93-92	المشرق العربي ( النشاطات الاقتصادية وتوزيع السكان )	الدرس الثامن
99-98	وادي النيل ( النشاطات الاقتصادية وتوزيع السكان )	الدرس التاسع
103-102	المغرب العربي الكبير ( النشاطات الاقتصادية وتوزيع السكان )	الدرس العاشر

ثانياً : التربية للمواطنة

الدروس المطلوبة لمادة التربية للمواطنة :

رقم الصفحة	عنوان الدرس	رقم الدرس
32-28	تحمل المسؤولية	الدرس الأول
39-34	المحافظات في مملكة البحرين	الدرس الثاني
44-40	المجالس البلدية	الدرس الثالث
51-46	حقوق الطفل	الدرس الرابع



مملكة البحرين  
وزارة التربية والتعليم  
مدرسة جدحفص الابتدائية للبنين  
قسم المواد الاجتماعية والتربية للمواطنة

العنوان : .....

( المهام البحثية ) المواد الاجتماعية



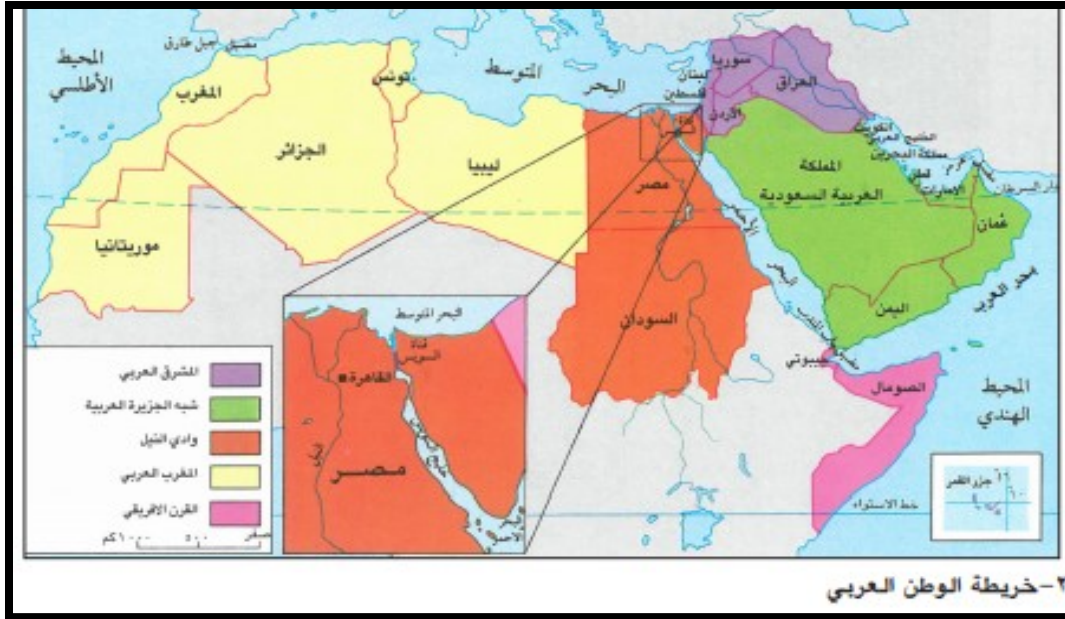
مملكة البحرين  
وزارة التربية والتعليم  
مدرسة جدحفص الابتدائية للبنين  
قسم المواد الاجتماعية والتربية للمواطنة

العنوان : .....

( المهام البحثية ) التربية للمواطنة

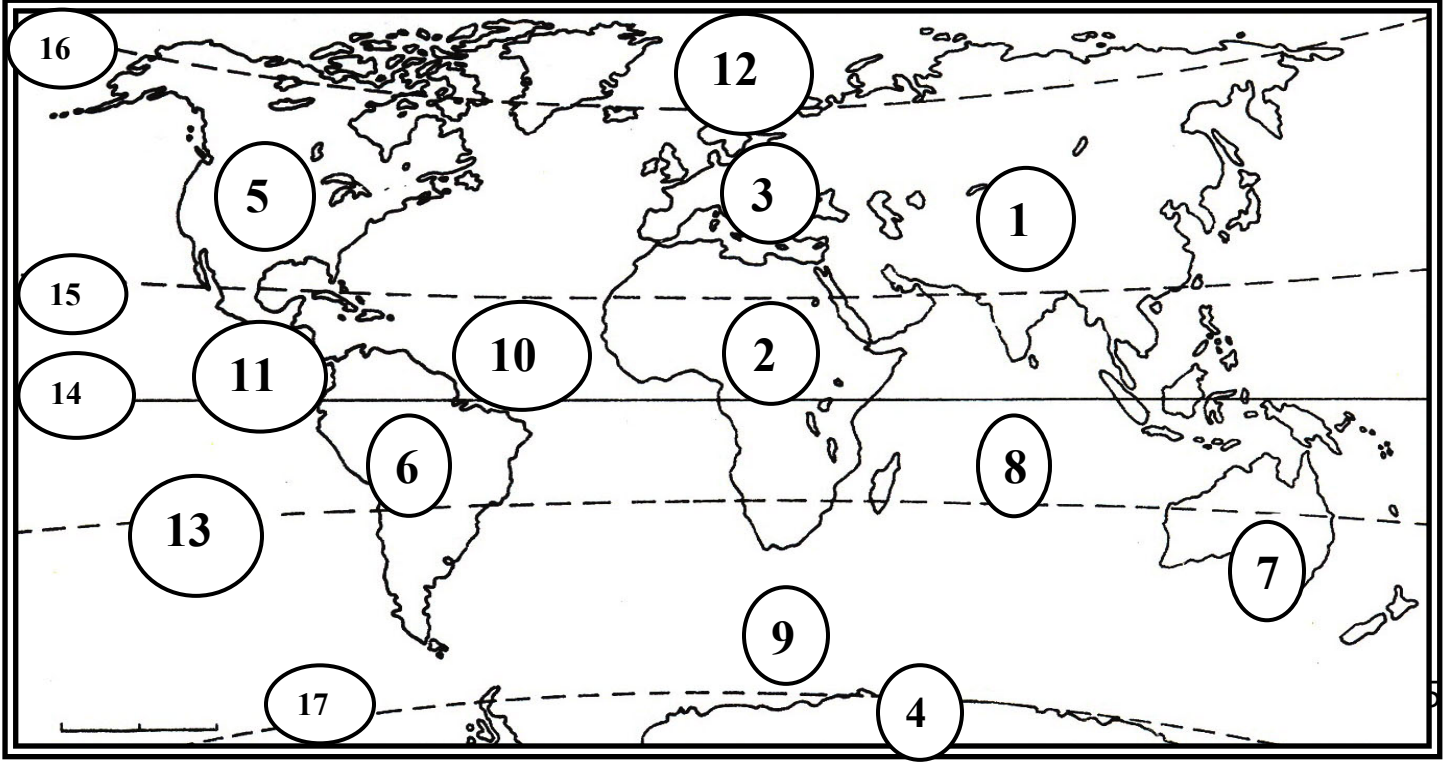


# المواد الاجتماعية



## نشاط اثرائي تمهيدي

أ - أمامك خريطة العالم أكتب ما تدل عليه الأرقام من ظواهر جغرافية بالجدول الموضح أسفل الخريطة :



الأرقام واسم الظاهرة التي تدل عليها	المسمى الجغرافي
..... 3 ..... 2 ..... 1 ..... 6 ..... 5 ..... 4 ..... 7	القارات
..... 10 ..... 9 ..... 8 ..... 12 ..... 11	المحيطات
..... 15 ..... 14 ..... 13 ..... 17 ..... 16	دوائر العرض الرئيسية

أتقن  أتقن جزئياً  لم يتقن  توقيع ولي الأمر .....

ملاحظة المعلمة : .....

متابعة الأثر : .... دائماً متميز ..... في تطور مستمر ..... بإمكانك تحسين ادائك للأفضل



## (موقع الوطن العربي ومميزاته)

- 1- يقع الوطن العربي في النصف الشمالي من الكرة الارضية.
- 2- يمتد الوطن العربي من جنوب غرب اسيا حتى شمال قارة افريقيا.
- 3- يطل الوطن العربي على مسطحات مائية مهمة :  
المحيطات ( الاطلسي والهندي ) البحار ( المتوسط والاحمر ) ، الخلجان ( الخليج العربي ) .
- 4- يطلق على المضيق الذي يفصل الوطن العربي عن قارة اوربا اسم مضيق جبل طارق .  
أهم المضائق والممرات : مضيق جبل طارق ، مضيق باب المنذب ، مضيق هرمز ، قناة السويس .
- 5- تتوزع دول الوطن العربي على خمسة اقاليم : ( 22 دولة )

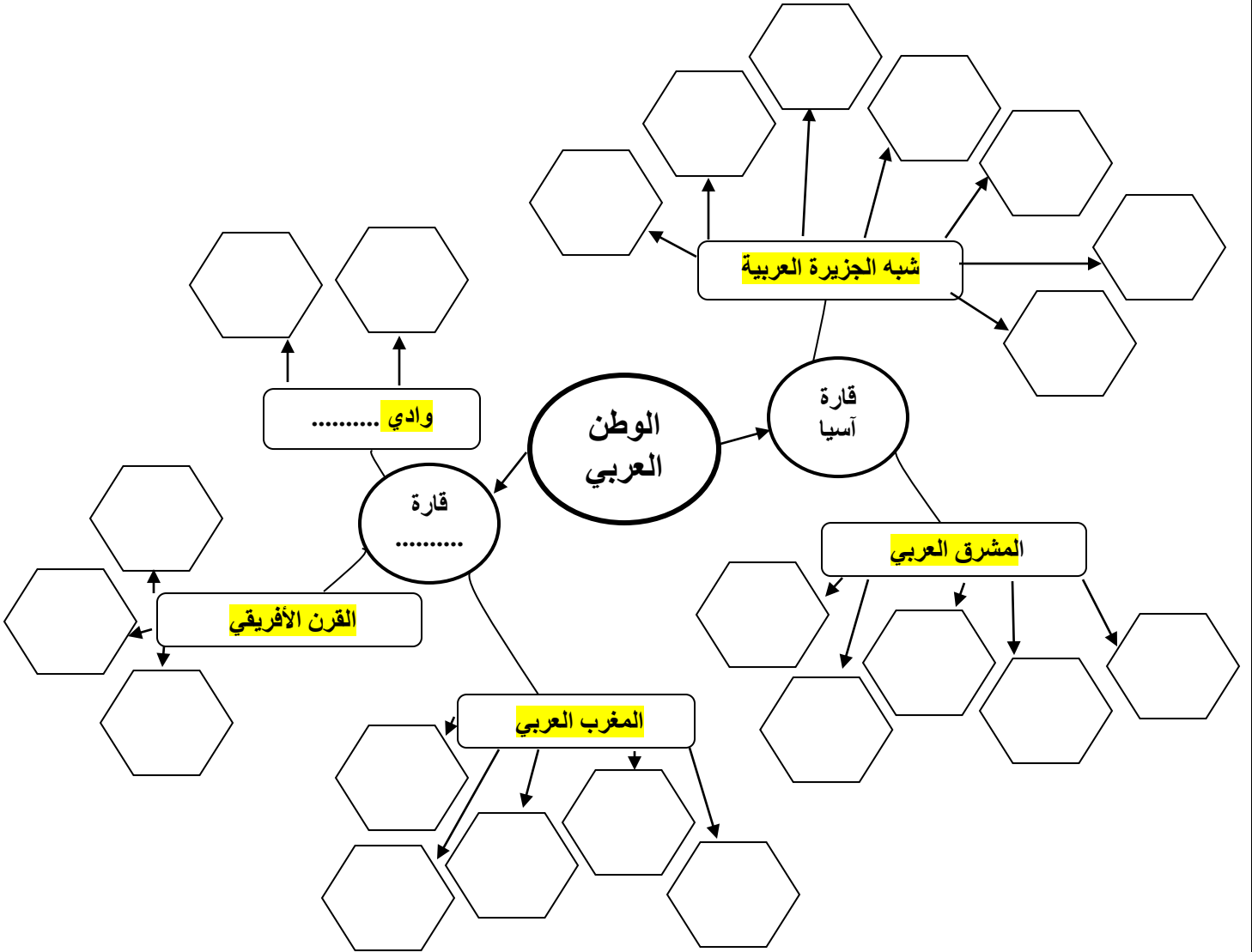
الاقليم	المشرق العربي	شبه الجزيرة العربية	وادي النيل	المغرب العربي	القرن الأفريقي
الدول الذي يضمه	*العراق *سوريا *لبنان *فلسطين *الاردن	*البحرين *السعودية *الكويت *عمان *الامارات *قطر *اليمن	*مصر *السودان	*المغرب *الجزائر *تونس *موريتانيا *ليبيا	*الصومال *جيبوتي *جزر القمر
القارة	● اسيا	● اسيا	● افريقيا	● افريقيا	● افريقيا

### ❖ من مميزات الوطن العربي:

- 1- الموقع المميز بين قارات آسيا وأفريقيا وأوربا حيث يعتبر حلقة وصل بين شرق العالم وغربه .
- 2- غنى ارضه بالثروات وخصوصا النفط .
- 3- قامت على ارضه ابرز الحضارات القديمة كالحضارة : الفرعونية والدلمونية وبلاد ما بين النهرين وحضارة الفينيقية .
- 4- الوطن العربي مهد الديانات السماوية الثلاث : النصرانية واليهودية والاسلام .

## نشاط صفى

### أكمل الخريطة المعرفية



## نشاط : (موقع الوطن العربي ومميزاته)

☆ السؤال الأول : أجب عن الأسئلة التالي:-

أ - أكمل العبارات التالية بما يناسبه

- 1- يقع القسم الأكبر من الوطن العربي في قارة .....
  - 2- تربط قناة السويس بين بحرين هما ..... و .....
  - 3- يكاد يتصل الوطن العربي بقارة أوروبا لولا مضيق .....
  - 4- يطل الوطن العربي على محيطين هما ..... و .....
- ب - ضع علامة ( √ ) خلف العبارة الصحيحة، وعلامة ( × ) خلف العبارة الخاطئة:

- 1- يقع الوطن العربي في النصف الشمالي من الكرة الأرضية. ( )
- 2- يمتد الوطن العربي في قارتي آسيا وأوروبا. ( )
- 3- يمر مدار السرطان في وسط الوطن العربي. ( )
- 4- يضم الوطن العربي 22 دولة، تتوزع على أربعة أقاليم. ( )

☆☆ السؤال الثاني: أجب عن السؤال التالي:



من خلال خريطة الوطن العربي السابقة املأ الجدول التالي بما هو مطلوب :

الأقليم	الدول التي ينتمي إليه
شبه الجزيرة العربية	..... .....
المشرق العربي	..... .....
وادي النيل	.....
المغرب العربي	.....
القرن الأفريقي	.....



ب- أذكر الأهمية التجارية والحضارية والدينية للوطن العربي :

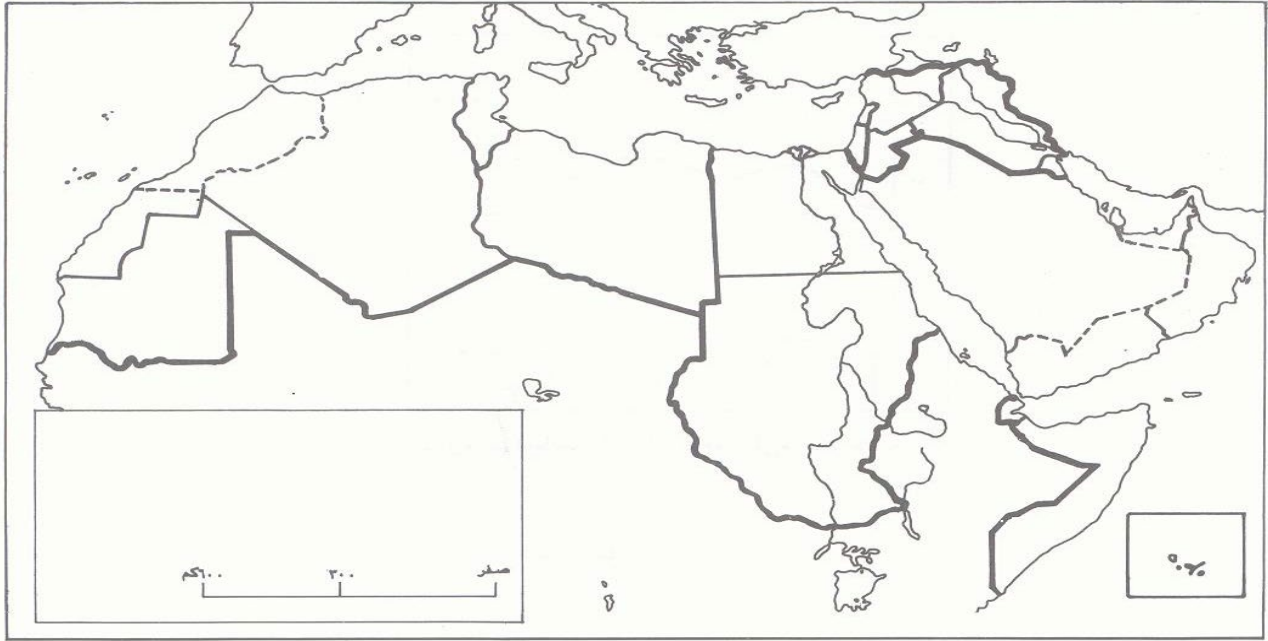
- ..... -1  
..... -2  
..... -3

تقييم المعلمة ( علياء تمام ) لأداء الطلاب لهذا الدرس		
الوصف	التعزيز	الدعم المقدم
<input type="checkbox"/> عملك متقن حققت المطلوب بجدارة . <input type="checkbox"/> حققت المطلوب منك بشكل جزئي ولديك بعض الأخطاء . <input type="checkbox"/> لم تحقق المطلوب منك يا بطل . النواقص : ..... .....	<input type="checkbox"/> استمر بالمحاولة يا بطل . <input type="checkbox"/> شكراً لجهودك الرائعة . <input type="checkbox"/> أقدر جهودك <input type="checkbox"/> سعدت بمحاولاتك .	<input type="checkbox"/> يمكنك مراعاة الترتيب وحسن الخط <input type="checkbox"/> أعيد حل السؤال الخاطئ مستعيناً بالكتاب المدرسي او الملزمة . <input type="checkbox"/> أستعين بزملائك وأقرانك لتوصل الى الاجابة الصحيحة . <input type="checkbox"/> يمكنك طلب المساعدة من معلمتك .
التقدير : <input type="checkbox"/> ممتاز	<input type="checkbox"/> جيد جداً	<input type="checkbox"/> جيد
رأي الطالب : .....	رأي ولي الأمر : .....	متوسط <input type="checkbox"/>

## نشاط : مهارة نسخ الخريطة وتعبئتها

### 1- أمامك خريطة الوطن العربي وضح عليها كل مما يلي :

المحيطات	البحار والخلجان	المضايق والممرات	دوائر العرض الرئيسية
المحيط الأطلسي المحيط الهندي	البحر الاحمر البحر المتوسط الخليج العربي بحر العرب	قناة السويس مضيق باب المنذب مضيق هرمز مضيق جبل طارق	خط الأستواء مدار السرطان



خريطة الوطن العربي السياسية

### 2- لون كل أقليم من أقاليم الوطن العربي بلون من اختيارك .

تقييم المعلمة ( علياء تمام ) لأداء الطلاب لهذا الدرس		
الوصف	التعزيز	الدعم المقدم
<input type="checkbox"/> عملك متقن حققت المطلوب بجدارة . <input type="checkbox"/> حققت المطلوب منك بشكل جزئي ولديك بعض الأخطاء . <input type="checkbox"/> لم تحقق المطلوب منك يا بطل . النواقص : ..... .....	<input type="checkbox"/> استمر بالمحاولة يا بطل . <input type="checkbox"/> شكراً لجهودك الرائعة . <input type="checkbox"/> أقدر جهودك <input type="checkbox"/> سعدت بمحاولاتك .	<input type="checkbox"/> يمكنك مراعاة الترتيب وحسن الخط <input type="checkbox"/> أعيد حل السؤال الخاطئ مستعيناً بالكتاب المدرسي او الملزمة . <input type="checkbox"/> أستعين بزملائك وأقرانك لتوصل الى الاجابة الصحيحة . <input type="checkbox"/> يمكنك طلب المساعدة من معلمتك .
التقدير : <input type="checkbox"/> ممتاز	<input type="checkbox"/> جيد جداً	<input type="checkbox"/> متوسط
رأي الطالب : .....	رأي ولي الأمر : .....	

## درس ( اشكال السطح الطبيعي في الوطن العربي (1) ( الأقاليم الطبيعية – الجبال والهضاب )

**\*\*تشكل الهضاب والصحاري القسم الأكبر من مساحة الوطن العربي  
أولاً: الجبال:**

<p><b>مميزاتها:</b></p> <p>1- اعتدال جوها ووفرة ينابيعها وأنهاها . 2-مارس الإنسان الرعي واقام المدرجات الزراعية.</p>	<p><b>مثال:</b></p> <p>جبال أطلس في المغرب العربي وجبال فلسطين وسوريا ولبنان في المشرق العربي</p>	<p><b>الجبال المطلة على البحر المتوسط والمحيط الأطلسي</b></p>
<p><b>مميزاتها:</b></p> <p>1-قلة الامطار وغياب الانهار 2-تعتمد على الاودية الجافة</p>	<p><b>مثال:</b> الجبال الممتدة في مصر والسودان ، جبال عسير والحجاز ، جبال عمان</p>	<p><b>الجبال المطلة على المحيط الهندي والبحر الاحمر</b></p>

**ثانياً: الهضاب:**

هضبة بادية الشام	هضاب الصحراء الكبرى وشبه الجزيرة العربية
<p>1-تمتد في الاردن وسوريا وفلسطين والعراق 2-تتميز بأراضيها الخصبة ووفرة الامطار 3-مارس الانسان الزراعة وتربية المواشي</p>	<p>1- تتشابه الهضبتان في طبيعتها الصحراوية بسبب ندرة الامطار 2- مساحاتها الواسعة المغطاة بالرمل أو الحصى . 3- غير ملائمة للسكن ( سكن للبدو فقط الذين حفروا الآبار ) لاستخراج المياه .</p>

**المدرجات :** مسطحات مدعمة بالحجارة يقيمها الإنسان على سفوح الجبال لزيادة المساحة الزراعية .  
**الأفلاج :** هو نفق يحفر في الأرض للوصول الى خزانات المياه الجوفية فتجري فيه المياه وتخرج الى السطح على شكل عين أو نبع .



## نشاط اثرائي : أشكال السطح الطبيعي في الوطن العربي ( الأقاليم الطبيعية – الجبال – الهضاب )

### السؤال الأول :

أ- أكمل العبارات التالية بما يناسبها

1- تشكل ..... و..... مساحات واسعة من الوطن العربي .

2- ترتفع السلاسل الجبلية على أطراف الوطن العربي المطلة على.....-.....

..... - .....

3- تحتل ..... القسم الأكبر من مساحة الوطن العربي.

4- يمارس سكان هضبة بادية الشام حرفة ..... و.....



ب - اكتب المصطلح العلمي خلف العبارات التالية:

1- مسطحات مدعّمه بالحجارة يقيمها الإنسان على سفوح الجبال لزيادة المساحة الزراعية (.....)

2- أنفاق تحفر في الأرض للوصول إلى خزانات المياه الجوفية فتجري فيه المياه (.....)

3- مساحات واسعة سطحها مغطى بالرمال والحصى والكثبان الرملية التي تنقلها الرياح (.....)



السؤال الثاني : أجب عن احدى السؤالين :

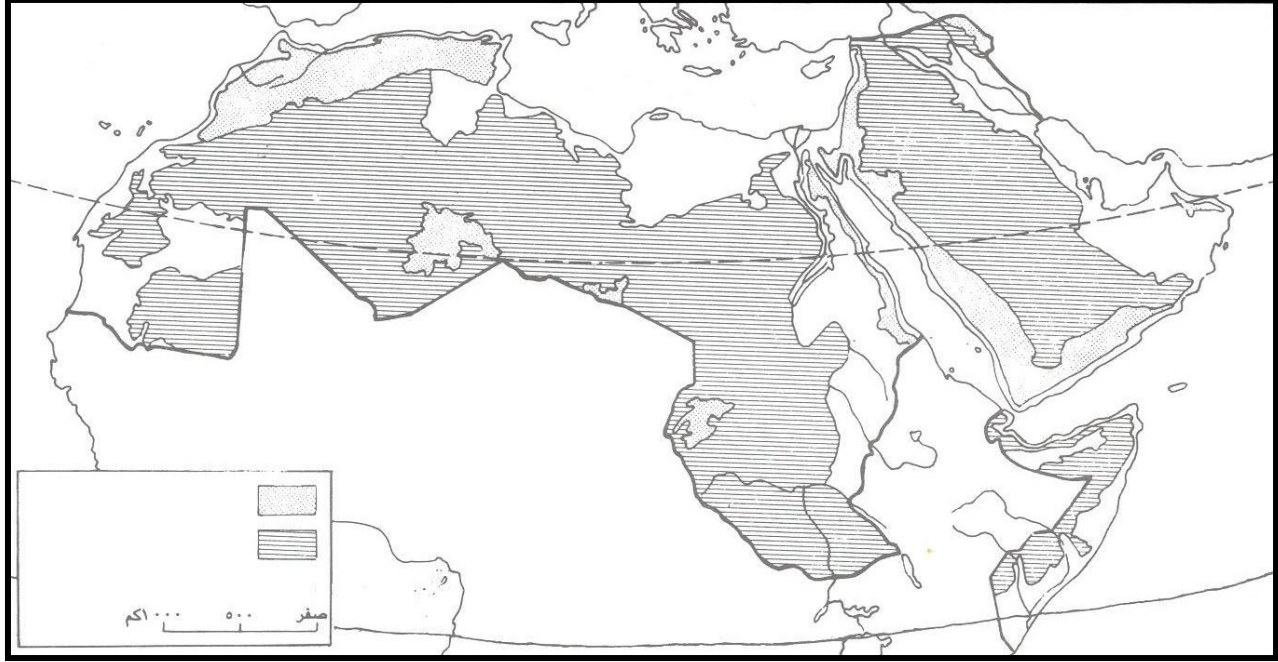
الخصائص	أمثله عليها	الجبال
..... ..... .....	..... ..... .....	الجبال المطلة على المحيط الأطلسي والبحر المتوسط
..... ..... .....	..... ..... .....	الجبال المطلة على المحيط الهندي والبحر الأحمر

الخصائص	الامتداد	الهضاب
..... ..... .....	..... ..... .....	هضاب الصحراء الكبرى وشبه الجزيرة العربية
..... ..... .....	..... ..... .....	هضاب بادية الشام

السؤال الثالث : على الخريطة الصماء أدناه

2 - لون الهضاب باللون الأصفر.

1- لون الجبال باللون البني



تقييم المعلمة ( علياء تمام ) لأداء الطلاب لهذا الدرس

الوصف	التعزيز	الدعم المقدم
<input type="checkbox"/> عملك متقن حققت المطلوب بجدارة . <input type="checkbox"/> حققت المطلوب منك بشكل جزئي ولديك بعض الأخطاء . <input type="checkbox"/> لم تحقق المطلوب منك يا بطل . النواقص : ..... .....	<input type="checkbox"/> استمر بالمحاولة يا بطل . <input type="checkbox"/> شكراً لجهودك الرائعة . <input type="checkbox"/> أقدر جهودك <input type="checkbox"/> سعدت بمحاولاتك .	<input type="checkbox"/> يمكنك مراعاة الترتيب وحسن الخط <input type="checkbox"/> أعيد حل السؤال الخاطئ مستعيناً بالكتاب المدرسي او الملزمة . <input type="checkbox"/> أستعين بزملائك وأقرانك لتوصل الى الاجابة الصحيحة . <input type="checkbox"/> يمكنك طلب المساعدة من معلمتك .
التقدير : <input type="checkbox"/> ممتاز	<input type="checkbox"/> جيد جداً	<input type="checkbox"/> متوسط
رأي الطالب : .....	رأي ولي الأمر : .....	.....

## اشكال السطح الطبيعي في الوطن العربي (2)

**\*\* أنواع السهول في الوطن العربي: تغطي السهول مساحة صغيرة من الوطن العربي وهي تنقسم الى**

السهول الواقعة حول مجاري الأنهار	السهول الساحلية
تتكون من رواسب ( تسمى السهول الفيضية )	تتكون من أتربة ورمال
ترتبتها شديدة الخصوبة وتنتشر فيها الزراعة وتمتد حول الانهار مثل نهر دجلة والفرات ونهر النيل.	تصلح للزراعة في بعض المناطق ( المشرق العربي تونس والجزائر والمغرب ) فقط أما في معظم أجزاء شبه الجزيرة العربية ، موريتانيا وليبيا فهي غير صالحة للزراعة بسبب ندرة المياه وتمتد قرب شواطئ البحار.

**\*\* شواطئ الوطن العربي : تتميز بأنها قليلة التعاريج**

**\*أهمية الشواطئ في الوطن العربي :**

- 1- تقوم عليها الموانئ البترولية والتجارية.
- 2- تشتمل على منشآت سياحية من فنادق ومساح واستراحات .
- 3- للاستمتاع بالشواطئ واللعب بالرمال.

**⊠ اكمل الجدول الذي أمامك :**

الرووس	أشباه الجزر	الجزر	الخلجان
1- رأس مسندم	1- شبه جزيرة سيناء	1- أرخبيل البحرين	1- الخليج العربي
2- رأس بون	2- شبه الجزيرة العربية	2- جزيرة أبي موسى	2- خليج العقبة
3- رأس عسير		3- جزيرة سوقطرة	3- خليج السويس

## نشاط تعزيزي: أشكال السطح الطبيعي في الوطن العربي السهول والشواطئ



**السؤال الأول: أ- أجب عن الاسئلة التالية:**

- 1- سمح امتداد الوطن العربي بوجود ..... و .....
  - 2- من أهم الخلجان بالوطن العربي خليج ..... في ليبيا .
  - 3- من أشباه الجزر الموجودة في الوطن العربي ..... و .....
  - 4- تقوم في سهول الوطن العربي ..... التي تضم غالبية السكان .
- ب- ضع علامة ✓ أو × أمام العبارات التالية:

- 1- ( ) تغطي السهول مساحات كبيرة من سطح الوطن العربي .
- 2- ( ) السهول الواقعة حول الأنهار هي سهول ذات تربة خصبة وتنتشر فيها الزراعة على نطاق واسع .



**السؤال الثاني: أجب عن إحدى السؤالين:**

أ- فسر أهمية شواطئ الوطن العربي؟

- 1- .....
- 2- .....

ب- قارن بين السهول الساحلية والسهول الواقعة حول مجاري الأنهار في الجدول التالي:

السهول	مما تتكون	أمثلة عليها	خصائصها
السهول الساحلية	.....	.....	.....
السهول الواقعة حول مجاري الأنهار	.....	.....	.....

**السؤال الثالث: سم بعض من الخلجان والرؤوس والجزر في الوطن العربي.**

.....

.....

تقييم المعلمة (علياء تمام) لأداء الطلاب لهذا الدرس		
الوصف	التعزيز	الدعم المقدم
<input type="checkbox"/> عملك متقن حققت المطلوب بجدارة . <input type="checkbox"/> حققت المطلوب منك بشكل جزئي ولديك بعض الأخطاء . <input type="checkbox"/> لم تحقق المطلوب منك يا بطل . -النواقص : .....	<input type="checkbox"/> استمر بالمحاولة يا بطل . <input type="checkbox"/> شكراً لجهودك الرائعة . <input type="checkbox"/> أقدر جهودك <input type="checkbox"/> سعدت بمحاولاتك .	<input type="checkbox"/> يمكنك مراعاة الترتيب وحسن الخط <input type="checkbox"/> أعيد حل السؤال الخاطئ مستعيناً بالكتاب المدرسي او الملزمة . <input type="checkbox"/> أستعين بزملائك وأقرانك لتوصل الى الاجابة الصحيحة . <input type="checkbox"/> يمكنك طلب المساعدة من معلمتك .
التقدير : <input type="checkbox"/> ممتاز	<input type="checkbox"/> جيد جداً	<input type="checkbox"/> متوسط
رأي الطالب : .....	رأي ولي الأمر : .....	.....

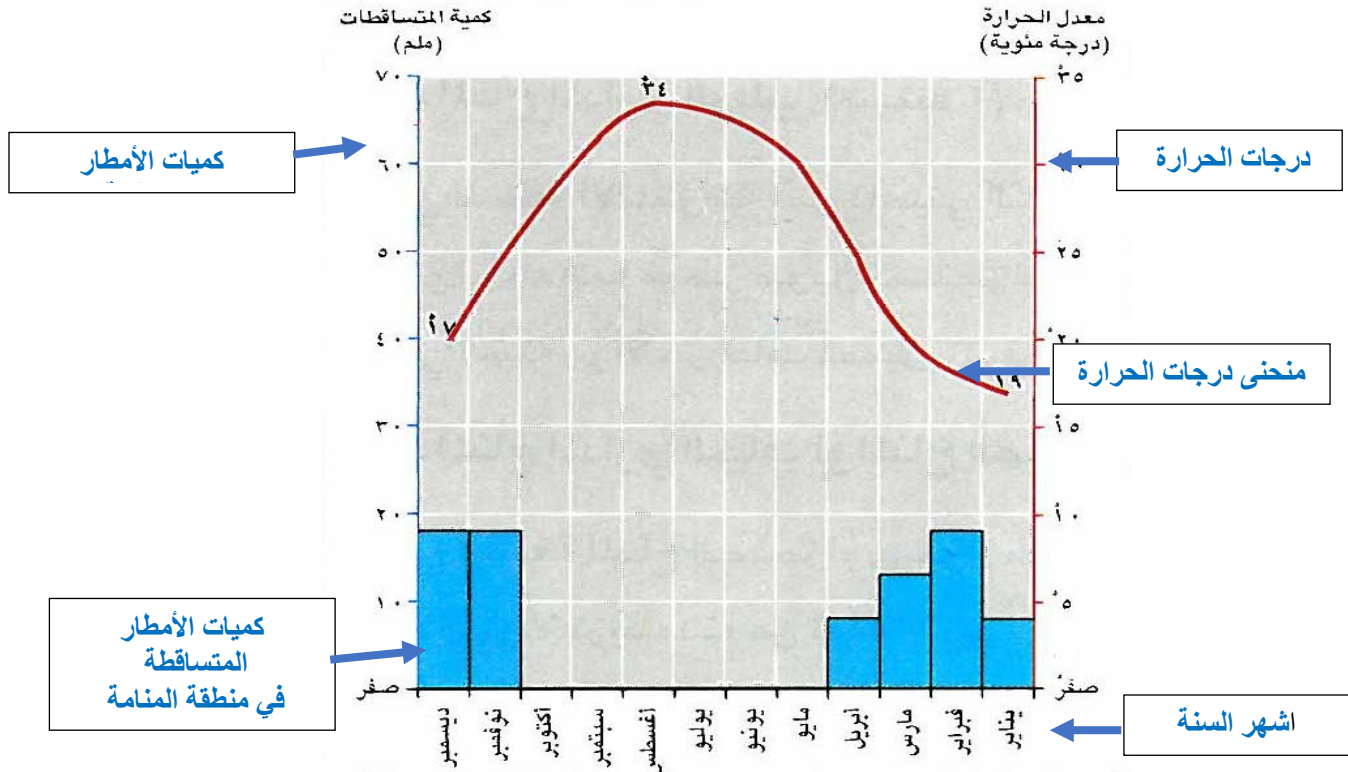
## مهارة قراءة الرسم البياني المناخي

يتكون المناخ من عناصر مختلفة أبرزها :

- 1- الامطار التي تتساقط في منطقة معينة على مدار السنة والتي تقاس بالمليمتر ( ملم ) .
- 2- الحرارة التي تسيطر على المنطقة نفسها على مدار السنة والتي تحدد بالدرجات المئوية .

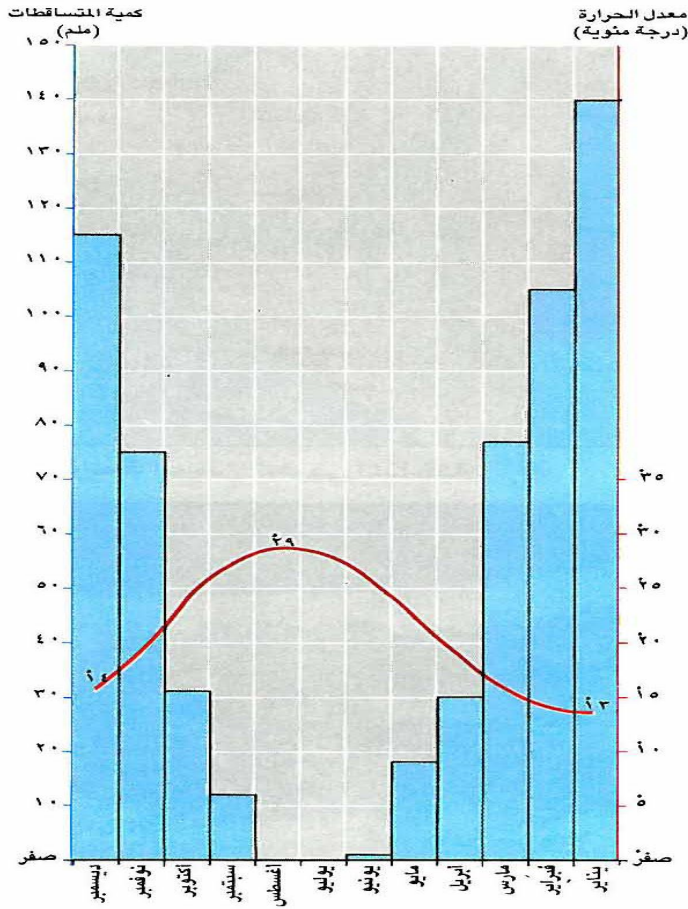
الأشهر	يناير	فبراير	مارس	ابريل	مايو	يونيو	يوليو	اغسطس	سبتمبر	اكتوبر	نوفمبر	ديسمبر
كمية المتساقطات	8	18	13	8	0	0	0	0	0	0	18	18
معدلات الحرارة	17	18	21	25	30	32	34	32	29	28	25	19

هذه المعلومات التي يتضمنها الجدول يمكن تحويلها الى رسم بياني مناخي يتميز بالوضوح وسهولة الملاحظة



## نشاط

### مهارة قراءة الرسم البياني المناخي



من خلال الرسم البياني المناخي لمنطقة بيروت في لبنان اجب عن الاسئلة التالية :

1. ماذا يمثل الخط الأفقي في الرسم البياني ؟

2. ماذا يمثل الخط العمودي لجهة اليمين ؟

3. ماذا يمثل الخط العمودي لجهة اليسار ؟

4. ماذا تمثل الاعمدة الزرقاء ؟

5. في اي شهر سقطت أكبر كمية من الأمطار ؟

6. في اي أشهر لم تسقط الأمطار ؟

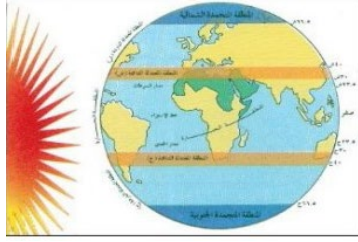
7. ماذا يمثل الخط الأحمر في الرسم البياني ؟

8. في اي شهر سجلت أعلى درجة حرارة ، وكم بلغت ؟

9- في اي شهر سجلت أدنى درجة حرارة ، وكم بلغت ؟

تقييم المعلمة ( علياء تمام ) لأداء الطلاب لهذا الدرس

الوصف	التعزيز	الدعم المقدم
<input type="checkbox"/> عملك متقن حققت المطلوب بجدارة . <input type="checkbox"/> حققت المطلوب منك بشكل جزئي <input type="checkbox"/> ولديك بعض الأخطاء . <input type="checkbox"/> لم تحقق المطلوب منك يا بطل . -النواقص : .....	<input type="checkbox"/> استمر بالمحاولة يا بطل . <input type="checkbox"/> شكراً لجهودك الرائعة . <input type="checkbox"/> أقدر جهودك <input type="checkbox"/> سعدت بمحاولاتك .	<input type="checkbox"/> يمكنك مراعاة الترتيب وحسن الخط <input type="checkbox"/> أعيد حل السؤال الخاطئ مستعيناً بالكتاب المدرسي او الملزمة . <input type="checkbox"/> أستعين بزملائك وأقرانك لتوصل الى الاجابة الصحيحة . <input type="checkbox"/> يمكنك طلب المساعدة من معلمتك .
التقدير : <input type="checkbox"/> ممتاز	<input type="checkbox"/> جيد جداً	<input type="checkbox"/> متوسط
رأي الطالب : .....	رأي ولي الأمر : .....	.....

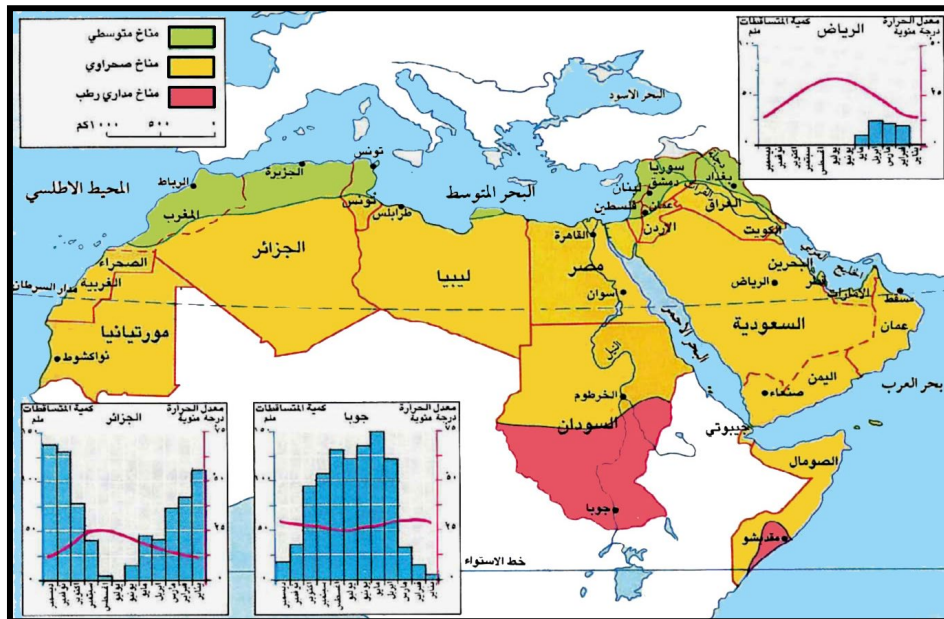


## ( مناخ الوطن العربي )

يقع الوطن العربي في المنطقة المناخية الحارة.

أنواع المناخات الحرارية في الوطن العربي و خصائصها :

المناخ المتوسطي	المناخ الصحراوي	المناخ المداري الرطب
<p><b>الموقع:</b> يشمل هذا المناخ المنطقة الساحلية المطلة على البحر المتوسط مثل المغرب وتونس وسوريا ولبنان</p> <p><b>مميزاته:</b>-حار جاف صيفا تتعدم الأمطار ويسود الجفاف -معتدل ممطر شتاءا أمطارها غزيرة ،تتحول الأمطار الى ثلوج عند أعالي الجبال .</p>	<p><b>الموقع:</b> يشمل معظم مناطق الوطن العربي الواقعة جنوب المناخ المتوسطي مثل دول الخليج العربية .</p> <p>يتميز بارتفاع درجة الحرارة معظم أيام السنة والأمطار <b>القليلة</b>.</p>	<p><b>الموقع:</b> يشمل المناطق الواقعة جنوب المنطقة الصحراوية . تشمل مناطق من السودان والصومال</p> <p>يتميز بالحرارة المرتفعة معظم أيام السنة وتتساقط فيها خلال <b>الصيف</b> كميات كبيرة من الأمطار تزداد تدريجيا كلما اقتربنا من خط الاستواء</p>



## نشاط درس مناخ الوطن العربي

السؤال الأول : أ- أجب عن الأسئلة التالية :  
أكمل الفراغات التالية بما يناسبها من كلمات :

- 1- الجفاف هو حالة مناخية تسود منطقة معينة بسبب قلة .....
- 2- المناخ الذي يسود المناطق الواقعة جنوب المنطقة الصحراوية هو .....
- 3- دول الخليج العربي من الدول التي يسودها المناخ .....

ب-ضع علامة √ أمام العبارة الصحيحة وعلامة × أمام العبارة الخاطئة :

- 1- ( ) يعتبر الوطن العربي من أشد المناطق العالم حرارياً .
- 2- ( ) تكثر الأمطار صيفاً في المناخ المتوسطي .
- 3- ( ) من أمثلة الدول التي تنتمي للمناخ المتوسطي هي البحرين .

السؤال الثاني :   
أكمل الجدول بالكلمات المناسبة :

المناخات	المتوسطي	المدراي الرطب
الموقع	المنطقة الساحلية المحاذية ..... والجبال المطلة عليها مثل ..... و .....	المناطق الواقعة جنوبي المنطقة مثل جنوب .....
المميزات	الشتاء : حرارة ..... وأمطار ..... تتحول لتلوج عند أعالي ..... الصيف : ترتفع الحرارة و تنعدم .....	حرارة مرتفعة معظم أيام السنة وفي فصل تسقط كمية كبيرة من .....

السؤال الثالث : علل ( أذكر السبب )

يعتبر الوطن العربي من أكثر مناطق العالم حرارياً وأكثرها جفافاً .

تقييم المعلمة ( علياء تمام ) لأداء الطالب لهذا الدرس

الوصف	التعزيز	الدعم المقدم
<input type="checkbox"/> عملك متقن حققت المطلوب بجدارة . <input type="checkbox"/> حققت المطلوب منك بشكل جزئي <input type="checkbox"/> ولديك بعض الأخطاء . <input type="checkbox"/> لم تحقق المطلوب منك يا بطل . -النواقص : .....	<input type="checkbox"/> استمر بالمحاولة يا بطل . <input type="checkbox"/> شكراً لجهودك الرائعة . <input type="checkbox"/> أقدر جهودك <input type="checkbox"/> سعدت بمحاولاتك .	<input type="checkbox"/> يمكنك مراعاة الترتيب وحسن الخط <input type="checkbox"/> أعيد حل السؤال الخاطئ مستعيناً بالكتاب المدرسي او الملزمة . <input type="checkbox"/> أستعين بزملائك وأقرانك لتوصل الى الاجابة الصحيحة . <input type="checkbox"/> يمكنك طلب المساعدة من معلمتك .
التقدير : <input type="checkbox"/> ممتاز	<input type="checkbox"/> جيد جداً	<input type="checkbox"/> متوسط
رأي الطالب : .....	رأي ولي الأمر : .....	.....





التمكن اللغوي

## الدرس الرابع والعشرون سكان الوطن العربي

عدد السكان (نسمة)

أولاً: الكثافة السكانية = .

الكثافة السكانية : متوسط عدد السكان في كل كيلو متر مربع .

مساحة الأرض (كم<sup>2</sup>)

360000000

- في الوطن العربي =  $\frac{360000000}{14000000}$  = 25 شخصاً / كم<sup>2</sup>. ( 25 شخصاً يعيشون في كل كيلومتر مربع من المساحة )

ثانياً: توزيع الكثافة السكانية في الوطن العربي:

أ- كثافة مرتفعة : في السواحل (البحر المتوسط ، البحر الأحمر، الخليج) وأودية الأنهار (النيل، دجلة، الفرات).

لماذا؟ 1- خصوبة التربة. 2- وفرة المياه. 3- توافر المرافق التجارية.

ب- كثافة منخفضة : في الصحارى؛ بسبب قسوة المناخ.

ثالثاً: تجمع قسم كبير من سكان الوطن العربي في العواصم والمدن؟  
\*بسبب توافر فرص العمل فيها.



© alqiyady.com

رابعاً : أسباب نمو السكان وتزايدهم في الوطن العربي:

1- ارتفاع عدد الولادات ( اكثر من 5 أولاد في الاسرة الواحدة )

2- انخفاض عدد الوفيات. ( بسبب تحسن في الخدمات الصحية والمعيشية )

3- ارتفاع عدد المهاجرين الأجانب ( الوافدين للعمل ) إلى البلدان العربية الغنية بالنفط والغاز الطبيعي ) .

## نشاط درس سكان الوطن العربي



### السؤال الأول : أجب عن الاسئلة التالية

أ- أكمل العبارات التالية بالكلمات المناسبة :

- 1- الكثافة السكانية هي .....
- 2- تبلغ مساحة الوطن العربي حوالي .....
- 3- تحتل ..... المركز الأول من حيث الكثافة السكانية بالوطن العربي .

ب- ضع علامة ( √ ) أمام العبارة الصحيحة وعلامة ( × ) أمام العبارة الخاطئة :

- 1- ( ) يتميز الوطن العربي بارتفاع نسبة الوفيات .
- 2- ( ) يتجمع قسم كبير من سكان الوطن العربي في العواصم والمدن .
- 3- ( ) يرتفع النمو السكاني لزيادة عدد الوفيات وقلة عدد الولادات .



### السؤال الثاني : أجب عن أحد الأسئلة التالية :

أ- أذكر العوامل التي تؤثر على نمو سكان الوطن العربي ؟

- 1- .....
- 2- .....

ب- علل ( أذكر سبب ) انخفاض عدد الوفيات بالوطن العربي .

- 1- .....
- 2- .....



### السؤال الثالث : قارن بين كل من المناطق التالية من حيث الكثافة السكانية وسبب ارتفاعها أو انخفاضها .

وجه المقارنة	مرتفعة أم منخفضة	السبب
المناطق الساحلية	.....	.....
حول الأنهار	.....	.....
الصحاري	.....	.....
العواصم والمدن	.....	.....

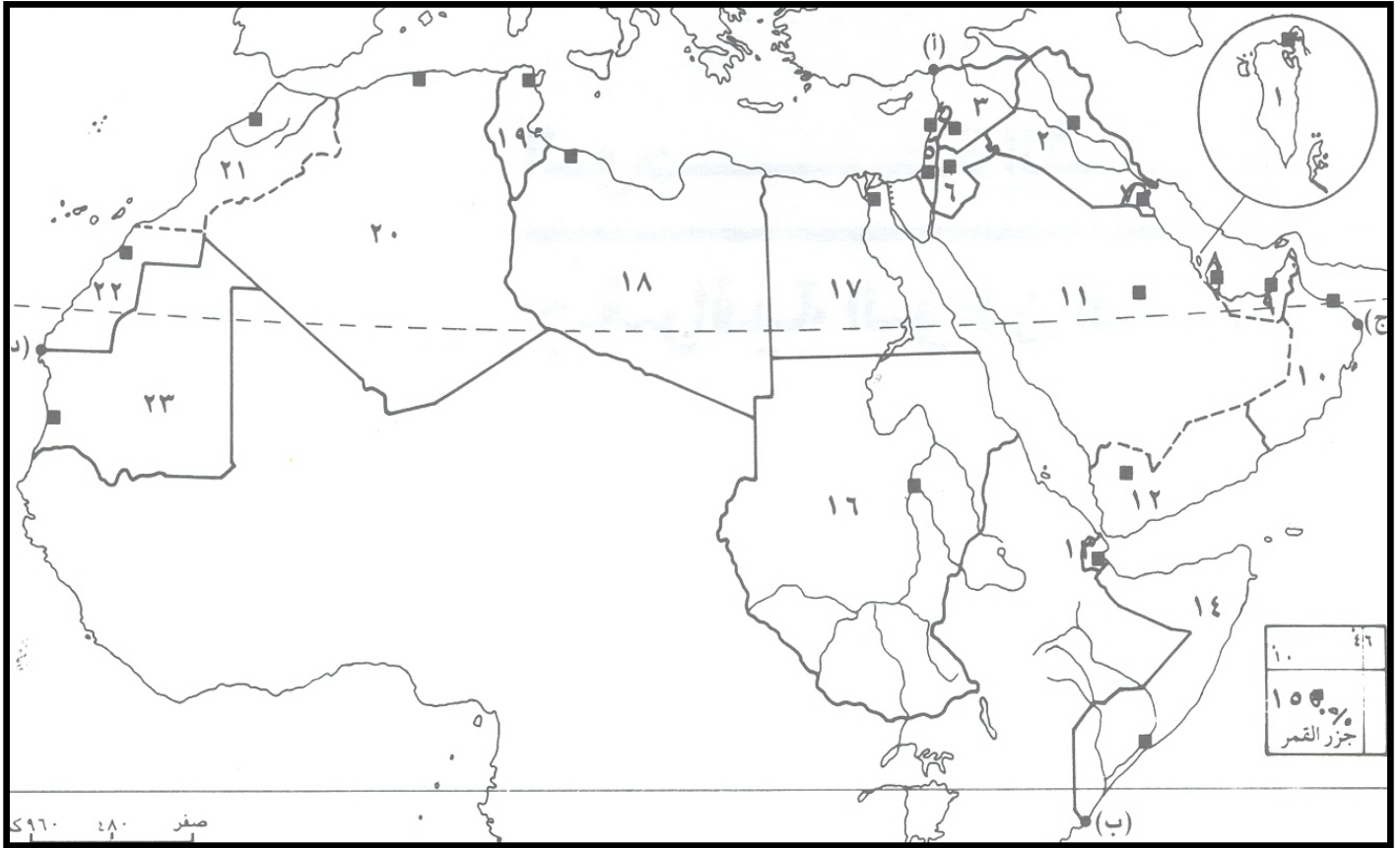
### تقييم المعلمة ( علياء تمام ) لأداء الطالب لهذا الدرس

الوصف	التعزيز	الدعم المقدم
<input type="checkbox"/> عملك متقن حققت المطلوب بجدارة . <input type="checkbox"/> حققت المطلوب منك بشكل جزئي ولديك بعض الأخطاء . <input type="checkbox"/> لم تحقق المطلوب منك يا بطل . -النواقص : .....	<input type="checkbox"/> استمر بالمحاولة يا بطل . <input type="checkbox"/> شكراً لجهودك الرائعة . <input type="checkbox"/> أقدر جهودك <input type="checkbox"/> سعدت بمحاولاتك .	<input type="checkbox"/> يمكنك مراعاة الترتيب وحسن الخط <input type="checkbox"/> أعيد حل السؤال الخاطئ مستعيناً بالكتاب المدرسي او الملزمة . <input type="checkbox"/> أستعين بزملائك وأقرانك لتوصل الى الاجابة الصحيحة . <input type="checkbox"/> يمكنك طلب المساعدة من معلمتك .
التقدير : <input type="checkbox"/> ممتاز <input type="checkbox"/> جيد جداً <input type="checkbox"/> جيد <input type="checkbox"/> متوسط		
رأي الطالب : .....	رأي ولي الأمر : .....	

## النشاط الاثرائي السكان في الوطن العربي

أمامك خارطة للوطن العربي وضح عليها:

(مناطق الكثافة السكانية المرتفع والمنخفضة - الدول العربية حسب الأرقام - البحار والمحيطات -  
الخلجان - المضائق - مدار السرطان - خط الاستواء)



تقييم المعلمة (علياء تمام) لأداء الطالب لهذا الدرس

الدعم المقدم	التعزيز	الوصف
<input type="checkbox"/> يمكنك مراعاة الترتيب وحسن الخط <input type="checkbox"/> أعيد حل السؤال الخاطئ مستعيناً بالكتاب المدرسي او الملزمة . <input type="checkbox"/> أستعين بزملائك وأقرائك لتوصل الى الاجابة الصحيحة . <input type="checkbox"/> يمكنك طلب المساعدة من معلمتك .	<input type="checkbox"/> استمر بالمحاولة يا بطل . <input type="checkbox"/> شكراً لجهودك الرائعة . <input type="checkbox"/> أقدر جهودك <input type="checkbox"/> سعدت بمحاولاتك .	<input type="checkbox"/> عملك متقن حققت المطلوب بجدارة . <input type="checkbox"/> حققت المطلوب منك بشكل جزئي ولديك بعض الأخطاء . <input type="checkbox"/> لم تحقق المطلوب منك يا بطل . -النواقص : .....
<input type="checkbox"/> متوسط	<input type="checkbox"/> جيد	<input type="checkbox"/> جيد جداً
رأي الطالب : ..... رأي ولي الأمر : .....		



التمكين اللغوي

## شبه الجزيرة العربية: الموقع والثروات الطبيعية

أولاً: الخصائص الطبيعية:

- 1- الموقع: القسم الآسيوي من الوطن العربي .
- 2- المساحة: 3 ملايين كم2 (13% من مساحة الوطن العربي).
- 3- الدول : المملكة العربية السعودية ، مملكة البحرين ، دولة الكويت ، دولة قطر ، دولة الامارات العربية المتحدة ، سلطنة عمان ، الجمهورية اليمنية .
- 4- المناخ: حار وجاف (كثرة الصحارى وقلة النباتات).
- 5- المضائق: مضيق باب المندب- مضيق هرمز.
- 6- الأراضي الزراعية: بعض السواحل وال سفوح الجبلية.
- 7- تحتوي على ثروة سمكية كبيرة .

ثانياً: النفط والغاز الطبيعي:

- تحتوي دول شبه الجزيرة العربية على أكبر كمية من احتياطي النفط في العالم.
- تجمع معظم حقول النفط في شرق شبه الجزيرة العربية.
- أهم حقول النفط: حقل الغوار (السعودية).
- أهم حقول الغاز: حقل الشمال (قطر).
- نقل النفط الخليجي من الآبار الى مصافي التكرير أو موانئ التصدير ومن ثم الى الأسواق العالمية بواسطة ((ناقلات النفط)).

\* أهمية النفط في حياة سكان شبه الجزيرة العربية:

- 1- أنه أساس الاقتصاد الخليجي.
- 2- تحقيق نهضة شاملة في مختلف القطاعات بفضل الأموال العائدة من بيعه (العمران، التعليم، الزراعة، الصناعة، الصحة، المواصلات).
- 3- ازدهار المدن والأرياف.
- 4- تحسن مستوى المعيشة.

## نشاط : إقليم شبة الجزيرة العربية

أجب عن الأسئلة التالية :- ☆

أ - أكمل العبارات التالية بما يناسبها:

- 1- يقع إقليم شبة الجزيرة العربية في القسم ..... بالوطن العربي
- 2- يشرف إقليم شبة الجزيرة العربية عند عمان على مضيق .....
- 3- أهم حقول النفط في السعودية هو حقل.....
- 4 - أهم حقول الغاز الطبيعي في قطر هو حقل .....

ب - ضع علامة  أمام العبارة الصحيحة، وعلامة  أمام العبارة الخاطئة:

- 1-  تعد الزراعة الركيزة الأساسية في اقتصاد دول مجلس التعاون .
- 2-  يتركز النفط والغاز الطبيعي في القسم الغربي من شبة الجزيرة العربية .
- 3-  تنتشر الأراضي الزراعية بإقليم شبه الجزيرة العربية عند بعض السواحل والصفوح الجبلية.

☆☆ السؤال الثاني : أجب عن السؤال التالي :

أ - سم الدول التي تضمها إقليم شبة الجزيرة العربية ؟

- |         |         |
|---------|---------|
| ..... 1 | ..... 2 |
| ..... 3 | ..... 4 |
| ..... 5 | ..... 6 |



السؤال الثالث: (اختياري) حل النفط والغاز الطبيعي في إقليم شبة الجزيرة العربية من خلال الجدول التالي :

..... .....	أماكن تجمع النفط والغاز الطبيعي
.....-1 .....-2	أنواع الحقول
.....-1 .....-2	أهم الحقول
.....-1 .....-2	النقل
.....-1 .....-2 .....-3	أهمية النفط في حياة سكان شبة الجزيرة العربية ؟

تقييم المعلمة ( علياء تمام ) لأداء الطالب لهذا الدرس		
الوصف	التعزيز	الدعم المقدم
<input type="checkbox"/> عملك متقن حققت المطلوب بجدارة . <input type="checkbox"/> حققت المطلوب منك بشكل جزئي ولديك بعض الأخطاء . <input type="checkbox"/> لم تحقق المطلوب منك يا بطل . -النواقص : .....	<input type="checkbox"/> استمر بالمحاولة يا بطل . <input type="checkbox"/> شكراً لجهودك الرائعة . <input type="checkbox"/> أقدر جهودك <input type="checkbox"/> سعدت بمحاولاتك .	<input type="checkbox"/> يمكنك مراعاة الترتيب وحسن الخط <input type="checkbox"/> أعيد حل السؤال الخاطئ مستعيناً بالكتاب المدرسي او الملزمة . <input type="checkbox"/> أستعين بزملائك وأقرانك لتوصل الى الاجابة الصحيحة . <input type="checkbox"/> يمكنك طلب المساعدة من معلمتك .
التقدير : <input type="checkbox"/> ممتاز	<input type="checkbox"/> جيد جداً	<input type="checkbox"/> متوسط
رأي الطالب : .....	رأي ولي الأمر: .....	.....

## شبه الجزيرة العربية: النشاطات الاقتصادية وتوزيع السكان

أولاً: النشاطات الاقتصادية للسكان شبه الجزيرة العربية :  
أ- الزراعة:

تمارس في الواحات وعند بعض السواحل وال سفوح الجبلية.

\* المشاكل التي تواجهها الزراعة في شبه الجزيرة العربية:

1- قلة المياه. 2- ضيق مساحة الأراضي الصالحة للزراعة.

\* الحلول المعتمدة لحل مشكلات الزراعة في الجزيرة العربية:

1- التوسع في استخدام المياه الجوفية.

2- إقامة السدود.

3- استخدام الأسمدة الكيماوية.

4- إقامة مزارع حديثة لتربية الأبقار والدواجن.

\* أهم المحاصيل الزراعية : التمور- القمح- الخضار- البن.

ب- الصناعة:

- اعتمادها على مصادر الطاقة (النفط والغاز الطبيعي) والمواد الخام.

- أهم الصناعات: صناعة البتروكيماويات (الأسمدة الكيماوية ومواد البلاستيك)، الإسمنت، ومواد البناء، والحديد،

والألومنيوم، والصناعات الغذائية، الأدوات الكهربائية، بناء السفن.

ج- التجارة: ما أسباب ازدهار التجارة في شبه الجزيرة العربية ؟

1- الموقع الاستراتيجي.

2- تحسن مستوى معيشة السكان.

3-توافر أموال النفط.

ثانياً: توزيع السكان:

- التركيز: في العواصم والمدن الكبرى للعمل في التجارة والخدمات والنفط والصناعة والصيد البحري.

- القسم الأكبر من سكان اليمن وعمان يعملون في الزراعة والرعي.

\* حياة البداوة: علل حياة البدو في تراجع في شبه الجزيرة العربية .

1- هجرة السكان نحو المدن.

2- تنمية الأرياف والبادي.

## نشاط : شبه الجزيرة العربية ( النشاطات الاقتصادية وتوزيع السكان )

☆ **أجب عن الأسئلة التالية :-** أ - أكمل العبارات التالية بما يناسبها:

- 1- تقدمت الزراعة بشبه الجزيرة العربية بفضل الأموال المتجمعة من عائدات .....
- 2- أقامت دول شبه الجزيرة العربية ..... لتجميع مياه السيول .
- 3- الصناعات التي تعتمد على مشتقات النفط كمادة أولية هي صناعة .....
- 4 - يتجمع معظم سكان دول شبه الجزيرة العربية في ..... و .....

ب - ضع علامة  أمام العبارة الصحيحة، وعلامة  أمام العبارة الخاطئة:

- 1-  لا يزال القسم الأكبر من سكان اليمن وسلطنة عمان يعملون في الزراعة والرعي .
- 2-  تعاني دول شبه الجزيرة العربية من ضيق مساحة الأراضي الصالحة للزراعة
- 3-  لزيادة الإنتاج الحيواني إقامة دول شبه الجزيرة العربية مزارع حديثة لتربية الأبقار والدواجن

☆☆ **أجب عن إحدى السؤالين :**

أ - علل ( أذكر السبب ) تراجع حياة البداوة في شبه الجزيرة العربية ؟

- 1 - .....
- 2 - .....

ب - أسباب ازدهار التجارة في دول شبه الجزيرة العربية ؟

- 1- .....
- 2- .....
- 3- .....



أ - سجل بالجدول التالي أهم أنواع الصناعات بدول شبه الجزيرة العربية : ☆☆☆

أنواع الصناعات	الامثلة
الصناعات الثقيلة	
صناعات الخفيفة	

ب - اذكر أهمية النفط والغاز الطبيعي للصناعة ؟

- 1 - .....
- 2 - .....
- 3 - .....

تقييم المعلمة ( علياء تمام ) لأداء الطالب لهذا الدرس

الوصف	التعزيز	الدعم المقدم
<input type="checkbox"/> عملك متقن حققت المطلوب بجدارة . <input type="checkbox"/> حققت المطلوب منك بشكل جزئي ولديك بعض الأخطاء . <input type="checkbox"/> لم تحقق المطلوب منك يا بطل . -النواقص : .....	<input type="checkbox"/> استمر بالمحاولة يا بطل . <input type="checkbox"/> شكراً لجهودك الرائعة . <input type="checkbox"/> أقدر جهودك <input type="checkbox"/> سعدت بمحاولاتك .	<input type="checkbox"/> يمكنك مراعاة الترتيب وحسن الخط <input type="checkbox"/> أعيد حل السؤال الخاطئ مستعيناً بالكتاب المدرسي او الملزمة . <input type="checkbox"/> أستعين بزملائك وأقرانك لتوصل الى الاجابة الصحيحة . <input type="checkbox"/> يمكنك طلب المساعدة من معلمتك .
التقدير : <input type="checkbox"/> ممتاز	<input type="checkbox"/> جيد جداً	<input type="checkbox"/> متوسط
رأي الطالب : .....	رأي ولي الأمر : .....	.....



## المشرق العربي: النشاطات الاقتصادية وتوزيع السكان

### أولاً: النشاطات الاقتصادية:

#### 1- الصناعة:

- أ- صناعة النسيج: (سوريا) بسبب توافر المواد الأولية (القطن والصوف).
- ب- الصناعات الغذائية: صناعة السكر، الزيوت النباتية، المعلبات، الفاكهة المجففة والخضار.
- ج- المواد الأولية المعدنية: قليلة (الحديد- النحاس).
- د- الأسمدة الكيماوية: من البوتاس والفوسفات ويكثران في الأردن وفلسطين.
- هـ- البتروكيماويات: العراق وسوريا (نتيجة لتوفر النفط).
- و- صناعة التجميع والتركيب: تحويل المنتجات الصناعية الجاهزة إلى مصنوعات استهلاكية بالتجميع والتركيب، مثل: صناعة الجرارات والسيارات.

#### 2- التجارة والخدمات:

#### - أسباب نشاط التجارة في بلدان المشرق العربي:

- 1- الموقع الاستراتيجي (بين الخليج العربي والبحر المتوسط).
- 2- قيام الموانئ: البصرة (العراق)، اللاذقية (سوريا)، العقبة (الأردن)، بيروت (لبنان).

#### - أسباب ازدهار السياحة في المشرق العربي:

- 1- اعتدال المناخ.
- 2- تنوع الآثار التاريخية.
- 3- تطور الخدمات السياحية.

### ثانياً: توزيع السكان:

\* التركز: السهول الساحلية المتوسطة، الجبال المطلة عليها، حول مجاري الأنهار، المدن والعواصم (الهجرة إليها من الأرياف).

\* الزراعة: يمارسها سكان القرى وعلى سفوح الجبال.

\* تربية المواشي: في المناطق الداخلية عن مجاري الأنهار.

## نشاط المشرق العربي (النشاطات الاقتصادية وتوزيع الزراعة)

### السؤال الأول :

#### أجب عن الأسئلة التالية :-

أ - ضع علامة  أمام العبارة الصحيحة، وعلامة  أمام العبارة الخاطئة:

- 1-  يشتهر إقليم المشرق العربي بصناعة النسيج.
- 2-  يكثر معدن البوتاس والفوسفات في سوريا والعراق .
- 3-  تنتشر صناعة النفط في الأردن وفلسطين .
- 4-  تنتشط السياحة في المشرق العربي خاصة في المنطقة الواقعة على البحر المتوسط

ب - أكمل العبارات التالية بما يناسبها:

- 1- يشتهر إقليم المشرق العربي بصناعة النسيج لوفرة المواد الأولية من ..... و .....
- 2- يعيش معظم سكان المشرق العربي في ..... ، .....
- 3- من اهم موانئ لبنان ميناء .....

### السؤال الثاني :

#### أجب عن أحد الأسئلة التالية :

أ - علل ( فسر ) تنتشط السياحة في المشرق العربي خاصة في المنطقة الواقعة على البحر المتوسط .

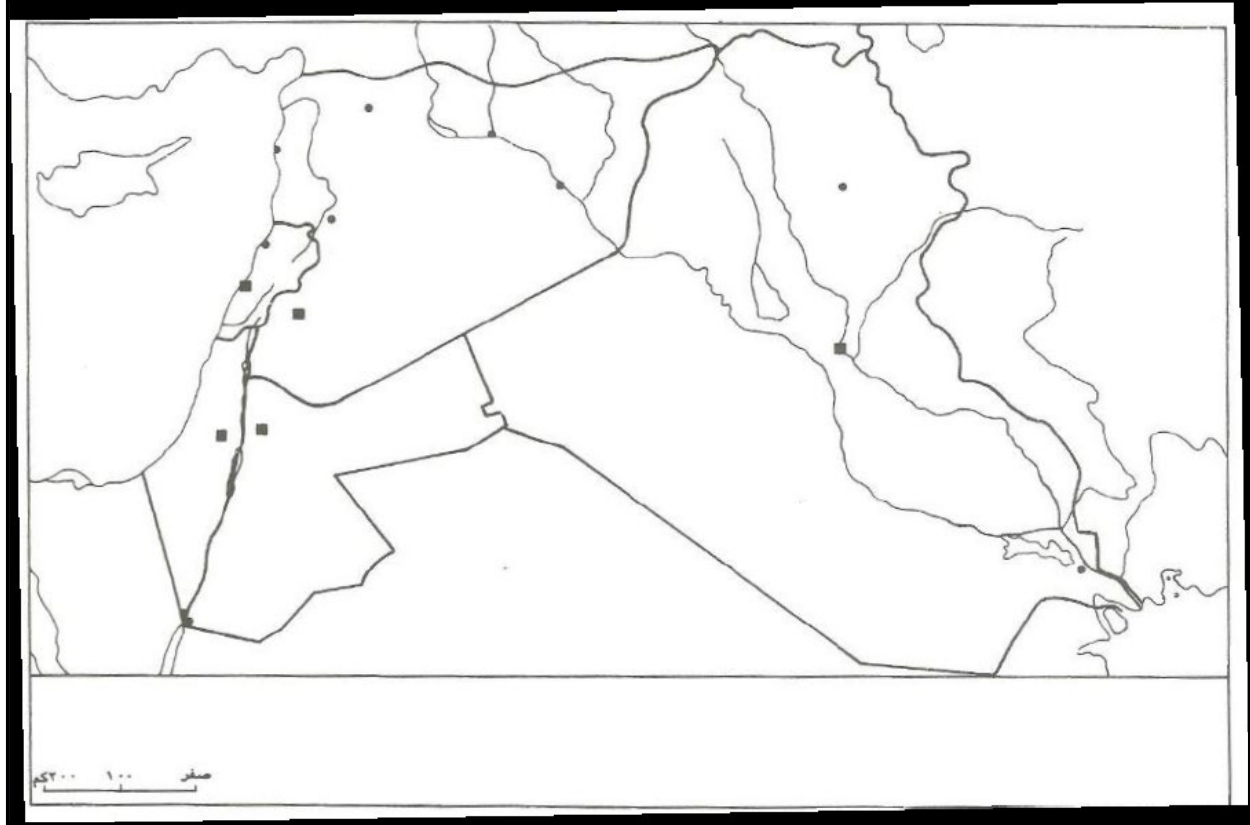
- 1- .....
- 2- .....

ب - علل ( فسر ) نشاط التجارة في بلدان المشرق العربي .

- 1- .....
- 2- .....

السؤال الثالث : أمامك خريطة المشرق العربي حدد عليها كل من :

- 1- دول المشرق العربي ( الأردن – فلسطين – لبنان – سوريا – العراق )
- 2- الموانئ ( بيروت – اللاذقية )
- 3- نهري دجلة والفرات .
- 4- البحر المتوسط .



تقييم المعلمة ( علياء تمام ) لأداء الطالب لهذا الدرس		
الوصف	التعزيز	الدعم المقدم
<input type="checkbox"/> عملك متقن حققت المطلوب بجدارة . <input type="checkbox"/> حققت المطلوب منك بشكل جزئي ولديك بعض الأخطاء . <input type="checkbox"/> لم تحقق المطلوب منك يا بطل . -النواقص : .....	<input type="checkbox"/> استمر بالمحاولة يا بطل . <input type="checkbox"/> شكراً لجهودك الرائعة . <input type="checkbox"/> أقدر جهودك <input type="checkbox"/> سعدت بمحاولاتك .	<input type="checkbox"/> يمكنك مراعاة الترتيب وحسن الخط <input type="checkbox"/> أعيد حل السؤال الخاطئ مستعيناً بالكتاب المدرسي او الملزمة . <input type="checkbox"/> أستعين بزملائك وأقرانك لتوصل الى الاجابة الصحيحة . <input type="checkbox"/> يمكنك طلب المساعدة من معلمتك .
التقدير : <input type="checkbox"/> ممتاز	<input type="checkbox"/> جيد جداً	<input type="checkbox"/> متوسط
رأي الطالب : .....	رأي ولي الأمر : .....	.....

## وادي النيل: النشاطات الاقتصادية وتوزيع السكان

أولاً: الصناعة:

### مقومات الصناعة

**الأيدي العاملة**  
متوافرة ورخيصة

**مصادر الطاقة**  
هي المواد المستخدمة في توليد طاقة  
لتشغيل الآلات وأهم مصادرها: النفط،  
والفحم الحجري، والكهرباء.

**المواد الأولية**  
هي مواد تستخرج من باطن  
الأرض كالنفط أو المعادن أو من  
النبات أو الحيوان وتستخدم في  
الصناعة

\* أهم الصناعات في وادي النيل: صناعة النسيج، تعليب الخضر، صناعة الحديد والصلب (مصر)، استخراج السكر (السودان).

ثانياً: التجارة والخدمات:

- لماذا ازدهرت التجارة في مصر؟

1- الموقع: لأنها تطل على البحر المتوسط والبحر الأحمر وتعبر أراضيها قناة السويس.

2- قيام المرافئ: مرفأ الإسكندرية، مرفأ بور سعيد (مصر)، مرفأ بور سوادن (السودان).

- ما دور نهر النيل في المواصلات؟

نقل البضائع والركاب.

- لماذا تنشط السياحة في مصر؟

بسبب وجود معالم أثرية مهمة في أراضيها، كالأهرامات، والمعابد القديمة، والمساجد، والمتاحف.

ثالثاً: توزيع السكان وأنماط معيشتهم:

1- المناطق الواقعة على جانبي النيل والدلتا: معظم السكان ويمارسون:

أ- الزراعة وتربية المواشي: في الريف.

ج- صيد الأسماك والملاحة: عند السواحل.

2- الواحات: تربية الماشية وزراعة النخيل.

- تعاني مصر والسودان من مشكلة تزايد السكان في المدن وذلك بسبب الهجرة من الأرياف نحو

المدن: خصوصاً القاهرة < 20 000 000 نسمة.

نشاط : وادي النيل ( النشاطات الاقتصادية وتوزيع السكان )

السؤال الأول : أ- أكتب المصطلح المناسب :

( مصادر الطاقة – المواد الأولية )

1- ( ) مواد تستخرج من باطن الأرض كالنفط والمعادن أو من النباتات أو الحيوانات وتستعمل في الصناعة .

2- ( ) المواد التي تستخدم في توليد طاقة لتشغيل الآلات .

ب- ضع علامة ( √ ) أمام العبارة الصحيحة وعلامة ( x ) أمام العبارة الخاطئة :

1- ( ) تنتشر في مصر صناعة النسيج – صناعة تعليب الخضر – صناعة الحديد والصلب .

2- ( ) تعاني مصر والسودان مشكلة تزايد عدد السكان .

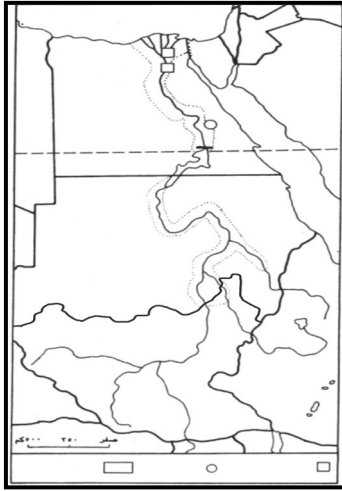
3- ( ) تنشط المواصلات النهرية بين مصر والسودان حيث تستخدم في نقل البضائع والركاب .

السؤال الثاني : أكمل العبارات التالية بما يناسبها :

1- يعد ميناء ..... بمصر على طول ساحل البحر المتوسط .

2- تعبر الأراضي المصرية قناة .....

3- يمتد ميناء بور سودان على ساحل البحر ..... بدولة السودان .



السؤال الثالث : على خريطة وادي النيل حدد كل من :

1- اتجاه الشمال .

2- البحر الاحمر – البحر المتوسط .

3- قناة السويس .

4- السد العالي

تقييم المعلمة ( علياء تمام ) لأداء الطالب لهذا الدرس

الدعم المقدم	التعزيز	الوصف
<input type="checkbox"/> يمكنك مراعاة الترتيب وحسن الخط <input type="checkbox"/> أعيد حل السؤال الخاطئ مستعيناً بالكتاب المدرسي او الملزمة . <input type="checkbox"/> أستعين بزملائك وأقرانك لتوصل الى الاجابة الصحيحة . <input type="checkbox"/> يمكنك طلب المساعدة من معلمتك .	<input type="checkbox"/> استمر بالمحاولة يا بطل . <input type="checkbox"/> شكراً لجهودك الرائعة . <input type="checkbox"/> أقدر جهودك <input type="checkbox"/> سعدت بمحاولاتك .	<input type="checkbox"/> عملك متقن حققت المطلوب بجدارة . <input type="checkbox"/> حققت المطلوب منك بشكل جزئي ولديك بعض الأخطاء . <input type="checkbox"/> لم تحقق المطلوب منك يا بطل . -النواقص : .....
متوسط <input type="checkbox"/>	جيد <input type="checkbox"/>	جيد جداً <input type="checkbox"/>
رأي ولي الأمر: .....		رأي الطالب: .....

## المغرب العربي الكبير: النشاطات الاقتصادية وتوزيع السكان

تتنوع الأنشطة الاقتصادية بالغرب العربي ( ليبيا - تونس - الجزائر - المغرب - موريتانيا ) :

**أولاً: الصناعة:** تتركز الصناعة على:



- **الصناعات الحرفية :** صناعات يدوية يتخذها الإنسان حرفة له، وتعتمد على الجهد البشري، مثل: صناعة المنسوجات المطرزة، والحلي، والأواني الفضية والنحاسية المزينة بالنقوش.

## ثانياً: التجارة والخدمات:

\* أسباب ازدهار التجارة في المغرب العربي:

1- الموقع الجغرافي الاستراتيجي (على البحر المتوسط والمحيط الأطلسي).

2- ازدهار الموانئ: الدار البيضاء، نواكشوط، وهران، الجزائر، تونس، طرابلس الغرب.

3- إقامة علاقات تجارية مع أوروبا بسبب مجاورتها لأوروبا.

4- توافد السياح الأوربيين إليها: للاستمتاع بمناخها والآثار الإسلامية العريقة فيها .

## ثالثاً : توزيع السكان في المغرب العربي:

تتركز السكان في المغرب العربي : في السهول الساحلية والسفوح الجبلية المواهة لها، وفي المدن.

لماذا التركيز في المدن ؟ بسبب الهجرة الكثيفة الوافدة إليها من الأرياف وهم يعملون في التجارة والصناعة والصيد البحري

- عدد قليل : في الريف يعملون ← الزراعة.

في المناطق الداخلية ← تربية المواشي والمناجم وحقول النفط والغاز الطبيعي .

## نشاط المغرب العربي ( النشاطات الاقتصادية )

السؤال الأول : أجب عن الأسئلة التالية :

أ - ضع علامة  $\sqrt$  أمام العبارة الصحيحة، وعلامة  $\times$  أمام العبارة الخاطئة:

- 1- ( ) تعاني بلدان المغرب العربي من قلة الموارد الأولية .
- 2- ( ) نشطت السياحة في بلدان المغرب العربي بسبب مجاورتها لقارة آسيا .
- 3- ( ) تشهد بلدان المغرب العربي هجرة سكانية كثيفة من الأرياف الى المدن .
- 4- ( ) من الصناعات الحرفية السياحية في بلدان المغرب العربي صناعة المنسوجات المطرزة .

ب أكمل العبارات التالية بما يناسبها:

- 1- بلدان المغرب العربي تمتلك كميات كبيرة من ..... والتي تستخدم في صناعة الأسمدة الزراعية .
- 2- تنتج الجزائر نصف ما ينتجه الوطن العربي من ..... كمصدر هام للطاقة .
- 3- تطل بلدان المغرب العربي على البحر ..... والمحيط .....

السؤال الثاني : أجب عن السؤالين التاليين:

أ عدد أسباب ازدهار التجارة في المغرب العربي ؟

- 1-.....
- 2-.....
- 3-.....
- 4-.....

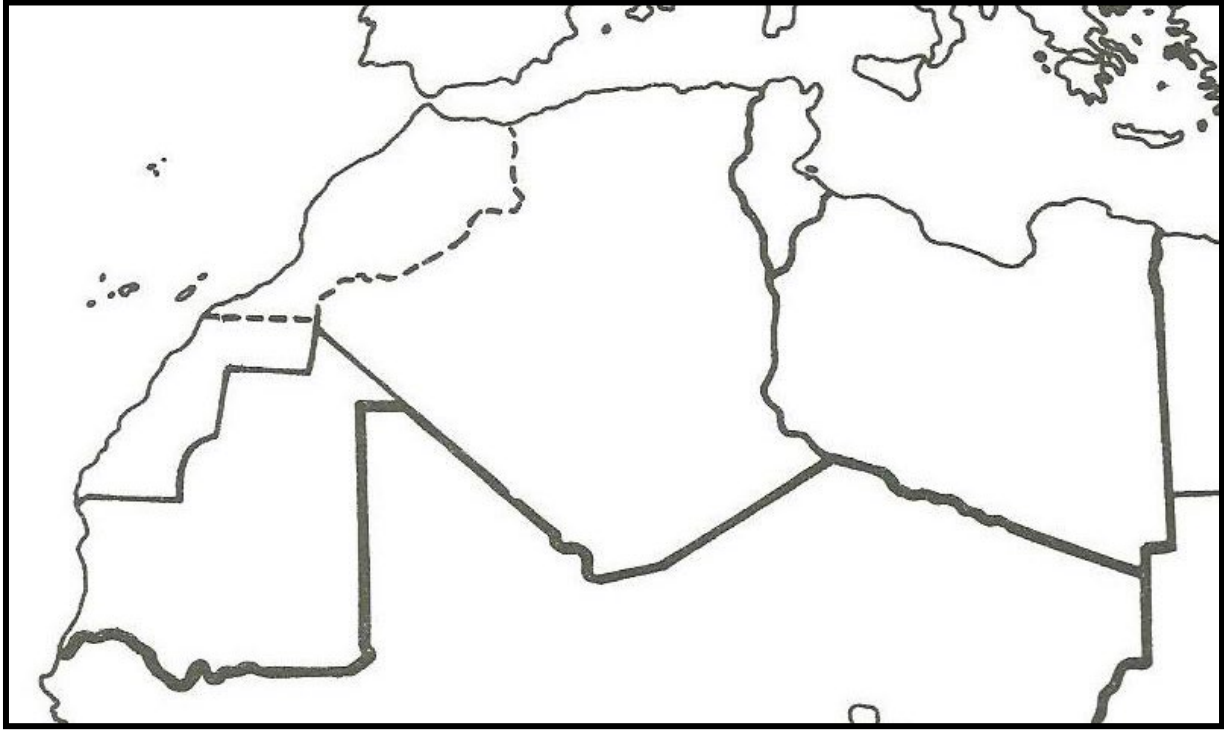
ب علل: قيام الصناعة في بلدان المغرب العربي ؟

- 1-.....
- 2-.....
- 3-.....
- 4-.....



السؤال الثالث : على خريطة المغرب العربي  
حدد كل من :

- 1- دول المغرب العربي .
- 2- البحر المتوسط – المحيط الأطلسي .



تقييم المعلمة ( علياء تمام ) لأداء الطالب لهذا الدرس		
الوصف	التعزيز	الدعم المقدم
<input type="checkbox"/> عملك متقن حققت المطلوب بجدارة . <input type="checkbox"/> حققت المطلوب منك بشكل جزئي ولديك بعض الأخطاء . <input type="checkbox"/> لم تحقق المطلوب منك يا بطل . -النواقص : .....	<input type="checkbox"/> استمر بالمحاولة يا بطل . <input type="checkbox"/> شكراً لجهودك الرائعة . <input type="checkbox"/> أقدر جهودك <input type="checkbox"/> سعدت بمحاولاتك .	<input type="checkbox"/> يمكنك مراعاة الترتيب وحسن الخط <input type="checkbox"/> أعد حل السؤال الخاطئ مستعيناً بالكتاب المدرسي او الملزمة . <input type="checkbox"/> أستعين بزملائك وأقرانك لتوصل الى الاجابة الصحيحة . <input type="checkbox"/> يمكنك طلب المساعدة من معلمتك .
التقدير : <input type="checkbox"/> ممتاز	<input type="checkbox"/> جيد جداً	<input type="checkbox"/> متوسط
رأي الطالب : .....	رأي ولي الأمر : .....	.....

# التربية للمواطنة

## الفصل الدراسي الثاني

### الصف الخامس

### الأبتدائي

رقم الصفحة	عنوان الدرس	رقم الدرس
32-28	تحمل المسؤولية	الدرس الأول
39-34	المحافظات في مملكة البحرين	الدرس الثاني
44-40	المجالس البلدية	الدرس الثالث
51-46	حقوق الطفل	الدرس الرابع

## تحمل المسؤولية

تحمل المسؤولية قيمه ملازمة للإنسان الذي يسعى الى دائما الى تحقيق طموحاته

• تتنوع المسؤوليات وتختلف حسب :

مسؤولية الطالب	مسؤولية العائلة	مسؤولية الدولة
الحفاظ على الهدوء العناية بنظافة الكتاب المنزلي القيام بالواجبات المدرسية ترتيب البيت المشاركة في الأنشطة الصفية والمدرسية التزام الهدوء في مكتبة المدرسة	دفع فواتير الكهرباء المنزلية ترتيب البيت توفير الغذاء	توفير المدارس للتعلم توفير العلاج للمرضى انشاء الحدائق والمنتزهات اجراء الانتخابات النيابية

• أهمية المسؤولية :

عندما نتحمل مسؤولياتنا نرضى عن أنفسنا. أما إذا فشلنا في تحمّل مسؤولياتنا فقد ينعكس ذلك علينا سلبًا، أو قد تترتب عليه نتائج غير مرضية تُضربنا.

• ما معنى المسؤولية :

المسؤولية هي "الالتزام بأداء الواجبات بإخلاص وإتقان، والاستعداد لتحمل عواقب أفعالنا في حال صدور إهمال منا لها أو تقصير في تنفيذها أو إخلال بقواعد الحكم على أدائنا لها".

امامك مجموعة من المواقف ، حدد نوع المسؤولية واكمل الجدول التالي :

المواقف	نوع المسؤولية	الشخص المسؤول	النتائج المترتبة عن تحمل المسؤولية
كان محمد وفاطمة ذاهبين الى اللعب قال والدهما فاطمة انتبهي لأخيك الصغير واحرصي على ان لا يحدث اليه مكروه .	انتباه فاطمة الى اخيها محمد	فاطمة	رجوع محمد من اللعب بالسلامة ومن دون مكروه
طلب مدرب فريق كرة القدم الى اللاعبين التزام وقت التمرين .	التزام بوقت التدريب	أعضاء فريق كرة القدم	اخذ الوقت الكافي للتمرين مما يؤدي الى قدرة الفريق على اللعب والفوز
قالت المعلمة يجب ان يشترك جميع طلبه الصف في رسم خريطة مملكة البحرين	رسم خريطة مملكة البحرين	جميع الطلبة في الصف	اكمال المهمة على اكمل وجه وبمشاركة الجميع
طلب اختصاصي مصادر التعليم بالمدرسة من الطلبة ارجاع الكتب المستعارة حسب التاريخ المحدد .	ارجاع الكتب المستعارة حسب التاريخ المحدد	الطلاب	الالتزام بالوقت المحدد والمحافظة على التنظيم

حدّد مسؤوليتك تجاه القضايا الواردة في الجدول الآتي مع ذكر القيمة المترتبة عن تصرفك بمسؤولية .

العبارة	المسؤولية	القيمة المترتبة على تحملك المسؤولية
رأيت أطفالا يعيثون بصبور المياه في حديقة الحي.	-تقديم النصيحة - بيان أهمية الممتلكات العامة	الحفاظ على الممتلكات العامة..
لاحظت رجلا كبيرا في السن يحاول عبور الشارع.	مساعدته في عبور الشارع	التعاون - الاحترام ..
لاحظت تسرب للمياه في منطقتكم السكنية	إبلاغ الجهات المختصة	الحفاظ على الثروة المائية - الترشيح
وجدت مجموعة من الألعاب متناثرة في فناء المنزل	تجميعها وترتيبها	النظافة - التنظيم.

## نشاط درس : تحمل المسؤولية

السؤال الأول : ضع علامة ( v ) أمام المسؤولية المناسبة :

العبرة	مسؤولية الطالب	مسؤولية الأسرة	مسؤولية الدولة
توفر العلاج للمرضى			
توفير الطعام للأبناء			
القيام بالواجبات المدرسية			
توفير المدارس للتعليم			
دفع فواتير الكهرباء للمنزل			

السؤال الثاني : أكمل الفراغات بالكلمات المناسبة :

( اتقان - إهمال - واجبات - عواقب - تنفيذها )

المسؤولية هي : الإلتزام بأداء ..... بإخلاص و ..... ، والاستعداد لتحمل .....  
أفعالنا في حال صدور ..... منا لها أو تقصير في .....

السؤال الثالث : أذكر موقف أو مثال يدل على تحمل المسؤولية :

.....  
.....

تقييم المعلمة ( عليها تمام ) لأداء الطالب لهذا الدرس		
الوصف	التعزيز	الدعم المقدم
<input type="checkbox"/> عملك متقن حققت المطلوب بجدارة . <input type="checkbox"/> حققت المطلوب منك بشكل جزئي ولديك بعض الأخطاء . <input type="checkbox"/> لم تحقق المطلوب منك يا بطل . -النواقص : .....	<input type="checkbox"/> استمر بالمحاولة يا بطل . <input type="checkbox"/> شكراً لجهودك الرائعة . <input type="checkbox"/> أقدر جهودك <input type="checkbox"/> سعدت بمحاولاتك .	<input type="checkbox"/> يمكنك مراعاة الترتيب وحسن الخط <input type="checkbox"/> أعيد حل السؤال الخاطئ مستعيناً بالكتاب المدرسي او الملزمة . <input type="checkbox"/> أستعين بزملائك وأقرانك لتوصل الى الإجابة الصحيحة . <input type="checkbox"/> يمكنك طلب المساعدة من معلمتك .
التقدير : <input type="checkbox"/> ممتاز	<input type="checkbox"/> جيد جداً	<input type="checkbox"/> متوسط
رأي الطالب : .....	رأي ولي الأمر : .....	.....

## درس المحافظات في مملكة البحرين

الهدف من انشاء المحافظات تخفيف الأعباء والمسؤوليات عن الدولة  
\*ما تعريف المحافظة؟

هي منطقة جغرافية تتكون من مجموعة من القرى والمدن .

\*ما هو دور المحافظة؟

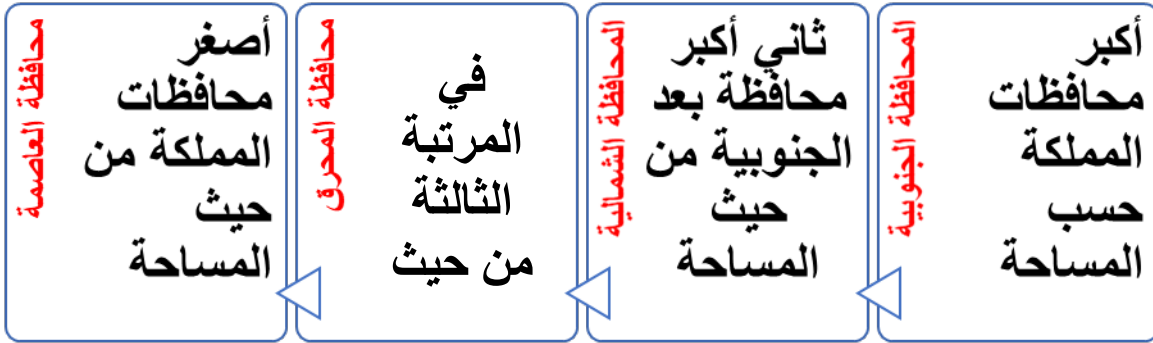
- 1- الاسهام في الاشراف على الخدمات التي تقدمها مرافق وأجهزة الدولة الكائنة بالمحافظة .
- 2- المحافظة على الأمن والنظام .
- 3- رعاية مختلف الأنشطة وتشجيعها .
- 4- إيجاد الحلول المناسبة لمشكلات المواطنين

\*من هو المحافظ؟

هو ممثل الحكومة ( السلطة التنفيذية ) في المحافظة ويشرف على الخدمات التي تقدمها الدولة في نطاق المحافظة .

\*كم عدد المحافظات في مملكة البحرين؟ وما هي؟

يوجد في مملكة البحرين 4 محافظات



\*في الجدول التالي أسماء المحافظات مع بعض المعالم الأثرية المشهورة في مملكة البحرين موزعة حسب المحافظات :

المعالم	باب البحرين	قلعة عراد	تلال المدافن	بيت سيادي	محمية العرين	قلعة احمد الفاتح	مسجد الخميس	مسجد الفاتح
المحافظة	العاصمة	المحرق	الشمالية	المحرق	الجنوبية	الجنوبية	الشمالية	العاصمة

- تشتهر مملكة البحرين ببعض الحرف القديمة التي مارسها السكان وبرعوا فيها منذ القدم وقد احتفظوا بها رغم التطورات الحضارية السريعة التي حدثت في مجتمع البحرين مثل: صناعة الفخار ، النسيج ، صناعة السفن .

## نشاط المحافظات في مملكة البحرين

السؤال الأول : أجب عن الأسئلة التالية :

1- ما المقصود بالمحافظة ؟

.....

2- كم عدد المحافظات في مملكة البحرين ؟

.....

3- ما أصغر المحافظات من حيث المساحة ؟

.....

4- ما أكبر المحافظات من حيث المساحة ؟

.....

5- ما أسم المحافظة التي تعيش فيها ؟

.....

السؤال الثاني : ضع علامة (√) أمام العبارة الصحيحة وعلامة (×) أمام العبارة الخاطئة :

- 1- ( ) المحافظ هة ممثل السلطة التشريعية في المحافظة .
- 2- ( ) من مهام المحافظة ايجاد حلول مناسبة لمشكلات المواطنين بالتنسيق مع الجهات المختصة .
- 3- ( ) محمية العرين من معالم محافظة المحرق .
- 4- ( ) للمحافظة على الآثار يجب عدم الكتابة عليها .

السؤال الثالث : صنف المعالم التالية حسب المحافظات :

المحافظة	المعالم السياحية
	باب البحرين
	قلعة عراد
	محمية العرين
	مسجد الخميس

تقييم المعلمة ( علياء تمام ) لأداء الطالب لهذا الدرس		
الوصف	التعزيز	الدعم المقدم
<input type="checkbox"/> عملك متقن حققت المطلوب بجدارة . <input type="checkbox"/> حققت المطلوب منك بشكل جزئي ولديك بعض الأخطاء . <input type="checkbox"/> لم تحقق المطلوب منك يا بطل . -النواقص : .....	<input type="checkbox"/> استمر بالمحاولة يا بطل . <input type="checkbox"/> شكراً لجهودك الرائعة . <input type="checkbox"/> أقدر جهودك <input type="checkbox"/> سعدت بمحاولاتك .	<input type="checkbox"/> يمكنك مراعاة الترتيب وحسن الخط <input type="checkbox"/> أعيد حل السؤال الخاطئ مستعيناً بالكتاب المدرسي او الملزمة . <input type="checkbox"/> أستعين بزملائك وأقرانك لتوصل الى الاجابة الصحيحة . <input type="checkbox"/> يمكنك طلب المساعدة من معلمتك .
التقدير : <input type="checkbox"/> ممتاز	<input type="checkbox"/> جيد جداً	<input type="checkbox"/> متوسط
رأي الطالب : .....	رأي ولي الأمر : .....	.....

## المجالس البلدية

\*ما هو المجلس البلدي ؟

المجلس البلدي : هيئة تضم مجموعة من الأعضاء المنتخبين، ويمثل كل عضو منهم إحدى الدوائر الانتخابية في كل محافظة، ومدة عمل هذا المجلس أربع سنوات ميلادية يقدم خلالها الخدمات البلدية المتعددة في نطاق المحافظة التي يمثلها.

\*دور المجلس البلدي :

تسهم المجالس البلدية في تنمية المدن والقرى بتقديم مجموعة من الخدمات البلدية أبرزها :

- 1- تحسين أوضاع الشوارع والطرق الأماكن العامة من خلال الحرص على تنظيفها وتجميلها .
- 2- انشاء الحدائق والمنتزهات والأسواق ومدافن النفايات وتطويرها .
- 3- تنظيم رخص البناء والهدم والترميم .
- 4- وضع الأنظمة الخاصة بالإعلانات الدعائية .

\*مراحل تطور العمل البلدي في مملكة البحرين :

1919	اول بلدية
1920	بداية تشكيل المجالس البلدية
1924	أول انتخابات بلدية
1950	مشاركة المرأة في الانتخابات البلدية
1973	انشاء هيئة بلدية مركزية
2002	إعادة تشكيل المجالس البلدية

شروط الانتخاب والترشيح لعضوية المجلس البلدي :

شروط الترشيح	شروط الانتخاب
١- أن يكون المتقدم بحرينياً.	١- أن يكون المنتخب قد بلغ من العمر عشرين سنة كاملة يوم الانتخاب.
٢- ألا يقل سنه يوم الانتخاب عن ثلاثين سنة ميلادية كاملة.	٢- أن يكون مقيماً في الدائرة الانتخابية طبقاً لما هو ثابت في بطاقة الهوية.
٣- أن يجيد قراءة اللغة العربية وكتابتها.	٣- أن يكون كامل الأهلية.
٤- أن يكون قد سدد الرسوم البلدية إذا كان مكلفاً بها قانوناً.	
٥- أن يكون متمتعاً بكافة حقوقه المدنية والسياسية.	
٦- أن يكون مقيماً في جدول الناخبين في الدائرة الانتخابية التي يرشح نفسه فيها وأن يقيم في نطاق البلدية طوال مدة عضويته.	



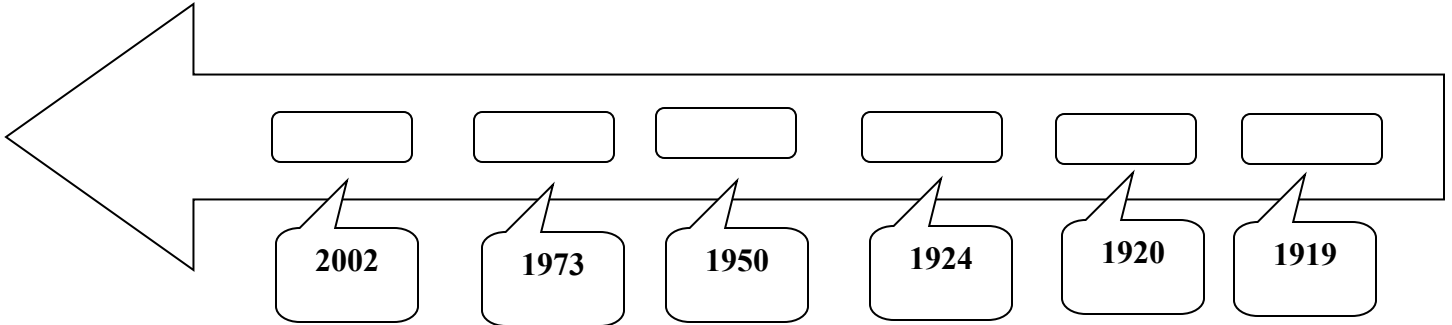
## نشاط المجالس البلدية

**السؤال الأول :** ضع علامة (√) أمام العبارة الصحيحة وعلامة (×) أمام العبارة الخاطئة :

- 1- ( ) يحق للمرأة المشاركة في الترشح للمجلس البلدي .
- 2- ( ) يتم انتخاب أعضاء المجلس البلدي كل أربع سنوات .
- 3- ( ) يتم اختيار أعضاء المجالس البلدية عن طريق الأنتخاب .
- 4- ( ) شخص مقيم في منطقة جدحفص يحق له الأنتخاب في المحرق .

**السؤال الثاني :** أكمل الخط الزمني بكتابة رقم الحدث داخل المستطيلات التالية :

- 1- مشاركة للمرأة في الانتخابات
- 2- اجراء أول انتخابات بلدية
- 3- بداية تشكيل المجالس البلدية
- 4-إنشاء أول بلدية
- 5- إنشاء هيئة بلدية مركزية
- 6- إعادة تشكيل المجالس البلدية



**السؤال الثالث :** ميز بين شروط الانتخاب وشروط الترشح بوضع علامة (√) في المكان المناسب :

شروط الترشح	شروط الانتخاب	الشروط
		أن يكون بحرينياً
		أن يجيد اللغة العربية قراءةً وكتابةً
		ان لا يقل عمره عن 30 سنة .
		أن لا يقل عمره عن 20 سنة
		أن يسدد الرسوم البلدية المكلف بها

تقييم المعلمة ( علياء تمام ) لأداء الطالب لهذا الدرس

الدعم المقدم	التعزيز	الوصف
<input type="checkbox"/> يمكنك مراعاة الترتيب وحسن الخط <input type="checkbox"/> أعيد حل السؤال الخاطئ مستعيناً بالكتاب المدرسي او الملزمة . <input type="checkbox"/> أستعين بزملائك وأقرانك لتوصل الى الاجابة الصحيحة . <input type="checkbox"/> يمكنك طلب المساعدة من معلمتك .	<input type="checkbox"/> استمر بالمحاولة يا بطل . <input type="checkbox"/> شكراً لجهودك الرائعة . <input type="checkbox"/> أقدر جهودك <input type="checkbox"/> سعدت بمحاولاتك .	<input type="checkbox"/> عملك متقن حققت المطلوب بجدارة . <input type="checkbox"/> حققت المطلوب منك بشكل جزئي ولديك بعض الأخطاء . <input type="checkbox"/> لم تحقق المطلوب منك يا بطل . -النواقص :
<input type="checkbox"/> متوسط	<input type="checkbox"/> جيد	<input type="checkbox"/> جيد جداً
التقدير : <input type="checkbox"/> ممتاز		
رأي الطالب : ..... رأي ولي الأمر : .....		

## حقوق الطفل

• متى أقرت منظمة الأمم المتحدة اتفاقية حقوق الطفل ؟  
عام 1989 م

• متى صادقت البحرين على اتفاقية حقوق الطفل ؟  
1991 م

• متى أصدرت البحرين قانون حقوق الطفل البحريني ؟  
2012 م

• عدد حقوق الطفل في الاتفاقيات الدولية .

1- حق الحماية من سوء المعاملة والإهمال :

2- حق الحماية من الاستغلال .

3- حق احترام الخصوصية .

4- حق الرعاية الاسرية والضمان الاجتماعي .

• ماذا يقصد بحق الحماية من سوء المعاملة والإهمال .

كل فعل او امتناع من شأنه ان يؤدي الى اذى مباشر او غير مباشر للطفل يحول دون تنشئته ونموه على نحو سليم وآمن وصحي ويشمل سوء المعاملة الجسدية او النفسية او الجنسية او الإهمال او الاستغلال الاقتصادي .

• ماذا يقصد بحق الحماية من الاستغلال ؟

لا يجوز لأحد ان يستغل الطفل بأي شكل من اشكال الاستغلال الضارة بمختلف جوانب الحياة اذا لا يسمح له بتشغيل او اكرامه الطفل على العمل الذي يعوق تعليمه ونموه الجسمي والعقلي والنفسي والاجتماعي ويضر بصحته .

• ماذا هو حق احترام الخصوصية كما جاء في الاتفاقيات الدولية ؟

لا يحق لأحد التدخل في حياة الطفل الشخصية والعائلية مثل التدخل في قراءة الرسائل او التنصت على المكالمات الهاتفية او الدخول الى المسكن بدون استئذان .

• ماذا يقصد بحق الرعاية الاسرية والضمان الاجتماعي ؟

من حق الطفل العيش مع والديه ولا يجوز فصله عنهما الا اذا كان ذلك ضروريا لصون مصلحته ويتحمل والديه رعايته وتأمين المستوى المعيشي الملائم لنموه البدني والعقلي والروحي والاجتماعي .

• ما هي واجباتك كطفل لحماية نفسك من الخطف :

1- لا تقبل أي هدية ممن لا تعرفهم

2- لا تدخل في حوار مع الغرباء

3- تجنب الخروج في فترات غير مناسبة كالليل

4- اعلم والديك بالأماكن التي تذهب اليها .

5- استشر والديك في صداقاتك .

6- العب في الأماكن المخصصة كالحديقة العامة .

• ما هي المنظمة الدولية العاملة في مجال حقوق الطفل ؟  
منظمة الأمم المتحدة للطفولة ( منظمة اليونسيف )

• اذكر المؤسسات الوطنية العاملة في رعاية حقوق الطفل بمملكة البحرين ؟

- 1- دار رعاية الطفولة لإيواء الأطفال مجهولي الابوين والايتام وأطفال الاسر المتصدعة .
- 2- مركز البحرين لحماية الطفل افتتح عام 2007 كجهة مركزية معنية بحماية الطفل في مملكة البحرين .

• من هي واجباتك ومسؤولياتك نحو اسرتك ومجتمعك ووطنك ؟

- 1- اعمل على تماسك اسرتي .
- 2- احترم والداي .
- 3- احترم من هم اكبر مني منزلة كالمعلمين وكبار السن .
- 4- اخدم مجتمعي المحلي .
- 5- احافظ على الممتلكات العامة والخاصة .
- 6- اجتهد في دراستي واواظب على القيام بواجباتي المدرسية .

## نشاط حقوق الطفل

السؤال الأول : ما الحق المنتهك في الصور التالية :



السؤال الثاني : ضع علامة ( v ) أمام العبارة الصحيحة و علامة ( x ) أمام العبارة الخاطئة

- 1- ( ) يجب علي أن لا أقبل الهدايا من أشخاص غرباء .
- 2- ( ) من حق زميلي ان ينشر صوري ومعلوماتي الشخصية في شبكة الأنترنت .
- 3- ( ) يجوز تجنيد الأطفال الذين هم دوم سن الخامس عشر .
- 4- ( ) الأسرة هي المسؤول الوحيد عن حماية الطفل من الخطف .
- 5- ( ) لا بأس بزيارة صديقي في وقت متأخر من الليل .

السؤال الثالث : أجب عن الاسئلة التالية :

أ- اذكر أهم المؤسسات الوطنية العاملة في مجال رعاية حقوق الطفل في مملكة البحرين ؟

1- ..... 2- .....

ب- ما أهم واجباتك كطفل لحماية نفسك من الاختطاف :

1- ..... 2- .....

تقييم المعلمة ( علياء تمام ) لأداء الطالب لهذا الدرس

الوصف	التعزيز	الدعم المقدم
<input type="checkbox"/> عملك متقن حققت المطلوب بجدارة . <input type="checkbox"/> حققت المطلوب منك بشكل جزئي ولديك بعض الأخطاء . <input type="checkbox"/> لم تحقق المطلوب منك يا بطل . -النواقص : .....	<input type="checkbox"/> استمر بالمحاولة يا بطل . <input type="checkbox"/> شكراً لجهودك الرائعة . <input type="checkbox"/> أقدر جهودك <input type="checkbox"/> سعدت بمحاولاتك .	<input type="checkbox"/> يمكنك مراعاة الترتيب وحسن الخط <input type="checkbox"/> أعيد حل السؤال الخاطي مستعيناً بالكتاب المدرسي او الملزمة . <input type="checkbox"/> أستعين بزملائك وأقرانك لتوصل الي الاجابة الصحيحة . <input type="checkbox"/> يمكنك طلب المساعدة من معلمتك .
التقدير : <input type="checkbox"/> ممتاز	<input type="checkbox"/> جيد جداً	<input type="checkbox"/> متوسط
رأي الطالب : .....	رأي ولي الأمر : .....	




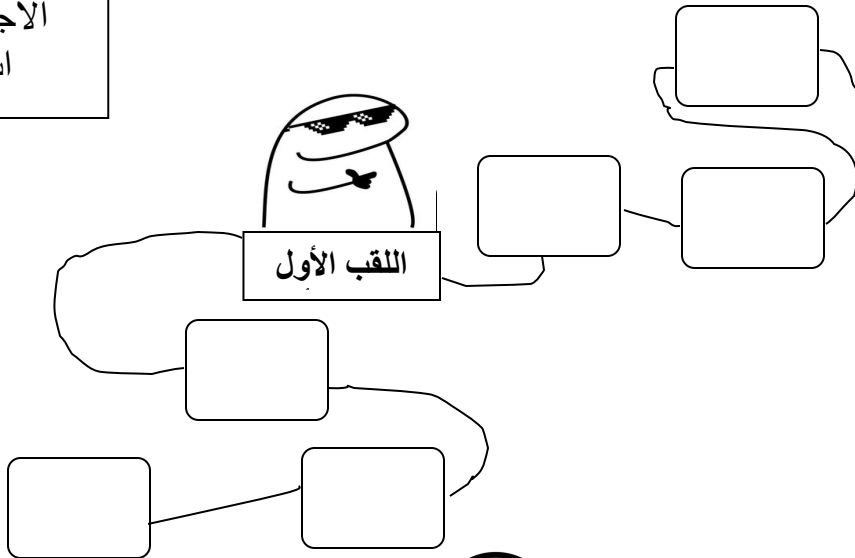





## سباق المجموعات


## انجازات الطالب

درجة الاختبار الكاملة  
الاجابات المتميزة  
اسئلة التحدي



اللقب الأول



ملك الانجاز

