

تم تحميل هذا الملف من موقع المناهج العُمانية



* للحصول على أوراق عمل لجميع الصفوف وجميع المواد اضغط هنا

<https://almanahj.com/bh>

* للحصول على أوراق عمل لجميع مواد الصف الخامس اضغط هنا

<https://almanahj.com/bh/5>

* للحصول على جميع أوراق الصف الخامس في مادة اجتماعيات ولجميع الفصول, اضغط هنا

<https://almanahj.com/bh/5social>

* للحصول على أوراق عمل لجميع مواد الصف الخامس في مادة اجتماعيات الخاصة بـ الفصل الثاني اضغط هنا

<https://almanahj.com/bh/5social2>

* لتحميل كتب جميع المواد في جميع الفصول للـ الصف الخامس اضغط هنا

<https://almanahj.com/bh/grade5>

للتحدث إلى بوت على تلغرام: اضغط هنا

https://t.me/omcourse_bot



التقويم التجميعي لنهاية الفصل الدراسي الثاني في مادة
الاجتماعيات
للف الخامس الابتدائي للعام الدراسي ٢٠١٤م / ٢٠١٥م

الاسم : الصف : الخامس / الرقم :

الكفاية	الدرجة	مستوى الإلتقان
١	يتعرف أقاليم الوطن العربي و مميزاتها الطبيعية و البشرية	٦١ درجة
٢	يوظف الخرائط الجغرافية و الأشكال و الرسوم البيانية و الصور	١٤ درجة

الرجاء ملاحظة التالي :

النهائية	درجة المواطنة
	المواد الاجتماعية

- ١ - تأكد من أن أوراق الامتحان تقع في ٥ ورقات .
- ٢ - اقرأ الأسئلة جيدا قبل الإجابة .
- ٣ - راجع الأسئلة جيدا قبل تسليم ورقة الإجابة .
- ٤ - الاعتماد على النفس في الإجابة



((كفاية رقم ١))

س ١ (أ) : ضع علامة (✓) أمام العبارة الصحيحة و علامة (×) أمام العبارة الخاطئة
ثم صحح العبارة الخاطئة :

١- (✓) توجد مملكة البحرين ضمن إقليم شبه الجزيرة العربية. C

٢- (×) يطل إقليم شبه الجزيرة العربية على مضيق جبل طارق . C


٣- (✓) يسود المناخ الصحراوي إقليم شبه الجزيرة العربية. C

٤- (✓) تتواجد ثروة نفطية هائلة في دول إقليم شبه الجزيرة العربية . C

٥- (×) يمتد إقليم شبه الجزيرة العربية في قارة أفريقيا. C

(ب) : أكمل الخريطة المعرفية أدناه

تعاني الزراعة في إقليم شبه الجزيرة العربية من مشاكل هي



ضيق مساحة الأراضي الزراعية

قلة المياه

حلول المشكلة

حلول المشكلة

- ١- التوسع في استغلال المياه الجوفية
- ١- استخدام الأسمدة الكيميائية
- ١- إقامة السدود من أجل جمع المياه
- ١- معالجة المياه الجوفية ومياه
- الأمطار الصالحة
- ١- استخدام وسائل حديثة في الري



(ج) : ضع علامة (√) أمام الدولة :

الرقم	العبارات	البحرين	السعودية	اليمن	قطر
١	تمتلك أكبر احتياطي نفط في العالم		✓		
٢	تشتهر بصناعة الألمنيوم .	✓			
٣	ثاني أكبر دول العالم في الغاز				✓
٤	يمارس القسم الأكبر من السكان الزراعة			✓	

س ٢ (أ) : ضع دائرة حول الإجابة الصحيحة :

١- من أبرز دول المشرق العربية دولة:

العراق	موريتانيا	جيبوتي	اليمن
--------	-----------	--------	-------

٢- يقع إقليم المشرق العربي في قارة :

آسيا	أفريقيا	أستراليا	أوروبا
------	---------	----------	--------

٣- المساحة التي يشغلها إقليم المشرق العربي من إجمالي الوطن العربي:

٦ %	٧ %	٨ %	٩ %
-----	-----	-----	-----


٤- يشتهر إقليم المشرق العربي بصناعة:

السيارات	الإلكترونيات	النسيج	الألمنيوم
----------	--------------	--------	-----------

٥- من أشهر موانئ إقليم المشرق العربي ميناء:

رأس تنوره	بور سعيد	اللاذقية	بور سودان
-----------	----------	----------	-----------





(ب) : علل لما يلي :

١- ازدهار السياحة في إقليم المشرق العربي.

أ- اعتدال المناخ

ب- تنوع الآثار
ج- تطور الخدمات السياحية

٢- هجرة السكان من الأرياف إلى المدن في إقليم وادي النيل.

أ- محدودية فرص العمل والخدمات والتسهيلات للمدن

(ج) : أكمل الفراغات التالية باستخدام الكلمات المناسبة أدناه :

النفط	قناة السويس	تعليب الخضر	١٣%	نهر النيل	السكر
-------	-------------	-------------	-----	-----------	-------

١) يشتهر وادي النيل بصناعة السكر و تعليب الخضر.

٢) ساهم إشراف إقليم وادي النيل على قناة السويس في ازدهار التجارة.

٣) يمثل النفط أهم مصادر الطاقة في إقليم وادي النيل .

٤) يعيش معظم سكان وادي النيل قرب نهر النيل .

س ٣ (أ) : أجب عن الأسئلة التالية :

١- اكتب اثنين من الصناعات الحرفية في المغرب العربي؟


أ- صناعة المنسوجات المخمصة

ب- الحلي
ج- الأواني الفضية والحاسية المزينة بالقش

٢- ما مصادر الطاقة المتوفرة في إقليم المغرب العربي؟

أ- النفط

ب- الغاز الطبيعي



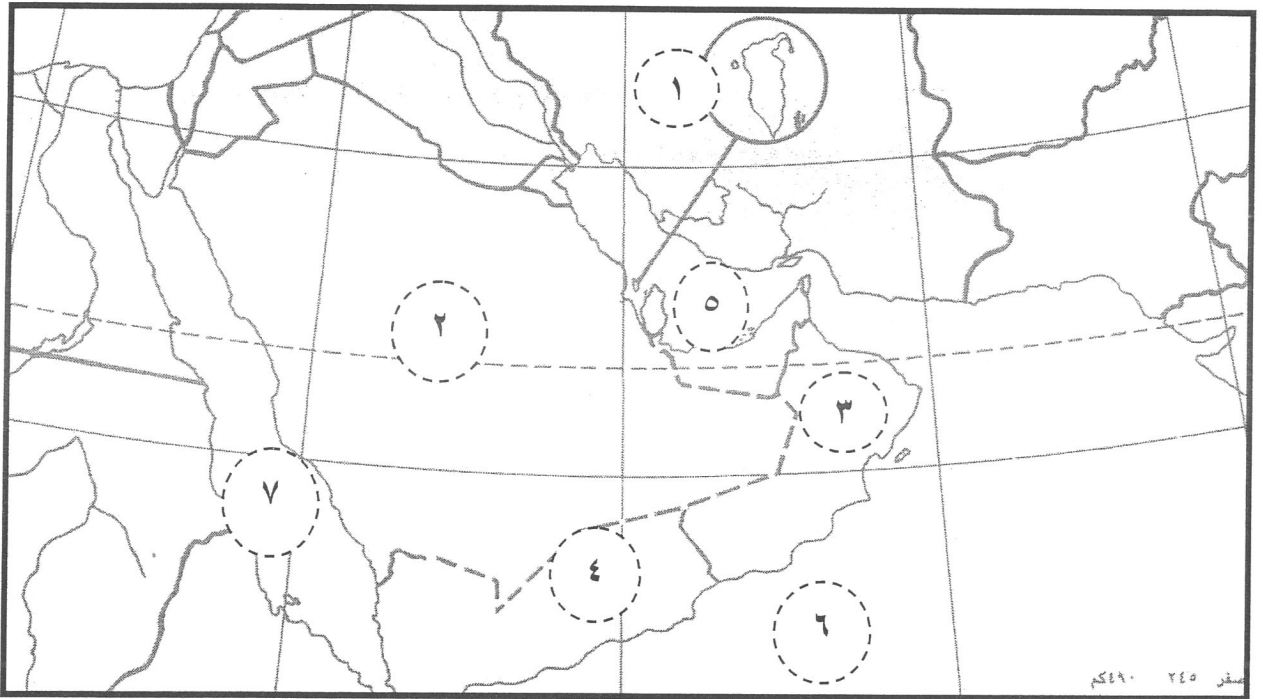


(ب) : باستخدام الرقم صل بين العمود (أ) و ما يناسبه من العمود (ب) :

الرقم	العمود (أ)	الرقم	العمود (ب)
١	يضم إقليم القرن الأفريقي	٢	الفانيليا
٢	أشهر المحاصيل الزراعية في جزر القمر	٣	باب المنذب
٣	تقع جزر القمر في المحيط	٤	جيبوتي و الصومال
٤	يشرف القرن الأفريقي على مضيق	٥	الهندي

((كفاية رقم ٢))

(ج) - على الخريطة الصماء أدناه أكتب مدلولات الأرقام في الجدول التالي :



مقياس ٢٤٥ - ٤٩٠ كم

الدول			
١ - المجر...	٢ - السودان...	٣ - عمان...	٤ - اليمن...
المسطحات المائية			
٥ - الخليج العربي...	٦ - بحر العرب...	٧ - البحر الأحمر...	