

تم تحميل هذا الملف من موقع المناهج البحرينية



*للحصول على أوراق عمل لجميع الصفوف وجميع المواد اضغط هنا

<https://almanahj.com/bh>

* للحصول على أوراق عمل لجميع مواد الصف الخامس اضغط هنا

<https://almanahj.com/bh/5>

* للحصول على جميع أوراق الصف الخامس في مادة اجتماعيات ولجميع الفصول, اضغط هنا

<https://almanahj.com/bh/5>

* للحصول على أوراق عمل لجميع مواد الصف الخامس في مادة اجتماعيات الخاصة بـ اضغط هنا <https://almanahj.com/bh/5>

* لتحميل كتب جميع المواد في جميع الفصول للصف الخامس اضغط هنا

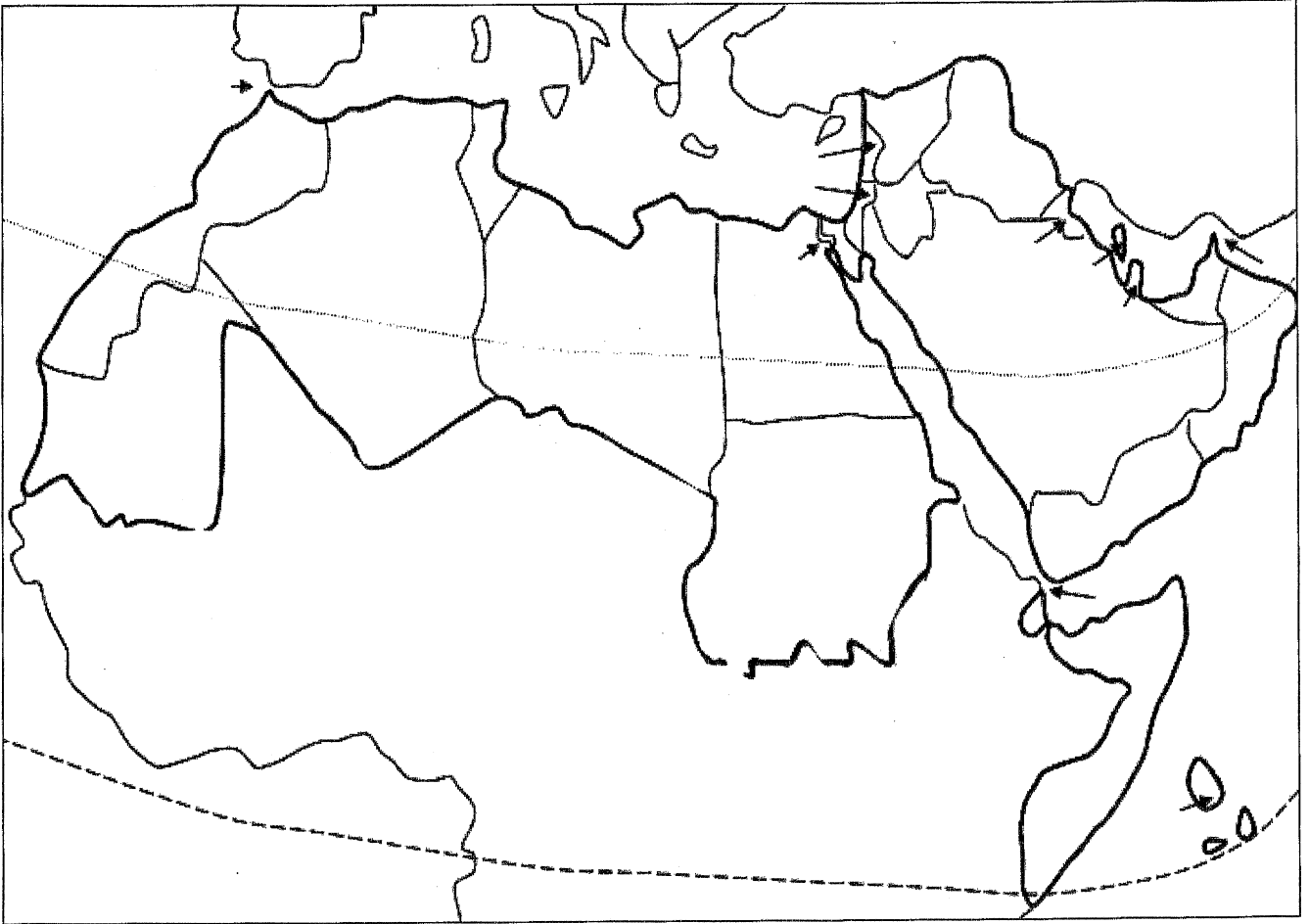
<https://almanahj.com/bh/grade5>

[almanahjbhbot/me.t//:https](https://t.me/almanahjbhbot)

للتحدث إلى بوت على تلغرام: اضغط هنا

- أولاً : على الخريطة التالية أكتب :

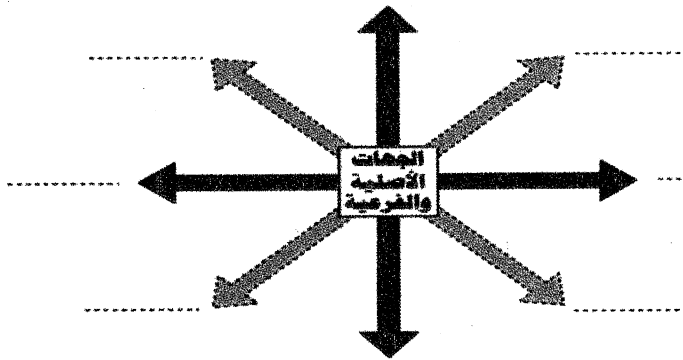
أسماء الدول العربية / البحار والمحيطات / المضايق والقنوات / خطوط العرض /
أسماء القارات ، ثم ميز بين اليابسة والماء بالألوان . (ص ٦٠)



- ثانياً : أكتب على الشكل

التالي الاتجاهات

الرئيسية والفرعية .





١- حدد جهة موقع البحرين بالنسبة للوطن العربي ؟ (ص ٦٠)

.....

٢- سم البحر الذي تقع فيه مملكة البحرين ؟ (ص ٦٠)

.....

٣- في أي نصف من الكرة الأرضية تقع مملكة البحرين ؟ (ص ٦٠)

.....

٤- سم أقرب دائرة عرض لمملكة البحرين ؟ (ص ٦٠)

.....

٥- كيف هو شكل الأرض السائد في البحرين ؟ (ص ٦٤)

.....

٦- في أي قارة تقع مملكة البحرين وفي أي جهة من القارة ؟ (ص ٦٠)

.....

٧- ما هو المسمى الجغرافي لمملكة البحرين ؟ (ص ٦٩)

.....

٨- في أي الأقاليم العربية الخمسة تقع مملكة البحرين ؟ (ص ٦٠)

.....

٩- سم المنطقة الحرارية التي تقع فيها مملكة البحرين ؟ (ص ٧٠)

.....

١٠- ما هو مناخ مملكة البحرين؟ وبم يتميز؟ (ص ٧٤-٧٥)

.....

١١- ما هي مميزات الشواطئ في مملكة البحرين ؟ (ص ٦٩)

.....

١٢- بم تتصف الحيوانات البرية في مملكة البحرين ؟ ولماذا ؟ واذكر بعض الانواع؟ (ص ٧٩)

.....

١٣- ما هو نوع السهول في مملكة البحرين ؟ وكيف تكونت ؟ (ص ٦٩)

.....

١٤- صف النبات البري في مملكة البحرين ؟ مع ذكر بعض الانواع؟ (ص ٧٩)

.....

١٥- اذكر السبب الرئيس في ارتفاع عدد المهاجرين الاجانب الى مملكة البحرين ؟ (ص ٨٥)

١٦- ما السبب في تجمع العدد الأكبر من سكان مملكة البحرين في العاصمة المنامة والمدن الأخرى؟ (ص ٨٥)

١٧- شواطئ مملكة البحرين ذات أهمية كبرى ، اذكر الاسباب ؟ (ص ٦٩)

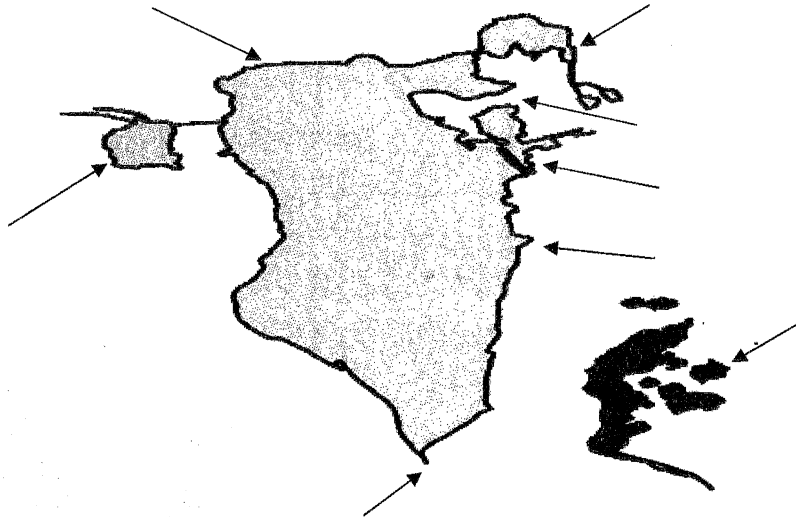
١٨- ما هي مصادر الحصول على المياه في مملكة البحرين ؟ (ص ٨١)

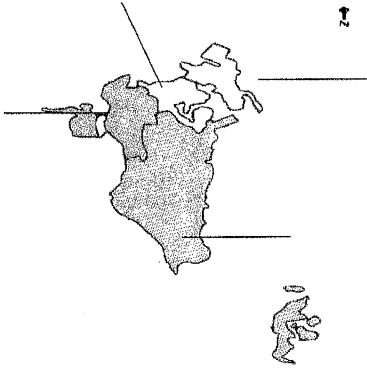
١٩- ما هو تصنيف الكثافة السكانية في مملكة البحرين ؟ وكم بلغت للكيومتر ٢ ؟ (ص ٨٤-٨٥)

٢٠- ما العامل الرئيسي الذي أكسب البحرين أهمية كبرى منذ العصور القديمة ؟ (ص ٦١)

- رابعاً: على خريطة مملكة البحرين حدد الاسماء التي تشير لها الاسهم :

جزيرة المحرق / جزر حوار / جزيرة أم النعسان / جزيرة سترة / رأس البر / رأس حيان /
خليج البحرين / شاطئ .





- خامساً: المحافظات في مملكة البحرين :

- ١/ أكتب أسماء محافظات مملكة البحرين .
- ٢/ ما هي أكبر محافظات مملكة البحرين ؟
- ٣/ ما هي أصغر محافظات مملكة البحرين ؟
- ٤/ أرخبيل حوار يتبع أي محافظة من محافظات مملكة البحرين ؟
- ٥/ احسب الكثافة السكانية لمحافظة العاصمة اذا عرفت ان مساحتها ٣٨ كم وعدد سكانها عام ٢٠٠٨ يبلغ ٢٩٠ ألف نسمة
- ٦/ من يرأس المحافظة ؟
- ٧/ اذكر هدفين من أهداف انشاء المحافظات في مملكة البحرين ؟
- ٨/ سم معلم أثري واحد يقع في محافظتك وكيف نحافظ عليه ؟
- ٩/ سم حرفة يدوية تقع في محافظتك وكيف نحافظ عليها ؟

- سادساً: تحمل المسؤولية :

- ١/ ما القيمة التي تعبر عنها الصورة ؟
- ٢/ ما نوع المسؤولية التي تعبر عنها الصورة ؟
- ٣/ ما الذي يحصل في حال التصرف بمسؤولية ؟
- ٤/ ما الذي يحصل في حال عدم التصرف بمسؤولية ؟

