

تم تحميل هذا الملف من موقع المناهج البحرينية



مراجعة الاختبار الثالث

موقع المناهج ← المناهج البحرينية ← الصف الخامس ← رياضيات ← الفصل الأول ← اختبارات ← الملف

تاريخ إضافة الملف على موقع المناهج: 2024-12-16 21:12:47

ملفات اكتب للمعلم اكتب للطالب الاختبارات الكترونية الاختبارات احلول اعروض بوربوينت أوراق عمل منهج انجليزي ملخصات وتقارير مذكرات وبنوك الامتحان النهائي للمدرس

المزيد من مادة رياضيات:

التواصل الاجتماعي بحسب الصف الخامس



صفحة المناهج البحرينية على فيسبوك

الرياضيات

اللغة الانجليزية

اللغة العربية

التربية الاسلامية

المواد على تلغرام

المزيد من الملفات بحسب الصف الخامس والمادة رياضيات في الفصل الأول

مراجعة الاختبار الثالث	1
كتاب الطالب التمارين	2
حل كراسة الحساب الذهني	3
مراجعة الاختبار الأول	4
مراجعة الاختبار الأول	5



مراجعة للاختبار الثالث الفصل الدراسي الأول في مادة الرياضيات

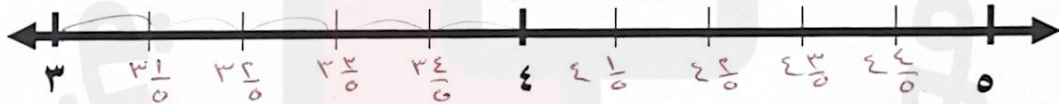
للعام الدراسي ٢٠٢٣ / ٢٠٢٤م (الصف الخامس الابتدائي)

الاسم: _____ الإجابة المُرَجَّحة _____ الصف: الخامس / _____ الرقم: _____

السؤال الأول: ضع علامة < أو > أو = في المكان المناسب:

$$\frac{90}{12} = 7 \frac{6}{12} > \frac{28}{12} \quad \left| \quad \frac{9}{5} = 1 \frac{4}{5} > \frac{8}{5} \quad \left| \quad \frac{8}{3} > 1 \frac{2}{3} = \frac{5}{3}$$

السؤال الثاني: أكتب الكسر أو "د. الكسري المم" نقطة على خط الاعداد: عدد القسيمان = 0



$$\frac{21}{5} = 4 \frac{1}{5} = \text{ن} \quad \frac{19}{5} = 3 \frac{4}{5} = \text{م} \quad \frac{17}{5} = 3 \frac{2}{5} = \text{ك}$$

↑ العدد الكسري
↑ الكسري
↑ الكسري

السؤال الثالث: أكمل جداول الدالة :

المخرجات	س - ٢	المدخلات
١٣	٢ - ١٥	١٥
١٥	٢ - ١٧	١٧
١٧	٢ - ١٩	١٩

المخرجات	س + ١	المدخلات
٧	١ + ٦	٦
١٠	١ + ٩	٩
١٣	١ + ١٢	١٢

المخرجات	س ÷ ٤	المدخلات
٣	٤ ÷ ١٢	١٢
٤	٤ ÷ ١٦	١٦
٩	٤ ÷ ٣٦	٣٦

المخرجات	س × ٣	المدخلات
١٥	٥ × ٣	٥
١٨	٦ × ٣	٦
٢١	٧ × ٣	٧

السؤال الرابع: أكتب التعبير الجبري:

٢ ضرب (ص) زائد واحد

$$2v + 1$$

عدد مقسوم على ١٢

$$\frac{12}{s}$$

٥ ضرب ك

$$5k$$

.....

السؤال الخامس: أوجد كل تعبير جبري فيما يلي إذا كان $ف = ٢٠$ ، $ج = ٥$

٢ ف

$$2 \times 20 = 40$$

٢ + ف

$$2 + 20 = 22$$

١ × ٦ ج

$$1 \times 5 = 5$$

٩ × (ف + ج)

$$9 \times (20 + 5)$$

$$9 \times 25 =$$

$$225 =$$

(٢ + ف) × ٤

$$(2 + 20) \times 4$$

$$10 \times 4 =$$

$$40 =$$

٤ ف + ج

$$4 \times 20 + 5 =$$

$$80 + 5 =$$

$$85 =$$

السؤال العاشر : حل المعادلات التالية :

$$٧٢ = ٨ن$$

$$٩ = ن$$

$$٣ - س = ٢١$$

$$٢٤ = س$$

$$٧ = ١ + ك$$

$$٦ = ك$$

السؤال ١١ : أكتب المعادلات التالية:

١- الثمن يساوي ٣ دينار يضاف إليه ديناران لكل شخص

$$٣ + ٢س = ث$$

٢- المجموع يساوي ٢٤ دينار مطروحاً منه ٣ دينار لكل قطعة.

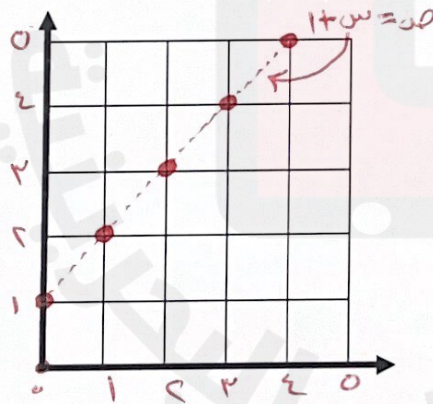
$$٣ - ٢٤ = ق$$

السؤال ١٢ : أكتب المعادلة ثم حلها :

مع سارة عدد من الألعاب واشترت ٤ ألعاب أخرى ، أصبح معها ١٦ لعبة.

المعادلة : $١٦ = ٤ + س$ حل المعادلة : $١٢ = س$

السؤال ١٣ : أملأ الجدول التالي ثم مثل الأزواج المرتبة على المستوى الإحداثي :



$$ص = س + ١$$

٤	٣	٢	١	٠	س
٥	٤	٣	٢	١	ص

الأزواج المرتبة :

$$(\dots, \dots) \quad (\dots, \dots)$$

$$(\dots, \dots) \quad (\dots, \dots) \quad (\dots, \dots)$$

السؤال ١٤: مثل الموقف القسمة التالي مستعملا الكسور :

- تردد ٥ عائلات اقتسام ٣ فطائر من الجبن = $\frac{3}{5} = 5 \div 3$

- وزعت المزارع ٢١ صندوقا من الخضار على ١٧ محل = $\frac{21}{17} = 17 \div 21$

السؤال ١٥: أكتب الكسور غير الفعلية التالية على صورة أعدادا كسرية :

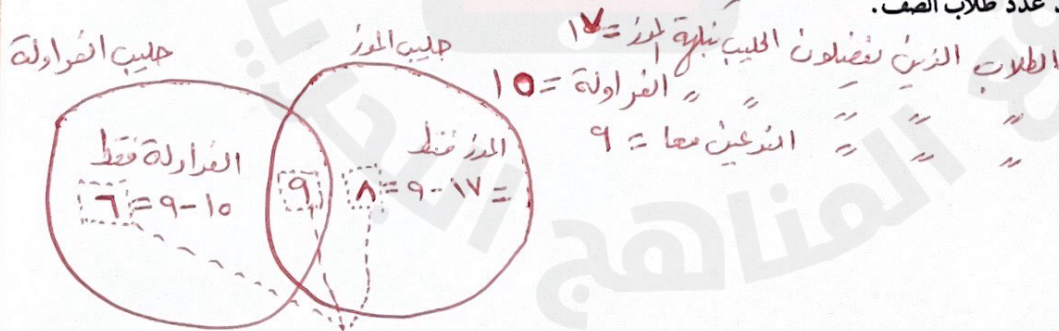
$\frac{3}{2} = \frac{19}{4}$ $\frac{1}{3} = \frac{25}{3}$ $\frac{3}{0} = \frac{28}{5}$

السؤال ١٦: أكتب الأعداد الكسرية التالية على صورة كسور غير الفعلية:

$\frac{21}{2} = 10 \frac{1}{2}$ $\frac{43}{8} = 5 \frac{3}{8}$ $\frac{33}{7} = 4 \frac{5}{7}$

السؤال السابع: استعمل استقصاء حل المسألة (أشكال فن) :

يفضل ١٧ طالبا في الصف الحليب بنكهة الموز بينما يفضل ١٥ طالب الحليب بنكهة الفراولة. ويفضل ٩ طلاب النوعين معا. أوجد عدد طلاب الصف.



عدد طلاب الصف = ١٧ + ١٥ - ٩ = ٢٣