

تم تحميل هذا الملف من موقع المناهج البحرينية



*للحصول على أوراق عمل لجميع الصفوف وجميع المواد اضغط هنا

<https://almanahj.com/bh>

* للحصول على أوراق عمل لجميع مواد الصف الخامس اضغط هنا

<https://almanahj.com/bh/5>

* للحصول على جميع أوراق الصف الخامس في مادة رياضيات ولجميع الفصول, اضغط هنا

<https://almanahj.com/bh/5>

* للحصول على أوراق عمل لجميع مواد الصف الخامس في مادة رياضيات الخاصة بـ اضغط هنا <https://almanahj.com/bh/5>

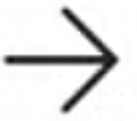
* لتحميل كتب جميع المواد في جميع الفصول للـ الصف الخامس اضغط هنا

<https://almanahj.com/bh/grade5>

[almanahjbhbot/me.t//:https](https://t.me/almanahjbhbot)

للتحدث إلى بوت على تلغرام: اضغط هنا

امتحان منتصف الفصل الدراسي الأول في ماد...



5

* Question
(1 نقطة)

سمي منزلة الرقم الذي تحته خط

٥٧٩٢٦٤٥٨

- أ أحاد الألوف
- ب عشرات الملايين
- ج عشرات الألوف

أ

ب

ج

6

* Question
(1 نقطة)

أكثر عدد في المجموعة القياسية



امتحان منتصف الفصل الدراسي الأول في ماد...



6

* Question
(1 نقطة)

أكتب العدد في الصورة القياسية
١٤ مليون و ٢٨٦ ألفاً و ٧٠٠

- أ. ٧٠٠٢٨٦١٤
- ب. ١٤٢٨٦٠٠٧
- ج. ١٤٢٨٦٧٠٠

أ ب ج

7

* Question
(1 نقطة)



امتحان منتصف الفصل الدراسي الأول في ماد...



11

* Question
(1 نقطة)

عند تقريب الكسر $40,497$
لأقرب جزء من مائة

- | | |
|---|--------|
| أ | 40,50 |
| ب | 40,410 |
| ج | 40,0 |

أ

ب

ج

12

* Question
(1 نقطة)

رتبي الكسور العشرية ترتيباً تصاعدياً



امتحان منتصف الفصل الدراسي الأول في ماد...



7

* Question
(1 نقطة)

يكتب الكسر العشري بالصورة القياسية
خمسين وستة من مئة

- أ ٥٠,٠٦
- ب ٥٠,٦٠٠
- ج ٦٠٠,٥٠

أ

ب

ج

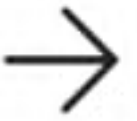
8

* Question
(1 نقطة)

يكتب الكسر العشري بالصورة التحليلية



امتحان منتصف الفصل الدراسي الأول في ماد...



8

* Question
(1 نقطة)

يكتب الكسر العشري بالصورة التحليلية

٨١,٠٥٤

- أ $٨٠ + ١ + ٥٠ + ٤$
 ب $٨٠ + ١ + ٠,٠٥ + ٠,٠٠٤$
 ج $٨٠ + ١ + ٠,٠٥ + ٠,٤$

أ

ب

ج

9

* Question
(1 نقطة)



امتحان منتصف الفصل الدراسي الأول في ماد...

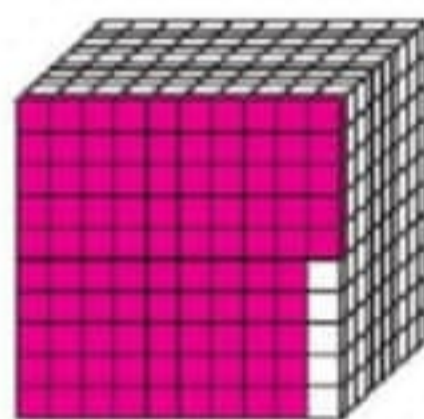


9

* Question
(1 نقطة)

يمثل هذا الشكل الكسر العشري التالي

- أ ٩٥
 ب ٠,٩٥
 ج ٠,٠٩٥



أ

ب

ج

10

* Question
(1 نقطة)



امتحان منتصف الفصل الدراسي الأول في ماد...



10

* Question
(1 نقطة)

عند تقريب الكسر $76,782$
لأقرب جزء من عشرة

- أ 78
- ب $76,780$
- ج $76,800$

أ

ب

ج

11

* Question
(1 نقطة)

عند تقريب الكسر $40,497$



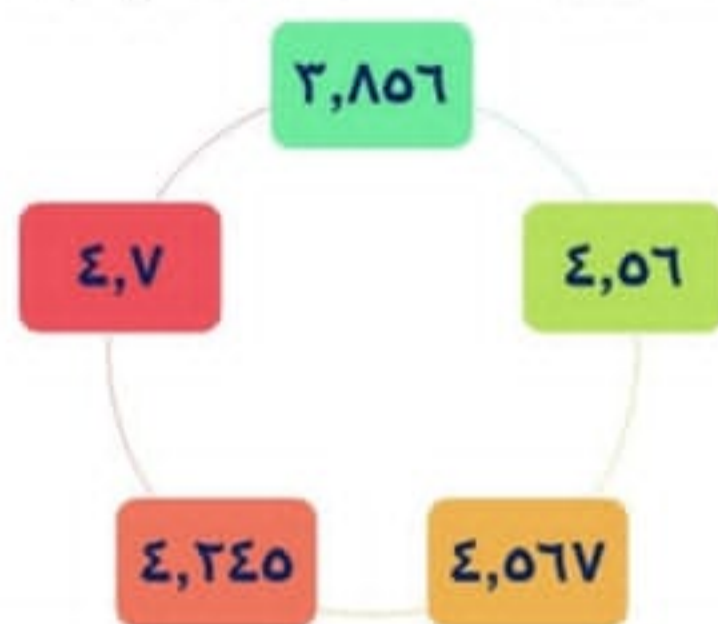
امتحان منتصف الفصل الدراسي الأول في ماد...



12

* Question
(1 نقطة)

رتبي الكسور العشرية ترتيباً تصاعدياً



4,245

4,7

4,56

3,856

4,567