

تم تحميل هذا الملف من موقع المناهج البحرينية

الملف ملخص المواد الاجتماعية

موقع المناهج ⇨ ⇨ الصف الخامس ⇨ المواد الاجتماعية ⇨ الفصل الأول

روابط مواقع التواصل الاجتماعي بحسب الصف الخامس



روابط مواد الصف الخامس على تلغرام

[الرياضيات](#)

[اللغة الانجليزية](#)

[اللغة العربية](#)

[التربية الاسلامية](#)

المزيد من الملفات بحسب الصف الخامس والمادة الاجتماعية في الفصل الأول

[ملخص درس العرب قبل الإسلام \(1، 2\) بشكل مخططات وأسئلة والإجابة عليها](#)

1

[ملخص تأسيس الدولة الإسلامية بشكل أسئلة وأجوبة](#)

2

[ملخص دروس](#)

3

[ملخص شامل](#)

4

[مذكرة أسئلة شاملة](#)

5

اليوم :
التاريخ :



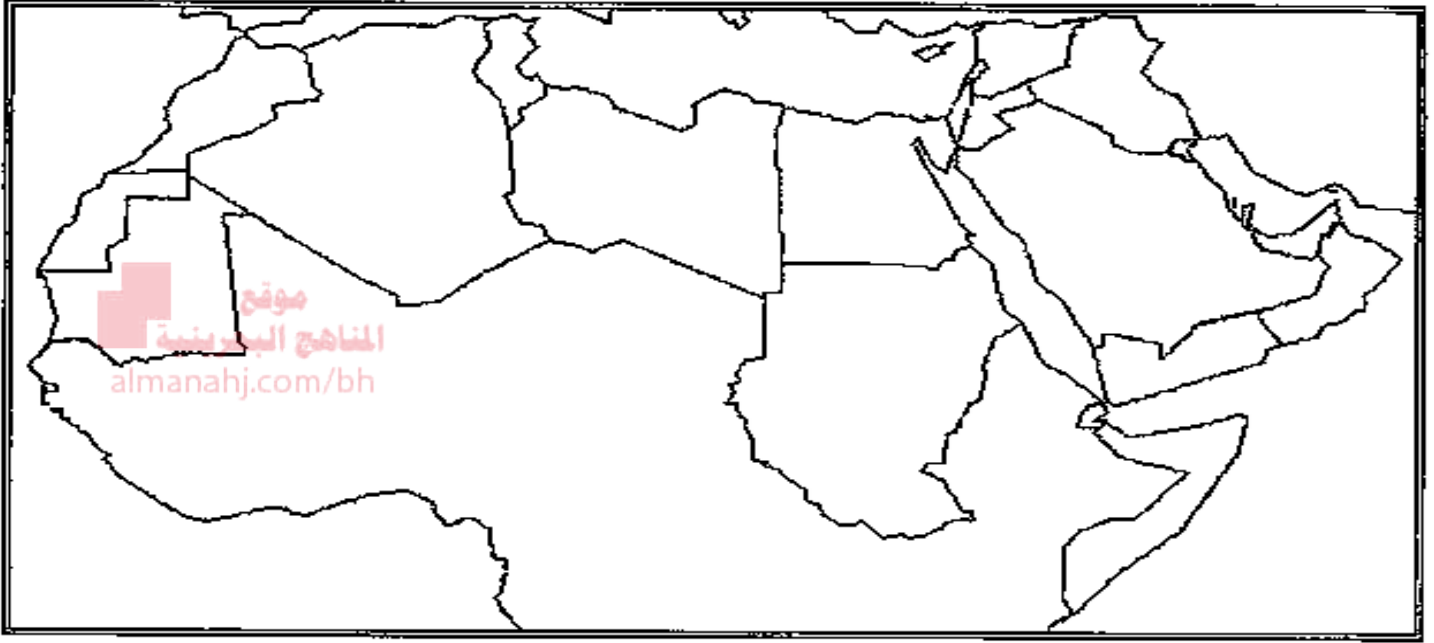
ملخص الدرس (1) موقع الوطن العربي و مميزاته

- يقع الوطن العربي في النصف الشمالي من الكرة الأرضية .
- يقع الوطن العربي في جنوب غرب قارة آسيا في حين يمتد القسم الأكبر منه في شمال القارة الإفريقية.
- يتصل الوطن العربي بالقارة الأوروبية عن طريق مضيق جبل طارق .
- الخط العرض الرئيسي الذي يمر في وسط الوطن العربي هو مدار السرطان .
- يطل الوطن العربي على محيطين هما : -المحيط الاطلسي - المحيط الهندي
- يطل الوطن العربي على عدة بحار : - البحر الأحمر - البحر المتوسط - بحر العرب .
- أهم مضائق الوطن العربي : - مضيق هرمز - مضيق باب المندب - مضيق جبل طارق -قناة السويس .
- عدد دول الوطن العربي 22 دولة عربية .
- تتوزع دول الوطن العربي على خمسة أقاليم .
- اقليم شبه الجزيرة العربية : -البحرين -السعودية -الامارات -الكويت - قطر -عمان -اليمن
- اقليم المشرق العربي : - سوريا - لبنان -الاردن - فلسطين - العراق
- اقليم وادي النيل : - مصر -السودان
- اقليم المغرب العربي : -ليبيا -الجزائر - تونس - المغرب - مورتانيا
- أهم المزايا الحضارية و التاريخية و الدينية و التجارية للوطن العربي :
(أ) أقامت على ارض الوطن العربي حضارات بشرية قديمة:
(كحضارة دلمون /الحضارة الفرعونية /حضارة بلاد ما بين النهرين / حضارة الفينيقيين)
(ب)يعتبر الوطن العربي مهد الديانات السماوية الثلاث:
(اليهودية ،المسيحية ،الإسلام الذي انتشر بين أقطاره ووجد شعوبه تحت رايته)
(ج)أصبح الوطن العربي مهما في التجارة و المواصلات بسبب موقعه الجغرافي .



اليوم :
التاريخ :

نشاط الدرس (2) موقع الوطن العربي و مميزاته



- ضعي على الخريطة الصماء أعلاه ما يلي مستعينة بخريطة الكتاب ص
 - (أ) -مضائق الوطن العربي : -مضيق باب المندب -مضيق هرمز
 - (ب) اقاليم الوطن العربي : -اقليم شبه الجزيرة العربية -اقليم وادي النيل
 - (ج) المسطحات المائية : -المحيط الهندي -البحر المتوسط -المحيط الأطلسي
- ما المزايا الحضارية و التاريخية و الدينية و التجارية للوطن العربي ؟

حلي النشاط وسوف اتابعه في المرة القادمة	أحسنت أكملني الحل	بارك الله فيك صوبي الأخطاء	حلك منظم ورائع و متميز

اعداد : أ. شيخة السندي

منسقة : أ. غنيمة العمران



اليوم :
التاريخ :

بقدرتي أتميز



لوني
نجمتك

درس : موقع الوطن العربي و مميزاته

المناهج البحرينية
almanahj.com/bh

النجمة الخضراء: ما اهمية الوطن العربي الاقتصادية ؟

.....

النجمة الصفراء : ما اهمية الوطن العربي الدينية ؟

.....

النجمة الحمراء : اكمل الفراغ التالي :

1- يتوزع الوطن العربي علىاقاليم.



اليوم :
التاريخ :

ملخص الدرس (3) أشكال السطح الطبيعي في الوطن العربي
-الأقاليم الطبيعية (الجبال -الهضاب)

أنواع الجبال في الوطن العربي

الجبال المطلة على المحيط الهندي
و البحر الأحمر

اسماءها	جبال اليمن و عسير و الحجاز و جبال عمان
جوها	حار
أنهارها	لا يوجد
امطارها	قليلة

الجبال المطلة على المحيط الأطلسي
و البحر المتوسط

اسماءها	جبال فلسطين و سوريا و لبنان
جوها	معتدل
أنهارها و ينابيعها	وفيرة

أنواع الهضاب في الوطن العربي

هضاب الصحراء الكبرى و شبه الجزيرة العربية

أراضيها	مغطاه بالرمال أو الحصى و الكثبان الرملية
أمطارها	قليلة
سكانها	البدو

هضاب بادية الشام

تمتد في أجزاء واسعة من الاردن و فلسطين و سوريا
و العراق

أراضيها	خصبة
أمطارها	وفيرة
سكانها	يمارسون الزراعة و تربية المواشي

اعداد : أ.

منسقة : أ. غنيمة العمران



اليوم :
التاريخ :

نشاط الدرس (3) أشكال السطح الطبيعي في الوطن العربي
-الأقاليم الطبيعية (الجبال -الهضاب)

- سمي جبال الوطن العربي .

- قارني مما يلي:

أوجه المقارنة	الجبال المطلة على المحيط الأطلسي و البحر المتوسط	جبال المطلة على البحر الأحمر و المحيط الهندي
أسماء الجبال		
جوها و انهارها		

- ما مميزات هضاب بادية الشام من حيث الأرض و الجو و السكان ؟

- ما مميزات هضاب الصحراء الكبرى و هضاب شبه الجزيرة العربية من حيث الأرض و الجو و السكان ؟

حلك منظم ورائع و متميز	بارك الله فيك صوبي الأخطاء	أحسننت أكملني الحل	حلي وسوف اتابعه في المرة القادمة

اعداد : أ.شيخة السندي

منسقة : أ. غنيمة العمران



اليوم :
التاريخ :

بقدرتي أتميز

درس : أشكال السطح الطبيعي في الوطن العربي
١- الأقاليم الطبيعية (الجبال - الهضاب)



لوني نجمتك

موقع
المناهج البحرينية
almanahj.com/bh

النجمة الخضراء: ما فائدة وجود الجبال على الارض؟

.....

النجمة الصفراء: بما تتميز الجبال التي تطل على البحر الأحمر؟

.....

النجمة الحمراء: عددي ثلاثة من جبال الوطن العربي؟

.....



اليوم :
التاريخ :

ملخص الدرس (4) أشكال السطح الطبيعي في الوطن العربي
الأقاليم الطبيعية (السهول - الشواطئ)

تغطي السهول مساحة صغيرة من سطح الوطن العربي ، و هي تنقسم إلى نوعين :

(أ) السهول الساحلية : السهول التي تمتد قرب الشواطئ البحار
(تتكون من أتربة ورمال جرفتها المياه و الرياح من الهضاب)

أنواعها	
سهول ساحلية رملية	سهول ساحلية خصبة
موقعها :سعودية ، البحرين ، قطر الكويت ، ليبيا	موقعها : لبنان ، سوريا ، فلسطين ، الأردن ، تونس ، الجزائر ، المغرب
تربته : غير صالحة للزراعة لندرة المياه فيها	تربته : صالحة للزراعة

(ب) السهول الفيضية : السهول الواقعة حول مجاري الأنهار
(تتكون من رواسب ألفتها مياه الفيضانات على جانبيها)

مميزاتها : (أ)سهول ذات تربة شديدة الخصوبة (ب)نتشر فيها الزراعة على نطاق واسع
المناطق التي تنتشر فيها سهول فيضية : سهول نهر النيل ، السهول الواقعة حول نهري دجلة و الفرات
تقع في سهول الوطن العربي معظم المدن التي تضم غالبية السكان .

شواطئ الوطن العربي قليلة التعاريج . و هي ذات أهمية كبيرة ، تقوم عليها الموانئ التجارية و البترولية

الضخمة و منشآت سياحية كبرى من فنادق و مسابح و هي تشمل :

- خلجان (خليج العقبة (الأردن) ، خليج السويس(مصر))
- رؤوس (رأس عسير ، رأس الطيب)
- أشباه جزر (شبه الجزيرة العربية ، شبه جزيرة سيناء)
- جزر (ارخبيل البحرين ،جزر القمر ، جزيرتا الطنب الكبرى و الطنب الصغرى)



اليوم :
التاريخ :

نشاط الدرس (4) أشكال السطح الطبيعي في الوطن العربي
الأقاليم الطبيعية (السهول - الشواطئ)

• ما أنواع السهول في الوطن العربي؟

• أكمل الجدول التالي :

السهول الواقعة حول مجري الانهار	السهول الساحلية	اوجه المقارنة
		مم تتكون؟
		أهم المناطق التي تنتشر فيها

• عددي مما يلي :

- شواطئ الوطن العربي :
- خلجان الوطن العربي : -
- أشباه جزر :
- جزر الوطن العربي :

• ما أهمية شواطئ الوطن العربي؟

حلي وسوف اتابعه في المرة القادمة	أحسننت أكمل الحل	بارك الله فيك صوبي الأخطاء	حلك منظم ورائع و متميز

اعداد : أ. شيخة السندي

منسقة : أ. غنيمة العمران



اليوم :
التاريخ :

بقدرتى أتميز



لوني نجمتك

موقع
المناهج البحرينية
almanahj.com/bh

الدرس أشكال السطح الطبيعي في الوطن العربي
الأقاليم الطبيعية (السهول -الشواطئ)

النجمة الخضراء: فسري ما يلي :

عدم صلاحية معظم السهول الساحلية في مورتانيا و ليبيا ؟

.....

النجمة الصفراء : ما فائدة السهول الفيضية للأرض الزراعية ؟

.....

النجمة الحمراء : ضعي علامة صح امام العبارة الصحيحة :

() تقع المدن في سهول الوطن العربي التي تضم غالبية السكان



اليوم :
التاريخ :

ملخص الدرس (5) مناخ الوطن العربي

يعتبر الوطن العربي من أشد مناطق العالم حرارة و أكثرها جفافا ، لأن غالبية أراضيه تقع في المنطقة المناخية الحارة .

ينقسم مناخ الوطن العربي إلى ثلاث أقسام

المناخ
المداري
الرطب

المناخ
الصحراوي

المناخ
المتوسطي

الموقع: يشمل المنطقة الواقعة جنوب منطقة المناخ الصحراوي.

اسماء المناطق:
١- جنوب السودان

خصائص المناخ:

ترتفع درجات الحرارة فيها معظم أيام السنة ، و تتساقط فيها خلال الفصل الصيف كميات كبيرة من الأمطار

الموقع: يشمل المنطقة الواقعة جنوب منطقة المناخ المتوسطي .

اسماء المناطق:
١- دول الخليج العربية

خصائص المناخ:

ترتفع درجات الحرارة معظم أيام السنة و أما الأمطار فهي قليلة و غير منتظمة

الموقع: يشمل المنطقة الساحلية المحاذية للبحر المتوسط

اسماء المناطق:
١- سوريا ، ٢- لبنان
٣- فلسطين ، ٤- تونس
٥- تونس

خصائص المناخ:

فصل الشتاء: امطارها غزيرة و حرارتها معتدلة .
فصل الصيف: حرارتها مرتفعة ويسودها الجفاف ، امطارها معدومة .

اعداد : أ. شيخة السندي

منسقة : أ. غنيمة العمران



اليوم :
التاريخ :

نشاط الدرس (5) مناخ الوطن العربي

• في أي منطقة حرارية يقع الوطن العربي ؟

• في أي منطقة من الوطن العربي يسود المناخ المتوسطي ؟

موقع
المناهج البحرينية
almanahj.com/bh


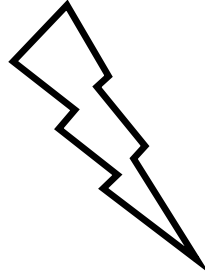

• لماذا يسود المناخ الصحراوي مساحات واسعة في الوطن العربي ؟

• أين تقع منطقة المناخ المداري الرطب في الوطن العربي ؟

• ما مميزات مناخ المداري الرطب في الوطن العربي ؟

كمية الأمطار :

درجة الحرارة :



حلي وسوف اتابعه في المرة القادمة	أحسننت أكملني الحل	بارك الله فيك صوبي الأخطاء	حلك منظم ورائع و متميز

اعداد : أ.شيخة السندي

منسقة : أ. غنيمة العمران



اليوم :
التاريخ :

درس : مناخ الوطن العربي



لوني نجمتك

بقدرتي أتميز

موقع
المناهج البحرينية
almanahj.com/bh

النجمة الخضراء: فسري ما يلي :
يعتبر الوطن العربي من أشد مناطق العالم حرارة و اكثر جفافا
.....

النجمة الصفراء : اذكر دولة عربية تعيش في منطقة المناخ الصحراوي.
.....

النجمة الحمراء : أكمل الفراغ التالي :
(أ) من أنواع مناخات الوطن العربي مناخ



اليوم :
التاريخ :

ملخص الدرس (6) (النبات الطبيعي و الحيوانات البرية في الوطن العربي)

يؤدي تنوع المناخ إلى تنوع النبات الطبيعي و الحيوانات البرية يؤدي

• النبات و الحيوان في مناطق المناخ المتوسطي :

النباتات البرية :

تغطي الغابات معظم السفوح الجبلية أشجار الصنوبر و الأرز .

تتناقص غابات المناطق المتوسطية بسبب القطع الجائر و اندلاع الحرائق فيها في فصل الجفاف .

موقع
almanahj.com/bh

الحيوانات البرية :

-الثعالب - الذئاب - الزواحف - الطيور - الضبع

تتعرض الحيوانات البرية للإنقراض بسبب الصيد غير المنظم و سكن الإنسان في تلك المناطق

• النبات و الحيوان في مناطق المناخ الصحراوي:

النبات الطبيعي :

تقتصر النباتات في معظم المناطق الصحراوية على الأعشاب و كما تنبت فيها بعض الأشجار و الشجيرات كالأكاسيا و اللبان .

استطاعت أشجار المناطق الصحراوية أن تتكيف مع قلة الأمطار و الجفاف لأن أغصانها مليئة بالأشواك .

الحيوانات البرية : -الجربوع -القتنذ -الضب - الغزال - الأرنب البري .

الحيوانات في مناطق المناخ الصحراوي قليلة بسبب قلة المياه و النبات

• النبات و الحيوان في مناطق المناخ المداري الرطب:

النبات الطبيعي :

تنمو الغابات الكثيفة في مناطق المداري الرطب بسبب الأمطار الكثيرة .

1-أشجار الهاشاب يستخرج منها الصمغ العربي ، 2-أشجار الدوم ذات الأوراق العريضة التي تصنع منها الجبال و

الأقفاص .الحيوانات البرية : - الفيل - الأسد - الزرافة - النمر - الجاموس

اعداد : أ.شيخة السندي

منسقة : أ. غنيمة العمران



اليوم :
التاريخ :

نشاط الدرس (6) (النبات الطبيعي و الحيوانات البرية في الوطن العربي)








• كيف استطاعت النباتات الصحراوية التكيف مع الجفاف ؟

• لماذا تنمو الغابات الكثيفة في المنطقة المدارية الرطبة ؟

• سمي بعض أنواع أشجار الغابات المتوسطة :

موقع
المناهج البحرينية
almanahi.com/bh

• لوني حيوانات المناخ المتوسطي باللون الأخضر ، و حيوانات المناخ الرطب المداري باللون البرتغالي و حيوانات المناخ الصحراوي باللون الأصفر .



حلي النشاط و سوف اتابعه في المرة القادمة	أحسننت أكملني الحل	بارك الله فيك صوبي الأخطاء	حلك منظم ورائع و متميز

اعداد : أ.شيخة السندي

منسقة : أ. غنيمة العمران



اليوم :
التاريخ :

بقدرتي أتميز



لوني نجمتك

درس : النبات الطبيعي
و الحيوانات البرية في الوطن

موقع
الكتاب البحرينية
almanhaj.com/bh

النجمة الخضراء: اشرحي العبارة التالية : يؤدي تنوع المناخ إلى تنوع النبات الطبيعي و الحيوانات البرية .
.....

النجمة الصفراء : عددي بعض أنواع النباتات في المناطق المناخ المتوسطي .
.....

النجمة الحمراء: عددي بعض أنواع الحيوانات في المناطق المناخ الصحراوي .
.....



اليوم :
التاريخ :

ملخص الدرس (7) (الثروة المائية في الوطن العربي)

يختلف توزيع المياه باختلاف المناخ و كمية الامطار المتساقطة .

المياه في منطقة المناخ المتوسطي :

- تتلقى منطقة المناخ المتوسطي كميات كبيرة من الأمطار و الثلوج .
- تعتبر منطقة المناخ المتوسطي أغنى مناطق الوطن العربي بالمياه .
- تكثر في هذه المنطقة البنابيع التي تشكل انهارا دائمة الجريان ، و اهم انهارها (العاصي /الليطاني في المشرق العربي و نهر ام الربيع في المغرب العربي).
- أقيمت مجاري أنهار منطقة المناخ المتوسطي سدود عديدة لتجميع المياه و الإستفادة منها في الري و توليد الكهرباء .

المياه في منطقة المناخ الصحراوي :

- تقل الامطار في منطقة المناخ الصحراوي ، و تحدث عند تساقطها المفاجئ سيولا تجري في الاودية لفترة من الزمن ثم تتسرب الى باطن الارض مكونة المياه الجوفية .
- بما أن كميات المياه محدودة و غير منتظمة ، لجأ السكان إلى اقامة السدود لتجميعها في الأودية و استعمالها في الري ، كما لجأوا إلى حفر الآبار و الأفلاج لاستخراج المياه الجوفية و استعمالها .
- من أهم أنهارها (نهر النيل ، نهر الدجلة و الفرات) ، و قد أقيمت عليها مشروعات كبرى للري و توليد الكهرباء .

المياه في منطقة المناخ المداري الرطب :

- تتساقط في المنطقة المدارية الرطبة أمطار غزيرة ، فتكثر المياه ، و تكون أنهار دائمة الجريان .
- أهم الانهار الموجودة في المنطقة المدارية الرطبة (نهر جوبا في الصومال الذي يصب في المحيط الهندي و نهر السنغال جنوب موريتانيا الذي يصب في المحيط الاطلسي)



اعداد : أ.شيخة السندي

منسقة : أ. غنيمة العمران



اليوم :
التاريخ :

نشاط الدرس (7) (الثروة المائية في الوطن العربي)

- يختلف توزيع المياه باختلاف المناخ و كمية الأمطار المتساقطة من خلال هذا اكمل الجدول التالي :

المياه	كمية المياه	أهم أنهاره	كيف استفاد الإنسان من هذه المياه ؟
المياه في منطقة المناخ المتوسطي			
المياه في منطقة المناخ الصحراوي			
المياه في منطقة المناخ المداري الرطب			

- عللي (اذكري السبب) : لجأ السكان إلى اقامة السدود لتجميعها في الأودية و استعمالها في الري



حلي النشاط و سوف اتابعه في المرة القادمة	أحسننت أكمل الحل	بارك الله فيك صوبي الأخطاء	حلك منظم ورائع و متميز

اعداد : أ. شيخة السندي

منسقة : أ. غنيمة العمران



اليوم :
التاريخ :

بقدرتي أتميز



لوني نجمتك

درس : الثروة المائية في الوطن العربي

موقع
المنهج الإلكتروني
almanhaj.com/bh

النجمة الخضراء: اشرح العبارة التالية : يختلف توزيع المياه باختلاف المناخ

.....

النجمة الصفراء : ما الفرق بين النهر و البحر؟

.....

النجمة الحمراء :سمي الأنهار التي في تعبر في مناطق الوطن العربي .

.....



اليوم :
التاريخ :

ملخص الدرس (8) (سكان في الوطن العربي)

❖ تختلف الكثافة السكانية من منطقة الى أخرى :


سبب تركيز الكثافة السكانية	مناطق تركيز الكثافة السكانية	نوع الكثافة في الوطن العربي
١- توافر المياه ٢- التربة الخصبة ٣- المرافئ التجارية ٤- توفر فرص العمل	١- المناطق الساحلية ٢- المناطق التي تجري فيها الأنهار ٣- في العواصم و المدن	❖ الكثافة السكانية المرتفعة
١- قلة الماء	١- المناطق الصحراوية	❖ الكثافة السكانية المنخفضة

أمثلة لبعض الدول ذات الكثافة السكانية المرتفعة :

1- مملكة البحرين 2- دلتا النيل (مصر)

❖ العوامل التي تؤثر في نمو سكان الوطن العربي .

- ١- ارتفاع عدد الولادات في العائلة الواحدة .
- ٢- انخفاض عدد الوفيات بعد التحسن الذي شهدته معظم الدول العربية في الخدمات الصحية و مستوى المعيشة .
- ٣- ارتفاع عدد المهاجرين الأجانب الوافدين للعمل في البلدان العربية الغنية بالنفط .



اعداد : أ. شيخة السندي

منسقة : أ. غنيمه العمران



اليوم :
التاريخ :

نشاط الدرس (8) (سكان في الوطن العربي)

يختلف توزيع السكان في الوطن العربي من منطقة و أخرى ، من خلال هذا اجيبي على الأسئلة التالية :

❖ ما الكثافة السكانية :
❖ أين تتركز الكثافة السكانية المرتفعة في الوطن العربي .

منهج
المنهج البحرينية
almanahj.com/bh

❖ ما أسباب ارتفاع الكثافة السكانية عند السواحل والأحواض النهرية ؟

--	--	--

❖ أين تتركز الكثافة السكانية المنخفضة في الوطن العربي ؟

❖ لماذا يقل عدد السكان في المناطق الصحراوية ؟

❖ لماذا يتجمع قسم كبير من سكان الوطن العربي في العواصم و المدن ؟

❖ لماذا يشهد الوطن العربي ازدياد كبيراً في نمو أعداد السكان ؟

حلي النشاط و سوف اتابعه في المرة القادمة	أحسننت أكملني الحل	بارك الله فيك صوبي الأخطاء	حلك منظم ورائع و متميز

اعداد : أ. شيخة السندي

منسقة : أ. غنيمة العمران



اليوم :
التاريخ :

بقدرتي أتميز



لوني نجمتك

درس : سكان الوطن العربي

موقع
المناهج البحرينية
almanahj.com/bh

النجمة الخضراء: ماذا يحدث لو تركزت الكثافة السكانية في مكان واحد؟

.....

النجمة الصفراء : اكمل الفراغ التالي :
في المناطق الصحراوية تكون الكثافة السكانية

النجمة الحمراء : ضعي صح على العبارة الصحيحة :
() تختلف توزيع السكان في الوطن العربي بين منطقة و اخرى .
() يتركز السكان في المناطق الصحراوية .



اليوم :
التاريخ :

التربية للمواطنة نشاط درس (تحمل المسؤولية)

■ صنفي مجموعة الاعمال الاتية في جدول محدد على من تقع المسؤولية .

توفير المدارس للتعلم - دفع فواتير الكهرباء المنزلية - الحفاظ على الهدوء في البيت
ترتيب البيت - إنشاء الحدائق - التزام الهدوء في مكتبة المدرسة - توفير العلاج المرضى

مسؤولية الطالب	مسؤولية الأسرة	مسؤولية الدولة

■ اكتب مسؤولية كل من يمثل الصورة التالية :





اليوم :
التاريخ :

بقدرتي أتميز

درس : تحمل المسؤولية



لوني نجمتك

موقع
المناهج البحرينية
almanahj.com/bh

النجمة الخضراء: تخيلي لو ان المجتمع لم يتحمل مسؤوليته؟

.....

النجمة الصفراء : ما فائدة تحمل المسؤولية في المجتمع؟

.....

النجمة الحمراء : اذكر موقف تحملتي فيه المسؤولية .

.....



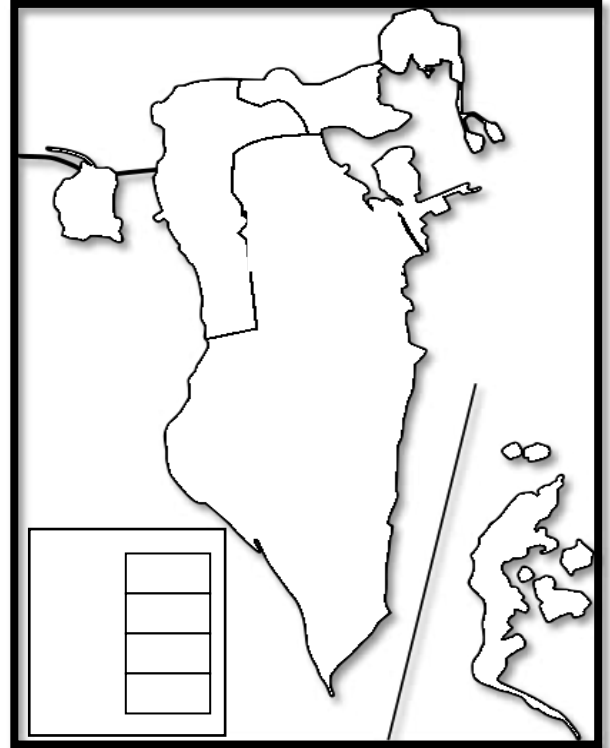
اليوم :
التاريخ :

التربية للمواطنة
نشاط درس (المحافظات في مملكة البحرين)

انظري إلى الخريطة التالي أمامك و أجبي على الاسئلة :

موقع
الناهج البحرينية
almanahj.com/bh

- ما المقصود بالمحافظة ؟
.....
- ما أكبر المحافظات من حيث المساحة ؟
.....
- ما أصغر المحافظات من حيث المساحة ؟
.....
- ما اسم المحافظة التي تعيش فيها ؟
.....



عددي ثلاثة من أهم الأعمال التي يقوم بها المحافظ في محافظته :

-
-
-

حلي النشاط و سوف اتابعه في المرة القادمة	أحسننت أكملتي الحل	بارك الله فيك صوبي الأخطاء	حلك منظم ورائع و متميز

اعداد : أ. شيخة السندي

منسقة : أ. غنيمة العمران



اليوم :
التاريخ :

بقدرتي أتميز



لوني نجمتك

درس : المحافظات في مملكة البحرين

النجمة الخضراء: اقترحي بعض الاقتراحات لتطوير محافظتك

.....

النجمة الصفراء : ما فائدة المحافظات في مملكة البحرين ؟

.....

النجمة الحمراء : عددي ثلاثة من محافظات مملكة البحرين

.....



اليوم :
التاريخ :

ملخص الدرس 9 (اقليم شبه الجزيرة العربية)
الموقع و الثروات الطبيعية

المناخ	المضائق المطلّة	المسطحات المائية (البحار و الخلجان)	اسماء دول	موقع شبه الجزيرة العربية
حار و جاف لذلك تكثر فيه الصحاري أما الأراضي الزراعية فتنتشر عند السواحل و السفوح الجبال	1-مضيق هرمز 2-مضيق باب المنذب	1-البحر الأحمر 2-بحر العرب 3-الخليج العربي 4-خليج عمان	1-دولة الكويت 2-مملكة البحرين 3-دولة قطر 4-دولة الإمارات المتحدة 5-سلطان عمان 6-جمهورية اليمن 7-مملكة العربية السعودية	تقع في قارة آسيا

- أهم الثروات الطبيعية في اقليم شبه الجزيرة العربية (الثروة النفطية /الثروة السمكية)
- تخزن أراضي شبه الجزيرة العربية كميات كبيرة جدا من النفط و الغاز الطبيعي .
- تتجمع معظم الثروة النفطية في القسم الشرقي من اقليم شبه الجزيرة العربية .
- من الحقول النفطية الموجودة في شبه الجزيرة العربية (حقل الغوار في السعودية) ، (حقل الشمال في دولة قطر) .
- يعتبر النفط أهم الثروات الطبيعية في شبه الجزيرة العربية حيث يشكل ركيزة أساسية في اقتصاد دول مجلس التعاون ، و بفضل الأموال العائدة من بيعه استطاعت هذه الدول أن تحقق نهضة شاملة في العمران و التعليم و الزراعة و الصناعة .

اعداد : أ.شيخة السندي

منسقة : أ. غنيمة العمران



اليوم :
التاريخ :

نشاط الدرس 9 اقليم شبه الجزيرة العربية
(الموقع و الثروات الطبيعية)

س ١ : حددي موقع شبه الجزيرة العربية .




س ٢ : سمي الدول التي تضمها شبه الجزيرة العربية .

س ٣ : لماذا تنتشر الصحاري في شبه الجزيرة العربية ؟

س ٤ : في أي جهة توجد حقول النفط في شبه الجزيرة العربية ؟

س ٥ : بيني أهمية النفط في حياة سكان شبه الجزيرة العربية .



اعداد : أ. شيخة السندي

منسقة : أ. غنيمة العمران



اليوم :
التاريخ :

بقدرتي أتميز



لوني نجمتك

درس : اقليم شبه الجزيرة العربية (١)
الموقع و الثروات الطبيعية

www.almanahj.com/bh

النجمة الخضراء: لماذا سمي اقليم شبه الجزيرة العربي بهذا الاسم ؟

.....

النجمة الصفراء : اكمل الفراغ التالي :

من دول اقليم شبه الجزيرة العربية

النجمة الحمراء : ضع علامة صح امام العبارة الصحيحة :

() تقع شبه الجزيرة العربية في القسم الافريقي من الوطن العربي

() اهم الثروات الطبيعية في اقليم شبه الجزيرة العربية الثروة الزراعية



اليوم :
التاريخ :

ملخص درس ١٠ : إقليم شبه الجزيرة العربية
النشاطات الاقتصادية و توزيع السكان

المشكلات التي تواجهها الزراعية في شبه الجزيرة العربية :

١- قلة المياه ٢- ضيق مساحة الأراضي الصالحة للزراعة

أهم الحلول المعتمدة لحل المشكلات التي تواجهها الزراعة .

١- إقامة سدود لتجميع مياه السيول ، و استعمالها في الري بوسائل حديثة .

٢- استعمال الاسمدة الكيماوية لجعل التربة الخصبة

أهم محاصيل إقليم شبه الجزيرة العربية :

١- النخيل ٢- الخضار ٣- البن

الاسس التي تقوم عليها الصناعة :

تعتمد على النفط و الغاز الطبيعي بوصفها مصدرا للطاقة و كمادة أولية للتصنيع و مصدرا للتمويل و شراء الآلات .

أهم الصناعات في شبه الجزيرة العربية :

١- صناعة البتروكيماوت و الأسمت و مواد البناء ٢- الصناعات الغذائية و الأدوات

الكهربائية و بناء السفن

أسباب ازدهار التجارة في دول شبه الجزيرة العربية :

١- موقع الجغرافي ٢- تحسن مستوى معيشة السكان ٣- توافر أموال النفط

يتركز السكان في شبه الجزيرة العربية في العواصم و المدن الكبرى حيث يعملون في التجارة و الخدمات و النفط و الصناعة .

أسباب تراجع حياة البداوة في شبه الجزيرة العربية :

١- هجرة السكان نحو المدن ٢- تنمية الأرياف و البوادي



اليوم :
التاريخ :

نشاط درس ١٠ : اقليم شبه الجزيرة العربية
النشاطات الاقتصادية و توزيع السكان

س ١ : أكمل الجدول التالي :

أهم الحلول المعتمدة لحل المشكلات التي تواجهها الزراعة .	أهم المشكلات التي تواجهها الزراعة في شبه الجزيرة العربية

عددي اهم محاصيل اقليم شبه الجزيرة العربية :

١-..... ٢-..... ٣-.....

عددي اهم الصناعات في شبه الجزيرة العربية :

١-..... ٢-..... ٣-.....

ما أسباب ازدهار التجارة في دول شبه الجزيرة العربية :

١-..... ٢-..... ٣-.....



اليوم :
التاريخ :

بقدرتي أتميز



لوني نجمتك

موقع
المناهج البحرينية
almanahj.com/bh

درس : اقليم شبه الجزيرة العربية
النشاطات الاقتصادية و توزيع السكان

النجمة الخضراء: فسري ما يلي :
يتجمع معظم سكان دول شبه الجزيرة العربية في العواصم و المدن الكبرى
.....

النجمة الصفراء : أكمل الفراغ التالي :
بفضل موقع اقليم شبه الجزيرة العربية نشطت

النجمة الحمراء : عددي الوسائل المستخدمة في الزراعة و الري .
.....



اليوم :
التاريخ :

ملخص درس (11) اقليم المشرق العربي (الموقع و الثروة الزراعية)

يقع اقليم المشرق العربي في القسم الآسيوي من الوطن العربي .
من البحار المطلة على اقليم المشرق العربي هو البحر المتوسط .
ابرز المناخات التي تسود في المشرق العربي :

- 1- المناخ المتوسطي في القسم الغربي من المشرق العربي 2- مناخ شبه صحراوي في أجزاء واسعة من بادية الشام ، 3- مناخ الصحراوي في باقي مناطق هذا الاقليم .
- دول اقليم المشرق العربي 1- العراق 2- سوريا 3- الأردن 4- فلسطين 5- لبنان

تنقسم الزراعة في اقليم المشرق العربي إلى قسمين هما :

الزراعة البعلية التي تعتمد على ريمها من مياه الأمطار
مثل الحبوب و الزيتون .

زراعة المروية التي تعتمد على ريمها على الأنهار
مثل التفاح و الكرز و الكمثرى و الحمضيات

اهم الأشجار الموجودة في بلدان اقليم المشرق العربي :

- 1- اشجار السنديان - أشجار الصنوبر 3- أشجار الأرز

اهم أنهار الدائمة الجريان في اقليم المشرق العربي :

- 1- نهر الدجلة و الفرات في العراق 2- نهر العاصي

من أهم الثروات الموجودة في اقليم المشرق العربي:

- 1- الثروة الحيوانية(الأسماك ، المواشي) و تشكل ثلث الدخل الزراعي في المشرق العربي.
- 2- الثروة الزراعية (الأخشاب) .

اعداد : أ.شيخة السندي

منسقة : أ. غنيمة العمران



اليوم :
التاريخ :

نشاط درس (١١) اقليم المشرق العربي
(الموقع و الثروة الزراعية)

س1: حددي موقع اقليم المشرق العربي .

س2 : سمي دول اقليم المشرق العربي

موقع
المنهج البحرينية
almanahj.com/bh

-5

-4

-3

-2

-1

س3 : ما أبرز مناخات التي تسود في المشرق العربي ؟

.....-1

.....-2

.....-3

س4 : عددي اهم محاصيل الزراعية المروية :


.....-1

.....-2

س5 : عددي اهم محاصيل الزراعية البعلية :

.....-1

.....-2



حلي النشاط و سوف اتابعه في المرة القادمة	أحسننت أكملتي الحل	بارك الله فيك صوبي الأخطاء	حلك منظم ورائع و متميز

اعداد : أ. شيخة السندي

منسقة : أ. غنيمة العمران



اليوم :
التاريخ :

بقدرتي أتميز



لوني نجمتك

درس : اقليم المشرق العربي
(الموقع و الثروة الزراعية)

موقع
المناهج البحرينية
almanahi.com/bn

النجمة الخضراء : لماذا تزدهر الزراعات المروية في اقليم المشرق العربي ؟

النجمة الصفراء : اكمل الفراغ التالي :
تنتشر على سفوح جبال المشرق العربي غابات

النجمة الحمراء : ضع صح امام العبارة الصحيحة :
() من دول اقليم المشرق العربي سوريا .



اليوم :
التاريخ :




ملخص درس (11) اقليم المشرق العربي
(النشاطات الاقتصادية و توزيع السكان)

• يشتهر اقليم المشرق العربي بصناعات عديدة منها :

المادة الأولية : القطن و الصوف	←	1- صناعة النسيج
المادة الأولية : قصب السكر	←	2- صناعة السكر
المادة الأولية : الزيتون	←	3- زيت الزيتون
المادة الأولية : الفوسفات و البوتاس	←	4- الأسمدة الكيماوية
المادة الأولية : النفط	←	5- الصناعة البتروكيماوية

- يمتلك المشرق العربي كميات قليلة من الحديد و النحاس فيما يكثر البوتاس و الفوسفات في الاردن و فلسطين و هما يستعملان كمادة أولية في صناعة الأسمدة الكيماوية .
- تنشط التجارة في بلدان المشرق العربي بسبب موقعها بين الخليج العربي و البحر المتوسط.
- تنشط السياحة في بلدان المشرق العربي بسبب اعتدال مناخها و تنوع الآثار و مناظرها الطبيعية الخلابة و تطور الخدمات السياحية و الفندقية .
- يتركز معظم سكان المشرق العربي في المدن و العواصم بسبب توافر فرص عمل و توفر الخدمات اهم الاعمال التي تمارس في القرى في اقليم المشرق العربي :

1- الزراعة 2- تربية المواشي



اعداد : أ. شيخة السندي

منسقة : أ. غنيمة العمران



اليوم :
التاريخ :

ملخص درس (11) اقليم المشرق العربي
(النشاطات الاقتصادية و توزيع السكاني)

س1: عددي بعض صناعات المشرق العربي .

1-.....2-.....3-.....

س2: لماذا تنشط التجارة في بلدان المشرق العربي ؟

موقع
المنهج البحرينية
almanahj.com/bh

س3: ما أسباب ازدهار السياحة في اقليم المشرق العربي ؟

.....
.....

س4 : أين يتركز معظم سكان المشرق العربي ؟


.....

س5: ما هي المواد الأولية لصناعات التالية :

1-زيت الزيتون :.....

2-صناعة النسيج :.....

3-صناعة البتروكيمياوية :.....



حلي النشاط و سوف اتابعه في المرة القادمة	أحسننت أكملني الحل	بارك الله فيك صوبي الأخطاء	حلك منظم ورائع و متميز

اعداد : أ.شيخة السندي

منسقة : أ. غنيمة العمران



اليوم :
التاريخ :

بقدرتي أتميز



لوني نجمتك

درس : اقليم المشرق العربي
(النشاطات الاقتصادية ، و توزيع السكان)

موقع
المناهج العربية
almanahj.com/bh

النجمة الخضراء: ما أهمية التجارة في اقليم المشرق العربي ؟

.....

النجمة الصفراء: ما أهمية الزراعة في اقليم المشرق العربي ؟

.....

النجمة الحمراء : عددي بعض اهم الصناعات الغذائية في اقليم المشرق العربي

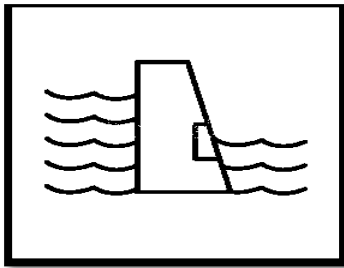
.....




اليوم :
التاريخ :

ملخص الدرس ١٢ (اقليم وادي النيل)
الموقع و الثروة الزراعية


- يطلق اسم وادي النيل على دولتي مصر و السودان بسبب عبور نهر النيل بين أراضيها ، و تقع هاتان الدولتان في القسم الإفريقي من الوطن العربي .
- دول اقليم وادي النيل : مصر و السودان .
- تبلغ مساحة اقليم وادي النيل ٢٥% من مساحة الوطن العربي .
- المناخ السائد في اقليم وادي النيل هو المناخ الصحراوي بينما يشهد جنوب السودان مطرا كثيرا لأنه يقع في منطقة المداري الرطب .
- تتركز المناطق الزراعية في اقليم وادي النيل حول نهر النيل .
- حول نهر النيل المناطق الصحراوية الواقعة حول مجراه إلى مناطق زراعية خصبة ، اجتذبت الإنسان للعيش فيها منذ أقدم العصور .
- أهم وسائل الري المستعملة في اقليم وادي النيل :



بناء السدود



شق القنوات



الشادوف

- يعتبر السد العالي في مصر من اهم مشاريع الري الحديثة التي اقيمت على نهر النيل
- من أهم المحاصيل الزراعية في وادي النيل : ١- القمح ٢- الخضروات ٣- الارز ٤- الذرة
- تنتشر الغابات في جنوب السودان بسبب الأمطار الغزيرة ، و فاندتها تتمثل في إنتاج الأخشاب و الصمغ العربي الذي تنفرد السودان بانتاج ٨٠% من مجموع انتاج العالم منه .
- من أهم الثروات وادي النيل ١- الثروة الزراعية و الحيوانية .

اعداد : أ.شيخة السندي

منسقة : أ. غنيمة العمران



اليوم :
التاريخ :

نشاط الدرس 12 (اقليم وادي النيل)
الموقع و الثروة الزراعية

س ١ : لماذا يطلق اسم وادي النيل على دولتي مصر و السودان ؟

.....

س ٢ : ما المناخ السائد في وادي النيل ؟



.....


س ٣ : أين تتركز المناطق الزراعية في وادي النيل ؟

.....

س ٤ : عددي وسائل الري المستعملة في اقليم وادي النيل .

.....

س ٥ : أذكر أهم المحاصيل الزراعية في وادي النيل :



حلي النشاط و سوف اتابعه في المرة القادمة	أحسننت أكملني الحل	بارك الله فيك صوبي الأخطاء	حلك منظم ورائع و متميز

اعداد : أ. شيخة السندي

منسقة : أ. غنيمة العمران



اليوم :
التاريخ :

بقدرتي أتميز



لوني نجمتك

الدرس (اقليم وادي النيل)
الموقع و الثروة الزراعية

موقع
المناهج البحرينية
almanahj.com/bh

النجمة الخضراء: ماذا يحدث لو ان لا يوجد نهر النيل في اقليم وادي النيل؟

.....

النجمة الصفراء : ما فائدة الشادوف في اقليم وادي النيل ؟

.....

النجمة الحمراء : اكمل الفراغ التالي :

من دول اقليم وادي النيل



اليوم :
التاريخ :

ملخص الدرس (١٣) اقليم وادي النيل
(النشاطات الاقتصادية ، و توزيع السكان)

- ثلاث أمور تحتاجها الصناعة : ١-المواد الأولية ٢- مصادر الطاقة ٣- الأيدي العاملة
- من المواد الأولية المتوافرة للصناعة في وادي النيل : ١- مواد أولية زراعية ، ٢- مواد أولية حيوانية ٣- مواد أولية معدنية .
- من مصادر الطاقة المتوافرة للصناعة في وادي النيل : النفط و الغاز الطبيعي .
- من الصناعات التي تشتهر بها مصر و السودان : ١- صناعة النسيج ٢- صناعة الحديد و الصلب ٣- صناعة السكر في السودان .
- يستخدم نهر النيل لنقل البضائع و الركاب .
- تطل مصر على البحر المتوسط و البحر الأحمر و تعبر أراضيها قناة السويس التي تعتبر من أهم طرق المواصلات البحرية في العالم لذلك ازدهرت تجارتها.
- تعتبر مصر من أبرز البلدان السياحية في العالم بسبب وجود معالم أثرية مهمة في أراضيها كالأهرامات و المساجد و المتاحف .
- يعيش معظم سكان وادي النيل في المناطق الواقعة على جانبي النهر النيل .
- يعيش البدو في الواحات و يعملون في تربية الماشية و زراعة النخيل .
- أعمال سكان اقليم وادي النيل :
 ١. يعمل سكان أرياف هذه المناطق في الزراعة و تربية الماشية .
 ٢. و يعمل سكان المدن في الصناعة و التجارة و الخدمات .
 ٣. يعمل قسم من سكان السواحل في الملاحة و صيد الأسماك .
- تعاني مصر و السودان مشكلة في تزايد عدد السكان في المدن بسبب هجرة أهل القرى و الأرياف



اليوم :
التاريخ :

نشاط الدرس (١٣) اقليم وادي النيل
(النشاطات الاقتصادية ، و توزيع السكان)

س1: عددي مقومات الصناعة :

١-.....٢-.....٣-.....

موقع
المناهج البحرينية
almanahj.com/bh

س٢ : اذكر مصادري الطاقة المتوافرة للصناعة في وادي النيل .

١-.....٢-.....٣-.....

س٣ : سمي بعض الصناعات التي تشتهر بها كل من مصر و السودان .

١-.....٢-.....٣-.....

س٤ : ما دور نهر النيل في المواصلات ؟

.....

س٥ : عللي ما يلي

تنشط السياحة في مصر.


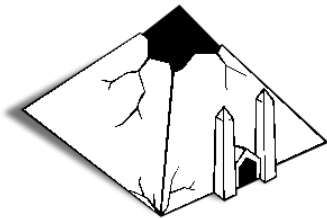
.....

ازدهار التجارة في مصر .

.....

تعاني مصر و السودان مشكلة تزايد عدد السكان .

.....



اعداد : أ. شيخة السندي

منسقة : أ. غنيمة العمران



اليوم :
التاريخ :

بقدرتي أتميز



لوني نجمتك

الدرس اقليم وادي النيل
(النشاطات الاقتصادية ، و توزيع السكان)

موقع
الناشر البحرينية
www.nahj.com/bh

النجمة الخضراء: ما اهمية التجارة في اقليم وادي النيل ؟

.....

النجمة الصفراء : ما اهم اعمال سكان اقليم وادي النيل ؟

.....

النجمة الحمراء :أكملي الفراغ التالي :

تعاني مصر و السودان مشكلة في تزايد عدد



اليوم :
التاريخ :

ملخص الدرس ١٤ (اقليم المغرب العربي)
موقع و الثروة الزراعية

- يقع أقليم المغرب العربي في قسم الافريقي من الوطن العربي .
- من أهم المسطحات المائية التي يطل عليها المغرب العربي .: البحر المتوسط /المحيط الأطلسي .
- يشرف اقليم المغرب العربي على مضيق جبل طارق .
- من المناخات التي تسود في المغرب العربي الكبير :

موقع
المناهج البحرينية
almanahj.com/bh

- ١- المناخ المتوسطي
 - ٢- ا المناخ المداري الجاف (مناخ الصحراوي)
 - ٣- مناخ المداري الرطب
- دول أقليم المغرب العربي ١-ليبيا ٢- الجزائر ٣- المغرب ٤- تونس ٥-موريتانيا
 - تنقسم الزراعة في اقليم المغرب العربي إلى نوعين هما :

١- الزراعة المروية التي تكون بالقرب من مجاري الانهار حيث تتوافر مياه الري على مدار السنة ،مثل الفواكه و خصوصا الحمضيات و التي تعتبر دول المغرب العربي أكبر منتجا لها ، كما تحتل المرتبة الأولى عالميا في انتاج زيت الزيتون .

٢- الزراعة البعلية التي تكون في السهول الساحلية و السفوح الجبلية المطلة عليها كميات كبيرة من الأمطار ، و أهم محاصيلها الحبوب و العنب و الزيتون .

الثروة النباتية :

تنتشر على سفوح جبال الأطلس مساحات كبيرة من الغابات المتنوعة الأشجار مثل :

- الصنوبر و الارز و السنديان التي يعتمد عليها في انتاج الاخشاب و الفلين
- نبات الحلفا الذي ينمو على المرتفعات في تونس و الجزائر و يستخدم في صناعة أجود أنواع الورق .

الثروة الحيوانية :

- تنتشر المراعي و تربي الماشية في المناطق الداخلية .
- تشتهر بلدان المغرب العربي بالصيد البحري .

اعداد : أ.شيخة السندي

منسقة : أ. غنيمة العمران



اليوم :
التاريخ :

نشاط الدرس ١٤ (اقليم المغرب العربي)
موقع و الثروة الزراعية

س1: حددي موقع اقليم المغرب العربي الكبير .

س2: سمي البلدان التي يتألف منها اقليم المغرب العربي الكبير .

موقع
المناهج البحرينية
almanahj.com/bh

س3: اكلمي الجدول التالي :

الزراعة البعلية	الزراعة المروية	أوجه المقارنة
		المناطق التي تنتشر فيها الزراعات
		أهم المحاصيل الزراعية

س4: اذكري امثلة لثروة النباتية و الحيوانية :

الثروة الحيوانية: 1-.....-2.....

الثروة النباتية: 1-.....-2.....

حلي النشاط و سوف اتابعه في المرة القادمة	أحسننت أكلمي الحل	بارك الله فيك صوبي الأخطاء	حلك منظم ورائع و متميز

اعداد : أ. شيخة السندي

منسقة : أ. غنيمة العمران



اليوم :
التاريخ :

بقدرتي أتميز



لوني نجمتك

نشاط الدرس (اقليم المغرب العربي)
موقع و الثروة الزراعية

موقع
المنهج البحريني
almanahj.com/bh

النجمة الخضراء: كيف استفاد اهل اقليم المغرب العربي من البحر المتوسط ؟

.....

النجمة الصفراء: ما هي انواع الزراعات في اقليم المغرب العربي ؟

.....

النجمة الحمراء : اكمل الفراغ التالي :
تنتشر المراعي في المناطق من اقليم المغرب العربي



اليوم :
التاريخ :

ملخص الدرس ١٥ (اقليم المغرب العربي)
النشاطات الاقتصادية وتوزيع السكان

ترتكز الصناعة في بلدان المغرب العربي على المواد الأولية الزراعية و الحيوانية و المعدنية المتوافرة فيها :

من أهم الصناعات الموجودة في اقليم المغرب العربي الكبير .

موقع
المناهج البحرينية
almanahj.com

- 1-صناعة الزيت
- 2-صناعة الصابون
- 3-صناعة تعليب الخضر و الاسماك
- 4-صناعة الجلود
- 5-صناعة الاسمدة الزراعية .

اهم مصادر الطاقة في المغرب العربي :

1-النفط و الغاز الطبيعي .

تنتج الجزائر بمفردها من الغاز الطبيعي نصف ما ينتجه الوطن العربي .

أهم الصناعات الحرفية في اقليم المغرب العربي :

١-صناعة المنسوجات المطرزة ٢- صناعة الحلوي و الاواني الفضية و النحاسية

- ازدهرت التجارة في المغرب العربي بسبب وقوعها على البحر المتوسط و المحيط الاطلسي
- يتوافد السياح إلى بلدان المغرب سنويا للاستمتاع بمناخها و للتأمل في آثارها الاسلامية العريقة

- تعيش معظم السكان في بلدان المغرب العربي في السهول الساحلية و السفوح المواجهه لها
- تقييم غالبية السكان في المدن التي تشهد توسعا عمرانيا هائلا بسبب حركة الهجرة الكثيفة من الارياف

أعمال سكان المدن :

- 1-التجارة
- 2-الصناعة
- 3-الخدمات
- 4-الصيد البحري
- 5-الزراعة
- ٦- تربية الماشية



اليوم :
التاريخ :

نشاط الدرس ١٥ (اقليم المغرب العربي)
النشاطات الاقتصادية و توزيع السكان

موقع
المناهج البحرينية
almanahj.com/bh

عددي بعض الصناعات الموجودة في اقليم المغرب العربي الكبير .

1-..... 2-..... 3-.....

عددي اهم مصادر الطاقة في المغرب العربي :





عددي بعض الصناعات الحرفية في اقليم المغرب العربي :

1-..... 2-..... 3-.....

اكمل الفراغ التالي :

- ازدهرت التجارة في المغرب العربي بسبب
- تقييم غالبية السكان في المدن التي تشهد توسعا عمرانيا هائلا بسبب
- عددي أهم أعمال سكان المدن :

1-..... 2-..... 3-.....



اعداد : أ. شيخة السندي

منسقة : أ. غنيمة العمران



اليوم :
التاريخ :

بقدرتي أتميز



لوني نجمتك

الدرس (اقليم المغرب العربي)
النشاطات الاقتصادية و توزيع السكان

موقع
المعلم البحرينية
ammanh.com/bh

النجمة الخضراء: ما أهمية المواد الأولية في الصناعة؟

.....

النجمة الصفراء : ما أهمية مصادر الطاقة في الصناعة؟

.....

النجمة الحمراء : أكمل الفراغ التالي :

تنتج الجزائر بمفردها من نصف ما ينتجه الوطن العربي .



اليوم :
التاريخ :

ملخص الدرس (١٦) القرن الافريقي -جزر القمر

- يقع اقليم القرن الأفريقي في شرق افريقيا .
- المسطحات المائية التي يطل عليها المغرب العربي هي البحر الأحمر و المحيط الهندي و تطل على مضيق باب المندب
- المناخات التي تسود في القرن الافريقي ١- المناخ الصحراوي ٢- المناخ المداري الرطب في جنوب الصومال
- دول اقليم القرن الافريقي ١-الصومال جيبوتي
- الثروات الطبيعية في القرن الافريقي ١- الثروة الحيوانية مثل المواشي و الأسماك
- يفتقر اقليم القرن الافريقي بالمواد الأولية ومصادر الطاقة .
- يتجمع معظم السكان في المدن الساحلية حيث يعملون في التجارة و الخدمات و صيد السمك .

جزر القمر عاصمتها موروني

مناخها

مداري رطب

أكبر جزرها

بخازيدجا

موقعها :

تقع في وسط المحيط
الهندي

أهم صناعاتها

صناعة العطور

أعمال سكانها

الزراعة و صيد السمك
و قطع الأخشاب

أهم محاصيلها الزراعية

الفانيليا ، الموز، القرنفل



اليوم :
التاريخ :

نشاط الدرس (١٦) القرن الافريقي - جزر القمر

س ١ : سمي الدول التي يتألف منها القرن الافريقي .

١--٢-

س ٢ : ما المناخ السائد في منطقة القرن الافريقي ؟

.....

س ٣ : عددي الثروات الطبيعية في القرن الافريقي .

.....

س ٤ : أين يتجمع معظم السكان في الصومال و جيبوتي .


.....

س ٥ : أين تقع جزر القمر ؟

.....

س ٦ : ما الموارد الاقتصادية المتوافرة في جزر القمر ؟

.....



حلي النشاط و سوف اتابعه في المرة القادمة	أحسننت أكملني الحل	بارك الله فيك صوبي الأخطاء	حلك منظم ورائع و متميز

اعداد : أ. شيخة السندي

منسقة : أ. غنيمة العمران



اليوم :
التاريخ :

بقدرتي أتميز



لوني نجمتك

الدرس () القرن الافريقي - جزر القمر

موقع
المناهج البحرينية
almanahj.com/bh

النجمة الخضراء: لماذا سمي اقليم القرن الافريقي بهذا الاسم برأيك؟

.....

النجمة الصفراء: ما سبب ازدهار التجارة في جيبوتي؟

.....

النجمة الحمراء: ضعي علامة صح أمام العبارة الصحيحة:

() عاصمة جزر القمر مدينة موروني .

() من دول اقليم القرن الافريقي تونس .



اليوم :
التاريخ :

العوامل التي أدت إلى قيام مجلس التعاون لدول الخليج العربية :



مركزاً للمواصلات و
التجارة

الثروة نفطية



فوائد التعاون بين دول الخليج العربية .


- 1- يعزز الروابط بين أبناء دول الخليج العربية .
- 2- ينشط التبادل التجاري بين دول الخليج العربية .
- 3- يساعد على استثمار موارد دول الخليج العربية .

دول مجلس التعاون لدول الخليج العربية :

- 1- مملكة البحرين
- 2- مملكة العربية السعودية
- 3- سلطنة عمان
- 4- دولة الكويت
- 5- دولة قطر
- 6- دولة الامارات العربية المتحدة .

تأسس مجلس التعاون لدول الخليج العربية في عام ١٩٨١م ، و مقره الرئيسي مدينة الرياض في المملكة العربية السعودية .

أهم اهداف مجلس التعاون لدول الخليج العربية :



تحقيق التعاون الاقتصاد

توثيق روابط الأخوة

دور مجلس التعاون لدول الخليج العربية على الصعيد العربي و الاسلامي و الدولي:

على الصعيد الاسلامي

- 1- تقديم الدعم و العون المادي للمسلمين و الدفاع عن قضاياهم

على الصعيد العربي

- الدفاع عن القضايا العربية
- ترسيخ التضامن العربي

اعداد : أ.شيخة السندي

منسقة : أ. غنيمة العمران



اليوم :
التاريخ :

نشاط الدرس (١٧) أشكال التعاون بين دول الخليج

س١ : عددي ثلاثة من فوائد التعاون بين دول الخليج العربية :

- ١-
- ٢-
- ٣-



س٢ : أكملي الفراغ التالي :

- ١- الدول التي تألف منها مجلس التعاون الخليجي ، ،
- ٢- تأسس مجلس التعاون الخليجي في سنة
- ٣- مقر مجلس التعاون الخليجي في

س٣ : ما دور مجلس التعاون على الصعيد العربية و الاسلامية و الدولية ؟

- (أ) صعيد العربي
- (ب) صعيد الإسلامي
- (ج) صعيد الدولي

حلي النشاط و سوف اتابعه في المرة القادمة	أحسننت أكملتي الحل	بارك الله فيك صوبي الأخطاء	حلك منظم ورائع و متميز

اعداد : أ. شيخة السندي

منسقة : أ. غنيمة العمران



اليوم :
التاريخ :

بقدرتي أتميز



لوني نجمتك

الدرس أشكال التعاون بين دول الخليج العربية

موقع
الكتاب البحرينية
alsharh.com/bn

النجمة الخضراء: أقتري عدد من الافكار الجديدة التي قد يسهم إنجازها في دعم مسيرة دول مجلس التعاون .

.....

النجمة الصفراء : ماذا يحدث لو لا يوجد مجلس تعاون لدول الخليج العربية ؟

.....

النجمة الحمراء : عددي ثلاثة من مجلس التعاون لدول الخليج العربية :

.....



اليوم :
التاريخ :

نشاط درس التربية للمواطنة (المجالس البلدية)

س ١: میزی شروط الانتخاب و شروط الترشح للمجالس البلدية الواردة في الجدول الاتي ، بوضع علامة رقم (١) أمام شروط الترشح و الرقم (٢) أمام شروط الانتخاب .

الشروط	شروط الانتخاب	شروط الترشح
أن يكون بحرينيا		
أن يجيد قراءة اللغة العربية و كتابتها		
ألا يقل سنه عن ٣٠ سنة		
ألا يقل سنه عن ٢٠ سنة		
أن يسدد الرسوم البلدية إذا كان مكلفا بها قانونا		

س ٢: ضعي علامة () أمام العبارة الصحيحة ، و علامة () أمام العبارة الغير صحيحة :

- () من واجبنا أن نحافظ على ما تقدمه إلينا البلدية من خدمات .
- () ينتخب أعضاء المجلس البلدي في مملكة البحرين كل ست سنوات .
- () الاعتماد على البلدية وحدها لتجميل القرى و المدن .

س ٣: اقرئي العبارة التالية ، ثم أجيبى عن الاسئلة التي تليها :

((تراكمت الأوساخ و مخلفات البناء في أحد شوارع حينا و سببت الروائح الكريهة و الازعاج))
أ-بمن نتصل لحل هذه المشكلة ؟ و ما درونا في ذلك ؟

ب-ما أسباب هذه المشكلة برأيك ؟

ج-ماذا تفعلين لو رأيت زميلتك يقوم بتلك الأعمال ؟

حلك منظم ورائع و متميز	بارك الله فيك صوبي الأخطاء	أحسننت أكملتي الحل	حلي النشاط و سوف اتابعه في المرة القادمة

اعداد : أ.شيخة السندي

منسقة : أ. غنيمة العمران



اليوم :
التاريخ :

بقدرتي أتميز



لوني نجمتك

درس التربية (المجالس البلدية)

المناهج البحرينية
anajah.com/bh

النجمة الخضراء: ما فائدة تأسيس مجالس بلدية في مملكة البحرين؟

.....

النجمة الصفراء: كيف يختار أعضاء المجالس البلدية؟

.....

النجمة الحمراء: ما مدة عمل كل مجلس بلدي في مملكة البحرين؟

.....



اليوم :
التاريخ :

نشاط درس التربية للمواطنة (حقوق الطفل)

س ١ : ضعي دائرة حول الإجابة لكل مما يأتي :

- ١- أصدرت اتفاقية حقوق الطفل عام :
أ- ١٩٨٩م ب- ١٩٩٠م ج- ١٩٩٨م
- ٢- أبرز منظمة دولية تهتم بحقوق الطفل هي
أ- اليونسكو ب- الأونروا ج- اليونسيف
- ٣- المسؤول عن حماية الأطفال من الخطف هو
أ- الدولة ب- الأسرة ج- جميع ما ذكر
- ٤- تهدف اتفاقية حقوق الطفل إلى حماية
أ- حقوق المرأة ب- حقوق الحيوانات ج- حقوق الطفل

موقع
المناهج البحرينية
almanahj.com/bh

س ٢ : اكتب الحقوق الأهم بالنسبة إليك ، و ابرز الواجبات التي يتوجب عليك القيام بها بوصفك طفلا.

واجباتي	حقوقتي

حلك منظم ورائع و متميز	بارك الله فيك صوبي الأخطاء	أحسننت أكملتي الحل	حلي النشاط و سوف اتابعه في المرة القادمة

اعداد : أ.شيخة السندي

منسقة : أ. غنيمة العمران



بقدرتي أتميز

اليوم :
التاريخ :



لوني نجمتك

درس التربية (حقوق الطفل)

موقع
المناهج البحرينية
almanahj.com/bh

النجمة الخضراء: فسري ما يلي : اهتمام الدول و المنظمات العالمية بالأطفال :

.....

النجمة الصفراء : عددي واجبات الطفل لحماية نفسه من الخطف .

.....

النجمة الحمراء : أذكرني ثلاثة حقوق الطفل .

.....

اعداد : أ.شيخة السندي

منسقة : أ. غنيمة العمران

مملكة البحرين
وزارة التربية و التعليم
مدرسة العروبة الابتدائية للبنات
قسم المواد الاجتماعية



اليوم :
التاريخ :

موقع
المناهج البحرينية
almanahj.com/bh

اعداد : أ.شيخة السندي
منسقة : أ. غنيمة العمران

مملكة البحرين
وزارة التربية و التعليم
مدرسة العروبة الابتدائية للبنات
قسم المواد الاجتماعية



اليوم :
التاريخ :

موقع
المناهج البحرينية
almanahj.com/bh

اعداد : أ.شيخة السندي
منسقة : أ. غنيمة العمران

مملكة البحرين
وزارة التربية و التعليم
مدرسة العروبة الابتدائية للبنات
قسم المواد الاجتماعية



اليوم :
التاريخ :

موقع
المناهج البحرينية
almanahj.com/bh

اعداد : أ.شيخة السندي
منسقة : أ. غنيمة العمران