

شكراً لتحميلك هذا الملف من موقع المناهج البحرينية



المنهج المساند لمادة التربية للمواطنة

[موقع المناهج](#) ← [المناهج البحرينية](#) ← [الصف الخامس](#) ← [تربية للمواطنة](#) ← [الفصل الثاني](#) ← [الملف](#)

تاريخ نشر الملف على موقع المناهج: 07:55:03 2023-12-03

التواصل الاجتماعي بحسب الصف الخامس



روابط مواد الصف الخامس على تلغرام

[الرياضيات](#)

[اللغة الانجليزية](#)

[اللغة العربية](#)

[التربية الاسلامية](#)

المزيد من الملفات بحسب الصف الخامس والمادة تربية للمواطنة في الفصل الثاني

[شرح درس المحافظات](#)

1

[ملفات المعهد الديني الابتدائي، أسئلة تقييمية شاملة في مادة التربية للمواطنة](#)

2



KINGDOM OF BAHRAIN
Ministry of Education



مملكة البحرين
وزارة التربية والتعليم

مدرسة عراد الابتدائية للبنين



المنهج المساند لمادة التربية للمواطنة
للفصل الخامس الابتدائي للفصل الأول
من العام الدراسي 2023 – 2024م



الاسم
الصف الخامس ف

اعتماد: مديرة المدرسة
أ.فاطمة يوسف بوزبون



إعداد: معلمة الاجتماعيات
أ.إيمان علي عبد العزيز

الاسم:

الصف: الخامس ف.....

العمر:

الهوايات:

المادة: التربية للمواطنة

رقم التواصل مع ولي الأمر:

الاتفاقية

- ❖ أنا على ثقة تامة بمقدرتي على تطوير نفسي والحصول على أعلى الدرجات
- ❖ سوف ألتزم بحل واجباتي وأن أدرس دروسي مباشرة بعد كل درس
- ❖ أنا صاحب سلوك مهذب وقابل للتطور دائماً
- ❖ أحب التعاون مع معلمتي وزملائي لأرتقي بمستواي وأحب مساعدة زملائي
- ❖ سأكون صادق مع نفسي ومع معلمتي وأخبرها بمشكلكتي في المادة
- ❖ سأحافظ على نظافتي الشخصية ونظافة صفي
- ❖ أعرف جيداً أن المنهج المساند لا يغني عن المذاكرة من الكتاب
- ❖ سأقوم بقراءة الدرس قبل شرحه

ملاحظة: يكفي وضع خمس مبادرات لهذا الفصل

أقر أنا التلميذ من الصف الخامس ف بأنني سألتزم بهذه الاتفاقية

توقيع التلميذ

.....

أحترم معلمتي
وأنتبه لشرح
الدرس

أقوم بقراءة دروسي
قبل شرحها
وأقوم بأداء واجباتي

الامتناع عن الأكل
داخل الصف



اللتزم الهدوء

أهتم بنظافتي ونظافة
كتبي ودفاتري
ونظافة صفي

أرفع يدي وأستأذن
من المعلمة عندما
أريد الكلام أو الحركة

أستأذن من زميلي
قبل استخدامي لأي
شيء من أغراضه

إشراقه تمير



تميزي في أداء واجباتي



تميزي في مشاركتي أثناء
شرح الدرس

كن جديراً بالاحترام



تميزي في سلوكي واحترامي لمعلمتي

الدروس المطلوبة لمادة التربية للمواطنة للفصل الدراسي الأول من العام الدراسي 2023 – 2024م

إلى ولي أمر التلميذ المحترم


إيماناً منا بمبدأ التواصل بين البيت والمدرسة لما فيه من تعزيز للعملية التعليمية والتعلمية و رفع المستوى التحصيلي للتلاميذ، ارتأينا أن نطلعكم على المواضيع المطلوب دراستها لمادة التربية للمواطنة للفصل الأول لهذا العام الدراسي 2023 – 2024م :



المحتوى العلمي المطلوب لمادة التربية للمواطنة للفصل الأول من العام الدراسي 2023/2024م

المادة / اسم المقرر ورمزه: **التربية للمواطنة**
الصف: **الخامس ابتدائي**
المسار: **الأساسي**
اسم الكتاب: **التربية للمواطنة للصف الخامس ابتدائي**

الملاحظات	الأسبوع	الصفحة (من - إلى)	عنوان الدرس ورقمه	الفصل (الوحدة)
		13-8	الدرس الأول: خدمات تقدمها حكومة بلادي- الإسكان-	الأول
		19-14	الدرس الثاني: خدمات تقدمها حكومة بلادي - الكهرباء والماء	
		27-20	الدرس الثالث: القيم في المجتمع	



التلخيص والواجبات والمبادرات

الدرس الأول خدمات تقديمها حكومة بلادي "الإسكان"

أولاً: الخدمات الإسكانية

توفر وزارة الإسكان المسكن الصحي الملائم للأسر البحرينية ذات الدخل المحدود:



ثانياً: إنجازات وزارة الإسكان:

❁ تنفيذ مشروعات إسكانية في مختلف مناطق المملكة.
أمثلة

المشاريع الإسكانية	المدن الإسكانية
شمال شرق المحرق	مدينة عيسى
اللوزي الإسكاني	مدينة حمد
سلماباد الإسكاني	مدينة زايد

❁ مشروع "برنامج ترميم وإعادة بناء البيوت الأيلة للسقوط" بالتعاون والتنسيق مع المجالس البلدية.

❁ تخفيض قيمة القروض الإسكانية عام 2006م.

❁ تمليك الوحدات السكنية.

❁ صرف علاوة السكن.

ثالثاً: تعاون وزارة الإسكان مع الوزارات الخدمية الأخرى:

أمامك صور تمثل بعضاً من المنشآت العامة والخدمات التي تحتاجها مدينتك،
اكتب اسم الوزارة أو الهيئة المعنية بإنجاز كل منها.

نشاط ٢



إنارة الشوارع والطرق العامة



إنشاء الحدائق العامة



إنشاء الطرق العامة



القيام بأعمال النظافة في المدن والقرى



إنشاء مستشفى الملك حمد الجامعي



أبرز الوزارات والهيئات الخدمية المساندة لوزارة الإسكان

وزارة الأشغال

إنشاء الشوارع والجسور
وصيانتها

إنشاء المجاري ومحطات
معالجة مياه الصرف
الصحي

إنشاء المباني الحكومية
(مدارس ومستشفيات)

هيئة الكهرباء والماء

توصيل الكهرباء وإنارة
الطرق

توصيل المياه

وزارة شؤون البلديات والتخطيط العمراني

النظافة والتشجير

إنشاء الحدائق العامة
والمماشي

إصدار تراخيص البناء
والإعلانات

نشاط تدريبي للدرس الأول "خدمات تقديمها حكومة بلادي – الإسكان"

س1. ما هي الخدمات الإسكانية التي تقدمها وزارة الإسكان؟

- 1.-----
- 2.-----
- 3.-----

س2. اذكر أمثلة لبعض المدن الجديدة في مملكة البحرين؟

- أ.----- ب.----- ج.-----

س3. اذكر أمثلة لبعض المشاريع الإسكانية التي نفذتها وزارة الإسكان؟

- أ.----- ب.----- ج.-----

4. ما هي الأوامر التي أصدرها الملك حمد بن عيسى لوزارة الإسكان عام 2006م للتخفيف من أعباء

المواطنين المعيشية؟

- 1.-----
- 2.-----
- 3.-----

٣- ضع دائرة حول الإجابة الصحيحة لكل مما يأتي:

- توفر حكومة مملكة البحرين خدمة السكن للأسرة ذات الدخل:

- أ- المحدود. ب- المتوسط. ج- المرتفع.

- الجهة الحكومية المعنية بإنشاء المشروعات الإسكانية في مملكة البحرين هي وزارة:

- أ- الأشغال وشؤون البلديات والتخطيط العمراني. ب- الإسكان. ج- الصناعة.

- الجهة الحكومية المعنية بترشيح البيوت الداخلة ضمن برنامج ترميم وإعادة بناء البيوت الآيلة

للسقوط هي:

- أ- المجلس النيابي. ب- المجالس البلدية. ج- مجلس التنمية الاقتصادية.

٤- ما الخدمة الإسكانية التي من الممكن أن يطلبها المواطنون من وزارة الإسكان والتخطيط العمراني في الحالات الآتية:


الخدمة الإسكانية المطلوبة	الحالة
	يمتلك مُحَمَّد قسيمة سكنية صالحة للبناء.
	يمتلك سامي مبلغًا من المال يغطي تكاليف بناء وحدة سكنية.
	يعيش راشد في شقة بالإيجار ولا يمتلك أرضًا ولا مبلغًا من المال.
	يمتلك خالد وحدة سكنية قديمة البناء، وتحتاج إلى صيانة.

٦- حدّد الجهة الحكومية التي تؤمن الخدمات الآتية للمواطنين في مملكة البحرين:

الجهة الحكومية	الخدمة
	بناء الوحدات السكنية.
	تقديم القروض الإسكانية.
	توفير المياه النقية.
	رصف الشوارع والطرق.
	إيصال الكهرباء للمواطنين.
	تصريف مياه المجاري.
	إنشاء الحدائق العامة.
	التخلص من النفايات.

ممتاز بارك الله فيك يا بطل	وفقتك الله صوب الأخطاء	أحسننت أكمل الحل	الرجاء الاهتمام وحل النشاط وسوف اتابعه في المرة القادمة

مبادرتي لهذا الدرس (معلومة أو صورة تتعلق بهذا الدرس)



الدرس الثاني خدمات تقديمها حكومة بلادي "الكهرباء والماء"

س: ما القطاعات المستهلكة للطاقة الكهربائية في مملكة البحرين

1. القطاع المنزلي
2. القطاع التجاري
3. القطاع الصناعي
4. القطاع الزراعي

القطاع الأكثر استهلاكاً للكهرباء القطاع المنزلي

القطاع الأقل استهلاكاً للكهرباء القطاع الزراعي

أولاً: الجهود التي تبذلها حكومة مملكة البحرين لتطوير قطاعي الكهرباء والماء

1. تحديث محطات الكهرباء والماء وتعزيز كفاءتها الإنتاجية.
2. انشاء محطات إنتاج جديدة. مثل سترة والرفاع والحد والعزل
3. توسعة شبكات نقل وتوزيع الكهرباء والماء وتقويتها.
4. إيصال خدمتي الكهرباء والماء من محطات الانتاج إلى مختلف المناطق عبر شبكات التوزيع.
5. تقوم وزارة الأشغال بإنشاء محطات لمعالجة مياه الصرف الصحي كمحطة توبلي لاستعمالها في ري المزروعات.

ثانياً: ترشيد استهلاك الكهرباء والماء

أ. الطاقة الكهربائية

ترتفع معدلات استهلاك الكهرباء خصوصاً في فصل الصيف،

من أجل تقليل تكلفة الكهرباء ونتاجها، وضمان استمراريتها للأجيال القادمة، وتقليل احتمال انقطاعها خفض تكاليف الاستهلاك الشهرية.

من قواعد ترشيد استهلاك الكهرباء

عدم المبالغة في استعمال المصابيح

إغلاق سخان الماء خلال فصل الصيف

عدم تشغيل الأجهزة غير الضرورية في فترة الذروة

إغلاق النوافذ والأبواب في أثناء تشغيل المكيف

إغلاق المكيف والأجهزة والمصابيح قبل ترك المكان

إجراء الصيانة الدورية للمكيف

ب. الموارد المائية

الموارد المائية في مملكة البحرين (التحلية والمياه الجوفية)

التحديات التي تواجهها مملكة البحرين لتوفير المياه

- * تناقص مخزون المياه الجوفية وتملحها.
- * ارتفاع معدل استهلاك الفرد من المياه إلى مستوى يفوق المعدل العالمي بكثير.
- * التكلفة العالية لإنشاء محطات التحلية



نستخلص مما سبق أن:

الترشيد عملية تتطلب الاستعمال الأمثل للأشياء حسب الحاجة من دون إسراف أو تبذير.

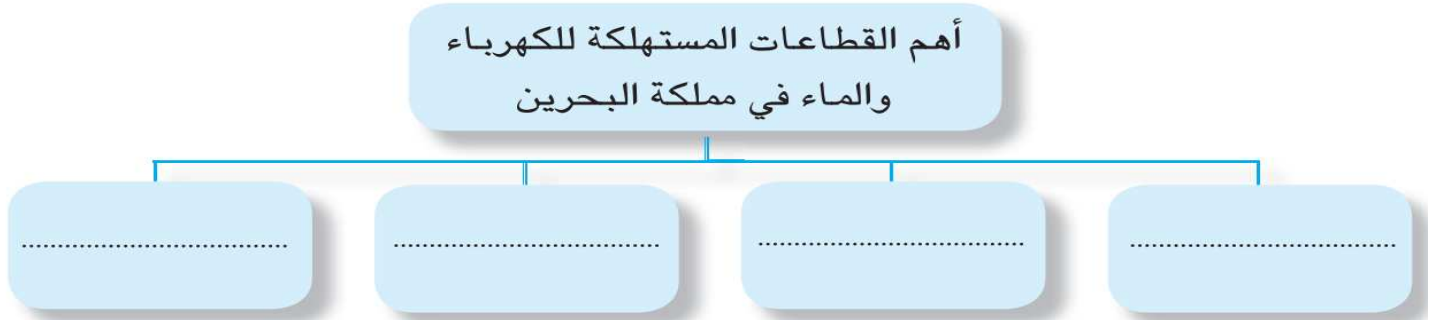
نشاط تدريبي للدرس الثاني "خدمات تقديمها حكومة بلادي – الكهرباء والماء"

السؤال الأول:

- ١- ضع علامة (✓) أمام العبارة الصحيحة و علامة (×) أمام العبارة غير الصحيحة:
- () - أدى ازدياد عدد السكان ومشروعات التنمية إلى ازدياد استهلاك الكهرباء والماء بمملكتنا.
 - () - توجد المياه في مملكة البحرين بكثرة ولا خوف من نفادها.
 - () - تستعمل مياه الصرف الصحي في مملكة البحرين بعد معالجتها في ري المزروعات.
 - () - يجب الاتصال بالطوارئ عند حدوث تسرب في المياه خارج المنزل.
 - () - ترتفع معدلات استهلاك الكهرباء في فصل الشتاء بمملكة البحرين.
 - () - يقصد بالترشيد استهلاك الكهرباء والماء بأقل من حاجتنا إليها.

السؤال الثاني:

اكتب أهم القطاعات المستهلكة للكهرباء والماء في مملكة البحرين في المخطط الآتي:



السؤال الثالث:

ماذا يحدث لو:

- - انطفأت الإضاءة الكهربائية من الشوارع ليلاً.
- - توقفت إشارات المرور عن العمل.
- - انقطع التيار الكهربائي عن المصانع.
- - انقطع التيار الكهربائي عن المستشفيات.
- - لم يحصل النبات والحيوان على الماء.
- - فقد جسم الإنسان كمية كبيرة من الماء.

السؤال الرابع:


لاحظ الملصق الإرشادي، ثم أجب عن الأسئلة بجانبه.



- ما الذي يحث عليه هذا الملصق الإرشادي؟
- ما أوقات الذروة كما ورد في الملصق الإرشادي؟
- مَنْ المعني بتنفيذ ما ورد في هذا الملصق الإرشادي؟
- ما الجهة الحكومية المعنية بتصميم هذه الملصقات الإرشادية في مملكة البحرين؟

الرجاء الاهتمام وحل النشاط وسوف اتابعه في المرة القادمة	أحسنتم أكمل الحل	وفقك الله صوب الأخطاء	ممتاز بارك الله فيك يا بطل

مبادرتي لهذا الدرس (معلومة أو صورة تتعلق بهذا الدرس)



الدرس الثالث "القيم في المجتمع"

القيم:

مجموعة من المبادئ والمعاني السامية التي يؤمن به أفراد مجتمع معين، وتحدد أنواع السلوك المقبولة لديهم.

أهمية القيم:

- ☆ تؤدي القيم إلى بناء مجتمع قوي متماسك يسوده الأمن والاستقرار ويخلو من الكره والعنف.
- ☆ تنظم حياة أفراد المجتمع وتحقق التراحم والمودة بينهم، وتغرس في نفوسهم حب الآخرين واحترامهم.

أولاً قيمة التسامح:

هو الاحترام والقبول والتقدير للتنوع الثري لثقافات عالمنا، وأشكال التعبير، وللصفات الإنسانية لدينا.

المجتمع المسلم مجتمع تسوده مشاعر نبيلة لأنه يتصف بالتسامح الذي لا يتنازل عن الحقوق أو يتخلى عن المبادئ بل هو يعترف بالآخرين ويحترم عقولهم وعقائدهم ويتقبل آرائهم من دون تعصب.

أنواع التسامح:



ثانياً: قيمة الاحترام

هو تقدير مكانة الآخرين ومنزلتهم التي يستحقونها، وما يصدر عنهم من مواقف وسلوكيات تجاهنا.

- تظهر قيمة الاحترام من خلال حديثك وتعاملك مع الآخرين.
- ومن التصرفات التي تدل على احترامك للآخرين:
 - طاعة الوالدين ومشاورتهم في قراراتك والأمور التي تعنيك.
 - حسن التعامل مع كبار السن، بتقبيل رؤوسهم، والإفصاح لهم في المجلس، والبدء بهم وتقديمهم في كل الأمور، ومساعدتهم.
 - حسن الإصغاء إلى المتحدث وتجنب مقاطعته.
 - عند مخاطبة الآخرين لابد من الابتعاد عن عبارات الاستهزاء.
 - استعمال عبارات إيجابية في أثناء الحوار تدل على تقديرك لآراء الآخرين، كأن تقول (أظن لو أن لكان أفضل).
 - إذا كنت قد اتخذت قراراً يخص الأسرة فعليك أن تخبرهم جميعاً.
 - الوقوف عند قدوم المعلم إلى الصف الدراسي.
 - الشكر على الهدايا المقدمة.

ثالثاً: قيمة التعاون

هو المشاركة والمساعدة المتبادلة والعمل معاً على نحو أفضل وأسرع لاستمرار تقدم المجتمعات ورفقها. التعاون ضروري بين أفراد المجتمع من أجل تأمين الحاجات وتوفير سبل الحماية والأمان.

يُعدّ التعاون من القيم الإنسانية النبيلة التي يتوجّب على الجميع التحلي بها؛ باعتباره أساس كل نجاح وتقدّم، وركيزة أساسية لبناء مجتمعات قوية متماسكة تسودها الألفة والمحبة. ولقد دعا الإسلام إلى التحلي بهذه القيمة الراقية والالتزام بها في قوله تعالى (وتعاونوا على البرِّ والتّقوى). كما نهى عمّا يسبب الأذى والضّرر للآخرين في قوله تعالى (ولا تعاونوا على الإثم والعدوان).

نشاط تدريبي للدرس الثالث "القيم في المجتمع"

السؤال الأول:

• ضع علامة (✓) أمام السلوكات الدالة على الاحترام وعلامة (×) أمام السلوكات غير الدالة على ذلك:

- () - تشجع زميلك على التحدث بثقة وحرية.
- () - تدخل الصف مسرعاً من دون الاستئذان من المعلم.
- () - تصغي إلى شرح المعلم بانتباه.
- () - تقدر لأصدقائك آراءهم وما يقولونه.
- () - تتجاهل زميلك عندما يتحدث.

السؤال الثاني:

ضع إشارة Δ أمام العبارة المناسبة لقيمة الاحترام، وعلامة O أمام العبارة غير المناسبة لتلك القيمة فيما يأتي:

الإشارة	العبارات
	١. رفع الصوت في أثناء التحدث إلى المعلم.
	٢. عدم استضافة أحد على الطعام.
	٣. إفساح المجال لكبار السن عند صعود السلالم.
	٤. التمسك بالرأي وإن كان خطأً.
	٥. انتظار دوري للعب بالسيارات في الحديقة.


السؤال الثالث:

ضع علامة (+) في مكان الإجابة المناسبة:

العبارات	دالة على التسامح	غير دالة على التسامح
تقدير التنوع والاختلاف الثقافي.		
رفض صداقة طفل يختلف عني في لونه وعرقه.		
قبول وجهات نظر الآخرين.		
التعصب لرأي ما.		

ممتاز بارك الله فيك يا بطل	وفئك الله صوب الأخطاء	أحسنت أكمل الحل	الرجاء الاهتمام وحل النشاط وسوف اتابعه في المرة القادمة

مبادرتي لهذا الدرس (معلومة أو صورة تتعلق بهذا الدرس)



أسئلة لمراجعة الدروس المطلوبة للفصل الأول من العام الدراسي 2023-2024م

السؤال الأول:

ضع علامة (√) أمام العبارة الصحيحة، وعلامة (X) أمام العبارة الخاطئة:

1. (X) توفر حكومة البحرين خدمة السكن للأسر ذات الدخل المرتفع.
2. (√) الجهة الحكومية المعنية بترشيح البيوت الداخلة ضمن برامج ترميم وإعادة البيوت الأيلة للسقوط هي المجالس البلدية.
3. (√) أصدر جلالة الملك حمد بن عيسى آل خليفة بصرف علاوة السكن لتخفيف أعباء المواطنين المعيشية.
4. (X) تتطلب عملية الترشيد استعمال الكهرباء والماء بأكثر من حاجتنا إليه.
5. (X) في فصل الشتاء ترتفع معدلات الكهرباء مقارنة بفصل الصيف.
6. (√) تزايد استهلاك الكهرباء والماء في مملكة البحرين مرتبط بزيادة عدد السكان ومشاريع التنمية.
7. (√) ترشيد استهلاك الكهرباء والماء مصلحة للفرد والمجتمع.
8. (X) للصدق منزلة عظيمة في الدين الإسلامي فقط.
9. (√) تعتمد مملكة البحرين لتوفير المياه على التحلية والمياه الجوفية.
10. (X) تعتمد البحرين على الأمطار كمصدر وحيد لتلبية احتياجاتها المائية.
11. (√) تعتبر المياه الجوفية أحد مصادر المياه التي تعتمد عليها مملكة البحرين.
12. (X) تستخدم مياه الصرف الصحي المعالجة بالبحرين في جميع الأغراض المنزلية.
13. (X) تؤدي القيم الإنسانية إلى بناء مجتمع يسوده الشجار والحدق.
14. (X) أدائي للواجبات المدرسية بتقان وإتقان يعكس قيمة التسامح.
15. (√) يؤدي التعاون إلى استمرار تقدم المجتمع وتأمين حاجات أفراده.
16. (X) يجب أن تحظى القيم باحترام بعض أبناء المجتمع وتقديرهم.
17. (X) تقع مسؤولية توفير خدمة الكهرباء للمواطنين على وزارة الأشغال.
18. (√) القيم هي المثل العليا والقيم السامية التي تحدد أنواع السلوك المقبولة بالمجتمع.
19. (X) أدى تناقص عدد السكان إلى زيادة استهلاك الكهرباء في مملكة البحرين.

السؤال الثاني:

أ. عدد الخدمات التي تقدمها وزارة الإسكان للمواطنين؟

1. توزيع القسائم السكنية
 2. بناء الوحدات السكنية والشقق وتوزيعها
 3. منح القروض الإسكانية لبناء أو شراء أو ترميم منزل.
- ب. اذكر وزارتين من الوزارات الخدمية التي تتعاون معها وزارة الإسكان؟

1. وزارة شؤون البلديات والتخطيط العمراني
2. وزارة الكهرباء والماء أو وزارة الأشغال

السؤال الثالث:

فيما يلي مجموعة من السلوكيات الصحيحة، صنّفها في الجدول الذي يليها بوضع الرقم المناسب للسلوك حسب القيمة التي يناسبها:

1. أجمع تبرعات زملائي الفقراء
2. أهتم بأداء واجباتي المدرسية
3. أقوم للمعلم عندما يدخل صفي
4. أحفظ أسرار أصدقائي وأكتمها
5. أشرك زملائي في تزيين صفي

القيمة	الرقم المناسب للسلوك الصحيح
الإخلاص	(2)
التعاون	(1)
الاحترام	(3)
	(4)
	(5)
	(-----)

السؤال الرابع:

أمامك جدول يشتمل على ثلاث سلوكيات خاطئة، اكتب أمام كل منها ما يأتي:

- أ. القيم الإنسانية المطلوبة والتي تتناقض مع السلوك الخاطئ.
- ب. السلوك الصحيح بعد تعديل السلوك الخاطئ.

السلوكيات الخاطئة	القيمة الإنسانية المطلوبة	السلوكيات الصحيحة
أتأخر في تسليم النشاطات المدرسية التي يطلبها المعلم	الإخلاص	أحرص على تسليم النشاطات المدرسية للمعلم في الموعد المحدد (أو لا أتأخر في تسليم النشاطات المدرسية التي يطلبها المعلم)
أغضب من زميلي إذا خالفني في الرأي في قضية معينة	التسامح	أحترم رأي زميلي الذي يخالفني في الرأي في قضية معينة (أو لا أغضب من زميلي إذا خالفني في الرأي في قضية معينة)
أرفض التبرع بالمال لأطفال فلسطين	التعاون	أتبرع بالمال لأطفال فلسطين (أو لا أرفض التبرع بالمال لأطفال فلسطين)

السؤال الخامس:

ضع خطأً تحت الإجابة الصحيحة من بين البدائل الآتية:

1. تعتمد مملكة البحرين لتوفير احتياجاتها المائية على
 - أ. الأمطار
 - ب. المياه السطحية
 - ج. الأنهار
 - د. التحلية والمياه الجوفية

2. الجهة الحكومية المسؤولة عن توفير خدمتي الكهرباء والماء للمواطنين في مملكة البحرين
- أ. وزارة الأشغال
ب. شؤون البلديات والتخطيط العمراني
ج. هيئة الكهرباء والماء
د. وزارة الصحة
3. ترتفع معدلات استهلاك الكهرباء بمملكة البحرين في فصل
- أ. الصيف
ب. الشتاء
ج. الخريف
د. الربيع
4. أنشأت وزارة الكهرباء والماء في مملكة البحرين عدداً من محطات
- أ. الأرصاد الجوية
ب. تحلية المياه
ج. الأقمار الاصطناعية
د. النقل العام
5. الجهة الحكومية المسؤولة عن إنشاء محطات معالجة مياه الصرف الصحي:
- أ. وزارة الصحة.
ب. هيئة الكهرباء والماء
ج. شؤون البلديات والتخطيط العمراني.
د. وزارة الأشغال.
6. القطاع الأكثر استهلاكاً للطاقة الكهربائية في مملكة البحرين هو القطاع
- أ. الصناعي.
ب. المنزلي.
ج. الزراعي.
د. التجاري.
7. القطاع الأكثر استهلاكاً للطاقة الكهربائية في مملكة البحرين هو القطاع
- أ. الصناعي.
ب. المنزلي.
ج. الزراعي.
د. التجاري.
8. بذلت حكومة البحرين جهوداً كبيرة لتطوير قطاعي الكهرباء والماء بسبب:
- أ. تراجع عدد السكان.
ب. كثرة العيون العذبة.
ج. ازدياد مشاريع التنمية.
د. نقص الاستهلاك اليومي.
9. تبذل هيئة الكهرباء والماء جهوداً كبيرة لتوفير الاحتياجات الكهربائية والمائية من خلال
- أ. توصيل خدمتي الكهرباء والماء إلى مختلف المناطق
ب. خفض القدرة والكفاءة الإنتاجية لجميع المحطات
ج. الاكتفاء بمحطات الإنتاج القديمة
د. تقليص شبكات نقل وتوزيع الكهرباء والماء
10. من المواقف التي تدل على أن تصرفاتي تنسم بالمسؤولية في استهلاك الكهرباء والماء
- أ. أملاً حوض الاستحمام بالكامل.
ب. أسرع بإصلاح الحنفية المسربة للماء
ج. أشعل إنارة المنزل ليلاً ونهاراً
د. أفتح حنفية الماء أثناء تحدثي بالهاتف
11. تستخدم مياه الصرف الصحي المعالجة في البحرين في
- أ. توليد الكهرباء
ب. التنظيف والشرب
ج. ري المزروعات
د. الأغراض الصناعية
12. تقبل وجهات نظر الآخرين على اختلافهم والصفح عنهم سلوك يعكس قيمة
- أ. الإخلاص
ب. التسامح
ج. الصدق
د. الإحترام
13. إذا استهزأت بآراء الآخرين ولم أتقبلها فهذا يعني أنني غير
- أ. صادق
ب. متعاون
ج. مخلص
د. متسامح

14. أتحدى بقيمة الإخلاص في المدرسة عندما
- أ. أتقن إنجاز واجباتي المدرسية
ب. أعفو عن زميلي الذي شتمني
ج. أشاور أبي في قراراتي
د. أشارك زملائي في تنظيف المدرسة
15. حسن التعامل مع كبار السن وتقبل رأسهم يعكس قيمة
- أ. التعاون
ب. الاحترام
ج. الصدق
د. العدل
16. من القيم المرتبطة بالتسامح الفكري والثقافي:
- أ. حرية ممارسة الشعائر الدينية بحرية.
ب. رفض التعصب الحزبي.
ج. احترام مبدأ التنوع البشري.
د. الحق في الإبداع والاجتهاد.
17. المثل العليا والمعاني السامية التي تحدد أنواع السلوك المقبولة في المجتمع هي:
- أ. القيم.
ب. المصالح.
ج. التقاليد.
د. الآراء.
18. اعتراف المتهم بالحقيقة أمام القاضي يدل هذا الموقف على التحلي بقيمة:
- أ. الصدق.
ب. الكرم.
ج. الإحسان.
د. الإخلاص.

السؤال السادس:

أجب عما يأتي:

- لماذا بذلت حكومة مملكة البحرين جهوداً كبيرة لتطوير قطاعي الكهرباء والماء؟
- اكتب موقفاً أو مثلاً واحداً لكل نوع من أنواع التسامح الواردة في الجدول الآتي:

أنواع التسامح	الموقف أو المثال
التسامح الديني	<ul style="list-style-type: none"> التعيش مع الأديان أو حرية ممارسة الشعائر الدينية أو رفض التعايش الديني والمذهبي ومقاومته
التسامح العرقي	<ul style="list-style-type: none"> تقبل الاختلاف في اللون والشكل أو تقبل الآخرين وغرس مبدأ الاحترام المتبادل أو احترام مبدأ التنوع البشري أو التخلي عن التمييز العنصري

السؤال السابع:

صنف العبارات الآتية إلى سلوكيات سليمة وغير سليمة بوضع علامة (✓) بجانبها على حسب المعطيات الواردة في الجدول الآتي:

سلوك غير سليم	سلوك سليم	العبارات
(✓)		يستخدم سعيد الحوض أثناء الاستحمام بدل الدش
	(✓)	تستخدم مريم كأساً لغسل أسنانها بدل الحنفية
	(✓)	تستعمل عائشة وعاء لغسل الفواكه والخضار
(✓)		يستخدم علي الخرطوم أثناء تنظيف السيارة
	(✓)	يستعمل الفلاح طريقة الري بالتنقيط
(✓)		لا تبالي فاطمة بتسرب المياه من أحد الصنابير
(✓)		سافر فهد وعائلته وتركوا مصابيح المنزل مفتوحة

السؤال الثامن:

اقرأ القصة، ثم أجب عن الأسئلة التي تليها انطلاقاً منها، وفي ضوء ما درست:

بينما كانت مجموعة من الطلاب تلعب الكرة في إحدى ساحات المدرسة ارتطمت الكرة بإحدى النوافذ فكسرتها، احتار لطلاب كيف يتصرفون، فاقترح عامر أن يتناسوا الموضوع وكأن شيئاً لم يحدث، ثم علق سامي بأن تورطهم في هذا الحادث سيعرف عاجلاً أو آجلاً لأن هذا الوقت مخصص لطلاب صفهم كي يمارسوا الرياضة، لذلك اقترح خالد أن يلعبوا في مكان آخر كي يبعدوا التهمة عن أنفسهم، فرفض حمد ذلك وحث زملائه على الاعتراف وقول الحقيقة وتحمل مسؤولية فعلهم، لأن ذلك يقوي ثقة الناس وعلاقتهم بهم، ويسعدهم في الدنيا وينجيهم في الآخرة.

1. ما المشكلة التي وقع فيها الطلاب؟
- ج1: ارتطمت الكرة بإحدى نوافذ المدرسة فكسرتها أثناء لعبهم في حصة الرياضة.
2. ما أفضل حل اقترحه هؤلاء الطلاب لحل مشكلتهم؟
- ج2: حل حمد الذي حثهم على الاعتراف وقول الحقيقة وتحمل المسؤولية.
3. لماذا فضلت هذا الحل على بقية الحلول المقترحة؟
- ج3: لأن قول الحقيقة (الصدق) يقوي ثقة الناس وعلاقتهم بالشخص الصادق، كما أنه يسعد الإنسان بالدنيا وينجيهِ بالآخرة.
4. ما القيمة الإنسانية التي دارت حولها أحداث القصة؟
- ج4: قيمة الصدق.

السؤال التاسع:
أجب عما يأتي:

1. ما الخطوات التي تقوم بها وزارة الكهرباء والماء لتزويد المواطنين المياه في مملكة البحرين؟

- ☆ أنشأت وزارة الكهرباء والماء عدداً من محطات التحلية يتم فيها تحلية المياه المالحة.
- ☆ نقل المياه المحلاة عبر شبكة من الأنابيب من تلك المحطات إلى المساكن في كافة أنحاء المملكة.

2. عبّر بأسلوبك عن موقفين أو تصرفين يدلان على احترامك للآخرين في الجدول الآتي:

المواقف / التصرفات	القيمة
* شكرت صديقي على الهدية التي قدمها لي في عيد ميلادي.	احترام الآخرين
* أستأذن من المعلم قبل دخولي إلى الصف.	
* أخبر أمي وأبي عن أي قرار أتخذه بخصوص الأسرة.	
* أصغي إلى زميلي عندما يتحدث ولا أقاطعه.	

السؤال العاشر:

اقرأ القصة ثم أجب الأسئلة التي تليها انطلاقاً منها، وفي ضوء ما درست:

أحمد ولد مسرف كثيراً، يحب اللعب بالماء أثناء الاستحمام أو ري حديقة المنزل، وفي إحدى الليالي، شعر بالعطش الشديد، فذهب إلى المطبخ ليشرب كوباً من الماء البارد، ولكنه اكتشف بأن الثلجة خالية من الماء، فقرر أن يشرب من الصنبور، ولكنه فوجئ بأن الماء قد نضب من الصنبور أيضاً، فرجع إلى غرفته حزيناً دون أن يروي عطشه، وفي الصباح أيقظته والدته ليغسل وجهه وأسنانه ويستعد للذهاب إلى المدرسة، فقال لها لا يمكنني فعل ذلك، لأن الماء قد نفذ من الصنبور يا أمي، فقالت له والدته: يا أحمد أنك تحلم، فأستيقظ أحمد من ذلك الكابوس المزعج وقرر أن لا يسرف في الماء ثانية، لأنه المصدر الأساسي للحياة على وجه الأرض

أ. ما الخطأ الذي كان يمارسه أحمد؟

ج أ: يحب اللعب بالماء أثناء الاستحمام أو ري حديقة المنزل أو (الإسراف في الماء وإهداره).

ب. لماذا شعر أحمد بالحزن؟

ج ب: لأنه لم يستطيع أن يروي عطشه بشرب الماء من الثلجة أو الصنبور أو (نضوب الماء).

ج. ما القرار الذي اتخذه أحمد بعد استيقاظه من نومه؟

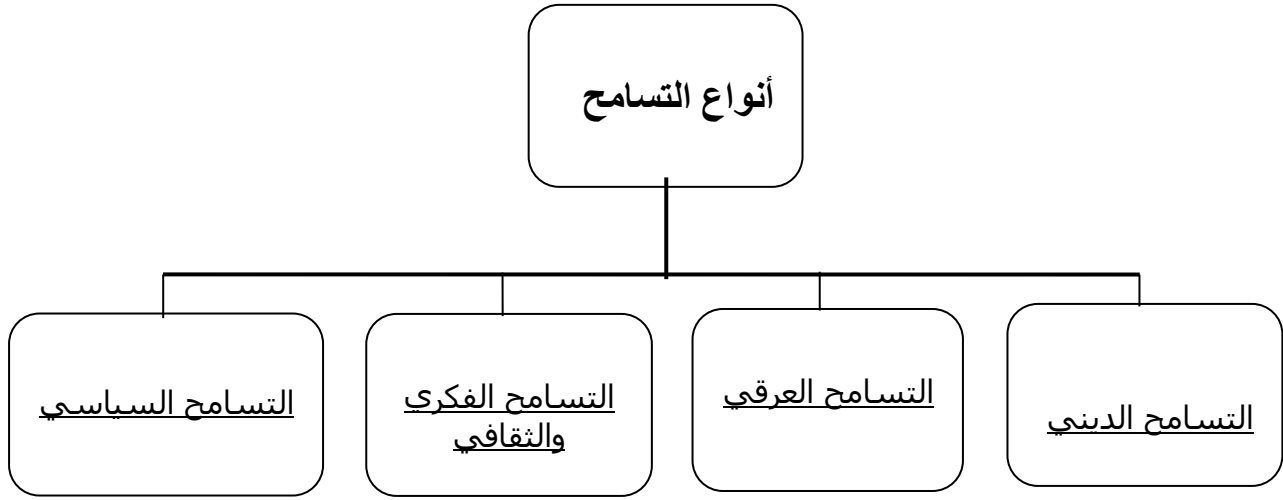
ج ج: قرر أن لا يسرف في الماء.

د. لماذا اتخذ أحمد هذا القرار؟

ج د: لأن الماء هو المصدر الأساسي للحياة على وجه الأرض.

السؤال احادي عشر:



أملأ الفراغات في المخطط التالي بكتابة أنواع التسامح:



السؤال الثاني عشر:


ضع الحرف (ش) بجانب الصورة التي تدل على الترشيد في الاستهلاك، والحرف (س) بجانب الصورة التي

تدل على الإسراف في الاستهلاك:



السؤال الثالث عشر:

اكتشف الخطأ في التصرفات الواردة في الصورتين التاليتين:

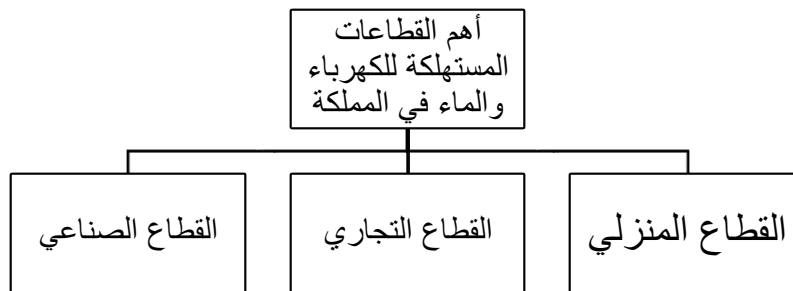


الخطأ هو: تشغيل عدة أجهزة كهربائية دون حاجة، مما يؤدي إلى الإسراف في استهلاك الكهرباء

الخطأ هو: ترك صنوبر الماء مفتوحاً دون حاجة، مما يؤدي إلى إهدار الثروة المائية

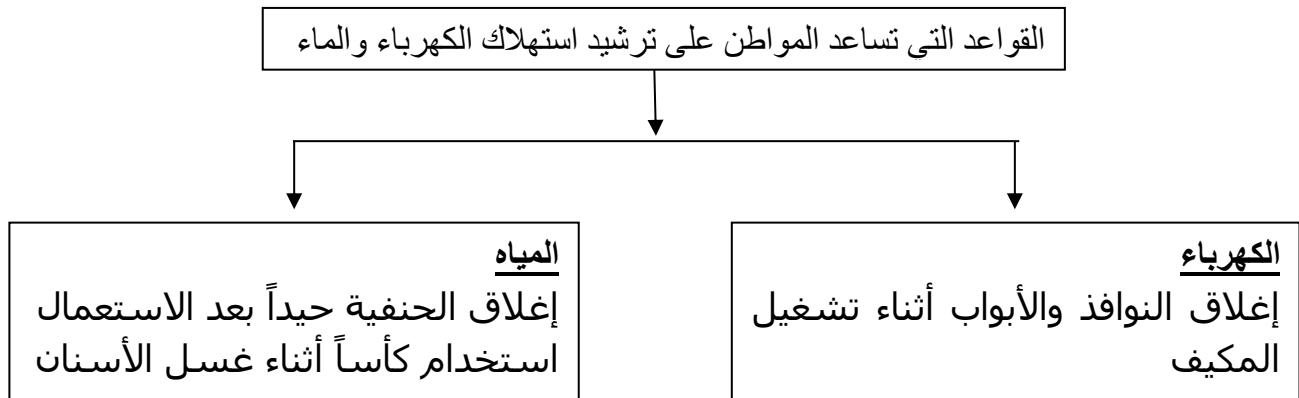
السؤال الرابع عشر:

املأ الفراغات في المخطط التالي بكتابة أهم القطاعات المستهلكة للكهرباء والماء في مملكة البحرين



السؤال الخامس عشر:

أكمل بيانات المخطط الآتي بما يناسبه



التواصل



التواصل مع ولي الأمر لمشروع مادة التربية للمواطنة لتلاميذ الصف الخامس الابتدائي للفصل الأول من العام الدراسي 2023-2024م

عزيزي ولي أمر التلميذ المقيد في الصف الخامس المحترم.
نفيدكم علماً إن فرع الأعمال الفصلية يتضمن إعداد تقرير أو مشروع (كتابة تقرير من ثلاثة صفحات بالإضافة إلى صفحة الغلاف)، أو مطوية أو إعداد وسيلة حائطية 3A مغلفة بالتغليف الحراري أو وسيلة من فلين بحجم 3A، أو إعداد درس من الدروس المقررة بالبوربوينت وسوف تحتسب له من درجة الأعمال الكلية.

وهذه بعض الموضوعات المقترحة:

1. خدمات تقدمها مملكة البحرين للمواطنين والمقيمين.
2. خدمة الإسكان
3. أحد المشاريع الإسكانية (مدينة أو مشروع)
4. أحد القيم الإنسانية

ملاحظات هامة

- * ممكن اختيار أي موضوع آخر ضمن الدروس المقررة للصف الخامس في الفصل الدراسي الأول.
- * من الممكن أخذ المعلومات من كتاب أو من الانترنت (أي مصدر عدا الكتاب المدرسي).
- * يقبل تقديم تقرير من ثلاث صفحات مع صور.
- * يمكن تقديم المشروع في أي وقت يناسب التلميذ من بداية الفصل إلى نهاية شهر نوفمبر.
- * يمكن أن يكون المشروع عمل فردي أو جماعي حسب اتفاق تلاميذ الصف (على أن لا يزيد عدد التلاميذ في المشروع الواحد عن أربعة).
- * آخر موعد لتسليم المشروع 1 / 11 / 2023م.

هذا ونرجو تعاونكم المثمر ليبدو العمل على أكمل وجه ولكم منا جزيل الشكر.

صفحة الملاحظات

صفحة التواصل

ملاحظات ولي الأمر:

.....
.....
.....

رد المعلمة:

.....
.....

ملاحظات ولي الأمر:

.....
.....
.....

رد المعلمة:

.....
.....

ملاحظات ولي الأمر:

.....
.....
.....

رد المعلمة:

.....
.....