

تم تحميل هذا الملف من موقع المناهج البحرينية



\*للحصول على أوراق عمل لجميع الصفوف وجميع المواد اضغط هنا

<https://almanahj.com/bh>

\* للحصول على أوراق عمل لجميع مواد الصف السادس اضغط هنا

<https://almanahj.com/bh/6>

\* للحصول على جميع أوراق الصف السادس في مادة اجتماعيات ولجميع الفصول, اضغط هنا

<https://almanahj.com/bh/6>

\* للحصول على أوراق عمل لجميع مواد الصف السادس في مادة اجتماعيات الخاصة بـ اضغط هنا <https://almanahj.com/bh/6>

\* لتحميل كتب جميع المواد في جميع الفصول للـ الصف السادس اضغط هنا

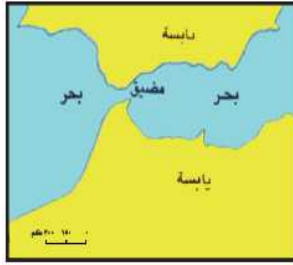
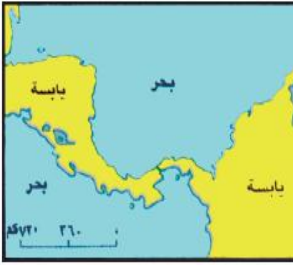
<https://almanahj.com/bh/grade6>

[almanahjbhbot/me.t//:https](https://t.me/almanahjbhbot)

للتحدث إلى بوت على تلغرام: اضغط هنا

مملكة البحرين وزارة التربية والتعليم مدرسة اليرموك الابتدائية للبنين / قسم المواد الاجتماعية	الموضوع : اليابسة	اسم الطالب: ..... الصف: ٦ /
الكفاية: يبين أشكال سطح الأرض والعوامل المؤثرة في تشكيلها.	نشاط رقم	٥


السؤال الأول: ضع علامة <input checked="" type="checkbox"/> أمام العبارة الصحيحة، وعلامة <input type="checkbox"/> أمام العبارة الخاطئة: <input checked="" type="checkbox"/> تبلغ مساحة اليابسة من ٥٠ % من مساحة كوكب الأرض. <input checked="" type="checkbox"/> عدد قارات العالم ٧ قارات. <input checked="" type="checkbox"/> قارتا آسيا وأوروبا تشكلان معا كتلة واحدة تعرف بأوراسيا. <input type="checkbox"/> أستراليا أكبر جزيرة من جزر قارة آسيا. <input checked="" type="checkbox"/> قارة أنتاركتيكا تتألف من منطقة القطب الجنوبي. <input checked="" type="checkbox"/> جبال الأورال هي الحد الفاصل بين قارتي آسيا وأوروبا.	السؤال الثاني: مستعينا بمسند رقم (٢) من الكتاب المدرسي صفحة (٩٦) سم قارات العالم من الأصغر حتى الأكبر حجما.  (١) أوروبا (٢) أوقيانیا (٣) أنتاركتيكا (٤) أمريكا الجنوبية (٥) أمريكا الشمالية (٦) افريقيا (٧) آسيا	السؤال الثالث: أكتب أسماء القارات العالم على الخريطة أدناه: 	تقييم الهدف الأول
---	--	--	-------------------

السؤال الأول: أكمل الجمل التالية: ● البرزخ شريط <b>ضيق</b> من اليابسة <b>يفصل</b> بين بحرين أو محيطين. ● المضيق ممر <b>مائي</b> ضيق يخترق اليابسة و <b>يصل</b> بين بحرين أو محيطين. ● يفصل قارة افريقيا عن قارة أوروبا <b>مضيق</b> جبل طارق. وتتصل مع قارة آسيا بـ <b>برزخ</b> السويس. ● تتصل قارة أمريكا الشمالية مع قارة أمريكا الجنوبية عبر برزخ <b>بنما</b> .	السؤال الثاني: أكتب أسفل الصور أيهما برزخ وأيها مضيق.  مضيق  برزخ	السؤال الثالث: سمّ مثالين لكل من البرزخ والمضيق. <table border="1"> <tr> <td>أمثلة للمضائق</td> <td>أمثلة للبرازخ</td> </tr> <tr> <td>مضيق جبل طارق</td> <td>برزخ السويس</td> </tr> <tr> <td>مضيق هرمز</td> <td>برزخ بنما</td> </tr> </table>	أمثلة للمضائق	أمثلة للبرازخ	مضيق جبل طارق	برزخ السويس	مضيق هرمز	برزخ بنما	تقييم الهدف الثاني
أمثلة للمضائق	أمثلة للبرازخ								
مضيق جبل طارق	برزخ السويس								
مضيق هرمز	برزخ بنما								

السؤال الأول: صل بخط بين العمود الأول وما يناسبه في العمود الثاني:

السلاسل الجبلية	مساحات شبة منبسطة تتخللها أودية عميقة:
السهول	مساحات أكثر انبساطا من الهضاب وأوديتها قليلة العمق:
الهضاب	مناطق مرتفعة جدا، قممها مسننة أو محدبة، ومنحدراتها شديدة، وأوديتها عميقة:

السؤال الثاني: أكتب أسفل الصور ( جبل / هضبة / سهل ).



السؤال الثالث: سمّ مثالين لكل من الجبال والهضاب.

أمثلة للجبال	أمثلة للهضاب
الهمالايا	نجد
الألب	التيبت

السؤال الرابع: ما الفرق بين السهل والمنبسط؟

السهول غالبا ما تكون ترتبتها خصبة صالحة للزراعة أما المنبسطات فهي سهول قاحلة تنتشر في بعض المناطق الصحراوية.

الواجب المنزلي:

حل أسئلة كراسة التمارين صفحة (٣٥).

مستعينا بمعلم اللغة الانجليزية ترجم معنى كلمة ( جبل ) بترتيب الأحرف t - m - u - n - o ..... Mount .....

( إنجازات ومبادرات ) اختر واحد مما يلي:

أكتب فقرة في حدود خمسة عن أشكال السطح في مملكة البحرين.

اجمع صورا لأشكال السطح المختلفة (جبال/هضاب/سهول) مع كتابة الاسم أسفل كل صورة.

✎ ارسم خريطة العالم واكتب عليها أسماء القارات السبع.