

تم تحميل هذا الملف من موقع المناهج البحرينية



الملف مراجعة وحدة تمثيل البيانات و عرضها و تفسيرها

[موقع المناهج](#) ← [الصف السادس](#) ← [رياضيات](#) ← [الفصل الثاني](#) ← [الملف](#)

روابط مواقع التواصل الاجتماعي بحسب الصف السادس



روابط مواد الصف السادس على تلغرام

[الرياضيات](#)

[اللغة الانجليزية](#)

[اللغة العربية](#)

[التربية الاسلامية](#)

المزيد من الملفات بحسب الصف السادس والمادة رياضيات في الفصل الثاني

[مذكرة مراجعة نهاية الفصل الثاني](#)

1

[نشاط حل التناسب](#)

2

[نشاط جدول النسب](#)

3

[نشاط درس التناسب](#)

4

[نسخة محلولة من مذكرة التميز في الرياضيات](#)

5

الاسم:-----

التاريخ:-----

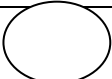
الصف الثالث

ورقة مراجعة  
في وحدة تمثيل البيانات وعرضها وتفسيرها

١


الجدول يبين عدد الطلبة الذين تم سؤالهم عن الألوان المفضلة لديهم ، أكمل الجدول بتمثيل البيانات بالإشارات ، ومن ثم مثليه بالرموز :

الفاكهة المفضلة		
الإشارات	عدد الطلبة	الألوان
	٨	الوردي
	٧	الأخضر
	١١	الأحمر
	٦	الأزرق


الفواكه المفضلة	
الرموز	الألوان
	الوردي
	الأخضر
	الأحمر
	الأزرق
المفتاح =  = طالبين	

الجدول يبين عدد الطلبة الذين تم سؤالهم عن الوجبة  
المفضلة لديهم ، أمثل البيانات بالجدول بالأعمدة مع وضع  
العناوين على التمثيل :

الوجبة المفضلة	
عدد الطلبة	الوجبة
٥	المعكرونة
١٤	بيتزا
٤	سمك
٨	دجاج مشوي
١١	برياني لحم







تم تحميل هذا الملف من  
موقع المناهج ابحريية  
alManahj.com/bh



لاحظي الجدول التالي، ثم أجيبى عن الأسئلة:

٣

الأسماك التي صيدت يوم الأحد	
	هامور
	كنعد
	صافي
المفتاح:  = ٥ كجم	

تم تحميل هذا الملف من

١- كم عدد الكيلوجرام لأسماك الهامور؟

موقع المناهج البحرينية

٢- كم عدد الكيلوجرام لأسماك الصافي؟

alManahj.com/bh

٣- ما هي أنواع الأسماك الذي يوجد منه أقل من ٦ كجم؟

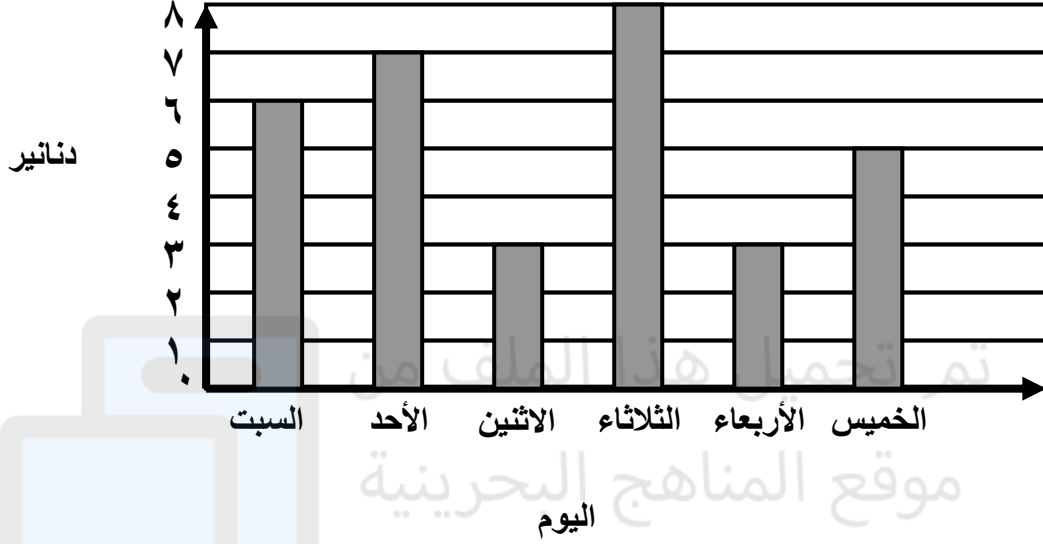
٤- كم يزيد عدد كيلوجرامات الهامور على الكنعد؟

٥- ما الفرق بين عدد كيلوجرام الصافي والكنعد؟

٦- ما مجموع عدد كيلوجرام الهامور والصافي؟

## اعتمدى على التمثيل بالأعمدة، وأجيبى عن الأسئلة.

المبالغ التي وفرت في الأسبوع الماضي



١- ما الأيام التي تم فيها توفير مبالغ متساوية من المال؟

٢- أي الأيام جمع فيها أكثر الدنانير؟

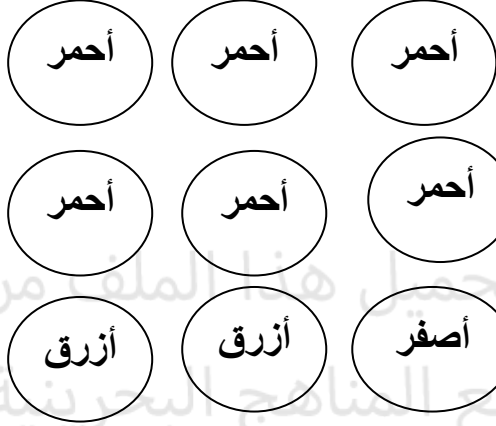
٣- كم يزيد المبلغ الذي تم توفيره يوم الثلاثاء عما تم توفيره يوم الاثنين؟

٤- ما هو اليومين الذي تم توفير فيهما مبلغ ١٢ دينار؟

٥- ما المبلغ الكلي الذي تم توفيره؟

٥ صفي احتمال اختيار كل شكل بكتابة الوصف المناسب:

أكيد أكثر احتمالاً أقل احتمالاً مستحيل



ما هو احتمال سحب :

أصفر  
وردي  
أخضر  
أحمر  
أصفر أو أحمر أو أزرق

٦ حلي المسألة التالية بإنشاء قائمة منظمة :

- عند فاطمة ثلاث صور لحيوانات ، أرادت تعليقهم على الحائط .  
كم ترتيب مختلفة يمكن أن تعلقهم ، اذكرى الترتيب المختلفة مع  
عددهم بإنشاء قائمة منظمة ؟ قط ، كلب ، عصفور