

تم تحميل هذا الملف من موقع المناهج العُمانية



* للحصول على أوراق عمل لجميع الصفوف وجميع المواد اضغط هنا

<https://almanahj.com/bh>

* للحصول على أوراق عمل لجميع مواد الصف السادس اضغط هنا

<https://almanahj.com/bh/6>

* للحصول على جميع أوراق الصف السادس في مادة اجتماعيات ولجميع الفصول, اضغط هنا

<https://almanahj.com/bh/6social>

* للحصول على أوراق عمل لجميع مواد الصف السادس في مادة اجتماعيات الخاصة بـ الفصل الثاني اضغط هنا

<https://almanahj.com/bh/6social2>

* لتحميل كتب جميع المواد في جميع الفصول للـ الصف السادس اضغط هنا

<https://almanahj.com/bh/grade6>

* لتحميل جميع ملفات المدرس غازي أالحايكي وباقر الشهابي وحسين الشيخ اضغط هنا

للتحدث إلى بوت على تلغرام: اضغط هنا

https://t.me/omcourse_bot

الزمن: ساعة ونصف



مملكة البحرين
وزارة التربية والتعليم
المعهد الديني الجعفري
قسم المواد الاجتماعية

رقم الطالب :

الصف: سادس /

الاسم:

التقويم التجميعي لنهاية الفصل الدراسي الثاني في مادة الاجتماعيات
للصف السادس الابتدائي / للعام الدراسي 2014-2015م

الإلتقان		درجة الطالب	السؤال درجة	السؤال	الكفاية الأساسية
لم يتقن	أتقن				
			10	س1	بين الخصائص الطبيعية و البشرية للبيئات المناخية
			10	س2	
			12	س3	
			6	س4	
			10	س1	يتعرف توزيع السكان في العالم و أسبابه
			10	س2	
			17	س1	يوظف الخرائط الجغرافية و الأشكال والرسوم البيانية و الصور
			75		درجة الاجتماعيات
			25		درجة المواطنة
			100		المجموع

تعليمات مهمة:

- 1- تأكد من أن الامتحان يتكون من أربع صفحات دون صفحة الغلاف.
- 2- احرص على قراءة السؤال جيداً قبل البدء بالإجابة عليه.
- 3- تأكد من الإجابة على جميع الأسئلة قبل تسليم ورقة الامتحان

لم يتقن

أتقن

إعداد: أ. غازي أحيكي أ. باقر الشهابي
إشراف المعلم الأول: أ. حسين الشيخ

الكفاية رقم 1 : [38 درجات]
س1: ضع دائرة حول الإجابة الصحيحة:

10

1- من محاصيل الزراعة التجارية :

ج- القمح والشعير

ب- الأرز والبطاطس

أ- الكاكاو والشاي

2- الزراعة المروية هي زراعة تعتمد على مياه :

ج- الثلوج

ب- الأنهار

أ- الأمطار

3- تجذب المناطق في البيئة المتوسطية السياح بسبب :

ج- كل ما ذكر صحيح

ب- الشواطئ الجميلة

أ- تنوع الآثار

4- كل ما يلي من خصائص الزراعة المعيشية البعلية ما عدا :

ج- تستخدم المكننة

ب- حرق أجزاء من الغابة

أ- محاصيلها لغذاء الانسان

5- تنتشر العروق والرق والحماذي في البيئة :

ج- الصحراوية

ب- المعتدلة

أ- المتوسطية

س2 : أقرأ النص التالي ثم أجب على الاسئلة التي تليه :

ينذر السكن في البيئة القطبية بسبب البرودة الشديدة حيث يتركز السكان في المناطق الشمالية , و تسكنها قبائل اللبونيين و الإسكيمو في أكوخ من الجليد و تعتمد في غذائها على تآكل السمك والطراند , و يعتمدون في تنقلاتهم على حيوان الرنة , أما في قارة أنتاركتيكا حيث القطب الجنوبي فيسكن فيها الباحثون والعلماء . و قد زاد عدد السكان في القطب الشمالي بعد اكتشاف الثروات الطبيعية في أطرافه.

10

1 : لماذا ينذر السكن في البيئة القطبية ؟

بسبب البرودة الشديدة حيث يتركز السكان في المناطق الشمالية .

2 : من الذي يسكن في البيئة القطبية الجنوبية (أنتاركتيكا)؟

فيسكن فيها الباحثون والعلماء

3 : ما اسم القبائل التي تسكن في البيئة القطبية الشمالية ؟

تسكنها قبائل الإسكيمو واللبونيين

4 : ماذا يستخدم الإسكيمو واللبونيين في تنقلاتهم ؟

يعتمدون في تنقلاتهم على حيوان الرنة

5 : ما الذي اكتشف في أطراف البيئة القطبية الشمالية؟

الثروات الطبيعية

س3 : قارن بين البيئات المناخية في الجدول التالي مستعينا بالتالي:

12

- 1- المنطقة الباردة 2- المنطقة الحارة 3- المنطقة المعتدلة 4- المنطقة الحارة 5- أشجار السنوبر
6- أشجار السافانا 7- بارد طوال العام + تساقط الثلوج 8- أشجار النخيل 9- حار ندره الأمطار
10- حار صيفا بارد ممطر شتاء 11- أعشاب التوندرا 12- حار طول العام ممطر صيفا.

الخصائص	البيئة المدارية	البيئة الصحراوية
المنطقة الحرارية	الحارة	الحارة
المناخ		حار وندرة الأمطار
المحاصيل الزراعية	السافانا	أشجار النخيل
الخصائص	البيئة المتوسطة	البيئة القطبية
المنطقة الحرارية	المعتدلة	الباردة
المناخ	حار صيفا ممطر شتاء	تساقط الثلوج
المحاصيل الزراعية	أشجار السنوبر	التوندرا

س4 :- أجب عن الأسئلة التالية :

6

1- ما المخاطر التي تتعرض لها البيئة المتوسطة ؟
..... أ- تتعرض للقطع الجائر ب- التهام قطعان الماشية للأشجار ج- حرائق الغابات

2- أين تقع مناطق البيئة الصحراوية ؟

..... تمتد حول المدارين

3- ما الهدف من الزراعة التجارية في البيئة المدارية؟

..... محاصيلها مخصصة للتصدير

س1: اختر من العمود (ب) المشاكل الطبيعية المناسبة للتعريف في العمود (أ) ثم أكتب

الحرف الدال على الإجابة الصحيحة في المكان المناسب :

10

العمود (ب)	الإجابة	العمود (أ)
أ- المستنقعات	ب	تطفو عند أطراف انتاركتيكا وتشكل خطرا على الملاحة
ب- الجبال الجليدية	ج	يهطل المطر أحيانا في الصحراء مما يحدث
ج- سيول وفيضانات	د	تشكل الغابة الاستوائية بيئة يصعب العيش فيها بسبب
د- الحشرات والأمراض	هـ	يعاني منها الانسان والنبات في فصل الجفاف
هـ شح المياه	و	تندلع فجأة وتنتشر مع هبوب الرياح الحارة
و- حرائق الغابات		

س2: مستعينا بالعبارات التي أمامك صنف كل من العوامل الطاردة و الجاذبة للسكان في الجدول :




الغابات الاستوائية - المدن - المناطق الباردة - المناطق الحارة - المناطق المعتدلة - السهول
الخصبة - الجبال المرتفعة - مستنقعات - سهول ساحلية - أودية خصبة .

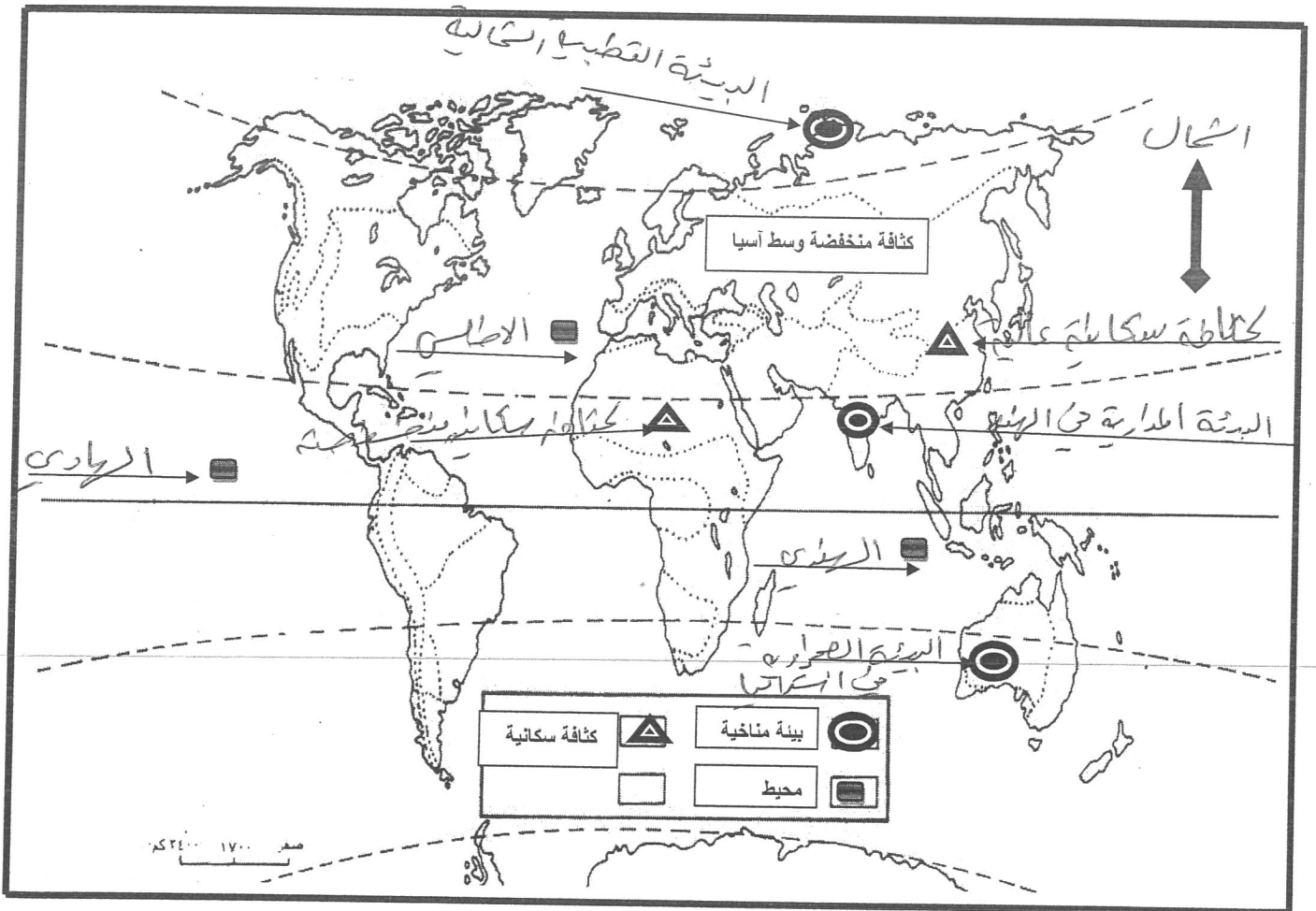
10

المناطق الجاذبة للسكان	المناطق الطاردة للسكان
المدن	الغابات الاستوائية
المناطق المعتدلة	المناطق الباردة
السهول الخصبة	المناطق الحارة
السهول الساحلية	الجبال المرتفعة
الأودية الخصبة	المستنقعات

س1 : في الخريطة التالية ضع كل من ما يلي في المكان المناسب :

ملاحظة : في مناطق الكثافة اكتب نوعها واسم القارة فقط

- 1- منطقة البيئة المدارية في الهند 
- 2- المحيط الهندي 
- 3- منطقة البيئة الصحراوية في استراليا 
- 4- المحيط الأطلسي 
- 5- منطقة البيئة القطبية الشمالية 
- 6- المحيط الهادي 
- 7- منطقة ذات كثافة سكانية منخفضة في صحراء إفريقيا 
- 8- منطقة ذات كثافة سكانية عالية في آسيا (الصين) 
- 9- إتجاه الشمال 



انتهت الأسئلة

مع أطيب التمنيات للجميع بنجاح والتوفيق