


شكراً لتحميلك هذا الملف من موقع المناهج البحرينية



أسئلة مراجعة الاختبار الأول

[موقع المناهج](#) ⇨ [المناهج البحرينية](#) ⇨ [الصف السادس](#) ⇨ [رياضيات](#) ⇨ [الفصل الثاني](#) ⇨ [الملف](#)

تاريخ نشر الملف على موقع المناهج: 20:28:56 2023-11-06

التواصل الاجتماعي بحسب الصف السادس



روابط مواد الصف السادس على تلغرام

[الرياضيات](#)

[اللغة الانجليزية](#)

[اللغة العربية](#)

[التربية الاسلامية](#)

المزيد من الملفات بحسب الصف السادس والمادة رياضيات في الفصل الثاني

[مذكرة مراجعة نهاية الفصل الثاني](#)

1

[نشاط حل التناسب](#)

2

[نشاط جدول النسب](#)

3

[نشاط درس التناسب](#)

4

[نسخة محلولة من مذكرة التميز في الرياضيات](#)

5



الاسم:	الصف: سادس فـ	التاريخ:
--------	---------------	----------

مراجعة للاختبار (١) في مادة الرياضيات للصف السادس الابتدائي

س١: حوطي رمز الإجابة الصحيحة فيما يلي:

(١) جميع ما يلي أعداد أولية ماعدا:

(أ) ١١ (ب) ١٧ (ج) ٢٥ (د) ٣١

(٢) الصورة الأسية لـ $2 \times 2 \times 2 \times 2 \times 3 \times 3$:

(أ) 2^4 (ب) 3^2 (ج) $2^4 + 3^2$ (د) $2^4 \times 3^2$

(٣) قيمة التعبير العددي $63 \div (9 - 2)$ هي:

(أ) ٥ (ب) ٧ (ج) ٩ (د) ١١

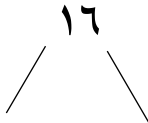
(٤) التعبير الجبري الذي يعبر عن ٥ أمثال العدد س هو:

(أ) ٥ س (ب) ٥ + س (ج) ٥ - س (د) ٥ ÷ س

(٥) قيمة التعبير الجبري $3س - ١$ إذا كانت $س = ٣$ هي:

(أ) ٥ (ب) ٦ (ج) ٨ (د) ١٠

س٢: حللي الأعداد ٤٠ ، ١٦ إلى عواملها الأولية:



س٣: اجيبي عن الأسئلة التالية :

١- قيمة التعبير العددي $4 + (3 \div 3)$	٢- حل المعادلة $7س = 14$
---	--------------------------

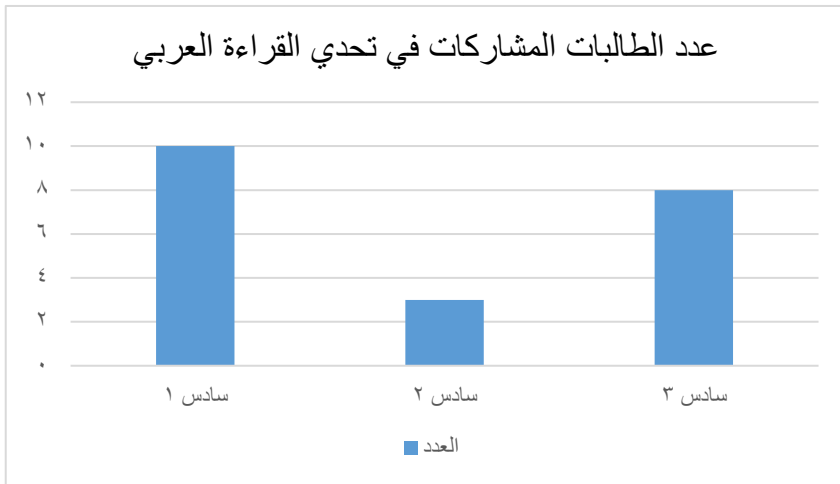
س٤: البيانات التالية تمثل عدد الذهاب إلى دروس تجويد القرآن خلال شهر قومي بتمثيلها بالنقاط:

عدد مرات الذهاب إلى دروس تجويد القرآن

عدد مرات الذهاب إلى دروس تجويد القرآن		
٣	٣	٧
٣	٦	٦
٩	١٢	٩



س٥: اجيبي عن الأسئلة التالية مستعينةً بالتمثيل بالأعمدة المجاور:



(١) ما الصف الأكثر مشاركة في

تحدي القراءة العربي ؟

.....

(٢) ما الصف الأقل مشاركة في

تحدي القراءة العربي ؟

.....

(٣) ما إجمالي عدد الطالبات المشاركات في الصفوف الثلاثة ؟

س٦: البيانات التالية تبين عدد القصص التي قرأتها ٦ طالبات خلال عدة أسابيع

٨ ٢ ٢٠ ٣ ٧ ٢

فأوجدي

(١) المتوسط الحسابي : (٢) الوسيط : (٣) المنوال :
(٤) المدى : (٥) القيمة المتطرفة :

الحساب الذهني:

رقم السؤال	الإجابة	الدرجة
١	ما هو مربع العدد ٥ : / مربع العدد ٧ : / مربع العدد ٩:	
٤	ما نصف الأعداد التالية: =٢٩٤ / =٨٦٤ / =١١٠ /	
٥	ما هو مكمل الكسور التالية إلى الواحد الصحيح مكمل =٠,٧٤ / مكمل =٠,٦٩ = / مكمل =٠,٥٥ =	

إعداد معلمات المادة : منسقة القسم المديرية المساعدة مديرة المدرسة
أ.جنان الشهابي ، أ. عائشة المرابطي ، أ. نورة المناعي أ. عائشة المرابطي أ. أمينة الملا أ. شيخة الحمادي