

تم تحميل هذا الملف من موقع المناهج البحرينية



*للحصول على أوراق عمل لجميع الصفوف وجميع المواد اضغط هنا

<https://almanahj.com/bh>

* للحصول على أوراق عمل لجميع مواد الصف السادس اضغط هنا

<https://almanahj.com/bh/6>

* للحصول على جميع أوراق الصف السادس في مادة رياضيات ولجميع الفصول, اضغط هنا

<https://almanahj.com/bh/6>

* للحصول على أوراق عمل لجميع مواد الصف السادس في مادة رياضيات الخاصة بـ اضغط هنا <https://almanahj.com/bh/6>


* لتحميل كتب جميع المواد في جميع الفصول للصف السادس اضغط هنا

<https://almanahj.com/bh/grade6>

[almanahjbhbot/me.t//:https](https://t.me/almanahjbhbot)

للتحدث إلى بوت على تلغرام: اضغط هنا

القواعد الإملائية:

السؤال السادس: أكمل الجملة التالية بالكلمة المناسبة (كان الرجل الجاهلي ابنته قبل الإسلام) .
 (درجة واحدة) * 
 (1 نقطة)

يأد


يؤد

يئد

القواعد الإملائية:

السؤال السابع: أكمل الجملة التالية بالكلمة المناسبة (إن خير من القوي الأمين) .
 * (درجة واحدة)


11

القواعد الإملائية:
السؤال السابع : أكمل الجملة التالية بالكلمة المناسبة (إن خير من القوي الأمين) . (درجة واحدة)
* ( 1 نقطة)

- إستأجرت
- استأجرت
- استئجرت


12

من درس بناء الفعل الماضي على الضم والسكون.. أجب على الأسئلة الآتية
السؤال الثامن : أكمل الفراغ بالكلمة المناسبة للجملة الآتية:
التلاميذ إلى حديث المعلم . (درجة واحدة) *
(1 نقطة)

من درس بناء الفعل الماضي على الضم والسكون.. أجب على الأسئلة الآتية
السؤال التاسع : أكمل الفراغ بالكلمة المناسبة للجملة الآتية:
لقد أثر الاهتمام بالعالم على الطلبة والطالبات أثناء زيارتي للبحرين . (درجة واحدة) * 

لاحظت

لاحظتُ

لاحظتُ 

من درس بناء الفعل الماضي على الضم والسكون.. أجب على الأسئلة الآتية
السؤال العاشر: أكمل الفراغ بالكلمة المناسبة للجملة الآتية:
الطالبات الفائزات الثمار بعد الجد والاجتهاد . (درجة واحدة) *

من درس بناء الفعل الماضي على الضم والسكون.. أجب على الأسئلة الآتية
 السؤال العاشر: أكمل الفراغ بالكلمة المناسبة للجملة الآتية:
 الطالبات الفائزات الثمار بعد الجد والاجتهاد .
 (1 نقطة)

(درجة واحدة) *



حصن

حصوا

حصت

إرسال إيصال بالبريد الإلكتروني للاستجابات الخاصة بي

السؤال الثالث: معنى كلمة (الماجد) ؟
(1 نقطة)

(درجة واحدة) *

المشهور

الكريم الأصل

العالم

- ١- هنيئاً لكم أيها القائدُ ويا أيها الباغُ والتَّاعدُ
 ٢- فهذي البحارُ وهذي النخيلُ تعانقكم أيها الماجدُ
 ٣- وتسري لكم خالقاتُ النسيم مُرْفَرَّةٌ ساوها باردُ
 ٤- وتهفو إليكم على حُبِّها قلوبٌ تراخفها شاهدُ
 ٥- أتاك الوسام على صدرنا فلا عيرَ أن يحمدَ الحاسدُ
 ٦- على منكب الفخر هذا الوسام وفوق تون العلاء صاعدُ

من قصيدة وسام على صدر الوطن : اقرأ الأبيات التالية وأجب على الأسئلة التي تليها. (درجة واحدة)


السؤال الأول: الفكرة العامة في القصيدة هي : *
 (1 نقطة)

تهنئة صاحب السمو الملكي الأمير خليفة بن سلمان آل خليفة رئيس الوزراء بمناسبة نيابة شهادة الدكتوراه الفخرية


الاحتفال بعيد العلم.

الاحتفال بميثاق البحرين الوطني .

8

(درجة واحدة) * 


السؤال الرابع: معنى كلمة تهفو إليك هو :
(1 نقطة)

 تبتعد تميل وتشتاق 

9

السؤال الخامس: أبيتُّ نوعَ الأسلوبِ، والمعنى المستفاد منه في قول الشاعر (هنيئًا لك أيُّها القائدُ).
(درجة واحدة) *
(1 نقطة)

9

السؤال الخامس: أبيض نوع الأسلوب، والمعنى المستفاد منه في قول الشاعر (هنيئًا لك أيُّها القائد).
 (درجة واحدة) * 
 (1 نقطة)

استفهام

نداء يفيد تعظيم المنادى

10

القواعد الإملائية:
 السؤال السادس: أكمل الجملة التالية بالكلمة المناسبة (كان الرجل جاهلي ابنته قبل الإسلام).
 (درجة واحدة) *
 (1 نقطة)

السؤال الثاني: مفرد كلمة خافقات؟
(درجة واحدة) *
(1 نقطة)

- ١- هَيْئًا لَكُمْ أَيُّهَا الْقَائِدُ ويا أَيُّهَا الْبَاغُ وَالنَّاعِدُ
٢- فهذي البحارُ وهذي التخييل تعانقكم أَيُّهَا الْمَاجِدُ
٣- وتسري لكم خافقاتُ النسيم مُرْفَرَقَةٌ مازها باردُ
٤- وتهفوا اليكم على حُبِّها قلوبٌ تراحمها شاهدُ
٥- أتاك الوسام على صدرنا فلا ضميرٌ أن يحسد الخاسدُ
٦- على منكب الفخر هذا الوسام وفوق مئون الغلا صاعدُ

يخفق

خافقة

خافقان

رمز الإجابة الصحيحة هو *
(2 نقطة)

ناتج (٤ تكعيب) يساوي

أ) ١٢

ب) ١٦

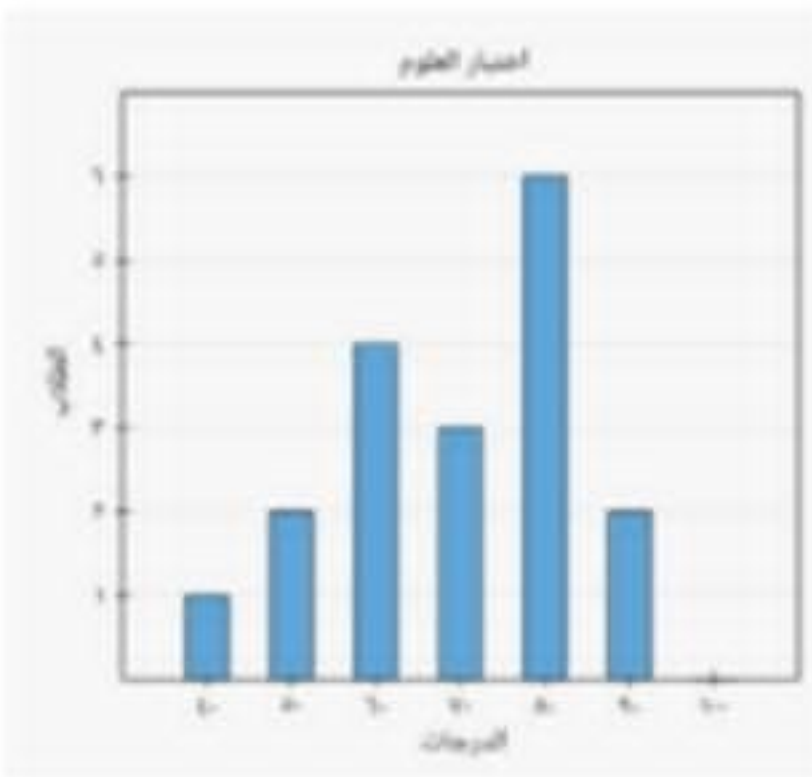
ج) ٦٤

أ

ب

ج

رمز الإجابة الصحيحة هو *
(2 نقطة)



نوع التمثيل المجاور:

- (أ) التمثيل بالنقاط
(ب) التمثيل بالأعمدة المزدوجة
(ج) التمثيل بالأعمدة
(د) التمثيل بالخطوط

أ

ب

ج

د

رمز الإجابة الصحيحة هو *
(2 نقطة)

تحليل العدد (٤٤) الى عوامله الأولية

(أ) 11×4

(ب) $4 + 10 + 10 + 10 + 10$

(ج) 2×22

(د) $11 \times 2 \times 2$

أ

ب

ج

د

رمز الإجابة الصحيحة هو *
(2 نقطة)

حدد النجوم

فاطمة	★
خالد	★ ★ ★ ★
صفية	★ ★
محمود	★
خلود	★ ★

★ يمثل نجمتين

المتوسط الحسابي للبيانات هو:

(أ) ٢

(ب) ٤

(ج) ٣

أ



ب



ج



الطالبة التي اجابتها صحيحة هي *
(2 نقطة)

مريم
٣٨، ٢٧، ٤٩، ٥١، ٣٤
الوسيط

فاطمة
٥١، ٤٩، ٣٨، ٣٤، ٢٧
الوسيط

فاطمة



مريم



رمز الإجابة الصحيحة هو *
(2 نقطة)

ناتج (٧ تربيع) يساوي

- أ) ٤٩
ب) ١٤
ج) ٤



ب

ج

السؤال *

(2 نقطة)

أطوال أنفاق مكة المكرمة				
النفق	جبل أبي قبيس	السبع بنات	قلعة أجياد	جبل هندي
الطول (م)	٥٩٥	١٧٨	٣٥٩	٤٨٤

٥ اختيار من متعدد: يوضح الجدول المجاور الأطوال بالأمطار لبعض أنفاق مكة المكرمة. فأي الجمل الآتية تتفق وبيانات هذا الجدول؟

- (أ) المتوسط الحسابي = الوسيط = المنوال.
- (ب) إذا تم توزيع أطوال الأنفاق بالتساوي فيما بينها، يصبح طول كل منها ٤٠٤ أمتار.
- (ج) مدى الأطوال يساوي ٢٧٠ مترًا.
- (د) معظم الأطوال تزيد على ٥٠٠ متر.

أ

ب

ج

د