

تم تحميل هذا الملف من موقع المناهج البحرينية



\* للحصول على أوراق عمل لجميع الصفوف وجميع المواد اضغط هنا

<https://almanahj.com/bh>

\* للحصول على أوراق عمل لجميع مواد الصف السابع اضغط هنا

<https://almanahj.com/bh/7>

\* للحصول على جميع أوراق الصف السابع في مادة جغرافيا ولجميع الفصول, اضغط هنا

<https://almanahj.com/bh/7geography>

\* للحصول على أوراق عمل لجميع مواد الصف السابع في مادة جغرافيا الخاصة بـ الفصل الثاني اضغط هنا

<https://almanahj.com/bh/7geography2>

\* لتحميل كتب جميع المواد في جميع الفصول للـ الصف السابع اضغط هنا

<https://almanahj.com/bh/grade7>

[almanahjbhbot/me.t//:https](https://t.me/almanahjbhbot)

للتحدث إلى بوت على تلغرام: اضغط هنا

مملكة البحرين

وزارة التربية والتعليم

إدارة الامتحانات / قسم الامتحانات

امتحان نهاية الفصل الدراسي الأول للعام الدراسي 2016/2017م

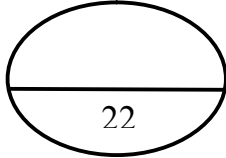
للفصل الأول الإعدادي

الزمن: ساعتان

المادة: المواد الاجتماعية ( الجغرافيا والتربية للمواطنة )

القسم الأول: أسئلة الجغرافيا ( 75 علامة )

السؤال الأول :-



أولاً- ضع دائرة حول الحرف الدال على الإجابة الصحيحة من بين البدائل الآتية :-

1- الوسيلة التي اتخذتها دول مجلس التعاون للحد من أخطار السيول هي:

- أ- بناء محطات التحلية.  
ب- بناء السدود.  
ج- حفر الآبار الارتوازية.  
د- حفر الأفلاج.

2- اتجهت حركة النزوح في السعودية باديء الأمر نحو المنطقة الشرقية نتيجة :

- أ- نشاطاتها النفطية.  
ب- مكانتها السياسية.  
ج- موقعها التجاري.  
د- خصوبة التربة.

3- الزراعة الأكثر انتشارا في دول مجلس التعاون الخليجي :

- أ- الحبوب.  
ب- الخضار.  
ج- النخيل.  
د- الفواكه.

4- القطاع الذي لعب دورا مهما في التنمية الزراعية بدول مجلس التعاون الخليجي :

- أ- العقاري.  
ب- العام.  
ج- الخاص.  
د- التجاري.

5- الفئة العمرية التي تشكل حوالي نصف عدد السكان الإجمالي لدول مجلس التعاون:

- أ- الفتيان.  
ب- الشباب.  
ج- البالغين.  
د- المسنين.

6- تنتشر صناعة تكرير النفط وتسييل الغاز الطبيعي في جميع دول مجلس التعاون الخليجي خصوصا:

- أ- الكويت.  
ب- البحرين.  
ج- السعودية.  
د- قطر.

ثانياً - صحّح ما تحته خط في كل عبارة من العبارات الآتية، واكتب الإجابة الصحيحة في السطر الذي يليها: -

1- الموانئ المجهزة بالمستودعات والمخازن وبردات لتخزين السلع تسمى بالموانئ النفطية.

.....

2- الدولة التي تأتي في طليعة الدول المستوردة من دول مجلس التعاون الخليجي هي الصين.

.....

3- تعتبر صناعة الزجاج في دول مجلس التعاون الخليجي من الصناعات التحويلية الكبرى.

.....

4- يركز اقتصاد دول مجلس التعاون الخليجي بشكل أساسي على القطاع التجاري.

.....

5- تأسس مجلس التعاون لدول الخليج العربي عام 1981م في مدينة الرياض.

.....

السؤال الثاني :-

أولاً- علل لما يأتي :

1- نشوء المدن في دول مجلس التعاون الخليجي قبل اكتشاف النفط.

..... •

..... •

2- تقلص رقعة الغطاء النباتي في دول مجلس التعاون الخليجي.

..... •

..... •

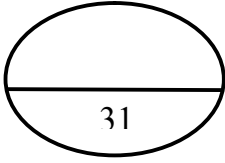
3- ارتفاع التزايد السكاني في دول مجلس التعاون الخليجي.

..... •

.....

4- تعرض المياه الجوفية في دول مجلس التعاون الخليجي لخطر النضوب والتملح.

..... •



ثانياً- أجب عن الأسئلة الآتية:

1- ما المجالات التي يستفاد من قيمة أرباحها نتيجة حركة التبادل التجاري لدول مجلس التعاون الخليجي؟

- ..... •
- ..... •
- ..... •

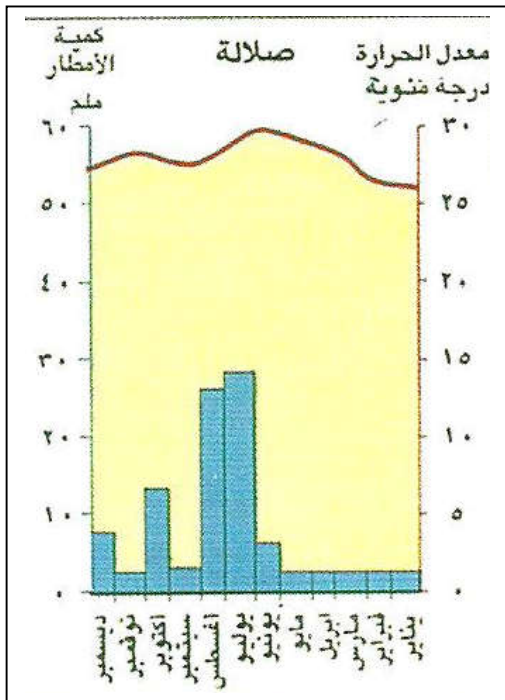
2- ما الفوائد الناجمة عن السيول في دول مجلس التعاون الخليجي؟

- ..... •
- ..... •
- ..... •

3- بين أبرز العوائق التي تعترض قطاع الصناعة التحويلية في دول مجلس التعاون الخليجي.

- ..... •
- ..... •
- ..... •

ثالثاً: من خلال الرسم البياني المناخي لمحطة صلالة في سلطنة عُمان، أجب عما يلي:



أ) ما الشهر الأكثر مطراً؟

- ..... •

ب) ما الشهر الأعلى في درجة الحرارة؟

- ..... •

ج) ما الأشهر التي تتساقط فيها الأمطار؟

- ..... •

د) ما الشهر الأدنى في درجة الحرارة؟

- ..... •

هـ) ما المناخ الذي تقع فيه محطة صلالة المناخية؟

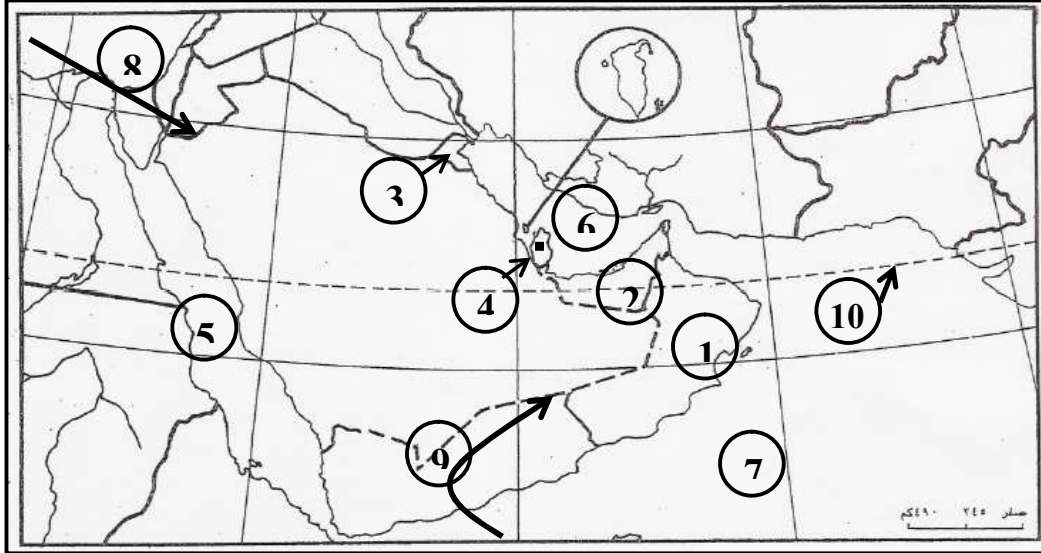
- ..... •

## السؤال الثالث :-

أولاً- اكتب في الجدول الآتي الجهود التي بذلتها دول مجلس التعاون الخليجي لتطوير القطاع الزراعي ومجال العناية الصحية.

القطاع	الجهود التي بذلت للتطوير
الزراعة	.....
	.....
	.....
الصحة	.....
	.....
	.....

ثانياً: اكتب ما تمثله مدلولات الأرقام الموضحة على خريطة دول مجلس التعاون لدول الخليج العربية الصماء بحسب ما يناسبه في الجدول الذي يليها.



الظواهر الجغرافية	مدلولات الأرقام
دول مجلس التعاون	.....-1 .....-2 .....-3
عواصم	.....-4
مسطح مائي	.....-5 .....-6 .....-7
رياح	.....-8 .....-9
دائرة عرض رئيسية	.....-10

القسم الثاني: أسئلة التربية للمواطنة

السؤال الأول: ضع دائرة حول الحرف الدال على الإجابة الصحيحة من بين البدائل الآتية:

1- ألقى جلالة الملك المفدى حمد بن عيسى آل خليفة في 13 مارس 1999م خطاباً سامياً بمناسبة:

- أ- ولايته العهد.  
ب- تأسيسه لقوة دفاع البحرين.  
ج- توليه الحكم.  
د- تأسيسه للمحكمة الدستورية.

2- تأسست شركة نفط البحرين في عهد:

- أ- عيسى بن علي آل خليفة.  
ب- عيسى بن سلمان آل خليفة.  
ج- سلمان بن حمد آل خليفة.  
د- حمد بن عيسى آل خليفة.

3- لقب المغفور له الشيخ عيسى بن سلمان آل خليفة بـ:

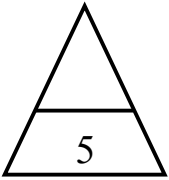
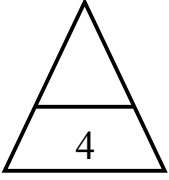
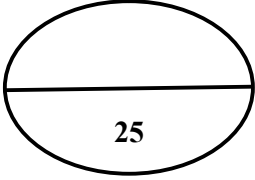
- أ- حكيم دولة البحرين.  
ب- فاتح دولة البحرين.  
ج- أمير دولة البحرين.  
د- ملك مملكة البحرين.

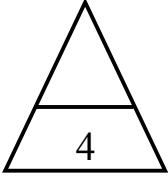
4- يطلق المجلس الوطني في مملكة البحرين على:

- أ- المجالس البلدية.  
ب- المجلس الأعلى للقضاء.  
ج- المجلس الأعلى للمرأة.  
د- مجلسي الشورى والنواب.

السؤال الثاني:- ضع علامة ( √ ) أمام العبارة الصحيحة، وعلامة ( x ) أمام العبارة الخاطئة:

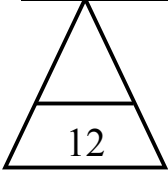
- 1- أُجري الاستفتاء الشعبي العام على مشروع ميثاق العمل الوطني في فبراير 2001م. ( )
- 2- تولى سمو المغفور له الأمير عيسى بن سلمان آل خليفة مقاليد الحكم عام 1916م. ( )
- 3- أسهمت مؤسسات المجتمع المدني في إعداد مشروع ميثاق العمل الوطني. ( )
- 4- يعود حكم آل خليفة إلى نهاية القرن الثامن الميلادي. ( )
- 5- استحدثت بمقتضى التعديلات الدستورية لعام 2002م ديوان للرقابة الإدارية. ( )





السؤال الثالث: - أتمم المخطط الآتي بما يناسب:

المجلس	عدد الأعضاء	طريقة اختيار الأعضاء
مجلس الشورى	.....	.....
مجلس النواب	.....	.....



السؤال الرابع: -

1- شكلت التعديلات الدستورية التي أصدرها جلالة الملك المفدى حمد بن عيسى آل خليفة خطوة جديدة نحو العمل

الديمقراطي، اذكر اثنين منها:

- .....
- .....

2- حدّد اثنين من مظاهر الدولة الحديثة في عهد الشيخ عيسى بن سلمان آل خليفة.

- .....
- .....

3- ما النتائج المترتبة عن اختلاط جلالة الملك المفدى حمد بن عيسى آل خليفة بذوي الخبرة في مجالات العلم المختلفة؟

- .....
- .....

انتهت الأسئلة  
مع تمنياتنا لكم بالتوفيق