

تم تحميل هذا الملف من موقع المناهج البحرينية



* للحصول على أوراق عمل لجميع الصفوف وجميع المواد اضغط هنا

<https://almanahj.com/bh>

* للحصول على أوراق عمل لجميع مواد الصف السابع اضغط هنا

<https://almanahj.com/bh/7>

* للحصول على جميع أوراق الصف السابع في مادة اجتماعيات ولجميع الفصول, اضغط هنا

<https://almanahj.com/bh/7social>

* للحصول على أوراق عمل لجميع مواد الصف السابع في مادة اجتماعيات الخاصة بـ الفصل الثاني اضغط هنا

<https://almanahj.com/bh/7social2>

* لتحميل كتب جميع المواد في جميع الفصول للـ الصف السابع اضغط هنا

<https://almanahj.com/bh/grade7>

[almanahjbhbot/me.t//:https](https://t.me/almanahjbhbot)

للتحدث إلى بوت على تلغرام: اضغط هنا

مملكة البحرين

وزارة التربية والتعليم

إدارة الامتحانات / قسم الامتحانات

امتحان نهاية الفصل الدراسي الثاني للعام الدراسي 2017/2018م

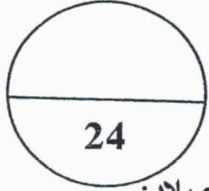
للمصف الأول الإعدادي

الزمن: ساعتان

المادة: المواد الاجتماعية (التاريخ + التربية للمواطنة)

القسم الأول - التاريخ (75 علامة)

السؤال الأول



أولاً- ضع دائرة حول الحرف الدال على الإجابة الصحيحة من بين البدائل الآتية:

1- وجه الخليفة الراشدي أبو بكر الصديق سنة 12 هـ أربعة من كبار القادة المسلمين لفتح بلاد:

- أ- العراق. ب- فارس.
ج- الشام. د- المغرب.

2- أعطى الخليفة الراشدي عثمان بن عفان أوامره لوالي الشام معاوية بن أبي سفيان من أجل:

- أ- استحداث ديوان الخاتم. ب- بناء أسطول قوي.
ج- إنشاء دار الضيافة. د- فتح بيت المقدس.

3- عاصمة الدولة الأموية هي:

- أ- القدس. ب- دمشق.
ج- بغداد. د- الفسطاط.

4- أخفق الجيش الأموي في فتح القسطنطينية؛ بسبب استخدام البيزنطيين سلاح:

- أ- الكرات الفولاذية. ب- المدافع العملاقة.
ج- النار الإغريقية. د- الراجمة البيزنطية.

5- القبيلة التي كان لها الدور البارز في تحول البحرين المبكر إلى الإسلام هي قبيلة:

- أ- تميم. ب- عبدالقيس.
ج- الأزدي. د- بكر بن وائل.

6- انتهت معركة جواثا سنة 11 هـ بانتصار المسلمين بقيادة العلاء بن الحضرمي على:

- أ- الخوارج. ب- الفرس.
ج- البيزنطيين. د- المرتدين.

ثانياً- اختر من العمود (ب) أسماء الشخصيات التاريخية المناسبة للأعمال والمنجزات المبينة في العمود (أ)
ثم اكتب الحرف الدال على الإجابة الصحيحة في المكان المخصص له:

العمود (أ)	الإجابة	العمود (ب)
1- اعتمد التقويم الهجري كتقويم خاص بالمسلمين.		أ- معاوية بن أبي سفيان.
2- بنى الجامع الأموي.		ب- المنذر بن ساوى.
3- حوّل نظام الحكم من الشورى إلى الوراثة.		ج- علي بن أبي طالب.
4- أسلم مع أهل البحرين استجابة لدعوة الرسول (ص) سنة 8 هـ.		د- عمر بن عبدالعزيز.
5- قضى على حكم أبي فديك في البحرين سنة 72 هـ.		هـ- عمر بن الخطاب.
6- اتخذ مدينة الكوفة مركزاً لخلافته.		و- عبدالملك بن مروان.
		ي- الوليد بن عبدالملك.

السؤال الثاني

أولاً- علل ما يأتي:

1- جمع القرآن الكريم في عهد الخليفة الراشدي عثمان بن عفان.

-
-

2- سرعة الفتوحات الإسلامية في أراضي الإمبراطوريتين البيزنطية والفارسية في العهد الراشدي.

-
-
-

3- تطوير الدواوين في العهد الأموي.

-
-

4- تفوق أهل البحرين في التجارة واكتسابهم خبرة عالية في الملاحة.

-

1- كيف عالج الخليفة الراشدي عمر بن الخطاب مسألة الخلافة من بعده؟

.....

.....

.....

2- ما أبرز الأعمال التي قام بها الخليفة الأموي عبدالملك بن مروان؟

.....

.....

.....

.....

3- اشرح دور البحرين في الفتوحات في عهدي الخليفين عمر بن الخطاب وعثمان بن عفان.

.....

.....

.....

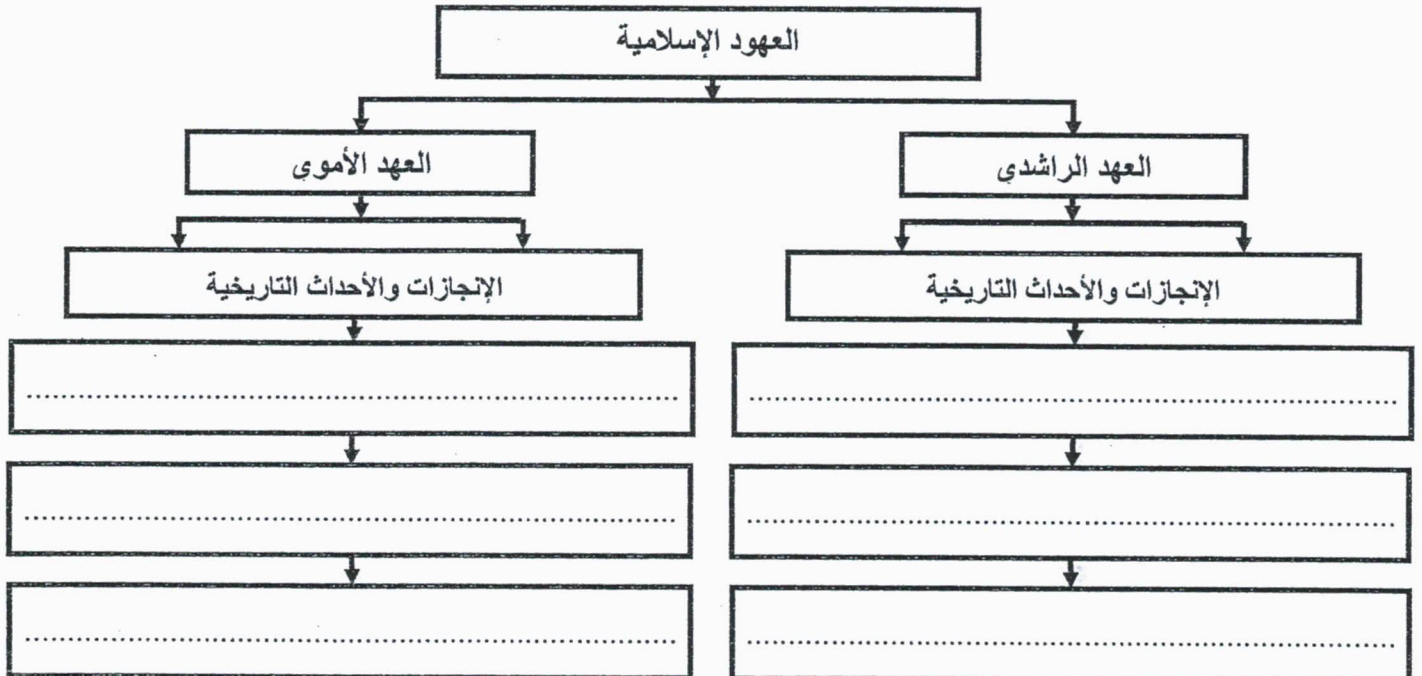
.....

السؤال الثالث

25

أولاً- صنّف الإنجازات والأحداث التاريخية الآتية في المخطط الذي يليها:

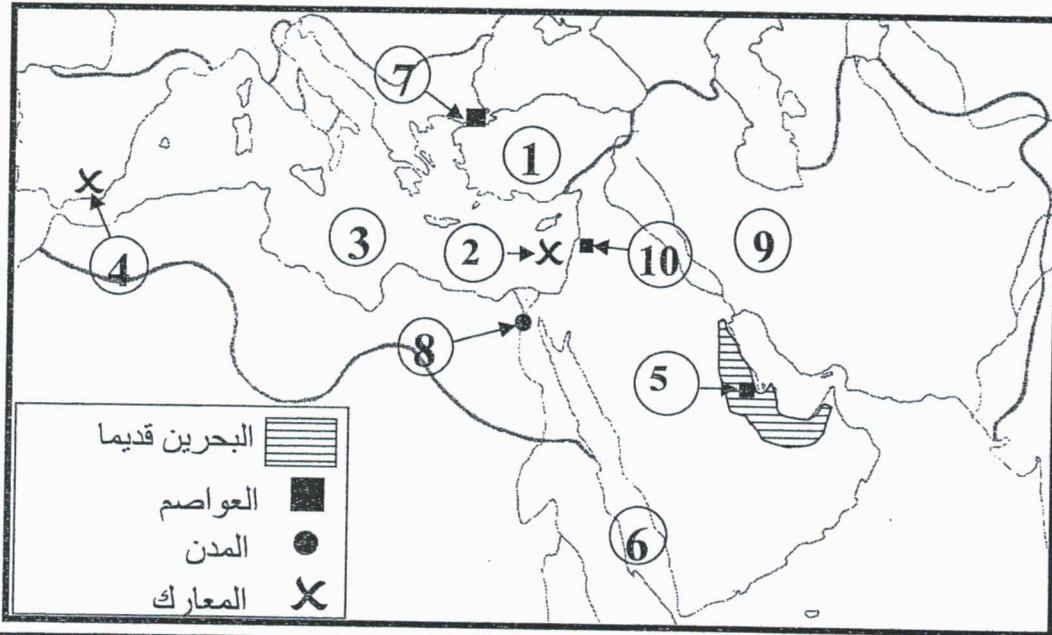
- معركة اليرموك.
- اجتماع الجابية.
- استحداث ديوان الرسائل.
- استحداث وظيفة صاحب الشرطة.
- القضاء على حركة الردة.
- بناء مسجد الخميس.



ثانياً - قارن بين المعارك التاريخية الواردة في الجدول الآتي، بذكر طرفيها وإحدى نتائجها:

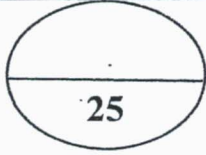
المعركة	طرفا المعركة	النتيجة
أجنادين 13 هـ
النهران 38 هـ
وادي لكة 92 هـ

ثالثاً - أمامك خريطة صماء للدولة الإسلامية في العهد الأموي، اكتب أمام كل من الظواهر الجغرافية والأحداث التاريخية الواردة في الجدول الرقم الدال عليها، وفقاً لموضع الأرقام المبينة على الخريطة.

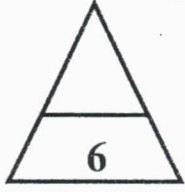


الرقم	الظاهرة الجغرافية/ المعركة التاريخية	الرقم	الظاهرة الجغرافية/ المعركة التاريخية
.....	بحر الروم (البحر المتوسط)	دمشق
.....	خراسان	الفسطاط
.....	القسطنطينية	بحر القلزم (البحر الأحمر)
.....	معركة وادي لكة	هجر
.....	الإمبراطورية البيزنطية	معركة ذات الصواري

القسم الثاني - التربية للمواطنة (السؤال الرابع)



أولاً- ضع علامة (✓) يمين العبارة الصحيحة وعلامة (x) يمين العبارة الخاطئة:



- 1- () صدر ميثاق هيئة الأمم المتحدة أثناء الحرب العالمية الأولى.
- 2- () وقعت مملكة البحرين على غالبية الاتفاقيات الدولية الصادرة عن هيئة الأمم المتحدة.
- 3- () يهدف التعاون الدولي إلى زعزعة الأمن والاستقرار في العالم.
- 4- () تتميز حقوق الإنسان بكونها مرتبطة بالإنسان ومتأصلة في كل فرد.
- 5- () أقرت الجمعية العامة للأمم المتحدة الإعلان العالمي لحقوق الإنسان عام 1984م.
- 6- () اعتمدت مملكة البحرين في علاقاتها مع دول العالم العربي سياسة محددة المعالم وواضحة الأهداف.



ثانياً- ضع دائرة حول الحرف الدال على الإجابة الصحيحة من بين البدائل الآتية:

- 1- لدعم التعاون الإقليمي، ساهمت مملكة البحرين عام 1981م في إنشاء:
 - أ- مجلس التعاون للدول الإسلامية.
 - ب- مجلس التعاون لدول الخليج العربية.
 - ج- مجلس التعاون للدول العربية.
 - د- مجلس التعاون للدول الإفريقية.

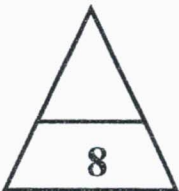
2- تطوّر محتوى الإعلان العالمي لحقوق الإنسان بإضافة الحق في:

- أ- التعبير.
- ب- الحياة.
- ج- الحرية.
- د- التنمية.

3- الإعلان العالمي لحقوق الإنسان وثيقة:

- أ- دولية.
- ب- إقليمية.
- ج- أوروبية.
- د- عربية.

ثالثاً- أجب عما يلي:



1- تضمن الإعلان العالمي لحقوق الإنسان جملة من المبادئ العامة، اذكر اثنتين منها.

.....

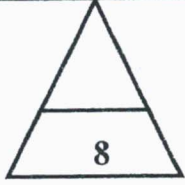
.....

2- نهجت مملكة البحرين في مجال التعاون الدولي سياسات عديدة، حدّد اثنتين منها.

.....

.....

رابعا - اقرأ النص، ثم أجب عن الأسئلة التي تليه انطلاقاً منه، وفي ضوء مادرسه.



تعزز مملكة البحرين بحقيقة انتمائها العربي، وتفاعلها الكبير مع هموم الأمة العربية وقضاياها وحقوقها، ودعم قضاياها المصيرية، وتفعيل وتطوير آليات العمل العربي المشترك والمنظمات الإقليمية وفي مقدمتها جامعة الدول العربية.

ومنذ انضمام مملكة البحرين إلى الجامعة العربية ساهمت بفعالية في أعمال الجامعة، والتزمت بميثاقها ومبادئها، حيث ترأست العديد من اجتماعات مجلس الجامعة على المستوى الوزاري، وعلى مستوى المجالس الوزارية المتخصصة، كما تتفاعل المملكة مع مختلف الهيئات التابعة لجامعة الدول العربية على كافة الأصعدة الاقتصادية والتنموية والاجتماعية.

1- ضع عنواناً مناسباً للنص.

2- وضح من خلال النص كيف تسهم مملكة البحرين في تفعيل العمل العربي المشترك.

3- تجمع مملكة البحرين بدول العالم العربي روابط مشتركة، اذكر اثنتين منها.

4- اذكر اثنتين من منجزات مملكة البحرين في مجال التعاون العربي.

انتهت الأسئلة، مع تمنياتنا لكم بالنجاح والتوفيق