

تم تحميل هذا الملف من موقع المناهج البحرينية

*للحصول على أوراق عمل لجميع الصفوف وجميع المواد اضغط هنا

<https://almanahj.com/bh>

* للحصول على أوراق عمل لجميع مواد الصف السابع اضغط هنا

<https://almanahj.com/bh/7>

* للحصول على جميع أوراق الصف السابع في مادة رياضيات ولجميع الفصول, اضغط هنا

<https://almanahj.com/bh/7>

* للحصول على أوراق عمل لجميع مواد الصف السابع في مادة رياضيات الخاصة بـ اضغط هنا <https://almanahj.com/bh/7>

* لتحميل كتب جميع المواد في جميع الفصول للـ الصف السابع اضغط هنا

<https://almanahj.com/bh/grade7>

[almanahjbhbot/me.t//:https](https://t.me/almanahjbhbot)

للتحدث إلى بوت على تلغرام: اضغط هنا

السؤال الأول: حدد الإجابة الصحيحة بالدرجات نقطتان (2)

*

ثانيا : أوجد مجموع قياسات الزوايا الداخلية لمضلع ثماني.

1000

1080

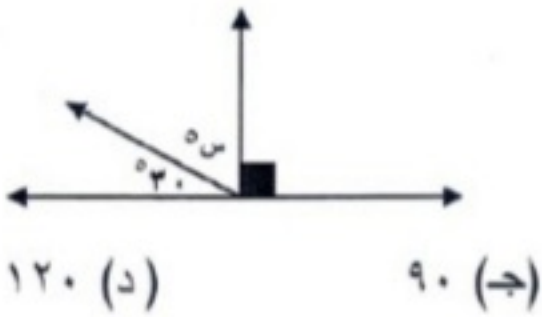
360

500

السؤال الثاني: حدد الاجابة الصحيحة بالدرجات نقطتان (2)

*

قيمة س في الشكل المجاور هي:



١٢٠ (د)

٩٠ (ج)

٦٠ (ب)

٣٠ (أ)

أ

ب

ج

د

السؤال الثالث: حدد طول الارتفاع بالسنتيمترات نقطتان (2)

*

ارتفاع متوازي الأضلاع الذي طول قاعدته ٨ سم، ومساحته ٤٨ سم^٢ هي:

6

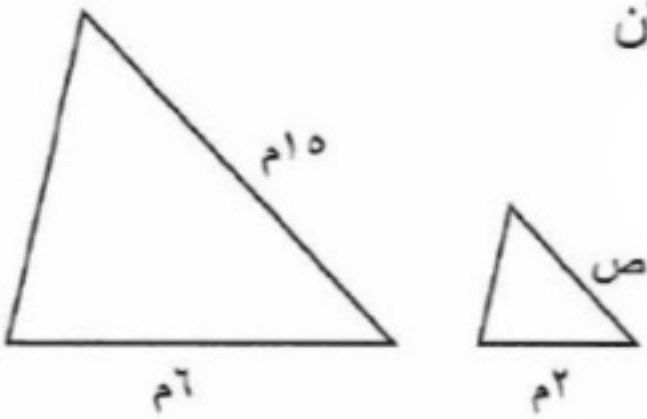
10

24

40

السؤال الرابع: حدد طول الضلع ص بالسنتيمترات * 3 نقاط

إذا علمت أن المثلثين المرسومين متشابهان
فإن قيمة ص تساوي ٣ م.



8

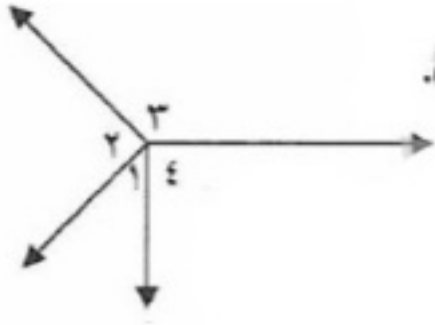
15

13

5

نقطتان (2)

السؤال الخامس: حدد صح أم خطأ *



1 و 2 في الشكل المرسوم متجاورتان.

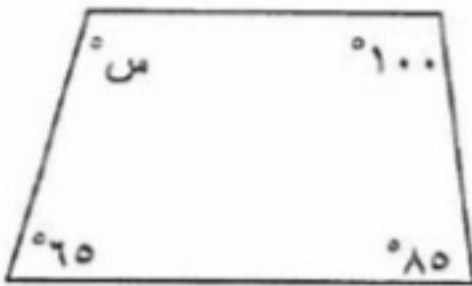
صح

خطأ

هذا السؤال مطلوب

نقطتان (2)

السؤال السادس: اختر قيمة س: *



أوجد قيمة س في الشكل المرسوم:

205

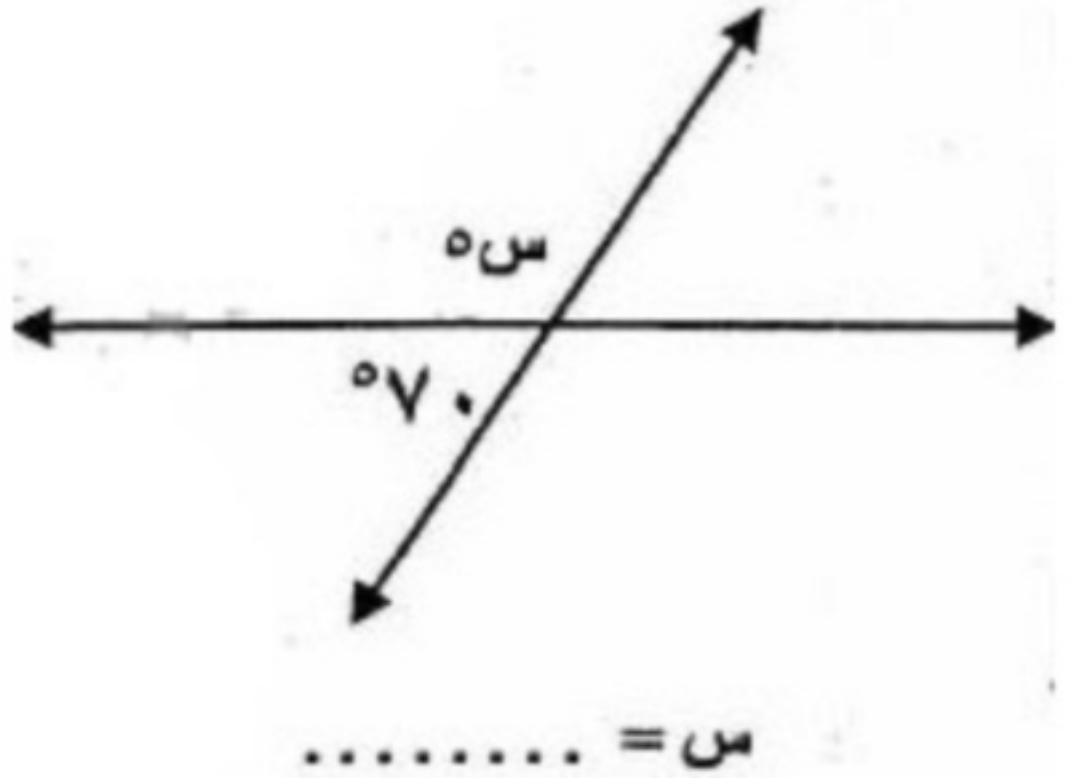
110

100

75

نقطتان (2)

السؤال السابع: حدد قيم s بالدرجات *



20

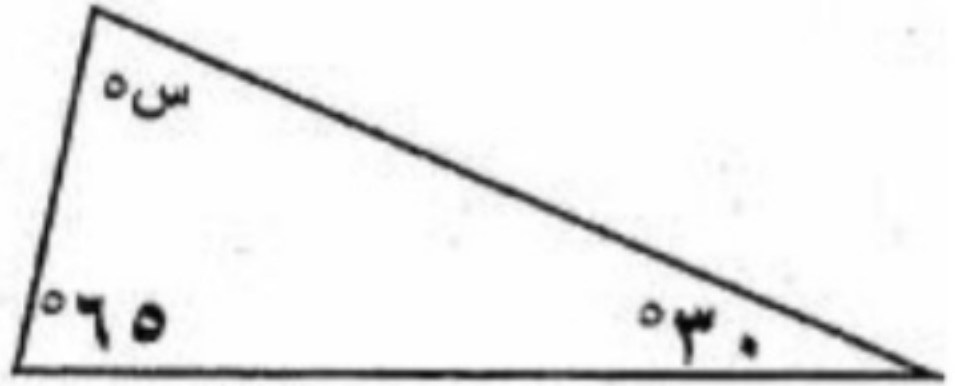
110

70

100

نقطتان (2)

السؤال الثامن: حدد قيمة s *



$s = \dots\dots\dots$

30

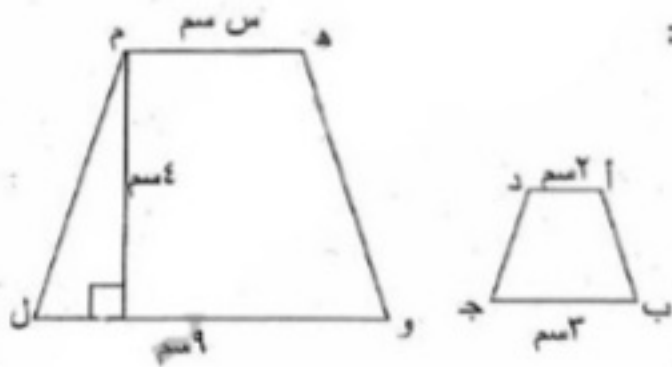
85

60

120

3 نقاط

السؤال التاسع: حدد طول الضلع س واحسب مساحة شبه المنحرف الكبير واختر قيمة المساحة بالسنتيمترات المربعة من الخيارات: *



في الشكل أدناه إذا كان $أ ب ج د \sim هـ و ل م$:
أوجد قيمة س.

احسب مساحة الشكل هـ و ل م.

120

100

105

30

الفعل المتعدي لمفعولين ليس أصلهما المبتدأ والخبر

مدرسة طارق بن زياد الإعدادية للبنين TARIQ
BIN ZEYAD INTERMEDIATE BOYS SCHOOL

نشاط تطبيقي الفعل المتعدي لمفعولين ليس
أصلهما المبتدأ والخبر 24/11/2020

* اجعل كل فعل مما يأتي متعديا إلى مفعولين
في جملة من إنشائك :

(منح - وهب - أعطى - منع)

مع تمنياتنا لأبنائنا بالنجاح والتفوق