

تم تحميل هذا الملف من موقع المناهج البحرينية



* للحصول على أوراق عمل لجميع الصفوف وجميع المواد اضغط هنا

<https://almanahj.com/bh>

* للحصول على أوراق عمل لجميع مواد الصف السابع اضغط هنا

<https://almanahj.com/bh/7>

* للحصول على جميع أوراق الصف السابع في مادة اجتماعيات ولجميع الفصول, اضغط هنا

<https://almanahj.com/bh/7>

* للحصول على أوراق عمل لجميع مواد الصف السابع في مادة اجتماعيات الخاصة بـ اضغط هنا <https://almanahj.com/bh/7>

* لتحميل كتب جميع المواد في جميع الفصول للصف السابع اضغط هنا

<https://almanahj.com/bh/grade7>

[almanahjbhbot/me.t//:https](https://t.me/almanahjbhbot)

للتحدث إلى بوت على تلغرام: اضغط هنا

القسم الأول: التربية للمواطنة

الدفم

السؤال

الإجابة

السؤال الأول: أكمل الإجابات التالية

١. الوثيقة السيلسبية الدولية التي تتضمن المبادئ والمعايير العامة لحقوق الإنسان وهو موجه لكافة الشعوب والأمم، يُعرف بـ (الإعلان العالمي لحقوق الإنسان)
٢. متى صدر الإعلان العالمي لحقوق الإنسان بعد الحرب العالمية الثانية (١٩٤٥ م)
٣. صدر الإعلان العالمي لحقوق الإنسان العام ١٩٤٥، ولكن أقرته الجمعية العامة للأمم المتحدة في العام ١٩٤٨ م
٤. صدر ميثاق هيئة الأمم المتحدة سنة ١٩٤٥ م بعد (الحرب العالمية الثانية)
٥. قيام مجموعة من البلدان بالعمل معا ضمن مهمات محددة أو برامج طويلة المدى (التعاون الدولي)
٦. يُعرف بـ المنظمة التي وضعت وثيقة الإعلان العالمي لحقوق الإنسان (هيئة الأمم المتحدة)
٧. المنظمة الإقليمية التي شاركت فيها البحرين تفعيلاً للعمل العربي المشترك هي منظمة (جامعة الدول العربية)
٨. يتألف الإعلان العالمي لحقوق الإنسان من (ديباجة و ٣٠ مادة)
٩. ساهمت البحرين في إنشاء مجلس التعاون لدول الخليج العربية في عام ١٩٨١ م
١٠. شاركت البحرين هموم الأمة العربية وقضاياها مثل القضيتين الفلسطينية والعراقية

السؤال الثاني : أجب عما يلي:

١. علل: صدور الإعلان العالمي لحقوق الإنسان في العاشر من ديسمبر ١٩٤٨ م.

بسبب ما ارتكب من في الحرب العالمية الثانية من جرائم بحق الإنسان، حيث إن ما ورد في ميثاق الأمم المتحدة لم يكن كافياً لتحقيق احترام حقوق الإنسان؛ لذلك تم إصدار هذا الإعلان

٢. علل: تعتبر البحرين من الدول التي دعت إلى إنشاء مجلس التعاون الخليجي عام ١٩٨١ م.

(أ) لترسيخ دعائم الأمن والاستقرار في المنطقة. (ب) لدعم التعاون الإقليمي. (ج) لالتزام بمبدأ حل النزاعات بالوسائل السلمية

٣. ما السياسات التي اتبعتها البحرين في مجال التعاون الدولي؟

(أ) أرست البحرين قواعد ثابتة في علاقاتها مع الدول الكبرى. (ب) اهتمت بتعزيز التعاون مع المنظمات الدولية كمنظمة الأمم المتحدة. (ج) شاركت في تكريس السلم والأمن الدوليين. (د) تشجيع الحوار بين الحضارات

٤. وضح دور البحرين في تعاونها وتضامنها مع القضايا العربية والإسلامية.

مشاركة البحرين هموم الأمة العربية وقضاياها المصيرية مثل القضية الفلسطينية والقضية العراقية.

٥. كيف تحولت المبادئ الواردة في الإعلان العالمي لحقوق الإنسان من مبادئ نظرية إلى قوانين ملزمة؟

عن طريق المعاهدات والاتفاقيات الدولية كالعهد الدولي الخاص بالحقوق المدنية والسياسية، والعهد الدولي الخاص بالحقوق الاقتصادية والاجتماعية والثقافية.

٦. كيف تطور الإعلان العالمي لحقوق الإنسان؟

تطور بإضافة الحق في التنمية الذي شمل أيضاً الحق في السلم والحق في بيئة نظيفة وحيط سليم، كما صدرت مجموعة من القوانين المخصصة مثل حقوق الطفل واتفاقية القضاء على جميع أشكال التمييز ضد المرأة

٧. اذكر أسماء بعض الاتفاقيات الدولية الصادرة عن منظمة الأمم المتحدة، ووقعت عليها مملكة البحرين.

(أ) حقوق الإنسان. (ب) البيئة. (ج) مكافحة المخدرات. (د) التصدي للإرهاب. (هـ) القضاء على الجهل. (و) تنمية الموارد البشرية

٨. اذكر بعض الروابط التي تجمع بين مملكة البحرين والأمة العربية.

أ) الأأسس التاريخية. ب) اللغة. ج) الدين. د) الثقافة. هـ) وحدة الأمل والمصير. و) العادات والتقاليد

٩. اذكر المبادئ العامة للإعلان العالمي لحقوق الإنسان.

أ- يكتسب الحق في الحرية والمساواة بالميلاد. ب- يتمتع بحقوقه دون أي تمييز. ج- لكل فرد الحق في الحياة والحرية والأمان.

١٠. ما المبادئ التي قامت عليها منظومة حقوق الإنسان في مملكة البحرين؟

قامت على مبادئ العدل والحرية والمساواة والأمن وتكفؤ الفرص، والالتزام بمبادئ الشريعة الإسلامية والمعاهدات والمواثيق الدولية.

١١. ما واجبات المواطن التي نص عليها دستور مملكة البحرين؟

أ) المحافظة على الممتلكات والأموال العامة. ب) الانتماء للوطن والدفاع عنه. ج) العمل والإخلاص فيه. د) المشاركة في الشؤون العامة والتمتع بالحقوق السياسية. هـ) عدم المساس بالعقيدة الإسلامية ووحدة الشعب و) عدم المساس بأأسس الدين والنظام العام في البلاد.

السؤال الثالث: صنف حقوق الإنسان الواردة في الإعلان العالمي لحقوق الإنسان، مع إعطاء أمثلة.

أنواع حقوق الإنسان	أمثلة عليها
الحقوق المدنية والسياسية	حق الحياة والحرية والأمن وعدم التعذيب والمشاركة السياسية (الانتخاب والترشيح) والمساواة وحرية الرأي، والتعبير والتفكير ، والضمير ، والدين، وحرية الأشتراك في الجمعيات والتجمع، وحق السفر واللجوء، وحق المحاكمة العادلة، وحق التمتع بشخصية قانونية.
الحقوق الاجتماعية والاقتصادية	حق العمل ، والتعليم ، والمستوى اللائق للمعيشة، والتملك، والمأكل، والمأوى، والصحة، والضمان الاجتماعي.
الحقوق البيئية والثقافية والتنمية	حق العيش في بيئة نظيفة وأمنة ، والحق في التنمية الثقافية والسياسية والاقتصادية

السؤال الرابع: أقرأ النص التالي، ثم أجب عن الأسئلة التي تليه:

تتميز السياسة الخارجية بالثبات والوضوح مما يكسبها رصيماً كبيراً من المصداقية والفاعلية على كافة الأصعدة الخليجية والعربية والإسلامية والدولية. فالتعقل والتروي ومد جسور التعاون القوية مع الأشقاء والأصدقاء، حرصاً على مصالح الشعب البحريني التي تشكل المحاور الرئيسية للدبلوماسية البحرينية. وترتكز السياسة الخارجية على ثوابت إستراتيجية، من أهمها الحفاظ على المبادئ والقيم والأعراف والمواثيق العربية والإسلامية والدولية، والسلوك الحضاري مع كافة أمم الأرض، صغيرها وكبيرها، مما أكسبها احترام العالم والمجتمع الدولي.

مجلة البحرين، العيد الوطني ومسيرة التقدم (١٩٩٢ م) العدد ١٢٠٢، ص ٢٧

١- ضع عنواناً مناسباً للنص.

.....

٢- ما مرجع (مصدر) هذا النص؟

.....

٣- بما تتميز السياسة الخارجية لمملكة البحرين؟

.....

٤- ما المحور الرئيس الذي تقوم عليه السياسة الخارجية لمملكة البحرين؟ ولماذا؟

.....

٥- بين مرتكزات السياسة الخارجية لمملكة البحرين؟

.....

.....

السؤال الخامس: ما الحقوق المنتهكة في الصور الكاريكاتيرية التالية؟



الحق المنتهك هو.....



الحق المنتهك هو.....



الحق المنتهك هو.....



الحق المنتهك هو.....



الحق المنتهك هو.....



الحق المنتهك هو.....

القسم الثاني: التاريخ

الاجابة	السؤال	الرقم
	السؤال الأول: أكمل الإجابات التالية	
(معركة عقرباء)	١. في أي معركة انتصر خالد بن الوليد على مسيلمة الكذاب؟	
(أجنادين)	٢. في أي معركة انتصر المسلمون خالد بن الوليد أثناء عهد أبوبكر على البيزنطيين؟	
(عمر بن الخطاب)	٣. أول من اتخذ لقب أمير المؤمنين؟	
(اليرموك)	٤. ما هي المعركة التي انتصر المسلمون في عهد عمر بن الخطاب على البيزنطيين؟	
(معاوية بن أبي سفيان)	٥. من الذي بنى الأسطول في عهد عثمان؟	
(معركة ذات الصواري)	٦. انتصر أسطول المسلمون في عهد عثمان بقيادة <u>والي مصر عبدالله بن سعد</u> على البيزنطيين في معركة؟	
(حذيفة بن اليمان)	٧. من هو الصحابي الذي أشار على عثمان بجمع القرآن؟	
(أبو لؤلؤة المجوسي)	٨. من هو قاتل الخليفة عمر بن الخطاب؟	
(عبدالرحمن بن ملجم المرادي)	٩. من هو قاتل الإمام علي بن أبي طالب؟	
(مسجد الكوفة)	١٠. في أي مسجد قتل علي بن أبي طالب؟	
(الخوارج)	١١. من هم الذين رفضوا التحكيم بين علي بن أبي طالب ومعاوية بن أبي سفيان؟	
(نهاد و القادسية)	١٢. انتصر المسلمون في عهد عمر بن الخطاب على الفرس في معركتي؟	
(اليرموك)	١٣. المعركة التي كانت خاتمة وجود البيزنطيين في بلاد الشام.	
(سعد بن أبي وقاص)	١٤. القائد الذي انتصر على الفرس في معركة القادسية	
(الفتح الأعظم)	١٥. معركة القادسية تعرف باسم آخر هو	
(فتح الفتوح)	١٦. معركة نهاوند تعرف باسم آخر هو	
(عمرو بن العاص)	١٧. القائد الذي فتح مصر في عهد عمر بن الخطاب؟	
(الخلفاء الراشدون)	١٨. من هو الذي تولى القضاء في العهد الراشدي؟	
(صاحب الشرطة)	١٩. المسؤول عن النظام ومراقبة الأسواق ومعاينة المخليين بالأمن؟	
(الوراثة)	٢٠. غير معاوية بن أبي سفيان نظام الحكم من الشورى إلى ؟	
(معاوية بن أبي سفيان)	٢١. من هو مؤسس الدولة الأموية؟	
(الحجاز والعراق)	٢٢. أدى تحول الأمويين من الشورى إلى الوراثة إلى مواجهتهم معارضة شديدة في	
(يزيد بن معاوية)	٢٣. من هو الخليفة الأموي الذي حدثت في عهده معركتي الكوفة والحجاز؟	
(العهد المرواني)	٢٤. عرفت الحقبة التي بدأت بخلافة مروان بن الحكم وحتى سقوط الدولة الأموية بـ	
(عبدالملك بن مروان)	٢٥. من هو الخليفة الأموي الذي أصدر عملة عربية	
(عبدالملك بن مروان)	٢٦. من هو الخليفة الأموي الذي بنى مسجد قبة الصخرة في القدس الشريف؟	
(عمر بن عبدالعزيز)	٢٧. من هو الخليفة الأموي الذي يلقب "بالخليفة الزاهد" أو "الخليفة الراشدي الخامس"	
(الوليد بن عبدالملك)	٢٨. في عهد أي خليفة بلغت الفتوحات أقصاها؟	
(طارق بن زياد)	٢٩. من هو القائد المسلم الذي فتح الأندلس؟	
(الوالي)	٣٠. الذي يحكم باسم الخليفة في ولايته؟	
(القاضي)	٣١. الذي يحكم في الخصومات؟	
(ديوان الخراج)	٣٢. الديوان الذي وظيفته تنظيم الخراج وجبايته والنظر في مشكلاته؟	
(ديوان الرسائل)	٣٣. الديوان الذي وظيفته إعداد رسائل الخليفة إلى الولاة والقادة.	
(ديوان الخاتم)	٣٤. الديوان الذي وظيفته حفظ نسخ عن رسائل الخليفة منعا للتزوير والتحريف	
(ديوان البريد)	٣٥. الديوان الذي وظيفته تنظيم الاتصال بين العاصمة والولايات.	
(ديوان النفقات)	٣٦. الديوان الذي وظيفته النظر في مصروفات الدولة.	
(ديوان الصدقات)	٣٧. الديوان الذي وظيفته الاهتمام بموارد الزكاة والصدقات وتوزيعها على مستحقيها.	
(هجر)	٣٨. ما هي عاصمة البحرين قبل الإسلام؟	

٣٩.	من هو الحاكم الذي يحكم البحرين عند ظهور الإسلام؟	(المنذر بن ساوى التميمي)
٤٠.	كانت جزر البحرين الحالية قبل تعرف باسم	(أوال)
٤١.	أي قبيلة كان لها الدور البارز في تحول البحرين المبكر للإسلام؟	(عبدالقيس)

الرقم	السؤال	الإجابة
٤٢.	من هو رسول النبي محمد (ص) للبحرين حاملا رسالة الدعوة؟	(العلاء بن الحضرمي)
٤٣.	رجل من قبيلة قيس ارتد بالبحرين وسيطر على القطيف و هجر هو	(الحطم ابن ضبيعة).
٤٤.	من قاد القتال ضد أهل الردة في البحرين؟	(العلاء بن الحضرمي)
٤٥.	من هو قائد الخوارج في البحرين؟	(تجدة بن عامر الحنفي)
٤٦.	هزم العلاء بن الحضرمي المرتدين في البحرين في معركة	(جواثا)
٤٧.	أصبحت البحرين في عثمان بن عفان تتبع إدارياً ولاية	(البصرة)

السؤال الثاني: أجب عما يلي وعلل:

٤٨. ما هي أبرز انجازات الخليفة أبوبكر الصديق؟
أ- القضاء على حركة الردب- بدء الفتوحات.
٤٩. ما هي أبرز انجازات الخليفة عمر بن الخطاب؟
أ- الفتوحات الكبرى. ب- تنظيم الجيش. ج- تنظيم الإدارة. د- الشورى. هـ- التقويم الهجري.
٥٠. ما هي أبرز انجازات الخليفة عثمان بن عفان؟
أ- بناء الأسطول. ب- توسع الفتوحات. ج- جمع القرآن الكريم.
٥١. ما هي سياسة علي بن أبي طالب في قيام الدولة الإسلامية؟
التقوى والعدالة والمساواة بين المسلمين.
٥٢. أذكر أسباب حركة الردة؟
أ- امتناع البعض عن دفع الزكاة ب- رفض البعض مبايعة أبوبكر ج- ادعاء النبوة مثل مسيلمة الكذاب.
٥٣. مم يتغذى بيت مال المسلمين؟
أ- العنقم الوافرة. ب- الزكاة. ج- العشر. د- الجزية. هـ- الخراج.
٥٤. أذكر الأسباب التي دفعت عثمان لبناء الأسطول؟
أ- كان البيزنطيين يملكون قوة بحرية متفوقة على المسلمين ب- اقتصر فتوحات المسلمين على الحروب البرية فقط.
٥٥. فسر جمع عثمان للقرآن؟
أ- تعدد التلاوات ب- اختلاف القراء في قراءته
٥٦. أذكر أهم الأعمال التي قام بها الإمام علي للنهوض بموارد الدولة الإسلامية؟
أ- شجع الزراعة واستثمار الأرض . ج- عزز دور التجار والصناع وأصحاب الحرف.
ب- أنزل أشد العقوبات على المخالفين . د- شدد في ضبط أموال المسلمين .
٥٧. أذكر العوامل التي ساعدت المسلمين على تحقيق نصر سريع على الروم والفرس؟

منكرة اجتماعيات (التاريخ والتربية للمواطنة) الصف (الأول الإعدادي) نهاية الفصل الثني للعام الدراسي (٢٠١٣ - ٢٠١٤ م)
أ- سلاح الإيمان. ب- حبهم للاستشهاد. ج- امتلاكهم آلة عسكرية فعالة.
د- سرعة الحركة. هـ- المستوى القيادي الرفيع.

٥٨. ما التنظيمات الإدارية التي أدخلها معاوية بن أبي سفيان في حكمه؟
أ- طور الديوان الذي أنشأه عمر بن الخطاب. ب- استحدث ديوان الخاتم. ج- استحدث ديوان البريد.
٥٩. علل: عدم تمكن يزيد بن معاوية من إسقاط القسطنطينية؟
بسبب: أ- مناعتها البحرية. ب- استخدام البيزنطيين سلاحاً متطوراً (النار الإغريقية).
٦٠. ما هو النظام الحربي الذي وضعه معاوية لمواجهة الخطر البيزنطي على الشام؟
إقامة مراكز عسكرية على مقربة من الحدود مع البيزنطيين لمراقبة تحركاتهم، وكذلك خروج حملات عسكرية دورية في الصيف والشتاء تعرف (بالصوائف، والشواتي).
٦١. علل: تحويل معاوية نظام الحكم من الشورى إلى الوراثة؟
أ- يحفظ استمرار الحكم في أسرته. ب- خوفاً من حدوث صراع على الحكم بعد وفاته.
٦٢. ما هو الخطر من مبايعة اثنين من الأبناء على ولاية العهد؟
استفحال الصراع بين أبناء الأسرة الواحدة.
٦٣. وضح دور الجيش في العهد الأموي؟
أ- القضاء على الثورات المناهضة في عدد من الولايات. ب- تحقيق الفتوحات العظيمة.
٦٤. أذكر تأثير موقع البحرين على النشاطات الاقتصادية؟
- اكتسبوا خبرة عالية في الملاحة. ب- تفوقوا في التجارة. ج- إعادة تصدير البضائع لاسيما للعراق.
٦٥. ما هي أبرز حواضر البحرين؟
أ- الخط. ب- دارين. ج- جواثا. د- العاصمة هجر.
٦٦. ما العوامل التي شجعت القبائل استيطان البحرين قبل الإسلام؟
أ- وفرة مياهها. ب- خصوبة أراضيها. ج- ازدهار التجارة.
٦٧. أذكر الأديان والمعتقدات المنتشرة في البحرين قبل الإسلام
أ- اليهودية. ب- النصرانية. ج- المجوسية. د- الوثنية. (وكان أوال الصنم الذي يعبد أهل البحرين، لذا سميت باسمه جزر البحرين).
٦٨. كيف أسهمت البحرين في تثبيت دعائم دولة الرسول (ص)؟
لأن خراجها فاق خراج سائر الأقاليم الأخرى.

٦٩. وضح موقف العلاء بن الحضرمي من اليهود والنصارى في البحرين؟

صالحهم على دفع الجزية.

السؤال الثالث: ١- مقارنة بين المعارك التي حدثت في عهد الإمام علي بن أبي طالب (الجملة وصفين والنهروان)؟

المعركة	الأطراف المتنازعة	الأسباب	النتائج
الجملة	طلحة والزبير (أنصار عثمان) * الإمام علي بن أبي طالب	رفض مبايعة علي	انتصر الإمام علي بن أبي طالب
صفين	معاوية بن أبي سفيان * الإمام علي بن أبي طالب	رفض معاوية قرار العزل عن ولاية الشام	- طلب أهل الشام التحكيم. - انقسام أنصار علي بين مؤيد ومعارض. - بايع أهل الشام معاوية بالخلافة.
النهروان	الخوارج * الإمام علي بن أبي طالب	رفض الخوارج بالعودة لصفوف علي	انتصر الإمام علي بن أبي طالب

٢- قارن بين ثورتي الكوفة والحجاز:

الثورة	الأطراف المتنازعة	الأسباب	النتائج
الكوفة	الحسين بن علي * جيش يزيد	رفض الحسين مبايعة يزيد	استشهاد الحسين ومن معه
الحجاز	أهل المدينة والحجاز * جيش يزيد	ثار أهل المدينة والحجاز على يزيد بسبب مقتل الحسين	- أرغم يزيد أهل المدينة على المبايعة. - حاصرو مكة، ثم تراجعت بعد موت يزيد.

٣- قارن بين المعارك التالية:

المعركة	السنة الهجرية	الخليفة	الأطراف المتنازعة	النتائج
أجنادين	١٣ للهجرة	أبو بكر الصديق	١- المسلمين بقيادة خالد بن الوليد. ٢- البيزنطيين	انتصار المسلمين على البيزنطيين في الشام.
عقرباء	١١ للهجرة	أبو بكر الصديق	١- المسلمين ٢- مسيلمة الكذاب في اليمامة	هزيمة مسيلمة الكذاب الذي ادعى النبوة بعد وفاة الرسول "ص".
جواثا	١١ للهجرة	أبو بكر الصديق	١- المسلمين بقيادة العلاء بن الحضرمي. ٢- المرتدين في البحرين.	انتصار المسلمين على المرتدين في البحرين.
اليرموك	١٥ للهجرة	عمر بن الخطاب	١- المسلمين بقيادة خالد بن الوليد. ٢- البيزنطيين	انتصار المسلمين على البيزنطيين وطردهم من الشام نهائياً.
القادسية	١٥ للهجرة	عمر بن الخطاب	١- المسلمين بقيادة سعد بن أبي وقاص. ٢- الفرس بالعراق.	انتصار المسلمين على الفرس بالعراق.
نهاوند	٢١ للهجرة	عمر بن الخطاب	١- المسلمين بقيادة النعمان بن المقربن. ٢- الفرس	انتصار المسلمين على الفرس وتوسعهم في الإمبراطورية الفارسية.
سبيلطة	٢٧ للهجرة	عثمان بن عفان	١- المسلمين بقيادة عبدالله بن أبي السرح. ٢- البيزنطيين	انتصار المسلمين على البيزنطيين في أفريقيا.
ذات الصواري	٣١ للهجرة	عثمان بن عفان	١- المسلمين بقيادة عبدالله بن أبي السرح. ٢- البيزنطيين بقيادة قسطنطين الثاني.	انتصار المسلمين بالقرب من سواحل آسيا الصغرى.

وادي لكة	٩٢ للهجرة	الوليد بن عبدالمك	١- المسلمين بقيادة طارق بن زياد. ٢- القوط الأسبان بقيادة ملكهم لنزيق	انتصار المسلمين على القوط وفتح الأندلس
----------	-----------	-------------------	---	--

٤- قارن بين الوقائع والمعارك التالية من حيث العناصر المبينة في الجدول أدناه:

الوقعة	أطراف النزاع	السبب	النتائج
الجمال	الخليفة علي بن أبي طالب. × طلحة والزبير	خروج طلحة والزبير إلى مكة ونكتهما البيعة للخليفة علي بن أبي طالب.	انتصار الخليفة علي بن أبي طالب في البصرة.
صفين	الخليفة علي ومعه أهل العراق. × معاوية ومعه أهل الشام.	عدم مبايعة معاوية للخليفة علي بن أبي طالب ورفضه قرار عزله عن ولاية الشام.	أ- طلب أهل الشام للتحكيم. ب- بعد فشل التحكيم ببيع معاوية بالخلافة. ج- ظهور فرقة الخوارج.
النهروان	الخليفة علي بن أبي طالب. × الخوارج.	رفض الخوارج طلب الخليفة علي بن أبي طالب لهم بالعودة إلى صفوفه واستئناف القتال ضد معاوية	انتصار الخليفة علي بن أبي طالب على الخوارج.
عقرباء (٥١١هـ)	المسلمين × مسيلمة الكذاب في اليمامة	ارتداد مسيلمة الكذاب عن الإسلام وادعائه النبوة.	هزيمة مسيلمة الكذاب الذي ادعى النبوة بعد وفاة الرسول "ص".
أجنادين (٥١٣هـ)	المسلمين × البيزنطيين	توجيه الخليفة أبوبكر (رضي) جيشاً لفتح الشام.	انتصار المسلمين على البيزنطيين في الشام.

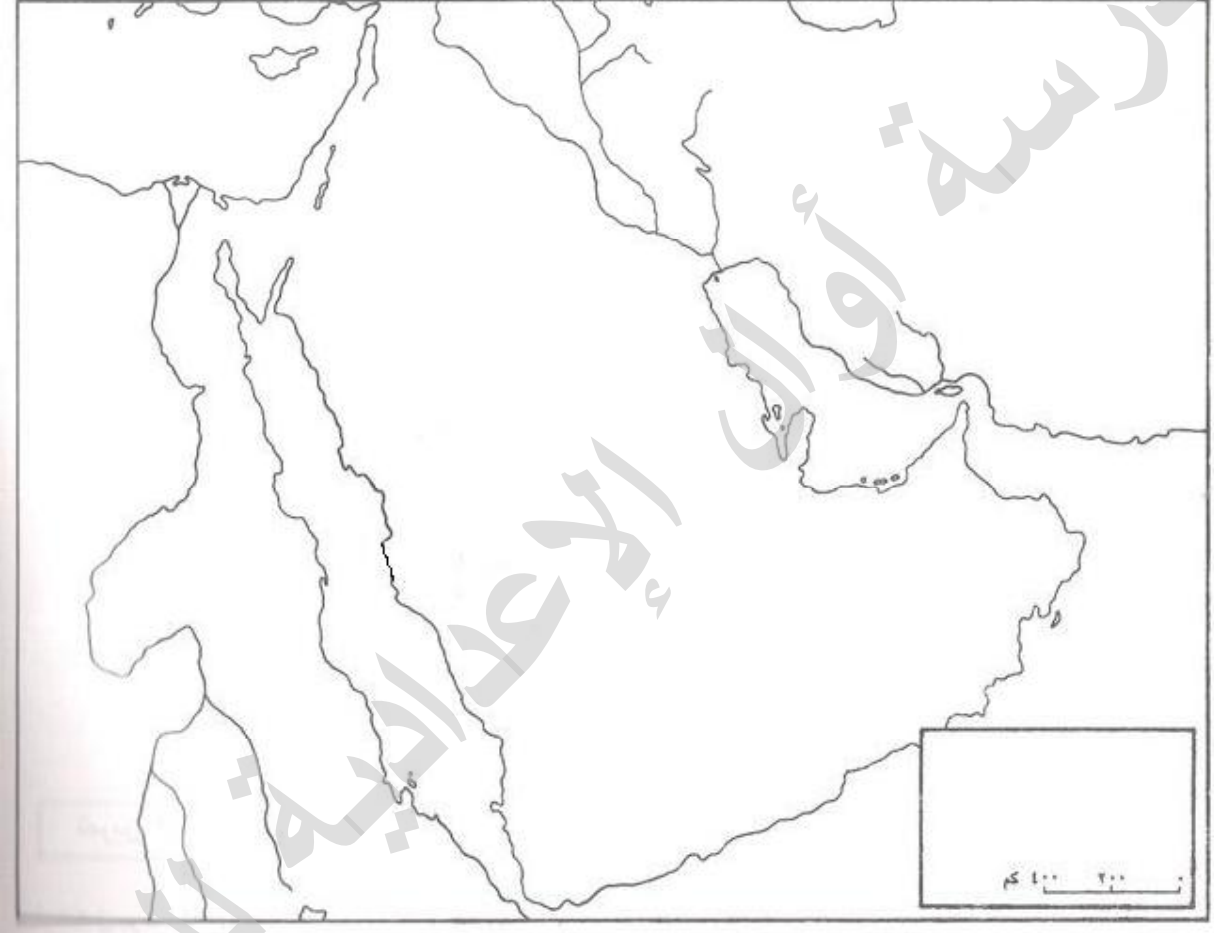
٣- قارن بين انجازات خلفاء عهد الاستقرار في الدولة الأموية؟

أهم الانجازات	الخليفة
- قضى على الثورات في الحجاز والشام والعراق. - أعاد توحيد الدولة وتنظيم شؤونها. - شن حملات على البيزنطيين في آسيا الصغرى وإفريقيا. - تعريب الدواوين. - إصدار عملة عربية. - بناء مسجد قبة الصخرة.	عبدالمك بن مروان
- فتحت الأندلس. - بناء الجامع الأموي والمسجد الأقصى. - استحدثت البيمارستان ودار الضيافة.	الوليد بن عبدالمك
- أوقف الفتوحات وانصرف لإصلاح شؤون الدولة. - أوقف امتيازات بني أمية. - استرد الأراضي التي بحوزتهم. - أسقط الجزية عن الداخلين في الإسلام.	عمر بن عبدالعزيز

السؤال الرابع: أجب عن الخريطة التالية:

اكتب على الخريطة أسماء المناطق والمعارك والظواهر الجغرافية التالية:

(الإمبراطورية الفارسية - الإمبراطورية البيزنطية - مكة المكرمة - المدينة المنورة - اليمامة - البحر الأحمر - الخليج العربي - البحر المتوسط - بحر العرب - معركة القادسية - معركة اليرموك - معركة نهاوند - معركة عقرباء - معركة ذات الصواري)



السؤال الخامس: استكمل الخط الزمني بكتابة ما يأتي:

أ- أسماء الخلفاء الراشدين بالترتيب من الأقدم إلى الأحدث في الفراغات داخل الخط الزمني.
ب- أهم الفتوحات في العهد الراشدي مستعيناً بالمعطيات الآتية:

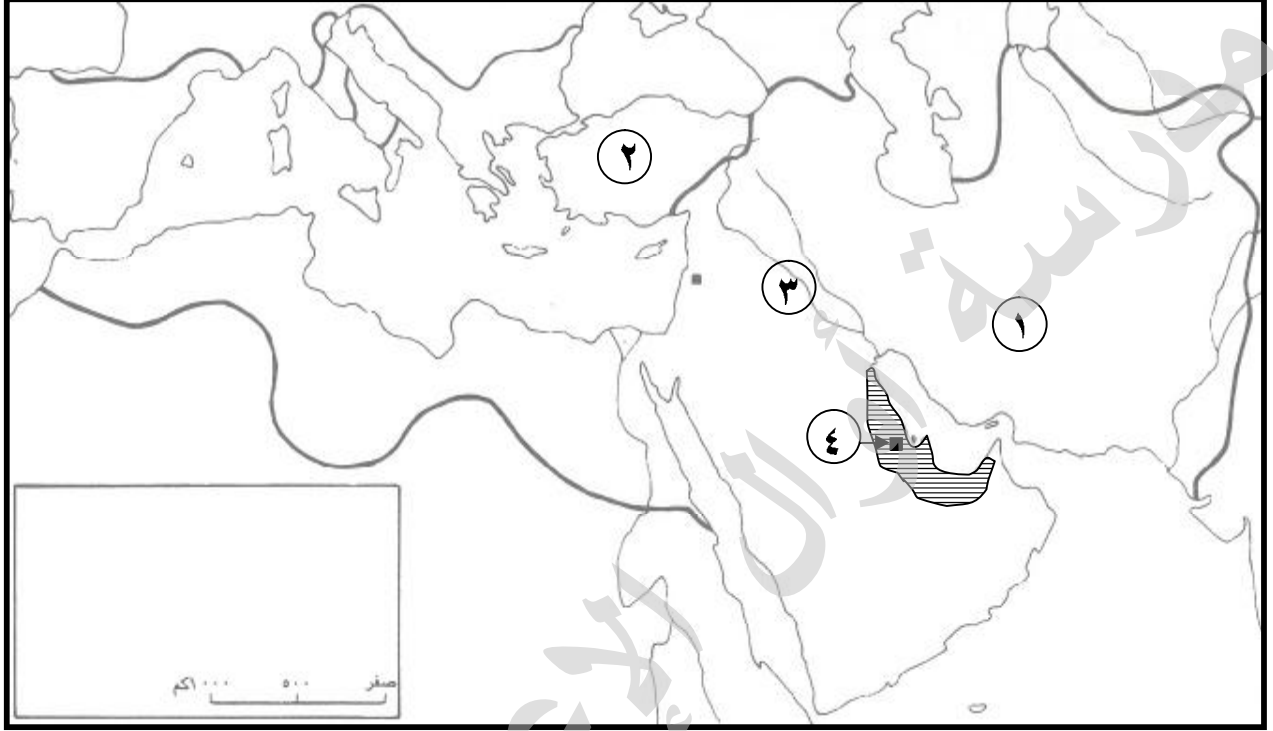
[فتح أرمينيا (٢٥ هـ)، فتح فارس ومصر (٢١ هـ)، فتح إفريقية (٢٧ هـ)، فتح الشام (١٥ هـ).

١١ هـ ١٣ هـ ٢٣ هـ ٣٥ هـ ٤٠ هـ

عهد الرسول (ص)	أبو بكر الصديق								
.....
.....
.....

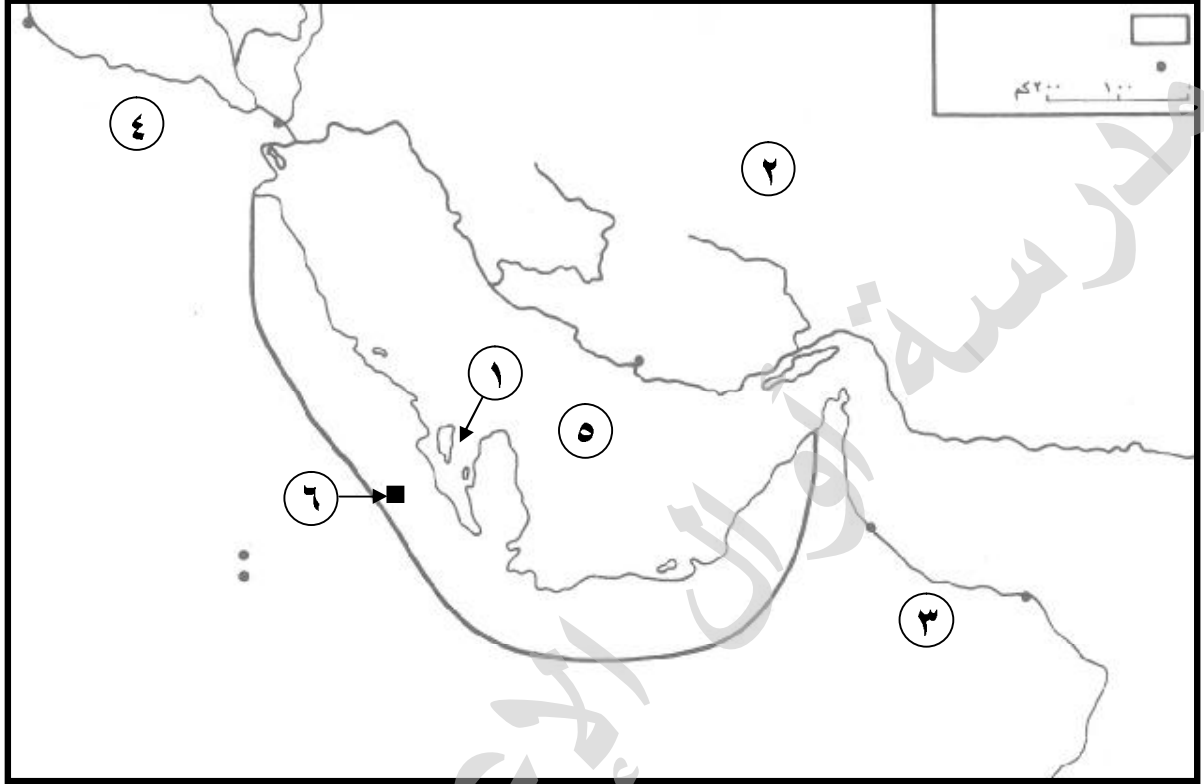
٣١ هـ (فتح قبرص)

السؤال السادس: أمامك خريطة صماء للدولة الإسلامية في العهد الأموي، أجب عن الأسئلة التي تليها:



- ١- الرقم (١) على الخريطة يشير إلى موقع إمبراطورية تسمى (الفارسية).
- ٢- الرقم (٢) على الخريطة يشير إلى موقع إمبراطورية تسمى (البيزنطية).
- ٣- الرقم (٣) على الخريطة يشير إلى موقع ثورة قامت ضد حكم يزيد بن معاوية تسمى (ثورة الكوفة).
- ٤- الرقم (٤) على الخريطة يشير إلى مدينة ارتدت عن الإسلام بعد وفاة الرسول (ص) تسمى (هجر).
- ٦- بالرمز # حدد على الخريطة موقع عاصمة الدولة الإسلامية في عهد الرسول (ص) .
- ٧- بالرمز § حدد على الخريطة موقع مكة المكرمة.
- ٨- بالرمز O حدد على الخريطة مواقع المعارك الآتية (١٠) - القادسية - ٢٠ - اليرموك - ٣٠ - نهاوند - ٤٠ - ذات الصواري - ٥٠ - سبيللة - ٦٠ - عقرباء - ٧٠ - وادي لكة).
- ١٠- اكتب في المكان المناسب الأسماء التالية [خراسان - شبه الجزيرة العربية - بلاد الشام - مصر - بحر العرب - الخليج العربي- بحر القلزم(الأحمر) - بحر الروم (المتوسط) - بحر قزوين - البحر الأسود- نهري دجلة والفرات - نهر النيل - نهر السند].
- ١١- ضع أسماء المدن التالية على الخريطة (القسطنطينية - عدن- هجر - كازمة - البصرة - الكوفة - الفسطاط - قرطبة - المدينة المنورة - مكة المكرمة - الفسطاط - أرمينيا - كرمان - تبوك - مؤتة).
- ١٢- الجزء المظلل على الخريطة يشير إلى [.....] قديماً.

السؤال السابع: أمامك خريطة صماء للبحرين قبل الإسلام، أجب عن الأسئلة التي تليها:



- ١- الرقم (١) على الخريطة يشير إلى جزيرة تسمى (أوال).
- ٢- الرقم (٢) على الخريطة يشير إلى موقع بلاد تسمى (فارس).
- ٣- الرقم (٣) على الخريطة يشير إلى موقع بلاد تسمى (عمان).
- ٤- الرقم (٤) على الخريطة يشير إلى موقع بلاد تسمى (الحيرة).
- ٥- الرقم (٥) على الخريطة يشير إلى موقع مسطح مائي يسمى (الخليج العربي).
- ٦- الرقم (٦) على الخريطة يشير إلى عاصمة البحرين قبل الإسلام وتسمى (هجر).
- ٧- بالرمز ● على الخريطة موقع الحواضر والمدن التالية: (الخط - دارين - العقير - هجر - جواثا - الإحساء - مسقط - اليمامة - عقرباء - كاظمة).
- ٨- اكتب في المكان المناسب اسمينهرى (دجلة-الفرات).
- ٩- بالرمز ■ ظل الجزء الذي يمثل ناحية البحرين قديماً.

مع تمنياتي لكم بالنجاح والتوفيق
إعداد: الأستاذ عبدالشهيد عبدالرضا