

تم تحميل هذا الملف من موقع المناهج البحرينية



* للحصول على أوراق عمل لجميع الصفوف وجميع المواد اضغط هنا

<https://almanahj.com/bh>

* للحصول على أوراق عمل لجميع مواد الصف السابع اضغط هنا

<https://almanahj.com/bh/7>

* للحصول على جميع أوراق الصف السابع في مادة اجتماعيات ولجميع الفصول, اضغط هنا

<https://almanahj.com/bh/7>

* للحصول على أوراق عمل لجميع مواد الصف السابع في مادة اجتماعيات الخاصة بـ اضغط هنا <https://almanahj.com/bh/7>

* لتحميل كتب جميع المواد في جميع الفصول للـ الصف السابع اضغط هنا

<https://almanahj.com/bh/grade7>

[almanahjbhbot/me.t//:https](https://t.me/almanahjbhbot)

للتحدث إلى بوت على تلغرام: اضغط هنا



12

قسوة الحرارة وندرة الأمطار وقلة الرطوبة جعلت منطقة الربع الخالي منطقة صحراوية شديدة الجفاف يسودها القحط* (1.5 نقطة)

صح

خطأ

13

تعتبر أغنى مناطق دول مجلس بالنبات الطبيعي وأخصبها من حيث التربة.* (1.5 نقطة)

المنطقة شبه الصحراوية

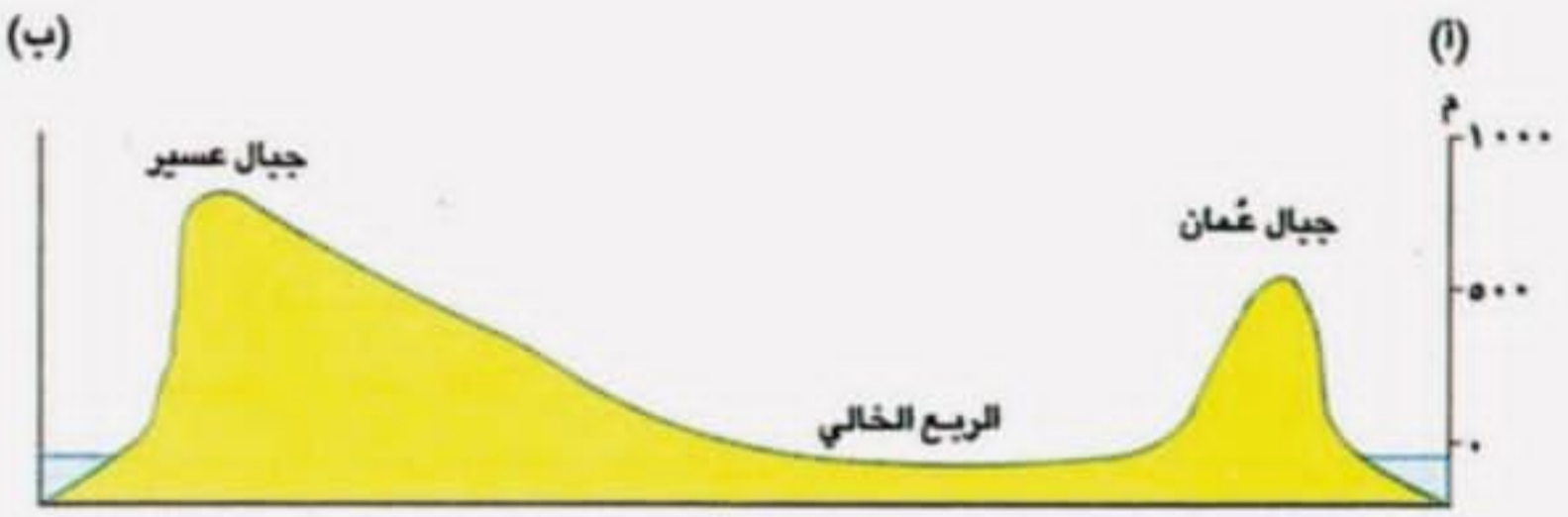
المنطقة الصحراوية

منطقة القحط



من خلال المقطع الطبوغرافي التالي : كم يبلغ ارتفاع جبال عمان؟ *

(1.5 نقطة)



1000 متر

500 متر

100 متر

21

لماذا تسلك السفن خطوطاً محددة في مياه الخليج العربي؟ *

(1.5 نقطة)

بسبب الملوحة المرتفعة للمياه

بسبب عمق المياه

بسبب ضحالة المياه





14

الأمطار التي تتساقط تقريباً بكميات ثابتة وفي الفترة نفسها
من كل عام تسمى بـ : *

(1.5 نقطة)

الأمطار غير منتظمة

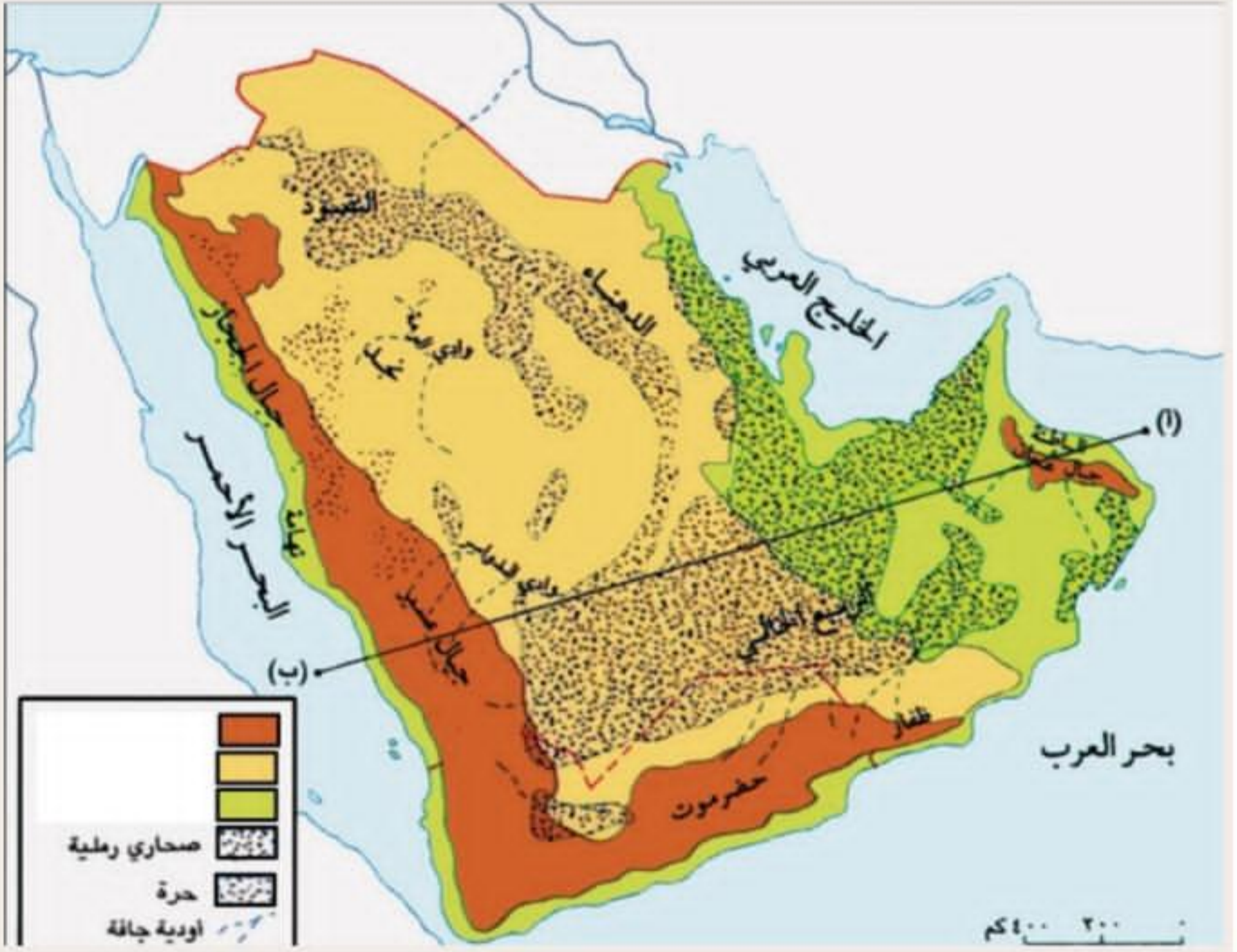
الأمطار الموسمية

الأمطار المنتظمة



5

من خلال الخريطة الطبيعية لشبه الجزيرة العربية ، ماذا يمثل اللون الاخضر على الخريطة؟ *
(1.5 نقطة)



حدد إجابتك

الجبال

الهضاب

السهول

من المياه. وتساهم في الحفاظ على الثروة المائية. *
(1.5 نقطة)

الري بالغمر 



forms.office.com

٤٤

10

يسمح جريان مياه السيول في الأودية الجافة بنمو بعض
النباتات حول مجاريها.*
(1.5 نقطة)

عبارة صحيحة

عبارة خاطئة



4

من خلال النص التالي ،حدد مميزات المياه الجوفية المتجددة القريبة من السطح في الخليج العربي؟* (1.5 نقطة)

٢- المياه الجوفية القريبة من السطح ثروة متجددة

المياه الجوفية القريبة من السطح هي المياه التي تتجمع في الطبقات العليا ويتراوح عمقها بين ٥ م و ١٠٠ م. وتُعرف هذه المياه بـ(المياه المتجددة)، لأنها تتغذى سنويًا من مياه الأمطار القليلة التي تتسرب إليها (مستند ٢). وتظهر هذه المياه أحيانًا على السطح بشكل ينابيع صغيرة، كما يتم الحصول عليها بحفر الأفلاج والآبار (مستند ٣ و٤ و٥ و٦). وهذا ما يساعد على نشوء الواحات التي تنتشر في مختلف مناطق دول المجلس.

وتتميز هذه المياه بعذوبتها. لذلك حفرت دول المجلس العديد من الآبار لاستخراجها وتوفير قسم من مياه الشرب للسكان.

مالحة

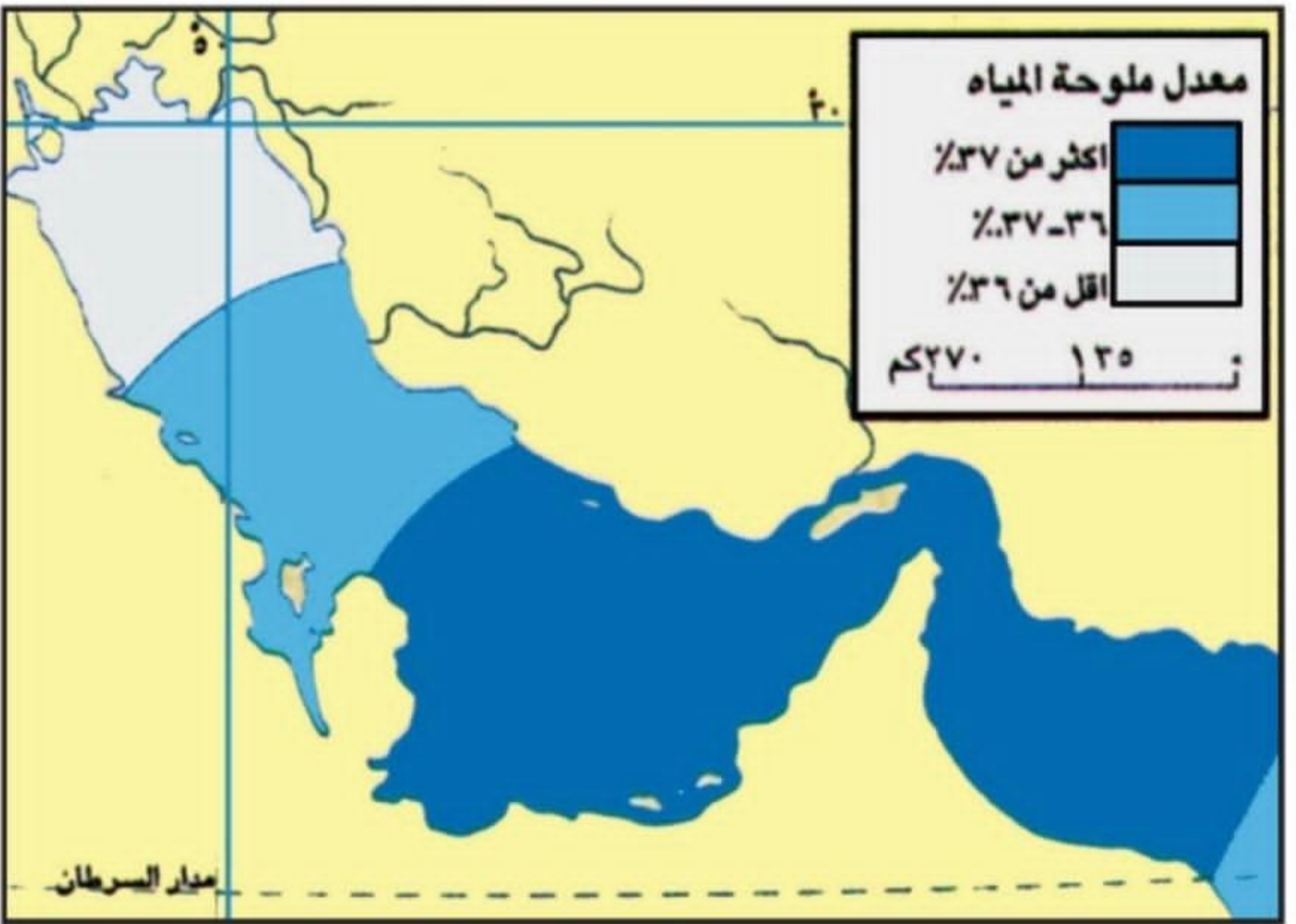
صالحة للشرب وعذبة

بها شوائب



15

انظر الى الخريطة ومفتاحها ثم حدد الجزء الأقل ملوحة في
مياه الخليج العربي.*
(1.5 نقطة)



مستند (٣) ملوحة مياه الخليج العربي

شمال مياه الخليج (اللون الأبيض)

جنوب مياه الخليج (اللون الازرق الداكن)



6

طريقة من طرق الري في الزراعة وهي توفر كميات كبيرة من المياه. وتساهم في الحفاظ على الثروة المائية.*
(1.5 نقطة)

الري بالغمر

الري بالتنقيط

7

صحح ما تحته خط في الجملة التالية: *
(1.5 نقطة)

تنتج دول مجلس التعاون الخليجي أكبر كمية في العالم من الحديد



حدد إجابتك

الذهب

الزئبق

النفط والغاز الطبيعي



18

استخرج من النص التالي مشكلتين تواجه المياه في دول الخليج العربي.*
(1.5 نقطة)

فاقت في العقود الأخيرة، نسبة استخراج المياه الجوفية المتجددة القريبة من السطح، نسبة ما يغذيها من مياه الأمطار. فتدنى منسوب مياهها، ونضب العديد من العيون والآبار. وتسربت المياه المالحة إلى طبقات المياه الجوفية في المناطق المجاورة للبحر، فتملحت مياه تلك الطبقات (مستند ٣ و ٥). كما أدى ازدياد الاستخراج من المياه الجوفية العميقة إلى انخفاض كبير في منسوبها، علماً أن هذه المياه غير متجددة.

كثرة العيون وعمق المياه

تملح المياه ونضوبها

19

يعتبر مضيق هرمز من أبرز المحطات التجارية على طريق التجارة بين الغرب و : *
(1.5 نقطة)

بريطانيا

البرتغال

الهند





16

تمتد سلسلة جبال عمان على شكل قوس عريض يتصل من رأس مسندم شمالاً حتى رأس الحد جنوباً* (1.5 نقطة)

عبارة صحيحة

عبارة خاطئة

17

من خلال النص الذي امامك. في أي زمن جيولوجي تجمعت المياه الجوفية العميقة في دول المجلس؟* (1.5 نقطة)

المياه الجوفية العميقة هي المياه التي تجمعت في الطبقات العميقة يوم كان المناخ كثير الأمطار سائداً في منطقة دول المجلس، خلال الزمن الجيولوجي الرابع (قبل ١٠ آلاف سنة) (مستند ١). كميات هذه المياه كبيرة جداً (مستند ٢)، غير أنها لا تتغذى من أي مصدر مائي. لذلك توصف بأنها غير متجددة.

الزمن الجيولوجي الثاني

الزمن الجيولوجي الثالث

الزمن الجيولوجي الرابع





11

من خلال دراستك لموضوع الثروة النفطية ومزاياها, والاعتماد على الخريطة المرفقة حدد المنطقة مناطق تجمع النفط في شبه الجزيرة العربية؟ *
(1.5 نقطة)



مستند (٧) مناطق تجمع النفط

المنطقة الشمالية

المنطقة الشرقية

المنطقة الجنوبية



أي من الآتي يعتبر من مميزات نفط دول مجلس التعاون
الخليجي؟*
(1.5 نقطة)



حدد إجابتك

سهولة استخراجة

قصر عمر الاحتياطي منه

بعد حقول النفط من موانئ التصدير

يتم إنشاء هذا المحتوى بواسطة مالك النموذج. سيتم إرسال البيانات التي ترسلها إلى مالك النموذج. Microsoft غير مسؤولة عن ممارسات الأمان والخصوصية لعملائها، بما في ذلك ممارسات مالك هذا النموذج. لا تفصح أبداً عن كلمة مرورك.

يتم التشغيل بواسطة Microsoft Forms | الخصوصية وملفات تعريف الارتباط | شروط الاستخدام





يعتبر البرتغاليون هم أول الأوروبيين الذين حققوا لهم نفوذاً
استعماريًا في منطقة الخليج وذلك في عام: *

(1.5 نقطة)



حدد إجابتك

1514م

1515م

1516م

*

(1.5 نقطة)



مستند (١) خريطة دول مجلس التعاون السياسية

جنوب شرق قارة اسيا

شمال غرب افريقيا

جنوب غرب قارة اسيا

