

تم تحميل هذا الملف من موقع المناهج البحرينية



كراسة الاجتماعيات والتربية للمواطنة

موقع المناهج ← المناهج البحرينية ← الصف السابع ← المواد الاجتماعية ← الفصل الأول ← ملفات متنوعة ← الملف

تاريخ إضافة الملف على موقع المناهج: 2024-10-22 10:54:24

ملفات اكتب للمعلم اكتب للطالب الاختبارات الكترونية | اختبارات | حلول | عروض بوربوينت | أوراق عمل
منهج انجليزي | ملخصات وتقارير | مذكرات وبنوك | الامتحان النهائي للمدرس

المزيد من مادة
المواد
الاجتماعية:

التواصل الاجتماعي بحسب الصف السابع



صفحة المناهج
البحرينية على
فيسبوك

الرياضيات

اللغة الانجليزية

اللغة العربية

التربية الاسلامية

المواد على تلغرام

المزيد من الملفات بحسب الصف السابع والمادة المواد الاجتماعية في الفصل الأول

المذكرة الذهبية في المواد الاجتماعية

1

مذكرة الاجتماعيات

2

المذكرة الذهبية للمواد الاجتماعية

3

ملخص الاختبار الأول

4

اهم الشخصيات التاريخية

5

KINGDOM OF BAHRAIN

Ministry of Education

JedHafs Intermediate Boys School



مملكة البحرين
وزارة التربية والتعليم
مدرسة جدحفص الإعدادية للبنين

[كراسة الأنشطة والتدريبات]

للمواد الاجتماعية

للمصف الأول الإعدادي

الفصل الدراسي الأول 2024-2025



صورة
الطالب

اسم الطالب

الرقم التسلسلي

المصف: الأول الإعدادي

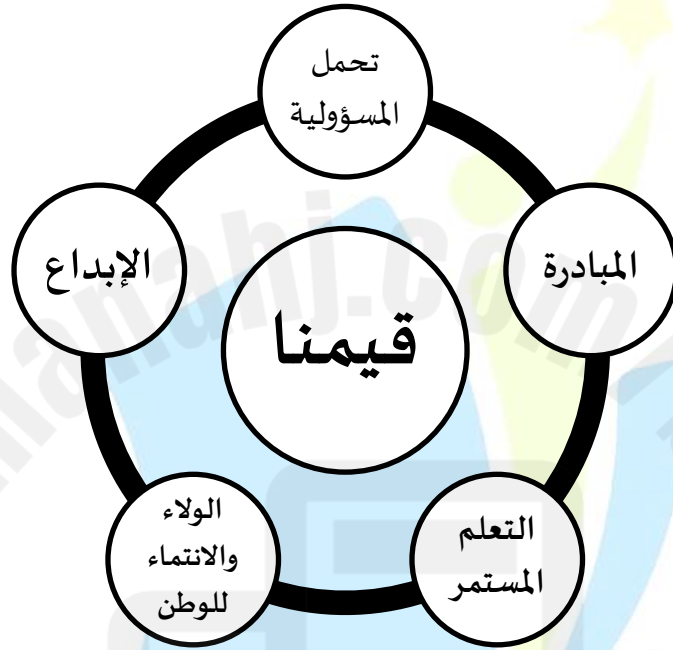
الكتاب المدرسي هو الأساس والمصدر الرئيس للمعلومات

قسم المواد الاجتماعية والمواطنة ©

”رؤيتنا: (إعداد جيل ملتزم متقن، بحريني الهوية).“

رسالتنا

نحن في مدرسة جدحفص الإعدادية للبنين نسعى لتوفير بيئة تعليمية آمنة ومحفزة للطلاب وتوظيف تقنيات حديثة واستراتيجيات تعليم وتعلم فاعلة من أجل إعداد طلاب يشعرون بالأمن والثقة في التعلم ويلتزمون بقيم الدين والمواطنة.



اتفاقية بين الطالب والمعلم



الطرف الثاني: الطالب

- أتعهد أنا الطالب:
- 1- المحافظة على النظام.
 - 2- احترام معلمي وزملائي داخل الصف.
 - 3- المحافظة على نظافتي ونظافة الصف.
 - 4- التعاون مع زملائي.
 - 5- الاستماع والإنصات لشرح المعلم.
 - 6- الإستئذان قبل بدء أي عمل داخل الصف.
 - 7- أن ألتزم بما تعهدت لأصل لأعلى الدرجات.

الطرف الأول: المعلم

- 1- أتعهد ان أكون نعم الأب والمربي والمعلم الذي يسعى لتفهم الظروف.
- 2- أحاول جاهداً في رفع المستوى التحصيلي والسلوكي للطلاب.
- 3- ألتزم بالاستعداد الجيد للتدريس ومواكبة التكنولوجيا وإدخال أدوات التمكين الرقمي في التعليم.

المحتويات

3	جدول المبادرات
4	الدروس المطلوبة في الفصل الدراسي الأول للصف الأول الإعدادي 2024 – 2025
5	استمارة متابعة أعمال الطالب
8	الدرس (7) الموقع وأهميته
12	الدرس (9) توزع التضاريس ومميزاتها
16	الدرس (10) – أبعاد الخليج العربي وخصائص مياهه
20	الدرس (12) الثروة النفطية ومزاياها
24	الدرس (13) المناطق المناخية الصحراوية وخصائصها
28	الدرس (15) تنمية الموارد المائية
31	تمارين وأسئلة حول الطبيعة في دول المجلس
36	مهارة الرسم البياني لزيادة عدد السكان
40	الدرس (17) الخصائص السكانية
44	الدرس (18): التنمية البشرية
47	تمارين وأسئلة حول السكان في دول المجلس
52	الدرس (20): التنمية الاقتصادية
56	الدرس (21) جهود التنمية الزراعية
60	الدرس (22) نتائج التنمية الزراعية
64	الدرس (24) أنواع الصناعات التحويلية والعوائق التي تعترضها
68	الدرس (25) اتجاهات الحركة التجارية
72	الدرس (27) مجلس التعاون لدول الخليج العربية
75	تمارين وأسئلة حول الاقتصاد في دول المجلس
78	التربية للمواطنة
80	الدرس الأول: المجتمع البحريني (1) عناصر المجتمع البحريني وسماته
84	الدرس الثاني: المجتمع البحريني (2) التطور المجتمعي في مملكة البحرين
88	الدرس الثالث: الدولة الحديثة في مملكة البحرين
92	الدرس الرابع: الملك حمد بن عيسى آل خليفة - (1) ولاية العهد والسنوات الأولى في الحكم

جدول المبادرات

المبادرات				رقم الدرس	عنوان الدرس
رسم بياني	معلومات من مصدر معين	لصق صور	رسم خريطة		
			ارسم خريطة دول المجلس ص 32	7	الموقع وأهميته
		صور لأهم جبال وهضاب دول المجلس		9	توزع التضاريس
	رحلة ميدانية الى أحد الشواطئ			10	أبعاد الخليج العربي
	أول بئر نبط في البحرين			12	الثروة النفطية
	صحراء الربع الخالي			13	المناطق الصحراوية
		صور تحت على الاستغلال الأمثل للماء		15	تنمية الموارد المائية
رسم بياني للزيادة السكانية				مهارة	مهارة الرسم البياني لزيادة السكان
			ارسم الخريطة صفحة 61 مستند رقم 4	17	الخصائص السكانية
	البحث عن جهود البحرين لمكافحة البعوض			18	التنمية البشرية
		صور لمهن قديمة وحديثة		20	التنمية الاقتصادية
	الزراعة المحمية			21	جهود التنمية الزراعية
		صور لأهم المنتجات الزراعية		22	نتائج التنمية الزراعية
			خريطة توزع الصناعات في دول المجلس صفحة 76 مستند 1	24	أنواع الصناعات
		صور لأهم صادرات وواردات دول المجلس		25	الحركة التجارية
	حكام دول المجلس			27	مجلس التعاون

الدروس المطلوبة في الفصل الدراسي الأول للصف الأول الإعدادي 2024 – 2025

المادة	الدرس	العنوان	الملاحظات	التوقع
المواد الاجتماعية	7	الموقع وأهميته		
	9	توزع التضاريس		
	10	ابعاد الخليج العربي		
	12	الثروة النفطية		
	13	المناطق الصحراوية		
	15	تنمية الموارد المائية		
	-	مهارة الرسم البياني لزيادة عدد السكان		
	17	الخصائص السكانية		
	18	التنمية البشرية		
	20	التنمية الاقتصادية		
	21	جهود التنمية الزراعية		
	22	نتائج التنمية الزراعية		
	24	أنواع الصناعات		
	25	الحركة التجارية		
27	مجلس التعاون			
المواطنة	الأول	عناصر المجتمع		
	الثاني	التطور المجتمعي		
	الثالث	الدولة الحديثة		
	الرابع	الملك حمد - ولاية العهد		

استمارة متابعة أعمال الطالب

تقييم الدفتر والأنشطة والتدريبات

التقييم والتغذية الراجعة				البند
<input type="checkbox"/> المظهر العام	<input type="checkbox"/> وضوح الخط	<input type="checkbox"/> عدم وضوح الخط	<input type="checkbox"/> الدفتر منظم ومرتب	<input type="checkbox"/> الدفتر غير مرتب
السرعة والإنجاز	<input type="checkbox"/> إنجاز الأنشطة في الوقت	<input type="checkbox"/> توجد أنشطة ناقصة	<input type="checkbox"/> التأخر في إنجاز الأنشطة	
الدقة والإتقان	<input type="checkbox"/> إجاباتك دقيقة	<input type="checkbox"/> إجاباتك غير دقيقة	<input type="checkbox"/> اعتمد على نفسك في الإجابة	
ملاحظات أخرى	<input type="checkbox"/> دفترك رائع ومميز	<input type="checkbox"/> اهتم أكثر بكراستك	<input type="checkbox"/> عدم كتابة التاريخ لكل درس	
الدَّرَجَة	التَّارِيخ	توقيع ولي الأمر وملاحظاته		
<input type="checkbox"/> المظهر العام	<input type="checkbox"/> وضوح الخط	<input type="checkbox"/> عدم وضوح الخط	<input type="checkbox"/> الدفتر منظم ومرتب	<input type="checkbox"/> الدفتر غير مرتب
السرعة والإنجاز	<input type="checkbox"/> إنجاز الأنشطة في الوقت	<input type="checkbox"/> توجد أنشطة ناقصة	<input type="checkbox"/> التأخر في إنجاز الأنشطة	
الدقة والإتقان	<input type="checkbox"/> إجاباتك دقيقة	<input type="checkbox"/> إجاباتك غير دقيقة	<input type="checkbox"/> اعتمد على نفسك في الإجابة	
ملاحظات أخرى	<input type="checkbox"/> دفترك رائع ومميز	<input type="checkbox"/> اهتم أكثر بكراستك	<input type="checkbox"/> عدم كتابة التاريخ لكل درس	
الدَّرَجَة	التَّارِيخ	توقيع ولي الأمر وملاحظاته		
<input type="checkbox"/> المظهر العام	<input type="checkbox"/> وضوح الخط	<input type="checkbox"/> عدم وضوح الخط	<input type="checkbox"/> الدفتر منظم ومرتب	<input type="checkbox"/> الدفتر غير مرتب
السرعة والإنجاز	<input type="checkbox"/> إنجاز الأنشطة في الوقت	<input type="checkbox"/> توجد أنشطة ناقصة	<input type="checkbox"/> التأخر في إنجاز الأنشطة	
الدقة والإتقان	<input type="checkbox"/> إجاباتك دقيقة	<input type="checkbox"/> إجاباتك غير دقيقة	<input type="checkbox"/> اعتمد على نفسك في الإجابة	
ملاحظات أخرى	<input type="checkbox"/> دفترك رائع ومميز	<input type="checkbox"/> اهتم أكثر بكراستك	<input type="checkbox"/> عدم كتابة التاريخ لكل درس	
الدَّرَجَة	التَّارِيخ	توقيع ولي الأمر وملاحظاته		

استمارة متابعة أعمال الطالب

■ التّطبيقات والاختبارات

الدّرجة	التّاريخ	الاختبار

الدّرجة	التّاريخ	التّطبيق

توقيع ولي الأمر وملاحظاته

■ المهام والمشاريع

المرفقات	عنوان الدّرس	المشروع	
QR code		<input type="checkbox"/> تلخيص كتاب	<input type="checkbox"/> تقديم درس
		<input type="checkbox"/> خريطة مفاهيمية	<input type="checkbox"/> مقطع تمثيلي

التقييم

الدرجة الكلية	أسلوب العرض	المادة العلمية	الالتزام بالوقت

■ ملاحظات عامّة:

.....

.....

.....

.....

مبادراتي

-الدرس الأول: ارسم خريطة دول المجلس ص 32.

Blank lined area for drawing a map of the Gulf Council countries.

تدريبية جدحفص الإعدادية للبنين
Jidha's Intermediate Boys School

الدرس (7) الموقع وأهميته

ص {33}

الهدف الأول: حدد موقع دول مجلس التعاون فلكياً وجغرافياً

السؤال الأول: حدد موقع دول المجلس فلكياً:

تقع دول المجلس بين خطي الطول 34 و59 غرينتش. وبين دائرتي عرض 15 و32
خط الاستواء.

السؤال الثاني: - حدد موقع دول المجلس جغرافياً:

تقع دول المجلس بالنسبة لقارة آسيا:

تقع بالنسبة للعالم الإسلامي:

الهدف الثاني: وضح أهمية موقع دول المجلس التعاون الخليجي قديما

السؤال الأول اذكر السبب: -

1- لعبت الطرق التجارية في شبه الجزيرة العربية بين الهند وبلاد ما بين النهرين وبلاد الشام دور رئيسي منذ القدم.

.....

2- تعززت مكانة الخليج العربي التجارية مع الفتوحات الإسلامية.

.....

3- بعد اكتشاف النفط زادت أهمية منطقة الخليج العربي.

.....

.....

الهدف الثالث: استخلص اهم الدول والمسطحات المائية المجاورة لدول المجلس

**السؤال الأول - الدول المجاورة لدول المجلس:**

في الشمال: و

في الشرق:

في الجنوب:

السؤال الثاني - المسطحات المائية المجاورة لدول المجلس:

في الشرق:

في الغرب:

في الجنوب:

قم برسم خريطة دول مجلس التعاون وتحديد مواقع كل من:

1. كتابة أسماء دول مجلس التعاون على الخريطة.
2. رسم خط للمحطات التجارية الرئيسية التي تمر على دول المجلس:
 - أ- الخليج العربي.
 - ب- عسير والحجاز.
 - ج- البحر الأحمر.

2025

2024

موقع المناهج البحرينية

- اكتسب موقع الخليج العربي أهمية كبرى باعتباره من أهم مصادر الطاقة (النفط)، وايضا من أهم الطرق الحيوية للتجارة العالمية. برأيك أيهم تمثل الأهمية الأكبر (الموقع او النفط) ولماذا؟

برأيي.....

.....

.....

.....

.....



2025

تأسست عام ١٩٥٤

2024

مدرسة جدحفص الإعدادية للبنين

الوصف	<input type="checkbox"/> أتقنت العمل بطريقة منظمة	<input type="checkbox"/> أتقنت بعض العمل	<input type="checkbox"/> لم تحقق الإنجاز المطلوب
النتيجة			
التعزيز	<input type="checkbox"/> أحسنت مجهود رائع ومميز	<input type="checkbox"/> أشكرك على المحاولة وثق بك لبذل المزيد	<input type="checkbox"/> تحتاج الى مزيد من بذل الجهد والمثابرة
الدعم	<input type="checkbox"/> لإثراء أفكارك إستعن بمصادر خارجية (الانترنت - مصادر التعلم)	<input type="checkbox"/> لتكن إجابتك دقيقة راجع الكتاب ص	<input type="checkbox"/> إستعن بزميلك لإنجاز العمل المطلوب



-الدرس التاسع: صور لأهم جبال وهضاب دول المجلس

Handwriting practice area with horizontal dashed lines. A large watermark is visible in the center, featuring a stylized figure holding a star and the text 'Almanahj.com' and 'Jidha' Intermediate Boys' School'.

الدرس (9) توزيع التضاريس ومميزاتها

ص 37

الهدف الأول: التعرف على موقع جبال عمان

أولاً: اختر الإجابة الصحيحة من بين الإجابات الخاطئة فيما يأتي:

1. تفصل جبال عمان سهل الباطنة الخصبة عن صحراء:

أ- نجد ب. الكبرى ج. الربع الخالي د. الغربية

2. تمتد سلسلة جبال عمان على شكل:

أ. قوس ب. مربع ج. مثلث د. القطبية

3. تشرف سلسلة جبال عمان من الجهة الشرقية على:

أ- البحر الأحمر ب. الربع الخالي ج. الجبال الغربية د. سهل الباطنة

4. تشرف سلسلة جبال عمان من الجهة الغربية على:

أ- جبال عسير ب. الربع الخالي ج. الخليج العربي د. العراق

الهدف الثاني: التمييز بين منطقتين من المنبسط الشرقي

السؤال الأول اذكر السبب:-

1-قحالة منطقة الربع الخالي.

.....

2- نمو بعض المزروعات في المنطقة الممتدة شمال الربع الخالي من المنبسط الشرقي.

.....

3- يضم المنبسط الشرقي عدداً كبيراً من المدن.

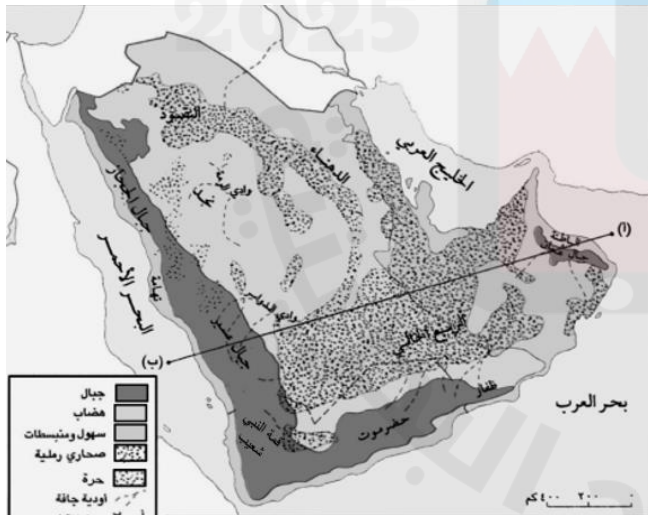
.....

الهدف الثالث: مقارنة بين هضاب المنطقة الشرقية والغربية

السؤال الأول: قارن بين هضاب المنطقة الشرقية والغربية من حيث (الموقع - نوع الصخور - الشكل - وأهم مناطقها)

الموقع	نوع الصخور	الشكل	أهم مناطقها
الهضاب الشرقية			
الهضاب الغربية			

الهدف الرابع: استخرج من الخريطة اقسام الجبال الغربية



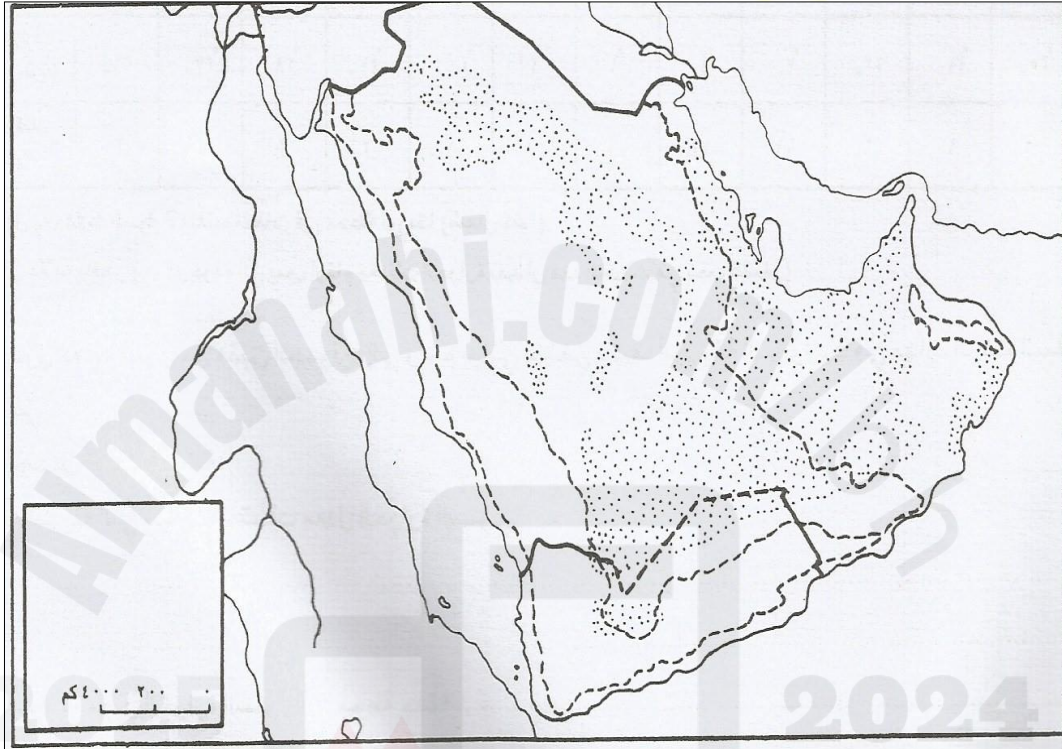
السؤال الأول - مستعيناً بالخريطة أمامك، استخرج منها:

- أقسام الجبال من الشمال إلى الجنوب.
أولها من الشمال تليها
عند في اليمن فجبال
وتنتهي بجبال في عمان.
- تنحدر سلسلة الجبال الغربية بشكل عمودي ومفاجئ لتواجه من الجهة الغرب، وتتداخل من جهة الشرق مع:
- الغربية.....
- الشرقية.....

3- السهل الضيق الذي يحاذي البحر الأحمر والذي تشرف عليه هذه السلسلة من جهة الغربية:

مستعينا بالمستند رقم (2) صفحة (36) من الكتاب المدرسي أجب على الأسئلة التالية

- أ- لون بالأخضر مناطق السهول والمنبسطات.
 ب- لون بالأصفر مناطق الهضاب.
 ت- لون بالبني مناطق الجبال.
 ث- ضع علامة (+) عند موقع مضيق هرمز.
 ج- صمم مفتاحاً للخريطة.



مدرسة جدحفص الإعدادية للبنين
 Jidha's Intermediate Boys' School

الوصف	<input type="checkbox"/> أتقنت العمل بطريقة منظمة	<input type="checkbox"/> أتقنت بعض العمل	<input type="checkbox"/> لم تحقق الإنجاز المطلوب
النتيجة			
التعزيز	<input type="checkbox"/> أحسنت مجهود رائع ومميز	<input type="checkbox"/> أشكرك على المحاولة وثق بك لبذل المزيد	<input type="checkbox"/> تحتاج الى مزيد من بذل الجهد والمثابرة
الدعم	<input type="checkbox"/> لإثراء أفكارك إستعن بمصادر خارجية (الانترنت - مصادر التعلم)	<input type="checkbox"/> لتكن إجابتك دقيقة راجع الكتاب ص	<input type="checkbox"/> إستعن بزميلك لإنجاز العمل المطلوب

مبادراتي

-الدرس العاشر: أكتب تقريراً عن رحلة ميدانية إلى أحد الشواطئ في المملكة.

الهدف الثالث: ينفذ الطالب زيارة إلى أحد الشواطئ ويدون ما يلاحظه

قم بعمل رحلة ميدانية إلى أحد الشواطئ القريبة منك، ودون ما تلاحظه ومعززة بالصور:

- 1- اوصف سرعة الرياح.
- 2- كيف ترى ارتفاع الأمواج.
- 3- هل حركة المد والجزر واضحة.
- 4- صور للشاطئ.

.....

.....

.....

.....

.....

قم بإصاق صور للشاطئ الذي قمت بزيارته

الدرس (10) – أبعاد الخليج العربي وخصائص مياهه

ص 39

الهدف الأول: التعرف على خصائص مياه الخليج العربي

أولاً: املأ الفراغ في الجمل التالية بما يناسبها من القائمة:

(مضيق هرمز - 1000 كلم - 250 كلم - خليج عمان - 234 كلم - مضيق باب المندب - قلة عمقه - غزارة عمقه)

تبلغ مساحة الخليج العربي حوالي وطوله حوالي

ويتميز الخليج العربي ب..... ويصل عمق الخليج العربي إلى اقصى عمق (حوالي 120 م)

عند بينما تزداد الأعماق بصورة مفاجئة في

ثانياً: اختر من العمود (ب) الإجابات المناسبة المبنية في العمود (أ) ، ثم أكتب الحرف الدال على الإجابة الصحيحة في المكان

المخصص له :

العمود (ب)	الإجابة	العمود (أ)
أ- إيجابيات ضحالة مياه الخليج العربي.	1- تسلك السفن خطوطاً محددة لتجنب الاصطدام بالقاع
ب- أشباه الجزر.	2- لسان بحري ضيق يتوغل بعيداً داخل اليابسة.
ج- سلبيات ضحالة مياه الخليج العربي.	3- نفاذ اشعة الشمس الى اعماقه يسمح بنمو النباتات.
د- الخور.	4- محاط بالماء من ثلاث جهات ويتصل باليابسة عن طريق برزخ.

الهدف الثاني: يفسر أسباب ارتفاع وانخفاض مياه وملوحة الخليج العربي

أولاً: فسر ما يأتي: -

1- انخفاض درجة حرارة مياه الخليج العربي من الجنوب والشمال.

.....

.....

2- ملوحة مياه الخليج العربي إجمالاً.

.....

3- انخفاض ملوحة مياه الخليج العربي تدريجياً من الشمال إلى الجنوب.

.....

.....

.....

2025

تأسست عام ١٩٥٤

2024

مدرسة جدحفص الإعدادية للبنين

Jidhaf's Intermediate Boys' School

الوصف	<input type="checkbox"/> أتقنت العمل بطريقة منظمة	<input type="checkbox"/> أتقنت بعض العمل	<input type="checkbox"/> لم تحقق الإنجاز المطلوب
النتيجة			
التعزيز	<input type="checkbox"/> أحسنت مجهود رائع ومميز	<input type="checkbox"/> أشكرك على المحاولة ونثق بك لبذل المزيد	<input type="checkbox"/> تحتاج إلى مزيد من بذل الجهد والمثابرة
الدعم	<input type="checkbox"/> لإثراء أفكارك إستعن بمصادر خارجية (الانترنت - مصادر التعلم)	<input type="checkbox"/> لتكن إجابتك دقيقة راجع الكتاب ص	<input type="checkbox"/> إستعن بزميلك لإنجاز العمل المطلوب





-الدرس الثاني عشر: الثروة النفطية اكتب تقريراً مدعماً بالصور عن أول بئر نفط في البحرين

Almanahi.com

2025 2024

تدريبية جدحفص الإعدادية للبنين
Jidha's Intermediate Boys School

وقع المناهج البنين

الدرس (12) الثروة النفطية ومزاياها

ص 43

الهدف الأول: التعرف على مناطق تركيز النفط في دول المجلس.

أولاً: ضع علامة (√) يمين العبارة الصحيحة ، وعلامة (×) يمين العبارة الخاطئة:

1. () يتكون النفط من بقايا مائية وصخور تجمعت داخل الطبقات الرسوبية السمكية.
2. () يتركز وجود النفط والغاز الطبيعي في المناطق الشرقية لدول مجلس التعاون.
3. () يعتبر حقل الغوار النفطي في السعودية من أكبر حقول النفط في العالم.
4. () حقل الجنوب في قطر من أكبر حقول الغاز الطبيعي في العالم.

الهدف الثاني: أن يستنتج كمية الإنتاج والمخزون من بترول وغاز طبيعي

أكمل الجدول التالي:

- نسب الاحتياطي والإنتاج من النفط والغاز الطبيعي لدول مجلس التعاون مقارنة بدول العالم كالتالي:

الاحتياطي والإنتاج	النسبة في دول مجلس التعاون مقارنة بدول العالم
احتياطي النفط	يقدر احتياطي دول مجلس من النفط بحوالي تأتي السعودية في المرتبة عالمياً من حيث احتياطي النفط 17,8%
احتياطي الغاز الطبيعي
إنتاج النفط	وتأتي في المرتبة الأولى من حيث الإنتاج.
إنتاج الغاز الطبيعي
استهلاك النفط والغاز الطبيعي

الهدف الثالث: أن يعدد أهم مزايا النفط في دول مجلس التعاون.

ما المزايا التي تتمتع بها الثروة النفطية في دول المجلس؟

- 1- سهولة استخراجها بسبب: أ- ب-
- 2-
- 3-
- 4-
- 5- وجوده بين المنطقتان الأكثر استهلاكاً واستيراداً للنفط في العالم وهما اليابان وجنوب شرق آسيا وبين دول أوروبا من جهة أخرى.

الوصف	<input type="checkbox"/> أتقنت العمل بطريقة منظمة	<input type="checkbox"/> أتقنت بعض العمل	<input type="checkbox"/> لم تحقق الإنجاز المطلوب
النتيجة			
التعزيز	<input type="checkbox"/> أحسنت مجهود رائع ومميز	<input type="checkbox"/> أشكرك على المحاولة وثق بك لبذل المزيد	<input type="checkbox"/> تحتاج الى مزيد من بذل الجهد والمثابرة
الدعم	<input type="checkbox"/> لإثراء أفكارك إستعن بمصادر خارجية (الانترنت - مصادر التعلم)	<input type="checkbox"/> لتكن إجابتك دقيقة راجع الكتاب ص	<input type="checkbox"/> إستعن بزميلك لإنجاز العمل المطلوب





-الدرس الثالث عشر (المناطق الصحراوية) مدعماً بالصور اكتب معلومات عن صحراء الربع الخالي.

Almanah.com

2025 2024

تدريبية جدحفص الإعدادية للبنين
Jidha's Intermediate Boys School

وقع المناهج البنين

الدرس (13) المناطق المناخية الصحراوية وخصائصها

ص 47

الهدف الأول: تحديد العوامل المؤثرة على مناخ دول المجلس

أولاً: ضع علامة (√) يمين العبارة الصحيحة ، وعلامة (×) يمين العبارة الخاطئة:

1. () يتسم مناخ دول مجلس التعاون بكونه صحراوي بارد.
2. () الامطار المنتظمة تتساقط تقريباً بكميات ثابتة وفي الفترة نفسها من كل سنة.
3. () يتميز مناخ دول مجلس التعاون بقلة الامطار.
4. () الأمطار المنتظمة التي تشهد تفاوتاً في كمياتها وفي الفترة التي تتساقط فيها بين سنة وأخرى.

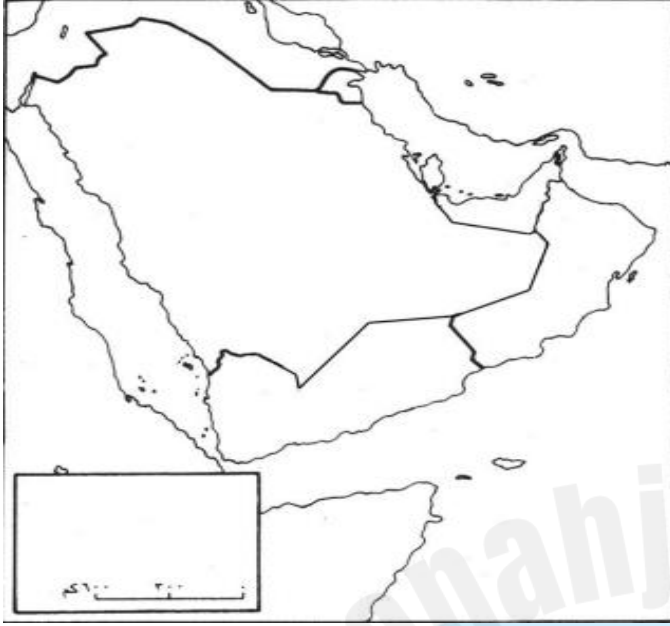
ثانياً: ضع دائرة حول العوامل المؤثرة على مناخ دول مجلس التعاون:

- 1-القرب من المناخ المتوسطي.
- 2- ارتفاع الهضاب على الأطراف.
- 3-وجود المسطحات المائية حولها.
- 4- القرب من المناخ القطبي.
- 5- القرب من المناخ الموسمي جنوباً.
- 6-ارتفاع الجبال على أطرافها.

الهدف الثاني: يقارن بين المناطق المناخية في دول المجلس.

القحط	الصحراوية	شبه صحراوية	
.....	الموقع
.....	درجة الحرارة
.....	الامطار
.....	الرطوبة

الهدف الثالث: تنفيذ المناطق المناخية لدول المجلس على الخريطة.

أولاً: تنفيذ خريطة المناطق المناخية في دول المجلس:على الخريطة الصماء إلى يسارك:

.....

- ضع الكلمات التالية في الأماكن المناسبة: الخليج العربي - البحر الأحمر - خليج عمان - بحر العرب.
- لَوْن بالأخضر مناطق الشبه صحراوية.
- لَوْن بالأصفر مناطق الصحراوية.
- لَوْن بالبني مناطق القحط.
- أشر بسهم اتجاه الرياح المتوسطة شتاء والموسمية صيفاً.
- صمم مفتاحاً للخريطة.
- أشر بسهم الى اتجاه الشمال.
- أعط عنواناً للخريطة واكتبه في أسفل الإطار.

2025

تأسست عام ١٩٥٤

2024

مدرسة جدهفص الإعدادية للبنين

الوصف	<input type="checkbox"/> أتقنت العمل بطريقة منظمة	<input type="checkbox"/> أتقنت بعض العمل	<input type="checkbox"/> لم تحقق الإنجاز المطلوب
النتيجة			
التعزيز	<input type="checkbox"/> أحسنت مجهود رائع ومميز	<input type="checkbox"/> أشكرك على المحاولة وثق بك لبذل المزيد	<input type="checkbox"/> تحتاج الى مزيد من بذل الجهد والمثابرة
الدعم	<input type="checkbox"/> لإثراء أفكارك إستعن بمصادر خارجية (الانترنت - مصادر التعلم)	<input type="checkbox"/> لتكن إجابتك دقيقة راجع الكتاب ص	<input type="checkbox"/> إستعن بزميلك لإنجاز العمل المطلوب



مبادراتي

-الدرس الخامس عشر: الصق صور تحث على الاستغلال الأمثل للماء.

Almanah.com

2025 2024

تدريبية جدحفص الإعدادية للبنين
Jidha's Intermediate Boys School

وقع المفاهيم البنين

الدرس (15) تنمية الموارد المائية

ص 51

الهدف الأول: التعرف على أسباب نضوب وتملح المياه الجوفية.

أولاً: اختر الإجابة الصحيحة من بين الإجابات الخاطئة فيما يأتي:

- 1- ازداد الطلب على المياه الجوفية خلال العقود الأخيرة بسبب النمو السكاني و.....:
- أ- الجغرافي ب- الاقتصادي ج- الحيواني د- المالي
- 2- أدى ارتفاع نسبة استخراج المياه الجوفية القريبة من السطح نسبة ما يغذيها من مياه الأمطار إلى:
- أ. تدني منسوبها ب. ارتفاع منسوبها ج. تبخر منسوبها د. تجمد منسوبها
- 3- من النتائج التي ترتبت على تدني منسوب المياه الجوفية القريبة من السطح:
- أ. نضوب البحار ب. نضوب الأنهار ج. نضوب الشلالات د. نضوب العيون

ثانياً: املا الفراغ بالكلمة المناسبة:

- 1- من أسباب تملح المياه الجوفية القريبة هي ازدياد نسبة استخراجها وتسرب المياه
- 2- أدى ازدياد استخراج المياه الجوفية العميقة إلى انخفاض كبير في
- 3- توصف المياه الجوفية العميقة بأنها مياه

الهدف الثاني: استنتاج طرق تنمية الموارد المائية.

أكمل الجدول التالي:

وسائل تنمية الموارد المائية	مثال عليها	الفائدة منها
.....	لتجميع مياه السيول والحماية من أخطارها - توفير المياه لتوسيع المساحات الزراعية - ملئ الآبار الجوفية بالمياه وحفظها لوقت الحاجة.
.....
.....

الهدف الثالث: إدراك أهمية المحافظة على الثروة المائية.

- كيف يمكن المحافظة على الثروة المائية؟

- -1
- -2
- -3
- -4

الوصف	<input type="checkbox"/> أتقنت العمل بطريقة منظمة	<input type="checkbox"/> أتقنت بعض العمل	<input type="checkbox"/> لم تحقق الإنجاز المطلوب
النتيجة			
التعزيز	<input type="checkbox"/> أحسنت مجهود رائع ومميز	<input type="checkbox"/> أشكرك على المحاولة ونثق بك لبذل المزيد	<input type="checkbox"/> تحتاج الى مزيد من بذل الجهد والمثابرة
الدعم	<input type="checkbox"/> لإثراء أفكارك إستعن بمصادر خارجية (الانترنت – مصادر التعلم)	<input type="checkbox"/> لتكن إجابتك دقيقة راجع الكتاب ص	<input type="checkbox"/> إستعن بزميلك لإنجاز العمل المطلوب



تمارين وأسئلة حول الطبيعة في دول المجلس

أولاً: اختر الإجابة الصحيحة من بين الإجابات الخاطئة فيما يأتي:

1. مع الفتوحات الإسلامية تعززت مكانة الخليج العربي التجارية ببروز مضيق:
 - أ-باب المندب
 - ب. جبل طارق
 - ج. هرمز
 - د. قناة السويس
2. تعتبر هضاب منطقة جبل طويق والرياح من الهضاب:
 - أ-الصخرية
 - ب. الرملية
 - ج. الثلجية
 - د. البركانية
3. تتميز مياه الخليج العربي بملوحة مرتفعة بسبب:
 - أ-الامطار
 - ب. تسرب المياه المالحة
 - ج. الرطوبة العالية
 - د. شدة التبخر
4. يتركز وجود النفط والغاز الطبيعي لدول مجلس التعاون في المناطق:
 - أ-الشرقية
 - ب. الغربية
 - ج. الشمالية
 - د. الجنوبية
5. تسمى المنطقة الواقعة على المرتفعات الجبلية عند أطراف دول المجلس بـ:
 - أ-الصحراوية
 - ب. شبه صحراوية
 - ج. القحط
 - د. القطبية
6. سلسلة جبلية تمتد على شكل قوس عريض:
 - أ-جبال عسير
 - ب. جبال حضرموت
 - ج. جبال ظفار
 - د. جبال عمان

ثانياً: تحتوي هذه الجمل على تعابير خاطئة، حددها بوضع دائرة وكتابة الإجابة الصحيحة بين القوسين:

- 1- تقع دول المجلس في شمال شرق القارة الآسيوية. (.....)
- 2- تحتل الكويت المرتبة الأولى في العالم من حيث مخزونها ونتاجها من النفط. (.....)
- 3- تنخفض درجة حرارة مياه الخليج العربي في الجهة الشمالية لأنها تلتقي بمياه المحيط الهندي. (.....)
- 4- لا تصل الرياح المتوسطية الصيفية الى صحراء الربع الخالي بسبب ارتفاع الحواجز الجبلية. (.....)
- 5- من مزايا نفط دول المجلس بأنه سهل الاستخراج لوقوعه على أعماق بعيدة عن السطح. (.....)
- 6- تزدهر على سفوح جبال ظفار وعسير الغابات شبه المغلقة، نتيجة استفادتها من الامطار القطبية. (.....)

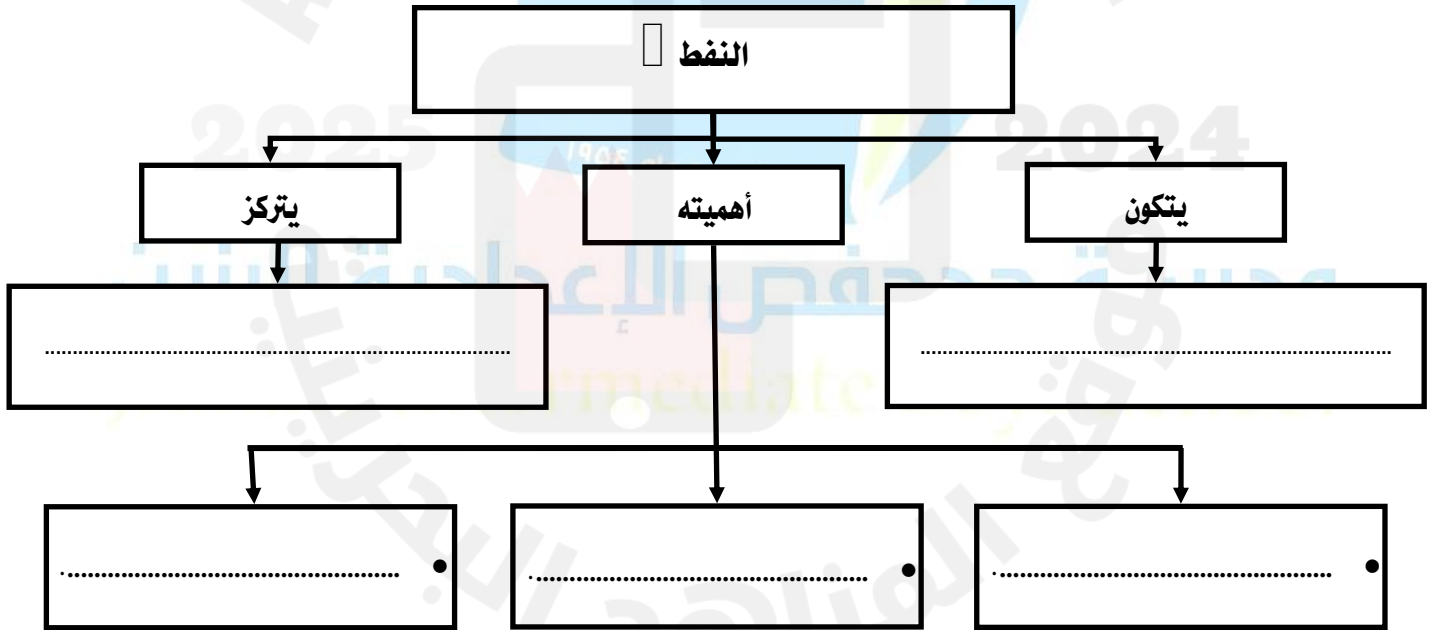
ثالثاً: أكمل الجمل التالية مستعيناً بما سبق من دروس:

- 1- تغيب عن دول المجلس الأنهار الدائمة الجريان بسبب
- 2- حركة مياه الخليج العربي هادئة إجمالاً بسبب
- 3- تتساقط الامطار في المنطقة الصحراوية من دول المجلس شتاء بسبب
- 4- في دول المجلس يرتفع معدل الحرارة السنوي من شمال المنطقة الصحراوية الى جنوبها بسبب
- 5- يعتبر النفط من أهم الموارد الطبيعية في العالم حالياً بسبب
- 6- حركة المد والجزر واضحة على طول شواطئ الخليج العربي بسبب

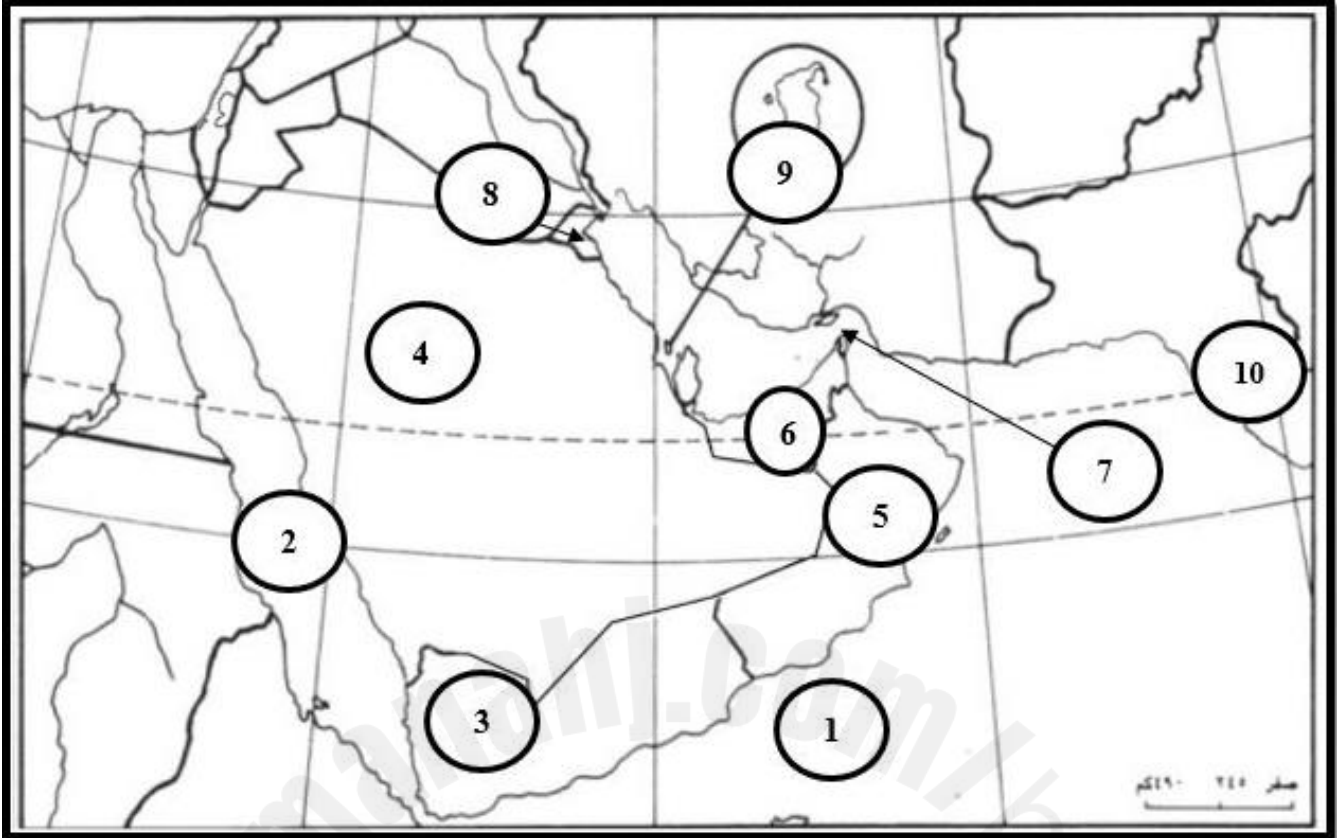
رابعاً: صنف ما يأتي بوضع علامة (✓) في المكان المناسب من الجدول:

العبارة	شبه صحراوية	صحراوية	قحط
1- تشمل المرتفعات الجبلية عند أطراف دول المجلس.			
2- تنخفض فيها نسبة الرطوبة لتصل الى 20%.			
3- تتساقط الامطار في الشتاء بفضل الرياح المتوسطة			
4- تشمل منطقة الربع الخالي.			
5- شديدة الحرارة وأمطارها قليلة جدا وغير منظمة.			
6- يتميز مناخها بانخفاض في درجات الحرارة.			

خامساً: من خلال دراستك لموضوع (الثروة النفطية) أكمل المخطط الآتي بما يناسب:



سادساً: اكتب مدلول الأرقام في الجدول أدناه بحسب موقع كل منها على خريطة دول مجلس التعاون السياسية.



الرقم	الظاهرة الجغرافية	الرقم	الظاهرة الجغرافية
	البحر الأحمر		مدار السرطان
	اليمن		مملكة البحرين
	الإمارات العربية المتحدة		الكويت
	المملكة العربية السعودية		سلطنة عمان
	بحر العرب		مضيق هرمز

الوصف	<input type="checkbox"/> أتقنت العمل بطريقة منظمة	<input type="checkbox"/> أتقنت بعض العمل	<input type="checkbox"/> لم تحقق الإنجاز المطلوب
النتيجة			
التعزيز	<input type="checkbox"/> أحسنت مجهود رائع ومميز	<input type="checkbox"/> أشكرك على المحاولة وثق بك لبذل المزيد	<input type="checkbox"/> تحتاج الى مزيد من بذل الجهد والمثابرة
الدعم	<input type="checkbox"/> لإثراء أفكارك إستعن بمصادر خارجية (الانترنت - مصادر التعلم)	<input type="checkbox"/> لتكن إجابتك دقيقة راجع الكتاب ص	<input type="checkbox"/> إستعن بزميلك لإنجاز العمل المطلوب





-مهارة الرسم البياني لزيادة عدد السكان.

Blank lined area for drawing a bar chart to show population increase.

تدريبية جدحفص الإعدادية للبنين
Jidha's Intermediate Boys School

مهارة الرسم البياني لزيادة عدد السكان

ص 56

قوانين هامة:

(1) الزيادة السكانية الطبيعية = الولادات - الوفيات

(2) الزيادة السكانية الإجمالية = الزيادة السكانية الطبيعية + الوافدين

(3) عدد السكان خلال سنة معينة = عدد السكان في بداية السنة + عدد الزيادة السكانية الإجمالية

أولاً: مستعينا بقوانين الزيادة السكانية، اجب على المسألة التالية باختيار الإجابة الصحيحة.مسألة:

عدد السكان في دولة معينة بداية عام 2015 يبلغ (50 ألف نسمة)، وعدد الولادات كانت 1000 طفل، وعدد الوفيات 300 شخص، وعدد الوافدين الأجانب الذين جاءوا للعمل في هذه الدولة يبلغون (2000 شخص)، كم يبلغ عدد السكان

1- كم تبلغ الزيادة السكانية الطبيعية لهذه الدولة:

أ-1000 ب-900 ج-300 د-700

2- كم تبلغ الزيادة السكانية الإجمالية:

أ-2700 ب-2000 ج-2300 د-1000

3- ما عدد سكان الدولة خلال العام:

أ-50 ألف ب-52700 ج-52300 د-51000

مسألة:

في بداية سنة 2013 بلغ عدد سكان إحدى القرى 2000 نسمة. وشهدت هذه القرية خلال السنة نفسها ولادة 50 طفلاً ووفاة 10 أشخاص من أبنائها، وقد وفد إلى هذه القرية خلال سنة 2013 م 20 شخصاً، كم يبلغ عدد السكان في هذه القرية.

الحل:

الزيادة الطبيعية = -

=

الزيادة الإجمالية = الزيادة الطبيعية +

=

عدد السكان خلال عام 2015 = عدد السكان بداية العام +

=

كيف نرسم؟


- (1) على ورقة الرسم البياني المليمترية
- (2) نرسم خط أفقي يمثل السنوات (كل 5 سنوات يمثل سم واحد)
- (3) نرسم خط عمودي يمثل عدد السكان (كل 100 ألف نسمة يمثل سم واحد)
- (4) نمثل في الرسم (على الورقة) عدد السكان لكل سنة بنقطة ثم نربط النقاط مع بعض ونحصل على رسم بياني على شكل خط، أو نمثل عدد السكان لكل سنة بعمود، فنحصل على رسم بياني على شكل أعمدة.

التعليق على الرسم البياني:

- (1) إذا كان اتجاه الخط (أو تدرج الأعمدة) تصاعدي حاد، دل على نمو سريع في عدد السكان.
- (2) إذا كان اتجاه الخط (أو تدرج الأعمدة) تصاعدي بطيء، دل على نمو بطيء في عدد السكان.
- (3) إذا كان اتجاه الخط (أو تدرج الأعمدة) منحدر، دل على تدن في عدد السكان.

أمامك جدول عن عدد السكان في مملكة البحرين

السنة	1941	1951	1961	1971	1981	1991
عدد السكان (بالآلاف)	89	112	155	216	350	508



التعليق على الرسم البياني

التعليق	السنوات		
	إلى	من	
			المرحلة الأولى
			المرحلة الثانية

<input type="checkbox"/> لم تحقق الإنجاز المطلوب	<input type="checkbox"/> أتقنت بعض العمل	<input type="checkbox"/> أتقنت العمل بطريقة منظمة	الوصف
			النتيجة
<input type="checkbox"/> تحتاج الى مزيد من بذل الجهد والمثابرة	<input type="checkbox"/> أشكرك على المحاولة ونثق بك لبذل المزيد	<input type="checkbox"/> أحسنت مجهود رائع ومميز	التعزيز
<input type="checkbox"/> إستعن بزميلك لإنجاز العمل المطلوب	<input type="checkbox"/> لتكن إجابتك دقيقة راجع الكتاب ص	<input type="checkbox"/> لإثراء أفكارك إستعن بمصادر خارجية (الانترنت - مصادر التعلم)	الدعم

مبادراتي

-الدرس السابع عشر (الخصائص السكانية): ارسم الخريطة صفحة 61 مستند رقم 4.

Almanah.com

2025 2024

تدريبية جدحفص الإعدادية للبنين
Jidha's Intermediate Boys School

وقع المفاهيم البنين

الدرس (17) الخصائص السكانية

ص 63

الهدف الأول: يبرز الخصائص السكانية لدول مجلس التعاون.

أولاً: اختر الإجابة الصحيحة من بين الإجابات الخاطئة فيما يأتي:

- 1- تفوق الزيادة السكانية في دول مجلس التعاون الزيادة في معظم مناطق:
 - أ- أفريقيا.
 - ب- أمريكا.
 - ج- العالم.
 - د- أوروبا.
- 2- زاد خلال الأربعين سنة الأخيرة العدد الإجمالي لسكان دول مجلس التعاون قرابة:
 - أ- أربعة اضعاف
 - ب- ثلاثة اضعاف
 - ج- خمسة اضعاف
 - د- ستة اضعاف
- 3- يعود التزايد السكاني الكبير في دول المجلس الى الزيادة الطبيعية والى ارتفاع أعداد:
 - أ- المواطنين
 - ب- المغادرين
 - ج- المسافرين
 - د- الوافدين
- 4- من الأسباب التي أدت الى ارتفاع أعداد الوافدين في دول المجلس، التطور.....:
 - أ- الاقتصادي والاجتماعي
 - ب- الرياضي والاجتماعي
 - ج- الزراعي
 - د- التكنولوجي

الهدف الثاني: يوضح إجراءات دول مجلس التعاون لتأهيل القوى العاملة والنهوض بالمرأة.

أولاً: صحح ما تحته خط في كل عبارة من العبارات الآتية، وكتب الإجابة الصحيحة في السطر الذي يليها:

- 1- يتميز مجتمع دول المجلس بارتفاع نسبي لفئة الأعمار التي تقل عن 65 سنة.
.....
- 2- تشكل الفئة العمرية التي تتراوح أعمارهم بين 15 و64 (البالغين) من دول مجلس التعاون الاقلية.
.....
- 3- الفئة المنتجة والفعالة في تركيبة القوى العاملة، ومصدر الإعالة للفئات العمرية الأخرى هي فئة المسنين.
.....
- 4- نسبة الذكور والاناث للفئة العمرية التي تقل عن 15 سنة وفئة المسنين أكثر من 65 سنة متفاوتة.
.....

الهدف الثالث: يقدر أهمية الموارد البشرية في التنمية.

أولاً: - علل ما يأتي:

أ- إلام يعود التزايد السكاني الكبير في دول المجلس

..... أ-

..... ب-

ب- بما ترتبط ارتفاع الزيادة السكانية الطبيعية في دول المجلس؟

..... أ-

..... ب-

ج- ما سبب فتوة المجتمع في دول المجلس؟

.....

الهدف الرابع: يصنف نتائج وجهود دول المجلس في مجال التنمية البشرية

رابعا: - أمامك نتائج جهود دول المجلس في مجال التنمية البشرية، وزعها على الجدول التالي:

تطور العناية في المدن والأرياف - تحسن الأوضاع الصحية للسكان - ارتفاع عدد منتسبي المدارس - نمو قطاع التعلم الفني والمهني - زيادة نسبة مشاركة المرأة في العمل - تشييد الجسور - اعتماد سياسة التدريب - زادت عدد المراكز والمستشفيات - امداد المنازل بالكهرباء - ارتفاع عدد المنتسبين للجامعات - انشاء الجامعات والمعاهد الطبية - توزيع المنازل

العناية الصحية	التعليم	المرأة

عندما تكبر وتزوج، كم عدد الأطفال الذين تود إنجازهم؟؟؟؟
مع ملاحظة أن راتبك الشهري متوسط الحال

أود أن انجب ----- طفلا (اذكر عددهم) ، بسبب -----

الوصف	<input type="checkbox"/> أتقنت العمل بطريقة منظمة	<input type="checkbox"/> أتقنت بعض العمل	<input type="checkbox"/> لم تحقق الإنجاز المطلوب
النتيجة			
التعزيز	<input type="checkbox"/> أحسنت مجهود رائع ومميز	<input type="checkbox"/> أشكرك على المحاولة وثق بك لبذل المزيد	<input type="checkbox"/> تحتاج الى مزيد من بذل الجهد والمثابرة
الدعم	<input type="checkbox"/> لإثراء أفكارك إستعن بمصادر خارجية (الانترنت – مصادر التعلم)	<input type="checkbox"/> لتكن إجابتك دقيقة راجع الكتاب ص	<input type="checkbox"/> إستعن بزميلك لإنجاز العمل المطلوب



-الدرس الثامن عشر: اكتب تقريراً مدعماً بالصور عن جهود البحرين لمكافحة البعوض.

Almanah.com

2025 2024

تدريبية جدحفص الإعدادية للبنين
Jidha's Intermediate Boys School

وقع المناهج البنين

الدرس (18): التنمية البشرية

ص 65

الهدف الأول: يبرز مظاهر التنمية البشرية في دول مجلس التعاون.

أولاً: اختر الإجابة الصحيحة من بين الإجابات الخاطئة فيما يأتي:

1. يرتبط مستوى تطور التنمية البشرية بما تحققه الدول من تقدم على صعيد:

أ- الصحة والرياضة ب. التعليم والسياحة ج. الصحة والتعليم د. الفن والاقتصاد

2. يطلق على الذي لا يعرف القراءة ولا الكتابة ويزيد عمره عن الـ65 سنة بـ:

أ. المتعلم ب. الأمي ج. المريض د. الكاتب

3. بفضل الجهود التي بذلتها دول مجلس التعاون في مجال التنمية البشرية أصبحت قريبة من مستوى الدول:

أ-المتقدمة ب. الفقيرة ج. الصناعية د. العالم الثالث

الهدف الثاني: يوضح إجراءات دول مجلس التعاون للنهوض بالتنمية البشرية.

يرتبط مستوى تطور التنمية البشرية بما تحققه الدول من تقدم على صعيدي الصحة والتعليم بصورة خاصة.

أكمل الجدولين التاليين:

1. الاهتمام بالخدمات الصحية:

النتائج	الخدمات الصحية
	1-
	2-
1-	3-
2-	4-
3-	5-
	6-
	7-

النتائج	الخدمات التعليمية
.....-1-1
.....-2-2
.....-3-3
.....-4-4
.....-5-5
.....-6-6

تصنيف معلومات في جدول

صنف العبارات التالية في الجدول:

- 1- نسبة الأمية بين كبار السن 40%
- 2- نسبة وفيات الرضع 80 بالآلف
- 3- متوسط عمر الإنسان 76 سنة
- 4- نسبة المتحقين بالتعليم دون الجامعي 92%
- 5- نسبة الأمية بين كبار السن 70%
- 6- متوسط عمر الإنسان 60 سنة
- 7- نسبة المتحقين بالتعليم دون الجامعي 49%
- 8- نسبة وفيات الرضع 10 بالآلف

الأوضاع التعليمية بعد التنمية	الأوضاع التعليمية قبل التنمية	الأوضاع الصحية بعد التنمية	الأوضاع الصحية قبل التنمية

- ان لانتشار البعوض تأثيرات سلبية على حياة السكان منها انتشار الامراض، كما يمكن ان يؤثر انتشار البعوض على السياحة في البحرين.

قم بالبحث عن جهود مملكة البحرين في سبيل حل هذه المشكلة وأهم نتائج هذه الجهود.

نتائج	جهود
.....
.....
.....
.....
.....

<input type="checkbox"/> لم تحقق الإنجاز المطلوب	<input type="checkbox"/> أتقنت بعض العمل	<input type="checkbox"/> أتقنت العمل بطريقة منظمة	الوصف
			النتيجة
<input type="checkbox"/> تحتاج الى مزيد من بذل الجهد والمثابرة	<input type="checkbox"/> أشكرك على المحاولة وثق بك لبذل المزيد	<input type="checkbox"/> أحسنت مجهود رائع ومميز	التعزيز
<input type="checkbox"/> إستعن بزميلك لإنجاز العمل المطلوب	<input type="checkbox"/> لتكن إجابتك دقيقة راجع الكتاب ص	<input type="checkbox"/> لإثراء أفكارك إستعن بمصادر خارجية (الانترنت - مصادر التعلم)	الدعم

تمارين وأسئلة حول السكان في دول المجلس

أولاً: اختر الإجابة الصحيحة من بين الإجابات الخاطئة فيما يأتي:

- 1- الفئة العمرية التي يبلغ معدلها حوالي 3% من إجمالي سكان دول المجلس :
أ-البالغين ب. الاطفال ج. المسنين د. الشباب
- 2- اولت دول المجلس اهتماماً حميداً بالقطاع الصحي من خلال انشاء:
أ. المدارس ب. المستشفيات ج. المعاهد د. الجامعات
- 3- الفارق بين معدل المواليد ومعدل الوفيات في فترة زمنية محددة يطلق على:
أ. النمو الطبيعي ب. التركيب النوعي ج. التنمية البشرية د. التنمية الاقتصادية
- 4- من اهم جهود دول المجلس لتنمية القطاع التعليمي:
أ-إنشاء المدارس ب. حملات التطعيم ج. بناء المستشفيات د. تأسيس الكليات الصحية
- 5- يطلق على توسع نطاق خيارات الناس وقدراتهم التنمية:
أ- الاقتصادية ب. الاجتماعية ج. البشرية د. الاسكانية
- 6- بلغت عدد الجامعات الحكومية والأهلية لدول مجلس التعاون لسنة 2011:
أ. 153 ب. 156 ج. 157 د. 159

ثانياً: ضع علامة (√) أمام العبارات الصحيحة وعلامة (×) أمام العبارات الخاطئة:

- 1- تفوق الزيادة السكانية في دول مجلس التعاون الزيادة في معظم مناطق العالم. ()
- 2- أدت حملات الترشيد للأم الحامل وحملات التطعيم الى انخفاض نسبة الامية. ()
- 3- يعود التزايد السكاني الكبير في دول المجلس الى زيادة عدد الوفيات. ()
- 4- جعلت دول مجلس التعاون التعليم الأساسي إلزامي. ()
- 5- تبلغ نسبة الفتيان من مجموع السكان في دول المجلس حوالي 55%. ()
- 6- تم تأسيس الكليات والمعاهد الطبية لإعداد الكوادر المتخصصة من أطباء وممرضين. ()

ثالثاً: اذكر السبب: -

1- انخفاض كبير في نسبة وفيات الرضع.

2- ارتفاع أعداد الوافدين في دول مجلس التعاون.

3- ارتفاع معدل الملتحقين بالتعليم الابتدائي.

4- تفاوت التركيب النوعي (الذكور والإناث) بشكل كبير في فئة البالغين من 15 إلى 63 سنة في دول المجلس.

5- انخفاض في عدد الأشخاص لكل طبيب.

رابعا: - أمامك جهود دول المجلس في مجال التنمية البشرية، وزعها على الجدول التالي :

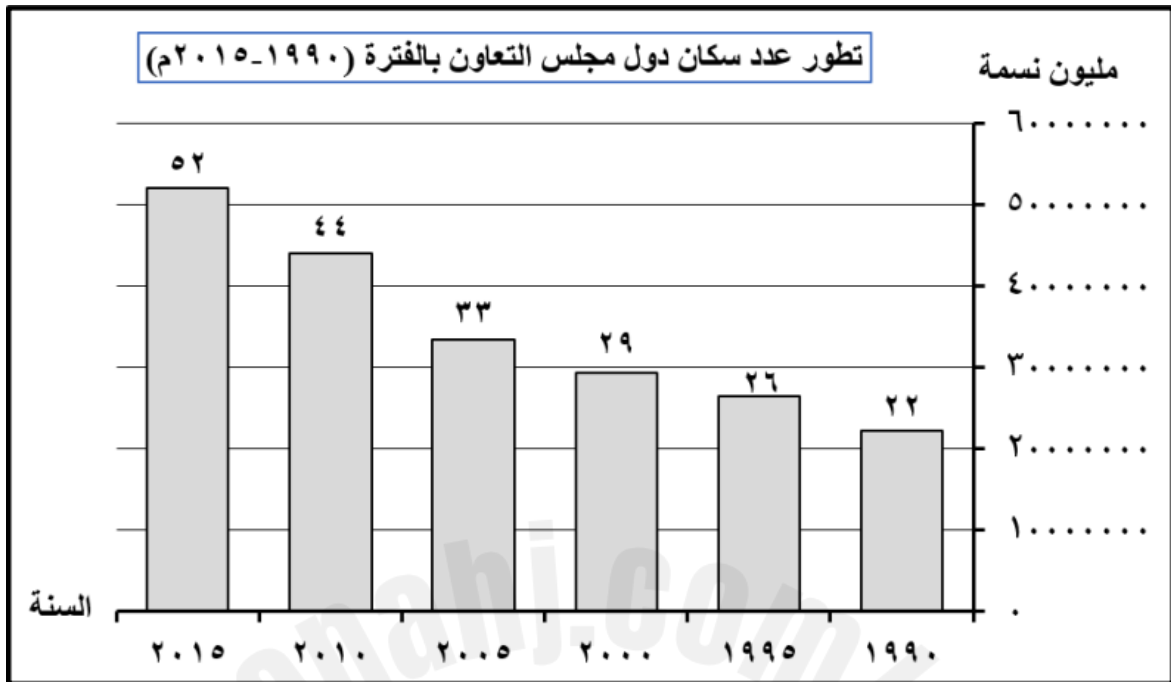
حملات التطعيم - امداد المنازل بالمياه الصالحة للشرب - دورات تدريبية للمدرسين - انشاء المدارس الاهلية - بناء المدن

الحديثة - تشييد الجسور - جعله مجاني واساسي - تأسيس الكليات الطبية - امداد المنازل بالكهرباء - معاهد التعليم

الفني والتقني - نشر المراكز الصحية - توزيع المنازل

التعليم	العناية الصحية

خامسا: - في ضوء دراستك، ومن خلال الرسم البياني الوارد أمامك والذي يوضح تطور عدد سكان دول مجلس التعاون (1990-2015م)، أجب عن الأسئلة التالية:



1- أكمل العبارات الآتية بما يناسب:

- أ- السنة الأعلى في عدد سكان دول مجلس التعاون هي.....
 ب- السنة الأدنى في عدد سكان دول مجلس التعاون هي.....
 ت- السنة التي بلغ فيها عدد سكان دول مجلس التعاون حوالي 29 مليون هي.....
 ث- بلغ عدد سكان دول مجلس التعاون سنة 2010م حوالي..... مليون نسمة.

2- أكتب ثلاثا من الخصائص السكانية لدول مجلس التعاون.

مدرسة جدهفص الإعدادية للبنين
 Jidhafs International Boys School

الوصف	<input type="checkbox"/> أتقنت العمل بطريقة منظمة	<input type="checkbox"/> أتقنت بعض العمل	<input type="checkbox"/> لم تحقق الإنجاز المطلوب
النتيجة			
التعزيز	<input type="checkbox"/> أحسنت مجهود رائع ومميز	<input type="checkbox"/> أشكرك على المحاولة وثق بك لبذل المزيد	<input type="checkbox"/> تحتاج الى مزيد من بذل الجهد والمثابرة
الدعم	<input type="checkbox"/> لإثراء أفكارك إستعن بمصادر خارجية (الانترنت - مصادر التعلم)	<input type="checkbox"/> لتكن إجابتك دقيقة راجع الكتاب ص	<input type="checkbox"/> إستعن بزميلك لإنجاز العمل المطلوب





-الدرس العشرون: (التنمية الاقتصادية) صور لمهن قديمة وحديثة.

Almanah.com

2025 2024

تدريبية جدحفص الإعدادية للبنين
Jidha's Intermediate Boys School

وقع المفاهيم البنين

الدرس (20): التنمية الاقتصادية

ص 69

الهدف الأول: التفريق بين الناتج المحلي الإجمالي قبل وبعد اكتشاف النفط

أولاً: اختر الإجابة الصحيحة من بين الإجابات الخاطئة فيما يأتي:

1- شهدت منطقة الخليج العربي تحولات أساسية في الاقتصاد نتيجة اكتشاف:

أ- الفحم ب. الفوسفات ج. النفط د. النحاس

2- قبل اكتشاف النفط كانت النشاطات الاقتصادية في دول المجلس تعرف بأنها:

أ. تقليدية ب. حديثة ج. غير تقليدية د. متطورة

3- كانت النشاطات الاقتصادية في دول المجلس قبل اكتشاف النفط تتميز:

أ- بارتفاع إيراداتها ب. بضخامة إيراداتها ج. بتنوع إيراداتها د. بضآلة إيراداتها

4- ارتفعت إيرادات المجلس بشكل كبير خصوصاً في فترة السبعينات وذلك بسبب:

أ-تنوع مصادر الدخل ب- ارتفاع الإيرادات النفطية ج- التضخم د- التنوع الزراعي

ثانياً: ضع علامة (✓) على النشاطات الاقتصادية التي كانت تمارس قبل اكتشاف النفط.

معاماة الصيد البحري العمل المكتبي التجارة الحرف العمل الميكانيكي الزراعة المحدودة تربية المواشي

الهدف الثاني: ان يذكر اهم المجالات التي وظفت فيها الإيرادات النفطية.


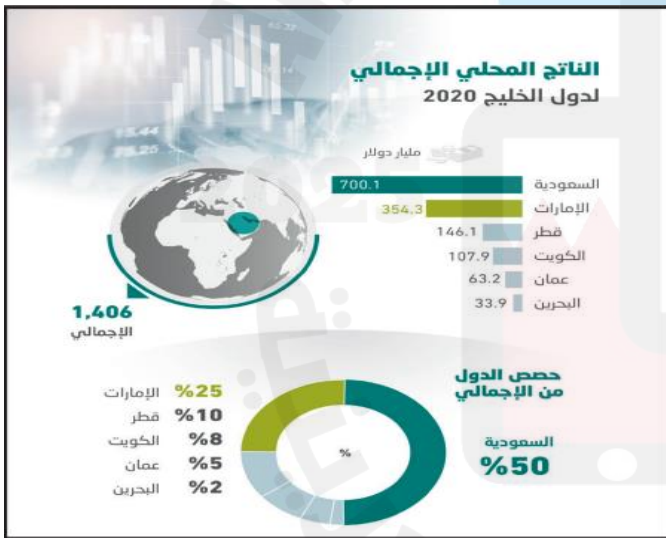
أولاً: وظفت دول المجلس عائداتها النفطية في تنفيذ خطط ومشروعات عديدة بغية الوصول إلى تنمية شاملة. عدد أهم هذه

المجالات التي وظفت فيها الإيرادات النفطية؟

- 1-
- 2-
- 3-
- 4-
- 5-
- 6-

الهدف الثالث: ان يستنتج أهم التحولات التي شهدتها اقتصاد دول المجلس.

أولاً: من خلال المستنديين امامك أجب على الأسئلة التالية:



1- كم بلغت نسبة مساهمة القطاعات غير النفطية بالنسبة الى الناتج المحلي الإجمالي في دول مجلس التعاون؟

.....

2- أعلى دول مجلس التعاون من حيث الناتج المحلي الإجمالي لسنة 2020؟

.....

3- عدد التحولات التي شهدتها اقتصاد دول المجلس بتأثير من عملية التنمية؟

1-

2-

- برأيك ما القطاع الذي يمكن ان يحل محل النفط في عملية التنمية في دول مجلس التعاون.

برأيي.....

.....

.....

.....



2025

تأسست عام ١٩٥٤

2024

مدرسة جدهفص الإعدادية للبنين

الوصف	<input type="checkbox"/> أتقنت العمل بطريقة منظمة	<input type="checkbox"/> أتقنت بعض العمل	<input type="checkbox"/> لم تحقق الإنجاز المطلوب
النتيجة			
التعزيز	<input type="checkbox"/> أحسنت مجهود رائع ومميز	<input type="checkbox"/> أشكرك على المحاولة وثق بك لبذل المزيد	<input type="checkbox"/> تحتاج الى مزيد من بذل الجهد والمثابرة
الدعم	<input type="checkbox"/> لإثراء أفكارك إستعن بمصادر خارجية (الانترنت - مصادر التعلم)	<input type="checkbox"/> لتكن إجابتك دقيقة راجع الكتاب ص	<input type="checkbox"/> إستعن بزميلك لإنجاز العمل المطلوب

مبادراتي

-الدرس الحادي والعشرون: اكتب معلومات مدعماً بالصور عن الزراعة المحمية في البحرين.

Handwriting practice lines with a watermark logo and text. The watermark includes 'Almanah.com', '2025', '2024', 'تدريبية جدحفص الإعدادية للبنين', 'Jidha's Intermediate Boys School', and 'وقع المفاهيم البنين'.

الدرس (21) جهود التنمية الزراعية

ص 71

الهدف الأول: يبيّن ضغوط البيئة على المجهود الزراعي في دول مجلس التعاون.

أولاً: اختر الإجابة الصحيحة من بين الإجابات الخاطئة فيما يأتي:

1- من العوامل التي أثرت على نمو القطاع الزراعي لدول المجلس هو سيادة البيئة:

أ- الصحراوية ب. المتوسطة ج. القطبية د. الاستوائية

2- تبلغ نسبة الأراضي الصالحة للزراعة في دول المجلس حوالي:

أ. 50% ب. 30% ج. 20% د. 40%

3- لا تتعدى نسبة الأراضي المزروعة لدول المجلس سوى:

أ. 10% ب. 8.3% ج. 7.4% د. 6.4%

الهدف الثاني: يبرز إجراءات دول مجلس التعاون للنهوض بالقطاع الزراعي.

أولاً: قامت دول المجلس بجهود لتنمية القطاع الزراعي، قم بتصنيف هذه العبارات حسب مجالها في أسفل الجدول.

- تقديم قروض طويلة الأمد.
- استخراج مياه جوفية.
- الأسمدة الكيماوية.
- بذور محسنة.
- بناء السدود.
- الزراعة المحمية.
- بناء الصوامع.
- مياه الصرف الصحي.
- صيانة الافلاج.
- حملات ترشيد.
- مراكز أبحاث.
- تعليب الخضار.
- تنظيم دورات.
- آليات زراعية حديثة.
- صناعة تعليب التمور.

توفير مياه الري	الابحاث	التخزين والصناعات	المعدات	التسهيل والإرشاد
-1	-1	-1	-1	-1
-2	-1	-2	-2	-2
-3	-3	-3	-3	-3
-4	-4	-4	-4	-4

الهدف الثالث: يوضح إجراءات دول مجلس التعاون للنهوض بالقطاع الحيواني.

أولاً: ما الجهود التي قامت بها دول المجلس لتنمية نشاطها الحيواني والصيد البحري؟

أ. مجال تربية الحيوانات:

- ●
- ●
- ●
- ●

ب. مجال الصيد البحري:

- ●
- ●
- ●
- ●

عندما تكبر، هل ترغب في العمل في مجال الزراعة؟

نعم أم لا؟ ----- بسبب

.....

.....

.....

مدرسة جدد حفص الإعدادية للبنين

الوصف	<input type="checkbox"/> أتقنت العمل بطريقة منظمة	<input type="checkbox"/> أتقنت بعض العمل	<input type="checkbox"/> لم تحقق الإنجاز المطلوب
النتيجة			
التعزيز	<input type="checkbox"/> أحسنت مجهود رائع ومميز	<input type="checkbox"/> أشكرك على المحاولة وثق بك لبذل المزيد	<input type="checkbox"/> تحتاج الى مزيد من بذل الجهد والمثابرة
الدعم	<input type="checkbox"/> لإثراء أفكارك إستعن بمصادر خارجية (الانترنت - مصادر التعلم)	<input type="checkbox"/> لتكن إجابتك دقيقة راجع الكتاب ص	<input type="checkbox"/> إستعن بزميلك لإنجاز العمل المطلوب





-الدرس الثاني والعشرون: الصق صوراً لأهم المنتوجات الزراعية في مملكة البحرين.

Handwriting practice area with horizontal lines and a watermark logo. The logo features a blue graduation cap with a yellow star and the text 'Almanahj.com' and 'تأسست عام ١٩٥٤'. Below the cap, the text 'مدرسة جدحفص الإعدادية للبنين' and 'Jidhaf's Intermediate Boys' School' is visible. The years '2025' and '2024' are also present on either side of the cap.

الدرس (22) نتائج التنمية الزراعية

ص 73

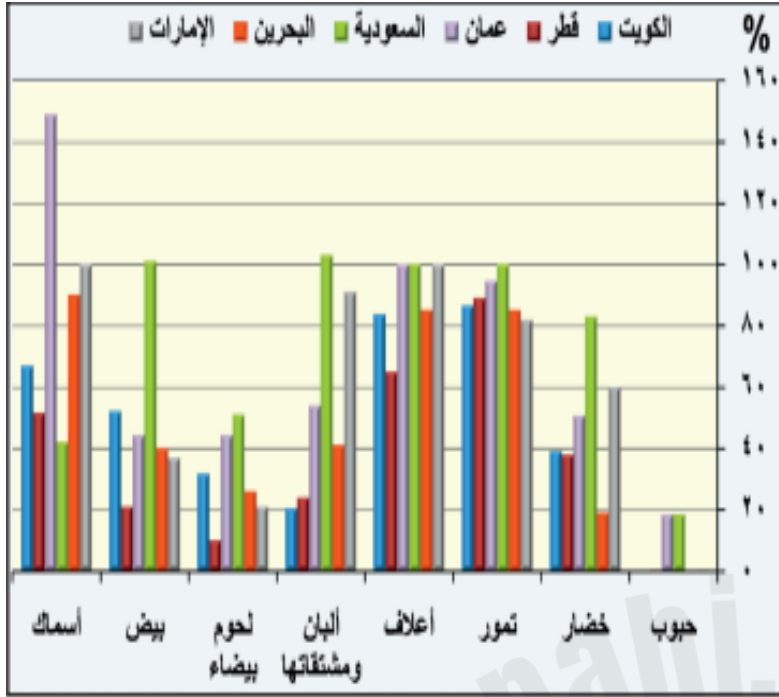
الهدف الأول: يبين نتائج جهود التنمية الزراعية في دول مجلس التعاون.

أولاً: ضع علامة (√) يمين العبارة الصحيحة، وعلامة (×) يمين العبارة الخاطئة:

1. () حققت دول المجلس بفضل الجهود المبذولة لتنمية قطاعها الزراعي جزء من أهدافها.
2. () يطلق على الأسماك والدواجن مصطلح اللحوم الحمراء.
3. () حققت السعودية اكتفاء ذاتياً في إنتاجها للقمح.

ثانياً: اثمرت جهود دول المجلس في تنوع المنتجات الزراعية، أكمل الجدول بكتابة أهم المنتجات الزراعية والحيوانية لدىدول المجلس.

المنتج الزراعي	نتائج الجهود الزراعية
	1- أوسع الزراعات انتشاراً في دول المجلس.
	2- تتم زراعته في مختلف دول المجلس.
	3- من الأشجار المثمرة التي تزرع في السعودية وعمان والامارات.
	4- من الأشجار المثمرة التي تزرع في سلطنة عمان.
	5- لتأمين المراعي للمواشي، اهتمت جميع دول المجلس بزراعة.
	6- من المنتجات الزراعية التي حققت السعودية اكتفاء ذاتي منه، كما جرى تصديره.



رابعاً: انظر الى المستند الذي امامك وأجب على التالي:

1- أهم المنتجات الزراعية والحيوانية التي حققت فيها جميع دول المجلس اكتفاء ذاتي.

2- كم بلغت نسبة الاكتفاء الذاتي لمملكة البحرين في (البيض والخضار)؟

3- من المنتجات التي تصدر ما يفيض عنها الى الخارج.

لولم نهتم بالتنمية الزراعية في دول مجلس التعاون، ماذا سيحصل؟

مدرسة جدهفص الإعدادية للبنين
Jidhafs Intermediate Boys' School

الهدف الثاني: يوضح بقية العراقيل التي تعترض التنمية الزراعية.

- دراسة نص.

وأكد وزير البيئة والمياه والزراعة السعودي المهندس عبد الرحمن بن عبد المحسن الفضلي رئيس الجمعية العامة للمنظمة العربية للتنمية الزراعية وكالة..... وفقاً لوكالة الأنباء السعودية (واس)، أن المنطقة العربية تمتلك فرصاً لاستخدام التكنولوجيا والابتكار، وفرص الاستثمار في الزراعة، وتحسين الممارسات الزراعية لتصبح أكثر إنتاجية وكفاءة واستدامة في استخدام المياه والموارد الطبيعية، وتعزيز التجارة والتعاون الإقليمي والدولي، والاستفادة من المنظمات الدولية، مما يجعلها تنظر بتفاؤل لمستقبل الزراعة؛ لتعزيز روابط التعاون والتضامن بين دول المنطقة.

وأشار إلى أن الوطن العربي والعالم أجمع يواجه تحديات بيئية غير مسبقة تتطلب العمل على استغلال الميزات النسبية بالمنطقة العربية، وتوحيد وتضافر الجهود لمواجهة التحديات والتغلب عليها، لافتاً إلى أن أبرز تلك التحديات تتمثل في شح المياه، والتصحر وتدهور الأراضي والبيئة والتغير المناخي، وزيادة الصراعات وانعدام الأمن والصدمات الاقتصادية، بالإضافة إلى تفشي الأوبئة واضطرابات سلسلة توريد الأغذية، والتي تؤثر على حياة الملايين في أنحاء الوطن العربي.

وكالة أنباء البحرين (بنا) المنامة ، 2 مايو 2024

اقرأ النص بإمعان وأجب عن الأسئلة التالية:

1) سم مرجع هذا النص.

2) ما هي أهم الفرص التي ذكرها وزير البيئة عبد الرحمن لتنمية القطاع الزراعي؟

3) حدد أبرز العوائق التي تعترض تقدم القطاع الزراعي في دول المجلس.

أ-

ب-

ج-

الوصف	<input type="checkbox"/> أتقنت العمل بطريقة منظمة	<input type="checkbox"/> أتقنت بعض العمل	<input type="checkbox"/> لم تحقق الإنجاز المطلوب
النتيجة			
التعزيز	<input type="checkbox"/> أحسنت مجهود رائع ومميز	<input type="checkbox"/> أشركك على المحاولة وثق بك لبذل المزيد	<input type="checkbox"/> تحتاج الى مزيد من بذل الجهد والمثابرة
الدعم	<input type="checkbox"/> لإثراء أفكارك إستعن بمصادر خارجية (الانترنت - مصادر التعلم)	<input type="checkbox"/> لتكن إجابتك دقيقة راجع الكتاب ص	<input type="checkbox"/> إستعن بزميلك لإنجاز العمل المطلوب



-الدرس الرابع والعشرون: ارسم خريطة توزع الصناعات في دول المجلس صفحة 76 مستند 1.



تدريبية جدحفص الإعدادية للبنين

Jidha's Intermediate Boys School

الدرس (24) أنواع الصناعات التحويلية والعوائق التي تعترضها

ص 77

الهدف الأول: التعرف على أبرز أنواع الصناعات التحويلية.

أولاً: اختر الإجابة الصحيحة من بين الإجابات الخاطئة فيما يأتي:

1- صناعة تنتشر في جميع دول المجلس، وخصوصاً في المملكة العربية السعودية هي صناعة:

أ- البتروكيماويات ب. تكرير النفط وتسييل الغاز ج. بناء وإصلاح السفن د. المعادن

2- يستعمل إنتاج البتروكيماويات في صناعة الأسمدة الكيماوية وفي صناعة:

أ. الغذائية ب. المياه ج. المواد البلاستيكية د. الذهب

3- تنتشر صناعة الاسمنت في جميع دول المجلس، وتنتج المملكة العربية السعودية حوالي:

أ- الربع من الإنتاج ب. النصف من الإنتاج ج. الثلث من الإنتاج د. الغالبية من الإنتاج

4- صناعة تنحصر في كل من مملكة البحرين والامارات العربية المتحدة:

أ- تكرير النفط ب. البتروكيماويات ج. بناء وإصلاح السفن د. الاسمنت

ثانياً: تحتوي هذه الجمل على تعابير خاطئة، حددها بوضع دائرة وكتابة الإجابة الصحيحة بين القوسين:

1- تنتشر صناعة البتروكيماويات في جميع دول المجلس ما عدا دولة الكويت. (.....)

2- تنحصر صناعة الإسمنت في سلطنة عمان. (.....)

3- صناعة الحديد محصورة في السعودية، والبحرين، والكويت، والامارات. (.....)

4- تنفرد كل من البحرين والامارات بإنتاج النحاس وصناعة بناء وإصلاح السفن. (.....)

الهدف الثاني: تفسير الصناعات الخفيفة التي تؤمن الاكتفاء الذاتي.

أولاً: أجب عن الأسئلة التالية:

1- عرف الصناعة الغذائية.

.....

.....

2- عدد أهم أنواع الصناعات الخفيفة المنتشرة في دول المجلس.

.....

.....

3- اذكر أبرز مميزات الصناعات الخفيفة المنتشرة في دول المجلس.

.....

.....

الهدف الثالث: ادراك العوائق التي تعترض قطاع الصناعة.

أولاً: تواجه الصناعات التحويلية بعض العوائق، لكن دول المجلس تعمل على تذليلها. ما العوائق التي تعترض قطاع الصناعة التحويلية في دول المجلس؟

.....

.....

.....

ثانياً: أكمل الجدول التالي:

الصناعات التحويلية	أسماء دول المجلس المنتشرة فيها تلك الصناعة
تكرير النفط وتسييل الغاز
صناعة البتر وكيمياويات
صناعة الألمنيوم
صناعة الحديد
صناعة النحاس
صناعة الأسمنت
بناء وإصلاح السفن

اذكراهم المشروعات المشتركة بين دول مجلس التعاون:

..... ●

..... ●

..... ●



الوصف	<input type="checkbox"/> أتقنت العمل بطريقة منظمة	<input type="checkbox"/> أتقنت بعض العمل	<input type="checkbox"/> لم تحقق الإنجاز المطلوب
النتيجة			
التعزيز	<input type="checkbox"/> أحسنت مجهود رائع ومميز	<input type="checkbox"/> أشكرك على المحاولة ونثق بك لبذل المزيد	<input type="checkbox"/> تحتاج الى مزيد من بذل الجهد والمثابرة
الدعم	<input type="checkbox"/> لإثراء أفكارك إستعن بمصادر خارجية (الانترنت - مصادر التعلم)	<input type="checkbox"/> لتكن إجابتك دقيقة راجع الكتاب ص	<input type="checkbox"/> إستعن بزميلك لإنجاز العمل المطلوب

مبادراتي

-الدرس الخامس والعشرون: (اتجاهات الحركة التجارية) لصق صور لأهم صادرات وواردات دول المجلس.

Almanah.com

2025 2024

تدريبية جدحفص الإعدادية للبنين
Jidha's Intermediate Boys School

وقع المناهج البنين

الدرس (25) اتجاهات الحركة التجارية

ص 81

الهدف الأول: أن يعدد الطالب أهم صادرات وواردات دول مجلس التعاون

أولاً: اختر الإجابة الصحيحة من بين الإجابات الخاطئة فيما يأتي:

1- كانت تشكل حوالي 99% من صادرات دول المجلس حتى بداية السبعينات:

أ-الصادرات النفطية ب. الصادرات الزراعية ج. الصادرات الصناعية د. الصادرات السمكية

2- الصادرات البينية (بين دول المجلس):

أ. محدودة ب. كبيرة ج. ضئيلة د. متوسطه

3- تحتل الصادرات الصناعية من مجموع صادرات دول المجلس المرتبة:

أ-الاولى ب. الثانية ج. الثالثة د. الرابعة

ثانياً: أكمل الجدول التالي بكتابة اهم صادرات وواردات دول المجلس واهم الدول التي تتعامل معها دول المجلس حسب الترتيب:

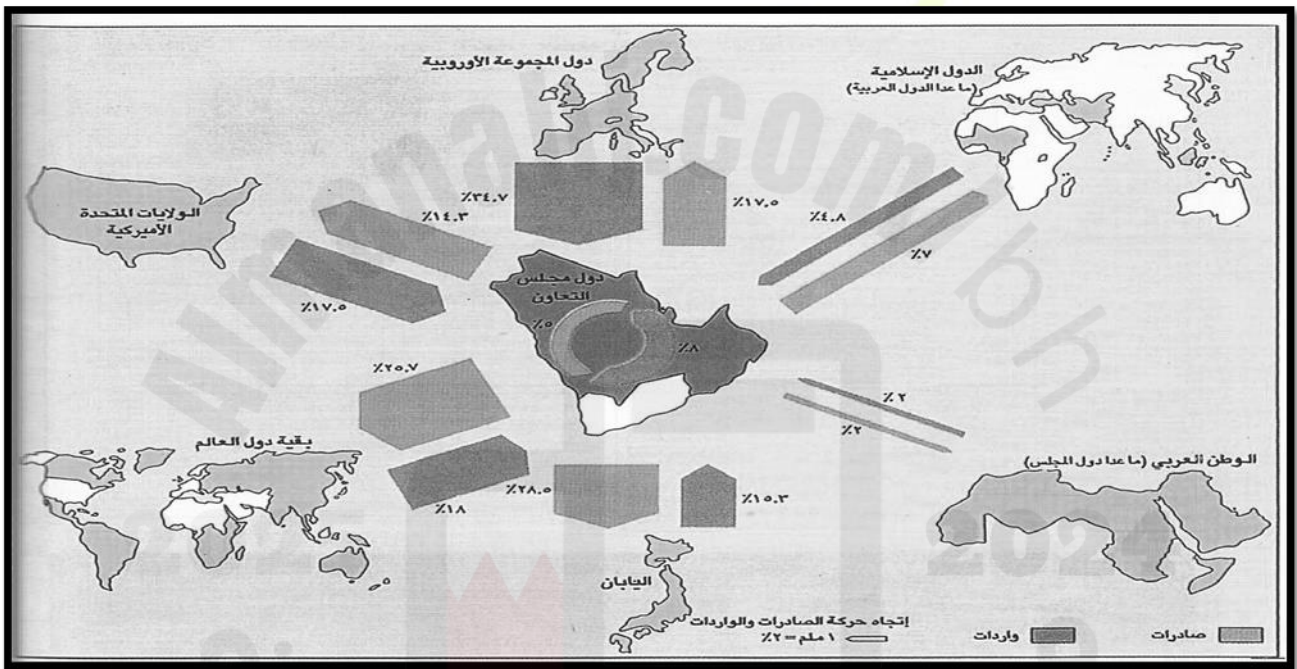
الدول التي تتعامل معها دول المجلس	أنواع السلع	الحركة التجارية
المرتبة حسب الاكثر تصديرا اليها: 1 2 3	1. الصادرات النفطية: 2. الصادرات الصناعية: 3. الصادرات الزراعية: ماتزال قليلة، وتقتصر على:	الصادرات
الدول مرتبة حسب الاكثر استيراداً منها: 1 2 3	الواردات

الهدف الثاني: أن يبرز الطالب أهم نتائج الحركة التجارية بدول مجلس التعاون

أولاً: ما المجالات التي تم الاستفادة منها في عملية التنمية التي تشهدها دول المجلس؟

- 1-
- 2-
- 3-
- 4-

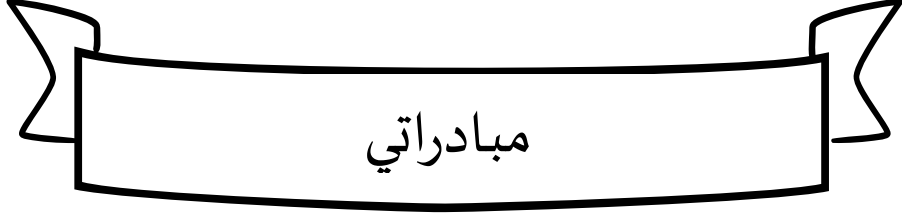
ثانياً: شاهد المستند الذي أمامك والموجود في صفحة (80) من الكتاب المدرسي.



	أكبر 3 مناطق أو دول تصدر إليها دول مجلس التعاون
	أكبر 3 مناطق أو دول تستورد منها دول مجلس التعاون
	ماهي السلعة الأهم التي تصدرها دول مجلس التعاون؟
	حجم التبادل التجاري بين دول مجلس التعاون بعضها ببعض يعتبر ضئيلاً علل.



الوصف	<input type="checkbox"/> أتقنت العمل بطريقة منظمة	<input type="checkbox"/> أتقنت بعض العمل	<input type="checkbox"/> لم تحقق الإنجاز المطلوب
النتيجة			
التعزيز	<input type="checkbox"/> أحسنت مجهود رائع ومميز	<input type="checkbox"/> أشكرك على المحاولة وثق بك لبذل المزيد	<input type="checkbox"/> تحتاج الى مزيد من بذل الجهد والمثابرة
الدعم	<input type="checkbox"/> لإثراء أفكارك إستعن بمصادر خارجية (الانترنت - مصادر التعلم)	<input type="checkbox"/> لتكن إجابتك دقيقة راجع الكتاب ص	<input type="checkbox"/> إستعن بزميلك لإنجاز العمل المطلوب



مبادرات

-الدرس السابع والعشرون: اكتب معلومات مدعمة بالصور عن حكام دول مجلس التعاون لدول الخليج العربية.

2025

2024

تدريسية جدهفص الإعدادية للبنين

Jidha's Intermediate Boys School

الدرس (27) مجلس التعاون لدول الخليج العربية

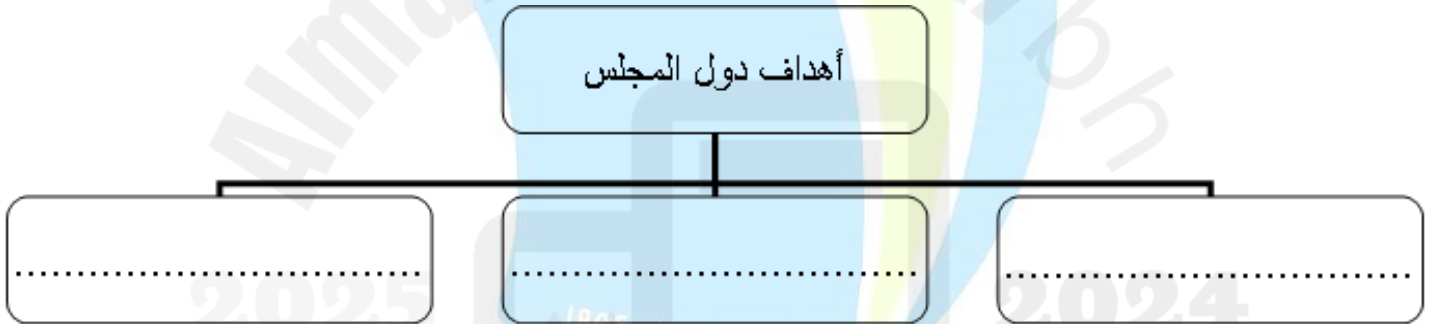
ص 85

الهدف الأول: يتعرّف أهم أهداف مجلس التعاون لدول الخليج العربية.

أولاً: اختر الإجابة الصحيحة من بين الإجابات الخاطئة فيما يأتي:

- 1- جميع ما يلي من السمات التي تجمع بين دول المجلس ما عدا:
 أ- وحدة تراثها ب. عقيدتها الإسلامية ج. لغتها الفرنسية د. قضاياها المشتركة
- 2- تم تأسيس مجلس التعاون لدول الخليج العربي في العام:
 أ. 1982 م ب. 1981 هـ ج. 1981 م د. 1990 م
- 3- تأسس مجلس التعاون في مدينة:
 أ- دبي ب. مسقط ج. المنامة د. أبوظبي

ثانياً: استكمل المخطط الآتي، بكتابة أهداف مجلس التعاون:



الهدف الثاني: يستنتج أجهزة مجلس التعاون لدول الخليج العربية وإنجازاته.

- أكمل الجدول التالي باستنتاج أجهزة دول مجلس التعاون من خلال العبارة.

العبارة	أجهزة دول المجلس
يتكون من رؤساء الدول الأعضاء وتكون رئاسته دورية وفقاً للترتيب الأبجدي لأسماء الدول
تتولى القيام بفض المنازعات القائمة التي قد تقع بين الدول الأعضاء.
يتكون من وزراء خارجية الدول ومهمته اعداد الدراسات والموضوعات التي تعرض على المجلس الأعلى.
تتألف من الأمين العام والأمناء المساعدين. ومهمتها تنفيذ قرارات وتوصيات المجلس الأعلى واعداد الدراسات.

الهدف الثالث: يوضح أوجه التعاون بين دول مجلس التعاون.

قام المجلس منذ تأسيسه بتحقيق عدد من المشروعات والإنجازات المهمة التي توزعت على عدة مجالات. أكمل الجدول الآتي مبيناً أبرز إنجازات مجلس التعاون في مختلف المجالات.

المجالات	الإنجازات
العسكري	-1
	-2
	-3
	-4
	-5
	-6
	-7
الاقتصادي	-1
	-2 إنشاء عدد من المشاريع المشتركة مثل: تأسست عام 2024
البيئي	-1
	-2
الصحي
التربوي

اذكر أسماء حكام دول مجلس التعاون الخليجي حاليا في الجدول التالي

اسم الحاكم الحالي	الدولة
.....	مملكة البحرين
.....	المملكة العربية السعودية
.....	الإمارات العربية المتحدة
.....	دولة قطر
.....	دولة الكويت
.....	سلطنة عمان

الوصف	<input type="checkbox"/> أتقنت العمل بطريقة منظمة	<input type="checkbox"/> أتقنت بعض العمل	<input type="checkbox"/> لم تحقق الإنجاز المطلوب
النتيجة			
التعزيز	<input type="checkbox"/> أحسنت مجهود رائع ومميز	<input type="checkbox"/> أشكرك على المحاولة وثق بك لبذل المزيد	<input type="checkbox"/> تحتاج الى مزيد من بذل الجهد والمثابرة
الدعم	<input type="checkbox"/> لإثراء أفكارك إستعن بمصادر خارجية (الانترنت – مصادر التعلم)	<input type="checkbox"/> لتكن إجابتك دقيقة راجع الكتاب ص	<input type="checkbox"/> إستعن بزميلك لإنجاز العمل المطلوب

تمارين وأسئلة حول الاقتصاد في دول المجلس

أولاً: اختر الإجابة الصحيحة من بين الإجابات الخاطئة فيما يأتي:

1- وظفت دول المجلس عائداتها النفطية في تنفيذ خطط ومشروعات، فأعطت الأولوية:

- أ- للبنية التحتية ب. للزراعة ج. للصناعة د. للتنمية البشرية

2- من جهود دول المجلس لتوفير مياه الري لتنمية القطاع الزراعي:

- أ. بناء السدود ب. الصوامع ج. الاسمدة د. نشر الزراعة المحمية

3- أكثر الزراعات انتشاراً في دول المجلس هي زراعة:

- أ- الموز ب. النخيل ج. الطماطم د. الباباي

4- تنحصر صناعة النحاس في:

- أ- البحرين ب. الامارات ج. عمان د. السعودية

5- تحتل المرتبة الثانية من مجموع صادرات دول المجلس:

- أ- النفط ب. الصناعة ج. الصناعات الغذائية د. الأسماك

6- من جهود دول المجلس لتنمية القطاع الحيواني:

- أ- مزارع لتربية الدواجن ب. معدات الصيد الحديثة ج. نشر الزراعة المحمية د. بناء الصوامع

ثانياً: صحح ما تحته خط في كل عبارة من العبارات الآتية واكتب الإجابة الصحيحة بين القوسين:

- 1- حققت السعودية اكتفاء ذاتياً في إنتاجها من الأعلاف. (.....)
- 2- من أهم الصناعات الخفيفة في دول المجلس هي صناعة البتروكيماويات. (.....)
- 3- تصدر دول مجلس التعاون أكبر كمية من صادراتها الى كندا. (.....)
- 4- في مجال الصيد البحري، عممت دول المجلس استعمال معدات الصيد التقليدية. (.....)
- 5- الدولة الخليجية الوحيدة التي لا توجد فيها صناعة البتروكيماويات هي الكويت. (.....)
- 6- من أبرز العوائق التي يواجهها القطاع الزراعي في دول مجلس التعاون فيضانات الأنهار. (.....)

ثالثاً: اذكر السبب: -

1- ازدهار الحركة التجارية في دول مجلس التعاون لدول الخليج العربية.

2- حدوث تحولات أساسية في اقتصاد دول مجلس التعاون خاصة منذ منتصف السبعينات.

3- توظيف دول مجلس التعاون قسم من إيراداتها النفطية لتنمية قطاعها الزراعي منذ السبعينات.

4- نقص القوى العاملة الفنية والمهندسين الزراعيين المحليين.

رابعاً: قارن بين صادرات دول مجلس التعاون ووارداتها بإكمال الفراغات بالمخطط الآتي حسب معطياته ، مستفيداً مما درست

في موضوع: "اتجاهات الحركة التجارية"



خامساً: اكتب في الجدول الآتي العوائق التي تعترض تقدم قطاعي الزراعة والصناعات التحويلية في دول مجلس التعاون.

القطاع	العوائق التي تعترض تقدمه
الزراعي	<ul style="list-style-type: none"> • • •
الصناعات التحويلية	<ul style="list-style-type: none"> • • •

الوصف	<input type="checkbox"/> أتقنت العمل بطريقة منظمة	<input type="checkbox"/> أتقنت بعض العمل	<input type="checkbox"/> لم تحقق الإنجاز المطلوب
النتيجة			
التعزيز	<input type="checkbox"/> أحسنت مجهود رائع ومميز	<input type="checkbox"/> أشرك على المحاولة وثق بك لبذل المزيد	<input type="checkbox"/> تحتاج الى مزيد من بذل الجهد والمثابرة
الدعم	<input type="checkbox"/> لإثراء أفكارك إستعن بمصادر خارجية (الانترنت - مصادر التعلم)	<input type="checkbox"/> لتكن إجابتك دقيقة راجع الكتاب ص	<input type="checkbox"/> إستعن بزميلك لإنجاز العمل المطلوب

التربية للمواطنة

KINGDOM OF BAHRAIN

Ministry of Education



مملكة البحرين

وزارة التربية والتعليم

المحتوى العلمي المطلوب لمادة التربية للمواطنة للفصل الأول من العام الدراسي ٢٠٢٤-٢٠٢٥ م

المسار: الأساسي

المادة/اسم المقرر ورمزه: التربية للمواطنة

الصف: الأول الإعدادي

اسم الكتاب: التربية للمواطنة للصف الأول إعدادي

الملاحظات	الأسبوع	الصفحة (من - إلى)	عنوان الدرس ورقمه	الفصل
	٣-١	١٣-١٠	الدرس الأول: المجتمع البحريني (١) عناصر المجتمع البحريني وسماته	الأول
	٧-٤	١٧-١٤	الدرس الثاني: المجتمع البحريني (٢) التطور المجتمعي في مملكة البحرين	
	١٠-٨	١٩-١٨	الدرس الثالث: الدولة الحديثة في مملكة البحرين	
	١٤-١١	٢٣-٢٠	الدرس الرابع: الملك حمد بن عيسى آل خليفة (١) ولاية العهد والسنوات الأولى في الحكم	

وزارة التربية والتعليم - الفصل الدراسي الأول ٢٠٢٤-٢٠٢٥ م



-الدرس الأول: ارسـم أو الصق صوراً تعبر عن عناصر المجتمع البحريني.

Handwriting practice area with horizontal dashed lines. A large watermark is visible in the center, featuring a stylized figure holding a book and a star, with the text 'Almanahi.com' and '2025 2024'.

الدرس الأول: المجتمع البحريني (1) عناصر المجتمع البحريني وسماته

ص 10

أولاً: اختر الإجابة الصحيحة من بين الإجابات الخاطئة فيما يأتي:

1- تشكل شعب البحرين من جماعات قدمت من:

(أ) شبه الجزيرة العربية (ب) أفريقيا (ج) شبه الجزيرة الهندية (د) أوروبا

2- كان شعب البحرين يعتمد في رزقه على صيد الأسماك و:

(أ) الزراعة التقليدية (ب) الزراعة الحديثة (ج) النفط (د) الغاز الطبيعي

3- بعد اكتشاف النفط حل القطاع مكان قطاع اللؤلؤ:

(أ) الزراعي (ب) التجاري (ج) النفطي (د) السياحي

4- استمد دستور مملكة البحرين التشريعات من:

(أ) الشريعة الإسلامية (ب) القانون الدولي (ج) الأعراف الدولية (د) الدستور الأمريكي

ثانياً: صحح ما تحته خط في كل عبارة من العبارات الآتية واكتب الإجابة الصحيحة بين القوسين:

1- من السمات التي تميز بها المجتمع البحريني بأنه مجتمع غربي إسلامي. (.....)

2- شهدت مملكة البحرين توالي حضارات مختلفة منها الحضارة الفرعونية. (.....)

3- يستمد شعب البحرين هويته الثقافية من الثقافة الشرقية الآسيوية. (.....)

4- تجمع الروابط الدينية واللغوية والجغرافية بين البحرين وأقطار الدول الأوروبية. (.....)

5- من أهم عناصر المجتمع البحريني العنصر البشري والاجتماعي. (.....)

ثالثاً: أذكر أبرز العناصر والسمات التي يتميز بها المجتمع البحريني، واعط شاهد على كل سمة.

	عناصر المجتمع البحريني

	-1	سمات المجتمع البحريني
	-2	
	-3	

رابعاً: كان المجتمع البحريني قديماً يستعمل الكتابة المسمارية أيام الحضارة الدلونية القديمة

اكتب اسمك باستخدام الحروف المسمارية كما في الشكل الذي تراه أمامك

أ	ب	ج	د	هـ	و
ز	ح	ط	ي	ك	ل
ش	م	ن	ظ	س	ع
ف	ص	ق	ر	ث	غ
ت	ي	ؤ	س ²		

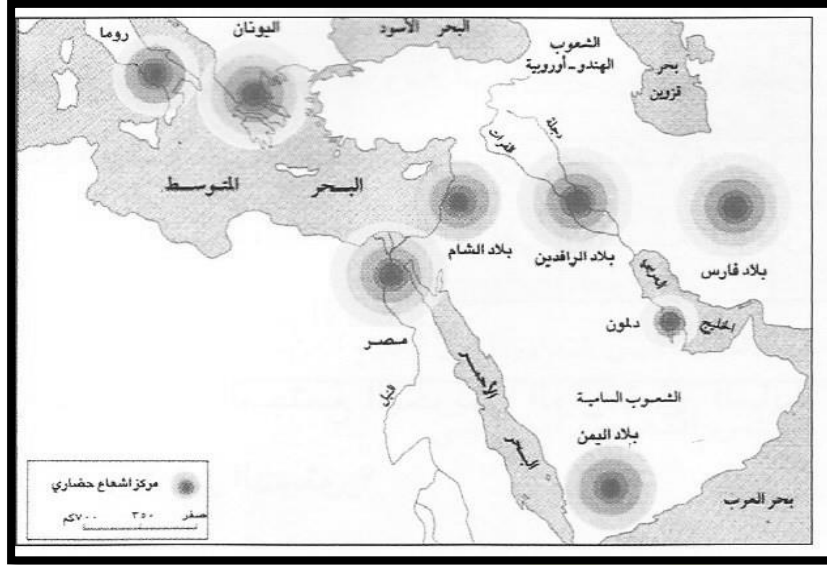
2024

تأسست عام 1964

مدرسة جدهفص الإبتدائية للبنين

mediate Boys' School

موقع المفاز

خامساً: انظر للخريطة التي أمامك ثم اجب:

مستعينا بالمستند رقم (5) في الصفحة (11) من كتاب التربية للمواطنة

اكتب اهم المراكز الحضارية القديمة التي تفاعلت معها حضارة دلمون ، ثم اكتب الاسم الحالي لتلك الحضارات علما بأن بعض الأسماء تغيرت وبعضها الآخر بقي على اسمه القديم

الرقم	المراكز الحضارية القديمة	الاسم الحالي لتلك الحضارة القديمة (سواء تغير الاسم أو بقي على حاله)
1		
2		
3		
4		

الوصف	<input type="checkbox"/> أتقنت العمل بطريقة منظمة	<input type="checkbox"/> أتقنت بعض العمل	<input type="checkbox"/> لم تحقق الإنجاز المطلوب
النتيجة			
التعزيز	<input type="checkbox"/> أحسنت مجهود رائع ومميز	<input type="checkbox"/> أشكرك على المحاولة وثق بك لبذل المزيد	<input type="checkbox"/> تحتاج الى مزيد من بذل الجهد والمثابرة
الدعم	<input type="checkbox"/> لإثراء أفكارك إستعن بمصادر خارجية (الانترنت - مصادر التعلم)	<input type="checkbox"/> لتكون إجابتك دقيقة راجع الكتاب ص	<input type="checkbox"/> إستعن بزميلك لإنجاز العمل المطلوب

مبادراتي

-الدرس الثاني: إصق صوراً تعبر عن التطور المجتمعي في مملكة البحرين.

Almanahi.com

2025 2024

تأسست عام 1968

مدرسة جدهفص الإعدادية للبنين
Jedahfuss International Boys School

موقع المفاهج البصري

الدرس الثاني: المجتمع البحريني (2) التطور المجتمعي في مملكة البحرين

ص 14

يدل التغيير الاجتماعي على حيوية المجتمع وقدرته على إدماج عناصر جديدة ذات فائدة، وتساهم في التغييرات الاجتماعية عوامل متعددة كما تمس هذه المتغيرات جوانب مختلفة من حياة المجتمع وأنشطته.

أجب على الأسئلة التالية:

1. عدد عوامل التطور المجتمعي في مملكة البحرين.

أ..... ب..... ج.....

2. ما سبب ارتفاع عدد سكان البحرين عدة مرات؟

أ..... ب.....

3. كيف ساهم التعليم في التطور المجتمعي في مملكة البحرين؟

-
-
-

4- ما مظاهر التطور المجتمعي التي حدثت في مملكة البحرين؟

-
-
-

5- ما التغيير الذي طال بنية الاسرة؟

-
-
-

6- ما الجهود التي قامت بها مملكة البحرين للعناية بالصحة؟

-
-

7- ما نتائج هذه الجهود؟

-
-
-

8- أنت كبرت الآن وحصلت على عمل راتبه لا يكفيك، فهل تتزوج من فتاة تعمل أم تجعلها تبقى في البيت لرعاية الأبناء،

أوضح رأيك

أريد الزواج من فتاة

بسبب

9- اكتب أسماء لبعض المهن القديمة والجديدة في البحرين

أمثلة على مهن جديدة	أمثلة على مهن قديمة
2025	2024

مدرسة جدحفص الإعدادية للبنين
Jidha's Intermediate Boys' School

الوصف	<input type="checkbox"/> أتقنت العمل بطريقة منظمة	<input type="checkbox"/> أشكرت على المحاولة وثق بك لبذل المزيد	<input type="checkbox"/> لم تحقق الإنجاز المطلوب
النتيجة			
التعزيز	<input type="checkbox"/> أحسنت مجهود رائع ومميز	<input type="checkbox"/> أشكرت على المحاولة وثق بك لبذل المزيد	<input type="checkbox"/> تحتاج الى مزيد من بذل الجهد والمثابرة
الدعم	<input type="checkbox"/> لإثراء أفكارك إستعن بمصادر خارجية (الانترنت - مصادر التعلم)	<input type="checkbox"/> لتكن إجابتك دقيقة راجع الكتاب ص	<input type="checkbox"/> إستعن بزميلك لإنجاز العمل المطلوب



مبادراتي

-الدرس الثالث: إلصق صوراً تعبر عن معالم الدولة الحديثة في مملكة البحرين.

Blank lined area for drawing and writing.



الدرس الثالث: الدولة الحديثة في مملكة البحرين

ص 18

أولاً: ضع علامة (√) أمام العبارة الصحيحة وعلامة (×) أمام العبارة الخاطئة مع تصحيح العبارات الخاطئة:

1- () يعود حكم آل خليفة للبحرين إلى نهاية القرن 17 م عندما فتح الشيخ أحمد الفاتح البحرين فلقب بالفاتح.

2- () تولى الشيخ عيسى بن سلمان آل خليفة مقاليد الحكم عام 1961 م

3- () من النتائج التي ترتبت على اعلان استقلال البحرين في 14 اغسطس 1971 م اتخاذ الشيخ عيسى بن سلمان لقب أمير دولة البحرين وإنهاء المعاهدات السياسية والعسكرية بين البحرين وبريطانيا.

ثانياً: صنف الانجازات التي تحققت في عهد الشيخ عيسى بن سلمان آل خليفة في الجدول أدناه:

- 1- الانضمام إلى جامعة الدول العربية. 2- شركة ألبا 3- الانضمام إلى منظمة المؤتمر الإسلامي
4- شركة بابكو 5- الانضمام إلى منظمة الأمم المتحدة 6- المجلس الوطني. 7- الحوض الجاف

المجال السياسي	المجالات الاقتصادية والتنمية
-1	-1
-2	-2
-3	-3
-4	-4

ثالثاً: أجب على الأسئلة التالية:

1- ما هي أركان الدولة؟

- ●
- ●
- ●

2- اذكر دعائم الدولة الحديثة وانجازات النهضة بالبحرين في عهد الشيخ عيسى بن سلمان آل خليفة .

- أ..... ب.....
- ج..... د.....
- هـ..... و.....
- ز..... ح.....

3- صنف بعض الإنجازات التي ذكرتها في السؤال السابق حسب مجالاتها (سياسية ، اقتصادية ، اجتماعية)

إنجاز اجتماعي	إنجاز اقتصادي	إنجاز سياسي

الوصف	<input type="checkbox"/> أتقنت العمل بطريقة منظمة	<input type="checkbox"/> أتقنت بعض العمل	<input type="checkbox"/> لم تحقق الإنجاز المطلوب
النتيجة			
التعزيز	<input type="checkbox"/> أحسنت مجهود رائع ومميز	<input type="checkbox"/> أشكرك على المحاولة وثق بك لبذل المزيد	<input type="checkbox"/> تحتاج الى مزيد من بذل الجهد والمثابرة
الدعم	<input type="checkbox"/> لإثراء أفكارك إستعن بمصادر خارجية (الانترنت - مصادر التعلم)	<input type="checkbox"/> لتكن إجابتك دقيقة راجع الكتاب ص	<input type="checkbox"/> إستعن بزميلك لإنجاز العمل المطلوب



مبادراتي

-الدرس الرابع: اكتب تقريراً مدعماً بالصور عن السنوات الأولى لحكم الملك حمد بن عيسى آل خليفة..

Almanahi.com

2025 1968 2024

مدرسة جدحفص الإعدادية للبنين
Jedah International Boys School

موقع المصاحف الإلكترونية

أولاً: - لماذا أعلن الشيخ عيسى بن سلمان آل خليفة، رسمياً لولاية العهد لابنه حمد عام 1964؟

(1) تم الإعلان بسبب:

- ●
- ●

(2) وعلى أساس مبادئ:

- ●
- ●
- ●

ثانياً: أكمل الفراغات التالية:

(1) نشأ الشيخ حمد نشأة عربية إسلامية وتلقى تعليماً، فقد كان يحضر
ويختلط بذوي في مجالات العلم المختلفة.

(2) مما ساهم في تميزه بسعة الأفق على قضايا العالم وتمرسه
وتكونت لديه قدرات قيادية متنوعة مكنته من تحقيق العديد من الإنجازات في أثناء توليه للعهد.

ثالثاً: اهم الاعمال التي قام بها الملك حمد في مجال بناء قوة دفاع البحرين:

- 1-.....
- 2-.....
- 3-.....
- 4-.....

رابعاً: أجب على الأسئلة التالية:

1- متى تولى الملك حمد مقاليد السلطة في البلاد؟

2- ما المبادئ التي اعتمدها الملك في حكمه؟

3- مم تكونت لجنة ميثاق العمل الوطني؟

4- متى تم إجراء الاستفتاء على مشروع ميثاق العمل الوطني؟ وكم بلغت نسبة الموافقة؟

5- عدد أبرز التعديلات الدستورية التي أقرها الملك حمد وأصدرها في فبراير 2002م؟

6- علل: علم البحرين مسنن ومقسم الى 5 اقسام.

7- ارسم خريطة البحرين



الوصف	<input type="checkbox"/> أتقنت العمل بطريقة منظمة	<input type="checkbox"/> أتقنت بعض العمل	<input type="checkbox"/> لم تحقق الإنجاز المطلوب
النتيجة			
التعزيز	<input type="checkbox"/> أحسنت مجهود رائع ومميز	<input type="checkbox"/> أشكرك على المحاولة وثق بك لبذل المزيد	<input type="checkbox"/> تحتاج الى مزيد من بذل الجهد والمثابرة
الدعم	<input type="checkbox"/> لإثراء أفكارك إستعن بمصادر خارجية (الانترنت - مصادر التعلم)	<input type="checkbox"/> لتكن إجابتك دقيقة راجع الكتاب ص	<input type="checkbox"/> إستعن بزميلك لإنجاز العمل المطلوب



مع أطيب التمنيات بالتوفيق والنجاح