

تم تحميل هذا الملف من موقع المناهج البحرينية



*للحصول على أوراق عمل لجميع الصفوف وجميع المواد اضغط هنا

<https://almanahj.com/bh>

* للحصول على أوراق عمل لجميع مواد الصف السابع اضغط هنا

<https://almanahj.com/bh/7>

* للحصول على جميع أوراق الصف السابع في مادة اجتماعيات ولجميع الفصول, اضغط هنا

<https://almanahj.com/bh/7>

* للحصول على أوراق عمل لجميع مواد الصف السابع في مادة اجتماعيات الخاصة بـ اضغط هنا <https://almanahj.com/bh/7>

* لتحميل كتب جميع المواد في جميع الفصول للـ الصف السابع اضغط هنا

<https://almanahj.com/bh/grade7>

[almanahjbhbot/me.t//:https](https://t.me/almanahjbhbot)

للتحدث إلى بوت على تلغرام: اضغط هنا

الأول الاعدادي



ص ٣٢

مستند ١ خريطة دول مجلس التعاون السياسية

لا يوجد تغيير

ص ٤٠
الدرس ملغي



مستند ١ مواقع أبرز خامات المعادن في دول المجلس

- قارن بين هذه الخريطة وخريطة أنواع الصخور في دول المجلس
- في أي نوع من الصخور تتركز معظم خامات المعادن في دول المجلس؟
- ما النول التي يكون فيها مركز هذه الخامات؟

الدرس ملغي

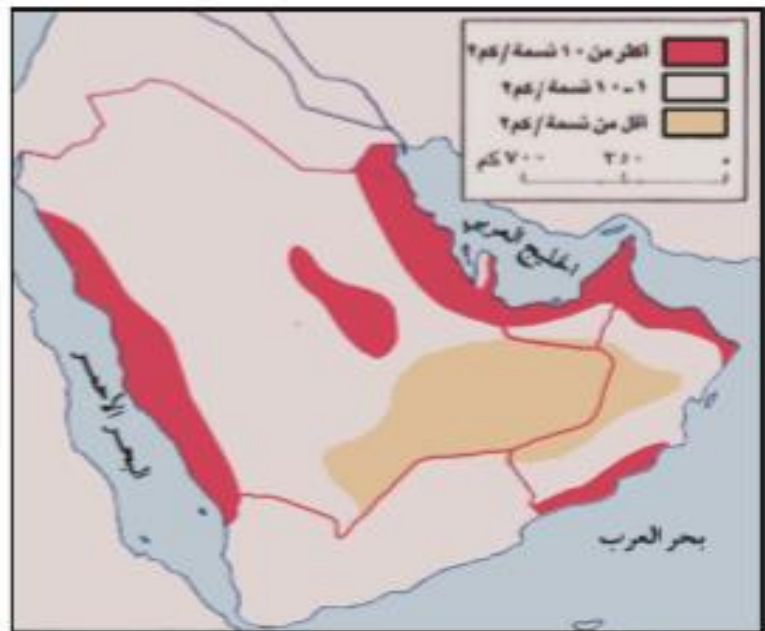
ص ٥٤



مستند ١ خريطة توزع النباتات الطبيعية في دول المجلس

لا يوجد تغيير (تعديل رقم الخريطة)

ص ٦٦



مستند ١ الكثافة السكانية في دول المجلس

حدد المناطق التي تشهد كثافة سكانية مرتفعة

لا يوجد تغيير

ص ٧٠



مستند ٢ توزيع الأراضي المزروعة في دول المجلس

لا يوجد تغيير

ص ٧٦



مستند ١ توزيع أهم أنواع الصناعات في دول المجلس

- في أي من دول مجلس التعاون تنتشر الصناعات الآتية؟
 - صناعة البتروكيماويات.
 - صناعة الحديد
 - صناعة الألمنيوم.

لا يوجد تغيير

الثاني الاعدادي



خريطة إفريقيا السياسية

لا يوجد تغيير (الوحدة ملغية)

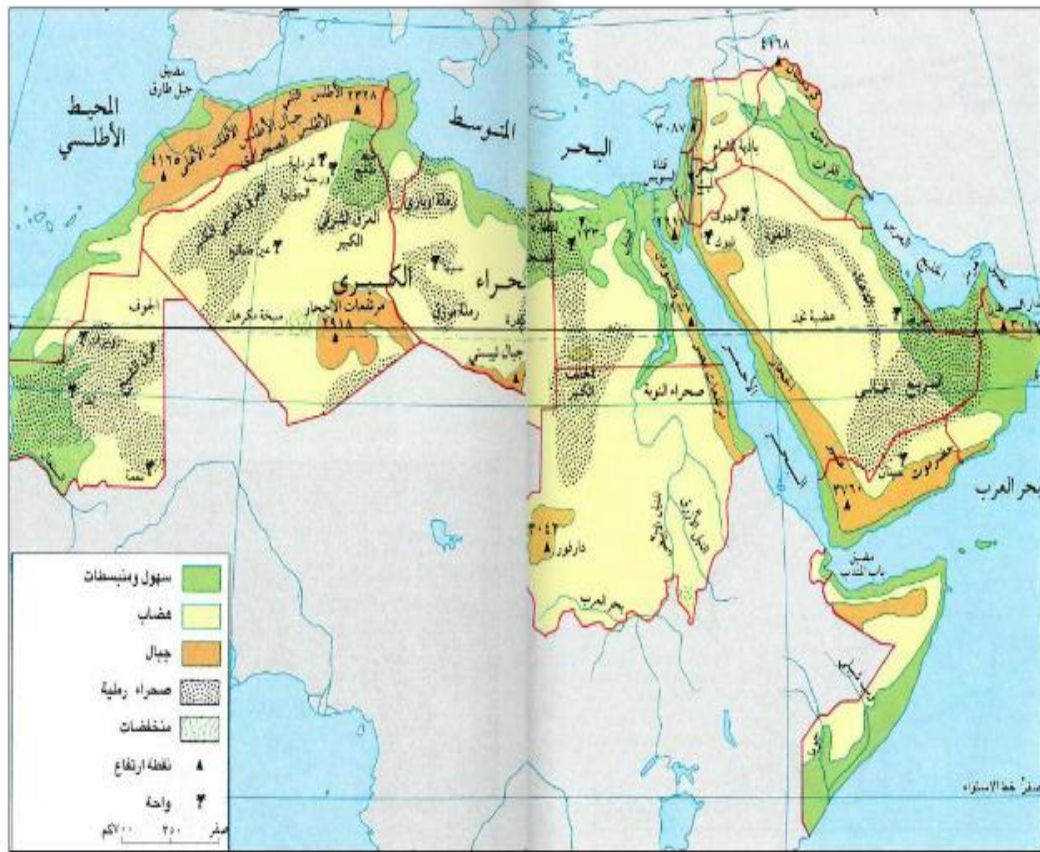


مستند ١ خريطة الوطن العربي السياسية

- ما حدود الوطن العربي من الشمال والشرق والجنوب والغرب وما البحار والمحيطات والمعمرات البحرية التي يشرف عليها؟
- ما القارات التي يحدّها فيها الوطن العربي؟ وفي أيّ منها يقع الجزء الأكبر منه؟

ص ٣٢

تم حذف الصحراء الغربية و إضافة الخليج العربي



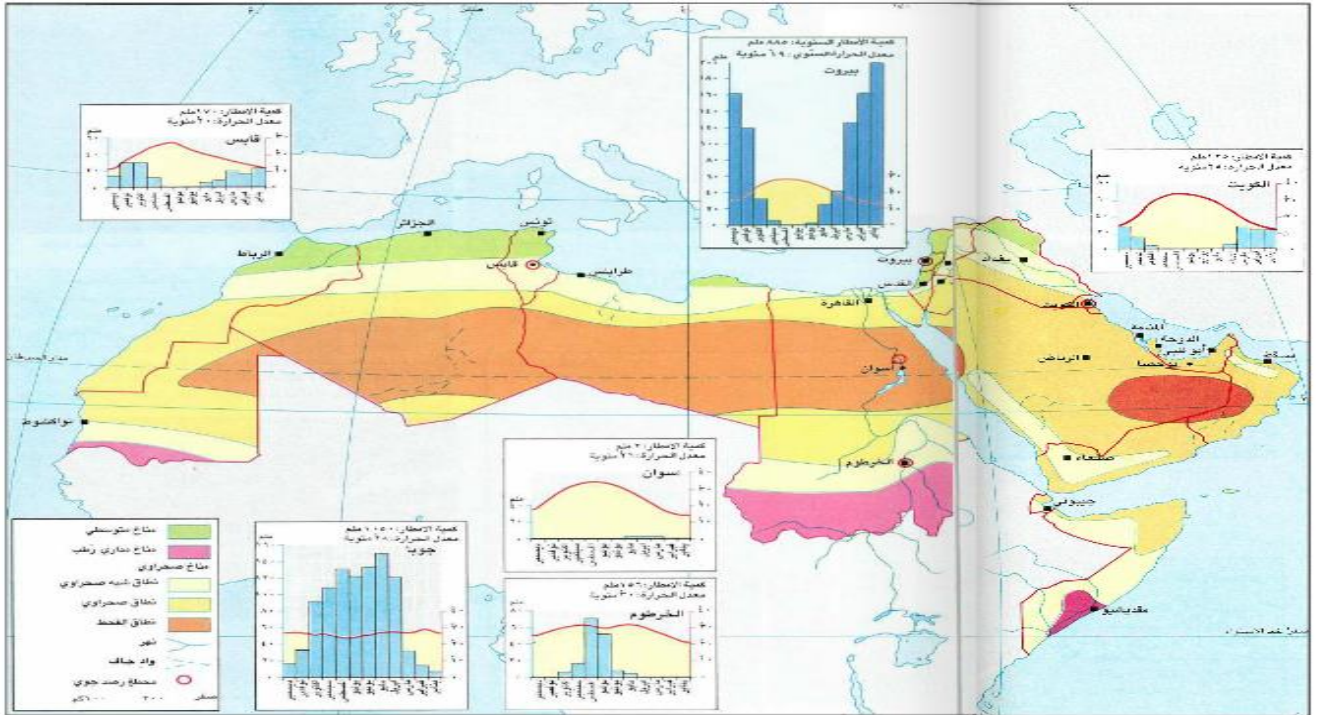
لاحظ المستند ٢:

- أيّ التضاريس يمثل أكبر مساحة في الوطن العربي؟
- سمّ هضاب الوطن العربي.
- سمّ بعض الجبال التي تقطع انبساط هضبة الصحراء الكبرى، وانكر ارتفاع أعلى قممها.
- سمّ بعض الجبال التي تقطع انبساط يابسة الشام (استعن بالمستند ٣).
- عبّر أسماء بعض الواحات المنتشرة في هضاب الوطن العربي.
- سمّ بعض المناطق الرملية المنتشرة في هضاب الوطن العربي.
- انكر أسماء السلاسل الجبلية التي تقع في كل من القسم الإفريقي والقسم الآسيوي من الوطن العربي، وانكر ارتفاع أعلى قممها (استعن بالمستند ١ و ٣).
- أين تقع السلاسل الجبلية بالنسبة إلى شواطئ الوطن العربي؟
- راقب مواقع انتشار المنبسّات والسهول الساحلية ومواقع السلاسل الجبلية.
- أين تنتشر المنبسّات والسهول الساحلية وأين تضيق؟ لماذا؟
- ما الدول التي تنتشر فيها منبسّات ساحلية رملية؟
- أين تلاحظ انتشار السهول في كل من العراق ومصر؟
- استعن بالأطلس وقارن شواطئ الوطن العربي وشواطئ أوروبا، ماذا تستنتج؟
- استعن بالأطلس وانكر أسماء بعض جزر الوطن العربي.

ص ٣٦-٣٧

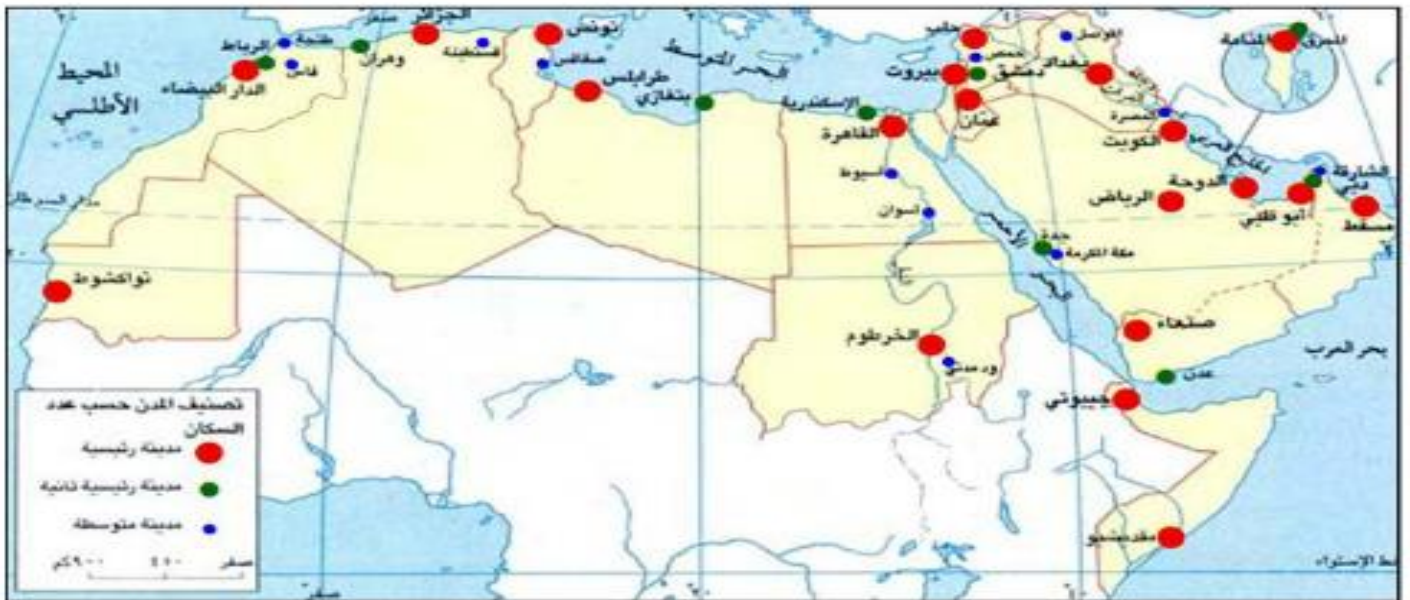
تم حذف الصحراء الغربية

خريطة الأقاليم المناخية في الوطن العربي



ص ٤٠-٤١

تم حذف مدينة العيون من الخريطة

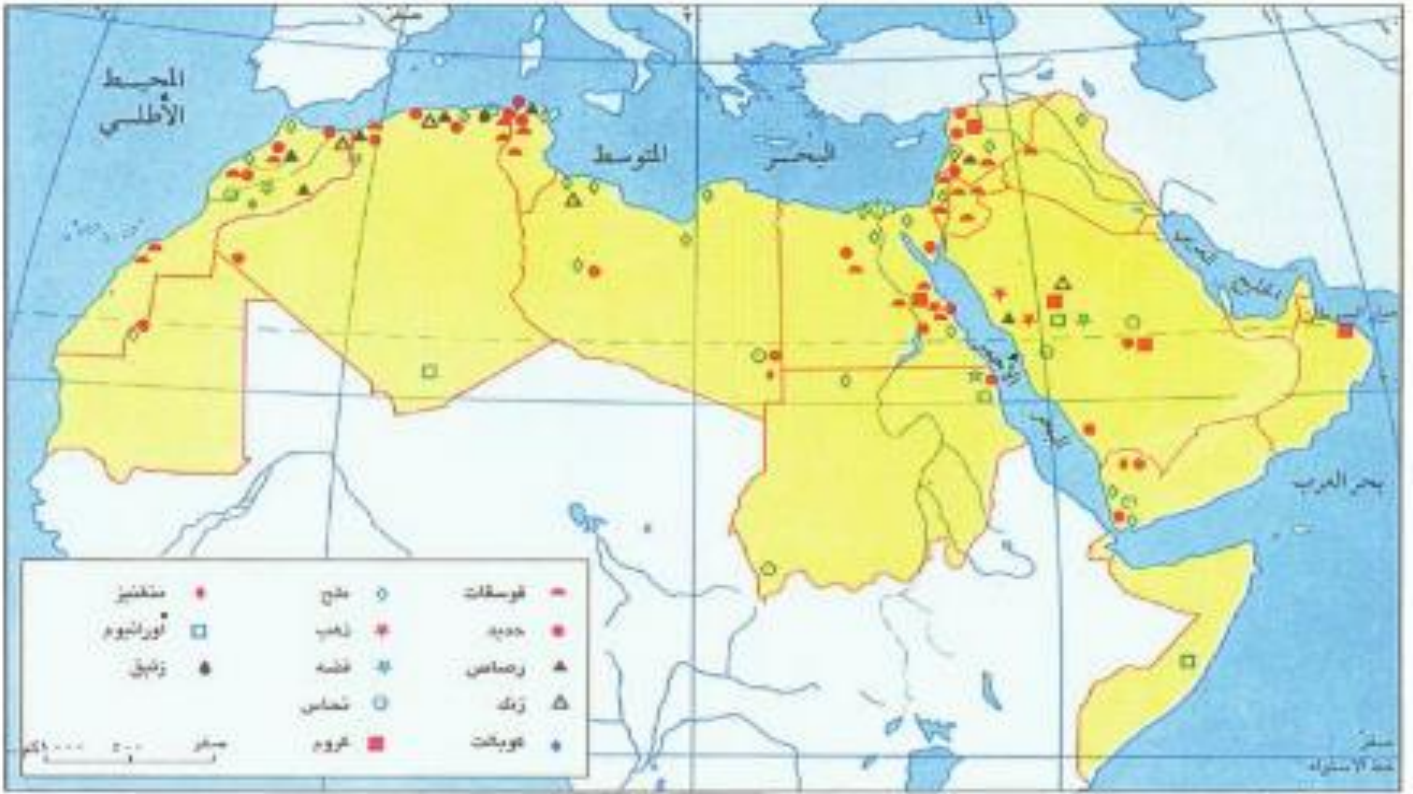


مستند ١ تُوَزَع المدن العربية من حيث عدد السكان

- تم المدن الرئيسية من حيث عدد السكان في كل دولة من دول الوطن العربي.
- ما وقليلة هذه المدن بالنسبة إلى دولها؟
- بين عدم توازن المدن سكانياً في كل دولة من دول الوطن العربي. استشهد ببعض الأمثلة.

ص ٦٦

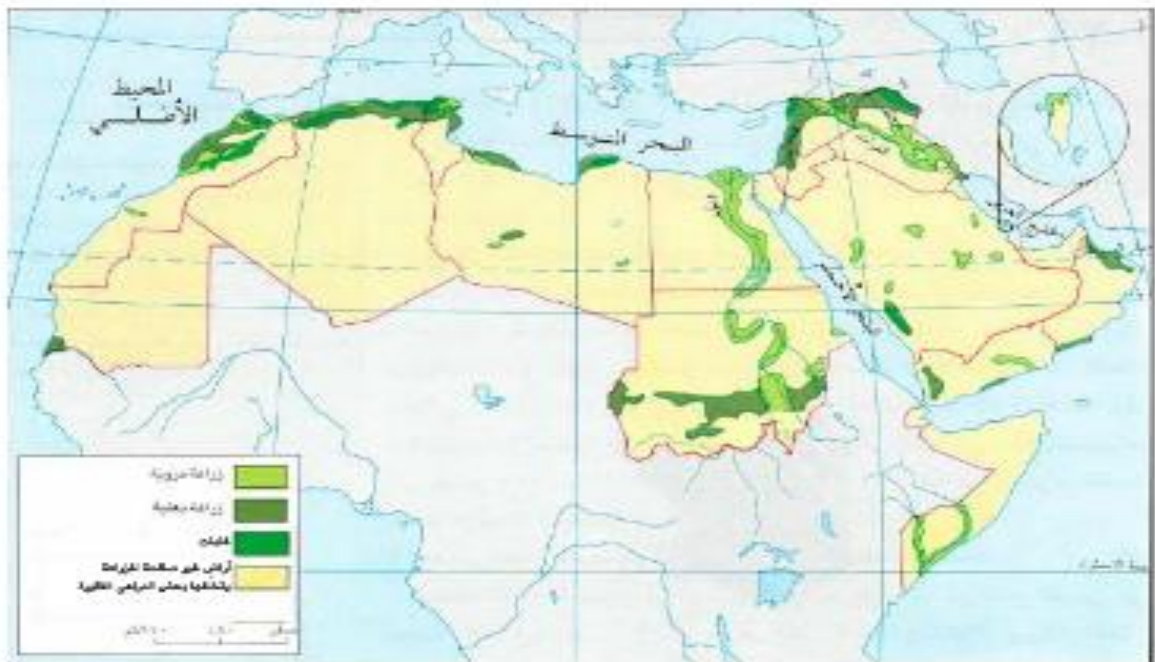
لا يوجد تغيير



مستند ١ مواقع خامات المعادن في الوطن العربي

ص ٧٢

لا يوجد تغيير



مستند ١ خريطة توزع الأراضي الزراعية في الوطن العربي

ص ٧٨

لا يوجد تغيير



مستند ١ أماكن توزيع المحاصيل الزراعية في الوطن العربي

ص ٨٠

حذف الصحراء الغربية

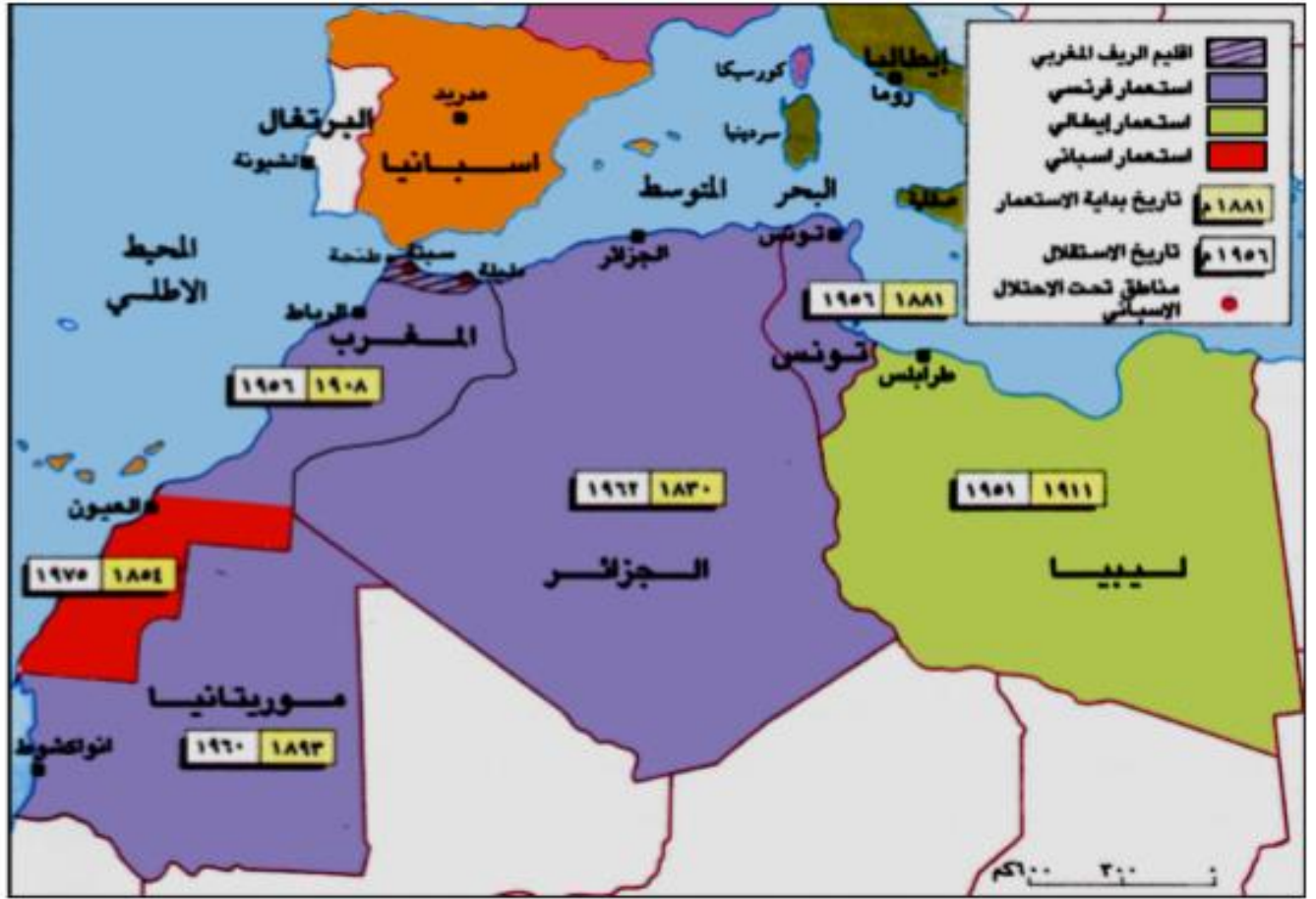


مستند ١ شبكات الطرق البرية والبحرية الرئيسية في الوطن العربي

ص ٩٠

حذف الصحراء الغربية و مدينة العيون

الثالث الاعدادي



١) استقلال دول المغرب العربي

- عندّ دول المغرب العربي وانكر من استعمر كلاً منها. مع التواريخ
- متى نالت كل دولة منها استقلالها؟

ص ١٢٠

تم حذف الصحراء الغربية - تم الغاء النقاط الحدودية بين المغرب و الصحراء الكبرى لأنه قد تم ضمها للمغرب