

تم تحميل هذا الملف من موقع المناهج البحرينية



## كراسة الاجتماعيات والتربية للمواطنة

موقع المناهج ← المناهج البحرينية ← الصف السابع ← المواد الاجتماعية ← الفصل الأول ← ملفات متنوعة ← الملف

تاريخ إضافة الملف على موقع المناهج: 2024-10-22 11:06:42

ملفات اكتب للمعلم اكتب للطالب الاختبارات الكترونية | اختبارات | حلول | عروض بوربوينت | أوراق عمل  
منهج انجليزي | ملخصات وتقارير | مذكرات وبنوك | الامتحان النهائي للمدرس

المزيد من مادة  
المواد  
الاجتماعية:

## التواصل الاجتماعي بحسب الصف السابع



صفحة المناهج  
البحرينية على  
فيسبوك

الرياضيات

اللغة الانجليزية

اللغة العربية

التربية الاسلامية

المواد على تلغرام

## المزيد من الملفات بحسب الصف السابع والمادة المواد الاجتماعية في الفصل الأول

كراسة الاجتماعيات والتربية للمواطنة

1

المذكرة الذهبية في المواد الاجتماعية

2

مذكرة الاجتماعيات

3

المذكرة الذهبية للمواد الاجتماعية

4

ملخص الاختبار الأول

5

KINGDOM OF BAHRAIN

Ministry of Education

Awal Intermediate Boys School



مملكة البحرين

وزارة التربية والتعليم  
مدارسنا أقاليم الإبداعية للبنين

رؤيتنا: بمهاراتي أرتقي.. لوطني أنتمي .. بسلوكي أتميز



كراسة أنشطة الطالب

للصف الأول الإعدادي

لمادة الاجتماعيات والتربية للمواطنة

(الفصل الأول – للعام الدراسي 2024 – 2025 م)

اسم الطالب: ----- الصف: الأول الإعدادي / -----



استمارة التقييم والتواصل مع ولي الأمر حول الإنجاز الأكاديمي للطالب

التاريخ	الدرجة من 12	ملاحظات المعلم	ملاحظات ولي الأمر
---- / ---- 2024 / م	12	<input type="radio"/> الكراسة كاملة ، وظفت المطلوب منك. <input type="radio"/> بعض الأنشطة غير كاملة. <input type="radio"/> الكراسة ناقصة. السلوك ----- المشاركة الصفية: -----	ملاحظات ولي الأمر ----- ----- -----
	12	<input type="radio"/> الكراسة كاملة ، وظفت المطلوب منك. <input type="radio"/> بعض الأنشطة غير كاملة. <input type="radio"/> الكراسة ناقصة. السلوك ----- المشاركة الصفية: -----	ملاحظات ولي الأمر ----- ----- -----
---- / ---- 2024 / م	12	<input type="radio"/> الكراسة كاملة ، وظفت المطلوب منك. <input type="radio"/> بعض الأنشطة غير كاملة. <input type="radio"/> الكراسة ناقصة. السلوك ----- المشاركة الصفية: -----	ملاحظات ولي الأمر ----- ----- -----
	12	<input type="radio"/> الكراسة كاملة ، وظفت المطلوب منك. <input type="radio"/> بعض الأنشطة غير كاملة. <input type="radio"/> الكراسة ناقصة. السلوك ----- المشاركة الصفية: -----	ملاحظات ولي الأمر ----- ----- -----
---- / ---- 2024 / م	12	<input type="radio"/> الكراسة كاملة ، وظفت المطلوب منك. <input type="radio"/> بعض الأنشطة غير كاملة. <input type="radio"/> الكراسة ناقصة. السلوك ----- المشاركة الصفية: -----	ملاحظات ولي الأمر ----- ----- -----
	12	<input type="radio"/> الكراسة كاملة ، وظفت المطلوب منك. <input type="radio"/> بعض الأنشطة غير كاملة. <input type="radio"/> الكراسة ناقصة. السلوك ----- المشاركة الصفية: -----	ملاحظات ولي الأمر ----- ----- -----
ملاحظات أخرى			ملاحظات ولي الأمر ----- ----- -----

السؤال الأول: ضع علامة (✓) أمام العبارات الصحيحة وعلامة (×) أمام العبارات الخاطئة: (3 درجات)

1. ( ..... ) زادت أهمية موقع دول مجلس التعاون بعد اكتشاف النفط.
2. ( ..... ) تقع دول مجلس التعاون في شمال شرق القارة الآسيوية.
3. ( ..... ) تقع دول مجلس التعاون بين خطي الطول 34° و60° شرق خط غرينتش.

السؤال الثاني: أجب عن السؤال التالي: (درجتان)

1- علل: تنافس الدول الاستعمارية على منطقة الخليج العربي:

- (أ) .....
- (ب) .....

السؤال الثالث: أذكر طرق التجارة على شبه الجزيرة العربية بين بلاد الهند وبلاد ما بين النهرين

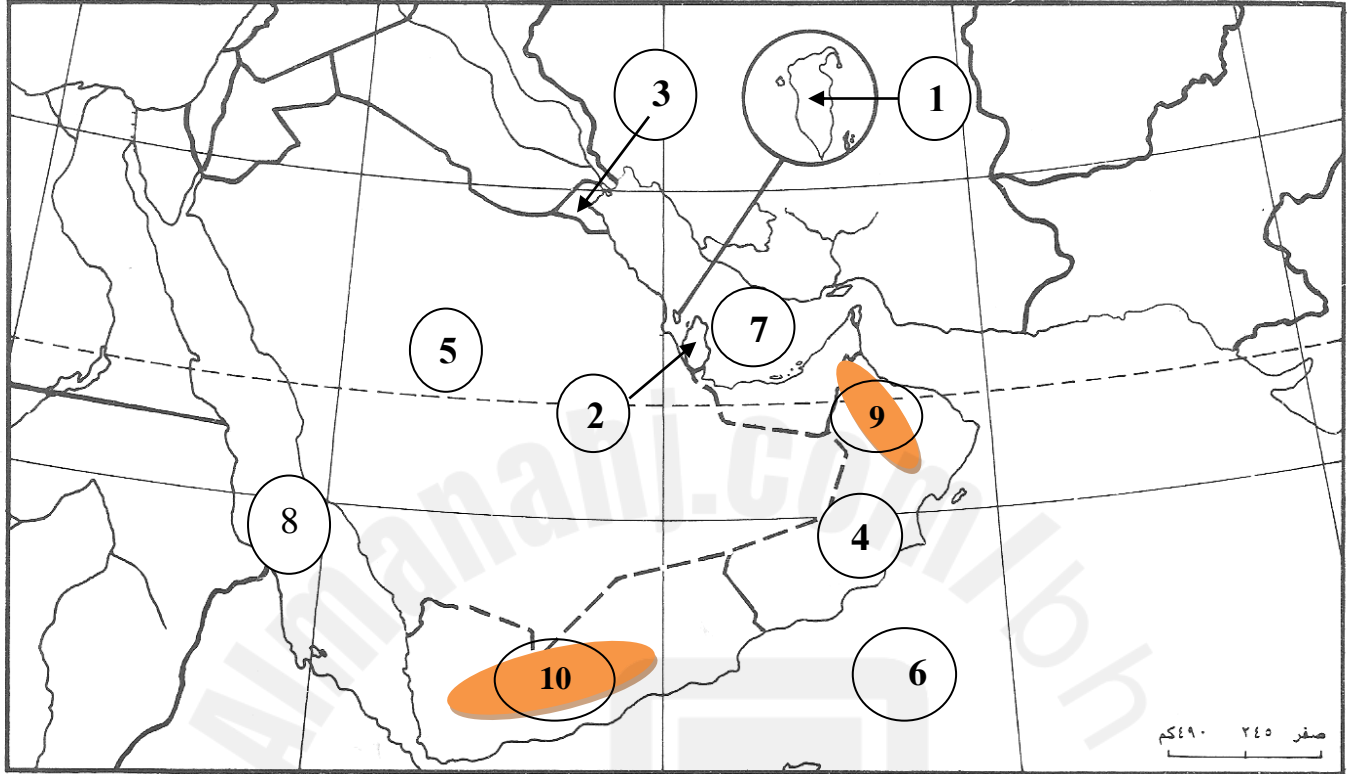
والشام وأبرز محطاتها في الجدول التالي: (5 درجات)

المحطات التجارية	الطريق الرئيسي	الطريق (بحري / بري)
		1-البحري
		2-البحري
		البري

الدرجة	التقدير	الملاحظات
	○ ممتاز	○ شكرا لجهودك الرائعة ○ اجاباتك دقيقة ونموذجية ○ عملك متقن ومميز
	○ جيد جدا	○ أكمل إجابات النشاط بالرجوع للكتاب ○ صحح الأخطاء بالرجوع للكتاب
10	○ جيد	أخرى:

الموضوع: مهارة تحليل خريطة دول مجلس التعاون الصفحة (33) التاريخ /...../..... /2024م

السؤال: أجب عن الأسئلة التالية مستعيناً بالخريطة أدناه حسب ما تمثله الأرقام:



اهم الجبال في دول المجلس	المسطحات المائية	دول مجلس التعاون
(9)	(6)	(1)
(10)	(7)	(2)
	(8)	(3)
		(4)
		(5)

الدرجة	التقدير	الملاحظات
	ممتاز <input type="radio"/>	شكراً لجهودك الرائعة <input type="radio"/> اجاباتك دقيقة ونموذجية <input type="radio"/> عملك متقن ومميز <input type="radio"/>
	جيد جداً <input type="radio"/>	أكمل إجابات النشاط بالرجوع للكتاب <input type="radio"/> صحح الأخطاء بالرجوع للكتاب <input type="radio"/>
10	جيد <input type="radio"/>	أخرى:

السؤال الأول: ضع علامة (✓) أمام العبارات الصحيحة وعلامة (×) أمام العبارات الخاطئة: (3 درجات)

1. ( ..... ) يمتد المنبسط الشرقي من الساحل الجنوبي الشرقي حتى اليمن.
2. ( ..... ) تمتد سلسلة جبال عُمان على شكل قوس عريض، من رأس مسندم شمالاً حتى الحد جنوباً.
3. ( ..... ) يحتوي المنبسط الشرقي على غالبية الثروة المعدنية في دول مجلس التعاون.

السؤال الثاني: أجب عن السؤال التالي : (درجة)

1- اذكر خصائص الجبال الغربية في دول مجلس التعاون:

----- (أ)

----- (ب)

السؤال الثالث: قارن بين الهضاب الشرقية والغربية في الجدول التالي: (6 درجات)

الهضاب الغربية	الهضاب الشرقية	أوجه المقارنة
		نوع الصخور
		شكل الهضاب
		أمثلة للهضاب

الدرجة	التقدير	الملاحظات
	○ ممتاز	○ شكراً لجهودك الرائعة ○ اجاباتك دقيقة ونموذجية ○ عملك متقن ومميز
	○ جيد جداً	○ أكمل إجابات النشاط بالرجوع للكتاب ○ صحح الأخطاء بالرجوع للكتاب
10	○ جيد	أخرى:

السؤال الأول: ضع الكلمات التالية في الفراغ المناسب: (4 درجات)

(أرخبيل البحرين - الصحراوية الحارة - شدة التبخر - المحيط الهندي)

- 1- يقع الخليج العربي في المنطقة .....
- 2- خليج عُمان يصل الخليج العربي ب.....
- 3- أبرز الجزر في الخليج العربي هي جزر الإمارات و.....
- 4- ترتفع ملوحة مياه الخليج العربي بسبب .....

السؤال الثاني: أجب عن السؤال التالي: (درجة)

علل: حركة هدوء مياه الخليج العربي:

(أ) ..... (ب) .....

السؤال الثالث: وضح سبب انخفاض حرارة وملوحة مياه الخليج العربي في الجدول التالي: (5 درجات)

موقع انخفاض الحرارة والملوحة	سبب انخفاض الحرارة	سبب انخفاض الملوحة
الأطراف الجنوبية		
الأطراف الشمالية		
بين قطر والأحساء (الوسط)		

الدرجة	التقدير	الملاحظات
	○ ممتاز	○ شكرا لجهودك الرائعة ○ اجاباتك دقيقة ونموذجية ○ عملك متقن ومميز
	○ جيد جدا	○ أكمل إجابات النشاط بالرجوع للكتاب ○ صحح الأخطاء بالرجوع للكتاب
10	○ جيد	أخرى:

السؤال الأول: ضع علامة ( ✓ ) أمام العبارات الصحيحة وعلامة ( × ) أمام العبارات الخاطئة: ( 3 درجات )

1. ( ..... ) يتركز وجود النفط والغاز الطبيعي في المناطق الغربية لدول مجلس التعاون.
2. ( ..... ) يتكون النفط من بقايا نباتية وحيوانية في الطبقة الرسوبية، فتحللت وشكلت سائل لزج.
3. ( ..... ) يعتبر النفط من أهم الموارد الطبيعية في العالم.

السؤال الثاني: أجب عن السؤال التالي: ( 4 درجات )

1- عدد مزايا النفط في دول مجلس التعاون؟

- أ) .....
- ب) .....
- ج) .....
- د) .....

السؤال الثالث: من خلال النص التالي أجب عن الأسئلة التالية: (3 درجات)

يعتبر حقل الغوار، في المملكة العربية السعودية أكبر حقل نفطي في العالم. يبلغ طوله 241 كلم وعرضه 35 كلم. ويمكنه إنتاج خمسة ملايين برميل في اليوم. ويشكل حقل الشمال للغاز الطبيعي الثروة المستقبلية لدولة قطر. وهو يقع على بعد 80 كلم من السواحل القطرية. يقدر حجم مخزونه حالياً بخمسة مليارات متر مكعب من الغاز الطبيعي. وقد يستمر استغلاله مدة قرنين من الزمن.

س1: ما اسم أكبر حقل نفط في العالم؟ وأين يقع؟

س2: ماذا يمثل حقل الشمال لدولة قطر؟

س3: كم يبلغ حجم مخزون حقل الغوار يومياً؟

الدرجة	التقدير	الملاحظات
	○ ممتاز	○ شكراً لجهودك الرائعة ○ اجاباتك دقيقة ونموذجية ○ عملك متقن ومميز
	○ جيد جداً	○ أكمل إجابات النشاط بالرجوع للكتاب ○ صحح الأخطاء بالرجوع للكتاب
10	○ جيد	أخرى:



**السؤال الأول: ضع الكلمات التالية في الفراغ المناسب: (6 درجات)**

(المناطق الجبلية – المتوسطة الشمالية – منتظمة – صحراوي حار – دول المجلس – الموسمية الجنوبية)

- 1- يتميز المناخ في دول مجلس التعاون بأنه .....
- 2- تتميز المنطقة شبه الصحراوية بتساقط أمطار .....
- 3- تهب على جبال ظفار وعسير في فصل الصيف الرياح .....
- 4- تهب على جبال عُمان والحجاز في فصل الشتاء الرياح .....
- 5- تشمل المنطقة الصحراوية باقي مناطق .....
- 6- تشمل المنطقة شبه الصحراوي .....

**السؤال الثاني: أجب عن الأسئلة التالية: (3 درجات)**

- 1- اذكر العوامل التي جعلت بعض خصائص المناخ الصحراوي تختلف من منطقة إلى أخرى:  
(أ) .....
  - (ب) .....
- 2- علل: تختلف نسبة الرطوبة بين المناطق الداخلية والساحلية بدول مجلس التعاون:

**السؤال الثالث: أجب عن السؤال التالي: (درجة)**

- 1- من وجهة نظرك: لماذا تعتبر صحراء الربع الخالي منطقة شديدة الجفاف:

الدرجة	التقدير	الملاحظات
	○ ممتاز	○ شكرا لجهودك الرائعة ○ اجاباتك دقيقة ونموذجية ○ عمك متقن ومميز
	○ جيد جدا	○ أكمل إجابات النشاط بالرجوع للكتاب ○ صحح الأخطاء بالرجوع للكتاب
10	○ جيد	أخرى:

السؤال الأول: أجب عن الأسئلة التالية : (5 درجات):

1- علل: نضوب المياه الجوفية في دول مجلس التعاون:

(أ)-----

2- عدد النتائج المترتبة على نضوب المياه الجوفية في دول مجلس التعاون:

(أ)-----

(ب)-----

3- اقترح حلول للمحافظة على الثروة المائية في دول مجلس التعاون:

(أ)-----

(ب)-----

السؤال الثاني: أجب عن السؤال التالية : (5 درجات)

أذكر الفوائد لحلول مشكلة شح المياه بدول مجلس التعاون في الجدول التالي:

وسائل لحل مشكلة شح المياه وتنميتها	الفوائد
بناء السدود	1----- 2-----
تحلية مياه البحر	1-----
تنقية مياه الصرف الصحي	1----- 2-----

الدرجة	التقدير	الملاحظات
	○ ممتاز	○ شكرا لجهودك الرائعة ○ اجاباتك دقيقة ونموذجية ○ عملك متقن ومميز
	○ جيد جدا	○ أكمل إجابات النشاط بالرجوع للكتاب ○ صحح الأخطاء بالرجوع للكتاب
10	○ جيد	أخرى:

السؤال: من خلال الرسم البياني (أ - ب) أجب عن الأسئلة التالية:

مستند (ب)



مستند (أ)



س1: ما الشكل الذي اتخذته الرسم البياني في مستند (أ)؟

س2: ما الشكل الذي اتخذته الرسم البياني في مستند (ب)؟

س3: اذكر اسم الدولة التي يشير إليها الرسم (أ - ب)؟

س4: كم بلغ عدد السكان في عام 1971م؟

س5: ماذا يدل النمو السكاني لعام (1971-1941)م؟

س6: ماذا يدل النمو السكاني لعام (2001-1971)م؟

س7: علل: النمو السكاني سريع لعام (2010-2001)م؟

س8: كيف يتم احتساب الزيادة السكانية الطبيعية؟

س9: كيف يتم احتساب الزيادة السكانية الإجمالية؟

الدرجة	التقدير	الملاحظات
10	<input type="radio"/> ممتاز	<input type="radio"/> شكرًا لجهودك الرائعة <input type="radio"/> اجاباتك دقيقة ونموذجية <input type="radio"/> عملك متقن ومميز
	<input type="radio"/> جيد جدا	<input type="radio"/> أكمل إجابات النشاط بالرجوع للكتاب <input type="radio"/> صحح الأخطاء بالرجوع للكتاب
	<input type="radio"/> جيد	أخرى:

**السؤال الأول:** ضع علامة (✓) أمام العبارات الصحيحة وعلامة (x) أمام العبارات الخاطئة: (2 درجات)

1. ....) تفوق الزيادة السكانية في دول المجلس التعاون الزيادة في معظم مناطق العالم.
2. ....) فئة البالغين من 15 إلى 64 سنة الذين هم في سن العمل، وهي فئة غير منتجة وفعالة في تركيبة القوى العاملة.

**السؤال الثاني:** أجب عن الأسئلة التالية: (4 درجات)

1- علل: التزايد السكاني في دول مجلس التعاون كبير:

..... (أ)

..... (ب)

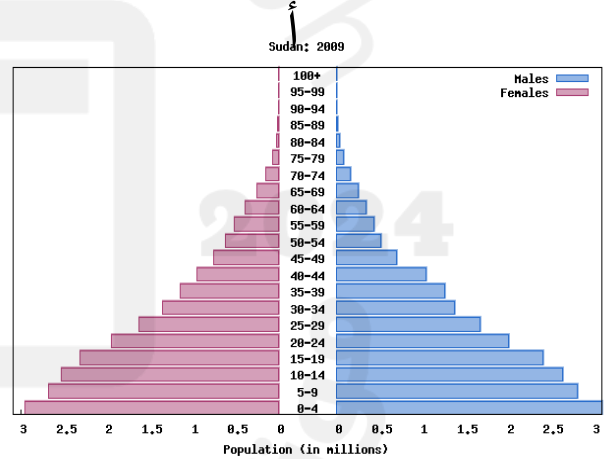
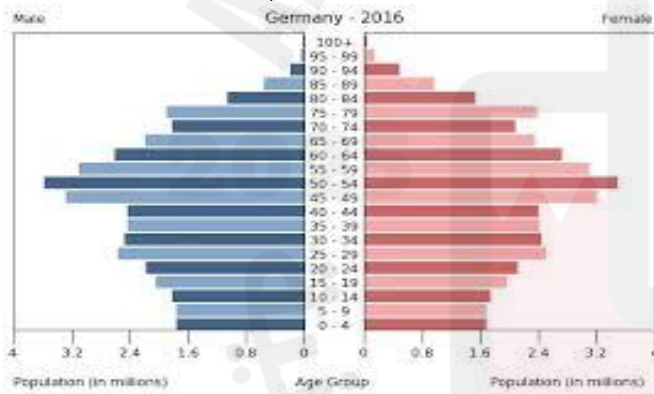
2- وضح النتائج الكبيرة في مجال التنمية البشرية المتمثلة بالمرأة:

..... (أ)

..... (ب)

**السؤال الثالث:** من خلال هرم الأعمار أجب عن الأسئلة التالية: (4 درجات)

ب



هل نسبة الولادات مرتفعة أم منخفضة؟ مع التوضيح؟

.....

بما يتميز هرم الأعمار (ب)؟

.....

هل نسبة الولادات مرتفعة أم منخفضة؟ مع التوضيح؟

.....

بما يتميز هرم الأعمار (أ)؟

.....

الدرجة	التقدير	الملاحظات
10	<input type="radio"/> ممتاز	<input type="radio"/> شكرًا لجهودك الرائعة <input type="radio"/> اجاباتك دقيقة ونموذجية <input type="radio"/> عملك متقن ومميز
	<input type="radio"/> جيد جدا	<input type="radio"/> أكمل إجابات النشاط بالرجوع للكتاب <input type="radio"/> صحح الأخطاء بالرجوع للكتاب
	<input type="radio"/> جيد	أخرى:

**السؤال الأول:** ضع علامة (✓) أمام العبارات الصحيحة وعلامة (×) أمام العبارات الخاطئة (درجتان)

- 1- (.....) الأمي: هو الذي لا يعرف القراءة والكتابة.  
2- (.....) يرتبط مستوى تطور التنمية البشرية بالتعليم والإقتصاد فقط.

**السؤال الثاني:** أجب عن الأسئلة التالية: (8 درجات)

- 1- صنف العبارات التالية التي تبين جهود دول المجلس في مجالي الصحة والتعليم:  
(إنشاء المستشفيات - التشجيع على المدارس الأهلية "الخاصة" -  
تأسيس كليات ومعاهد طبية - تنظيم دورات تدريبية للمدرسين).

الجهود في المجال الصحي	1-..... 2-.....
الجهود في المجال التعليمي	1-..... 2-.....

ب- اذكر نتائج الجهود التي بذلتها دول المجلس التعاون في مجالي الصحة والتعليم:

نتائج الصحة	نتائج التعليم
1-..... 2-.....	1-..... 2-.....

الدرجة	التقدير	الملاحظات
10	<input type="radio"/> ممتاز	<input type="radio"/> شكرا لجهودك الرائعة <input type="radio"/> اجاباتك دقيقة ونموذجية <input type="radio"/> عملك متقن ومميز
	<input type="radio"/> جيد جدا	<input type="radio"/> أكمل إجابات النشاط بالرجوع للكتاب <input type="radio"/> صحح الأخطاء بالرجوع للكتاب
	<input type="radio"/> جيد	أخرى:

**السؤال الأول: ضع الكلمات التالية في الفراغ المناسب: (3 درجات)**

(الرياض/ الطائف/ الخليج العربي / المنامة / الأرياف / الدينية)

1. أفضل موقعها على طرق التجارة البرية برزت مدينة .....
2. بسبب موقعها على طرق التجارة البحرية برزت مدينة .....
3. أفضل مكانتها السياسية برزت مدينة .....
4. برزت مكة المكرمة بفضل مكانتها .....
5. قبل اكتشاف النفط كانت غالبية السكان في دول مجلس التعاون تعيش في .....
6. ترتفع الكثافة السكانية في المنطقة الغربية وساحل .....

**السؤال الثاني: أجب عن السؤال التالي: (7 درجات)**

اذكر مصطلحات المدن حسب أشكال المدن مع ذكر أمثلة لها في الجدول التالي:

أمثلة	المصطلح	أشكال المدن
		1- نمو المدن واتصالها بالقرى المجاورة لها.
		2-التقاء المدن المجاورة واندماجها مع بعضها
		3-إضافة أحياء جديدة على المدينة
		4- بناء مدن جديدة

الدرجة	التقدير	الملاحظات
10	<input type="radio"/> ممتاز	<input type="radio"/> شكرا لجهودك الرائعة <input type="radio"/> اجاباتك دقيقة ونموذجية <input type="radio"/> عملك متقن ومميز
	<input type="radio"/> جيد جدا	<input type="radio"/> أكمل إجابات النشاط بالرجوع للكتاب <input type="radio"/> صحح الأخطاء بالرجوع للكتاب
	<input type="radio"/> جيد	أخرى:

**السؤال الأول:** ضع علامة (✓) أمام العبارات الصحيحة وعلامة (×) أمام العبارات الخاطئة (3 درجات)

- 1- (.....) كان النشاط الاقتصادي قبل اكتشاف النفط يعتمد على الزراعة والصيد البحري وتربية المواشي.
- 2- (.....) أعطت دول مجلس التعاون أولوية شاملة إلى التنمية السياحية.
- 3- (.....) الاهتمام بتطوير القطاعات الاقتصادية كافة يهدف إلى تنويع مصادر الدخل وعدم الاعتماد على النفط.

**السؤال الثاني:** أجب عن الأسئلة التالية: (5 درجات)

1- علل: ارتفاع إيرادات دول مجلس التعاون:

2- عدد المجالات التي وظفت فيها الإيرادات المالية النفطية ؟

- أ- .....
- ب- .....

3- وضح ملامح التحولات الأساسية في اقتصاد دول مجلس التعاون:

- 1- .....
- 2- .....

**السؤال الثالث:** مستعيناً بمستند رقم 2 (صفحة 68) أجب عن الأسئلة التالية: (درجتان)

س1: كم نسبة مملكة البحرين من الناتج المحلي الإجمالي؟

- .....
- س2: اذكر الدولة التي تحتل المرتبة الأولى من الناتج المحلي الإجمالي؟ وكم تبلغ قيمتها؟
- .....

الدرجة	التقدير	الملاحظات
10	○ ممتاز	○ شكراً لجهودك الرائعة ○ اجاباتك دقيقة ونموذجية ○ عملك متقن ومميز
	○ جيد جداً	○ أكمل إجابات النشاط بالرجوع للكتاب ○ صحح الأخطاء بالرجوع للكتاب
	○ جيد	أخرى:

**السؤال الأول: ضع علامة ( ✓ ) أمام العبارات الصحيحة وعلامة ( × ) أمام العبارات الخاطئة ( 3 درجات )**

- 1- (.....) مساحة القطاع الزراعي في دول المجلس قليلة بسبب الطبيعة الصحراوية.
- 2- (.....) قاد عملية التنمية الزراعية الشاملة في دول مجلس التعاون هو القطاع الخاص.
- 3- (.....) استفادت دول مجلس التعاون في التنمية الزراعية من الإيرادات الصناعية.

**السؤال الثاني: أجب عن السؤال التالي: (7 درجات)**

صنف العبارات حسب الجهود في القطاعات (الزراعية والحيوانية والسلمكية) في الجدول التالي:

- 1- توفير مياه الري عن طريق بناء السدود / 2- إقامة مزارع نموذجية لتربية الحيوانات /
- 3- إنشاء مراكز الطب البيطري / 4- إنشاء مراكز الدراسات والبحوث الزراعية /
- 5- تعميم استخدام أدوات الصيد البحري الحديثة / 6- بناء الصوامع لتخزين الحبوب /
- 7- بناء مشاريع نموذجية لتربية الأسماك).

القطاع	الجهود المبذولة
الزراعي	1-----
	2-----
	3-----
الحيواني	1-----
	2-----
السلمكي	1-----
	2-----

الدرجة	التقدير	الملاحظات
10	<input type="radio"/> ممتاز	<input type="radio"/> شكرًا لجهودك الرائعة <input type="radio"/> اجاباتك دقيقة ونموذجية <input type="radio"/> عملك متقن ومميز
	<input type="radio"/> جيد جدا	<input type="radio"/> أكمل إجابات النشاط بالرجوع للكتاب <input type="radio"/> صحح الأخطاء بالرجوع للكتاب
	<input type="radio"/> جيد	أخرى:



**السؤال الأول: ضع علامة (✓) أمام العبارات الصحيحة وعلامة (×) أمام العبارات الخاطئة (درجتان)**

- 1- (.....) بفضل جهود دول مجلس التعاون في تنمية الزراعة أصبحت قادرة على تأمين حاجات السكان الغذائية.
- 2- (.....) اهتمت دول مجلس التعاون بزراعة مواد الأعلاف بهدف تأمين المراعي للمواشي.
- 3- (.....) سجلت المنتجات الزراعية والحيوانية لدول مجلس التعاون خلال السنوات الأخيرة انخفاضاً ملحوظاً.
- 4- (.....) اقتربت دول مجلس التعاون من تحقيق الاكتفاء الذاتي، فقل استيرادها من المنتجات الزراعية والحيوانية.

**السؤال الثاني: أجب عن الأسئلة التالية: (6 درجات)**

**1- صنف المنتجات الزراعية والحيوانية لدول مجلس التعاون في الجدول التالي:**

(1-اللحوم الحمراء/ 2- القمح/ 3-الحليب ومشتقاته / 4-الطماطم/ 5- البيض/ 6-التمور)

المنتجات الزراعية	المنتجات الحيوانية
أ-.....	أ-.....
ب-.....	ب-.....
ج-.....	ج-.....

**2- وضح العوائق التي تواجه القطاع الزراعي في دول مجلس التعاون:**

- أ-.....
- ب-.....
- ج-.....

**السؤال الثالث: اقترح حلول للمحافظة على القطاع الزراعي في دول مجلس التعاون: (درجتان)**

- أ-.....
- ب-.....

الدرجة	التقدير	الملاحظات
10	○ ممتاز	○ شكراً لجهودك الرائعة ○ اجاباتك دقيقة ونموذجية ○ عملك متقن ومميز
	○ جيد جداً	○ أكمل إجابات النشاط بالرجوع للكتاب ○ صحح الأخطاء بالرجوع للكتاب
	○ جيد	أخرى:

الموضوع: أنواع الصناعات التحويلية والعوائق التي تعترضها الصفحة (77) التاريخ /...../..... /2024م

السؤال الأول: أجب عن السؤال التالي: (5 درجات)

اذكر اسماء دول مجلس التعاون التي تنتشر فيها الصناعات التحويلية في الجدول التالي:

اسماء دول مجلس التعاون	الصناعات التحويلية
	1- صناعة تكرير النفط وتسييل الغاز
	2- صناعة البتروكيماويات
	3- صناعة الألمنيوم
	4- صناعة الإسمنت
	5- صناعة بناء وإصلاح السفن

السؤال الثاني: أجب عن الأسئلة التالية: (4 درجات)

1- عدد أهم الصناعات الخفيفة المنتشرة في دول مجلس التعاون:

أ- -----  
ب- -----

2- وضح العوائق التي تواجه قطاع الصناعة التحويلية في دول مجلس التعاون:

- 1- -----  
2- -----  
3- -----

السؤال الثالث: اقترح حلول لمشكلة نقص القوى العاملة الوطنية في دول مجلس التعاون: (درجة)

- أ- -----  
ب- -----

الدرجة	التقدير	الملاحظات
	○ ممتاز	○ شكرا لجهودك الرائعة ○ اجاباتك دقيقة ونموذجية ○ عمك متقن ومميز
	○ جيد جدا	○ أكمل إجابات النشاط بالرجوع للكتاب ○ صحح الأخطاء بالرجوع للكتاب
10	○ جيد	أخرى:

السؤال الأول: ضع علامة ( ✓ ) أمام العبارات الصحيحة وعلامة ( × ) أمام العبارات الخاطئة: (درجتان)

- 1- (.....) ازدهرت حركة التجارة في دول مجلس التعاون بسبب النمو السكاني فقط .  
2- (.....) ازدادت السلع المستوردة بسبب ازدياد حاجة السكان إليها.

السؤال الثاني: أجب عن الأسئلة التالي: (6 درجات)

1- قارن بين الصادرات والواردات في دول مجلس التعاون من حيث الأمثلة والدول التي في الصدارة بالجدول التالي:

نوع التجارة	الأمثلة	الدول التي في الصدارة
الصادرات	1 الصادرات النفطية	1 اليابان
	2 -----	2 -----
	-	3 -----
	3 -----	3 -----
الواردات	1 الآلات الصناعية	1 دول المجموعة الأوروبية
	2 -----	2 -----
	3 -----	3 -----
	3 -----	3 -----

السؤال الثالث: وضح دور الأرباح التجارية في عملية التنمية التي شهدتها دول مجلس التعاون: (درجة)

- 1- -----  
2- -----

السؤال الرابع: مستعيناً بمستند رقم 2 (صفحة 80) أجب عن الأسئلة التالية: (درجة)

س1: اذكر الدولة التي تحتل المرتبة الأولى لدول مجلس التعاون من حيث الصادرات؟

-----

س2: اذكر الدولة التي تحتل المرتبة الأخيره لدول مجلس التعاون من حيث الواردات؟

-----

الدرجة	التقدير	الملاحظات
10	○ ممتاز	○ شكرا لجهودك الرائعة ○ اجاباتك دقيقة ونموذجية ○ عملك متقن ومميز
	○ جيد جدا	○ أكمل إجابات النشاط بالرجوع للكتاب ○ صحح الأخطاء بالرجوع للكتاب
	○ جيد	أخرى:

السؤال الأول: صحح ما تحته خط في العبارات التالية: (درجتان)

- 1- تأسس مجلس التعاون لدول الخليج العربي في مايو 1981م بمدينة المنامة.  
2- التعاون والتنسيق بين دول الخليج يعتبر حديثاً.

السؤال الثاني: أجب عن الأسئلة التالية: (8 درجات)

- 1- عدد أبرز أهداف مجلس التعاون لدول الخليج العربي:

- أ.....  
ب.....  
ج.....

- 2- صنف المجالات ضمن الانجازات التي حققتها دول مجلس التعاون في الجدول التالية:  
(العسكري / الاقتصادي / البيئي / الصحي / التربوي)

الانجازات	المجال
تنسيق وتوحيد السياسة الاقتصادية، مشاريع اقتصادية مشتركة مثل البتروكيماويات.	
إنشاء قوات درع الجزيرة، الدفاع عن منشآت البحرين الحيوية، عملية عاصفة الحزم.	
تنفيذ "منهج القدر المشترك"، تطوير المناهج والكتب الدراسية	
مساواة سكان دول المجلس المقيمين والزائرين في الاستفادة من الخدمات الصحية.	
علاج المشكلات البيئية، مكافحة التصحر، رفع مستوى الوعي للقضايا البيئية.	

الدرجة	التقدير	الملاحظات
	○ ممتاز	○ شكراً لجهودك الرائعة ○ اجاباتك دقيقة ونموذجية ○ عملك متقن ومميز
	○ جيد جداً	○ أكمل إجابات النشاط بالرجوع للكتاب ○ صحح الأخطاء بالرجوع للكتاب
10	○ جيد	أخرى:

# القسم الثاني

## التربية للمواطنة



السؤال الأول: أكمل العبارات التالية بما يناسبها:

1. يتكون المجتمع البحريني من عنصرين هما ..... و .....
2. تشكل شعب البحرين من قبائل قدمت من .....
3. مصدر الرزق للقبائل البحرينية سابقا يعتمد على ..... و .....
4. زاد الدخل الفردي بسبب .....
5. بسبب الموقع الجغرافي أصبحت البحرين ملتقى عدة مراكز حضارية مثل: ..... و .....
6. من الخصائص المشتركة بين المجتمع البحريني مع دول مجلس التعاون: اللغة العربية و .....



السؤال الثاني: أجب عن الأسئلة التالية:

- 1- علل: عرف المجتمع البحريني نهضة حديثة في مختلف المجالات تحت قيادة صاحب الجلالة الملك حمد بن عيسى؟  
أ- .....  
ب- .....
- 2- تركز غالبية السكان بمملكة البحرين في المدن:  
.....  
.....

الدرجة	التقدير	الملاحظات
10	<input type="radio"/> ممتاز	<input type="radio"/> شكرا لجهودك الرائعة <input type="radio"/> اجاباتك دقيقة ونموذجية <input type="radio"/> عملك متقن ومميز
	<input type="radio"/> جيد جدا	<input type="radio"/> أكمل إجابات النشاط بالرجوع للكتاب <input type="radio"/> صحح الأخطاء بالرجوع للكتاب
	<input type="radio"/> جيد	أخرى:

**السؤال الأول:** ضع علامة ( ✓ ) أمام العبارات الصحيحة وعلامة ( × ) أمام العبارات الخاطئة:

1. ( ..... ) تضاعف عدد السكان في البحرين خلال السنوات الـ 50 الأخيرة بسبب اكتشاف النفط.
2. ( ..... ) بسبب ارتفاع الولادات يتصف المجتمع البحريني بأنه مجتمع فتي .
3. ( ..... ) تحول الاقتصاد البحريني من تقليدي إلى عصري بسبب الزيادة الطبيعية .
4. ( ..... ) انخفاض نسبة الأمية من أهم النتائج في المجال التعليمي بمملكة البحرين .
5. ( ..... ) تراجع عدد الأسر الممتدة لفائدة الأسرة النواة (التي تضم الزوجين والأبناء فحسب).

السؤال الثاني: أجب عن الأسئلة التالية:

1) علل تراجع نسبة الخصوبة وتغير بنية الأسرة؟

أ- .....

ب- .....

2) أذكر 3 من النتائج التي تحققت في المجال الصحي:

أ- .....

ب- .....

ج- .....

الدرجة	التقدير	الملاحظات
	○ ممتاز	○ شكرا لجهودك الرائعة ○ اجاباتك دقيقة ونموذجية ○ عملك متقن ومميز
	○ جيد جدا	○ أكمل إجابات النشاط بالرجوع للكتاب ○ صحح الأخطاء بالرجوع للكتاب
10	○ جيد	أخرى:

السؤال الأول: ضع دائرة حول الإجابة الصحيحة من بين العبارات التالية:

1- الملقب بالفاتح هو:

أ- الشيخ محمد بن خليفة. ب- الشيخ عيسى بن علي. ج- الشيخ أحمد بن محمد آل خليفة.

2- اللقب الذي اتخذته حاكم البحرين الشيخ عيسى بن سلمان آل خليفة بعد الاستقلال هو؟

أ- أمير. ب- ملك. ج- سلطان.

3- أنهت البحرين المعاهدات السياسية والعسكرية مع بريطانيا (اعلان الاستقلال) تاريخ:

أ- 16 ديسمبر 1971 ب- 16 نوفمبر 1971. ج- 14 أغسطس 1971م

السؤال الثاني: أجب عن الأسئلة التالية:

1- عدد 4 من دعائم الدولة الحديثة.

أ- .....

ب- .....

ج- .....

2- بين مظاهر النهضة (الإنجازات) في عهد المغفور له الشيخ عيسى بن سلمان آل خليفة.

أ- .....

ب- .....

الدرجة	التقدير	الملاحظات
	○ ممتاز	○ شكرًا لجهودك الرائعة ○ اجاباتك دقيقة ونموذجية ○ عملك متقن ومميز
	○ جيد جدا	○ أكمل إجابات النشاط بالرجوع للكتاب ○ صحح الأخطاء بالرجوع للكتاب
10	○ جيد	أخرى:



الدرس: الملك حمد بن عيسى آل خليفة (1) ولاية العهد والسنوات الأولى من الحكم  
الصفحة (20) التاريخ ...../...../2024م



السؤال الأول: صل بين الحدث والتاريخ المناسب له :

التواريخ	رمز الإجابة	الأحداث التاريخية
أ- 14 و15 فبراير 2001 م		1- إعلان ولاية العهد لحمد بن عيسى
ب- 6 مارس 1999 م		2- تسلم حمد بن عيسى دفة الحكم في البلاد
ج- 14 فبراير 2002 م		3- الاستفتاء على ميثاق العمل الوطني
د- 27 يونيو 1964 م		4- التعديلات الدستورية التي أجراها الملك حمد



السؤال الثاني: أجب عن الآتي:

1- اذكر 3 من المبادئ التي على أساسها اختير حمد بن عيسى وليا للعهد.

- أ- .....
- ب- .....
- ج- .....

2- اذكر 3 من التعديلات الدستورية في عام 2002 م.

- أ- .....
- ب- .....
- ج- .....

الدرجة	التقدير	الملاحظات
	<input type="radio"/> ممتاز	<input type="radio"/> شكرا لجهودك الرائعة <input type="radio"/> اجاباتك دقيقة ونموذجية <input type="radio"/> عملك متقن ومميز
	<input type="radio"/> جيد جدا	<input type="radio"/> أكمل إجابات النشاط بالرجوع للكتاب <input type="radio"/> صحح الأخطاء بالرجوع للكتاب
10	<input type="radio"/> جيد	أخرى: