

تم تحميل هذا الملف من موقع المناهج البحرينية



الملف ملزمة الاجتماعيات للصف الأول الإعدادي

موقع المناهج ← الصف السابع ← المواد الاجتماعية ← الفصل الأول ← الملف

روابط مواقع التواصل الاجتماعي بحسب الصف السابع



روابط مواد الصف السابع على تلغرام

[الرياضيات](#)

[اللغة الانجليزية](#)

[اللغة العربية](#)

[التربية الاسلامية](#)

المزيد من الملفات بحسب الصف السابع والمادة المواد الاجتماعية في الفصل الأول

ملخص التربية للمواطنة	1
المذكرة الذهبية للتربية للمواطنة	2
مذكرة نهاية الفصل الدراسي الأول	3
مذكرة الاجتماعيات والتربية للمواطنة	4
مذكرة مراجعة لمادة التاريخ والتربية للمواطنة	5



قسم المواد الاجتماعية والمواطنة

إنجازي في ملفي

في المواد الاجتماعية للصف الأول الإعدادي للفصل الدراسي الأول
للعام الدراسي 2022 – 2023 م



الكراسة لا تُغني عن الكتاب المدرسي.



الإسم :
الصف :

مديرة المدرسة :
أموزة صباح الكبيسي

المديرة المساعدة :
أ. جميلة أبو الشوك

المعلمة الأولى :
أ. آمال صالح

إعداد :
أ. جهاد عبد الرحمن - أ. أحلام فيصل

15/11/2022



رؤيتنا:

إنجازنا تمكن وإتقان ،
مهاراتنا ريادة وإبداع ،
انضباطنا قيم وانتماء .

قيم المدرسة :

- الانضباط الذاتي
- الوعي التكنولوجي
- المسؤولية الوطنية
- التحدي والريادة
- التواصل الاجتماعي
- الإبداع

رسالتنا :

نحن في عراد الإعدادية للبنات نسعى لإعداد جيل
واع ملتزم بالقيم الإسلامية منتئم لوطنه، متمكن من
مهارات القرن 21 ، في ظل ما نقدمه من مشاريع
وبرامج نوعية فاعلة ، في بيئة آمنة ، ومحفزة على
الإنجاز .

اتفاقية بين المعلمة والطالبة في المواد الاجتماعية

قواعد اتفاقية الطالبة في الصف	قواعد اتفاقية الطالبة مع المعلمة
<ol style="list-style-type: none"> (1) الاحترام المتبادل بينها وبين زميلاتها (2) المحافظة على نظافة الصف (3) التعاون في الدرس (4) المحافظة على الهدوء في الحصة (5) الاهتمام بأداء الواجبات المدرسية و نظافة الكراسة المدرسية . (6) الجد والاجتهاد 	<ul style="list-style-type: none"> • احترام وقت الحصة • الاحترام المتبادل بين المعلم و الطالب • التحضير المسبق للدرس والاستعداد للإختبار • إحضار الكتاب المدرسي و الكراسة الخاصة بالمادة. • الاستئذان وقت الحاجة لأي أمر طارئ ببطاقة الاستئذان • عدم مضغ اللبان و الأكل داخل الصف المدرسي
• توقيع الطالبة :	

متابعة ملف الطالبة (إنجازي في ملفي) في المواد الاجتماعية

توقيع ولي الأمر	الملاحظات	توقيع المعلمة	تاريخ المتابعة

درجات الاختبارات الشهرية

رقم الاختبار الشهري	تاريخ الاختبار الشهري	مواضيع الاختبار الشهري	درجة الاختبار الشهري	توقيع ولي الأمر
<u>1</u>				
<u>2</u>				
<u>3</u>				
<u>5</u>				
<u>6</u>				
<u>7</u>				
<u>درجة امتحان المنتصف</u>				

الدروس المقررة في المواد الإجتماعية للعام الدراسي 2022-2023

الفصل الدراسي الأول

الملاحظات	الصفحة (من - إلى)	عنوان الدرس ورقمه	الفصل (الوحدة)
	33-32	الموقع وأهميته	-
	37-36	توزع التضاريس وأهميتها	
	39-38	أبعاد الخليج العربي وخصائص مياهه	
	43-42	الثروة النفطية ومزاياها	
	47-46	المناطق المناخية الصحراوية وخصائصها	
	49-48	الموارد المائية الطبيعية محدودة	
	51-50	تنمية الموارد المائية	
	55-54	توزع النبات الطبيعي	
	65-64	التنمية البشرية	
	67-66	النمو المديني	
	69-68	التنمية الاقتصادية	
	71-70	جهود التنمية الزراعية	
	73-72	نتائج التنمية الزراعية	

وزارة التربية والتعليم - الفصل الدراسي الأول 2022-2023م
alManahj.com

KINGDOM OF BAHRAIN
Ministry of Education



مملكة البحرين
وزارة التربية والتعليم

	77-76	أنواع الصناعات التحويلية والعوائق التي تعترضها	-
	81-80	اتجاهات الحركة التجارية	
	83-82	تطور طرق المواصلات والاتصالات	
	85-84	مجلس التعاون لدول الخليج العربية	

أشارك

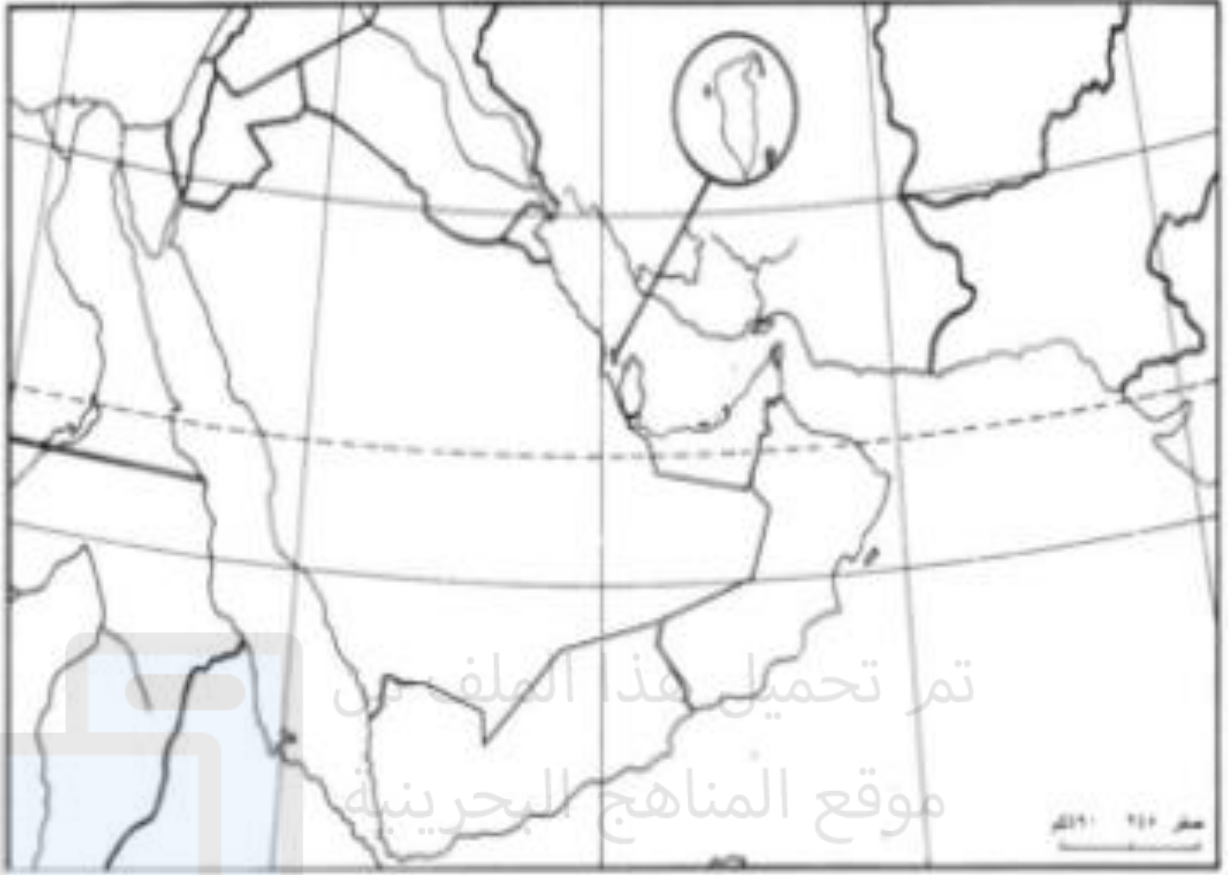
أكملي
الجدول

* حددي الموقع الجغرافي لدول المجلس ؟

- 1- يتألف مجلس التعاون لدول الخليج العربية من دول هي و و و و تبلغ مساحتها
- 2- تقع دول المجلس التعاون بالنسبة لقارة آسيا
- 3- يحد دول المجلس من الشمال و ومن الشرق فإيران و من الجنوب و بحر العرب و اليمن ، و من الغرب

أهمية موقع دول المجلس	اسم العصر
	العصور القديمة
	الفتوحات الإسلامية
	القرن الثامن عشر الميلادي
	القرن العشرون "بعد اكتشاف النفط"

نشاط إثرائي : صممي مطوية تشمل معلومات عن دول مجلس التعاون الست و اعرضيها على زميلاتك من خلال لصقها في ركن المواد الإجتماعيات في الصف ؟



على الخريطة الصماء أعلاه وفي المكان المناسب اكتب ما يلي :-
أ. أسماء دول مجلس التعاون

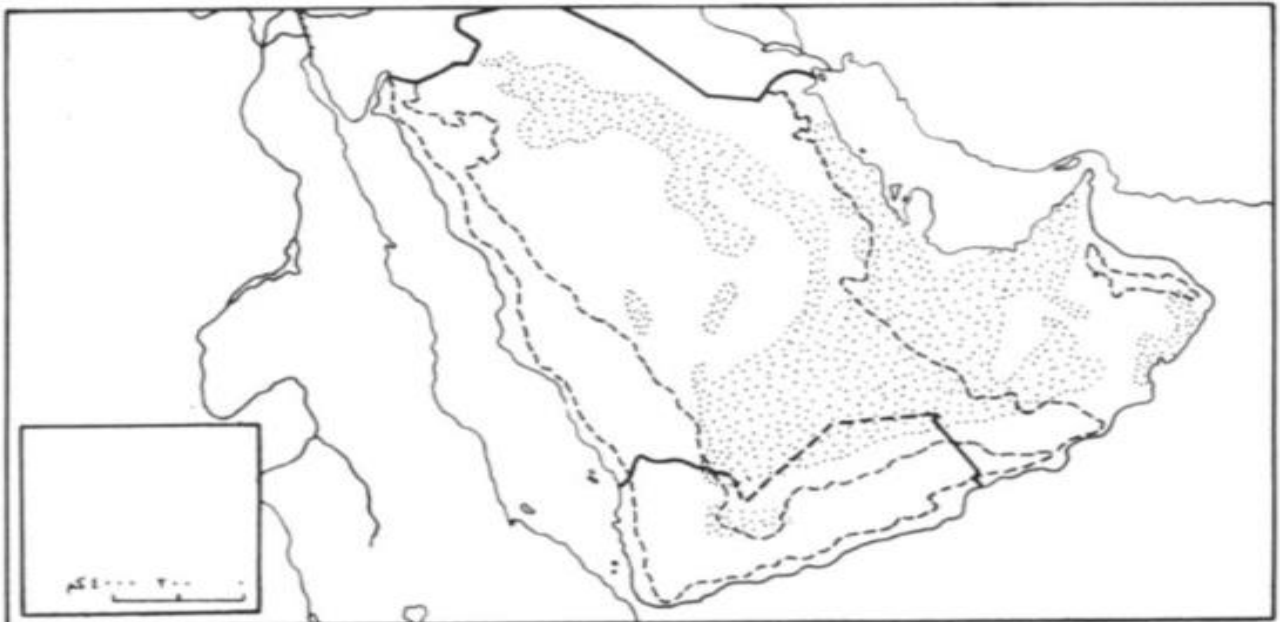
ب. أسماء الدول والمسطحات المائية التي تحيط بدول المجلس

الدرس التاسع

توزع التضاريس

تاريخ الدرس /

المميزات	الموقع	التضاريس								
.....	يمتد على شكل قوس من رأس المسندم شمالا حتى رأس الحد جنوبا	جبال عمان								
<p>(1) معظم أراضي رملية (2) متوسط ارتفاعه حوالي 200م (3) تتميز بوجود منطقتين :- أ) منطقة صحراء الربع الخالي وهي صحراء قاحلة تنتشر فيها الكثبان الرملية ويتخللها السبخات . ب) منطقة شمال الربع الخالي وهي منطقة ترتبها صالحة للزراعة نسبيا وتنمو فيها بعض المزروعات ويحتوي على غالبية الثروة النفطية ويضم معظم مدنه .</p>	المنبسطة الشرقية								
<p>(1) ترتفع تدريجيا باتجاه الغرب (2) يتراوح ارتفاعها بين 200 م من الشرق والغرب 2000م</p> <table border="1" style="width: 100%; border-collapse: collapse;"> <thead> <tr> <th style="width: 50%;">المنطقة الغربية</th> <th style="width: 50%;">المنطقة الشرقية</th> </tr> </thead> <tbody> <tr> <td>.....</td> <td>.....</td> </tr> <tr> <td>.....</td> <td>.....</td> </tr> <tr> <td>.....</td> <td>.....</td> </tr> </tbody> </table> <p>هضبة نجد : ممتدة من بين صحاري النفوذ والدهناء والربع الخالي شرقا</p>	المنطقة الغربية	المنطقة الشرقية	الهضاب الداخلية
المنطقة الغربية	المنطقة الشرقية									
.....									
.....									
.....									
.....	الجبال الغربية								



على الخريطة الصماء أعلاه:

- أ. لوني بالأخضر مناطق السهول والمنبسطات.
- ب. لوني بالأصفر مناطق الهضاب .
- ت. لوني بالبنّي مناطق الجبال.
- ث. ضعي في المكان المناسب أسماء المعالم التالية : جبال الحجاز -جبال عمان -جبال عسير – جبال ظفار – صحراء النفوذ-صحراء الربع الخالي -هضبة نجد -سهل تهامة – سهل الباطنة -البحر الأحمر – الخليج العربي -بحر العرب
- ج. ضعي علامة (X) عند موقع مضيق هرمز .
- ح. صممي مفتاحا للخريطة .

الدرس العاشر
أبعاد الخليج العربي وخصائص
مياهه

تاريخ الدرس /

أبعاد الخليج العربي	
موقعه	
حجمه	مسطح مائي صغير
مساحته	234 ألف كلم ²
طوله	
عرضه	
عمقه	<ul style="list-style-type: none"> ❖ مناطق يقل العمق 40م وهي المناطق الأكثر ❖ ويزاد العمق بشكل مفاجئ عند خليج عمان

أكمل الجدول
التالي :

أهم المميزات	خصائص مياه الخليج
<ul style="list-style-type: none"> ❖ ❖ 	ضحالة المياه
<ul style="list-style-type: none"> -1 -2 -3 -4 	الشواطئ
	حرارة المياه
	ملوحة المياه
	حركة المياه السطحية
	المد والجزر



الدرس الثاني عشر الثروة النفطية ومزاياها



تاريخ الدرس /



* تعريف النفط : يتكون النفط من بقايا نباتية وحيوانية تجمعت داخل الطبقات الرسوبية السميكة، فتحللت مع الزمن وشكلت سائلا لزج تغطوه أحيانا طبقة من الغاز الطبيعي.

ويعتبر النفط:

- 1- أهم الموارد الطبيعية في العالم
- 2- المصدر الأساسي للطاقة
- 3- المادة الأولية لكثير من الصناعات الأساسية.



* أين يتركز النفط والغاز الطبيعي في دول المجلس:

.....(1)

.....(2)

أشارك و
أفاعل

وضحي أهم مزايا الثروة النفطية ؟

.....(1)

.....(2)

.....(3)

.....(4)

.....(5)

* ما هي أهم حقول النفط في الخليج العربي ؟

.....
.....
.....
.....
.....
.....

مصدر الطاقة النفط	الانتاج	الاحتياطي	أهم الدول المنتجة
الغاز الطبيعي			

نشاط اثنائي :

حفرت أول بئر نفطية في دول المجلس في البحرين ، وقد اختلفت آراء العلماء الجيولوجيين حول صحة وجود النفط في دول المجلس قبل تدفق النفط من أول بئر في البحرين .

اكتبي نصا صغيرا حول قصة حفر أول بئر نفطية في البحرين ، وبالتالي في دول المجلس ، مستعينة بالمراجع المناسبة من

"مركز مصادر التعلم"

الدرس 13

تاريخ الدرس /

(المناطق المناخية الصحراوية وخصائصها)

• اذكر مميزات مناخ دول المجلس؟

-1
-2
.

ما هي العوامل المؤثرة في مناخ دول المجلس؟

المناطق المناخية في دول مجلس التعاون

وجه المقارنة	المنطقة	المنطقة	منطقة
الموقع	المرتفعات	اطراف دول المجلس مثل جبال عمان الغربية جبال عسير والحجاز	صحراء
المناخ	الحرارة	الحرارة	الحرارة
	الامطار منتظمة	الامطار منتظمة	الامطار
	على: اختلاف فصول الأمطار في المنطقة شبه الصحراوية .	على: اختلاف كميات الأمطار في المنطقة الصحراوية .	ويسودها
	جبال ظفار و عسير كمية الأمطار..... بسبب الرياح.....	جبال عمان و الحجاز كمية الأمطار..... بسبب الرياح.....	و
	تتخفف الرطوبة تدريجياً كلما توغلنا إلى الداخل بعيداً عن		

الدرس 14

الموارد المائية الطبيعية محدودة

تاريخ الدرس /

* اذكر أنواع الموارد المائية في دول مجلس التعاون

عربي : الموارد المائية الطبيعية في دول مجلس التعاون لدول الخليج العربية محدودة؟

(1)

(2)

(3)



(2) (3)

ما هي أضرار السيول ؟

ما هي فوائد السيول ؟

.....

.....

.....

.....

أشارك و أتفاعل



أتعلم ذاتياً

بمزاتها

الرقم	اسم المورد المائي الطبيعي	مكان تواجد	ميزاتها
1	السيول	المرتفعات الجبلية (عسير - الحجاز - حضرموت - ظفار - عمان)	<ul style="list-style-type: none"> • أضرارها : أضرار بالقرى - تجرف التربة التي تفقر للغطاء النباتي • فوائدها : نمو بعض النباتات حول مجاريها - قيام القرى - النبات مرعى للحيوانات
2	المياه الجوفية القريبة من السطح	الطبقات العليا القريبة من السطح (عمقها من 5-100 متر)	<ul style="list-style-type: none"> • عربي : تعرف المياه الجوفية القريبة من السطح بـ (المياه المتجددة) لأنها تتغذى سنوياً من مياه الأمطار القليلة التي تسحب إليها • تظهر على شكل (ينابيع) • طريقة الحصول عليها : حفر الآبار والأفلاج • تتميز بعذوبتها
3	المياه الجوفية العميقة	الطبقات العميقة (تكونت من المياه في الزمن الجيولوجي الرابع)	<ul style="list-style-type: none"> • كميتها كبيرة جداً • عربي : تعرف المياه الجوفية العميقة بـ (المياه غير المتجددة) لأنها لا تتغذى من أي مصدر مائي • طريقة الحصول عليها : الآبار الأرتوازية العميقة • أشهر هذه الآبار في دول مجلس التعاون : آبار الكويت (الروضتين و القشمانية) آبار السعودية (القطيف و الهفوف)

اختاري أحد النشاطين



نشاط إثرائي 1: صممي لوحات إرشادية ترشدين فيها زميلاتك بأهمية المحافظة على المياه و الصقيها في ركن الصف ؟

نشاط إثرائي 2: ألصقي صور للموارد المائية بدول مجلس التعاون في الصفحة المقابلة ؟

كيف يمكن المحافظة على الثروة المائية؟

- (1)
- (2)
- (3)
- (4)

أشارك و
أنفعل

مشاكل المياه الجوفية في دول المجلس :-

(1) النضوب :

تدني منسوب المياه الجوفية بسبب الاستغلال المتزايد لها

(2) التملح :

تسرب مياه البحر الملحة إلى الطبقات الجوفية من المياه القريبة من المناطق القريبة من البحر .

* ما اهم الوسائل التي اعتمدت عليها دول المجلس لتتمية مواردها المائية؟

(1) أقامت العديد من السدود تجميع مياه السيول

فؤاد السدود :

- (أ)
- (ب)
- (ج)
- (2)
- (3)

أشارك
مجموعتي
في العمل



نشاط اثنائي : من خلال البحث في مصادر آمنة ...اكتبي فقرة من خمسة أسطر عن كيفية المحافظة على الثروة المائية ؟

الدرس السادس عشر
توزع النبات الطبيعي

تاريخ الدرس /



الخصائص النباتية	الموقع	المناطق المناخية
-	المرتفعات الجبلية عند الأطراف	منطقة شبه صحراوية (متوسطة الأمطار)
	باقي مناطق دول المجلس	منطقة صحراوية (قليلة الأمطار)
	صحراء الربع الخالي صحراء النفوذ	منطقة الصحاري الرملية (نادرة الأمطار) (قحط)



وضحي التدابير التي اتخذتها دول المجلس لحماية الغطاء النباتي.

.....(1

.....(2 (3

.....(4 (5

بيني المخاطر التي تهدد الثروة النباتية في دول المجلس ؟

.....(1

.....(2

.....(3

نشاط اثرائي : اكتبى فقرة من خمسة أسطر توضحى من خلالها دور الغطاء النباتي وأهميته في الحفاظ على البيئة و مكافحة التصحر ؟

الدرس 18

التنمية البشرية

في مجال الصحة

النتائج	الجهود التي بذلتها دول المجلس
.....-1-1
.....-2-2
.....-3-3
.....-4-4
-5

في مجال التعليم

النتائج	الجهود
.....-1-1
.....-2-2
.....-3-3
-4

نشاط اثنائي :

خلال انتشار جائحة كورونا ظهرت أهمية القطاع الصحي ودور الكوادر الصحية المدربة في الصفوف الأمامية مما كان له بالغ الأثر في التصدي لجائحة كورونا متمثلاً في الفريق الوطني الطبي للتصدي لفيروس كورونا

اكتبى فقرة من خمسة أسطر تتحدثين فيها عن أهمية القطاع الطبي وتطويره في مواجهة الجائحة والتصدي للمخاطر المستقبلية ؟

ضعي علامة (√) امام العبارة الصحيحة وعلامة (x) امام العبارة الخاطئة مع تصويب الخطأ إن وجد :

- 1- قبل اكتشاف النفط كانت غالبية السكان تعيش في البوادي والارياف ()
 - 2- اتجهت حركة النزوح في المملكة العربية السعودية نحو المنطقة الغربية بسبب تركيز الانشطة الاقتصادية ()
 - 3 - اتجهت حركة النزوح في باقي دول المجلس الى العواصم خاصة وسائر المدن ()
- اكمل ما يلي :**

- 1-أدى التزايدوالازدهارالذي شهدته مدن دول المجلس الى نمو تلك المدن وتوسعها
 - 2-المدن التي نمت وتوسعت حتى اتصلت بالقرى المجاورة لها فشكلت معها ما يعرف ب.....ومن هذه المدنو.....و.....
 - 3- المدن المتجاورة التي تلاقت مبانيها واندمجت في بعضها وشكلت **مجتمعا مدنيا** واحدا مثل.....و.....و.....
 - 4-مدن نمت واتسعت لان احياء جديدة اضيفت إليها منهاو.....و.....و.....
 - 5- مدن جديدة تم بنائها كمدينة عيسى و.....و.....
 - 6-تتميز دول مجلس التعاون من **حيث الكثافة السكانية بوجود 3 مناطق :**
- أ.مناطق ذات كثافة سكانية مثل ساحل الخليج العربي ، المنطقة الغربية ، الرياض، القصيم حيث يعيش فيها 80% من السكان .
- ب.باقي المناطق ذات كثافة سكانية
- ج-صحراء الربع الخالي منطقة من السكان .

المقبلات



(2): صنفي مدن دول المجلس التعاون بالنسبة لأهميتها قبل اكتشاف النفط

دبي- مكة - جدة - المدينة المنورة - مسقط - الطائف - الكويت - أبوظبي - المنامة - الرياض

الرئيسية



الحلويات



(3): ماذا لو كلفتني من قبل الدولة ببناء مدينة متكاملة في صحراء الربع الخالي في ميزانية مليون دينار توفيرين فيها سبل العيش، صممي جدول توضحين فيه المرافق و التكلفة و المميزات.

الدرس 20
التنمية الاقتصادية

تاريخ الدرس /

• قارني بين النشاطات الاقتصادية في دول مجلس التعاون قبل النفط وبعد النفط ؟

الفترة	النشاط الاقتصادي	المميزات
قبل النفط	-1 -2 -3 -4	-1 تقليدية -2 تتميز
بعد النفط	-1 الاقتصاد يعتمد على القطاع	-1 ارتفاع اسعار النفط -2 ارتفعت

بيني أبرز التحولات التي شهدتها اقتصاد دول المجلس بتأثير من عملية التنمية بالاعتماد على الفقرة الأخيرة من الدرس ص 69 ؟
(1) تنوع مصادر الدخل وارتفاع القطاعات الغير نفطية في الناتج المحلي .
(2) ارتفاع إيرادات الناتج المحلي الإجمالي .

ما هي أهم المجالات التي وظفت فيها الإيرادات النفطية في دول مجلس التعاون ؟

- 1
 - 2
 - 3
- كيف نوعت دول المجلس مصادر الدخل ؟
- 1
 - 2 ادخلت اساليب زراعية حديثة في القطاع الزراعي وامنت مياه الري
 - 3
 - 4
 - 5

الدرس 21-22

جهود التنمية الزراعية - نتائج التنمية
الزراعية

تاريخ الدرس /.....

أفكر - أشارك - أتعلم

* ما نسبة الأراضي الصالحة للزراعة في دول المجلس؟ وما نسبة ما يزرع منها؟

نسبة الأراضي الزراعية 20% ويزرع منها 6.4%

القطاع الزراعي

ما نتائج تنمية الإنتاج الزراعي في دول المجلس؟	اذكري أهم جهود دول المجلس في تنمية الإنتاج الزراعي؟
1. تنوع المنتجات الزراعية لدول المجلس مثل:	-1.....
.....	-2.....
.....	-3.....
.....	-4.....
.....	-5.....
2. تحقيق الاكتفاء الذاتي
.....
.....

القطاع الحيواني

ما نتائج تنمية الإنتاج الحيواني في دول المجلس؟	اذكري أهم جهود دول المجلس في تنمية الإنتاج الحيواني؟
تنوع المنتجات الحيوانية في دول المجلس مثل:	-1.....
-1.....	-2.....
-2.....	-3.....
-3.....	-4.....
-4.....
-5.....

اذكري أهم جهود دول المجلس في تنمية القطاع البحري؟

(1).....(2).....(3).....

على .. قلة الزراعة في دول المجلس



ما هي العوائق التي تعترض تقدم القطاع الزراعي في دول المجلس؟

.....-1

.....-2

* ما أهداف عملية التنمية الزراعية؟

.....(1)

.....(2)

ما رأيك في أهمية الاكتفاء الذاتي في المنتجات الزراعية والحيوانية في دول المجلس؟

نشاط إثرائي 1:

ابحثي في الانترنت أحدث الإبتكارات الجديدة لزيادة الانتاج الزراعي و الحيواني في العالم و اعرضيها على زميلائك في الصف ؟

نشاط إثرائي 2:

على خريطة مجلس التعاون حدي المناطق المزروعة و لونها باللون الاخضر ؟

نشاط إثرائي 3:

اقترحي ثلاثة حلول من شأنها التخفيف من أثر العوائق التي تقف في وجه قطاع الزراعة ؟



تاريخ الدرس /

الدرس 24

أنواع الصناعات التحويلية والعوائق التي تعترضها

4- صناعة.....
لدول التي تنتشر فيها.....

3- صناعة المعادن:
• الالمنيوم تتوزع
في.....
• الحديد في
.....

5- صناعة.....
لدول التي تنتشر فيها.....
.....

أولاً :

أنواع الصناعات
التحويلية الكبرى
في دول مجلس

1- صناعة.....
لدول التي تنتشر فيها.....
.....

2- صناعة.....
لدول التي تنتشر فيها.....
.....

ما العوائق التي تعترض الصناعة التحويلية في دول المجلس؟

(1

.....

(2

.....

(3

.....

ثانياً : الصناعات الخفيفة :

تنتشر في.....

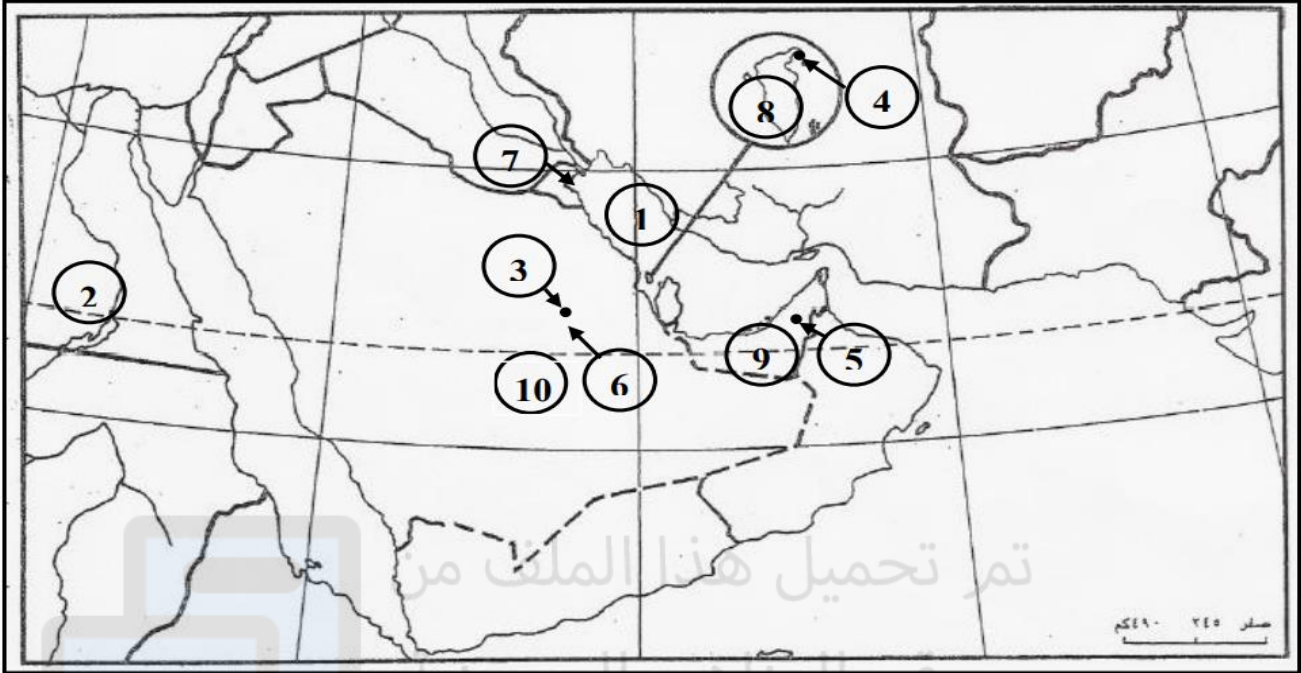
أنواعها.....

.....

نشاط اثنائي :

اقترحي ثلاثة حلول من شأنها التخفيف من من أثر العوائق التي تقف في وجه القطاع الصناعي في دول المجلس ؟

ثانياً- اكتب ما تمثله مدلولات الأرقام المدونة على خريطة دول مجلس التعاون لدول الخليج العربية بحسب ما يناسبها في الجدول الذي يليها:



تم تحميل هذا الملف من موقع المناهج البحرينية

alManahj.com/bh

مدلولات الأرقام المدونة على الخريطة	نوع الظاهرة الجغرافية
1-	- مسطح مائي
2-	- دائرة عرض
3-	- مدن كبرى (عواصم)
4-	
5-	- دولتان تمتلكان مصنع مواد بتروكيماوية
6-	
7-	- دولتان تمتلكان مصنع ألمنيوم
8-	
9-	- دولة تمتلك مصانع لتسييل الغاز
10-	

الدرس 25

تاريخ الدرس /

اتجاهات الحركة التجارية

* أهم واردات دول المجلس

- (1)
- (2)
- (3)
- (4)
- (5)
- (6)
- (7)

* صادرات دول المجلس :

تصدر دول المجلس إلى الخارج :

- (1) الصادرات وتحتل المرتبة الأولى بالرغم من انخفاض نسبتها.
- (2) الصادرات وتحتل المرتبة الثانية مثل
- (3) الصادرات وهي قليلة مثل

* أهم الدول التي تستورد منها دول المجلس :

- (1)
 - (2)
 - (3)
- الواردات البينية بلغت

** حققت دول مجلس التعاون أرباحا كبيرة في مجال التبادل التجاري واستخدمت في :

- (1)
- (2)
- (3)
- (4)
- (5)

* الدول التي تصدر إليها :

- (1)
 - (2)
 - (3)
- الصادرات البينية (بين دول المجلس)

تاريخ الدرس /

الدرس 26

طرق المواصلات والاتصالات

طرق المواصلات



جوية

3

بحرية

2

برية

1

ثالثاً:- المواصلات الجوية:-

توجد في دول المجلس 16 مطاراً.

أهم المميزات :- المطارات في دول المجلس .

- (1)
 - (2)
 - (3)
- *أهم المؤسسات وشركات الطيران الجوية.
- (1)
 - (2)
 - (3)

ثانياً : طرق المواصلات البحرية :

* أنواع الموانئ :

(1) الموانئ النفطية :

لتصدير النفط والغاز

مميزاتها :

- (أ)
 - (ب)
- (2) الموانئ التجارية :

المميزات :

-
-
-

أولاً : طرق المواصلات البرية :

تشتمل على (الطرق , الجسور , سكك الحديد)

أهميتها :

* أهم مميزات الطرق البرية في دول المجلس

- (1)
 - (2)
 - (3)
 - (4)
- * من أهم الجسور في المنطقة جسر الملك فهد وفتح في عام 1986 م
- * أما السكك الحديدية فتقتصر وجودها على الخط الذي يربط بين الرياض و الدمام في السعودية فقط

عددي وسائل الاتصالات السلكية واللاسلكية في دول المجلس؟



نشاط اثرائي :

عددي أهم الطرق البرية الحديثة " الجسور " في مملكة البحرين ؟

من أهم محطات الأقمار الإصطناعية في مملكة البحرين محطة

.....



الدرس 27

مجلس التعاون لدول الخليج العربية

تاريخ الدرس /

ما أهم القواسم المشتركة

بين دول المجلس

- (1)
- (2)
- (3)
- (4)
- (5)

أجهزة المجلس :

(1) المجلس الأعلى :
يتكون من رؤساء الدول
الأعضاء

(2) المجلس الوزاري :
من وزراء الخارجية للدول
الأعضاء

(3) هيئة تسوية المنازعات :
فض المنازعات بين دول
الأعضاء

(4) الأمانة العامة :
يتكون من الأمين العام والأمناء
المساعدين

تأسيس دول المجلس

تم تأسيس دول المجلس

في..... مايو

م.....

في مدينة..... في الإمارات

أهم أهدافه :

1).....

2).....

3).....

4).....

وضحي أهم الانجازات المشتركة :

على الصعيد العسكري :

- (1) أنشئ سنة 1982
- (2) وقعت اتفاقية.....
- (3) انشأت قيادة
- (4) أنشاء مركز
- (5) شاركت قوات درع الجزيرة في :

.....

.....

.....

على الصعيد الاقتصادي :

- (1)
- (2)

على الصعيد البيئي :

وضع النظام لحماية البيئة لعلاج :

- (6)
- (7)
- (8)

على الصعيد الصحي :

.....

على الصعيد التربوي

- (1)
- (2)
- (3)

أنجز عدد من المشروعات المشتركة بين دولتين أو أكثر من دول المجلس أبرزها:

مصنع ألبا وجسر الملك فهد