

تم تحميل هذا الملف من موقع المناهج البحرينية



كراسة الاجتماعيات والتربية للمواطنة


موقع المناهج ← المناهج البحرينية ← الصف السابع ← المواد الاجتماعية ← الفصل الأول ← ملفات متنوعة ← الملف

تاريخ إضافة الملف على موقع المناهج: 2024-10-22 11:09:29

ملفات اكتب للمعلم اكتب للطالب الاختبارات الكترونية | اختبارات | حلول | عروض بوربوينت | أوراق عمل
منهج انجليزي | ملخصات وتقارير | مذكرات وبنوك | الامتحان النهائي للمدرس

المزيد من مادة
المواد
الاجتماعية:

التواصل الاجتماعي بحسب الصف السابع



صفحة المناهج
البحرينية على
فيسبوك

الرياضيات

اللغة الانجليزية

اللغة العربية

التربية الاسلامية

المواد على تلغرام

المزيد من الملفات بحسب الصف السابع والمادة المواد الاجتماعية في الفصل الأول

كراسة الاجتماعيات والتربية للمواطنة

1

كراسة الاجتماعيات والتربية للمواطنة

2

المذكرة الذهبية في المواد الاجتماعية

3

مذكرة الاجتماعيات

4

المذكرة الذهبية للمواد الاجتماعية

5

ملكة البحرين
وزارة التربية والتعليم
مدرسة مدينة عيسى الابتدائية الإعدادية بنين
قسم المواد الاجتماعية

كراسة أنشطة المواد الاجتماعية
والتربية للمواطنة
الصف الأول الإعدادي
الفصل الدراسي الأول

الاسم:-

الصف:-

الرقم:-

الاجتماعيات

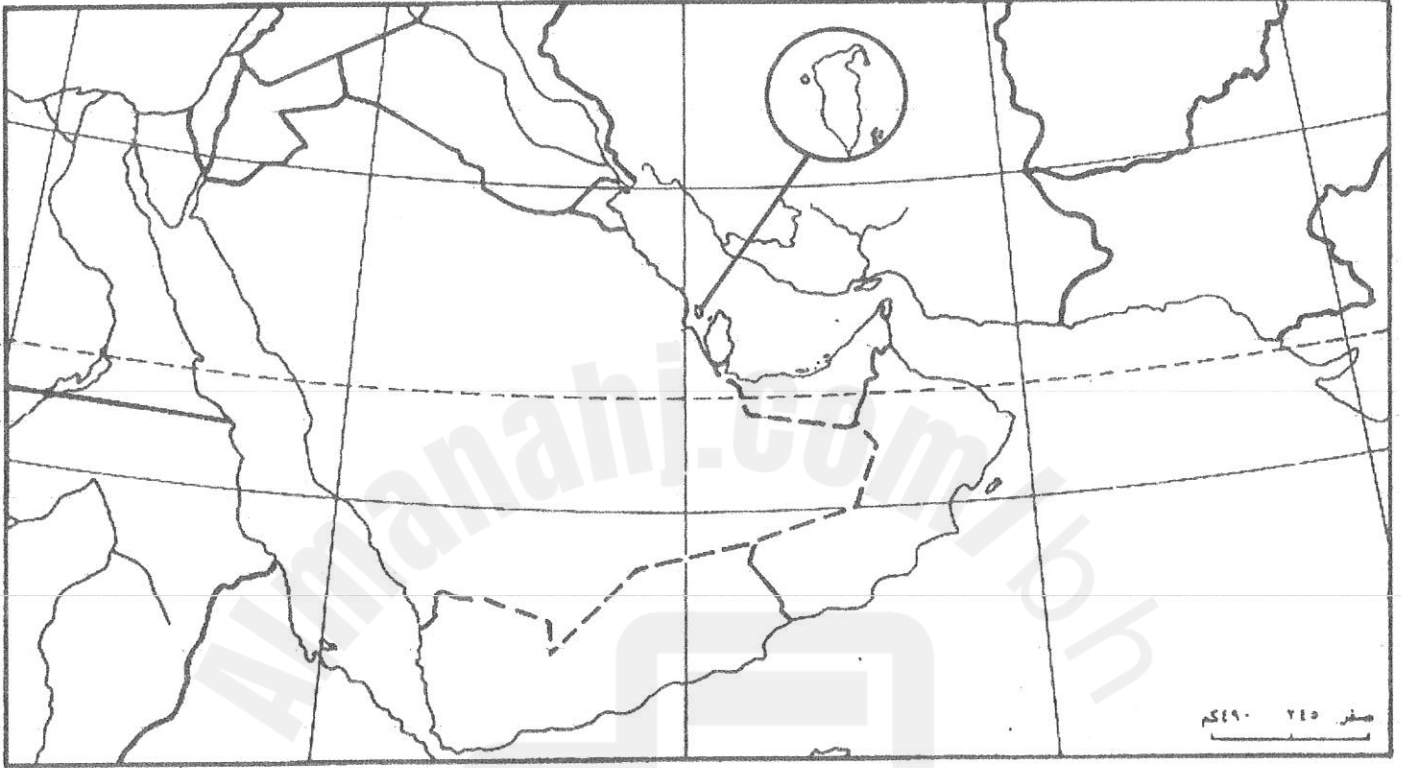
2025

2024

موقع المناهج
البحرينية

الموقع وأهميته

السؤال الأول: على الخارطة الصماء لدول مجلس التعاون .. دون أسماء الدول الخليجية الست والمسطحات المائية المحيطة بها والمضائق :



الدول الاستعمارية	الأهمية			الموقع
البرتغال هولندا بريطانيا	جزر البحرين	بحرية (الخليج العربي)	معبر	جنوب غرب آسيا وشرق الوطن العربي
	البحر الأحمر	بحرية (البحر الأحمر)	للطرق التجارية	
	مكة ، الطائف	برية (عسير والحجاز)	الثلاثة :	
	النفط ، مصادر الطاقة ، طرق حيوية للتجارة العالمية			حديثا

السؤال الثاني: علل لما يلي: تنافس القوى الاستعمارية للسيطرة على الخليج .

.....

.....

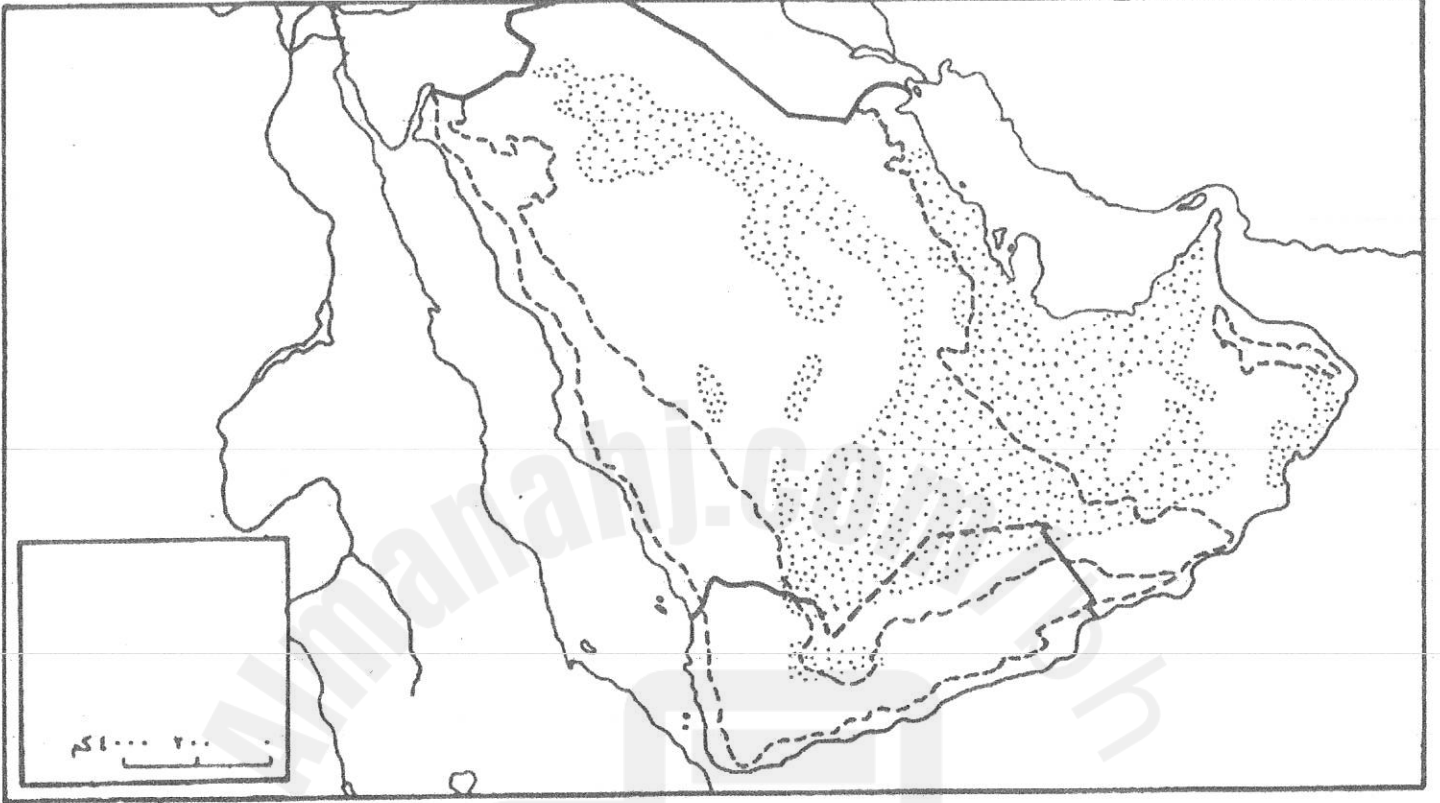
الوحدة الثانية (٢) جغرافية دول (مجلس التعاون لدول الخليج العربية)

توزع التضاريس ومميزاتها

التاريخ

٢٠٠٠

السؤال الأول: على الخارطة الصماء لشبه الجزيرة العربية .. دون أسماء التضاريس المدرجة في الجدول أدناه :



الأودية	المسطحات المائية	الهضاب	الصحاري	الجبال
وداي الدواسر	الخليج العربي	هضبة نجد	صحراء الربع الخالي	جبال عمان
وادي الرمة	البحر الأحمر		صحراء النفود	جبال الحجاز
	بحر العرب		صحراء الدهناء	جبال عسير
	مضيق باب المندب			جبال ظفار

الوحدة الثانية (٢) جغرافية دول (مجلس التعاون لدول الخليج العربية)

التاريخ

..... / / ٢٠٢٠م

أبعاد الخليج العربي وخصائص مياهه

السؤال الأول: اذكر النتائج المترتبة من جراء ضحالة مياه الخليج على كل من السفن والنباتات والأسماك :

السفن	النباتات والاسماك

السؤال الثاني: بين سبب انخفاض الحرارة في مناطق مياه الخليج التالية :

المناطق	الأسباب
الأطراف الجنوبية	
الطراف الشمالية	
بين قطر والأحساء	

السؤال الثالث: بين أسباب انخفاض ملوحة مياه الخليج في المناطق التالية :

المناطق	الأسباب
الوسط	
الشمال	

الوحدة الثانية (٢) جغرافية دول (مجلس التعاون لدول الخليج العربية)

الثروة النفطية ومزاياها

..... / / ٢٠٢٠م

التاريخ

السؤال الأول: اذكر العناصر المكونة للنفط الخليجي ومناطق توزيعه وأكبر حقول النفط والغاز فيه :

أكبر حقول النفط والغاز		مناطق تواجده		مكونات النفط
	النفط		برية	
	الغاز		بحرية	

السؤال الثاني: عدد مزايا الثروة النفطية في دول المجلس :

2025	المزايا	2024
		أولا
		ثانيا
		ثالثا
		رابعا
		خامسا

الوحدة الثانية (٢) جغرافية دول (مجلس التعاون لدول الخليج العربية)

المناطق المناخية الصحراوية وخصائصها

التاريخ / / ٢٠٢٠ م
---------	------------------------

◆ تشمل المنطقة شبه الصحراوية أطراف دول المجلس الجبلية .. في الجدول أدناه بين اختلاف المعدل الحراري والمتساقطات على هذه الجبال :

الجبـال	المعدل الحراري	كمية المتساقطات	
		السبب	الكمية
عسير و ظفار			
عمان و الحجاز			

◆ تشمل المنطقة الصحراوية باقي دول المجلس الجبلية .. في الجدول أدناه بين اختلاف المعدل الحراري والمتساقطات على هذه المنطقة :

المنطقة	المعدل الحراري	كمية المتساقطات	
		السبب	الكمية
الشمال			
الربع الخالي			

الوحدة الثانية (٢) جغرافية دول (مجلس التعاون لدول الخليج العربية)

تنمية الموارد المائية

التاريخ /.../.../٢٠٠٢م

◆ في الجدول أدناه.. بين أسباب نضوب المياه الجوفية وتملحها في دول المجلس؟

السيول	
	النضوب
	التملح

في الجدول أدناه.. عدد التدابير التي اتخذتها دول المجلس في سبيل تنمية مياها :

التدابير	أولا
	ثانيا
	ثالثا

في الجدول أدناه.. اذكر الخطوات التي يمكن اتباعها للمحافظة على ثروتنا المائية :

الخطوات	أولا
	ثانيا
	ثالثا
	رابعا

مهارة الرسم البياني لزيادة عدد السكان
مهارة : خريطة الكثافة السكانية

أجب عن الأسئلة التالية :-

أولا : من خلال المستند أمامك ، أجب عن الأسئلة التالية :

١. حول الجدول أدناه الى رسم بياني على شكل خط :

السنة	١٩٧٠	١٩٨٠	١٩٩٠	٢٠٠١
عدد السكان بالملايين	١٣	١٤	١٤	١٦

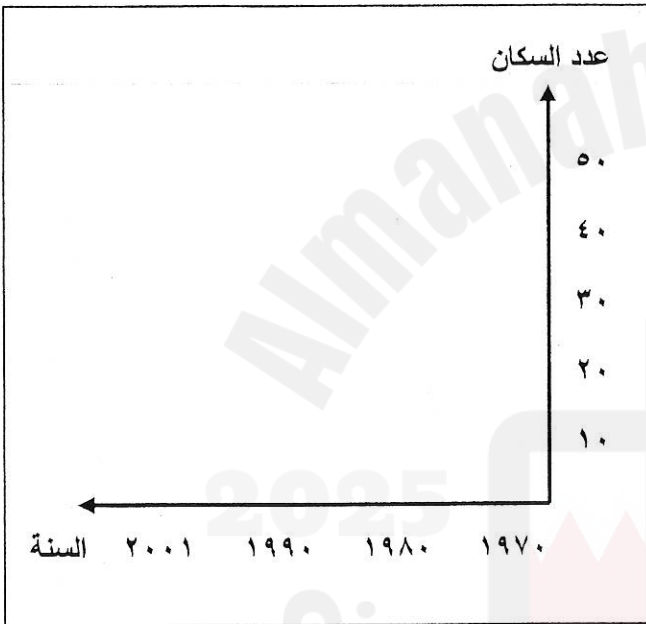
جدول بعدد سكان هولندا ١٩٧٠-٢٠٠١ م

٢. ما المسار الذي يتخذه خط تطور عدد سكان أسيا :

.....

٣. على ماذا يدل هذا المسار :

.....



ثانياً أختبر معلوماتك :-

على خريطة الكثافة السكانية :

- كلما كانت النقاط متباعدة كانت الكثافة السكانية الإجمالية

- كلما كانت النقاط متقاربة كانت الكثافة السكانية الإجمالية

الخصائص السكانية

❖ في الجدول أدناه.. علل ما يلي :

الأسباب	
	ارتفاع التزايد السكاني في دول المجلس
	ارتفاع الزيادة الطبيعية للسكان في دول المجلس
	يتميز المجتمع في دول المجلس بفتوته

❖ في الجدول أدناه.. أذكر الخطوات التي قامت بها دول المجلس للإسراع في عملية التنمية الشاملة :

الإجراءات	
	أولاً
	ثانياً
	ثالثاً
	رابعاً

الوحدة الثانية (٢) جغرافية دول (مجلس التعاون لدول الخليج العربية)

التنمية البشرية

..... / / ٢٠٢٠م

التاريخ

◆ في الجدول أدناه.. عدد الجهود التي اتخذتها دول المجلس في مجال الصحة ونتائجها؟

النتائج	الجهود

◆ في الجدول أدناه.. عدد الجهود التي اتخذتها دول المجلس في مجال التعليم ونتائجها؟

النتائج	الجهود

الوحدة الثانية (٢) جغرافية دول (مجلس التعاون لدول الخليج العربية)

التنمية الاقتصادية

..... / / ٢٠٢٠ م

التاريخ

◆ بين نوع المجال الذي وظف فيه الإيرادات النفطية في دول المجلس أدناه :

نوع المجال	المجال
	التنمية البشرية
	تنوع مصادر الدخل

◆ عدد التحولات التي شهدتها اقتصاد دول المجلس بفعل عملية التنمية في الجدول أدناه :

النتائج

الوحدة الثانية (٢) جغرافية دول (مجلس التعاون الدول الخليج العربية)
جهود التنمية الزراعية

التاريخ

الميد البحري	التنمية الحيوانية	التنمية الزراعية

الوحدة الثانية (٢) جغرافية دول (مجلس التعاون لدول الخليج العربية)

نتائج التنمية الزراعية

التاريخ ٢٠١٧/...../.....

◆ حدد المنتجات الزراعية والحيوانية التي حققت اكتفاءً ذاتياً في دول المجلس بوضعك علامة (✓) في الخانة المناسبة لها :

الاكتفاء الذاتي		اسم المنتج (الزراعي / الحيواني)
لم يحقق	حقق	
		القمح
		التمور، الأعلاف، بيض المائدة، الحليب
		الأسماك
		اللحوم الحمراء ، لحوم الدواجن
		الموز، العنب، جوز الهند، الأناناس

◆ عدد أبرز العوائق التي تعترض تقدم القطاع الزراعي في دول المجلس في الجدول أدناه :

العوائق

الوحدة الثانية (٢) جغرافية دول (مجلس التعاون لدول الخليج العربية)

أنواع الصناعات التحويلية والعوائق

التاريخ /.../.../ ٢٠٠٠م

◆ سمر الصناعات التحويلية الكبرى في دول المجلس، ثم حدد أي منها حقق اكتفاءً ذاتياً بوضعك علامة (✓) في الخانة المناسبة لها :

الاكتفاء الذاتي		اسم الصناعة التحويلية
لم يحقق	حقق	

◆ عدد أبرز العوائق التي تعترض تقدم الصناعات التحويلية في دول المجلس في الجدول أدناه :

العوائق

اتجاهات الحركة التجارية

التاريخ /.../... /٢٠٢٠م

◆ سمِّ أهم صادرات دول المجلس، ثم حدد الدول الأكثر استقبالا لهذه الصادرات:

اسم الصادرات	الدول المصدرة لها

◆ سمِّ أهم واردات دول المجلس، ثم حدد أي الدول تستورد منها:

اسم الواردات	الدول المستوردة منها

◆ اذكر مجالات الاستفادة من حركة التبادل التجاري في دول المجلس:

مجالات الاستفادة

الوحدة الثانية (٢) جغرافية دول (مجلس التعاون لدول الخليج العربية)

التاريخ /... /... /٢٠٠٠م

مجلس التعاون لدول الخليج العربية

◆ عدد أهداف دول المجلس :

الأهداف

◆ سمّ أهم أجهزة دول المجلس :

الأجهزة

◆ اذكر أبرز الانجازات المشتركة التي قامت بها دول المجلس من الجدول أدناه : 2025

الانجازات	الاقتصادي
	البيئي
	الصحي
	التربوي

التربية

للمواطنة

2025

2024

موقع المناهج البحرينية

المجتمع البحريني (١) عناصر المجتمع البحريني وسماته

السؤال الأول: أجب عن الأسئلة التالية في الجدول أدناه:

السؤال	الإجابة
ممن تشكل شعب البحرين؟	
ما الأعمال التي مارسها شعب البحرين قديما؟	
كيف أثر اكتشاف النفط على حياة المواطن البحريني؟	



2025

موقع

2024

موقع

ما أبرز السمات التي تميز بها المجتمع البحريني؟

أ..... ب..... ج.....

المجتمع البحريني (1) عناصر المجتمع

البحريني وسماته

يتكون المجتمع من أهم عنصرين وهما (العنصر البشري والعنصر الثقافي)

أولاً: العنصر البشري:

.....
.....
.....
.....
.....
.....
.....
.....

ثانياً: العنصر الثقافي:

.....
.....
.....
.....
.....
.....
.....
.....

س2: أذكر سمات المجتمع البحريني التي تحدد هويته؟

1-

.....

.....

2-

.....

.....

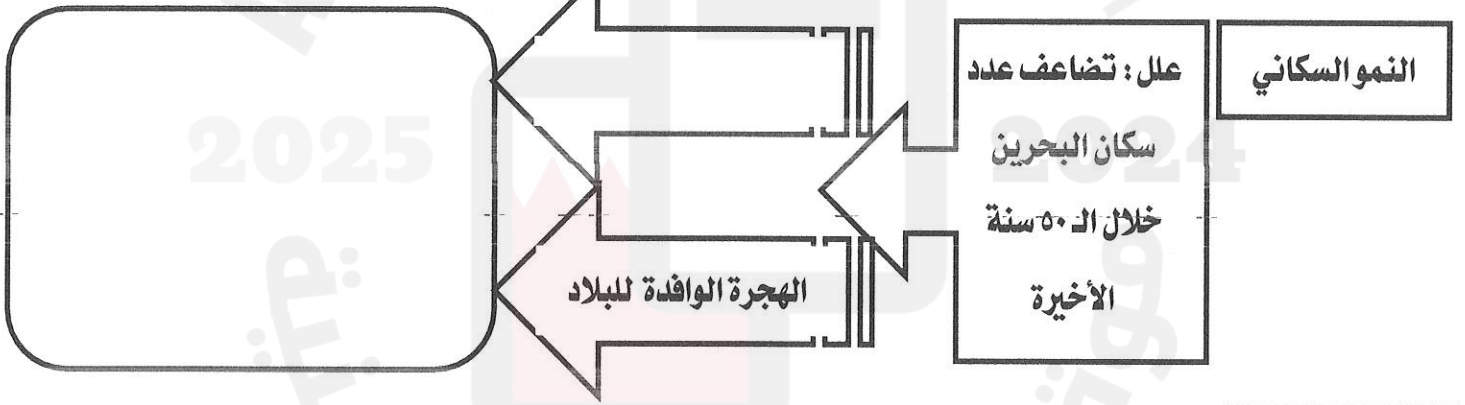
3-

.....

المجتمع البحريني (٢) التطور المجتمعي في مملكة البحرين

حدد عوامل التطور المجتمعي في مملكة البحرين ومظاهره؟

عوامل التطور المجتمعي في مملكة البحرين؟	مظاهر التطور المجتمعي في مملكة البحرين؟
أ.	أ.
ب.	ب.
ج.	ج.
د.	د.



س: عدد الجهود والنتائج في مجال التعليم التي ساهمت في التطور المجتمعي؟

- أ.
- ب.
- ج.
- د.

الدولة الحديثة في مملكة البحرين

التاريخ / / ٢٠٢٠م

أولاً: مظاهر الدولة الحديثة في عهد الشيخ عيسى بن سلمان آل خليفة

س١: عدد دعائم الدولة الحديثة في البحرين؟

- أ.....ج.....
ب.....د.....
هـ.....و.....
ز.....ح.....
ط.....ي.....

س٢: ما المراسيم التي صدرت بموجب بيان إنهاء المعاهدات السياسية والعسكرية مع بريطانيا؟

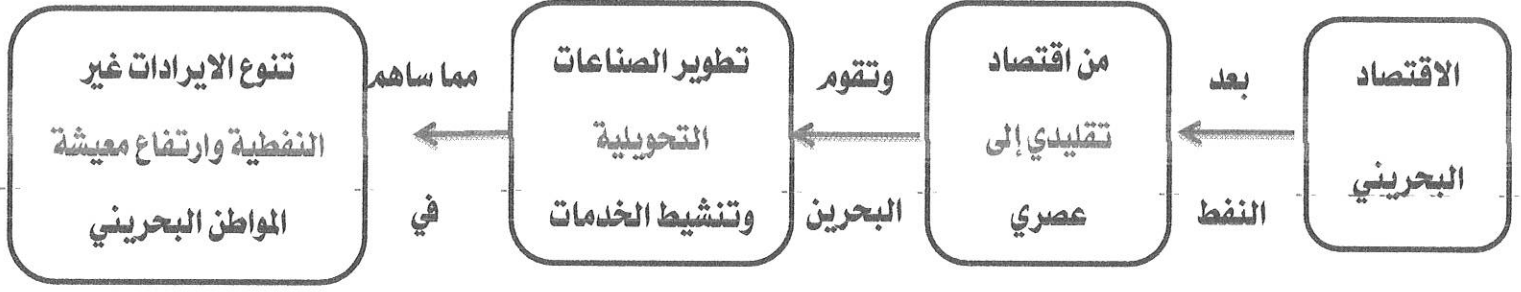
- ١.....
٢.....

ثانياً: مظاهر الريادة والاشعاع

س١: ما مظاهر النهضة الشاملة التي قادها الشيخ عيسى بن سلمان آل خليفة؟

- أ.....
ب.....
ج.....
د.....
هـ.....

حيوية الاقتصاد



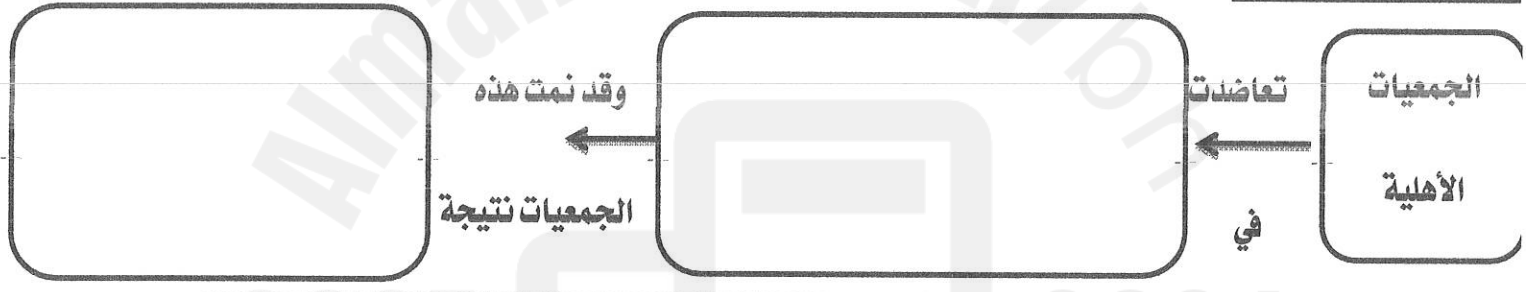
بنية الأسرة

س: ما النتائج المترتبة على انتشار التعليم وخروج المآة للعمل وارتفاع مستوى المعيشة ؟

أ..... ب.....

ج..... د.....

المؤسسات الحكومية



حدد الجهود والنتائج المترتبة على العناية الصحية في البحرين

نتائج العناية الصحية ؟	جهود العناية الصحية
أ.....	أ.....
ب.....	ب.....
ج.....	
د.....	

الملك حمد بن عيسى آل خليفة (١)

س١: ما الاسباب التي دعت الشيخ عيسى بن سلمان لأن يعلن ولاية العهد لابنه الشيخ حمد بن عيسى؟

أ..... ب.....

ج..... د.....

س١: ما العوامل التي مكنت الشيخ حمد بن عيسى من تحقيق العديد من الانجازات؟

أ..... ب.....

ج..... د.....

ثانيا : السنوات الأولى من الحكم

أجب عن الاسئلة التالية في الجدول أدناه

متى تولى الملك حمد دفعة الحكم؟	ما الرؤية التي عبر عنها الملك حمد في خطابه الذي ألقاه بمناسبة توليه دفعة الحكم؟	علام قامت الأسس والثوابت التي أرساها الملك حمد؟

ثالثا : المشروع الاصلاحى للملك حمد

عدد التعديلات التي أقرها الملك حمد وأصدرها سنة ٢٠٠٢م
