

تم تحميل هذا الملف من موقع المناهج البحرينية



* للحصول على أوراق عمل لجميع الصفوف وجميع المواد اضغط هنا

<https://almanahj.com/bh>

* للحصول على أوراق عمل لجميع مواد الصف السابع اضغط هنا

<https://almanahj.com/bh/7>

* للحصول على جميع أوراق الصف السابع في مادة اجتماعيات ولجميع الفصول, اضغط هنا

<https://almanahj.com/bh/7social>

* للحصول على أوراق عمل لجميع مواد الصف السابع في مادة اجتماعيات الخاصة بـ الفصل الأول اضغط هنا

<https://almanahj.com/bh/7social1>

* لتحميل كتب جميع المواد في جميع الفصول للـ الصف السابع اضغط هنا

<https://almanahj.com/bh/grade7>

* لتحميل جميع ملفات المدرس مدرسة أوال الإعدادية للبنين اضغط هنا

[almanahjbhbot/me.t//:https](https://t.me/almanahjbhbot)

للتحدث إلى بوت على تلغرام: اضغط هنا

مذكرة المواد الاجتماعية لنهاية الفصل الدراسي الأول
للسف الأول الإعدادي للعام الدراسي ٢٠١٦-٢٠١٧ م

السؤال الأول : أكمل الفراغات الآتية بما يناسبها :

- ١- تأسس مجلس التعاون الخليجي في مدينة [أبو ظبي بالإمارات] عام [١٩٨١] .
- ٢- يتميز المجتمع في دول مجلس التعاون بفتوته بسبب [كثرة الولادات حيث يشكل الفتان حوالي نصف عدد سكان دول المجلس] .
- ٣- تنتشر صناعة البتروكيماويات في جميع دول مجلس التعاون الخليجي ماعدا [عمان] .
- ٤- أغنى مناطق دول مجلس التعاون الخليجي بالنبات الطبيعي هي المنطقة [الشبه الصحراوية] .
- ٥- تمتاز شبكة الطرق البرية في دول المجلس بارتفاع نسبة الطرق [المعبدة] .
- ٦- الزراعة التي تقوم داخل البيوت البلاستيكية هي [زراعة محمية] .
- ٧- تختلف المنطقة شبه الصحراوية في دول المجلس عن المنطقة الصحراوية بأن حرارتها [أقل] وأمطارها [منتظمة] .
- ٨- الرياح التي تهب صيفاً حاملة معها المطر على كل من جبال ظفار وعسير هي الرياح [الموسمية الجنوبية الغربية الرطبة] .
- ٩- تتخفف الرطوبة كلما ابتعدنا عن [المسطحات المائية] .
- ١٠- تمتاز جبال ظفار بانتشار كثيف لأشجار [لبان البخور] .
- ١١- تنحدر مياه السيول من [المرتفعات الجبلية] وتجري في [الأودية الجافة] مما سمح بنمو نباتات وقيام القرى حولها .
- ١٢- أدى ازدياد نسبة استخراج المياه الجوفية القريبة من السطح إلى نشوء مشكلتي [النضوب و التملح] .
- ١٣- كلما ارتفعنا بالمناطق الجبلية في دول المجلس تتخفف [درجة الحرارة] وترتفع [كمية الأمطار] .
- ١٤- أدى الاستغلال الجائر للثروة النباتية كالرعي وقطع الأشجار إلى تقلص [رقعة الغطاء النباتي] .
- ١٥- الصناعة التي تحول المنتجات الزراعية و الحيوانية من مادة أولية الى اطعمة جاهزة هي [صناعة غذائية]
- ١٦- في دول المجلس نوعان من الموانئ هما: موانئ [نفطية] و موانئ [تجارية] .
- ١٧- المناخ الذي يسود دول مجلس التعاون الخليجي هو [صحراوي] .
- ١٨- غابة كثيفة الأشجار تتقارب أشجارها دون أن تتماس أغصانها [غابة شبه مغلقة] .
- ١٩- منطقة شجرية مسيجة يمنع قطع أشجارها والرعي فيها [محمية حراجية] .
- ٢٠- غابة متباعدة الأشجار تفصل بينها مسافات متفاوتة [غابة مفتوحة] .
- ٢١- يتوزع الغطاء النباتي فوق مناطق الأرض وتختلف كثافته تبعاً لاختلاف [كمية الأمطار] .
- ٢٢- تستفيد جبال ظفار وعسير من الأمطار الموسمية وتزدهر فيها [غابات شبه مغلقة] .
- ٢٣- نبات يتخذ أهمية كبرى في تثبيت الكتلان الرملية في الربع الخالي [نبات الأرتي] .
- ٢٤- أوسع الزراعات انتشاراً في دول المجلس هي زراعة [النخيل] .
- ٢٥- تتركز زراعة القمح في دول المجلس في [السعودية] .
- ٢٦- أكثر دول المجلس تكريراً للنفط هي [السعودية] .
- ٢٧- تتحصر صناعة النحاس في دول المجلس في [عمان] .
- ٢٨- الدولة الخليجية التي تنتج نصف إنتاج دول المجلس من الاسمنت هي [السعودية] .
- ٢٩- تتحصر صناعة بناء وإصلاح السفن في دول المجلس في [البحرين والإمارات] .
- ٣٠- يقتصر وجود السكك الحديدية في دول المجلس في [المملكة العربية السعودية] .
- ٣١- يعتبر من أهم إنجازات مجال المواصلات البرية في دول المجلس [جسر الملك فهد] الذي يربط بين البحرين والسعودية .
- ٣٢- تأتي في طليعة الدول التي تستورد من دول المجلس [اليابان] .
- ٣٣- تأتي في طليعة الدول التي تستورد منها دول المجلس [دول المجموعة الأوروبية] .
- ٣٤- يتألف المجلس الأعلى لمجلس التعاون من [رؤساء الدول الأعضاء] .
- ٣٥- يتألف المجلس الوزاري لمجلس التعاون من [وزراء خارجية الدول الأعضاء] .
- ٣٦- الرياح التي تهب شتاءً حاملة معها المطر على كل من جبال عمان والحجاز هي الرياح [المتوسطية الشمالية الغربية الرطبة] .
- ٣٧- الأشجار التي تنمو في شواطئ المنطقة الصحراوية، وتشكل جذورها غذاء مهماً للأسماك هي أشجار [القرم البحري] .
- ٣٨- السلعة التي تحتل المرتبة الأولى في صادرات دول المجلس هي [النفط] ، وتحتل الصادرات الصناعية المرتبة [الثانية] .
- ٣٩- من وسائل الاتصال السلكي واللاسلكي في دول المجلس [الهاتف - الخدمات البريدية - التلفاز - الإذاعة - الصحف] .
- ٤٠- أمنت دول المجلس الاتصال بالخارج عبر محطات الأقمار الاصطناعية مثل محطة [رأس أبي جرجور] في البحرين .
- ٤١- السلعة التي يركز عليها اقتصاد دول مجلس التعاون الخليجي هي [النفط] .
- ٤٢- نستطيع حساب الكثافة السكانية الإجمالية لأي دولة بالطريقة التالية: [عدد السكان للدولة ÷ المساحة الإجمالية للدولة بالكلم ٢]

السؤال الثاني : علل لما يأتي:

١- علل :تدني نسبة المنتجين اقتصادياً في دول المجلس .

(أ) أكثر من نصف سكان دول المجلس هم دون سن العمل (فتيان) .
(ب) قلة مشاركة المرأة في العمل .
(ج) وجود أشخاص عاجزين عن العمل لأسباب صحية .

٢- علل :نزوح سكان البوادي والأرياف إلى المدن في دول المجلس.

(أ) توفر فرص العمل
(ب) تركز النشاطات الاقتصادية فيها خصوصاً بعد اكتشاف النفط.

٣- علل :اتجهت حركة النزوح السكاني في السعودية بادئ الأمر نحو المنطقة الشرقية.

بسبب اكتشاف النفط الذي كان له دور كبير في توفر فرص العمل

٤- علل : التزايد الكبير في عدد السكان بدول مجلس التعاون الخليجي .

(أ) ارتفاع الزيادة السكانية الطبيعية .
(ب) ارتفاع أعداد الوافدين إليها .

٥- علل: ارتفاع كمية السلع المستوردة من الخارج لدول مجلس التعاون خلال السنوات الأخيرة.

بسبب الزيادة السكانية الكبيرة وازدياد حاجة السكان إليها.

٦- علل: ازدهار الحركة التجارية في دول مجلس التعاون .

نتيجة لنموها السكاني والاقتصادي الذي شهدته خلال السنوات الأخيرة.

٧- علل: اختلاف توزيع الغطاء النباتي من منطقة إلى أخرى.

لاختلاف الخصائص المناخية وخصوصاً كمية الأمطار.

٨- علل: نشوء المدن في دول المجلس قبل اكتشاف النفط.

(أ) الموقع التجاري البري (مكة – الطائف – المدينة).
(ب) الموقع التجاري البحري (المنامة- أبو ظبي – دبي-مسقط).
(ج) المكانة الدينية (مكة المكرمة).
(د) المكانة السياسية (الرياض).

٩- علل: أحدث اكتشاف النفط تحولات أساسية في اقتصاد دول المجلس.

بسبب ارتفاع أسعاره وارتفاع إيراداته التي وظفت في عملية التنمية الشاملة.

١٠- علل: الاختلاف في كميات الأمطار المتساقطة في المنطقة الصحراوية.

يعود هذا الاختلاف إلى أن الرياح المتوسطة تفل سرعتها، وتفقد تدريجياً أمطارها وهي تعبر المنطقة من الشمال إلى الجنوب، وهي لا تصل إلى الربع الخالي إلا نادراً، كما أن الرياح الموسمية الصيفية لا تصل إلى الربع الخالي بسبب ارتفاع الحواجز الجبلية عند أطرافها.

١١- علل: محدودية الموارد المائية الطبيعية في دول مجلس التعاون الخليجي.

(أ) الطبيعة الصحراوية.
(ب) ندرة الأمطار.
(ج) عدم وجود أنهار دائمة الجريان في دول المجلس.

١٢- علل: حدوث السيول في دول مجلس التعاون الخليجي.

بسبب هطول كميات غزيرة ومفاجئة من الأمطار فوق المرتفعات الجبلية، حيث تتحدر منها، وتجري في الأودية الجافة.

١٣- علل: لاتجري السيول في دول مجلس التعاون الخليجي لمسافات طويلة.

بسبب (أ) تسربها إلى باطن الأرض.
(ب) تعرضها للتبخر الشديد.

١٤- علل: نزوب وتملح المياه الجوفية القريبة من السطح في دول مجلس التعاون.

بسبب كثرة الاستهلاك، حيث أن نسبة استخراج المياه الجوفية يزيد على نسبة ما يغذيها من مياه الأمطار، مما أدى إلى انخفاض منسوبها، ونزوبها، كما أنها تملحت بسبب تسرب مياه البحر المالحة إلى طبقات المياه الجوفية.

١٥- علل: تقلص رقعة الغطاء النباتي في دول مجلس التعاون.

بسبب الاستغلال الجائر للثروة النباتية كالرعي وقطع الأشجار لأغراض مختلفة.

السؤال الثالث : أجب عن الأسئلة التالية:

١- ما الوسائل التي اعتمدها دول المجلس لتنمية ثروتها المائية وحل مشاكلها المائية ؟

(أ) إقامة السدود لتجميع مياه السيول .
(ب) بناء محطات لتحلية مياه البحر .
(ج) بناء محطات لتنقية مياه الصرف الصحي .

٢- أذكر الجهود التي بذلتها دول المجلس في مجال العناية الصحية .

(أ) إنشاء المستشفيات الحكومية .
(ب) نشر المراكز الصحية للرعاية الأولية .
(د) حملات الترشيد الصحي .
(ج) تأسيس الكليات والمعاهد لإعداد الكوادر المتخصصة .
(هـ) حملات التلقيح المجانية .
(ي) دعم القطاع الأهلي لإنشاء مؤسسات صحية تشارك في عملية التنمية .
(و) إمداد المنازل بالمياه الصالحة للشرب .

٣- اذكر الجهود التي بذلتها دول المجلس في مجال التعليم .

- (أ) إنشاء المدارس الحكومية المزودة بأحدث الوسائل التعليمية. (ب) تشجيع إنشاء المدارس الأهلية . (د) إنشاء الجامعات. (ج) جعل التعليم الابتدائي إلزامياً . (هـ) إنشاء معاهد التعليم المهني والتقني . (و) تنظيم دورات تدريبية للمدرسين.

٤- ما سبب فتوة المجتمع الخليجي ؟

بسبب ارتفاع نسبة الولادات، حيث يشكل السكان الذين تقل أعمارهم عن ١٥ سنة حوالي نصف عدد سكان دول المجلس.

٥- اكتب النتائج المترتبة على جهود دول المجلس في مجال الصحة والتعليم بالجدول التالي :

نتائج اهتمام دول المجلس بالصحة	نتائج اهتمام دول المجلس بالتعليم
(أ) انخفاض نسبة الوفيات ووفيات الرضع . (ب) انخفاض عدد الأشخاص لكل طبيب . (ج) ارتفاع متوسط عمر الإنسان.	(أ) انخفاض نسبة الأمية بين كبار السن . (ب) ارتفاع نسبة الملتحقين بالتعليم دون الجامعي . (ج) ارتفاع نسبة الإناث في التعليم العالي .

٦- ما الجهود التي قامت بها دول المجلس لتنمية نشاطها الزراعي والحيواني ؟

- (أ) توفير مياه الري ببناء السدود واستخدام مياه الصرف الصحي. (ب) استخدام طرق ري حديثة . (ج) تقديم القروض. (د) إنشاء مراكز الأبحاث والتجارب الزراعية . (هـ) تقديم الخدمات الإرشادية. (و) تقديم الرعاية البيطرية . (ي) بناء الصوامع لتخزين الحبوب وإنشاء الصناعات الغذائية . (ل) استخدام الآلات الحديثة والمبيدات والأسمدة الكيماوية. (ن) نشر الزراعة المحمية . (ع) إقامة مزارع نموذجية لتربية المواشي

٧- ما العوائق التي تعترض قطاع الصناعة التحويلية في دول المجلس ؟

- (أ) نقص القوى العاملة . (ب) المنافسة التي تتعرض لها في الأسواق العالمية . (ج) الاعتماد على الخارج في استيراد المواد الأولية والآلات والمعدات اللازمة لتشغيل المصانع .

٨- ما العقبات التي تقف في وجه القطاع الزراعي لدى دول المجلس ؟

- (أ) قلة الموارد المائية وقلة خصوبة التربة وتملحها. (ب) الارتفاع في تكاليف المواد المستخدمة في القطاع الزراعي. (ج) النقص في القوى العاملة الفنية والمهندسين الزراعيين المحليين.

٩- كيف كان توزيع سكان دول المجلس في فترة ما قبل النفط ؟

كانت غالبية السكان تعيش في البوادي والأرياف، والقسم الآخر كان يعيش في عدد من المدن الحضرية.

١٠- عدد أنواع الصناعات التحويلية الكبرى في دول المجلس وحدد الدول التي يوجد فيها كل نوع من هذه الصناعات.

- (أ) صناعة تكرير النفط وتسييل الغاز، في جميع دول المجلس، وخصوصاً في السعودية. (ب) صناعة المعادن: الألمنيوم في البحرين والإمارات، الحديد في السعودية والبحرين وقطر والإمارات، النحاس في عمان. (ج) صناعة الإسمنت في جميع دول المجلس (د) صناعة بناء وإصلاح السفن : في البحرين والإمارات.

١١- قارن بين المياه الجوفية السطحية وبين المياه الجوفية العميقة.

المياه الجوفية السطحية	المياه الجوفية العميقة
تجمعت من الأمطار التي تهطل في زمننا الحاضر.	تجمعت من الأمطار التي هطلت في الأزمنة القديمة
قريبة من سطح الأرض ويتراوح عمقها بين ٥م و ١٠٠م	توجد في الطبقات العميقة من سطح الأرض
مياه متجددة ، لأنها تتغذى سنوياً من مياه الأمطار	مياه غير متجددة لأنها لا تتغذى من أي مصدر مائي آخر.
يتم الحصول عليها بحفر الآبار والأفلاج.	يتم الحصول عليها بحفر الآبار الارتوازية.

١٢- عدد الإجراءات التي قامت بها دول المجلس لحماية الثروة النباتية الطبيعية وتنميتها.

- (أ) إصدار قوانين منع الاحتطاب العشوائي. (ب) تنظيم الرعي. (ج) أقامت المحميات الحراجية (٢٠ محمية) (د) تنظيم حملات تشجير واسعة. (هـ) إقامة الحدائق وتجميل الشوارع وتنمية الغابات.

١٣- ما الإجراءات التي قامت بها دول المجلس للإسراع في عملية التنمية الشاملة؟

- (أ) الاستعانة بأيدٍ عاملة أجنبية خبيرة. (ب) تطوير المؤسسات التعليمية. (ج) تحسين مستوى التدريب المهني. (د) الاهتمام بالمرأة (التعليم والأعداد المهني)

١٤ - عدد أهم النشاطات الاقتصادية في دول المجلس قبل اكتشاف النفط.

(أ) التجارة. (ب) الصيد البحري. (ج) تربية المواشي. (د) الزراعة المحدودة. (هـ) بعض الحرف.

١٥ - ما المجالات التي وظفت فيها الإيرادات النفطية لتحقيق نهضة اقتصادية شاملة؟

(أ) التنمية البشرية (التعليم والصحة والإسكان). (ب) إنشاء مصانع متطورة. (ج) إدخال أساليب زراعية حديثة وتأمين المياه. (د) تطوير شبكات المواصلات والاتصالات. (هـ) تنمية قطاعات السياحة والمصارف وغيرها.

١٦ - اذكر الجهود التي قامت بها دول المجلس لتنمية الصيد البحري.

(أ) تعميم استخدام معدات الصيد الحديثة. (ب) إجراء البحوث العلمية. (ج) إمداد الصيادين بالقروض. (د) تنظيم دورات تدريبية للصيادين. (هـ) بناء العديد من المشاريع النموذجية لتربية الأسماك كمشروع رأس حيان في البحرين.

١٧ - وضح ملامح نجاح التنمية الزراعية في دول المجلس .

(أ) تحقيق الاكتفاء الذاتي لكثير من المنتجات الزراعية. (ب) حققت السعودية اكتفاءً ذاتياً في إنتاج القمح والتمور والاعلاف. (ج) تؤمن دول المجلس احتياجات سكانها من الأسماك.

١٨ - عدد بعض الصناعات الخفيفة في دول المجلس.

الصناعات الغذائية - مواد البناء - الزجاج والأدوية - تجميع الآلات الزراعية - الورق - الأصباغ - النسيج - المفروشات.

١٩ - بين مجالات الاستفادة من قيمة الأرباح التي حققتها دول المجلس من حركة التبادل التجاري.

(أ) توسيع عملية التنمية الشاملة. (ب) تطوير مختلف المشاريع الاقتصادية القائمة. (ج) تحسين مستوى الخدمات. (د) إقامة مشاريع اقتصادية جديدة. (هـ) توفير خدمات إضافية للمواطنين.

٢٠ - ما أهم مميزات شبكة الطرق البرية في دول المجلس؟

(أ) ارتفاع نسبة الطرق المعبدة. (ب) الجودة العالية. (ج) الصيانة المستمرة. (د) توافر شروط السلامة المرورية (إنارة- دوارات - إشارات ضوئية)

٢١ - اذكر بعض من أهداف مجلس التعاون لدول الخليج العربي.

(أ) تحقيق التنسيق والتكامل بين الدول الأعضاء. (ب) توثيق الروابط والصلات بين الشعوب. (ج) وضع أنظمة متماثلة. (د) دفع عجلة التقدم العلمي والتقني في المجال الاقتصادي.

٢٢ - وضح أهم القواسم المشتركة بين دول مجلس التعاون.

(أ) العقيدة الإسلامية. (ب) اللغة العربية. (ج) التراث المتشابه. (د) التاريخ المشترك. (هـ) علاقات القربى والنسب.

٢٣ - اذكر أبرز إنجازات مجلس التعاون لدول الخليج العربي.

(أ) توقيع الاتفاقية الاقتصادية الموحدة. (ب) وضع النظام العام لحماية البيئة. (ج) تنفيذ منهج القدر المشترك. (د) المساواة في تقديم الخدمات الصحية بين شعوب دول المجلس. (و) إنجاز مشاريع مشتركة بين دولتين أو أكثر (كمصنع ألبا وجسر الملك فهد)

٢٤ - ما الميزات المناخية التي تتميز بها صحراء الربع الخالي؟

(أ) شدة الحرارة. (ب) ندرة الأمطار. (ج) قلة الرطوبة. ← مما جعلها منطقة صحراوية شديدة الجفاف يسودها القحط.

٢٥ - ما الأضرار التي تحدثها السيول في دول مجلس التعاون؟

تحدث أضراراً في بعض القرى، وقد تجرف التربة التي تفتقر إلى غطاء نباتي يحميها من الانجراف.

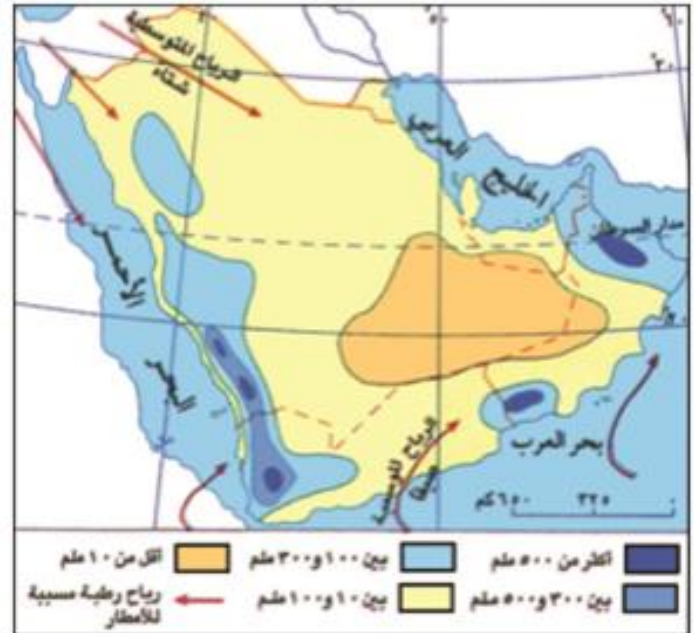
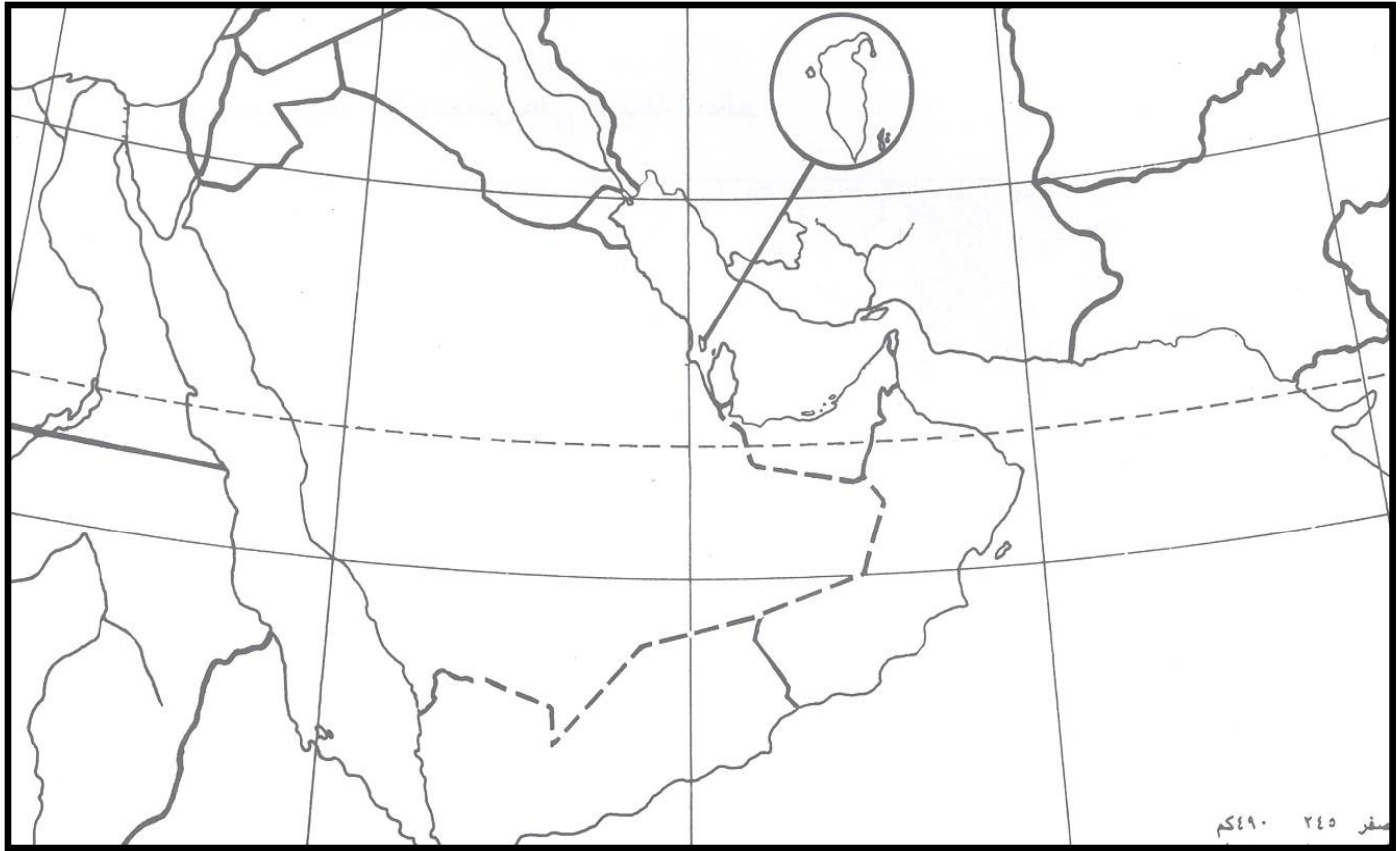
٢٦ - قارن بين الموانئ النفطية والموانئ التجارية:

أنواع الموانئ	النفطية	التجارية
وظائفها	معدة خصيصاً لتصدير النفط والغاز الطبيعي	معدة خصيصاً لاستيراد وتصدير السلع غير النفطية
تجهيزاتها	(١) خزانات لتخزين النفط والغاز الطبيعي. (٢) أنابيب لنقل النفط والغاز. (٣) أحواض مزودة بمراسي تسمح باستقبال ناقلات النفط العملاقة. (٤) رافعات.	(١) مستودعات ومخازن (٢) برادات لتخزين السلع وحفظها. (٣) أرصفة. (٤) رافعات.

السؤال الرابع :

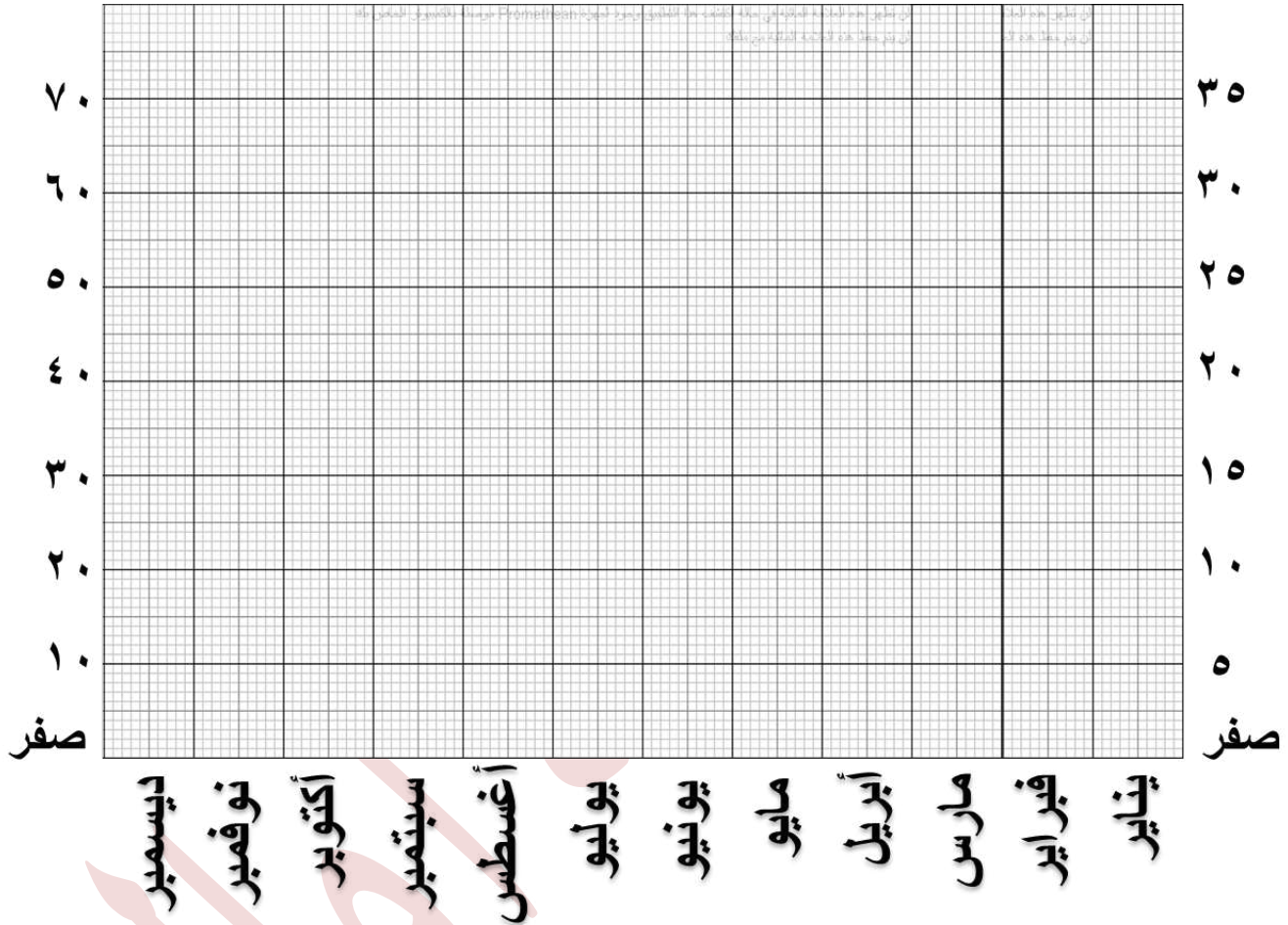
أولاً : على الخريطة الصماء أدناه وفي المكان المناسب أكتب ما يلي :

- ١- أسماء دول مجلس التعاون: [البحرين - الكويت - عمان - السعودية - الإمارات - قطر].
- ٢- عواصم دول مجلس التعاون: [المنامة - الكويت - مسقط - الرياض - أبو ظبي - الدوحة].
- ٣- أسماء المسطحات المائية التالية [البحر الأحمر - الخليج العربي - بحر العرب].
- ٤- دائرة العرض التالية : [مدار السرطان].
- ٥- الرياح المتوسطة الشتوية باستخدام رمز (←) .
- ٦- الرياح الموسمية الصيفية باستخدام رمز (← - - - - -) .



ثانياً : أمامك جدول يبين كمية الأمطار والحرارة الشهرية بمحطة الكويت ، أجب عما يليه :

الشهر	يناير	فبراير	مارس	أبريل	مايو	يونيو	يوليو	أغسطس	سبتمبر	أكتوبر	نوفمبر	ديسمبر
الحرارة	١٢	١٥	١٨	٢٤	٣٠	٣٣	٣٤	٣٥	٣٢	٢٨	٢١	١٥
الأمطار	٢٣	٢٣	٢٨	٥	٠	٠	٠	٠	٠	٣	١٥	٢٨



١- حول أرقام الجدول إلى رسم بياني مناخي على الورقة المليمترية التي أمامك .

٢- ما الأشهر الجافة في محطة الكويت ؟

.....

٣- ما الأشهر التي تتساقط بها الأمطار في محطة الكويت ؟

.....

٤- ما الشهر الأكثر حرارة في محطة الكويت ؟

.....

٥- كم يبلغ المدى الحراري السنوي لمحطة الكويت ؟

.....

٦- ما المناخ الذي تنتمي إليه هذه محطة الكويت ؟ وما الذي يدل على ذلك ؟

.....

.....

ثالثاً : أمامك جدول يبين عدد سكان دول المجلس بين عامي ١٩٤١ و ١٩٩١ ، أجب عن الأسئلة التي تليه :

السنة	١٩٤١	١٩٥١	١٩٦١	١٩٧١	١٩٨١	١٩٩١
عدد السكان (بالألف)	٩٠	١١٠	١٥٥	٢١٦	٣٥٠	٥٠٨

١- حول إحصاءات الجدول إلى رسم بياني على الورقة المليمترية على شكل خط أو أعمدة .

٢- ما المسار الذي يتخذه الخط أو الأعمدة ؟

٣- علام يدل هذا المسار؟