

تم تحميل هذا الملف من موقع المناهج البحرينية



* للحصول على أوراق عمل لجميع الصفوف وجميع المواد اضغط هنا

<https://almanahj.com/bh>

* للحصول على أوراق عمل لجميع مواد الصف السابع اضغط هنا

<https://almanahj.com/bh/7>

* للحصول على جميع أوراق الصف السابع في مادة اجتماعيات ولجميع الفصول, اضغط هنا

<https://almanahj.com/bh/7social>

* للحصول على أوراق عمل لجميع مواد الصف السابع في مادة اجتماعيات الخاصة بـ الفصل الأول اضغط هنا

<https://almanahj.com/bh/7social1>

* لتحميل كتب جميع المواد في جميع الفصول للـ الصف السابع اضغط هنا

<https://almanahj.com/bh/grade7>

* لتحميل جميع ملفات المدرس مدرسة الدراز الإعدادية للبنين اضغط هنا

[almanahjbhbot/me.t//:https](https://t.me/almanahjbhbot)

للتحدث إلى بوت على تلغرام: اضغط هنا

امتحانات الاجتماعيات - الفصل الدراسي الأول - أول إعدادي

تجميع أسئلة وإجابات الامتحانات السابقة

للفصل الدراسي الأول

مدرسة الدراز الإعدادية للبنين

مركز مصادر التعلم

ديسمبر ٢٠١٨

يرجى مراعاة أي تغييرات في المنهج الدراسي

الرقم السري

مملكة البحرين

وزارة التربية والتعليم

إدارة الامتحانات / قسم الامتحانات

امتحان نهاية الفصل الدراسي الأول للعام الدراسي ٢٠١٣/٢٠١٤م

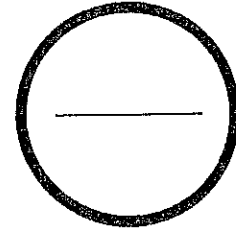
للفصل الأول الإعدادي

الزمن : ساعتان

المادة : المواد الإجتماعية (الجغرافيا والتربية للمواطنة)

الدرجة المعطاة بالأرقام والحروف:

السؤال	الدرجة بالأرقام	الدرجة بالحروف	إمضاء المصححين
الأول			
الثاني			
الثالث			
الرابع			
الخامس			
السادس			
السابع			
الثامن			
التاسع			
العاشر			
المجموع			




جمعه :

راجع الجمع :

توقيع المراجع :

بطاقة بيانات



مملكة البحرين

وزارة التربية والتعليم

إدارة الامتحانات / قسم الامتحانات

الرقم السري

امتحان نهاية الفصل الدراسي الأول للعام الدراسي ٢٠١٣/٢٠١٤م

المدرسة :

اسم الطالب :

رقم الجلوس :

المادة : المواد الإجتماعية (الجغرافيا والتربية للمواطنة) للفصل الأول الإعدادي

التاريخ :

مملكة البحرين

وزارة التربية والتعليم

إدارة الامتحانات / قسم الامتحانات

امتحان نهاية الفصل الدراسي الأول للعام الدراسي ٢٠١٣/٢٠١٤ م

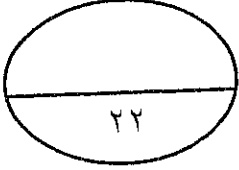
للصف الأول الإعدادي

الزمن: ساعتان

المادة: المواد الاجتماعية (الجغرافيا والتربية للمواطنة)

القسم الأول: أسئلة الجغرافيا (٧٥ علامة)

السؤال الأول :-



أولاً- ضع دائرة حول الحرف الدال على الإجابة الصحيحة من بين البدائل الآتية:

- ١- تستورد دول مجلس التعاون أكبر كمية من المواد والسلع من:
 - أ- الولايات المتحدة الأمريكية.
 - ب- الصين.
 - ج- دول المجموعة الأوروبية.
 - د- اليابان.
- ٢- يتميز المجتمع في دول مجلس التعاون بفتوته بسبب ارتفاع نسبة:
 - أ- الولادات.
 - ب- الوفيات.
 - ج- الإعاقة.
 - د- الوافدين.
- ٣- المدينة التي نشأت قبل عصر النفط؛ نتيجة موقعها على طرق التجارة البحرية هي:
 - أ- مكة المكرمة.
 - ب- الرياض.
 - ج- الطائف.
 - د- المنامة.
- ٤- الدولة التي حققت اكتفاء ذاتياً في إنتاجها من التمور والأعلاف وبيض المائدة والحليب هي:
 - أ- قطر.
 - ب- الإمارات.
 - ج- السعودية.
 - د- عُمان.
- ٥- الصناعة التي تنتشر في جميع دول مجلس التعاون ماعدا مملكة البحرين هي صناعة:
 - أ- بناء وإصلاح السفن.
 - ب- الألمنيوم.
 - ج- البتروكيماويات.
 - د- الإسمنت.
- ٦- تختلف خصائص المناخ الصحراوي في دول مجلس التعاون من منطقة إلى أخرى بسبب:
 - أ- قربها من المناخ الإستوائي.
 - ب- ارتفاع الجبال على أطرافها.
 - ج- اختلاف كثافة غطائها النباتي.
 - د- بعدها عن المسطحات المائية.

ثانياً - صحّح ما تحته خط في كل عبارة من العبارات الآتية، واكتب الإجابة الصحيحة بالسطر الذي يليها:

١- ترتفع الكثافة السكانية في دول مجلس التعاون في أطرافها الشمالية.

٢- يقتصر انتشار أشجار لبنان البخور في دول مجلس التعاون على جبال عسير.

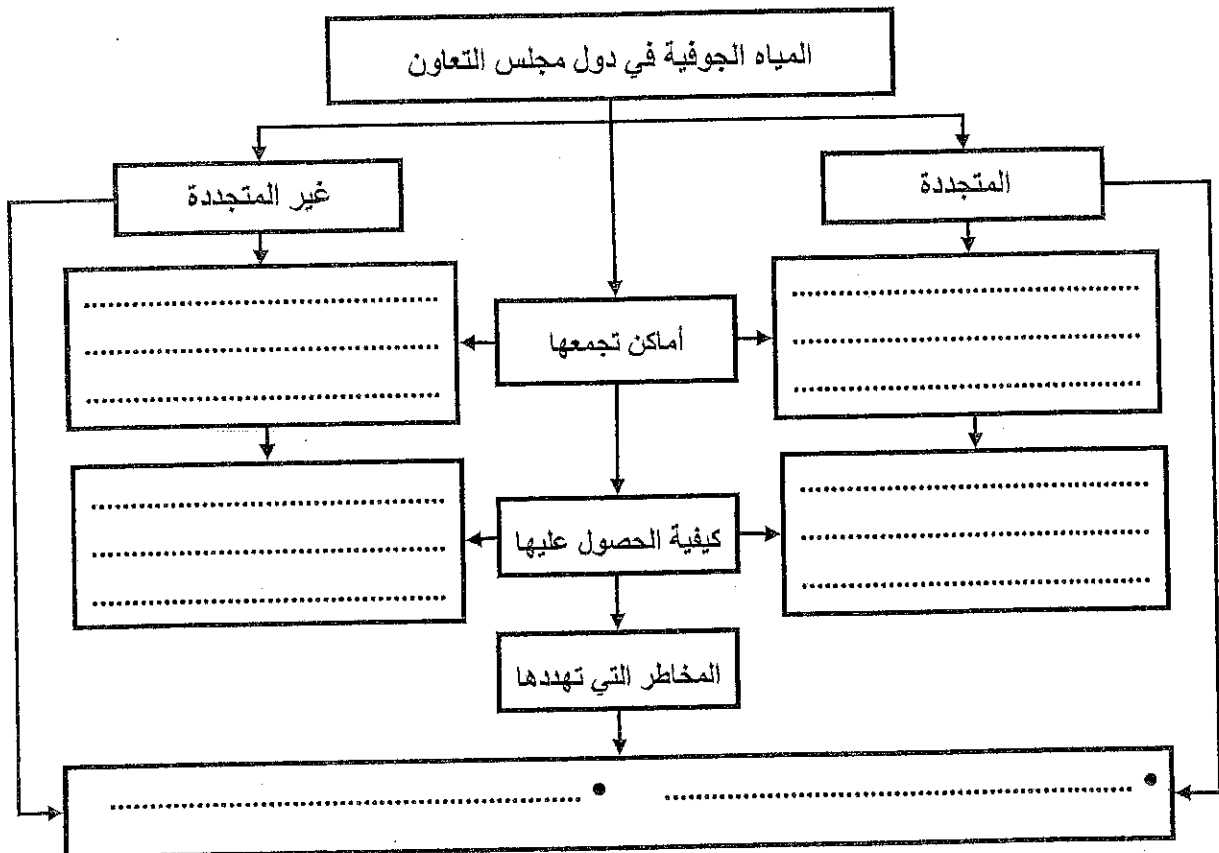
٣- أدى اهتمام دول مجلس التعاون بالتعليم إلى انخفاض نسبة المتعلمين.

٤- ارتفع الناتج المحلي الإجمالي لدول مجلس التعاون منذ منتصف السبعينات بسبب ضخامة الإيرادات الزراعية.

٥- الدولة التي تمتلك شركة طيران الخليج حالياً هي سلطنة عُمان.

السؤال الثاني :-

أولاً: قارن بين المياه الجوفية المتجددة وغير المتجددة في دول مجلس التعاون، بإكمال الفراغات بالمخطط الآتي حسب معطياته:



ثانياً - علل ما يأتي :

١- تأسيس مجلس التعاون لدول الخليج العربية عام ١٩٨١م.

٢- ازدياد عدد السكان في دول مجلس التعاون بشكل كبير خلال الثلاثين سنة الأخيرة.

٣- ارتفاع نسبة الصادرات الصناعية والزراعية في دول مجلس التعاون منذ فترة السبعينات.

٤- إقامة شبكة متكاملة من الطرق والجسور في مختلف مناطق دول مجلس التعاون.

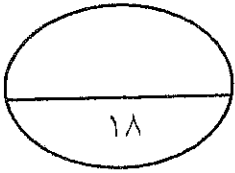
السؤال الثالث :-

أولاً - وضح ما يأتي:

١- التدابير اللازمة للمحافظة على الثروة المائية في دول مجلس التعاون.

٢- جهود دول مجلس التعاون في مجال تنمية الصيد البحري.

٣- العوائق التي تعترض قطاع الصناعة التحويلية في دول مجلس التعاون.

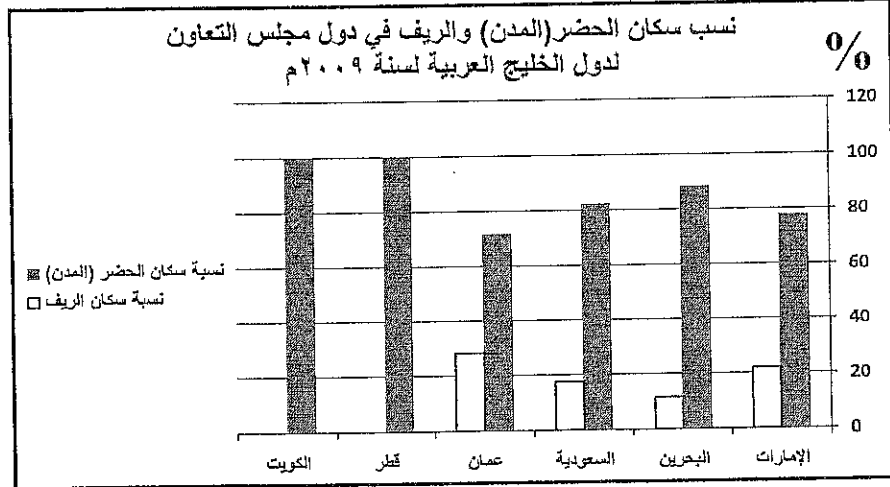
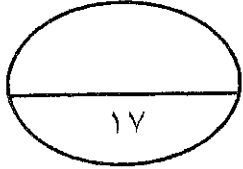


ثانيًا- قارن في الجدول الآتي بين الموائئ النفطية والموائئ التجارية في دول مجلس التعاون، من حيث وظيفتها، وتجهيزاتها.

الموائئ	النفطية	التجارية
وظيفتها	•	•
تجهيزاتها	• •	• •

السؤال الرابع:-

أولًا - من خلال الرسم البياني لسكان الحضر (المدن) والريف بمجلس التعاون لدول الخليج العربية، أجب عما يلي:



(أ) ما الدولتان اللتان سجلتا أعلى نسبة في سكان الحضر (المدن) من بين دول مجلس التعاون؟ كم بلغت تلك النسبة.

• الدولتان هما: ١- ٢-

• بلغت نسبة سكان الحضر (المدن) في هاتين الدولتين: %.

(ب) ما الدولة التي سجلت أعلى نسبة في سكان الريف من بين دول مجلس التعاون؟

•

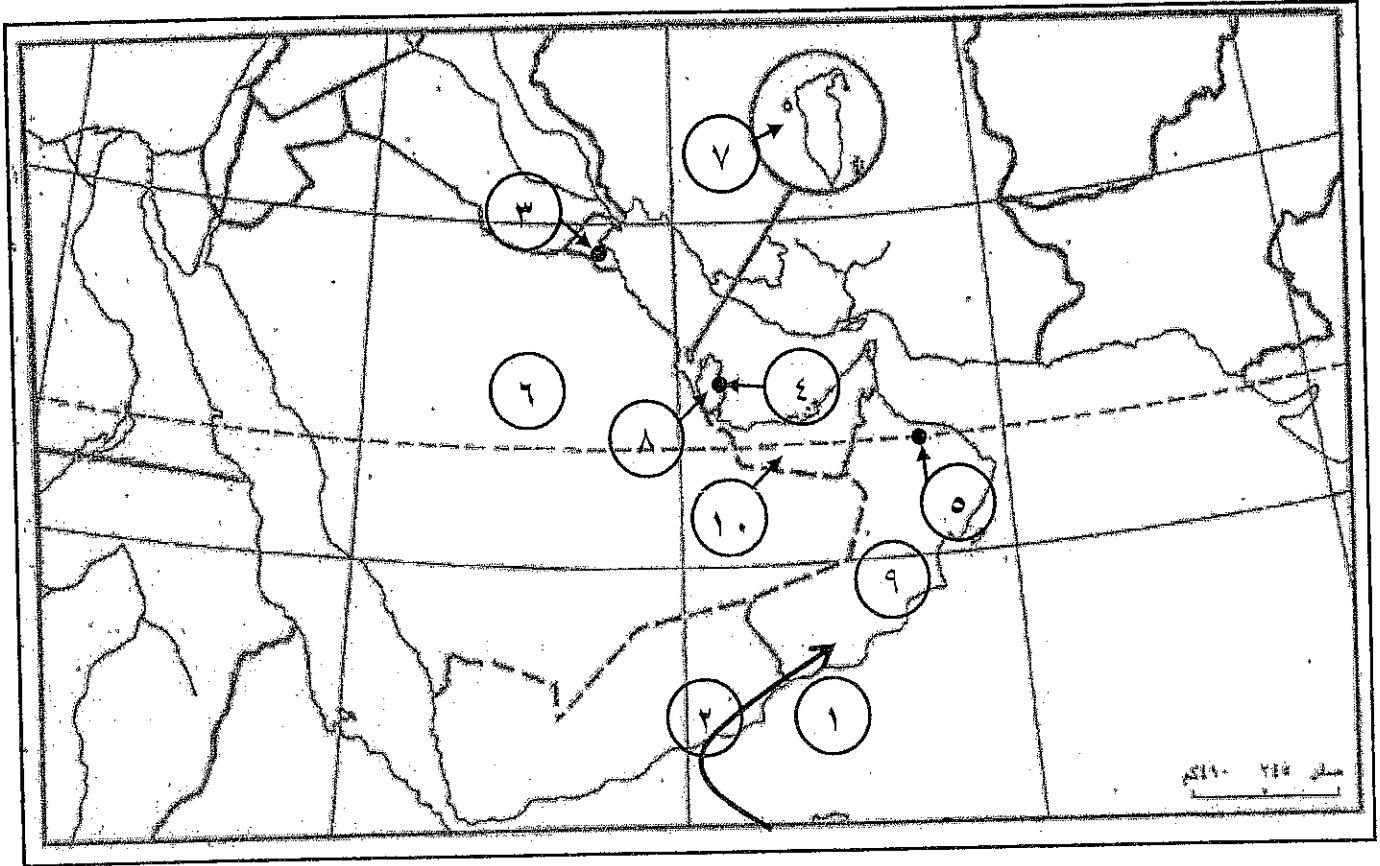
(ج) أيهما أعلى نسبة في دول مجلس التعاون (سكان المدن أم سكان الريف)؟ بين أسباب ارتفاع تلك النسبة.

• الأعلى نسبة في دول مجلس التعاون هم سكان:

• أسباب ارتفاع تلك النسبة هي:

•

ثانياً - اكتب ما تمثله مدلولات الأرقام المدونة على خريطة دول مجلس التعاون لدول الخليج العربية الصماء بحسب ما يناسبها في الجدول الذي يليها.



مدلولات الأرقام المدونة على الخريطة	نوع الظاهرة الجغرافية
١ -	- مسطح مائي.
٢ -	- رياح ممطرة.
٣ -	- مدن كبرى (عواصم).
٤ -	- دولتان ترتبطان بجسر الملك فهد.
٥ -	- دولة تمتلك مصفاة لتكرير النفط.
٦ -	- دولة تمتلك مصنع نحاس.
٧ -	- دولة تمتلك مصنع ألومنيوم.
٨ -	
٩ -	
١٠ -	

القسم الثاني: أسئلة التربية للمواطنة: (٢٥ علامة)

أولاً- ضع علامة (√) أمام العبارة الصحيحة وعلامة (×) أمام العبارة الخاطئة:

١- () يتكون العلم الحالي لمملكة البحرين من خمسة أقسام مستننة تمثل أركان الإسلام.

٢- () أعلن الشيخ خليفة بن سلمان بيان استقلال البحرين في ١٤ أغسطس عام ١٩٧٣م.

٣- () توافرت لدى جلالة الملك حمد بن عيسى قدرات لتولي شؤون الحكم قبل ولايته للعهد.

٤- () يعد السكان أحد أهم أركان الدولة.

٥- () ألقى جلالة الملك حمد بن عيسى خطاباً بتاريخ ١٣ مارس ١٩٩٩م بمناسبة الاستفتاء على الميثاق.

ثانياً- أجب عما يأتي:

١- علام تدل طول فترة حكم آل خليفة في مملكة البحرين؟

.....

.....

٢- اكتب ثلاثاً من دعائم تأسيس الدولة الحديثة في البحرين.

.....

.....

.....

٣- ما النتائج المترتبة عما يأتي؟

أ) صدور البيان الرسمي لاستقلال البحرين.

.....

.....

ب) اختلاط جلالة الملك حمد قبل توليه الحكم بذوي الخبرة في مجالات العلم المختلفة بمجالس والده.

.....

.....

ثالثاً- اقرأ النص الذي أمامك، ثم أجب عن الأسئلة التي تليه انطلاقاً منه، وفي ضوء ما درست:

قراءة في الكلمة الملكية السامية

المبادئ الثابتة التي يحرص جلاله الملك حمد على الإشارة إليها في معظم خطابه المنجزات الأساسية التي تحققت عندما توافقت القيادة مع الشعب في ميثاق العمل الوطني على التحول الديمقراطي الذي نشهد مكتسباته يوماً بعد آخر، وتشمل هذه المبادئ: دولة الحق والقانون، ودولة الدستور والمؤسسات، وفصل السلطات والديمقراطية وحقوق الإنسان. مؤكداً جلالته ليس في وسع أحد أن يكون فوق القانون (...). وقد استعرض جلاله الملك في خطابه السامي نتائج حوار التوافق الوطني وأهميته في تحقيق التطلعات؛ حيث أشار إلى أن الحوار ساهم في تحقيق ثلاثة أمور أساسية، وهي:

- توحيد المواقف الوطنية تجاه أي خطر أو تدخل خارجي.
- وضع الأسس الصحيحة للنظام الدستوري البحريني، وهو النظام الذي أجريت عليه التعديلات الدستورية مؤخرًا.
- التعاهد على ميثاق العمل الوطني وتحديث الدستور.

بتصرف- الموقع الإلكتروني لمعهد البحرين للتنمية السياسية، /www.bipd.gov.bh

١- ما مصدر هذا النص؟

٢- استخرج من النص ثلاثة من المبادئ الثابتة التي يشير إليها جلاله الملك في معظم خطابه.

٣- ما الذي توافقت عليه القيادة والشعب في ميثاق العمل الوطني؟

٤- اكتب نتيجتين من نتائج حوار التوافق الوطني التي أشار إليها جلاله الملك في خطابه السامي.

٥- ما التعديلات الدستورية التي صدرت بعد إقرار ميثاق العمل الوطني في المجاليين الآتيين؟

المجال	التعديلات الدستورية
الحياة النيابية	•
المرأة البحرينية	•

انتهت الأسئلة

مملكة البحرين

وزارة التربية والتعليم

إدارة الامتحانات / قسم الامتحانات

الإجابة النموذجية

امتحان نهاية الفصل الدراسي الأول للعام الدراسي ٢٠١٣/٢٠١٤م

للمصف الأول الإعدادي

الزمن: ساعتان

المادة: المواد الاجتماعية (الجغرافيا والتربية للمواطنة)

القسم الأول: أسئلة الجغرافيا (٧٥ علامة)

السؤال الأول :-

٢٢ علامة موزعة كالتالي:

أولاً- ضع دائرة حول الحرف الدال على الإجابة الصحيحة من بين البدائل الآتية:

١- ج- دول المجموعة الأوروبية.

٢- أ- الولادات.

٣- د- المنامة.

٤- ج- السعودية.

٥- د- الإسمنت.

٦- ب- ارتفاع الجبال على أطرافها.

١٢ علامة لكل نقطة علامتان

ثانياً- صحّح ما تحته خط في كل عبارة من العبارات الآتية، واكتب الإجابة الصحيحة بالسطر الذي يليها:

١- الشرقية / أو الغربية.

٢- ظفار.

٣- الأمية.

٤- النفطية.

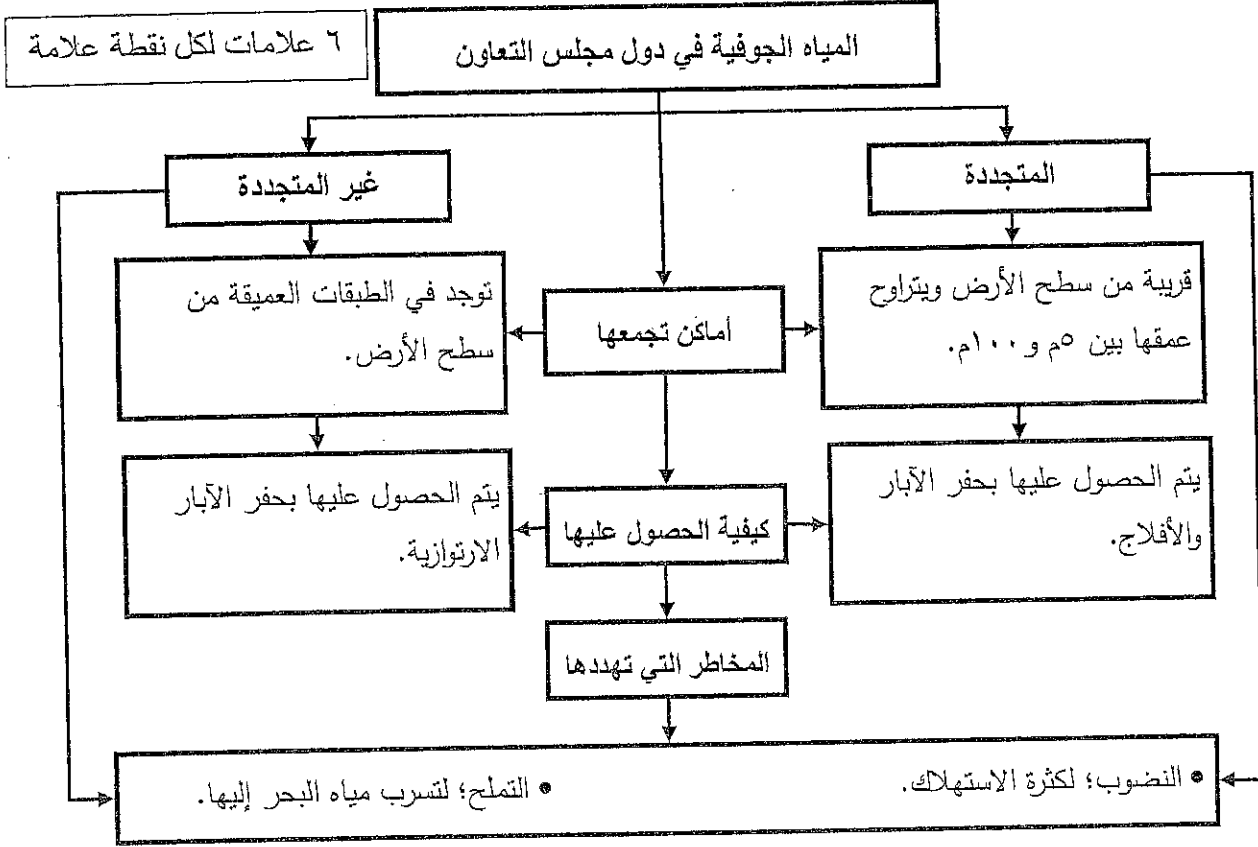
٥- مملكة البحرين.

١٠ علامات لكل نقطة علامتان

السؤال الثاني :-

١٨ علامة موزعة كماآتي:

أولاً: قارن بين المياه الجوفية المتجددة وغير المتجددة في دول مجلس التعاون، بإكمال الفراغات بالمخطط الآتي حسب معطياته:



ثانياً- علل ما يأتي :

١٢ علامة لكل نقطة علامتان

١- تأسيس مجلس التعاون لدول الخليج العربية عام ١٩٨١م.

- تحقيق التنسيق والتكامل بين الدول الأعضاء.
- توثيق الروابط والصلات بين الشعوب .
- وضع أنظمة متماثلة.
- دفع عجلة التقدم العلمي والتقني في المجال الاقتصادي.
- لوجود علاقات خاصة وسمات مشتركة تربط بينها كالدين واللغة ووحدة التراث والتقارب الحضاري والآمال والقضايا المشتركة.

٢- ازدياد عدد السكان في دول مجلس التعاون بشكل كبير خلال الثلاثين سنة الأخيرة.

- ارتفاع الزيادة السكانية الطبيعية.
- ارتفاع أعداد الوافدين إليها.

٣- ارتفاع نسبة الصادرات الصناعية والزراعية في دول مجلس التعاون منذ فترة السبعينات.

- بسبب النمو الاقتصادي الذي شهدته دول مجلس التعاون .
- للتقليل من الاعتماد على الصادرات النفطية، والتنويع في مصادر الدخل.

٤- إقامة شبكة متكاملة من الطرق والجسور في مختلف مناطق دول مجلس التعاون.

- لتأمين التواصل بين مختلف المراكز السكنية ضمن الدولة الواحدة، وكذلك تأمين التواصل بين مختلف دول مجلس التعاون.

السؤال الثالث :-

١٨ علامة موزعة كالاتي:

أولاً - وضح ما يأتي:

١٢ علامة موزعة كما يأتي:

١- التدابير اللازمة للمحافظة على الثروة المائية في دول مجلس التعاون. (٦ علامات لكل نقطة علامتان)

- حرص المواطنين على ضبط استخدامهم للمياه في المنازل.
 - اعتماد وسائل ري حديثة كالري بالرش أو بالتنقيط.
 - الاقتصاد في استغلال المياه الجوفية.
 - توفير محطات أكثر لتتقية مياه الصرف الصحي.
- (يُكتفى بثلاث نقاط)

٢- جهود دول مجلس التعاون في مجال تنمية الصيد البحري. (٣ علامات لكل نقطة علامة)

- تعميم استخدام معدات الصيد الحديثة.
 - تنظيم دورات تدريبية للصيادين.
 - إجراء البحوث العلمية.
 - بناء العديد من المشاريع النموذجية لتربية الأسماك كمشروع رأس حيان في البحرين.
 - إمداد الصيادين بالقروض.
- (يُكتفى بثلاث نقاط)

٣- العوائق التي تعترض قطاع الصناعة التحويلية في دول مجلس التعاون. (٣ علامات لكل نقطة علامة)

- نقص القوى العاملة.
- المنافسة التي تتعرض لها في الأسواق العالمية.
- الاعتماد على الخارج في استيراد المواد الأولية والآلات والمعدات اللازمة لتشغيل المصانع.

ثانياً- قارن في الجدول الآتي بين الموانئ النفطية والموانئ التجارية في دول مجلس التعاون، من حيث وظيفتها،

وتجهيزاتها.

٦ علامات لكل نقطة علامة

الموانئ	النفطية	التجارية
وظيفتها	• معدة خصيصاً لتصدير النفط والغاز الطبيعي.	• معدة خصيصاً لاستيراد وتصدير السلع غير النفطية.
تجهيزاتها	• خزانات لتخزين النفط والغاز الطبيعي. • أنابيب لنقل النفط والغاز. • أحواض مزودة بمراسي تسمح باستقبال ناقلات النفط العملاقة. (يُكتفى بنقطتين)	• مستودعات ومخازن وبرادات لتخزين السلع وحفظها. • أرصفة. • رافعات. (يُكتفى بنقطتين)

السؤال الرابع:-

١٧ علامة موزعة كالتالي:

أولاً - من خلال الرسم البياني لسكان الحضر (المدن) والريف بمجلس التعاون لدول الخليج العربية، أجب عما يلي:

٧ علامات موزعة كما يأتي:

(أ) ما الدولتان اللتان سجلتا أعلى نسبة في سكان الحضر (المدن) من بين دول مجلس التعاون؟ كم بلغت تلك النسبة.

• الدولتان هما: ١- قطر. ٢- الكويت.

• بلغت نسبة سكان الحضر (المدن) في هاتين الدولتين: ١٠٠% . (٣ علامات لكل نقطة علامتان)

(ب) ما الدولة التي سجلت أعلى نسبة في سكان الريف من بين دول مجلس التعاون؟

• عُمان. (علامة)

(ج) أيهما أعلى نسبة في دول مجلس التعاون (سكان المدن أم سكان الريف)؟ بيِّن أسباب ارتفاع تلك النسبة.• الأعلى نسبة في دول مجلس التعاون هم سكان: المدن. (علامة)• أسباب ارتفاع تلك النسبة هي: تركز مختلف النشاطات والخدمات في المدن وتوافر فرص العمل فيها؛ مما أدى إلى النزوح الريفي نحو المدن. (علامتان)

ثانياً - اكتب ما تمثله مدلولات الأرقام المدونة على خريطة دول مجلس التعاون لدول الخليج العربية الصماء بحسب ما يناسبها في الجدول الذي يليها.

١٠ علامات لكل نقطة علامة

مدلولات الأرقام المدونة على الخريطة	نوع الظاهرة الجغرافية
١- بحر العرب.	- مسطح مائي.
٢- الرياح الموسمية الصيفية.	- رياح ممطرة.
٣- الكويت. ٤- الدوحة. ٥- مسقط.	- مدن كبرى (عواصم).
٦- السعودية. ٧- البحرين.	- دولتان ترتبطان بجسر الملك فهد.
٨- قطر.	- دولة تمتلك مصفاة لتكرير النفط.
٩- عمان.	- دولة تمتلك مصنع نحاس.
١٠- الإمارات.	- دولة تمتلك مصنع ألومنيوم.

القسم الثاني: أسئلة التربية المواطنة

السؤال الخامس:

٢٥ علامة موزعة كالآتي:

أولاً- ضع علامة (√) أمام العبارة الصحيحة وعلامة (×) أمام العبارة الخاطئة:

٥ علامات لكل نقطة علامة

١- (√)

٢- (×)

٣- (√)

٤- (√)

٥- (×)

١١ علامة موزعة كما يأتي:

ثانياً- أجب عما يأتي:

١- علام تدل طول فترة حكم آل خليفة في مملكة البحرين؟

- قدرة الأمراء من آل خليفة على تخير أساليب الحكم التي تخدم البلاد.
- الانسجام داخل العائلة الحاكمة الناتج عن إيجاد الحل المناسب لولاية العهد.
- السير بالبلاد نحو مزيد من التطور والازدهار؛ مما يفسر الاستقرار السياسي والاجتماعي.
- انفتاح العائلة الحاكمة وعلاقات الولاء والترابط الاجتماعي والديني بينها وبين الأهالي.

(يكتفى بنقطتين) ٤ علامات لكل نقطة علامتان

٢- اكتب ثلاثاً من دعائم تأسيس الدولة الحديثة في البحرين؟

- إعلان الاستقلال.
- تأسيس الحياة النيابية.
- وضع الدستور.
- توفير مشاريع البنية التحتية.
- الاهتمام بالتطور الاقتصادي.
- تطور قطاعي التعليم والصحة.
- إقامة علاقات دبلوماسية مع العديد من الدول.
- الاهتمام بالإسكان والعمران.
- الانتماء إلى الجامعة العربية، والأمم المتحدة، ومنظمة المؤتمر الإسلامي.

(يكتفى بثلاث نقاط) ٣ علامات لكل نقطة علامة

٣- ما النتائج المترتبة عما يأتي؟

(أ) صدور البيان الرسمي لاستقلال البحرين.

- اتخاذ سمو المغفور له الشيخ عيسى بن سلمان آل خليفة لقب أمير دولة البحرين.
- إنهاء جميع المعاهدات السياسية والعسكرية بين البحرين وبريطانيا.
- أصبحت البحرين دولة عربية مستقلة.

(يكتفى بنقطتين) علامتان لكل نقطة علامة

(ب) اختلاط جلالة الملك حمد قبل توليه الحكم بذوي الخبرة في مجالات العلم المختلفة بمجالس والده.

- اكتسابه ثقافة عربية إسلامية.
- تميزه بسعة الأفق.
- انفتاحه على قضايا العالم.
- تمرسه بأمور الحكم.
- تكونت لديه قدرات قيادية متنوعة مكنته من تحقيق عدة إنجازات أثناء توليه للعهد.

(يكتفى بنقطتين) علامتان لكل نقطة علامة

ثالثاً- اقرأ النص الذي أمامك، ثم أجب عن الأسئلة التي تليه انطلاقاً منه، وفي ضوء ما درست:

٩ علامات موزعة كما يأتي:

١- ما مصدر هذا النص؟

علامة

• الموقع الإلكتروني لمعهد البحرين للتنمية السياسية، www.bipd.gov.bh/.

٢- استخرج من النص ثلاثة من المبادئ الثابتة التي يشير إليها جلالة الملك في معظم خطابه.

- دولة الحق والقانون.
 - دولة الدستور والمؤسسات.
 - فصل السلطات.
 - الديمقراطية.
 - حقوق الإنسان.
- (يُكتفى بثلاث نقاط) ٣ علامات لكل نقطة علامة

٣- ما الذي توافقت عليه القيادة والشعب في ميثاق العمل الوطني؟

علامة

• التحول الديمقراطي.

٤- اكتب نتيجتين من نتائج حوار التوافق الوطني التي أشار إليها جلالة الملك في خطابه السامي.

- توحيد المواقف الوطنية تجاه أي خطر أو تدخل خارجي.
 - وضع الأسس الصحيحة للنظام الدستوري البحريني، وهو النظام الذي أجريت عليه التعديلات الدستورية مؤخرًا.
 - التعاهد على ميثاق العمل الوطني وتحديث الدستور.
- (يُكتفى بنقطتين) علامتان لكل نقطة علامة

٥- ما التعديلات الدستورية التي صدرت بعد إقرار ميثاق العمل الوطني في المجالين الآتيين:

علامتان لكل نقطة علامة

المجال	التعديلات الدستورية
الحياة النيابية	• إعادتها عن طريق المجلس الوطني الذي يتكون من مجلسي الشورى والنواب.
المرأة البحرينية	• منح المرأة كافة حقوقها السياسية ومشاركتها في شؤون الحياة العامة.

انتهت الإجابة

مملكة البحرين
وزارة التربية والتعليم
إدارة الامتحانات / قسم الامتحانات

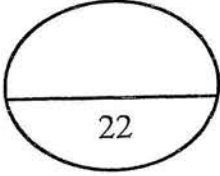
امتحان نهاية الفصل الدراسي الأول للعام الدراسي 2015/2014م
للفصل الأول الإعدادي

الزمن: ساعتان

المادة: المواد الاجتماعية (الجغرافيا والتربية للمواطنة)

القسم الأول: أسئلة الجغرافيا (75 علامة)

السؤال الأول:



أولاً: ضع دائرة حول الحرف الدال على الإجابة الصحيحة من بين البدائل الآتية:

1- أغنى مناطق دول مجلس التعاون لدول الخليج العربية بالغطاء النباتي هي المنطقة:

- أ- الصحراوية.
ب- شبة الصحراوية.
ج- القحط.
د- جميع ما ذكر صحيح.

2- يتصف المجتمع في دول مجلس التعاون لدول الخليج العربية من حيث فئاته السكانية بأنه مجتمع:

- أ- فتي.
ب- بالغ.
ج- مسن.
د- يتجه نحو الكبر في السن.

3- توجد محطة الأقمار الاصطناعية في مملكة البحرين بـ:

- أ- سترة.
ب- الحد.
ج- رأس البر.
د- رأس أبو جرجور.

4- يطلق على عدد من المدن الرئيسية المتجاورة بفعل الامتداد العمراني مصطلح:

- أ- العاصمة.
ب- المدينة الكبرى.
ج- المجمع المدني.
د- المدينة الجديدة.

5- أكبر الدول التي تتعامل معها دول مجلس التعاون لدول الخليج العربية في تجارتها:

- أ- استراليا.
ب- الدول العربية.
ج- دول شرق آسيا.
د- المجموعة الأوروبية.

6- المدينة التي تأسس فيها مجلس التعاون لدول الخليج العربية مدينة:

- أ- أبوظبي.
ب- الدوحة.
ج- الرياض.
د- المنامة.



ثانياً: ضع علامة (✓) أمام العبارة الصحيحة وعلامة (×) أمام العبارة الخاطئة مع تصحيح الخطأ:

1- نبات يتخذ أهمية كبرى في تثبيت الكثبان الرملية في الربع الخالي هو نبات القرم () .

2- يتم الحصول على المياه الجوفية العميقة عن طريق حفر الآبار الارتوازية () .

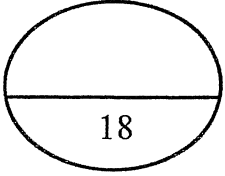
3- دولة من دول مجلس التعاون تميزت بتحقيق الاكتفاء الذاتي في إنتاج التمور والاعلاف هي السعودية () .

4- الرياح التي تهب صيفاً حاملة معها المطر على كل من جبال ظفار وعسير هي الرياح الموسمية الجنوبية الغربية () .

5- تمتاز شبكة الطرق البرية في دول المجلس بارتفاع نسبة الطرق المعبدة () .

السؤال الثاني:

أولاً: اذكر أثر الظواهر والإجراءات الآتية على دول مجلس التعاون لدول الخليج العربية:



1- السيول.

2- حماية الثروة النباتية:

3- الإيرادات النفطية لتحقيق النهضة الاقتصادية الشاملة.

4- المناخ الصحراوي.

ثانياً: علل ما يأتي:

1- تدني نسبة من يمارسون النشاط الاقتصادي المنتج في دول الخليج العربية.

2- انخفاض منسوب المياه الجوفية وتملحها في دول مجلس التعاون.

3- نزوح سكان البوادي والأرياف إلى المدن في دول مجلس التعاون.

4- توظيف دول مجلس التعاون قسم من إيراداتها النفطية لتنمية قطاعها الزراعي.

5- النقص في اليد العاملة الفنية المحلية.

السؤال الثالث:

أولاً: من خلال الجدول صنف أنواع الصناعات التحويلية الكبرى حسب مناطق انتشارها:

(تكرير النفط وتسييل الغاز - البتروكيماويات - الحديد - النحاس - الأسمنت - بناء وإصلاح السفن)

مناطق انتشارها	أنواع الصناعات التحويلية الكبرى
جميع دول المجلس ما عدا البحرين
البحرين والامارات
جميع دول المجلس وخصوصاً السعودية
السعودية والبحرين وقطر والامارات
جميع دول المجلس ما عدا عمان
عمان

ثانياً: أبرز جهود دول مجلس التعاون في كل من:

1- التعليم.

-
-
-

2- الزراعة.

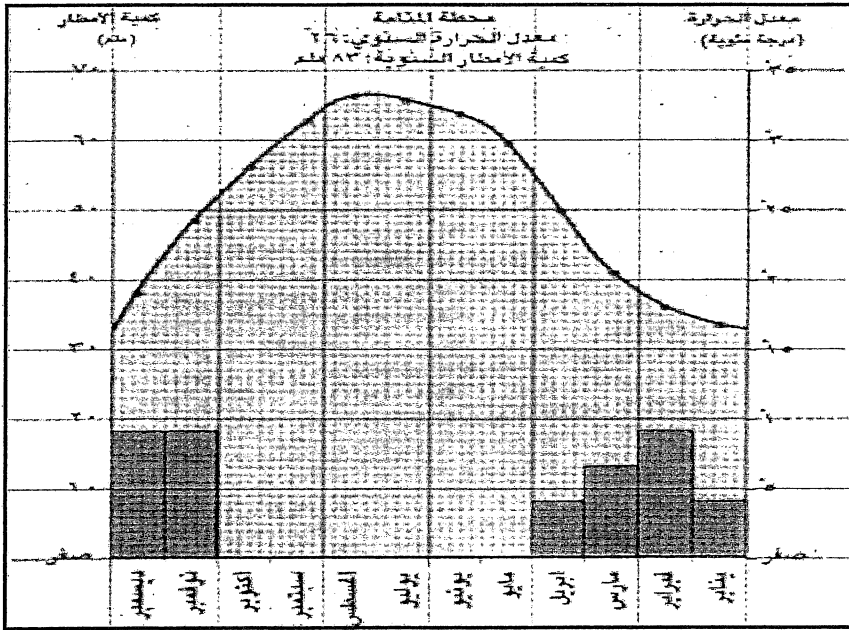
-
-

3- الصيد البحري.

-
-

السؤال الرابع:

أولاً: من خلال الرسم البياني المناخي لمحطة المنامة، أجب عما يلي:



1- اكتب اسم الشهر المطلوب حسب البيانات الواردة في الجدول الآتي:

البيانات	الأعلى في درجة الحرارة	الأدنى في درجة الحرارة	الأعلى في كمية الأمطار	الأدنى في كمية الأمطار
الشهر

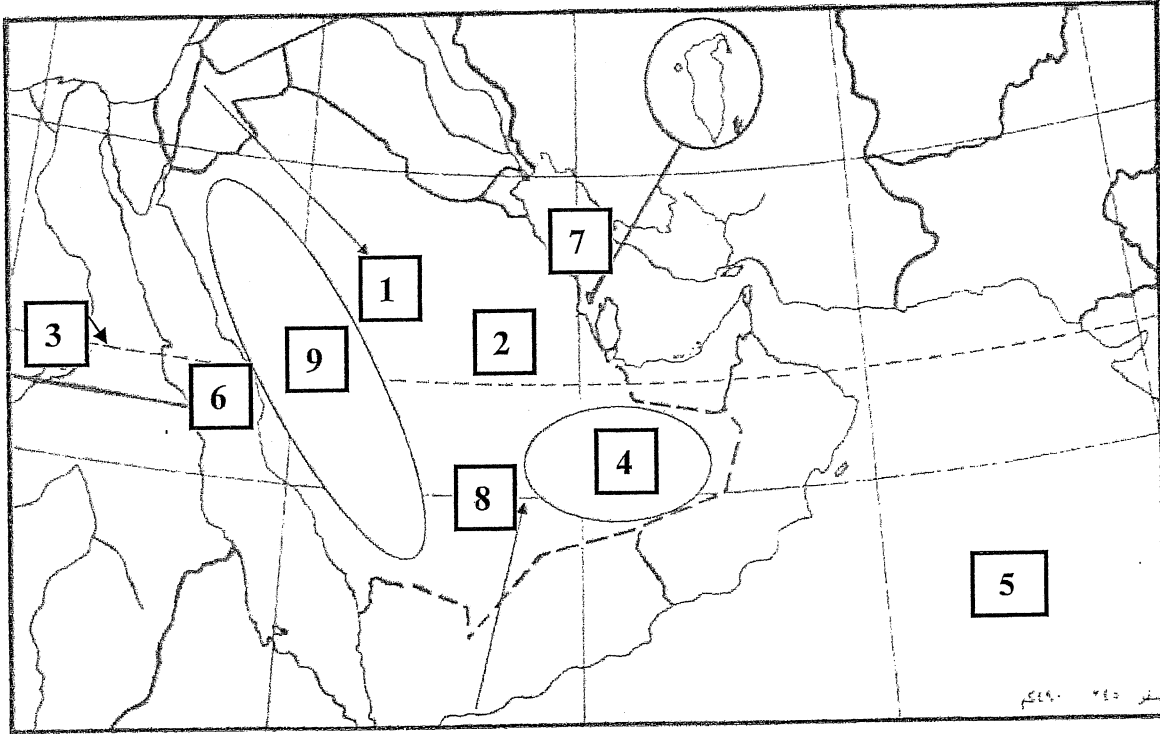
2- اكتب أسماء أربعة من الأشهر الجافة.

..... • • •

3- ما المناخ الذي تقع فيه هذه المحطة المناخية؟

..... •

ثانيًا: أمامك خريطة دول مجلس التعاون لدول الخليج العربية عليها مجموعة من الأرقام تمثل عدد من الظواهر الجغرافية اكتب ما تمثله هذه الأرقام:



الرقم المناسب	الظواهر الجغرافية
- القحط (.....)	❖ المناطق المناخية - الصحراوية (.....) - شبة الصحراوية (.....)
	❖ دائرة العرض - مدار السرطان (.....)
- الرياح الموسمية (.....)	❖ اتجاهات الرياح - الرياح المتوسطة (.....)
- البحر الأحمر (.....)	❖ المسطحات المائية - الخليج العربي (.....) - بحر العرب (.....)

القسم الثاني: أسئلة التربية للمواطنة: (25 علامة)

السؤال الخامس:-

25

أولاً: ضع علامة (√) أمام العبارة الصحيحة وعلامة (×) أمام العبارة الخاطئة:

- 1- من دعائم تأسيس الدولة الحديثة تأسيس الحياة النيابية. ()
- 2- اركان الدولة هي السيادة والأرض. ()
- 3- حقق الملك حمد بن عيسى العديد من الإنجازات اثناء ولايته للعهد. ()
- 4- يتكون المجلس الوطني من ستين عضواً. ()
- 5- بلغت نسبة موافقة الشعب البحريني على الميثاق 98,4%. ()

ثانياً: أجب عما يأتي:

1- ما المبادئ التي اعتمدها المغفور له الشيخ عيسى بن سلمان آل خليفة لإعلان ولاية العهد لابنه حمد؟

-
-
-

2- مما تشكلت لجنة إعداد مشروع العمل الوطني؟

-
-

3- ما التعديلات الدستورية التي ميزت دستور 2002 م لمملكة البحرين؟

-
-
-

4- ما النتائج التي ترتبت عن اختلاط الملك حمد مع ذوي الخبرة في مجالات العلم المختلفة بمجلس والده؟

-
-
-

ثالثاً: اقرأ النص الذي أمامك، ثم أجب عن الأسئلة التي تليه انطلاقاً منه، وفي ضوء ما درست:

نحتفل اليوم بذكرى فتح البحرين عام 1783، دولة عربية مسلمة مستقلة ذات سيادة، ومرور اثنين وأربعين عاماً على قبول البحرين في الأمم المتحدة كدولة كاملة العضوية وبعيد جلوسنا الرابع عشر، مؤكداً على تعزيز وحدتنا الوطنية وهويتنا العربية وتراثنا الإسلامي، مقتدين بالآباء والأجداد في نشر روح التعايش والمحبة والتسامح بين جميع أبناء هذه الأرض الطيبة في مختلف الأديان، دون تفرقة ولا تمييز في وطننا الغالي، واليوم، والحمد لله تمضي المسيرة المباركة متجاوزة كل الصعاب بإرادتكم المخلصة المفعمة بكل الولاء والمحبة للبحرين.

الخطاب الملكي يوم 16 ديسمبر 2013

وكالة الأنباء الرسمية www.bna.bah

1- ما مصدر النص؟

..... •

2- ما المناسبة التي ألقى فيها جلالة الملك حمد بن عيسى هذه الكلمة السامية؟

..... •

3- بماذا تميزت مملكة البحرين منذ فتحها عام 1783 م.

..... •

..... •

..... •

..... •

4- لقد شهدت مملكة البحرين نهضة شاملة قادها سمو المغفور له الشيخ عيسى بن سلمان آل خليفة شملت عدة مجالات أذكرها.

..... •

..... •

..... •

انتهت الأسئلة

لاحظ أن إجابة الامتحان تقع في 6 صفحات

صفحة (1)

المواد الاجتماعية والتربية للمواطنة

مملكة البحرين

وزارة التربية والتعليم

إدارة الامتحانات / قسم الامتحانات

الإجابة النموذجية

امتحان نهاية الفصل الدراسي الأول للعام الدراسي 2015/2014م

للمواد الاجتماعية والتربية للمواطنة

الزمن : ساعتان

المادة: المواد الاجتماعية (الجغرافيا والتربية للمواطنة)

القسم الأول: أسئلة الجغرافيا (75 علامة)

السؤال الأول:

أولاً: ضع دائرة حول الحرف الدال على الإجابة الصحيحة من بين البدائل الآتية:

1- ب- شبة الصحراوية.

2- أ- فتي.

3- د- رأس أبوجرجور.

4- ج- المجمع المديني.

5- د- المجموعة الأوروبية.

6- أ- أبوظبي.

12 علامة لكل نقطة علامتان

ثانياً: ضع علامة (√) أمام العبارة الصحيحة وعلامة (×) أمام العبارة الخاطئة مع تصحيح الخطأ:

1- (×) الأرتطى.

2- (√) .

3- (√) .

4- (×) الرياح الموسمية الجنوبية الغربية الرطبة.

5- (√) .

10 علامات لكل نقطة علامتان

لاحظ أن إجابة الامتحان تقع في 6 صفحات

صفحة (6)

المواد الاجتماعية والتربية للمواطنة

3- بماذا تميزت مملكة البحرين منذ فتحها عام 1783 م.

- دولة عربي.
- مستقلة.
- مسلمة.
- ذات سيادة.

4- لقد شهدت مملكة البحرين نهضة شاملة قادها سمو المغفور له الشيخ عيسى بن سلمان آل خليفة شملت عدة مجالات أذكرها.

- المجال السياسي.
- المجال الاقتصادي.
- مجال التنمية البشرية.

انتهت الإجابة

الرقم السري

مملكة البحرين

وزارة التربية والتعليم

إدارة الامتحانات / قسم الامتحانات

امتحان نهاية الفصل الدراسي الأول للعام الدراسي 2015/2016م

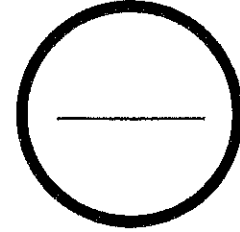
الصف الأول الإعدادي

الزمن : ساعتان

المادة : المواد الاجتماعية والتربية للمواطنة

الدرجة المعطاة بالأرقام والحروف:


السؤال	الدرجة بالأرقام	الدرجة بالحروف	إمضاء المصححين
الأول			
الثاني			
الثالث			
الرابع			
الخامس			
السادس			
السابع			
الثامن			
التاسع			
العاشر			
المجموع			



جمعه : -----

راجع الجمع : -----

توقيع المراجع : -----



بطاقة بيانات

مملكة البحرين

وزارة التربية والتعليم

إدارة الامتحانات / قسم الامتحانات

الرقم السري

امتحان نهاية الفصل الدراسي الأول للعام الدراسي 2015/2016م

المدرسة : _____

اسم الطالب : _____ رقم الجلوس : _____

المادة : المواد الاجتماعية والتربية للمواطنة (الصف / الأول الإعدادي) التاريخ : _____

مملكة البحرين

وزارة التربية والتعليم

إدارة الامتحانات / قسم الامتحانات

امتحان نهاية الفصل الدراسي الأول للعام الدراسي 2015/2016م

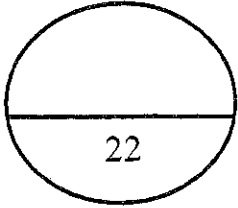
للمصف الأول الإعدادي

الزمن: ساعتان

المادة: المواد الاجتماعية (الجغرافيا والتربية للمواطنة)

القسم الأول: أسئلة الجغرافيا (75 علامة)

السؤال الأول :-



أولاً- ضع دائرة حول الحرف الدال على الإجابة الصحيحة من بين البدائل الآتية:

1- تقلص الغطاء النباتي في دول مجلس التعاون نتيجة :

- أ- الزحف العمراني
ب- إنحراف الأمطار على السواحل .
ج- كثرة الكثبان الرملية .
د- الرعي الجائر وقطع الأشجار .

2- الفئة العمرية التي تشكل حوالي نصف عدد السكان الإجمالي لدول مجلس التعاون هي:

- أ- الفتيان.
ب- الشباب.
ج- البالغين.
د- المسنين.

3- قبل اكتشاف النفط كانت غالبية السكان لدول مجلس التعاون يعيشون في :

- أ- المناطق الساحلية.
ب- المدن التجارية.
ج- البوادي والأرياف.
د- المناطق الجبلية.

4- أكثر الزراعات انتشاراً في دول مجلس التعاون هي:

- أ- زراعة النخيل.
ب- زراعة الزيتون.
ج- زراعة الحمضيات.
د- زراعة الأعلاف.

5- الدولة التي تنتج حوالي 80% من مجمل إنتاج دول مجلس التعاون من صناعة البتروكيماويات هي :

- أ- الإمارات.
ب- الكويت.
ج- السعودية.
د- قطر.

6- تتميز الموانئ التجارية في دول مجلس التعاون بأنها:

- أ- مخصصة لتصدير النفط.
ب- مجهزة بخزانات وأنباب.
ج- مرتبطة بسكك حديدية.
د- مجهزة بمخازن وبرادات.

- ثانياً- صحّح ما تحته خط في كل عبارة من العبارات الآتية، واكتب الإجابة الصحيحة بالسطر الذي يليها:
- 1- قبل اكتشاف النفط كانت النشاطات الاقتصادية تقنية.

2- تعتبر شركة طيران الخليج إحدى الشركات التابعة لدولة الكويت.

3- تتحسر صناعة السفن في السعودية وقطر.

4- تعتبر فرنسا في مقدمة الدول الخارجية لاستقطاب صادرات دول مجلس التعاون.

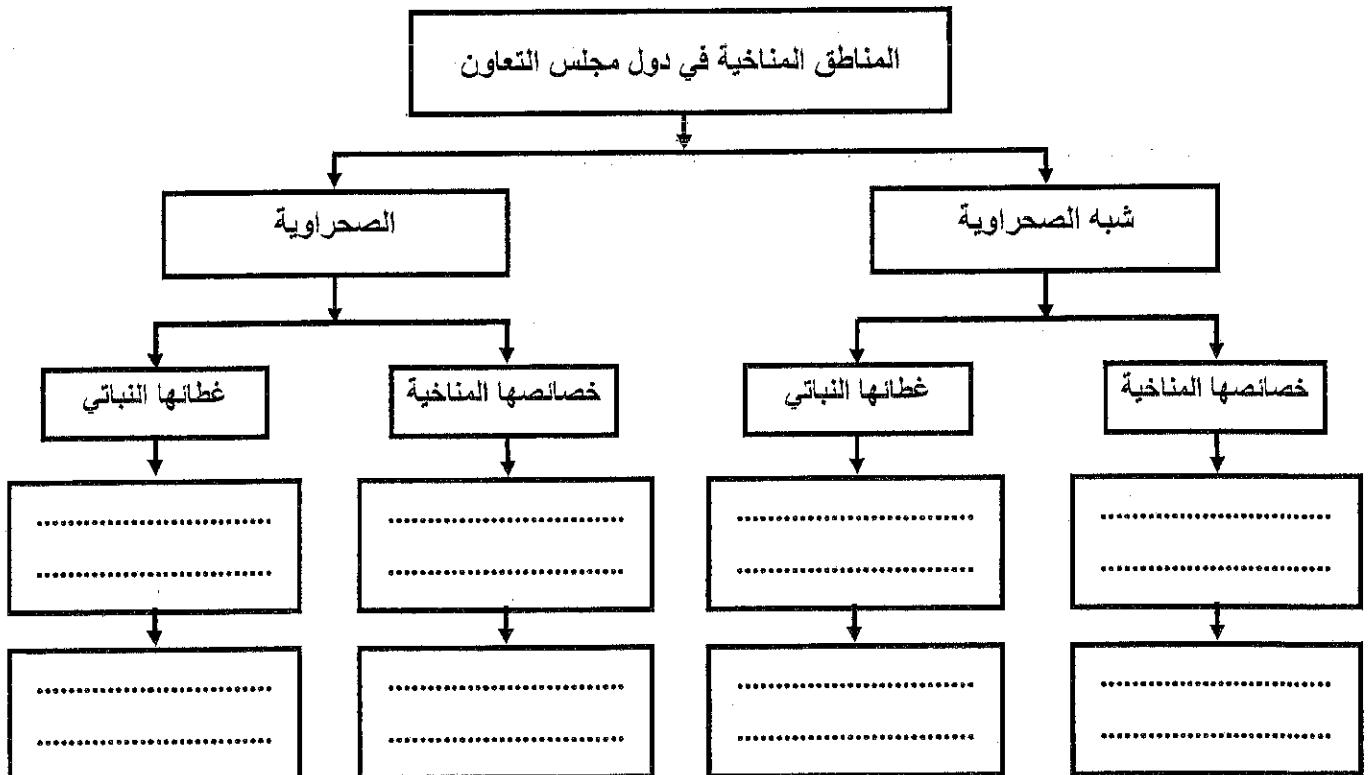
5- اعتمدت دول مجلس التعاون على طرق حديثة بغرض اقتصاد الإستهلاك في المياه كالري عن طريق السدود.

السؤال الثاني :-

27

أولاً: صنف الخصائص المناخية والنباتية الآتية في المخطط الذي يليها حسب معطياته الواردة أدناه:

- حشائش مبعثرة. • أمطار غير منتظمة. • درجة حرارة شديدة. • انتشار أشجار القرم البحري.
- أمطار منتظمة. • انخفاض درجة الحرارة. • غاباتها شبه مغلقة. • انتشار أشجار لبان البخور.



ثانياً - علل ما يأتي :

1- انخفاض منسوب المياه الجوفية وتملحها في دول مجلس التعاون.

-
-

2- عدم وصول الرياح الموسمية الصيفية إلى أجزاء الربع الخالي .

-
-

3- توظيف دول مجلس التعاون قسم من إيراداتها النفطية لتنمية قطاعها الزراعي منذ السبعينات.

-
-

4- ازدهار الحركة التجارية في دول مجلس التعاون.

-
-

ثالثاً - وضح ما يأتي:

1- الأهداف التي من أجلها تم تأسيس مجلس التعاون .

-
-
-

2- العوائق التي تعترض تقدم القطاع الزراعي في دول مجلس التعاون.

-
-
-

3- النتائج المترتبة على جهود مجلس التعاون في قطاع التعليم.

-
-
-

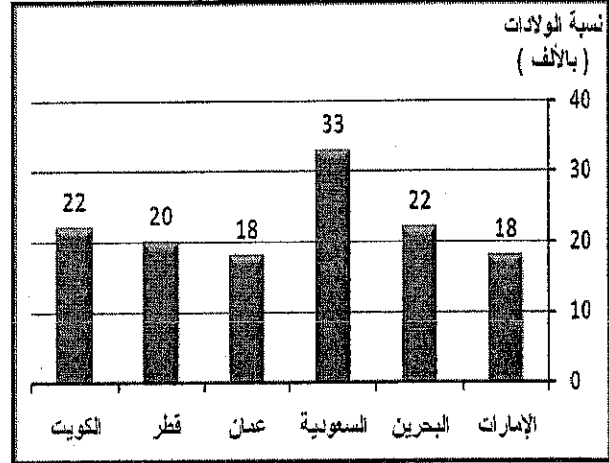

السؤال الثالث:-

2.6

أولاً- قارن بين المياه الجوفية المتجددة والمياه الجوفية غير المتجددة من حيث أماكن تواجدها، ومصدر تغذيتها حالياً، وكيفية الحصول عليها.

المياه الجوفية	المتجددة	غير المتجددة
أماكن تواجدها	•	•
مصدر تغذيتها حالياً	•	•
كيفية الحصول عليها	•	•

ثانياً- من خلال الرسمين البيانيين لنسب الولادات والوفيات في دول المجلس لعام 1997م، أجب عما يلي:



أ) سمِّ الدولة الأعلى والأدنى في نسبي الولادات والوفيات حسب معطيات الجدول الآتي:

البيانات	الأعلى في نسبة الولادات	الأدنى في نسبة الولادات	الأعلى في نسبة الوفيات	الأدنى في نسبة الوفيات
الدولة	•	•	•	•

ب) ما الدولة التي سجلت أعلى نسبة في الزيادة السكانية الطبيعية من بين دول مجلس التعاون؟ احسب تلك النسبة.

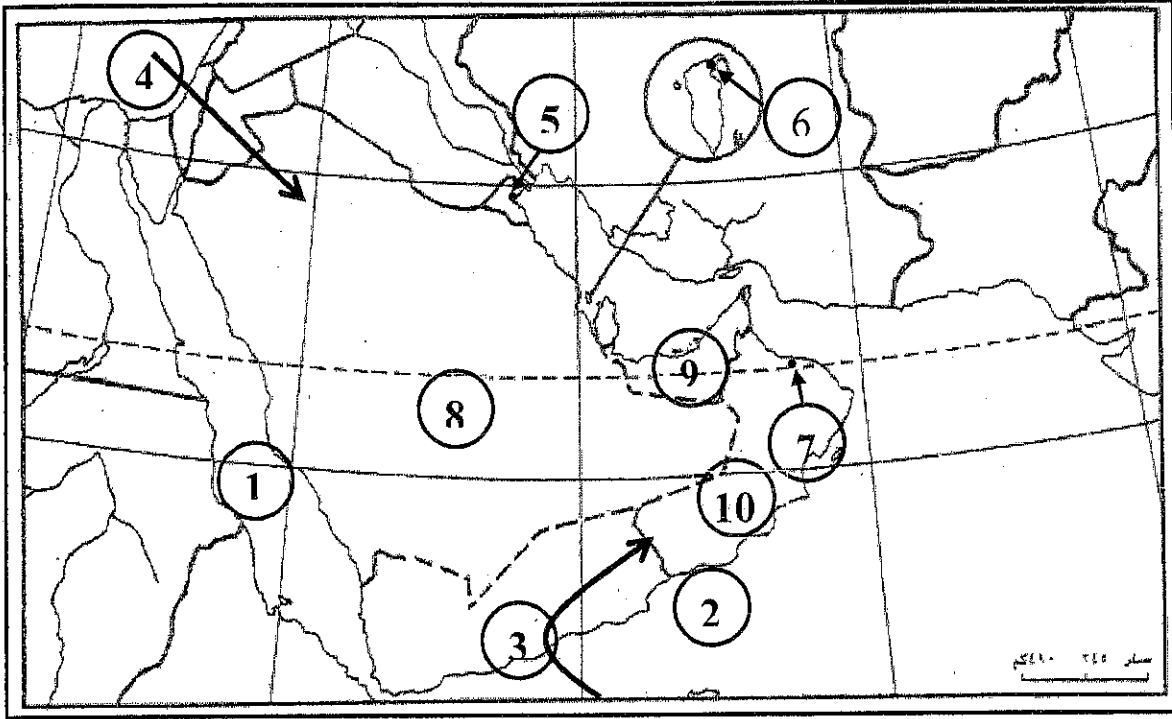
• الدولة هي:

• بلغت نسبة الزيادة السكانية الطبيعية في هذه الدولة:

ج) استخلص من الرسمين البيانيين سبباً لارتفاع الزيادة السكانية الطبيعية في دول مجلس التعاون.

•

ثالثاً- أكتب ما تمثله مدلولات الأرقام المدونة على خريطة دول مجلس التعاون لدول الخليج العربية الصماء بحسب ما يناسبها في الجدول الذي يليها.



مدلولات الأرقام المدونة على الخريطة	نوع الظاهرة الجغرافية
..... -1 -2	- مسطحان مائيان.
..... -3 -4	- رياحان ممطرتان.
..... -5 -6	- مدن كبرى (عواصم).
..... -7 -8	- دولتان تمتلكان مصنع حديد.
..... -9 -10	- دولة تنتج النحاس.

القسم الثاني: أسئلة التربية للمواطنة (25 علامة)

أولاً: ضع علامة (✓) يمين العبارات الصحيحة وعلامة (x) يمين العبارات الخاطئة:

- 1- () تولى جلالة الملك حمد بن عيسى آل خليفة في 27 يونيو 1964م ولاية العهد.
- 2- () تشكلت لجنة إعداد مشروع العمل الوطني من شخصيات عسكرية.
- 3- () يتكون المجلس الوطني في مملكة البحرين من 80 عضواً.
- 4- () بلغت نسبة موافقة شعب البحرين على ميثاق العمل الوطني 89,4%.
- 5- () يعود حكم آل خليفة في البحرين إلى نهاية القرن الثامن عشر الميلادي.
- 6- () أطلق مسمى المملكة على البحرين عام 2002م.

ثانياً- أجب عما يلي:

1- اذكر أربع دعائم للدولة الحديثة عمل على توطيدها الشيخ عيسى بن سلمان آل خليفة.

-
-
-
-

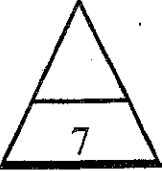
2- عرّف ميثاق العمل الوطني.

-
-

3- صنف الإنجازات الآتية إلى إنجازات تحققت في عهد الشيخ عيسى بن سلمان آل خليفة، وبعضها الآخر في عهد

الملك حمد بن عيسى آل خليفة بوضع علامة (✓) بجانبها حسب المعطيات الواردة في الجدول الآتي:

عهد جلالته الملك حمد بن عيسى آل خليفة	عهد الشيخ عيسى خليفة بن سلمان آل خليفة	الإنجازات
		تأسيس الحياة النيابية.
		إعلان البحرين مملكة دستورية.
		وضع الدستور.
		إنشاء ديوان الرقابة المالية.
		إعادة الحياة النيابية.
		منح المرأة كافة حقوقها السياسية.



ثالثًا- اقرأ النص الذي أمامك، ثم أجب عن الأسئلة التي تليه انطلاقًا منه، ومستفيداً مما درست:

تلقى الشيخ حمد بن عيسى آل خليفة تعليمًا عصريًا حديثًا؛ واكتسب ثقافة عربية إسلامية، حيث كان يحضر مجالس والده، ويختلط بذوي الخبرة في مجالات العلم المختلفة، مما ساهم في تميزه بسعة الأفق والانفتاح على قضايا العالم وتمرسه بأمور الحكم، وتكونت لديه قدرات قيادية متنوعة مكنته من تحقيق العديد من الإنجازات أثناء توليه للعهد.

1. ضع عنوانًا مناسبًا للنص.

.....

2. ما نوع التعليم الذي تلقاه الشيخ حمد بن عيسى آل خليفة أثناء ولايته للعهد؟

.....

3. ما النتائج المترتبة عن اختلاط جلالة الملك حمد بذوي الخبرة في مجالات العلم المختلفة قبل توليه الحكم؟

.....

.....

.....


4. اذكر مبدئين اثنين ركز عليهما الشيخ عيسى بن سلمان آل خليفة في إعلان ولاية العهد لابنه حمد.

.....

.....

انتهت الأسئلة

مع تمنياتنا بالتوفيق للجميع



مملكة البحرين

وزارة التربية والتعليم

إدارة الامتحانات / قسم الامتحانات

الإجابة النموذجية

امتحان نهاية الفصل الدراسي الأول للعام الدراسي 2015/2016

لنصف الأول الإعدادي

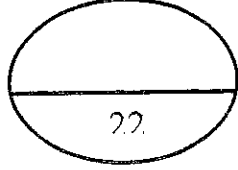
الزمن: ساعتان

المادة: المواد الاجتماعية (الجغرافيا والتربية للمواطنة)

القسم الأول: أسئلة الجغرافيا (75 علامة)

السؤال الأول :-

22 علامة موزعة كالاتي:



أولاً- ضع دائرة حول الحرف الدال على الإجابة الصحيحة من بين البدائل الآتية:

1- الرعي الجائر وقطع الأشجار.

2- الفتيان.

3- البوادي والارياف.

4- زراعة النخيل.

5- السعودية.

6- مجهزة بمخازن وبرادات.

12 علامة لكل نقطة علامتان

ثانياً- صحح ما تحته خط في كل عبارة من العبارات الآتية، واكتب الإجابة الصحيحة بالسطر الذي يليها:

1- تقليدية.

2- البحرين.

3- البحرين والإمارات.

4- اليابان.

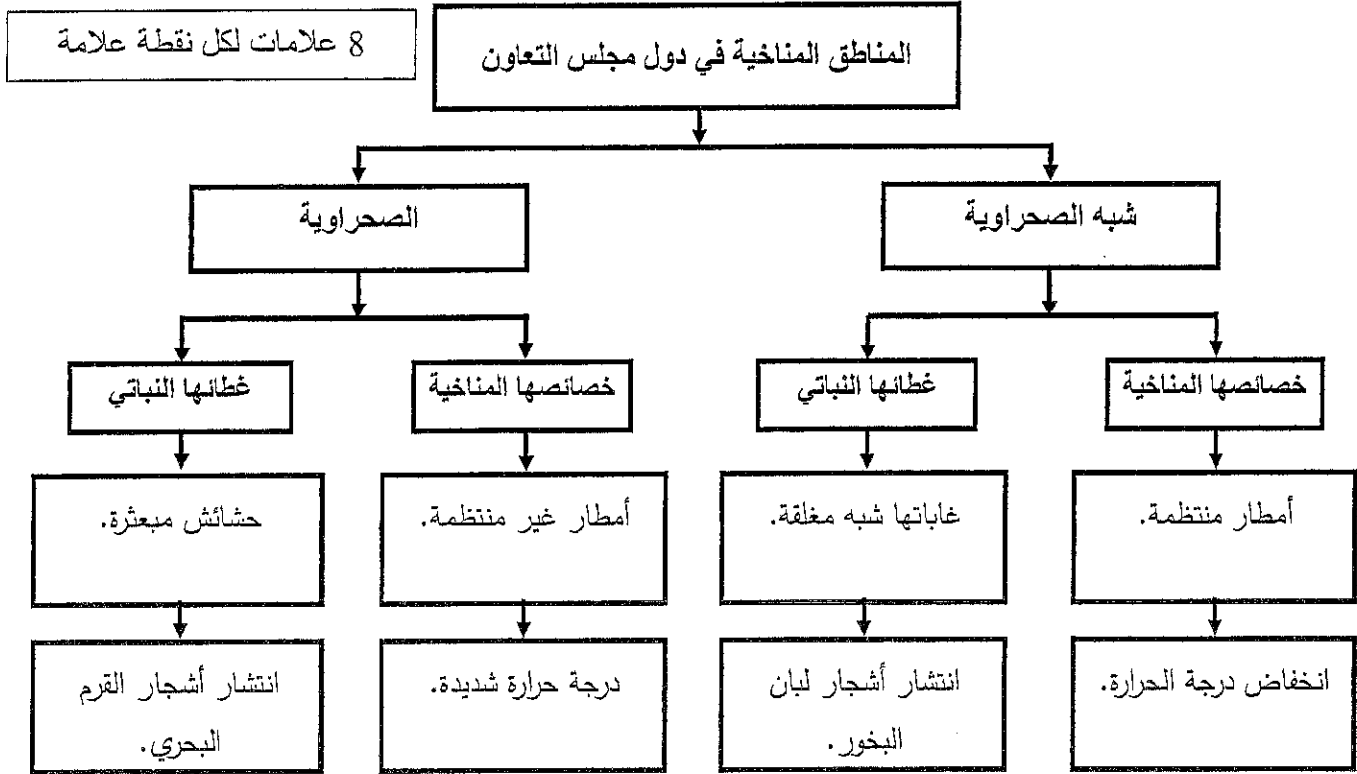
5- الرش والتتقيط.

10 علامات لكل نقطة علامتان

السؤال الثاني :-

27 علامة موزعة كالآتي:

أولاً: صنّف الخصائص المناخية والنباتية الآتية في المخطط الذي يليها حسب معطياته الواردة أدناه:



ثانياً- علل ما يأتي :

10 علامات لكل نقطة علامتان

1- انخفاض منسوب المياه الجوفية وتملحها في دول مجلس التعاون.

- زيادة الاستخراج من المياه الجوفية بكميات تفوق نسبة ما يغذيها من مياه الأمطار .
- تسرب مياه البحر المالحة إلى طبقات المياه الجوفية.

2- عدم وصول الرياح الموسمية الصيفية الى اجزاء الربع الخالي.

- بسبب الحواجز الجبلية

3- توظيف دول مجلس التعاون قسم من إيراداتها النفطية لتنمية قطاعها الزراعي منذ السبعينات.

- لخفض نسبة الاستيراد من بعض المنتجات الزراعية / أو لتحقيق الاكتفاء الذاتي في بعض المنتجات الزراعية.

4- ازدهار الحركة التجارية في دول مجلس التعاون.

- بسبب نموها السكاني والاقتصادي الذي شهدته خلال السنوات الأخيرة.

ثالثاً- وضح ما يأتي:

9 علامات لكل نقطة علامة

1- الاهداف التي من اجلها تم تأسيس مجلس التعاون.

- تحقيق التنسيق والتكامل والترابط بين دول المجلس .
- توثيق الروابط والصلات.
- وضع أنظمة متماثلة في مختلف الميادين.
- دفع عجلة التقدم العلمي والتقني .

2- العوائق التي تعترض تقدم القطاع الزراعي في دول مجلس التعاون.

- قلة الموارد المائية وقلة خصوبة التربة وتملحها.
- نقص القوى العاملة الفنية والمهندسين الزراعيين المحليين؛ لعزوف الشباب عن العمل في الزراعة إلى أعمال أخرى.
- ارتفاع تكاليف المواد المستخدمة في القطاع الزراعي.

3- النتائج المترتبة على جهود دول مجلس التعاون في قطاع التعليم.

- انخفاض نسبة الامية.
- ارتفاع معدل المتحفين بالتعليم الابتدائي.
- ارتفاع عدد المتحفين بالتعليم دون الجامعي.

السؤال الثالث:-**26 علامة موزعة كالاتي:**

9 علامات لكل نقطة علامة ونصف

أولاً- قارن بين المياه الجوفية المتجددة والمياه الجوفية غير المتجددة.

المياه الجوفية	المتجددة	غير المتجددة
أماكن تواجدها	قريبة من سطح الأرض ويتراوح عمقها بين 5م و100م	توجد في الطبقات العميقة من سطح الأرض
مصدر تغذيتها حالياً	تتغذى سنوياً من مياه الأمطار.	وهي لا تتغذى من أي مصدر مائي
كيفية الحصول عليها	يتم الحصول عليها بحفر الآبار والأفلاج	يتم الحصول عليها بحفر الآبار الارتوازية

ثانياً- من خلال الرسمين البيانيين لنسب الولادات والوفيات في دول المجلس لعام 1997م، أجب عما يلي:

أ) سمّ الدولة الأعلى والأدنى في نسبي الولادات والوفيات حسب معطيات الجدول الآتي: 7 علامات لكل نقطة علامة

البيانات	الأعلى في نسبة الولادات	الأدنى في نسبة الولادات	الأعلى في نسبة الوفيات	الأدنى في نسبة الوفيات
الدولة	• السعودية.	• الإمارات / أو عمان.	• السعودية.	• عمان.

ب) ما الدولة التي سجلت أعلى نسبة في الزيادة السكانية الطبيعية من بين دول مجلس التعاون؟ احسب تلك النسبة.

• الدولة هي: السعودية.

• بلغت نسبة الزيادة السكانية الطبيعية في هذه الدولة: 33 بالألف - 5 بالألف = 28 بالألف.

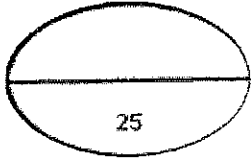
ج) استخلص من الرسمين البيانيين سبباً لارتفاع الزيادة السكانية الطبيعية في دول مجلس التعاون.

• ارتفاع نسبة الولادات وانخفاض نسبة الوفيات / أو التقدم في مجال الرعاية الصحية وتحسن المستوى المعيشي.

10 علامات لكل نقطة علامة

ثالثاً- اكتب ما تمثله مدلولات الأرقام المدونة على خريطة دول مجلس التعاون.

مدلولات الأرقام المدونة على الخريطة	نوع الظاهرة الجغرافية
1- البحر الأحمر. 2- بحر العرب.	- مسطحان مائيان.
3- الرياح الموسمية الصيفية. 4- الرياح المتوسطية الشتوية	- رياحان ممطرتان.
5- الكويت. 6- المنامة. 7- مسقط.	- مدن كبرى (عواصم).
8- السعودية. 9- الإمارات.	- دولتان تمتلكان مصنع حديد.
10- عمان.	- دولة تنتج النحاس.



التربية للمواطنة

أولاً : ضع علامة (✓) يمين العبارات الصحيحة وعلامة (x) يمين العبارات الخاطئة:

- 1- (✓)
 - 2- (x)
 - 3- (✓)
 - 4- (x)
 - 5- (✓)
 - 6- (✓)
- (6 علامات لكل نقطة علامة).

ثانياً- أجب عما يلي:

- 1- اذكر أربع دعائم للدولة الحديثة عمل على توطيدها الشيخ عيسى بن سلمان آل خليفة.
 - تأسيس الحياة النيابية.
 - وضع الدستور.
 - الاهتمام بالتطور الاقتصادي.
 - تطور قطاع التعليم والصحة.
 - الاهتمام بالإسكان والعمران.
 - توفير مشاريع البنية التحتية.
 - إقامة علاقات مع عديد من الدول.
 - الانتماء لجامعة الدول العربية ومنظمة المؤتمر الإسلامي ومنظمة الأمم المتحدة.
- 2- عرّف ميثاق العمل الوطني. (علامتان).
 - وثيقة عمل مستقبلية، تجسد طموحات الشعب، وتعد دليلاً للحياة السياسية الحديثة في مملكة البحرين.

3- صنف الإنجازات الآتية إلى إنجازات تحققت في عهد الشيخ عيسى بن سلمان آل خليفة، وبعضها الآخر في عهد

الملك حمد بن عيسى آل خليفة بوضع علامة (✓) بجانبها حسب المعطيات الواردة في الجدول الآتي:

(6 علامات لكل نقطة علامة).

الإنجازات	عهد الشيخ عيسى خليفة بن سلمان آل خليفة	عهد جلالة الملك حمد بن عيسى آل خليفة
تأسيس الحياة النيابية.	(✓)	
إعلان البحرين مملكة دستورية.		(✓)
وضع الدستور.	(✓)	
إنشاء ديوان الرقابة المالية.		(✓)
إعادة الحياة النيابية.		(✓)
منح المرأة كافة حقوقها السياسية.		(✓)

ثالثاً- اقرأ النص الذي أمامك، ثم أجب عن الأسئلة التي تليه انطلاقاً منه، ومستفيداً مما درست:

تلقى الشيخ حمد بن عيسى آل خليفة تعليماً عصرياً حديثاً، واكتسب ثقافة عربية إسلامية، حيث كان يحضر مجالس والده، ويختلط بذوي الخبرة في مجالات العلم المختلفة؛ مما ساهم في تميزه بسعة الأفق والانفتاح على قضايا العالم وتمرسه بأمور الحكم، وتكونت لديه قدرات قيادية متنوعة مكنته من تحقيق العديد من الإنجازات أثناء توليه للعهد.

1- ضع عنواناً مناسباً للنص.

- قدرات ومؤهلات الملك حمد - الملك حمد وولاية العهد (علامة). (أي عنوان مناسب ومنطقي)

2- ما نوع التعليم الذي تلقاه الشيخ حمد بن عيسى آل خليفة أثناء ولايته للعهد؟

• تعليم عصري حديث. (علامة).

3- ما النتائج المترتبة عن اختلاط جلالة الملك حمد بذوي الخبرة في مجالات العلم المختلفة قبل توليه الحكم؟

• تميزه بسعة الأفق. (يكتفى بثلاث نقاط لكل نقطة علامة)

• انفتاحه على قضايا العالم.

• تمرسه بأمور الحكم.

• اكتسابه قدرات قيادية متنوعة.

4- اذكر مبدئين اثنين ركز عليهما الشيخ عيسى بن سلمان آل خليفة في إعلان ولاية العهد لابنه حمد.

• العدل. (يكتفى بنقطتين لكل نقطة علامة)

- التقوى.
 - الشورى.
 - العزم في تصريف شؤون الدولة.
 - مراعاة حقوق الرعية.
 - توثيق علاقات الولاء والترابط بين الدولة والرعية.
- (ملحوظة: تقبل أي إجابة منطقية)

انتهت الإجابة

مملكة البحرين
وزارة التربية والتعليم
إدارة الامتحانات / قسم الامتحانات

الرقم السري

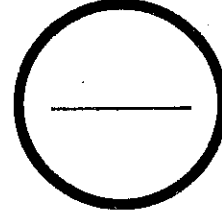
امتحان نهاية الفصل الدراسي الأول للعام الدراسي 2017/2016م
الصف الأول الإعدادي

الزمن : ساعتان

المادة : المواد الاجتماعية والتربية للمواطنة

الدرجة المعطاة بالأرقام والحروف:

السؤال	الدرجة بالأرقام	الدرجة بالحروف	إمضاء المصححين
الأول			
الثاني			
الثالث			
الرابع			
الخامس			
السادس			
السابع			
الثامن			
التاسع			
العاشر			
المجموع			



جمعه : _____

راجع الجمع : _____

توقيع المراجع : _____



بطاقة بيانات

مملكة البحرين
وزارة التربية والتعليم
إدارة الامتحانات / قسم الامتحانات

الرقم السري

امتحان نهاية الفصل الدراسي الأول للعام الدراسي 2017/2016م

المدرسة : _____

اسم الطالب : _____ رقم الجلوس : _____

المادة : المواد الاجتماعية والتربية للمواطنة (الصف / الأول الإعدادي) التاريخ : _____

مملكة البحرين

وزارة التربية والتعليم

إدارة الامتحانات / قسم الامتحانات

امتحان نهاية الفصل الدراسي الأول للعام الدراسي ٢٠١٦/٢٠١٧م

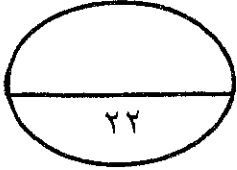
للملف الأول الإعدادي

الزمن: ساعتان

المادة: المواد الاجتماعية (الجغرافيا والتربية للمواطنة)

القسم الأول: أسئلة الجغرافيا (٧٥ علامة)

السؤال الأول :-



أولاً- ضع دائرة حول الحرف الدال على الإجابة الصحيحة من بين البدائل الآتية :-

- ١- الوسيلة التي اتخذتها دول مجلس التعاون للحد من أخطار السيول هي:
- أ- بناء محطات التحلية.
ب- بناء السدود.
ج- حفر الآبار الارتوازية.
د- حفر الأفلاج.

- ٢- اتجهت حركة النزوح في السعودية باديء الأمر نحو المنطقة الشرقية نتيجة :
- أ- نشاطاتها النفطية.
ب- مكانتها السياسية.
ج- موقعها التجاري.
د- خصوبة التربة.

٣- الزراعة الأكثر انتشارا في دول مجلس التعاون الخليجي :

- أ- الحبوب.
ب- الخضار.
ج- النخيل.
د- الفواكه.

٤- القطاع الذي لعب دورا مهما في التنمية الزراعية بدول مجلس التعاون الخليجي :

- أ- العقاري.
ب- العام.
ج- الخاص.
د- التجاري.

٥- الفئة العمرية التي تشكل حوالي نصف عدد السكان الإجمالي لدول مجلس التعاون:

- أ- الفتيان.
ب- الشباب.
ج- البالغين.
د- المسنين .

٦- تنتشر صناعة تكرير النفط وتسييل الغاز الطبيعي في جميع دول مجلس التعاون الخليجي خصوصا:

- أ- الكويت.
ب- البحرين.
ج- السعودية.
د- قطر .

ثانياً- صحح ما تحته خط في كل عبارة من العبارات الآتية، واكتب الإجابة الصحيحة في السطر الذي يليها:-

١- الموانئ المجهزة بالمستودعات والمخازن وبردادات لتخزين السلع تسمى بالموانئ النفطية.

٢- الدولة التي تأتي في طليعة الدول المستوردة من دول مجلس التعاون الخليجي هي الصين.

٣- تعتبر صناعة الزجاج في دول مجلس التعاون الخليجي من الصناعات التحويلية الكبرى.

٤- يركز اقتصاد دول مجلس التعاون الخليجي بشكل أساسي على القطاع التجاري.

٥- تأسس مجلس التعاون لدول الخليج العربي عام ١٩٨١م في مدينة الرياض.

السؤال الثاني :-

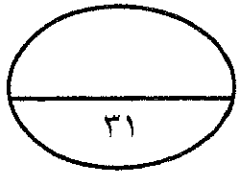
أولاً- علل لما يأتي :

١- نشوء المدن في دول مجلس التعاون الخليجي قبل اكتشاف النفط.

٢- تقلص رقعة الغطاء النباتي في دول مجلس التعاون الخليجي.

٣- ارتفاع التزايد السكاني في دول مجلس التعاون الخليجي.

٤- تعرض المياه الجوفية في دول مجلس التعاون الخليجي لخطر النضوب والتملح.



ثانياً- أجب عن الأسئلة الآتية:

١- ما المجالات التي يستفاد من قيمة أرباحها نتيجة حركة التبادل التجاري لدول مجلس التعاون الخليجي؟

-
-
-

٢- ما الفوائد الناجمة عن السيول في دول مجلس التعاون الخليجي؟

-
-
-

٣- بين أبرز العوائق التي تعترض قطاع الصناعة التحويلية في دول مجلس التعاون الخليجي.

-
-
-

ثالثاً: من خلال الرسم البياني المناخي لمحطة صلالة في سلطنة عُمان، أجب عما يلي:

(أ) ما الشهر الأكثر مطراً؟

-

(ب) ما الشهر الأعلى في درجة الحرارة؟

-

(ج) ما الأشهر التي تتساقط فيها الأمطار؟

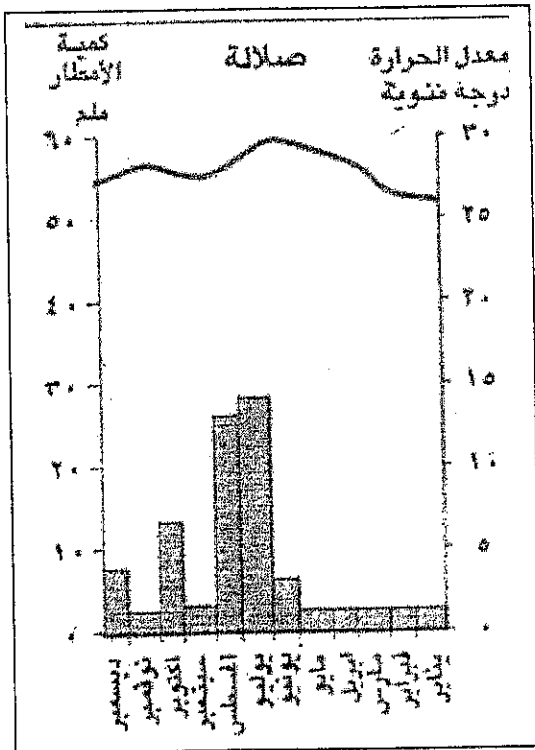
-

(د) ما الشهر الأدنى في درجة الحرارة؟

-

(هـ) ما المناخ الذي تقع فيه محطة صلالة المناخية؟

-

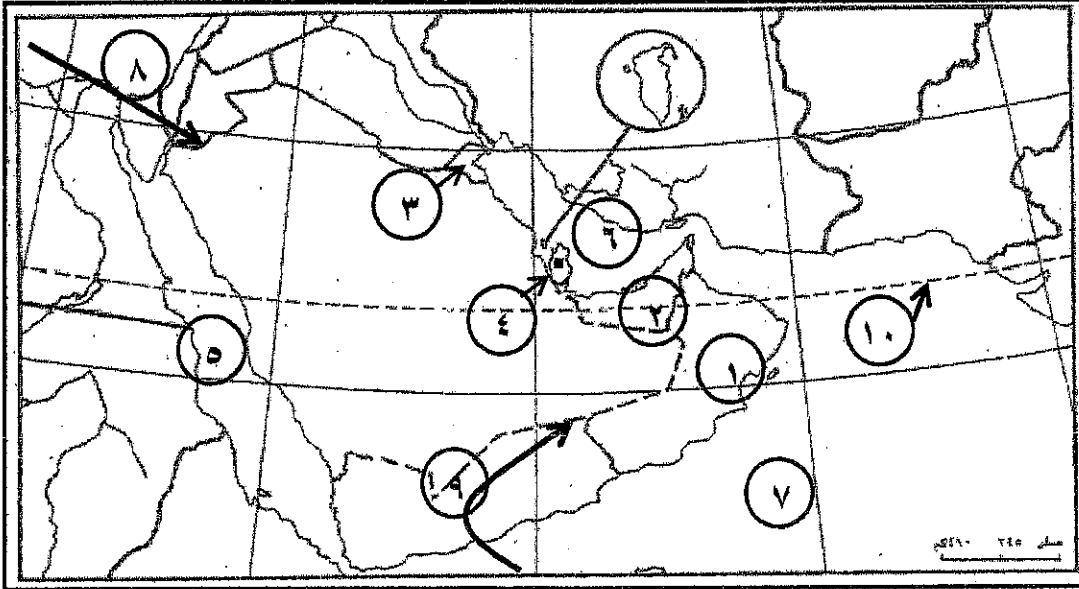


السؤال الثالث :-

أولاً- اكتب في الجدول الآتي الجهود التي بذتها دول مجلس التعاون الخليجي لتطوير القطاع الزراعي ومجال العناية الصحية.

القطاع	الجهود التي بذلت للتطوير
الزراعة
الصحة

ثانياً: اكتب ما تمثله مدلولات الأرقام الموضحة على خريطة دول مجلس التعاون لدول الخليج العربية الصّماء بحسب ما يناسبه في الجدول الذي يليها.



الظواهر الجغرافية	مدلولات الأرقام
دول مجلس التعاون-١-٢-٣
عواصم-٤
مسطح مائي-٥-٦-٧
رياح-٨-٩
دائرة عرض رئيسية-١٠

القسم الثاني: أسئلة التربية للمواطنة

السؤال الأول: ضع دائرة حول الحرف اندال على الإجابة الصحيحة من بين البدائل الآتية:

١- ألقى جلالة الملك المفدى حمد بن عيسى آل خليفة في ١٣ مارس ١٩٩٩م خطاباً سامياً بمناسبة:

- أ- ولايته العهد.
ب- تأسيسه لقوة دفاع البحرين.
ج- توليه الحكم.
د- تأسيسه للمحكمة الدستورية.

٢- تأسست شركة نفط البحرين في عهد:

- أ- عيسى بن علي آل خليفة.
ب- عيسى بن سلمان آل خليفة.
ج- سلمان بن حمد آل خليفة.
د- حمد بن عيسى آل خليفة.

٣- لقب المغفور له الشيخ عيسى بن سلمان آل خليفة بـ:

- أ- حكيم دولة البحرين.
ب- فاتح دولة البحرين.
ج- أمير دولة البحرين.
د- ملك مملكة البحرين.

٤- يطلق المجلس الوطني في مملكة البحرين على:

- أ- المجالس البلدية.
ب- المجلس الأعلى للقضاء.
ج- المجلس الأعلى للمرأة.
د- مجلسي الشورى والنواب.

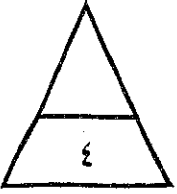
السؤال الثاني:- ضع علامة (√) أمام العبارة الصحيحة، وعلامة (x) أمام العبارة الخاطئة:

- ١- أجري الاستفتاء الشعبي العام على مشروع ميثاق العمل الوطني في فبراير ٢٠٠١م. ()
٢- تولى سمو المغفور له الأمير عيسى بن سلمان آل خليفة مقاليد الحكم عام ١٩١٦م. ()
٣- أسهمت مؤسسات المجتمع المدني في إعداد مشروع ميثاق العمل الوطني. ()
٤- يعود حكم آل خليفة إلى نهاية القرن الثامن الميلادي. ()
٥- استحدث بمقتضى التعديلات الدستورية لعام ٢٠٠٢م ديوان للرقابة الإدارية. ()

25

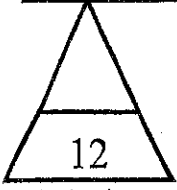
٤

٥



السؤال الثالث:- أتمم المخطط الآتي بما يناسب:

المجلس	عدد الأعضاء	طريقة اختيار الأعضاء
مجلس الشورى
مجلس النواب



السؤال الرابع:-

١- شكلت التعديلات الدستورية التي أصدرها جلالة الملك المفدى حمد بن عيسى آل خليفة خطوة جديدة نحو العمل الديمقراطي، اذكر اثنين منها:

-
-

٢- حدّد اثنين من مظاهر الدولة الحديثة في عهد الشيخ عيسى بن سلمان آل خليفة.

-
-

٣- ما النتائج المترتبة عن اختلاط جلالة الملك المفدى حمد بن عيسى آل خليفة بذوي الخبرة في مجالات العلم المختلفة؟

-
-

انتهت الأسئلة
مع تمنياتنا لكم بالتوفيق

مملكة البحرين

وزارة التربية والتعليم

إدارة الامتحانات / قسم الامتحانات

الإجابة النموذجية

امتحان نهاية الفصل الدراسي الأول للعام الدراسي 2016/2017م

الصف الأول الإعدادي

الزمن: ساعتان

المادة: المواد الاجتماعية (الجغرافيا والتربية للمواطنة)

القسم الأول: أسئلة المواد الاجتماعية:

السؤال الأول :-

أولاً- ضع دائرة حول الحرف الدال على الإجابة الصحيحة من بين البدائل الآتية :-

١- ب- بناء السدود.

٢- أ- نشاطاتها النفطية.

٣- ج- النخيل.

٤- ب- العام.

٥- أ الفتیان.

٦- ج- السعودية.

١٢ علامة لكل نقطة علامتان

ثانياً- صحّح ما تحته خط في كل عبارة من العبارات الآتية، واكتب الإجابة الصحيحة في السطر الذي يليها:-

١- التجارية.

٢- اليابان.

٣- الخفيفة.

٤- النفطي.

٥- أبوظبي.

١٠ علامات لكل نقطة علامتان

السؤال الثاني :-

أولاً- علل لما يأتي :-

١٢ علامة لكل نقطة علامتان

٣١

١- نشوء المدن في دول مجلس التعاون الخليجي قبل اكتشاف النفط.

• لموقعها التجاري البري / الموقع التجاري البحري.

• ملكاتها الدينية / ملكاتها السياسية . (يكتفى بإجابتين)

٢- تقلص رقعة الغطاء النباتي في دول مجلس التعاون الخليجي.

• الرعي الجائر.

• قطع الأشجار.

٣- ارتفاع التزايد السكاني في دول مجلس التعاون الخليجي.

• ارتفاع الزيادة السكانية الطبيعية / أعداد الوافدين إليها . (يكتفى بإجابة واحدة)

٤- تعرض المياه الجوفية في دول مجلس التعاون الخليجي لخطر النضوب والتملح.

• بسبب كثرة الاستهلاك ففاقت نسبة الاستخراج نسبة ما يغذيها من مياه الأمطار / تسرب مياه البحر المالحة إلى طبقات المياه

الجوفية. (يكتفى بإجابة واحدة)

٩ علامات لكل نقطة علامة

ثانياً- أجب عن الأسئلة الآتية:

١- ما المجالات التي يستفاد من قيمة أرباحها نتيجة حركة التبادل التجاري لدول مجلس التعاون الخليجي؟

• تطوير المشاريع الاقتصادية القائمة.

• تحسين مستوى الخدمات. (يكتفى ب٣ إجابات)

• يشجع على إقامة مشاريع اقتصادية جديدة. / توفير خدمات إضافية للمواطنين.

٢- ما الفوائد الناجمة عن السيول في دول مجلس التعاون الخليجي؟

• نمو النباتات حول مجاريها.

• قيام القرى حيث توفرت المياه.

• شكل النبات مراعي للحيوانات.

٣- بين أبرز العوائق التي تعترض قطاع الصناعة التحويلية في دول مجلس التعاون الخليجي؟

• النقص في القوى العاملة الوطنية خاصة الفنية.

• الاعتماد على الخارج (المواد الخام ، الآلات ، قطع الغيار).

• المنافسة التي تتعرض لها في الأسواق العالمية.

ثالثاً: من خلال الرسم البياني المناخي لمحطة صلالة في سلطنة عمان . أجب عما يلي:

(أ) ما الشهر الأكثر مطراً؟

• يوليو.

(ب) ما الشهر الأعلى في درجة الحرارة؟

• يونيو

(ج) ما الأشهر التي تتساقط فيها الأمطار؟


• كل أشهر السنة

(د) ما الشهر الأدنى في درجة الحرارة؟

• يناير

(هـ) ما المناخ الذي تقع فيه محطة صلالة المناخية؟

• صحراوية (منطقة شبه صحراوية)



السؤال الثالث :-

أولاً- اكتب في الجدول الآتي الجهود التي بذلتها دول مجلس التعاون الخليجي لتطوير القطاع الزراعي ومجال العناية الصحية.

١٢ علامات لكل نقطة علامتان

القطاع	الجهود التي بذلت للتطوير
الزراعة	توفير مياه الري ببناء السدود /إنشاء أكثر من ٦٠ مركزاً للبحوث والتجارب الزراعية/ بناء العديد من الصوامع لتخزين الحبوب /تعميم استخدام المعدات والآليات الزراعية الحديثة / استعمال المبيدات والأسمدة الكيماوية /نشر الزراعة المحمية/تقديم القروض المالية والطويلة الأمد للمزارعين /إعطاء المزارعين ما يلزمهم من معدات /حملات الترشيد من قبل المختصين /تنظيم الندوات والمحاضرات الإرشادية. (يكتفى بثلاث نقاط)
الصحة	إنشاء العديد من المستشفيات الحكومية المجهزة بالمعدات والآلات الطبية /نشر المراكز الصحية/تأسيس الكليات والمعاهد الطبية /منح التسهيلات للقطاع الأهلي لإنشاء مؤسسات صحية /حملات الترشيد للأُم الحامل/حملات التلقيح المجانية /إعداد برامج إعلامية وصحية/إمداد المنازل في المدينة والريف بالمياه الصالحة للشرب . (يكتفى بثلاث نقاط)

ثانياً: اكتب ما تمثله مدلولات الأرقام الموضحة على خريطة دول مجلس التعاون لدول الخليج العربية الصماء بحسب ما يناسبه في الجدول الذي يليها.

الظواهر الجغرافية	مدلولات الأرقام
دول مجلس التعاون	١ - عمان ٢ - الإمارات ٣ - الكويت
عواصم	٤ - الدوحة
مسطح مائي	٥ - البحر الأحمر ٦ - الخليج العربي ٧ - بحر العرب
رياح	٨ - المتوسطية ٩ - الموسمية
دائرة عرض رئيسية	١٠ - مدار السرطان

القسم الثاني: أجوبة التربية للمواطنة

السؤال الأول: ضع دائرة حول الحرف الدال على الإجابة الصحيحة من بين البدائل الآتية:

٢٥

(٤ علامات لكل نقطة علامة)

١- ألقى جلالة الملك المفدى حمد بن عيسى آل خليفة في ١٣ مارس ١٩٩٩م خطاباً سامياً بمناسبة:

ج- توليه الحكم.

٢- تأسست شركة نفط البحرين في عهد:

ب- عيسى بن سلمان آل خليفة.

٣- لقب المغفور له الشيخ عيسى بن سلمان آل خليفة بـ:

ج- أمير دولة البحرين.

٤- يطلق المجلس الوطني في مملكة البحرين على:

د- مجلسي الشورى والنواب.

السؤال الثاني:- ضع علامة (√) أمام العبارة الصحيحة، وعلامة (x) أمام العبارة الخاطئة:

(٥ علامات لكل نقطة علامة)

١- أُجري الاستفتاء الشعبي العام على مشروع ميثاق العمل الوطني في فبراير ٢٠٠١م. (√)

٢- تولى سمو المغفور له الأمير عيسى بن سلمان آل خليفة مقاليد الحكم عام ١٩١٦م. (x)

٣- أسهمت مؤسسات المجتمع المدني في إعداد مشروع ميثاق العمل الوطني. (√)

٤- يعود حكم آل خليفة إلى نهاية القرن الثامن الميلادي. (x)

٥- استحدثت بمقتضى التعديلات الدستورية لعام ٢٠٠٢م ديوان للرقابة الإدارية. (√)

السؤال الثالث:- أتمم المخطط الآتي بما يناسب: (٤ علامات)

المجلس	عدد الأعضاء	طريقة اختيار الأعضاء
مجلس الشورى	٤٠	التعيين
مجلس النواب	٤٠	الانتخاب

السؤال الرابع: (١٢ علامة) (ملاحظة تقبل أي إجابة منطقية)

١- شكلت التعديلات الدستورية التي أصدرها جلاله الملك المفدى حمد بن عيسى آل خليفة خطوة جديدة نحو العمل الديمقراطي، اذكر اثنين منها:

- إعلان البحرين مملكة دستورية.
- إعادة الحياة النيابية.
- تغيير الاسم الرسمي لدولة البحرين ليصبح مملكة البحرين.
- منح المرأة كافة حقوقها السياسية.
- تعزيز الشفافية في كافة إدارات الدولة.
- تحديد ملامح جديدة لعلم مملكة البحرين.

٢- حدّد اثنين من مظاهر الدولة الحديثة في عهد الشيخ عيسى بن سلمان آل خليفة.

- إنهاء المعاهدات السياسية والعسكرية.
- تأسيس الحياة النيابية.
- وضع الدستور.
- الاهتمام بالتطور الاقتصادي.
- تطور قطاع التعليم والصحة.
- الاهتمام بالإسكان والعمران.
- توفير مشاريع البنية التحتية.
- إقامة علاقات دبلوماسية.
- الانتماء لجامعة الدول العربية ومنظمة التعاون الإسلامي ومنظمة الأمم المتحدة.

٣- ما النتائج المترتبة عن اختلاط جلاله الملك المفدى حمد بن عيسى آل خليفة بذوي الخبرة في مجالات العلم المختلفة؟

- تميزه بسعة الأفق.
- انفتاحه على قضايا العالم.
- تمرسه بأمور الحكم.
- اكتسابه قدرات قيادية متنوعة.

مملكة البحرين
وزارة التربية والتعليم
إدارة الامتحانات / قسم الامتحانات المركزية

الرقم السري

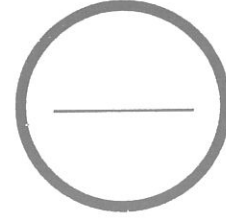
امتحان نهاية الفصل الدراسي الأول للعام الدراسي 2018/2017م
الصف الأول الإعدادي

الزمن : ساعتان

المادة : المواد الاجتماعية والتربية للمواطنة

السؤال	الدرجة بالأرقام	الدرجة بالحروف	إمضاء المصححين
الأول			
الثاني			
الثالث			
الرابع			
الخامس			
السادس			
السابع			
الثامن			
التاسع			
العاشر			
المجموع			


الدرجة المعطاة بالأرقام والحروف:



جمعه : -----

راجع الجمع : -----

توقيع المراجع : -----



بطاقة بيانات

مملكة البحرين
وزارة التربية والتعليم
إدارة الامتحانات / قسم الامتحانات المركزية

الرقم السري

امتحان نهاية الفصل الدراسي الأول للعام الدراسي 2018/2017م

المدرسة : _____

اسم الطالب : _____ رقم الجلوس : _____

المادة : المواد الاجتماعية والتربية للمواطنة (الصف / الأول الإعدادي) التاريخ : _____

مملكة البحرين

وزارة التربية والتعليم

إدارة الامتحانات / قسم الامتحانات المركزية

امتحان نهاية الفصل الدراسي الأول للعام الدراسي ٢٠١٧-٢٠١٨م

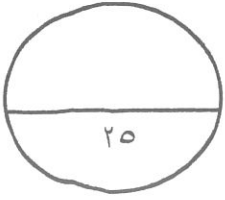
للفصل الأول الإعدادي

الزمن: ساعتان

المادة: المواد الاجتماعية (جغرافيا + التربية للمواطنة)

القسم الأول - الجغرافيا (٧٥ درجة)

السؤال الأول



أولاً- ضع دائرة حول الحرف الدال على الإجابة الصحيحة من بين البدائل الآتية:

١- المنطقة الصحراوية الأكثر حرارة وجفافاً من بين مناطق دول مجلس التعاون الآتية:

أ- سهل الباطنة.

ب- الدهناء.

د- النفود.

ج- الريع الخالي.

٢- لا تجري السيول في دول مجلس التعاون مسافات طويلة بسبب:

ب- تسربها إلى باطن الأرض.

أ- اصطدامها بالمرتفعات الجبلية.

د- تدفقها باتجاه مياه البحر.

ج- تعرضها لغطاء نباتي كثيف.

٣- تزدهر على سفوح جبال ظفار وعسير الغابات شبه المغلقة؛ نتيجة استفادتها من الأمطار:

ب- الاستوائية الصيفية.

أ- الموسمية الصيفية.

د- القطبية الشتوية.

ج- المتوسطية الشتوية.

٤- عندما تبلغ نسبة الزيادة السكانية الطبيعية ٣٥ بالآلف في قرية ما، ونسبة الوافدين إليها ١٠ بالآلف، فكم تبلغ

نسبة الزيادة السكانية لهذه القرية؟

ب- ٣٥ بالآلف.

أ- ٢٥ بالآلف.

د- ٥٥ بالآلف.

ج- ٤٥ بالآلف.

٥- من النتائج المترتبة على اهتمام دول مجلس التعاون بقطاع الصحة :

ب- انخفاض نسبة الكثافة السكانية.

أ- ارتفاع نسبة وفيات الأطفال الرضع.

د- انخفاض متوسط عمر الإنسان.

ج- انخفاض عدد الأشخاص لكل طبيب.

٦- من المدن التي كانت مهمة قبل اكتشاف النفط بفضل موقعها على طرق التجارة البحرية:

ب- مكة.

أ- الرياض.

د- المنامة.

ج- الطائف.

٧- الدولة التي تميزت عن دول مجلس التعاون بتحقيقها اكتفاء ذاتيا في إنتاج القمح هي:

أ- الإمارات.

ب- عمان.

ج- الكويت.

د- السعودية.

٨- إحدى صناعات المعادن في دول مجلس التعاون توجد في سلطنة عمان فقط، هي:

أ- اليورانيوم.

ب- النحاس.

ج- الألمنيوم.

د- الحديد.

٩- أهم أنواع الصادرات في دول مجلس التعاون هي الصادرات:

أ- الصناعية.

ب- النفطية.

ج- الزراعية.

د- الحيوانية.

١٠- تأسس مجلس التعاون لدول الخليج العربية عام ١٩٨١م في مدينة:

أ- أبوظبي.

ب- مسقط.

ج- الدوحة.

د- الكويت.

ثانياً- صحّح ما تحته خط في كل عبارة من العبارات الآتية، واكتب الإجابة الصحيحة في السطر الذي يليها:



١- الفئة العمرية التي تشكل حوالي نصف عدد السكان الإجمالي لدول مجلس التعاون هي فئة البالغين.

٢- من القطاعات غير النفطية الذي ارتفعت حصته في الناتج الإجمالي لدول مجلس التعاون هو قطاع الزراعة.

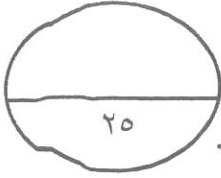
٣- أنشأت مملكة البحرين مشروع رأس حيّان لتربية الدواجن.

٤- تستورد دول مجلس التعاون أكبر كمية من المواد والسلع من الولايات المتحدة الأمريكية.

٥- يعتبر جسر الملك فهد من أبرز إنجازات دول مجلس التعاون في مجال المواصلات الجوية.

السؤال الثاني

أولاً- علل ما يأتي:



١- تدني نسبة من يمارسون نشاطا اقتصاديا منتجا في دول مجلس التعاون لدول الخليج العربية.

-
-

٢- نزوح سكان البوادي والأرياف إلى المدن في دول مجلس التعاون.

-
-

٣- ازدهار الحركة التجارية في دول مجلس التعاون.

-
-

٤- حدوث تحولات أساسية في اقتصاد دول مجلس التعاون خاصة منذ منتصف السبعينات.

-
-

ثانياً- أجب عن الأسئلة الآتية:

١- ما الوسائل التي اعتمدها دول مجلس التعاون لتنمية مواردها المائية؟

-
-
-

٢- اذكر ثلاثة إجراءات قامت بها دول المجلس لحماية ثروتها النباتية وتنميتها.

-
-
-

٣- ما أهداف مجلس التعاون لدول الخليج العربية؟

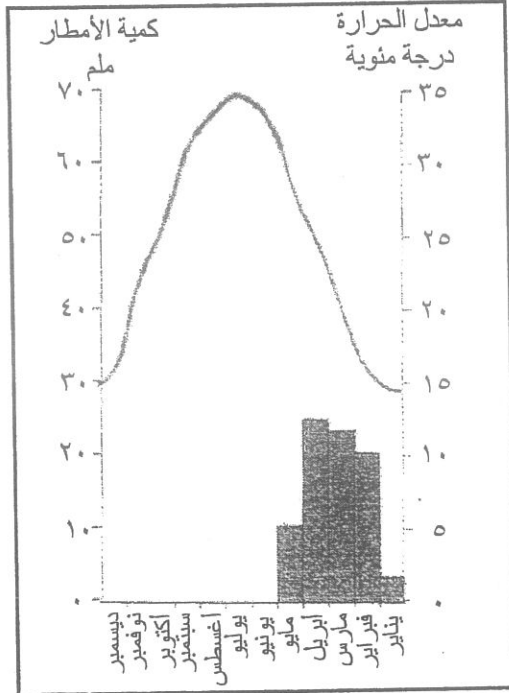
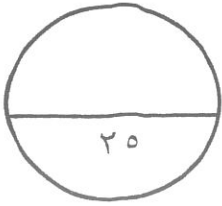
-
-
-

ثالثاً- اكتب في الجدول الآتي العوائق التي تعترض تقدم قطاعي الزراعة والصناعات التحويلية في دول مجلس التعاون.

القطاع	العوائق التي تعترض تقدمه
الزراعي
الصناعات التحويلية

السؤال الثالث:

أولاً- من خلال الرسم البياني المناخي لمحطة الرياض في المملكة العربية السعودية، أجب عما يليه:



أ) اكتب اسم الشهر المطلوب حسب البيانات الواردة في الجدول الآتي:

البيانات	الأعلى حرارة	الأدنى حرارة	الأعلى أمطارا	الأقل أمطارا
الشهر				

ب) اكتب أسماء أربعة شهور يتساقط فيها المطر.

.....

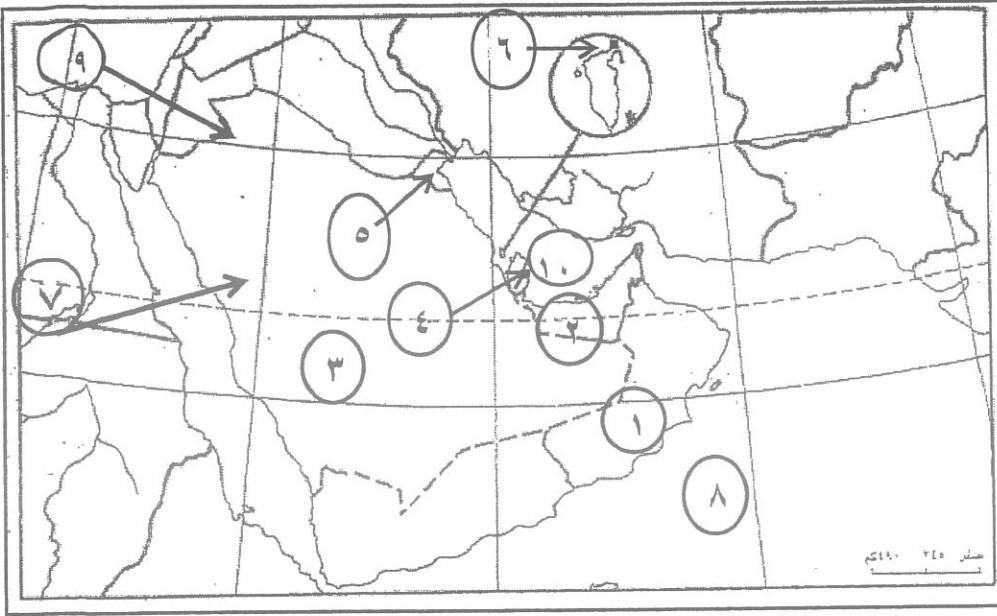
ج) ما المناخ الذي تقع فيه هذه المحطة المناخية؟

.....

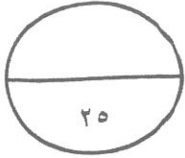
ثانياً: قارن بين الموانئ النفطية والموانئ التجارية من حيث وظيفتها وتجهيزاتها.

التجارية	النفطية	أنواع الموانئ
.....	وظيفتها
.....	تجهيزاتها
.....	

ثالثاً: اكتب ما تمثله مدلولات الأرقام الموضحة على خريطة دول مجلس التعاون لدول الخليج العربية الصماء بحسب ما يناسبه في الجدول الذي يليها.



المسمى	الرقم
عمان	
الإمارات	
بحر العرب	
المملكة العربية السعودية	
الكويت	
الدوحة	
الخليج العربي	
المنامة	
رياح مدارية	
رياح متوسطة	



القسم الثاني- التربية للمواطنة

السؤال الأول



أولاً- ضع علامة (√) أمام العبارة الصحيحة، وعلامة (x) أمام العبارة الخاطئة:

- ١- فُسح المجال أمام المرأة للمشاركة في شؤون الحياة العامة في عهد جلالة الملك حمد بن عيسى آل خليفة. ()
- ٢- تشكلت لجنة إعداد مشروع ميثاق العمل الوطني من ممثلي الهيئات الدولية. ()
- ٣- بلغت نسبة موافقة شعب البحرين على ميثاق العمل الوطني ٩٨,٤%. ()
- ٤- أُطلق لقب الفاتح على الشيخ سلمان بن أحمد بن محمد آل خليفة. ()
- ٥- أصدر جلالة الملك المفدى حمد بن عيسى آل خليفة التعديلات الدستورية عام ٢٠٠٢م. ()

السؤال الثاني: ضع دائرة حول الحرف الدال على الإجابة الصحيحة من بين البدائل الآتية:



- ١- يعود حكم آل خليفة في البحرين الكرام إلى نهاية القرن:
 - أ- الخامس عشر الميلادي.
 - ب- السادس عشر الميلادي.
 - ج- السابع عشر الميلادي.
 - د- الثامن عشر الميلادي.

٢- يُعرف مجلس الشورى والنواب في مملكة البحرين بـ:

- أ- المجلس الوطني.
- ب- المجلس المحلي.
- ج- المجلس البلدي.
- د- المجلس الأعلى.

٣- صدر أول دستور لمملكة البحرين في عهد:

- أ- عيسى بن علي آل خليفة.
- ب- سلمان بن حمد آل خليفة.
- ج- عيسى بن سلمان آل خليفة.
- د- حمد بن عيسى آل خليفة.

٤- يتألف مجلس الشورى في مملكة البحرين من:

- أ- ٢٠ عضواً.
- ب- ٤٠ عضواً.
- ج- ٦٠ عضواً.
- د- ٨٠ عضواً.

السؤال الثالث:- صف الإنجازات الآتية إلى إنجازات تحققت في عهد سمو المغفور له الشيخ عيسى بن سلمان آل خليفة، وعهد جلالة الملك حمد بن عيسى آل خليفة في الجدول الآتي:

- (١) الانضمام لجامعة الدول العربية . - (٢) تحول البحرين إلى مملكة دستورية - (٣) تأسيس الحياة النيابية
(٤) تحديد ملامح جديدة لعلم مملكة البحرين - (٥) إنهاء المعاهدات السياسية - (٦) استحداث ديوان للرقابة المالية.

عهد الشيخ عيسى بن سلمان آل خليفة	عهد جلالة الملك حمد بن عيسى آل خليفة
()	()
()	()
()	()

السؤال الرابع:

١- ركز سمو المغفور له الأمير عيسى بن سلمان آل خليفة في إعلان ولاية العهد لابنه حمد بن عيسى آل خليفة على جملة من المبادئ، اذكر ثلاثاً منها.

-
-
-

٢- ما النتائج التي ترتبت عن اختلاط جلالة الملك حمد بن عيسى آل خليفة مع ذوي الخبرة في مجالات العلم المختلفة بمجلس والده؟

-
-

انتهت الأسئلة؛ مع تمنياتنا للجميع بالتوفيق والنجاح

مملكة البحرين

وزارة التربية والتعليم

إدارة الامتحانات / قسم الامتحانات

**الإجابة
النموذجية**

امتحان نهاية الفصل الدراسي الثاني للعام الدراسي ٢٠١٧/٢٠١٨م

للسف الأول الإعدادي

الزمن: ساعتان

المادة: المواد الاجتماعية (الجغرافيا + التربية للمواطنة)

القسم الأول - الجغرافيا (٧٥ درجة)

(٢٥ درجة)

السؤال الأول

أولاً:- ضع دائرة حول رمز الإجابة الصحيحة من بين الإجابات الآتية: (١٥ درجة/ لكل نقطة درجة)

- ١- ج- الريح الخالي.
- ٢- ب- تسربها إلى باطن الأرض.
- ٣- أ- الموسمية الصيفية.
- ٤- ج- ٤٥ بالآلف.
- ٥- ج- انخفاض عدد الأشخاص لكل طبيب.
- ٦- د- المنامة.
- ٧- د- السعودية.
- ٨- ب- النحاس.
- ٩- ب- النفطية.
- ١٠- أ- أبوظبي.

ثانياً: صحح ما تحته خط في كل عبارة من العبارات الآتية، واكتب الإجابة الصحيحة في السطر الذي يليها:

(١٠ درجات/ لكل نقطة درجة)

- ١- الفتيان.
- ٢- الصناعات التحويلية أو الخدمات أو التعدين.
- ٣- الأسمالك.
- ٤- المجموعة الأوربية.
- ٥- البرية.

السؤال الثاني (٢٥ درجة)

أولاً- علل لما يأتي:

(١٢ درجة/ لكل نقطة درجة)

١- تدني نسبة من يمارسون نشاطا اقتصاديا منتجا في دول مجلس التعاون.

- أكثر من نصف سكان دول المجلس هم دون سن العمل (فتيان).
 - قلة مشاركة المرأة في العمل.
 - وجود أشخاص عاجزين عن العمل لأسباب صحية.
- (يكتفى بذكر نقطتين)

٢- نزوح سكان البوادي والأرياف إلى المدن في دول مجلس التعاون.

- تركز النشاطات الاقتصادية في المدن خصوصاً بعد اكتشاف النفط والنمو الاقتصادي.
 - توافر الخدمات التعليمية والصحية وغيرها في المدن.
 - توافر فرص العمل.
- (يكتفى بذكر نقطتين)

٣- ازدهار الحركة التجارية في دول مجلس التعاون.

- نتيجة لنموها السكاني والاقتصادي الذي شهدته خلال السنوات الأخيرة.

٤- حدوث تحولات أساسية في اقتصاد دول مجلس التعاون خاصة منذ منتصف السبعينات.

- بسبب اكتشاف النفط وارتفاع أسعاره وارتفاع إيراداته التي وظفت في عملية التنمية الشاملة.

ثانياً- أجب عن الأسئلة الآتية:

(١٣ درجة/ لكل نقطة درجة)

١- ما الوسائل التي اعتمدها دول مجلس التعاون لتنمية مواردها المائية؟

- إقامة السدود لتجميع مياه السيول.
 - بناء محطات لتحلية مياه البحر.
 - القيام بحملات ترشيد استهلاك المياه.
 - بناء محطات لتتقية مياه الصرف الصحي.
- (يكتفى بذكر بثلاث نقاط)

٢- اذكر ثلاثة إجراءات قامت بها دول المجلس لحماية ثروتها النباتية وتنميتها.

- إصدار قوانين منع الاحتطاب العشوائي.
 - تنظيم الرعي.
 - إقامة الحدائق وتجميل الشوارع بحملات التشجير.
 - تنمية الغابات.
 - أقامت المحميات الحراجية.
- (يكتفى بذكر بثلاث نقاط)

٣- ما أهداف مجلس التعاون لدول الخليج العربي؟

- تحقيق التنسيق والتكامل بين الدول الأعضاء.
 - توثيق الروابط والصلات بين الشعوب.
 - وضع أنظمة متماثلة.
 - دفع عجلة التقدم العلمي والتقني في المجال الاقتصادي.
- (يكتفى بذكر بثلاث نقاط)

٤- اكتب في الجدول الآتي العوائق التي تعترض تقدم قطاعي الزراعة والصناعات التحويلية في دول مجلس التعاون.

القطاع	العوائق التي تعترض تقدمه
الزراعي	<ul style="list-style-type: none"> • قلة الموارد المائية وقلة خصوبة التربة وتملحها. • الارتفاع في تكاليف المواد المستخدمة في القطاع الزراعي. • النقص في القوى العاملة الفنية والمهندسين الزراعيين المحليين. <u>(يكتفى بذكر نقطتين)</u>
الصناعات التحويلية	<ul style="list-style-type: none"> • نقص القوى العاملة. • المنافسة التي تتعرض لها في الأسواق العالمية. • الاعتماد على الخارج في استيراد المواد الأولية والآلات والمعدات اللازمة لتشغيل المصانع. <u>(يكتفى بذكر نقطتين)</u>

(٢٥ درجة)

السؤال الثالث

أولاً- من خلال الرسم البياني المناخي لمحطة الرياض في المملكة العربية السعودية، أجب عما يلي:

أ) اكتب اسم الشهر المطلوب حسب البيانات الواردة في الجدول الآتي: (٩ درجات/ لكل نقطة درجة)

البيانات	الأعلى حرارة	الأدنى حرارة	الأكثر أمطاراً	الأدنى أمطاراً
الشهر	يوليو	يناير	أبريل	يناير

ب) اكتب أسماء أربعة شهور يتساقط فيها المطر. • يناير - فبراير - مارس - أبريل - مايو. (يكتفى بذكر أربعة أشهر)

ج) ما المناخ الذي تقع فيه هذه المحطة المناخية؟ • صحراوي أو حار قليل المطر.

ثانياً: قارن بين الموانئ النفطية والموانئ التجارية من حيث وظيفتها وتجهيزاتها. (٦ درجات/ لكل نقطة درجة)

أنواع الموانئ	النفطية	التجارية
وظيفتها	معدة خصيصاً لتصدير النفط والغاز الطبيعي.	معدة خصيصاً لاستيراد وتصدير السلع غير النفطية.
تجهيزاتها	<ul style="list-style-type: none"> • خزانات لتخزين النفط والغاز الطبيعي. • أنابيب لنقل النفط والغاز. • أحواض مزودة بمراسي تسمح باستقبال ناقلات النفط العملاقة. 	<ul style="list-style-type: none"> • مستودعات ومخازن وبرادات لتخزين السلع وحفظها. • أرصفة. • رافعات.
	<u>(يكتفى بذكر نقطتين)</u>	<u>(يكتفى بذكر نقطتين)</u>

(١٠ علامات لكل نقطة علامة)

ثالثاً- اكتب أمام المسمى الرقم الذي يناسبه

الرقم	المسمى
١	عمان
٢	الإمارات
٨	بحر العرب
٣	المملكة العربية السعودية
٥	الكويت
٤	الدوحة
١٠	الخليج العربي
٦	المنامة
٧	رياح مطرية الحجاز
٩	رياح متوسطية



القسم الثاني- التربية للمواطنة (٢٥ درجة)

السؤال الرابع

أولاً- ضع علامة (√) أمام العبارة الصحيحة، وعلامة (×) أمام العبارة الخاطئة: (٥ درجات)

- ١- فُسح المجال أمام المرأة للمشاركة في شؤون الحياة العامة في عهد جلالة الملك حمد بن عيسى آل خليفة (√)
- ٢- تشكلت لجنة إعداد مشروع ميثاق العمل الوطني من ممثلي الهيئات الدولية. (×)
- ٣- بلغت نسبة موافقة شعب البحرين على ميثاق العمل الوطني ٩٨,٤%. (√)
- ٤- أُطلق لقب الفاتح على الشيخ سلمان بن أحمد بن محمد آل خليفة. (×)
- ٥- أصدر جلالته الملك المفدى حمد بن عيسى آل خليفة التعديلات الدستورية عام ٢٠٠٢م. (√)

ثانياً- ضع دائرة حول الحرف الدال على الإجابة الصحيحة من بين البدائل الآتية:

١- يعود حكم آل خليفة الكرام إلى نهاية القرن: (٤ درجات)

د- الثامن عشر الميلادي.

٢- يُعرف مجلس الشورى والنواب في مملكة البحرين ب:

أ- المجلس الوطني.

٣- صدر أول دستور لمملكة البحرين في عهد:

ج- عيسى بن سلمان آل خليفة.

٤- يتألف مجلس الشورى في مملكة البحرين من:

ب- ٤٠ عضواً.

ثالثاً- صنف الإنجازات الآتية إلى إنجازات تحققت في عهد سمو المغفور له الشيخ عيسى بن سلمان آل خليفة، وعهد جلالة الملك حمد بن عيسى آل خليفة في الجدول الآتي: (٦ درجات)

(١) الانضمام لجامعة الدول العربية - (٢) تحول البحرين إلى مملكة دستورية - (٣) تأسيس الحياة النيابية (٤) تحديد ملامح جديدة لعلم مملكة البحرين - (٥) إنهاء المعاهدات السياسية - (٦) استحداث ديوان للرقابة المالية.

عهد الشيخ عيسى بن سلمان آل خليفة	عهد جلالة الملك حمد بن عيسى آل خليفة
(١)	(٢)
(٣)	(٤)
(٥)	(٦)

رابعاً- (١٠ علامات)

١- ركز سمو المغفور له الأمير عيسى بن سلمان آل خليفة في إعلان ولاية العهد لابنه حمد بن عيسى آل خليفة على جملة من المبادئ، اذكر ثلاثاً منها.

(٦ درجات)

- العدل.
- التقوى.
- الشورى.
- العزم في تصريف شؤون الدولة.
- مراعاة حقوق الرعية.
- توثيق علاقات الولاء والترابط بين الدولة والرعية.

(يكتفى بثلاث نقاط لكل نقطة درجتان)

٢- ما النتائج التي ترتبت عن اختلاط جلالة الملك حمد بن عيسى آل خليفة مع ذوي الخبرة في مجالات العلم المختلفة بمجلس والده؟

(٤ درجات)

- تميزه بسعة الأفق.
- انفتاحه على قضايا العالم.
- تمرسه بأمور الحكم.
- اكتسابه قدرات قيادية متنوعة.

(يكتفى بنقطتين لكل نقطة درجتان)

انتهى نموذج الإجابة