

تم تحميل هذا الملف من موقع المناهج البحرينية



حل الدرس الرابع الموقع و أهميته

موقع المناهج ← المناهج البحرينية ← الصف السابع ← المواد الاجتماعية ← الفصل الأول ← حلول ← الملف

تاريخ إضافة الملف على موقع المناهج: 2024-10-22 11:18:35

ملفات اكتب للمعلم اكتب للطالب الاختبارات الكترونية | اختبارات | حلول | عروض بوربوينت | أوراق عمل
منهج انجليزي | ملخصات وتقارير | مذكرات وبنوك | الامتحان النهائي للمدرس

المزيد من مادة
المواد
الاجتماعية:

التواصل الاجتماعي بحسب الصف السابع



صفحة المناهج
البحرينية على
فيسبوك

الرياضيات

اللغة الانجليزية

اللغة العربية

التربية الاسلامية

المواد على تلغرام

المزيد من الملفات بحسب الصف السابع والمادة المواد الاجتماعية في الفصل الأول

كراسة الاجتماعيات والتربية للمواطنة

1

كراسة الاجتماعيات والتربية للمواطنة

2

كراسة الاجتماعيات والتربية للمواطنة

3

المذكرة الذهبية في المواد الاجتماعية

4

مذكرة الاجتماعيات

5



الموقع وأهميته

الكفاية: تفسر أهمية الموقع الجغرافي والفلكي لدول مجلس التعاون.

الهدف من الدرس: يهدف الدرس الى تعريف الطالبة بالموقع الجغرافي للخليج العربي وفهم أهميته الإستراتيجية والسياسية والاقتصادية وتطوير مهارات الطالبة في التفكير النقدي والتحليل الجغرافي.

❖ أولاً: طالبتي المجددة اجيبي عن الأسئلة التالية مستعينة بالكتاب المدرسي:

- يتألف مجلس التعاون لدول الخليج العربي من **ست** دول، وهي **مملكة البحرين و قطر و الكويت و المملكة العربية السعودية و سلطنة عمان و الإمارات العربية المتحدة.**
- تقع هذه الدول بين **جنوب شرق آسيا و البحر المتوسط.**

❖ ثانياً: من خلال خريطة دول مجلس التعاون حددي الموقع الجغرافي للخليج العربي:

شمال: العراق والأردن	
غرب: البحر الأحمر	شرق: الخليج العربي وإيران
جنوب: اليمن، و بحر العرب، و خليج عمان	

❖ ثالثاً: حددي موقع دول مجلس التعاون بالنسبة لقارة آسيا والوطن العربي والعالم الإسلامي.

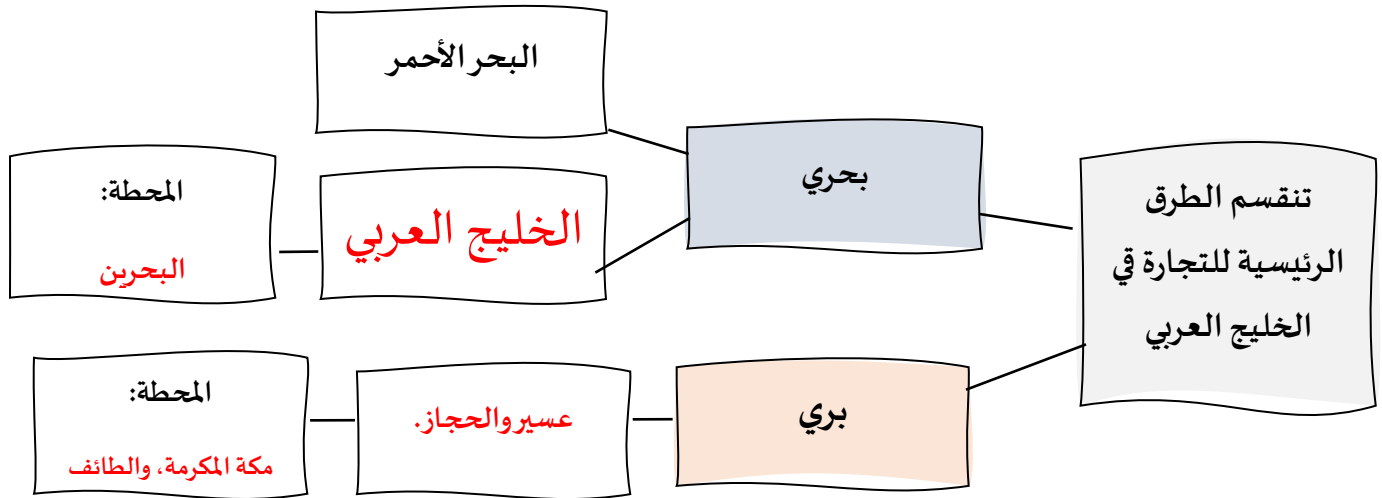
العالم الإسلامي	الوطن العربي	قارة آسيا
وسط العالم الإسلامي.	شرق الوطن العربي.	جنوب غرب قارة آسيا.

عصف ذهني: ما الهدف من تطوير التنمية المستدامة للخليج العربي:

المحافظة على الثروة النباتية والسلمكية في بحر الخليج العربي.

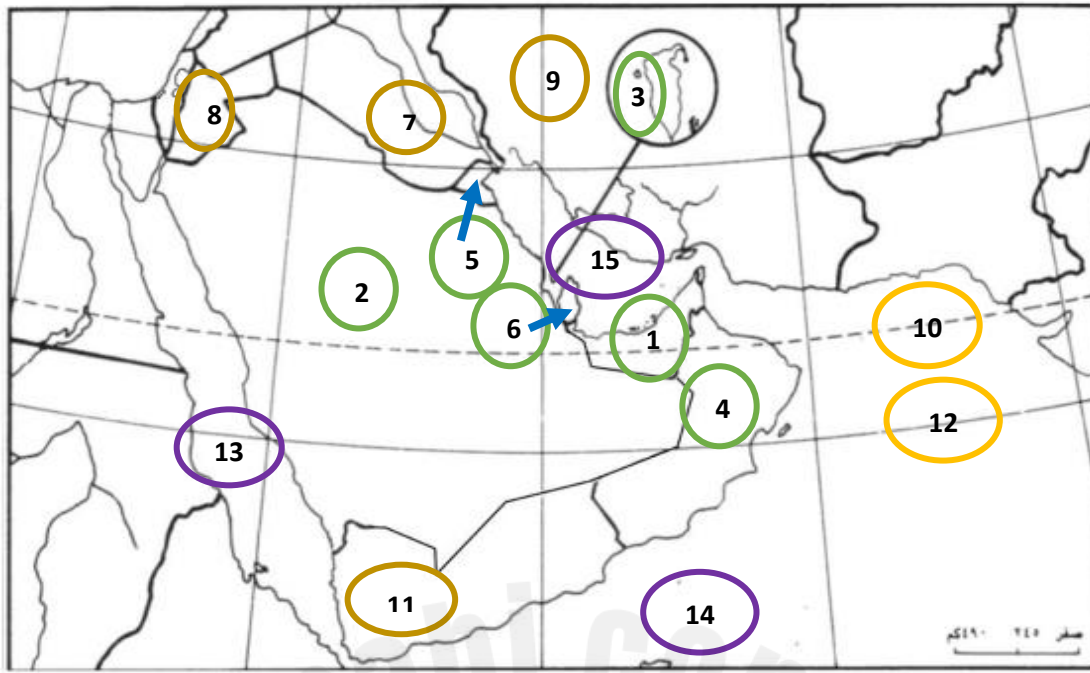


التفكير الناقد وحل المشكلات



❖ وضح أهمية دول مجلس التعاون الخليجي على مر العصور التاريخية:

الفترة الزمنية	أهمية دول الخليج العربي
في القَدَم	برزت أهمية دول الخليج العربي تجاريًا بين الهند ، و بلاد ما بين النهرين والشام.
عصر الفتوحات الإسلامية	ظل سكان الخليج مسيطرون على التجارة التي عززت مكانتهم ، خصوصًا مع بروز مضيق هرمز تجاريًا.
عصر الاستعمار الأوروبي	سيطر البرتغاليون على الخليج العربي ، ثم الهولنديون ، ثم البريطانيون.
الوقت الحاضر	1- مصدر مهم للطاقة بعد اكتشاف النفط. 2- أهم الطرق التجارية العالمية.



الدولة	الرقم	دوائر العرض	الرقم	الدول المحيطة بدول المجلس	الرقم
قطر	6	خط الاستواء	12	العراق	7
الكويت	5	مدار السرطان	10	الأردن	8
سلطنة عمان	4	المسطحات المائية	الرقم	إيران	9
مملكة البحرين	3	الخليج العربي	15	اليمن	11
المملكة العربية السعودية	2	بحر العرب	14		
الإمارات العربية المتحدة	1	البحر الأحمر	13		

طالبتي المبدعة - ضمن مشروع واعية بمواطنتي، ووفقًا لما تم دراسته والتدريب عليه، ارسى خريطة الخليج العربي كما تعلمتها في الصف الدراسي، مع الإشارة في الخريطة للدول والمسطحات المائية ودوائر العرض المذكورة في صفحة 6 من هذه المذكرة.



الإبداع والابتكار



تقييم المعلمة لأداء الطلبة لهذا النشاط

الدعم المقدم	التعزيز	الوصف
<input type="radio"/> تدريبي أكثر مستعينة بالكتاب المدرسي <input type="radio"/> ارجعي الى نموذج الإجابة الصحيحة في البوابة لتصحيح اجابتك. <input type="radio"/> استعيني بزميلتك للتوصل للإجابة الصحيحة. <input type="radio"/> ادعني الكراسة بالإنجازات	<input type="radio"/> ممتازة اجابتك دليل تفوقك. <input type="radio"/> متميزة ورائعة <input type="radio"/> احسنت خطأ وترتيباً <input type="radio"/> استمري بالمحاولة وكلي ثقة بك. <input type="radio"/> شكرا الجهودك الرائعة. <input type="radio"/> سعدت بمحاولاتك	<input type="radio"/> عملك متقن حققت المطلوب منك بجدارة. <input type="radio"/> حققت المطلوب منك بشكل جزئي. <input type="radio"/> لديك بعض الأخطاء. <input type="radio"/> لم تحققي المطلوب منك. <input type="radio"/> ناقص: الحل / التصحيح الذاتي / تصويب الأخطاء السابقة

التقدير	ممتاز	جيد جدا	جيد	متوسط
رأي التلميذة في النشاط :				
تاريخ التصويب (1)	تاريخ التصويب (2)	تاريخ التصويب (3)		



التاريخ: -----

توزع التضاريس ومميزاتها

الكفاية: تتعرف سطح شبه الجزيرة العربية ومراحل تكوينه.

الهدف من الدرس: يهدف الدرس الى تمكين الطالبة من فهم تنوع التضاريس في الخليج العربي وتأثيرها على الحياة اليومية، وتعزيز مهارات التفكير النقدي والوعي البيئي.

أولاً: حددي موقع كل من جبال عمان والمنبسط الشرقي واذكري خصائص كل منها:

وجه المقارنة	جبال عمان	المنبسط الشرقي
الموقع	<p>من رأس مسندم شمالاً إلى رأس الحد جنوباً.</p>	من الساحل الجنوبي الشرقي حتى العراق.
الخصائص المميزة	<p>1- سلسلة جبلية تتألف من الشمال إلى الجنوب من رؤوس:</p> <ul style="list-style-type: none"> - جبال الحجر الغربي. - جبال الحجر الشرقي. - الجبل الأخضر. <p>2- يخترق المنحدرات الشرقية والغربية لهذه السلسلة عدة أودية جافة عميقة.</p> <p>3- تشرف شرقاً على سهل الباطنة وغرباً على صحراء الربع الخالي.</p>	<p>1- متوسط ارتفاعه حوالي 200 م.</p> <p>2- معظم أراضيه رملية.</p> <p>3- تنقسم إلى منطقتين:</p> <ul style="list-style-type: none"> • منطقة الصحراء الخالي: تنتشر بها الكثبان الرملية والسبخات. • منطقة شمال الربع الخالي: صالحة للزراعة نسبياً، و به أغلب النفط في الخليج العربي.

ثانياً: بيئي الاختلاف بين الهضاب الشرقية والغربية في الجدول أدناه.

وجه المقارنة	الهضاب الشرقية	الهضاب الغربية
الارتفاع	200 م	2000 م
الشكل	على شكل أقواس متوازية مفتوحة من جهة العرب.	مستوية يتخللها عدد من الأودية الجافة.
نوع الصخور	رسوبية	قديمة التكوين

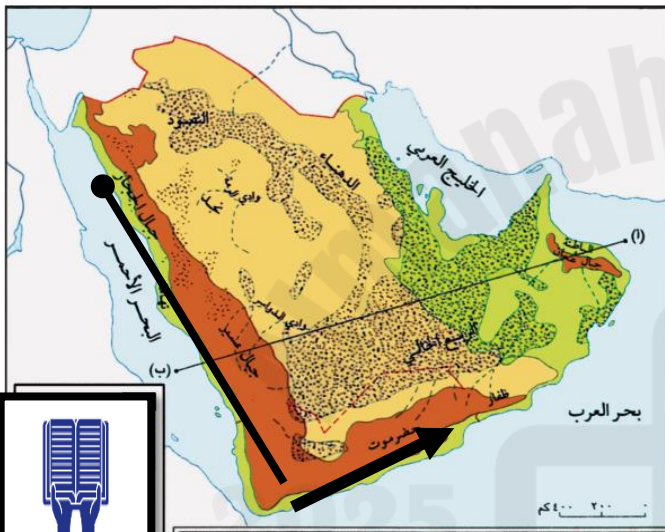
ثالثاً: بالاستعانة بالخريطة التالية:

❖ سمِّ أقسام الجبال الغربية من الشمال للجنوب.

1. جبال الحجاز.
2. جبال عسير.
3. جبال حضرموت.
4. جبال ظفار.

❖ أبرز خصائص الجبال الغربية:

- 1- تنحدر بشكل مفاجئ غرباً عند البحر الأحمر وبشكل ضعيف شرقاً عند هضبة نجد.
- 2- تنخفض وسط هذه السلسلة بين مدينتي جدة والمدينة المنورة
- 3- تطل على سهل تهامة غرباً، وتتخللها العديد من الأودية الجافة وبها أشجار.



عرض ومناقشة: لماذا سميت صحراء الربع الخالي بهذا الاسم؟

لأن ربع مساحتها خالي من مظاهر الحياة، فلا يعيش الإنسان فيها ولا ينمو النبات ولا تتواجد

سؤال تحدي: كيف يمكن استغلال التضاريس الساحلية لدعم الاقتصاد في دول الخليج؟

تشجيع السياحة فيها.

الاهتمام بالزراعة في السهول.

نجمة
التحدي



لا ترددي عزيزتي في
المشاركة لتحصلي على
لقب نجمة البوابة
التعليمية

البوابة التعليمية: (المسؤولية الاجتماعية) كيف تساهمي كمواطنة في حماية البيئة والتضاريس الطبيعية ودعم التنمية المستدامة؟

حماية التضاريس الطبيعية من خلال التشجيع على الزراعة، وحماية الحياه البرية. وبالطبع عند المحافظة عليهم فإن ذلك يرتبط بالتنمية المستدامة، ويقضي على الفقر.

2025

2024

مهارات التفكير العليا (التحليل): كيف تؤثر التضاريس على توزيع السكان في دول الخليج:

يزداد عدد السكان عند السهول لأنها أراضي منبسطة وبها زراعة؛ بينما يقل عدد السكان في الجبال والصحاري.

- عبري بالرسم عن أحد الأماكن التي تمثل التضاريس التي تفضلين العيش فيها.
- الصقي صورة مناسبة للدرس.
- صممي خريطة ذهنية توضح ما تعلمته في الدرس.



المعرفة المعلوماتية



الإبداع والابتكار

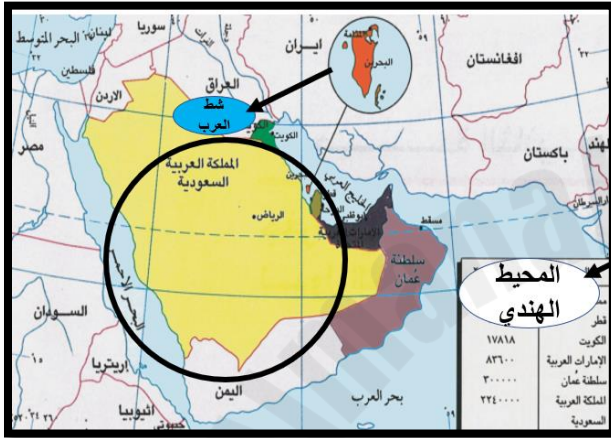
تقييم المعلمة لأداء الطلبة لهذا النشاط

الوصف	التعزيز	الدعم المقدم
<input type="radio"/> عملك متقن حققت المطلوب منك بجدارة. <input type="radio"/> حققت المطلوب منك بشكل جزئي. <input type="radio"/> لديك بعض الأخطاء. <input type="radio"/> لم تحققي المطلوب منك. <input type="radio"/> ناقص: الحل / التصحيح الذاتي / تصويب الأخطاء السابقة	<input type="radio"/> ممتازة اجابتك دليل تفوقك. <input type="radio"/> متميزة ورائعة <input type="radio"/> احسنت خطأ وترتيباً <input type="radio"/> استمري بالمحاولة وكلية ثقة بك. <input type="radio"/> شكرا لجهودك الرائعة. <input type="radio"/> سعدت بمحاولاتك	<input type="radio"/> تدريبي أكثر مستعينة بالكتاب المدرسي <input type="radio"/> ارجعي الى نموذج الإجابة الصحيحة في البوابة لتصحيح اجابتك. <input type="radio"/> استعيني بزميلتك للتوصل للإجابة الصحيحة. <input type="radio"/> ادعي الكراسة بالإثراءات
ممتاز	جيد جدا	متوسط
التقدير		
رأي التلميذة في النشاط :		
تاريخ التصويب (1)	تاريخ التصويب (2)	تاريخ التصويب (3)

ابعاد الخليج العربي وخصائص مياهه

الكفاية: يستنتج الظواهر الطبيعية الناتجة عن الزحف القاري عبر الأزمنة الجيولوجية.

الهدف من الدرس: تمكين الطلاب من فهم الأبعاد الجغرافية للخليج العربي ومعرفة خصائص مياهه، وتحليل تأثير هذه الخصائص على البيئة الحياة البحرية.



النشاط الأول: من خلال الخريطة اجبي عن الأسئلة

التالية:

- ❖ اين يقع الخليج العربي؟
جنوب غرب آسيا.
- ❖ من أين يتغذى الخليج العربي بالمياه؟
من المحيط الهندي جنوباً (مياه مالحة) ، و شط العرب شمالاً (مياه عذبة).

النشاط الثاني: طالبتي المجتهدة من بالرجوع للكتاب المدرسي حددي ابعاد الخليج العربي، ثم اذكري عمقه مع

تحديد عمق كل منطقه منه:

طوله	عرضه	عمقه
1000 كم	250 كم	1- يتميز الخليج العربي ب قلة عمقه 2- يصل عمق الخليج العربي الى أقصاه حوالي 120 عند مضيق هرمز 3- تزداد الأعماق بصورة مفاجئة في بحر عمان لتتجاوز 2000م

النشاط الثالث: طالبتي المجتهدة وضحى فوائد وسلبيات ضحالة مياه الخليج العربي.

سلبيات ضحالة مياه الخليج العربي	فوائد ضحالة مياه الخليج العربي
<ul style="list-style-type: none"> • تسلك السفن طرقاً محددة؛ لتجنب الاصطدام بالقاع. 	<ul style="list-style-type: none"> • تنفذ أشعة الشمس لعمق البحر؛ فتتمو النباتات البحرية، مما يجلب الأسماك، وبذلك تتكون الثروة السمكية.

❖ علي تسلك السفن مياه الخليج العربي خطوطا محددة:

- بسبب ضحالة (قلة عمق) مياه الخليج العربي.

❖ بماذا تتميز شواطئ الخليج العربي؟

❖ 1- رملية.

❖ 2- تكثر فيها الأخوار والرؤوس ، وأشباه الجزر ، والجزر المتناثرة.

النشاط الرابع: طالبتي النشطة اجبي عن الأسئلة التالية:

أ-علي ارتفاع ملوحة مياه الخليج العربي:

- لشدة التبخر.

ب- علي مياه الخليج العربي هادئة:

- صغر حجمه.

- قلة سرعة الرياح التي تهب عليه.



مهارات التفكير العليا (التحليل): ما النتائج المتوقعة لو كان الخليج العربي شديد الملوحة:

التأثير السلبي على حياة النباتات والحيوانات البحرية.



ابعاد الخليج العربي وخصائص مياهه ص38

المد: ارتفاع منسوب مياه البحر، وتقدمه نحو اليابسة.

الجزر: انخفاض منسوب مياه البحر، وابتعاد المياه من اليابسة.

الوصف	التعزيز	الدعم المقدم
<input type="radio"/> عملك متقن حققت المطلوب منك بجدارة. <input type="radio"/> حققت المطلوب منك بشكل جزئي. <input type="radio"/> لديك بعض الأخطاء. <input type="radio"/> لم تحققي المطلوب منك. <input type="radio"/> ناقص: الحل / التصحيح الذاتي / تصويب الأخطاء السابقة	<input type="radio"/> ممتازة اجابتك دليل تفوقك. <input type="radio"/> متميزة ورائعة <input type="radio"/> احسنت خطأ وترتيباً <input type="radio"/> استمري بالمحاولة وكلي ثقة بك. <input type="radio"/> شكرا لجهودك الرائعة. <input type="radio"/> سعدت بمحاولاتك	<input type="radio"/> تدريبي أكثر مستعينة بالكتاب المدرسي <input type="radio"/> ارجعي الى نموذج الإجابة الصحيحة في البوابة لتصحيح اجابتك. <input type="radio"/> استعيني بزميلتك للتوصل للإجابة الصحيحة. <input type="radio"/> ادعي الكراسة بالإنشاءات
ممتاز	جيد جداً	متوسط
التقدير		
رأي التلميذة في النشاط:		



نشاط اثرائي

ابعاد الخليج العربي وخصائص مياهه ص38

طالبي الحبيبة اختاري أحد الأنشطة ادناه ما يناسب ميولك واهتمامك

- الصقي صورة مناسبة للدرس.

- صممي خريطة ذهنية توضح ما تعلمته في الدرس.

- ارسعي لوحة تعبر عن الدرس.

- ابحثي في الإنترنت عن الفرق بين الرؤوس والخلجان والخور مدعومة بالصور.



الوعي العالمي والتفاهي



المعرفة الرقمية



الإبداع والابتكار

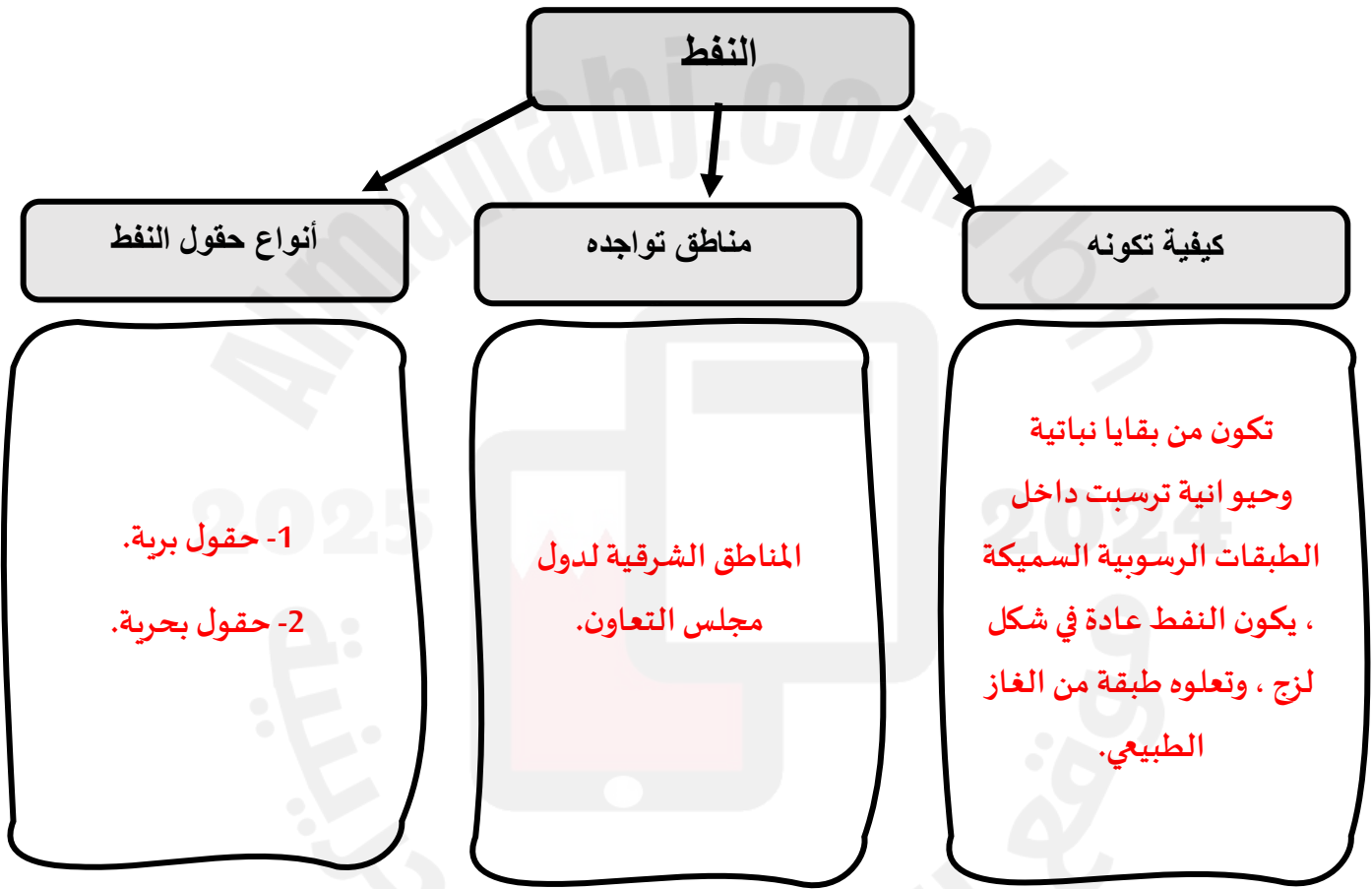


الثروة النفطية ومزاياها

الكفاية: تتعرف الثروات الطبيعية في دول مجلس التعاون وكيفية استثمارها.

الهدف من الدرس: يهدف الدرس الى تعريف الطالبة بمفهوم الثروة النفطية وفهم أهميتها الاقتصادية والاجتماعية وتعزيز الوعي البيئي وتطوير مهارات التفكير الناقد والإبداعي عبر التحليل والاكتشاف.

النشاط الأول: طالبي النشطة أكمل الخريطة المفاهيمية التالية:





يتم بيع النفط، والاستفادة من أموال بيعه في تقديم الخدمات المتطورة لجميع المواطنين،

وتطوير البلد من كافة النواحي، فعندما تطور الدولة البنية التحتية لها (توفير الكهرباء والماء والشوارع وطرق المواصلات وشبكة الاتصالات وغيرها)، فإن ذلك يجذب المستثمرين، فينشأون المصانع والشركات في البلد، وهو ما يرفع من اقتصادها.

النشاط الأول:

(أ) أكمل الفراغ في الجمل الناقصة:

- أكبر حقل نفطي في السعودية (سؤال محذوف)
- أكبر حقل للغاز الطبيعي في العالم هو: (سؤال محذوف) في قطر.
- تحتل **المملكة العربية السعودية** المرتبة الأولى في الإنتاج والاحتياطي النفطي بالعالم.

(ب) طالبتي الذكية اكملی أوراق الزهرة بالمرأيا التي تتمتع بها الثروة النفطية في دول مجلس التعاون:





القدرة على التكيف والمرونة



التفكير الناقد وحل المشكلات

عصف ذهني: تخيلي أن النفط من مصادر الطاقة المتجددة، فكيف سيكون حال الخليج العربي؟

مما لا شك فيه أن الخليج العربي من أكثر الأماكن المتطورة في العالم، ولكن لو كان النفط مصدراً متجدداً، لبعث الطمأنينة باستدامة حياة الرفاهية في الخليج العربي مدى الحياة.

الثروة النفطية ومزاياها ص 42

Almanahj.com

2025 2024

تقييم المعلمة لأداء الطلبة لهذا النشاط

الوصف	التعزيز	الدعم المقدم
<input type="radio"/> عملك متقن حققت المطلوب منك بجدارة.	<input type="radio"/> ممتازة اجابتك دليل تفوقك.	<input type="radio"/> تدريبي أكثر مستعينة بالكتاب المدرسي
<input type="radio"/> حققت المطلوب منك بشكل جزئي.	<input type="radio"/> متميزة ورائعة	

<input type="radio"/> ارجعي الى نموذج الإجابة الصحيحة في البوابة لتصحيح اجابتك. <input type="radio"/> استعيني بزميلتك للتوصل للإجابة الصحيحة. <input type="radio"/> ادعي الكراسة بالإثراءات	<input type="radio"/> احسنت خطأ وترتيباً <input type="radio"/> استمري بالمحاولة وكلي ثقة بك. <input type="radio"/> شكرا لجهودك الرائعة. <input type="radio"/> سعدت بمحاولاتك	<input type="radio"/> لديك بعض الأخطاء. <input type="radio"/> لم تحققي المطلوب منك. <input type="radio"/> ناقص: الحل / التصحيح الذاتي / تصويب الأخطاء السابقة		
متوسط	جيد	جيد جداً	ممتاز	التقدير
رأي التلميذة في النشاط:				
تاريخ التصويب (3)	تاريخ التصويب (2)	تاريخ التصويب (1)		

الثروة النفطية ومزاياها ص42

نشاط اثرائي



طالبي الحبيبة اختاري أحد الأنشطة ادناه ما يناسب ميولك واهتمامك

- الصقي صورة مناسبة للدرس.
- صممي خريطة ذهنية توضح ما تعلمته في الدرس.
- ارسعي لوحة تعبر عن الدرس.
- باستخدام أحد المصادر التكنولوجية الأمانة، اسردي قصة اكتشاف النفط في مملكة البحرين، مع ذكر المصدر.

2025

2024

موقع المناهج البحرينية