

تم تحميل هذا الملف من موقع المناهج البحرينية



* للحصول على أوراق عمل لجميع الصفوف وجميع المواد اضغط هنا

<https://almanahj.com/bh>

* للحصول على أوراق عمل لجميع مواد الصف السابع اضغط هنا

<https://almanahj.com/bh/7>

* للحصول على جميع أوراق الصف السابع في مادة رياضيات ولجميع الفصول, اضغط هنا

<https://almanahj.com/bh/7>

* للحصول على أوراق عمل لجميع مواد الصف السابع في مادة رياضيات الخاصة بـ اضغط هنا <https://almanahj.com/bh/7>

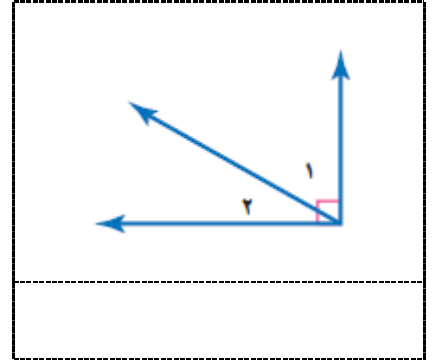
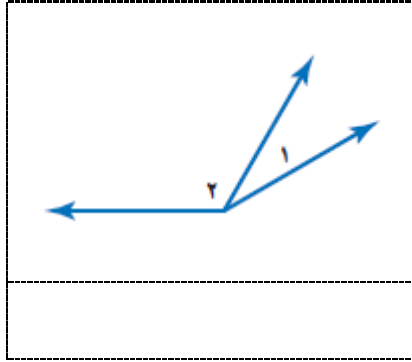
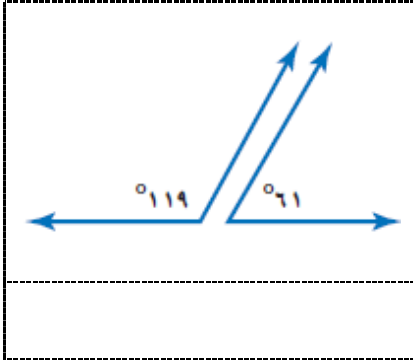
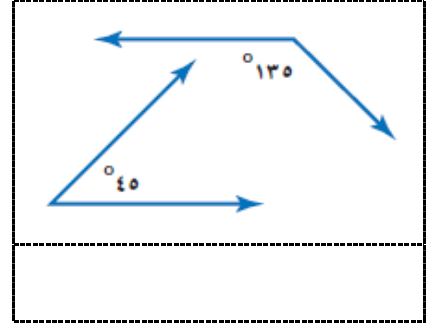
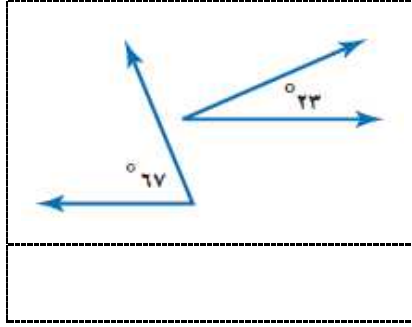
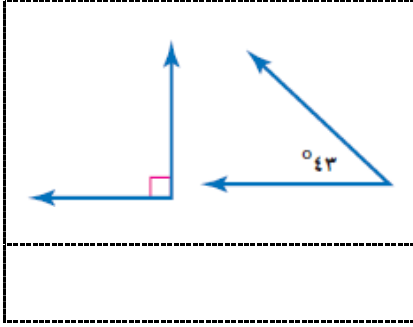
* لتحميل كتب جميع المواد في جميع الفصول للـ الصف السابع اضغط هنا

<https://almanahj.com/bh/grade7>

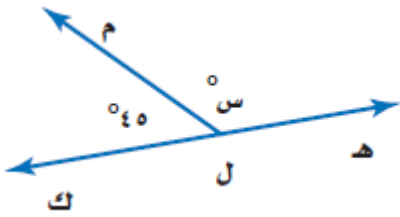
[almanahjbhbot/me.t//:https](https://t.me/almanahjbhbot)

للتحدث إلى بوت على تلغرام: اضغط هنا

1 حدد ما إذا كان كل زاويتين من الزوايا الآتية متكاملتين أو متتامتين ، أو غير ذلك :



2 الجبر : أوجد قيمة س .



.....

3 أدوات مدرسية : ما قياس الزاوية س التي شكّلها المقص ؟



.....

4 الجبر : إذا كانت > أ و > ب متتامتين ، وكان ق > ب يساوي 67°. فما ق > أ ؟

.....

5 الجبر : ما ق > ج ، إذا كانت > ج و > د متكاملتين ، وكان ق > د يساوي 115° ؟

.....